

【讀卡科目請依規定畫卡，若有違反畫卡規定而影響讀卡作業之情事，一律扣總分五分。】

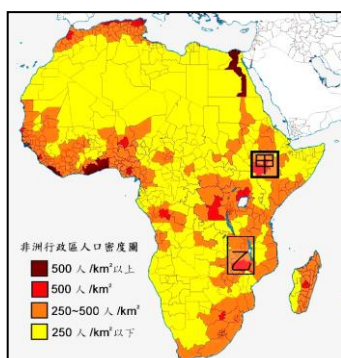
【手寫答案卷需確實寫上班級、座號、姓名，違者一律扣總分五分。】

【手寫答案卷需用藍色或黑色墨水筆書寫，違者一律扣總分五分，使用鉛筆書寫扣五分。】

一、選擇題(每題兩分，共 50 題)

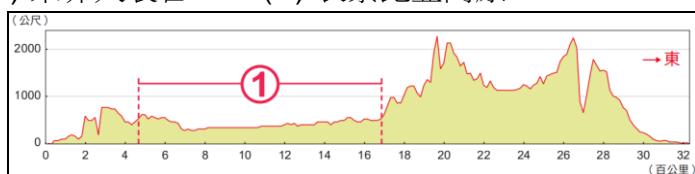
- 1.右圖是非洲的人口密度圖，圖中甲、乙兩地的人口密度高於其他區域，原因包括下列哪一項？(P.14)

(A) 平原廣大，開發較早
(B) 大河流經，形成綠洲
(C) 臨近海洋，利於貿易
(D) 地勢較高，氣候涼爽



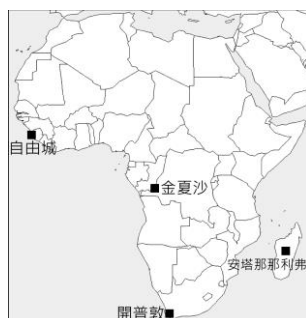
- 2.下圖是赤道附近的非洲地形剖面圖，圖中的①是下列哪個地理區？(習作P.1)

(A) 撒哈拉盆地 (B) 剛果盆地
(C) 東非大裂谷 (D) 衣索比亞高原



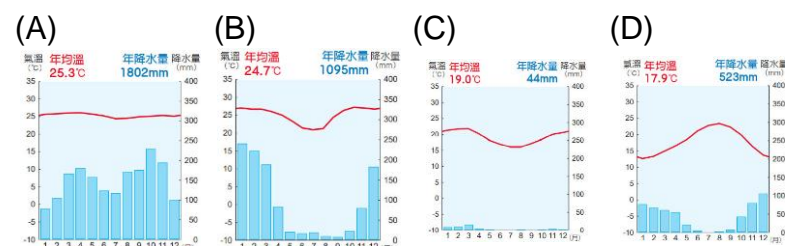
- 3.以下是漠南非洲某個都市的介紹，請問最可能是右圖中的哪個都市？(P.12)

(A) 自由城
(B) 金夏沙
(C) 開普敦
(D) 安塔那那利弗



「這座都市」位在印度洋與大西洋的交匯點，15世紀以來由歐洲開往東非、印度的商船路過此地補給，逐漸形成聚落。此地擁有夏乾冬雨的溫和氣候，吸引英國、荷蘭的居民移居，擁有較高的歐裔居民比例。現代發展出農業(蘋果、葡萄等)、漁業(大西洋漁場)、旅遊業與石油化學工業，是漠南非洲少有的工業中心。

- 4.塞倫蓋提國家公園位在赤道附近的坦尚尼亞，園區內大型動物長達3千公里的定期遷徙是「世界十大自然旅遊奇觀」之一。由於降水的季節性變化明顯，草食性動物在水草減少前不斷移動，種類繁多的動物跟隨食物來源不斷移動，形成令人驚嘆的自然奇觀。請問：上述的動物遷徙現象，出現在下列哪一個氣候環境？(P.15)



- 5.以下是「史瓦帝尼王國」的簡介，請問：史瓦帝尼王國屬於哪一種氣候類型？(P.14)

(A) 高地氣候 (B) 熱帶雨林氣候

(C) 熱帶莽原氣候 (D) 溫帶地中海型氣候

「史瓦帝尼王國」是我國在非洲的外交邦交國，此地舊稱「Swaziland」，且氣候環境與位處歐洲阿爾卑斯山的瑞士相近，有「非洲小瑞士」之稱。

史瓦帝尼的每年10月至翌年3月是雨季，為南部非洲水源的主要供應地。氣溫和雨量隨地勢升高愈涼爽濕潤，是當地發展觀光業的優勢，山區的木材豐富，是少數能出口木漿的非洲國家。

- 6.非洲國家自19世紀中期後，陸續成為歐洲國家的殖民地。殖民者帶來西方文化，並將非洲納入全球的經濟體系，即使 20世紀非洲國家獨立建國後，當年殖民統治的影響仍持續至今。請問：下列哪一項可呈現非洲吸收的西方文化？(P.16)

(A) 喀拉哈里沙漠的布希曼人，以打獵與採集維生
(B) 西非馬利共和國的居民到泥土建造的清真寺做禮拜
(C) 奈及利亞的民眾，使用英語相互溝通
(D) 剛果因伊波拉疫情嚴重，向聯合國尋找醫療協助

- 7.南非的非裔大主教圖圖(Desmond Mpilo Tutu)於1994年提出「彩虹之國」描述改變後的南非，彩虹之國有如下表的涵義。請問：彩虹之國最能代表下列哪一項社會變化？(P.18)

(A) 脫離殖民統治，獨立建國
(B) 種族屠殺結束，內戰休止
(C) 經濟快速成長，脫離貧窮
(D) 種族隔離政策終止，人權平等

(1) 聖經裡諾亞洪水過後，隨之而來的和平彩虹。
(2) 土著文化中，彩虹與希望、光明的未來相關。
(3) 國民與國家的土壤緊密相連，培育出不同顏色的蘭花楹樹、草原中的含羞草樹等，大家同處在與自己及世界和平共處的彩虹之國。

- 8.農業是漠南非洲的重要產業，以生產單一作物、出口為主為特色。例如：象牙海岸的「甲作物」使用了全國可耕地的60%，產量達全球的40%。2010年代由於植株老化、國內發生動亂，「甲作物」無法出口，國際無法找到替代的出口來源，使巧克力的價格暴漲一倍。請問：上述的「甲作物」是什麼？(P.22)

(A) 可可 (B) 棉花
(C) 油棕 (D) 橡膠

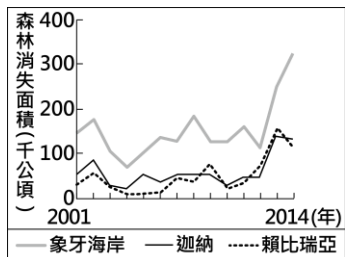
- 9.位於西非的奈及利亞是世界級的礦產大國，是全球第5大輸出國，為國家賺取大量收入。然而石油生產衍生了新的社會與經濟「問題」，整理如下表。請問：根據表格內容，上述的「問題」是什麼？(P.27)

(A) 土地、勞力多用於礦業生產，導致農業衰退

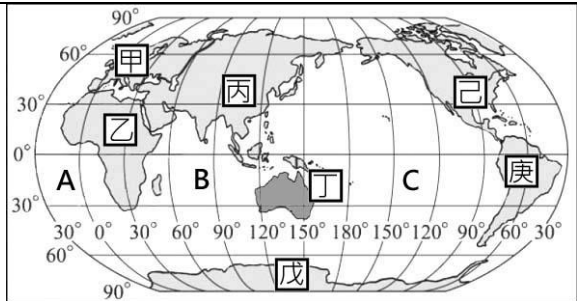
- (B) 虧欠富有國家外債，政府財政破產
- (C) 水資源大量取用，內陸生態遭到破壞
- (D) 外國投資龐大，造成本地資源、基礎設備受到控制
- 1.缺乏煉油技術，成品油依賴進口。油價上漲時，加油站大排長龍，發電廠停擺。
- 2.石油的產銷由跨國石油公司決定，無法自主。
- 3.專業人員破壞石油管路，聲稱是為了實現社會正義。

- 10.漠南非洲各國經濟長期欠佳，21世紀以來扭轉了這個負面印象，經濟成長率超過世界平均的成長率。以衣索比亞為例，利用該國的「優勢」，吸引外國成衣、製鞋產業投資設廠，形成新興產業。上述的優勢為下列哪一項？(P.24)
- (A) 涼爽宜人的氣候
- (B) 年輕且充足的勞力
- (C) 先進的紡織技術
- (D) 長期經營熱帶栽培業的經驗

- 11.右圖為某國際組織運用衛星影像資料，推算漠南非洲3個國家自2001至2014年森林消失面積的統計資料，右圖顯示的變化趨勢，與該國發展下列哪一項產業最有關係？(P.22)
- (A) 開採黃金的礦業
- (B) 生態旅遊的觀光業
- (C) 種植經濟作物的熱帶栽培業
- (D) 汽車製造為主的工業



- ※閱讀以下短文後，回答12~14題。
- 「伊波拉出血熱」(或稱伊波拉病毒)是源於非洲的疾病，最早於1976年的薩伊(現稱剛果)發現，感染病毒的患者會出現疼痛、腹瀉等症狀，最終器官衰竭、失血而亡。因伊波拉出血熱的致死率高於50%，起源與傳播的方式不明且缺乏有效的治療方式，一度被認定是不治之症。
- 經過研究，確認伊波拉出血熱是人畜共通傳染病，最早的病例與接觸生長在熱帶環境的狐蝠或黑猩猩有關。由於傳統非洲有為過世家人清洗身體的習俗，加上醫療不完善(如：缺乏隔離措施、欠缺消毒觀念、醫療不普及)，疾病容易在家屬與醫療人員間傳播，造成疾病跨國流傳。
- 受限於醫療水準，非洲的的醫護人員僅能以治療其他疾病(如愛滋病、乳癌)的藥物控制伊波拉出血熱。由於研發疫苗的成本偏高，加上病例多數在非洲，歐美的民間藥廠缺乏研製疫苗的動機。2018年由加拿大研發與捐助的疫苗迅速控制了當年的疫情，但疫苗難以普及全非，疫情直到2022年9月仍不時復發。
- 12.下列為世界全圖，伊波拉出血熱的傳染範圍主要位於圖中哪個代號的位置？(P.12)
- (A) 甲 (B) 乙
- (C) 丙 (D) 庚



13. 伊波拉出血熱的傳染範圍，多具有下列哪一種氣候條件？(P.15)
- (A) 夏雨冬乾，乾、溼季節明顯
- (B) 全年燥少雨、日夜溫差大
- (C) 全年高溫多雨
- (D) 地勢較高，終年涼溼
14. 伊波拉出血熱疫情發生40年後疫苗才告問世，且疫苗難以普及非洲各地，導致疫情不斷復發。請問：上述狀況突顯了非洲的哪一項困境？(P.26)
- (A) 缺乏天然資源，基礎建設落後
- (B) 耕地用於種植熱帶栽培作物，糧食短缺
- (C) 經濟貧困，交通與醫療設施未臻完善
- (D) 人口結構失衡，老年人口偏低、幼年偏高

- ※閱讀以下短文後，回答15~17題。
- 馬達加斯加是位於非洲東南方的島嶼，當地最早的居民約於西元前500年，乘獨木舟由東南亞的婆羅洲跨越「甲海洋」前來，是現代居民的主體。
- 早期居民砍伐、焚燒沿海雨林，後遷移到氣候涼爽的中央高地，形成定期遷移、刀耕火種的「乙產業」。由於人口增加、植被不及恢復，大型動物棲地遭到破壞。
- 此地的文化與經濟深受外來統治者影響。西元10世紀時北方阿拉伯人建立貿易據點，帶來伊斯蘭教與阿拉伯文字；19世紀後歐洲人到此貿易、傳教，最終法國將此地納入殖民地，島上出現出口咖啡、橡膠的種植園，以及木材、金屬礦資源的出口，經濟穩定成長。
- 1960年代馬達加斯加獨立，由於「經濟結構欠佳」且政治動亂不斷，各項發展指數均偏低。
- 15.上述短文中的「甲海洋」是哪一片海域？(P.12)
- (A) 太平洋 (B) 印度洋
- (C) 大西洋 (D) 地中海
- 16.上述短文中的「乙產業」，是下列哪一種？(P.22)
- (A) 游牧 (B) 游耕
- (C) 林業 (D) 礦業
- 17.上述短文說明馬達加斯加的「經濟結構欠佳」，下列哪一項符合上述的狀況？(P.22)
- (A) 過度依賴石油出口，無法掌握市場價格
- (B) 大量投入資本密集的資訊業，短期無法獲益
- (C) 經濟仰賴觀光業，因疫病傳染導致遊客減少
- (D) 收入主要來自熱帶栽培業，一般民生助益有限

18. 埃及歷史淵遠流長，早在西元前3100年，已建立統一的王朝，此後可分為古王國、中王國、新王國三大時期。關於埃及古文明的敘述，何者**錯誤**？(A)西元前6世紀，新王國遭到波斯帝國滅亡 (B)由於埃及地形平坦，缺乏天然屏障，容易受到外來民族入侵，從而創造多元的文化 (C)古埃及人受尼羅河神信仰影響，將死者製成木乃伊 (D)為計算尼羅河氾濫的時間，古埃及人在曆法方面有很高的成就。(1-2)
19. 某電視台最近開拍歷史片——羅馬風雲。請問：下列哪個角色在此劇中的登場時間最晚？(A)羅馬和平時期的皇帝 (B)王政時期的國王 (C)掌有權力的元老院貴族 (D)羅馬共和晚期崛起的軍人。(2-2)
20. 一本介紹古代歷史的書籍上寫道「上古時代的西亞，有一個民族在夜晚以星星辨識方向而不會迷途，他們的商船往來於地中海各地；他們也取用埃及的表音符號書寫自己的文字，因貿易之便傳往歐洲，是傳播文明的重要媒介」請問：這是下列哪個民族？(A)猶太人 (B)波斯人 (C)蘇美人 (D)腓尼基人。(1-2)
21. 有關亞歷山大的征戰與功績，請選出正確的敘述？(A)亞歷山大從希臘地區開始西征，建立世界上第二個橫跨歐亞非三洲大帝國 (B)鼓勵通婚，致力於族群與文化的融合 (C)亞歷山大先後征服羅馬、西亞、埃及，融合歐亞非文化 (D)帝國的帕德嫩神廟可作為希臘化文化的代表建築。(2-1)
22. 孝利用假日到電影院觀看「木馬屠城記」後，查閱相關資料得知，此影片是希臘史詩《伊里亞德》所改編，描述特洛伊城與希臘聯軍的戰爭，最後希臘藉由一匹木馬獲得勝利。請問：此史詩應是何人所寫？(A)希羅多德 (B)蘇格拉底 (C)荷馬 (D)亞里斯多德。(2-1)
23. 宥利做了一張有關祆教與猶太教的比較表格如下，正確的有哪些？(A)丙丁 (B)乙丙 (C)甲丙 (D)乙丁。(1-1)


項目	祆教	猶太教
(甲)分布區域	伊朗高原	巴勒斯坦
(乙)信仰族群	希伯來人	波斯人
(丙)信仰對象	善惡二神	耶和華
(丁)信仰屬性	一神信仰	多神信仰

24. 故宮博物院在2007A.D.舉辦大英博物館收藏展，其中「不幸的木乃伊」木棺蓋最引人注目。請問埃及人製作木乃伊的動機是？(A)為保存身體完整以便來生所用 (B)為避免遭受盜墓破壞而徹底包裹 (C)為誇耀生前的財富與權貴地位 (D)為醫學目的而研究人體器官。(1-2)
25. 印度半島上的這個地區在西元前二千三百年左右，已經出現相當進步的城市文明，例如摩亨佐達羅，城市規劃完整，浴場、下水道等大型公共設施齊全，顯示此時政府力量的強大。上文敘述的區域應該位於圖中何處？(A)甲 (B)乙 (C)丙 (D)丁。(1-3)
26. 歷史課時，幾位同學討論有關羅馬帝國的史實，下列何人敘述正確？(A)東昱：凱撒是羅馬帝國第一位皇帝 (B)



利娜：亞歷山大大帝以後的兩百年間，史稱「羅馬和平」(C)容佐：羅馬帝國使用希臘文 (D)秀英：四世紀末，羅馬帝國分裂為東、西兩部。(2-2)

27. 「雅典」和「斯巴達」這兩個古希臘城邦，在希臘歷史上的發展特色為何？(A)斯巴達曾領導希臘各城邦在波希戰爭中擊敗波斯 (B)前者採抽籤選出官員；後者是實施軍事統治 (C)雅典與斯巴達爭霸，最後雅典獲勝統一希臘各邦 (D)雅典以民主政治聞名，無論男女，只要符合財產身分等條件，均可參與政治活動。(2-1)
28. 瑞希到大學博覽會參觀，在聽某所學校創校簡介時，對簡介中提及高大莊嚴又雕刻精美的「阿育王柱」深感興趣。請問：此學校可能以下列哪一宗教做為立校精神？(A)祆教 (B)佛教 (C)印度教 (D)婆羅門教。(1-3)
29. 娜美到埃及旅遊，參觀文化古蹟，她可能看到哪些景觀？(甲)獅身人面像(乙)帕德嫩神殿(丙)圓形競技場(丁)人形棺(戊)金字塔 (A)甲乙戊 (B)乙丙戊 (C)甲丁戊 (D)乙丁戊。(1-2)
30. 阿利安人入侵印度地區後，利用婆羅門教，發展出階級森嚴的種姓制度。請問：其目的應為下列何者？(A)宣揚眾生平等的觀念 (B)提倡周而復始的觀念 (C)維持其統治的地位 (D)安撫戰亂中的社會人心。(1-3)
31. COVID-19 重創全球，2020A.D.東京奧運被迫延期，請問奧林匹克運動會最早創辦的動機背景是？(A)斯巴達城邦軍事訓練的競賽項目 (B)羅馬競技場上各民族格鬥士的較量 (C)雅典與斯巴達城邦爭奪領導權的運動競賽 (D)希臘各城邦參加的敬神祭典，用來取悅神明。(2-1)
32. 古羅馬城市龐貝於西元79年被維蘇威火山爆發時的火山灰所覆蓋，一夕之間數千人喪失生命。龐貝城遺址於十八世紀首度被挖掘，街道井然有序，大劇場、公共澡堂等一應俱全，亦出土一張有不同容量刻度及註解，以作為交易時使用的標準石桌。請問：關於這個城市的敘述，下列何者**不正確**？(A)龐貝城被火山灰覆蓋時為羅馬的共和時期 (B)大劇場、公共澡堂等建築顯示羅馬重視公共建設 (C)題目中的石桌上面刻的文字應為拉丁文 (D)龐貝城應位於義大利半島上。(2-2)
33. 周杰倫有一首歌的歌詞描述著：「古巴比倫王頒布了漢摩拉比法典，刻在黑色的玄武岩，距今已經三千七百年……我給妳的愛寫在西元前，深埋在美索不達米亞平原，幾十個世紀後出土發現泥板上的字跡依然清晰可見……」請問歌詞裡「泥板上的字跡」，據推斷應該是下列哪一種文字？(A)象形文字 (B)拉丁文字 (C)甲骨文 (D)楔形文字。(1-1)
34. 附圖是古埃及墓室的一幅壁畫，畫中的死神正在以真理的羽毛計算死者的心臟重量。這幅畫所表達的埃及宗教觀為何？



- (A)對祖先的高度崇拜 (B)靈魂若通過審判就可以復活 (C)太陽神的崇高地位 (D)一神信仰的觀念。(1-2)

35. 小新有甲、乙、丙三份工作機會，將其機會成本繪製如附表。若小新在繪製表格時僅以薪資為考量，根據表中內容判斷，甲、乙、丙三份工作的薪資最有可能為下列何者？(Ch1)

工作	機會成本
甲	丙的薪資
乙	甲的薪資
丙	甲的薪資

- (A)甲：43,000 元、乙：55,000 元、丙：38,000 元
(B)甲：55,000 元、乙：43,000 元、丙：38,000 元
(C)甲：43,000 元、乙：55,000 元、丙：43,000 元
(D)甲：55,000 元、乙：38,000 元、丙：43,000 元
36. 下表為台電的收費方式，一般家戶以累進方式計算電費，台電分為 6 個級距，每年夏季 6 至 9 月是國內用電的尖峰期，臺電會收取「夏季電價」，以降低用電量。上述台電公司的做法，是運用了下列何種概念？(Ch2)
- (A)價格愈高，消費者減少需求
(B)價格愈高，消費者增加需求
(C)價格愈高，生產者減少供給
(D)價格愈高，生產者增加供給

用電度數級距	非夏季電價	夏季電價
120 度以下	1.63 元	1.63 元
121 度到 330 度	2.1 元	2.38 元
331 度到 500 度	2.89 元	3.52 元
501 度到 700 度	3.94 元	4.8 元
701 度到 1000 度	4.6 元	5.66 元
1001 度以上	5.03 元	6.41 元

37. 偏鄉地區因人煙稀落，道路可能因地勢造成狹小、起伏、顛簸，不利於一般大型公共巴士通行，且運輸服務效率不佳、營運成本高。因搭乘人數不多，業者考慮刪減部分公車路線。若真裁撤部分路線，將會嚴重影響當地居民的交通權益，使得民眾的需求無法獲得滿足。由此可知，社會上除了考量經濟效益之外，還必須兼顧何項原則？(A)民主法治 (B)公平正義 (C)服從多數 (D)市場經濟。(Ch2)
38. 新冠肺炎疫情期間，日本捐贈臺灣的 124 萬劑 AZ 疫苗全面開打，新北市第一波獲配 8.3 萬劑，以分區、分里、分時段方式，優先安排設籍新北市 85 歲以上長者施打。根據上述內容，有關疫苗施打分配的方式，下列說明何者「正確」？(A)資源可能長期被占用 (B)因疫情嚴峻故政府應強制所有人施打疫苗 (C)可以因應個別差異並滿足所有需求 (D)分配到資源者不一定需要。(Ch2)
39. 心如因想嘗試新的挑戰，決定接演一部新電影，片酬是 900 萬元，她因此推掉同時間其他的工作機會，一個是報酬 1,000 萬元的手機廣告代言機會，另一個是一齣片酬 850 萬元的電視劇。請問，她接演這部新電影的機會成本是多少？(A)850 萬元 (B)1,900 萬元 (C)1,000 萬元 (D)1,850 萬元。(Ch1)
40. 下表是四位應徵者在面試甲、乙兩工作時所開出的「時薪」條件——

	甲工作	乙工作
萱萱	230 元	200 元
佳樺	220 元	200 元
盈如	250 元	280 元
曉鈴	300 元	290 元

針對此份資料，哪一項分析是「錯誤的」？(Ch1)

- (A)萱萱和佳樺選擇甲工作的機會成本是相同的
(B)若四人都選擇從事甲工作，曉鈴的機會成本最大
(C)若四人都選擇從事乙工作，佳樺的機會成本最小
(D)盈如若選擇甲工作，其機會成本是低於選擇乙工作
41. 小丸子要選購生日禮物，媽媽說可以從下表四種商品中挑選。附表是小丸子對這四種商品的喜好順序——

品項代號	項 目	喜好順序
芭	芭比娃娃	2
樂	樂高積木	4
偶	角落生物玩偶	1
包	鬼滅之刃背包	3

請問，選擇不同品項的機會成本，其高低順序應為下列何者？(A)偶>芭>包>樂 (B)芭=樂=包>偶 (C)偶>芭=樂=包 (D)樂>包>芭>偶。(Ch1)

42. 民國五十年代的臺灣工資低，科技人才少，適合發展傳統產業，而八十年代的臺灣工資昂貴、高科技人才眾多，適合發展電子資訊工業。上述發展趨勢，主要是以下列哪項生產課題作為考量？(A)生產什麼 (B)如何生產 (C)為誰生產 (D)生產目的。(Ch1)
43. 同學們私下聊天時發現，父母對孩子的日常行為提供了正向誘因和負向誘因。請問，下列哪一位舉的例子與其他三位同學「不同」？(Ch2)
- (A)正男：作文比賽得名，週日可以吃大餐一次
(B)風間：段考成績前三名的獎勵是獎學金一千元
(C)妮妮：模擬考成績不理想因而沒收手機到下次模考
(D)阿呆：學期成績優良寒暑假可以出國一次

44. 小新的媽媽美牙看到花車上的衣服全部 1 折，立刻瘋狂搶購。請問：業者是藉何種因素來影響消費者的消費行為？(A)商品價格 (B)預期心理 (C)家庭收入狀況 (D)個人偏好。(Ch2)



45. 「宅神」朱學恒之前兌現選前承諾，於高雄 21 個行政區發放 2 萬多份雞排(一份 60 元)，只要民眾能喊出通關密語，就能在指定的 114 個雞排店換取免費雞排。阿明為了拿到免費雞排，向打工的咖啡店請假四小時(時薪 170 元)，中午過後他就到現場排隊，在排隊五個多小時後，於下午六點發放雞排時搶得頭香。請問，阿明拿到雞排的機會成本是多少？(A)680 元 (B)760 元 (C)850 元 (D)1080 萬元。(Ch1)

46. 小花最近存了一筆錢，想開早餐店，她在「加盟」還是「自創品牌」之中，猶豫不決。她發現加盟最大好處便是讓對餐飲業開店還毫無經驗的人，可快速上手熟悉整個營運操作，減少許多自行摸索的時間，並降低開店失敗的風險與成本，但是必須先付出一筆加盟金。然而，自創品牌不需跟著加盟總部提供的品項販售產品，可隨時彈性調整販售內容，且進貨廠商可自行挑選，也同時節省一筆加盟金。請問，小花主要是考量到下列哪項生產課題？ (A)生產什麼 (B)如何生產 (C)為誰生產 (D)生產目的。(Ch1)

47. 美麗的公民老師看到某飯店「兩人同行，第二人半價」的宣傳廣告，她決定邀請漂亮的怡方老師一同前往，請問：站在生產者的立場，這是屬於下列何種促銷方式？(Ch2)



- (A)提高產品品質
(B)降低商品價格
(C)減少產品供給
(D)降低生產成本

★新型冠狀病毒剛傳入臺灣時，國內醫療口罩的庫存量不足，再加上民眾面對未知疾病的恐慌，因此防疫商品如口罩、酒精紛紛被搶購一空，價格也呈倍數成長。政府便緊急籌組口罩國家隊，多家工具機廠商、口罩製造商和其員工、民間團體以及國軍等不僅提供器具、材料組裝機臺，也放棄休假或與家人相聚時間，全力為國人生產口罩。根據上述，回答 48~50 題：

48. 當疫情剛發生時，口罩價格是由誰決定的？ (A)民眾 (B)買賣雙方 (C)廠商 (D)政府。(Ch2)
49. 口罩國家隊的行動若以經濟學中的「選擇」來說明，下列何者正確？ (A)口罩國家隊的人力、物力、財力、心力均為自由財 (B)政府與國家隊共同將口罩打造成經濟財，取之不盡 (C)製作口罩所需耗費的資源並無法做為其他用途使用 (D)原可作為自身利益使用的有限資源，卻奉獻給民眾。(Ch2)
50. 當口罩禁止出口後，關於醫療口罩分配的實施，下列何者說明最為正確？ (A)以廠商獲得最高利潤為原則 (B)民眾擁可自由選擇多種商品 (C)政府以公權力穩定市場經濟 (D)透過自由買賣淘汰劣質產品。(Ch2)

【試題結束，請仔細檢查！】