

【讀卡科目請依規定畫卡，若有違反畫卡規定而影響讀卡作業之情事，一律扣總分五分。】

【手寫答案卷需確實寫上班級、座號、姓名，違者一律扣總分五分。】

【手寫答案卷需用藍色或黑色墨水筆書寫，違者一律扣總分五分，使用鉛筆書寫扣五分。】

一、選擇題

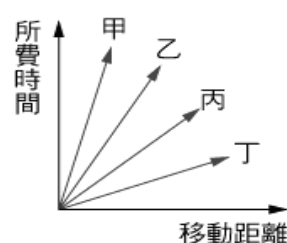
1. 芳芳是中正旅行社的老闆，她計畫在臺灣本島人口密度最低的地區建造一棟環境清幽靜謐、悠閒慢活步調，且能感受大自然之美的高級度假村……。若要符合上述需求，試問該度假村最可能選擇建在臺灣本島的哪個區域？
(A) 北部 (B) 中部 (C) 南部 (D) 東部 (p.74)

2. 右表為慧慧國的各項地理統計資料，請由此計算該國的都市化程度為何？
(A) 36% (B) 46% (C) 47% (D) 54% (p.63)

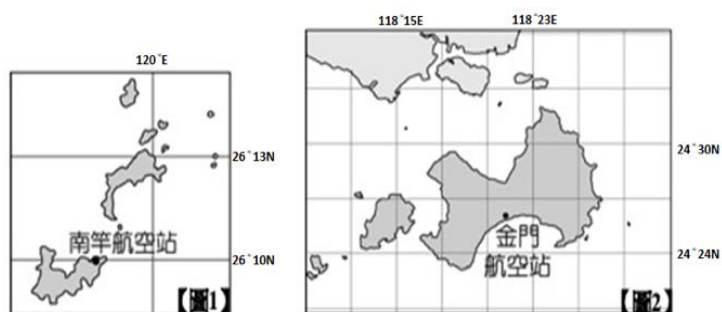
項目	統計資料
鄉村人口數	230 萬
都市人口數	270 萬
男性人數	180 萬
女性人數	200 萬
第一級產業就業人口數	90 萬
第二級產業就業人口數	150 萬
第三級產業就業人口數	240 萬

3. 根據國家發展委員會調查，民國 107 年臺北市家庭的平均每戶經常性收入約為 176 萬元，而雲林縣約為 88 萬元。請問：以上數據反映了何種現象？
(A) 臺北市的人民居住空間較大 (B) 雲林縣養殖漁業漸沒落 (C) 區域間存在城鄉差異 (D) 雲林縣的人民生活習慣較節儉 (p.76-77)
4. 高雄市擁有國際商港及機場的先天競爭優勢，為臺灣經濟發展的重要都會之一。下列關於高雄市的介紹，何者正確？
(A) 壯闊的岬灣發展成全臺第一大港 (B) 地理位置優越，位居全臺南北交通中心點 (C) 為臺灣最大的花卉集散地 (D) 港口與工業結合，為全臺重工業重鎮 (p.70)

5. 阿紘於課後將公路、鐵路、水運及空運四種運輸方式依「所費時間」與「移動距離」的關係繪製成右圖，請問：圖中哪一線條代表空運？
(A) 甲 (B) 乙 (C) 丙 (D) 丁 (p.62)



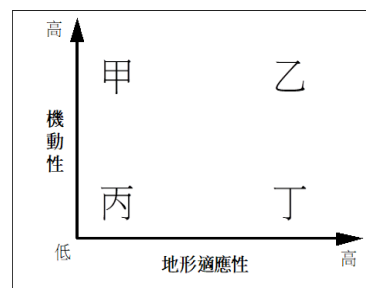
6. 身為空軍聯隊長阿彥若欲從圖 1 中



- 的南竿航空站飛至圖 2 中的金門航空站，試問其飛行方向應為何？
(A) 東南方 (B) 西南方 (C) 東北方 (D) 正北方 (p.75)
7. 阿佑計畫於暑假和班上同學一同搭乘高鐵前往旅遊景點，試問下列哪一行程其規劃錯誤？
(A) 上午至宜蘭林美石磬步道健走 (B) 中午到臺中科博館看特覽 (C) 下午至台南孔廟文化園區和林百貨參觀 (D) 傍晚到新竹品嚐在

地小吃 (p.60)


8. 右圖為「機動性」與「地形適應性」的概念關係圖，請問：何者是造成公路建設密度較鐵路普及的原因？
(A) 甲 (B) 乙 (C) 丙 (D) 丁 (p.62)



9. 商業活動與交通網絡有著密不可分的關係，一旦後者中斷，常會造成前者十分嚴重的損失。請問：下列哪一選項較無法證實這項說法？
(A) 蒙古籍貨輪在彰化外海處擱淺 (B) 新冠肺炎造成航班癱瘓，影響全球經貿往來 (C) Google公司伺服器發生問題而當機，使電子郵件無法正常寄送 (D) 蘇拉颱風重創臺灣許多公路，致使生產地的蔬果無法運送至市場 (p.58-59)

10. 小廷是位幾米愛好者，她計劃趁著暑假前去宜蘭幾米主題廣場朝聖，若其欲開車前往宜蘭，則通過哪條路線可快速到達目的地？
(A) 國道一號 (B) 福爾摩沙高速公路 (C) 國道五號 (D) 高速鐵路 (p.60)

11. 都市聚落儼然成為現代化國家的發展趨勢。右圖為某年臺灣與其他國家的都市化程度比較圖，請依據圖中資料分析，何者推論完全正確？
(A) 中國的經濟發展程度較臺灣高 (B) 南韓約有 82% 的人住在都市 (C) 臺灣都市主要分布於西部 (D) 日本的都市數量等於以色列的都市數量 (p.63)



12. 知名旅遊指南《孤獨星球》(Lonely Planet) 於2016年所公布的亞洲十大最佳旅遊景點名單中，臺東位居第十。臺東緊鄰太平洋，沒有被遮蔽的景致一覽無遺，傍晚時星空清澈閃耀，號稱「攬進銀河系的所有美麗……」。請問：若小軒想利用假期從臺北搭乘太魯閣號火車至臺東旅行，則沿途依先後順序會經過哪些地理區？
(A) 雪山山脈→蘭陽平原→中央山脈→花東縱谷平原 (B) 雪山山脈→蘭陽平原→花東縱谷平原→中央山脈 (C) 蘭陽平原→雪山山脈→中央山脈→花東縱谷平原 (D) 蘭陽平原→雪山山脈→花東縱谷平原→中央山脈 (p.74)

13. 自2014年12月25日桃園縣升格為直轄市後，臺灣共有六都。請根據附表判斷，哪一代號為新北市？
(A) 甲 (B) 丁 (C) 戊 (D) 己 (p.68)

	甲	乙	丙	丁	戊	己
面積	271.8	1220.9	2191.7	2951.9	2052.6	2214.9
人口數量	2631083	2255753	1878845	2773401	4024539	2816741
人口密度	9680.2	1847.5	857.3	939.6	1960.7	1271.7

14. 住在臺北的小逸因近期疫情關係而常常至超市購買食材回家料理，幾次造訪後，他發現超市內有許多蔬果來自彰化、雲

林一帶。請問：這兩區的蔬果可便捷銷往臺北與下列何者的關聯性最高？(A) 高速鐵路節省往來時間 (B) 高速公路提升輸送效率 (C) 飛機降低運輸成本 (D) 海運減少運費支出 (p.72)

15. 承上題，超市內的蔬果是位於右圖臺灣中部區域簡圖的何處？(A) 甲、丙 (B) 乙、丙 (C) 乙、戊 (D) 丙、戊 (p.72)



16. ○○報導指出：「澎湖南方四島遺世獨立，自然生態、地質景觀和人文史跡等資源都維持著原始、低污染的天然樣貌……，即日起於澎湖機場舉辦特展，透過動靜態的展示讓民眾感受澎湖南方四島的壯麗與獨特！」請根據上文判斷，澎湖南方四島位於臺灣哪個區域？(A) 北部 (B) 中部 (C) 南部 (D) 東部 (p.73)
17. 地理老師上課提及：「嘉南大圳的水源主要來自曾文溪和△河流……，其負責供應雲林、嘉義、台南等區域的用水……。」根據用水地區推斷，△河流應為何者？(A) 大安溪 (B) 大甲溪 (C) 濁水溪 (D) 高屏溪 (p.72)

18. 中共在民國 38 年、47 年曾兩度企圖以武力進犯臺灣，但最後都因國軍奮力抵抗而未能達到目的。這兩次的戰役都發生在同一地區，此地因而以戰役史蹟聞名。請問：上述以戰役史蹟聞名的地點位於附圖中的何處？(A) 甲 (B) 乙 (C) 丙 (D) 丁 (5-1)



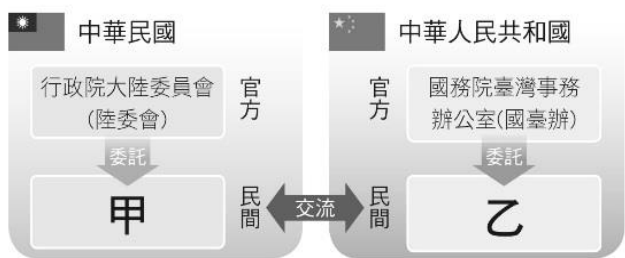
19. 附表是民國 37、38、42、52 年四個年度的臺灣佃農每年每公頃收益統計，表中的數字演變反映了政府的哪項政策？(A) 提高農會功能並興修水利 (B) 採行農地重劃並開放國有土地 (C) 工業臺灣，農業南洋 (D) 實施三七五減租與耕者有其田 (6-1)
- | 年代 | 佃農稻穀收益數 |
|---------|----------|
| 民國 37 年 | 1,947 公斤 |
| 民國 38 年 | 2,788 公斤 |
| 民國 42 年 | 3,991 公斤 |
| 民國 52 年 | 6,925 公斤 |
20. 蔣經國總統在西元 1986 年接受美國記者訪問時說：「中共提議『一國兩制』，允許臺灣保有自己的經濟制度與軍隊，這不過是『統戰』新花招而已，企圖達到共黨控制的目的。他們並未放棄侵犯或併吞我們的意圖。」，表達臺灣堅決反對中共的一國兩制，並斥之為「統戰」新花招。請問：蔣經國總統提出的對策是什麼？(A) 和平統一 (B) 不接觸、不談判、不妥協 (C) 南向政策 (D) 大三通 (5-2)
21. 小裕正在閱讀一本寫於民國四十年代的書，書中寫到：「整個共產黨的到來，也一定要像一陣旋風。他們雖然蓬勃一時，然而終必轉瞬即逝，消滅得無蹤無影，變成歷史的陳跡。」請問：下列關於這本書的敘述，哪一項是正確的

- ？(A) 這本書屬於鄉土文學的範疇 (B) 當時政府提倡反共思想，文學也受到影響 (C) 此一時期臺灣提倡產業升級 (D) 此一時期正值中華民國退出聯合國 (6-2)
22. 民國 60 年「海內外全體同胞們：第二十六屆□□大會違反憲章規定，通過阿爾巴尼亞等附匪國家之提案，牽引毛共匪幫竊取中華民國在□□及安全理事會中的席位；我們本『漢賊不兩立』之立場及維護憲章之尊嚴，已在該案交付表決之前，宣布退出所參與締造的□□……。」以上是《中華民國退出□□告全國同胞書》的部分內容。請問：這封書信中的□□應是下列何者？(A) 世界貿易組織 (B) 歐洲聯盟 (C) 聯合國 (D) 亞太經合會 (5-1)

23. 附圖是十大建設圖，從圖中內容可知哪方面的建設所占比例最高？(A) 交通建設 (B) 軍事建設 (C) 能源建設 (D) 文化建設 (6-1)



24. 歷史課時同學在討論二次大戰後我國的外交，他們的對話有如下：明理：「1950 年代，美國與蘇聯共產勢力對抗下，積極找尋東亞地區的盟友。」，明智：「我國在此國際局勢下與美國簽訂條約，成為美國西太平洋反共防衛體系的一環。」請問這應該是指下列哪個條約？(A) 《馬關條約》 (B) 《動員戡亂時期臨時條款》 (C) 《臺灣關係法》 (D) 《中美共同防禦條約》 (5-1)
25. 近年來，政府推動青年返鄉，鼓勵青年返鄉務農，希望能帶動農村的再發展，結合觀光資源，融合地方特色，為地方創造新的商機。請問：政府為何要推動相關政策？(A) 人口增加，將多餘人力推回農村 (B) 工業發展困難，故轉而投入農業 (C) 農村老化，人口外流，希望扶植農村發展 (D) 經濟弱化，只剩觀光產業有希望 (6-1)
26. 當「婦女要求兩性平權；環保人士要求反汙染、反石化、反核；農民要求更多對等的保障；一般人民要求居住正義；弱勢群體要求公平對待；原住民族要求正名。」再往下個階段前進，我們的社會可能會出現什麼樣最新的權利訴求？(A) 廢除《戒嚴令》 (B) 支持反攻大陸 (C) 少年表達參政的權利 (D) 合法組織政黨 (6-2)
27. 民國六十年代以來臺灣面臨哪些經濟危機，促使產業需由輕工業轉型為重化工業或高科技產業？(甲) 能源危機 (乙) 中共打壓 (丙) 鄉村人口外移嚴重 (丁) 工資與國際競爭的增加 (A) 甲丙 (B) 乙丁 (C) 乙丙 (D) 甲丁 (6-1)
28. 附圖是民國 76 年以來，兩岸事務的溝通單位示意圖。圖中的乙應



- 該填入下列何者？(A) 海基會 (B) 海協會 (C) 高峰會 (D) 辜汪會 (5-2)
29. 小史看到一本書上有如下記載：「西元 1958 年 8 月 23 日，共軍突然瘋狂炮擊□□，面積僅 148 平方公里的□□挨了 47 萬發炮彈，平均每平方公尺就落彈 4 發，簡直天翻地覆。」根據你的判斷，□□應該是指下列何處？(A) 基隆 (B) 臺北 (C) 澎湖 (D) 金門 (5-1)
30. 「Made in Taiwan」表示是臺灣製造的產品，其中有許多「世界第一」的頭銜，如一九六〇年代的鞋子、雨傘、毛衣、自行車、電扇、黑白電視機、計算機等，一直到一九九〇年代的高科技產品，如：滑鼠、鍵盤、掃描器、主機板、網路卡、數據機等，產量都是世界第一。請問：這與政府曾經設立哪些特區推動產業發展有密切的關聯？(甲) 花蓮經濟特區 (乙) 高雄加工出口區 (丙) 新竹科學工業園區 (A) 甲乙 (B) 甲乙丙 (C) 甲丙 (D) 乙丙 (6-1)
31. 民國 67 年 12 月，美國宣布與中華人民共和國建交後，我國許多民眾走上街頭向美國代表團抗議。請問：有關「臺美斷交」的敘述，下列何者正確？(A) 中華人民共和國與美國建交後，對臺灣改採和平統戰策略 (B) 美國廢止《臺灣關係法》，另與我國訂立《中美共同防禦條約》 (C) 美國與中華人民共和國建交是為了要對付納粹德國 (D) 當時的蔣中正總統提出「三民主義統一中國」的政策 (5-2)
32. 根據美國情報部門推估，臺灣將於西元 1950 年淪陷於中國共產黨，因此美國決定袖手旁觀臺灣海峽兩岸情勢。雖然我國政府在臺灣海峽局部衝突中得到勝利，大環境仍未好轉，直到某件事情爆發後，美國態度轉變，臺灣才真正安全挺過 1950 年淪陷危機。請問：該事件為下列何者？(A) 韓戰爆發 (B) 古寧頭戰役勝利 (C) 簽訂《中美共同防禦條約》 (D) 八二三炮戰勝利 (5-1)
33. 近年來，有不少中國大陸人士來臺找尋親人進行祭祀，甚至有人在忠烈祠向其父親的牌位說：「爸爸，這是我最後一次看你了，我老了，走不動了」，情景令人動容。而臺灣因國家安全等因素考量，直至民國 76 年後，才開放國人前往中國大陸探親。請問：關於兩岸交流的狀況，下列敘述何者正確呢？(A) 海基會為官方機構，專職處理兩岸情勢研判 (B) 陸委會為民間機構，負責兩岸民間交流機制 (C) 民國 76 年後的開放探親與解除戒嚴有關 (D) 兩岸後來小三通與大三通，且在小三通便全面開放通商、通郵、通航 (5-2)
34. 西元 1950 年代開始，在臺灣的美國文化風靡，不少好萊塢明星成為臺灣人的偶像。請問：為何美國文化會在臺灣造成流行風潮？(A) 避免臺灣被共產文化影響，大量引進美式文化 (B) 美國軍事顧問團進駐臺灣，臺美關係密切，帶來大量美式文化 (C) 臺灣加入聯合國，成為國際上的一分子，大量接受美式文化 (D) 臺灣因為產業升級，開始追求新穎的美式文化 (6-2)
35. 「社會變遷」的敘述，下列何者正確？(A) 社會變遷只會帶來便利與進步的生活 (B) 社會變遷有時會對社會帶來負面衝擊 (C) 社會變遷是單一因素造成的 (D) 社會變遷的結果只會增進人類的幸福 (p.188)
36. 隨著社會快速變遷，價值觀念也隨之改變，有些青少年為了滿足物慾的享受，對援交的行為竟不以為意，政府若要導正這種偏差的價值觀，應加強青少年的何種能力？(A) 終身學習 (B) 獨立思考判斷 (C) 情緒管理 (D) 樂觀的態度 (p.193)
37. 由於智慧型手機功能的進化，許多商店利用附圖的 QR 條碼進行行銷，例如只要在海報上用手機掃描此圖，即可獲取優惠資訊。請問：這種行銷手法是建立在下列何項層次的社會變遷上？(A) 理念層次 (B) 觀念層次 (C) 制度層次 (D) 器物層次 (p.188)
38. 附圖是鍾珩研究報告的架構圖，根據圖中資料顯示，她研究的議題可能是下列何者？(A) 社會變遷 (B) 社會運動 (C) 社會福利 (D) 社會互動 (p.198)
- 
39. 慈濟功德會與一知名超商合作，為讓急難家庭過個好年提供一萬元的採買金，讓他們購買年節用品。請問：上述顯示，為因應社會變遷的衝擊，何者展現力量協助弱勢群體？(A) 政府單位 (B) 社區組織 (C) 民間團體 (D) 學校社團 (p.202)
40. 信用卡普及後，由於使用便利，許多人逐漸養成了「先消費，後付款」的觀念，這說明了什麼現象？(A) 器物改變帶動制度改變 (B) 價值觀念改變帶動器物改變 (C) 制度改變帶動價值觀念改變 (D) 器物改變帶動價值觀念改變 (p.188)
41. 臺灣傳統社會觀念認為工作是生活的重心；隨著經濟的發展，人們思考如何提升生活品質，也愈來愈重視休閒生活。上述屬於哪個文化層次的社會變遷？(A) 器物 (B) 制度 (C) 理念 (D) 習慣 (p.188)
42. 下列何者屬於制度層次的變遷？(A) 文明科技的進步 (B) 數學定理的研究 (C) 防災技術的改良 (D) 福利法規的制定 (p.189)
43. 民間的公益團體提供許多社會福利措施，嘉惠了許多弱勢群體。請問：下列何者不是上述民間團體的目的？(A) 提高企業知名度，吸引贊助者，達到獲利的目的 (B) 集合大家的力量，幫助有需要的人 (C) 彌補政府措施的不足 (D) 使得人間充滿溫情 (p.202)
44. 我國《憲法》第 152 條規定：「人民具有工作能力者，國家應予以適當之工作機會。」請問：社會福利政策中的哪一項措施可以因應此條文？(A) 社會保險 (B) 社會救助與津貼 (C) 福利服務 (D) 就業安全 (p.201)
45. 同學們正在討論社會福利的觀念與發展，下列何人的意見最正確？(A) 永康：社會流動是社會福利思想的基礎 (B) 富安：科學革命後，社會福利才開始成為國家的制度或政策 (C) 耀昇：我國《民法》已將社會福利明定為國家的重要政策 (D) 展翔：現今的社會福利已被認為是公民的基本權利 (p.199)
46. 傳統中華文化中的何種思想，隱含社會福利的觀念？(A) 忠孝 (B) 仁愛 (C) 信義 (D) 和平 (p.198)

47. 各縣市政府成立職訓中心辦理職業訓練，或是設立就業服務站，提供有就業服務需求的民眾就業諮詢，最主要的目的為下列何者？（A）實施社會保險（B）促進充分就業（C）振興經濟發展（D）提供緊急救助（p.201）
48. 「針對詐欺犯罪刑度是否過輕，法務部正在檢討，計畫加重集團性詐欺的刑罰，以遏止犯罪。」上述新聞說明了政府希望能藉加重刑罰來解決何種社會問題？（A）貧富差距的擴大（B）犯罪問題（C）生活品質的下降（D）弱勢權益的忽視（p.191）
49. 政府推動家庭醫師整合性照護制度計畫，鼓勵成立社區醫療群，以群體力量提供民眾周全性、協調性與持續性的服務，這屬於何項社會福利政策的內涵？（A）福利服務（B）社會救助與津貼（C）社會保險（D）健康與醫療照護（p.201）
50. 政府鼓勵民間企業興建低於市價的住宅，供一定所得以下且無自有住宅的民眾承購。請問：上述應屬於哪一項社會福利政策的措施？（A）社會保險（B）社會救助與津貼（C）居住正義（D）健康與醫療照護（p.201）