

新北市立中正國民中學108學年度第二學期 八 年級 社會 科 第 三 次段考試題
範圍：第二篇 2-3 章、第三篇 5-6 章、第四篇 5-6 章

班級：___ 座號：___ 姓名：___

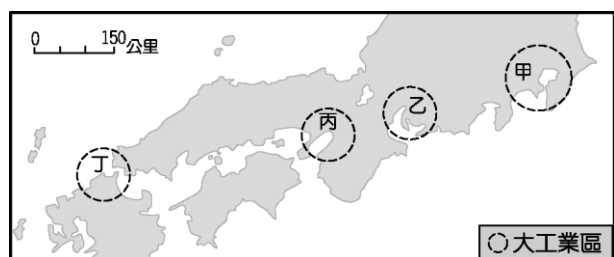
【讀卡科目請依規定畫卡，若有違反畫卡規定而影響讀卡作業之情事，一律扣總分五分。】

【手寫答案卷需確實寫上班級、座號、姓名，違者一律扣總分五分。】

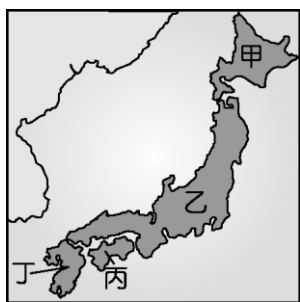
【手寫答案卷需用藍色或黑色墨水筆書寫，違者一律扣總分五分，使用鉛筆書寫扣五分。】

選擇題:每題 2 分

1. 日本主要的都會區多集中於東側太平洋沿岸地區。目前日本的行政中心與第一大都市——東京，市區人口1300多萬，整個東京都會區高達3000萬人，每天有高達2000多萬人從周圍城市通勤到東京上班，使東京的市中心白天人聲鼎沸，夜晚則變成一座空城。其位置位於附圖中哪一工業區範圍內？(A) 丁 (B) 丙 (C) 乙 (D) 甲。 P.69



2. 賞花的習俗據傳起源於奈良時代（710年—794年）。奈良時代，日本在多方面受中國唐朝影響，賞花的習俗就是在这期間傳入，至今已有上千年的歷史，日本人認為櫻花是聖潔的，直至今日櫻花仍是日本文化的標誌，人們相信樹中有神靈，賞花時會在樹下擺放清酒等貢品，占卜來年的收成，宣布播種水稻的時節來臨。這樣的賞櫻文化，每年3月起，成為日本著名的賞櫻季節，滿開的櫻花花海更吸引來自世界各地的觀光客前往日本，各地也陸續都有櫻花盛開的美景。根據氣候條件判斷，下圖中哪一地區的櫻花開得最晚？(A) 甲 (B) 乙 (C) 丙 (D) 丁。 P.65

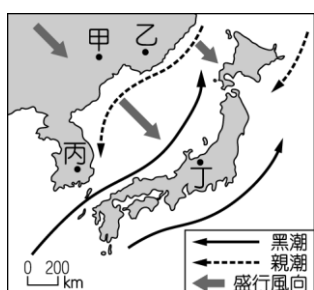


3. 日本主要的工業區多位於太平洋沿岸的港口附近，有關日本工業區的位置設立，其考慮的區位條件主要為何？

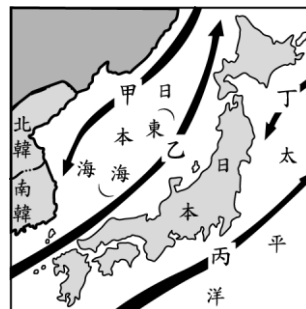
(A) 技術 (B) 原料 (C) 勞工 (D) 交通。 P.68

4. 位於日本富山縣境內的相倉合掌村，儘管只有14戶人家，全村不過40個人，但依舊被聯合國列為世界文化遺產，讓村民每年得籌措3000萬日圓經費，來維護合掌村落景觀。只是疫情重創當地觀光，如果觀光客再不回來，他們可能得面臨滅村危機。「冬天的時候，合掌屋在白雪的覆蓋下，宛如走進北歐的童話世界」，造成白雪覆蓋如美歐的景色最有可能位於下圖的何處？

(A) 甲 (B) 乙 (C) 丙 (D) 丁。 P.66



5. 附圖為日本沿岸地區的洋流分布狀況，下列哪一項因素和該區洋流經過有直接關係？(A) 地震頻繁(B)火山林立(C) 漁獲豐富 (D)宗教信仰。 P.66



6. 曉甯和家人搭乘新幹線時，沿途欣賞到日本地標「富士山」的美景，領隊在介紹時說：「(甲)九州島上的富士山離境內三大平原中的(乙)關東平原附近，為日本國內(丙)第一高峰，也是日本人心中的(丁)精神象徵。」上述領隊的介紹，何者有誤？(A) 甲 (B) 乙 (C) 丙 (D) 丁。 P.65

7. 日本神戶牛肉相當有名，據說每天按摩、聽音樂、吃高級牧草是必備的畜養要件。請問：根據當地的自然環境推論，此地牛隻是屬何種畜牧活動的產品？(A) 垂直游牧 (B) 放牧 (C) 水平游牧 (D) 欄牧。 P.68

8. 南韓劇近年來在臺灣大為風行，如《繼承者們》、《永遠的君主》等電視劇。南韓利用影視產業的行銷，可以帶動其國內何項產業活動發展？(A)高科技產業 (B) 觀光業 (C) 汽車業 (D) 家電產業。 P.72

9. 1990到2008年期間，北韓在「全球饑餓指數」惡化的排名中位居第二。造成北韓糧產不足，常有饑荒的問題，甚至2016年統計資料，北韓個人年均所得僅近四萬元新台幣，不到南韓的1/20，除了政治制度的影響外，與下列何項自然因素關係最密切？(A)颱風侵襲次數多 (B) 生長季短、平原少 (C) 火山活動與地震頻繁 (D) 年雨量少於500毫米。 P.70、74

10. 南韓的平均國民所得已超越臺灣，該國政府致力於經濟發展，常採取一些強力的措施。這些措施不包括下列何者？(A) 扶植大型財團 (B) 家電、遊戲軟體為主的工業產品 (C) 實施共產主義 (D) 贊助電視劇的拍攝帶動觀光業發展。 P.71.72

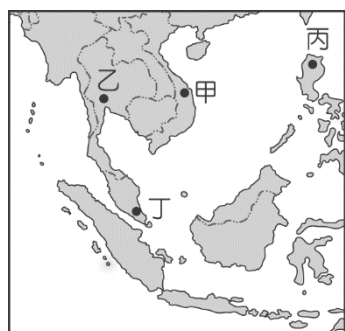
11. 被人們稱為「赤道上的翡翠」，位在四大板塊的接觸的地帶上，擁有火山400多座，其中活火山更達100座的國家，最有可能是下列哪一個國家？(A) 印度尼西亞 (B) 新加坡 (C) 柬埔寨 (D) 菲律賓。 P.78

12. 熱帶栽培業因為下列哪些因素影響，市場風險性較大？(甲)單一作物生產(乙)產品出口為主(丙)溼熱地區栽種(丁)需要大量勞力(A)甲丙 (B) 甲乙 (C) 乙丁 (D) 丙丁。 P.79

13. 都市發展的起源各不相同，因為經歷長期的殖民統治，殖民者為了運送物資回殖民母國，形成今日東南亞的大都市，如雅加達、曼谷、胡志明市、新加坡等，都屬於哪一類型的都市？(A)軍事型 (B) 港埠型 (C) 礦產型 (D) 宗教型。 P.82

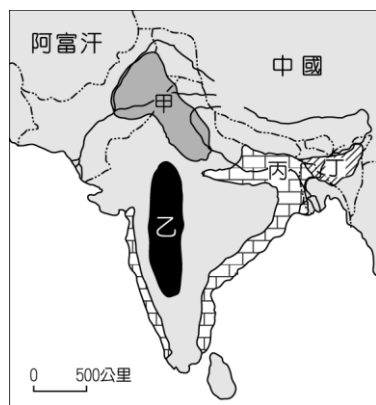
14. 「明成祖即位後，相當勤於政事，舉凡整飭吏治、經營南洋……。」「為了策動廣州起義，黃興曾到南洋地區籌款……。」請問：上述的南洋是指下列何處？(A) 南太平洋的熱帶國家(B) 南半球紐澳地區 (C) 南歐地中海沿岸 (D) 東南亞地區。 P.78

15. 因為故鄉曾經被美國統治過，所以瑪莉亞來到臺灣擔任看護的工作，適應相當良好。由於她聰明勤勞，很快學會中文，再加上故鄉過去的被殖民經驗，使得她還會說一些英文，她的雇主對她相當滿意，把她當作女兒般疼愛。瑪莉亞的故鄉可能位於附圖中的何處？(A) 甲 (B) 乙 (C) 丙 (D) 丁。 P.80



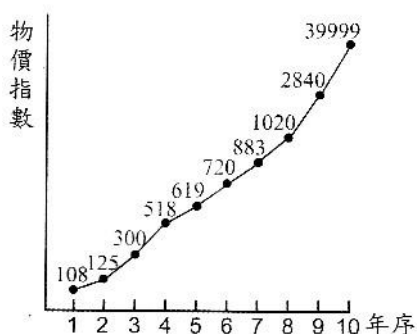
16. 每年的 6 至 10 月為印度的雨季，氣候溼熱多雨，為當地重要的農業耕作季節。該地區雨季最主要是下列哪一個季風風向所帶來的水氣？(A) 西南季風 (B) 西北季風 (C) 東南季風 (D) 東北季風。 P.84

17. 茶樹適合生長在迎風坡多雨的氣候及丘陵地形環境。若依此條件，附圖的哪一地區最可能是南亞茶葉的主要產區？(A) 甲 (B) 乙 (C) 丙 (D) 丁。 P.86



18. 民國 55 年 5 月 4 日，北京「解放軍報」社論提出「社會主義化大革命」的名詞，後又改為「無產階級文化大革命」，並設立「文化革命小組」，自此「文化大革命」遂成為一個「政治運動」。請問：此運動的主要口號為何？(A) 德先生、賽先生 (B) 破四舊、立四新 (C) 外爭主權、內除國賊 (D) 四個現代化。(P.142)

19. 右圖為民國 30 年代末期，上海連續十年零售物價指數的曲線圖。表中第十年的物價飆漲了將近 400 倍。依照民國史事和社會經濟的關係判斷，當



時發生何事？(A) 北伐 (B) 剿共 (C) 八年抗戰 (D) 國共內戰。(P.139)

20. 一份會議紀錄提到：「只要你們答應對日宣戰，並出兵東北支援中國作戰，那麼在戰爭結束後，中國的東北地區便交由你們來接收，關東軍（日本軍）的廠房以及武器也交由你們來處理。」請問：這應該是哪場會議紀錄的內容？(A) 巴黎和會 (B) 開羅會議 (C) 雅爾達會議 (D) 馬關會議。(P.135)

21. 閱讀下列兩則資料，並選出正確的選項：

資料一：1927年4月12日，蔣介石在上海進行血腥大屠殺，同一時間江蘇、廣州等地也發生大屠殺，許多著名共產黨員都在這一時期被捕、犧牲。其後蔣介石更在南京另立國民政府，與武漢的國民政府對抗，史稱「四一二政變」。

資料二：民國16年4月，蔣中正先生定都南京，共黨則迎汪精衛至武漢主持國民政府，形成「寧漢分裂」。同年4月12日，南京政府成立中央清黨委員會，公布「清黨條例」，先後逮捕共黨千餘人，史稱「清黨」。

(A) 資料一是臺灣教科書的內容，資料二是中國大陸教科書的內容 (B) 資料一與資料二的事件名稱不同，應為同一時期發生的兩個事件 (C) 資料一與資料二敘述的是同一個事件，因而只有一個說法是正確的 (D) 資料一與資料二因為政治立場不同，所以對歷史事實作出不同的敘述與解釋。(P.130)

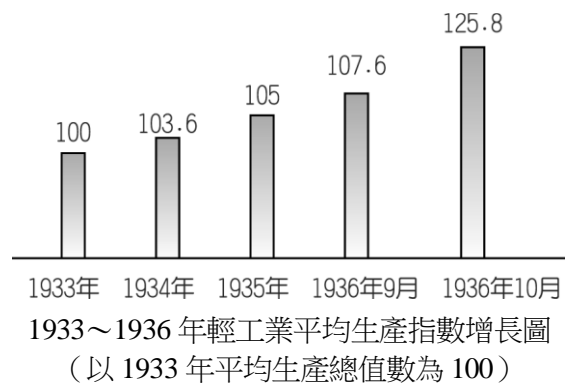
22. 日本自從明治維新後即積極向外展開侵略，同樣位於東亞的中國即成為其軍國主義所欲征服的目標。請問：以下關於日本侵略中國的事件，相關敘述何者正確？(A) 濟南事件：張學良歸順國民政府，中國統一 (B) 九一八事件：中國全面抗戰 (C) 盧溝橋事件：中國和英、美結為同盟 (D) 淞滬會戰：粉碎日本三月亡華的目標。(P.134)

23. 毛澤東死後，中共黨內曾有人評論毛澤東一生功過，稱他「開國有功，建國有過，文革有罪」。請問：以下之敘述何者正好呼應這一段談話？(A) 毛澤東於 1949 年建立中華民國，並擔任國家主席 (B) 毛澤東於 1950 年號召抗美援朝，並因此與蘇聯決裂 (C) 毛澤東於 1958 年開始展開大躍進運動，結果失敗 (D) 毛澤東於 1966 年發動文革，利用以鄧小平為首的四人幫來鬥爭奪權。(P.141)

24. 下表是中國大陸從 1978 年到 2008 年，在國內生產毛額、進出口總額及外匯存底等幾項經濟指標數據的世界排名變化，其所顯示的意義是？(A) 「大躍進」運動超英趕美 (B) 「四個現代化」以來的改革成功 (C) 「土法煉鋼」的目標達成 (D) 民間工商企業順利收歸國營。(P.143)

| | 1978 年 | 2000 年 | 2008 年 |
|--------|--------|--------|--------|
| 國內生產毛額 | 10 | 6 | 3 |
| 進出口總額 | 29 | 8 | 3 |
| 外匯存底 | 38 | 2 | 1 |

25. 孫中山曾在『致蘇聯遺書』一史料中，表明了他實行三大政策的堅定信念，而以上所謂三大政策指的是「聯俄、聯共、扶助農工」。請問：依你推測，這個給了孫中山新希望與新方向的政策，應是在以下何組織時期的決策？
(A)興中會 (B)中華革命黨 (C)國民黨 (D)中國國民黨。
(P.129)
26. 中共前總理周恩來曾說：「侵略中國的日本，是中共崛起的恩人」，以下史事中何者最能支持或說明此歷史評論？
(A)日本願意給予中共經濟與軍事援助，所以是支持中共崛起的重要力量 (B)日本因為曾經出兵我國山東，阻撓我軍北伐，使得國民政府需繞道北伐，中共因此得以有喘息之機會 (C)由於張學良抗日心切，不惜與共產黨聯手合作發動西安事變，國民政府乃停止剿共，中共因此轉危為安 (D)中國因為歷經八年艱苦對日抗戰，國家元氣大傷，政府失去民心，中共卻趁機壯大，國共內戰乃能成功勝利。(P.139)
27. 有人說：世界上銷售量最多的三本書，分別是「聖經」、「小紅書」和「哈利波特」。其中「小紅書」即是「毛語錄」，而中國人民對「紅色教主」毛澤東的崇拜達到極致，時常集會研讀其思想，並將他視為人民心中的紅太陽，這種思想最有可能出現在以下何政策或運動時？
(A)文化大革命 (B)六四天安門事件 (C)土法煉鋼 (D)四個現代化。(P.142)
28. 1950年代末期，中共發起了「大躍進」運動，隨後中國人民經歷了三年的大飢荒，死亡人數估計超過三千萬人。請問：「大躍進」是個什麼性質的運動？
(A)由紅衛兵發動，主要訴求在改革政治的民主運動 (B)援助朝鮮、對抗美國等帝國主義的運動 (C)不切實際的糧食、鋼鐵增產運動 (D)批判中國傳統社會倫理與文化的思想運動。(P.141)
29. 右圖為中國的民主女神像，這是中央藝術學院的學生，在1989年以保麗龍塑造而成。其面容是慈悲為懷的觀音與紐約自由女神的綜合，後於大屠殺中，毀於人民解放軍的戰車與砲火之下。請問：此事件由下列何人主導？
(A)毛澤東 (B)四人幫 (C)鄧小平 (D)江澤民。
(P.143)
30. 下圖是國民政府主政期間的國民經濟發展情況，導致這一結果的直接原因為何？



- (A)資本主義經濟的蓬勃發達 (B)法幣政策的實施和經濟建設的開展 (C)收回所有主權，擴大了稅源 (D)西方列強因受經濟危機打擊，暫時放鬆了對中國的經濟侵略。(P.131)
31. 電報一：「中央政府把平定內亂視為其頭等職責，東北的同仁必須理解這一國策。」(1931年7月)。電報二：「無論日本軍隊此後如何在東北尋釁，我方應予不抵抗，力避衝突，吾兄萬勿逞一時之憤，置國家民族於不顧。」(1931年8月)根據以上資料，下列敘述何者有誤？
(A)電報一所指的「內亂」應為北洋軍閥 (B)電報二應為蔣中正所發，「吾兄」是指張學良 (C)兩封電報屬「歷史事實」，非「歷史解釋」 (D)「不抵抗」國策有利於日本侵略東北。(P.132)
32. 中國八年抗戰開始後，政府高層裡有人認為中國沒有戰勝日本的可能，與其最後被日本所亡，不如和日本妥協，國家可免於無謂的犧牲。下列何人是這種主張的代表？
(A)汪精衛 (B)蔣中正 (C)毛澤東 (D)張學良。(P.134)
33. 西安事變是中國現代史上的關鍵事件，它不只改變了中日關係，也改變了國共關係。請問：您認為以下關於張學良發動此事件的動機，何者是正確的？
(A)寧漢分裂時反對蔣中正清黨 (B)受到「中國人不打中國人」口號的影響 (C)日本人炸死其父親張作霖後，隨即佔領東北 (D)堅定支持「先安內，後攘外」。(P.133)
34. 侯清樸笑道：「爹，菩薩不是咱們的，咱們年年燒香，他一點也不管咱們。毛主席的口令一來，就有給咱們送地的來了，毛主席就是咱們的菩薩，咱們往後要供就供毛主席，爹，您說是麼？」侯全忠誰的話也都不答覆，只痴痴的笑。最後有人問他：「這地要分給您了，您還退給人家麼？」他只是一個勁的搖著頭，答道：「不啦！不啦！昨天那麼大的會，還不能把我叫醒麼？哈……。」試問以上所描述的場景，是發生在哪個年代？
(A)1950年代 (B)1960年代 (C)1970年代 (D)1980年代。(P.140)
35. 花花大學擔任工友的蔡姓男子，在校步行回家時檢到一支遺失的手機，將手機帶回家中，供他的兒子使用。經警方循線查上門來，將他移送法辦。於是蔡姓男子被依侵占遺失物罪判處罰金。請問：蔡姓男子若不滿此判決並決定上訴，他最高能上訴到哪一級法院？
(A)高等法院 (B)高等行政法院 (C)最高法院 (D)最高行政法院。(第5章)

新北市立中正國民中學108學年度第二學期 八 年級 社會 科 第 三 次段考試題
範圍：第二篇 2-3 章、第三篇 5-6 章、第四篇 5-6 章
班級：___ 座號：___ 姓名：___

36.君君的平板電腦撞被阿紅摔壞了，兩人對賠償金額始終沒有共識。若考量省時、省錢，且做出的結論具有強制力，但又不想上法院，君君可以採取下列何項救濟途徑？

(A) 私下和解 (B) 聲請調解 (C) 提起訴願 (D) 進行訴訟。(第5章)

37. 中正縣議員劉芳芳在議會質詢時，竟拿出一包 K 他命，希望縣府教育局及警察局正視毒品氾濫問題，並加強查毒。該議員已違反何法，恐被罰 1~5 萬元？(A) 組織犯罪防制條例 (B) 毒品危害防制條例 (C) 刑法 (D) 社會秩序維護法。(第6章)

38. 小黃開車撞傷懷有身孕的蔣姓女騎士，造成右手骨折，蔣女控告小黃過失傷害，雙方昨在地方法院達成和解，據指出小黃同意賠償 50 萬，換取對方撤告，法官限期小黃一次付清和解金，並要求蔣女在匯款進帳後，儘速向法院撤告。下列關於此案件的敘述，何者「正確」？(A) 由法官作成和解筆錄 (B) 50 萬元屬罰金 (C) 未履行和解內容，可再聲請調解 (D) 此屬訴訟外和解。(第5章)

39.14 歲的阿草由於觸犯了法律，法官為了改正其偏差行為，安排他進入少年矯正學校，並接受教育訓練。請問：此案件屬於「少年保護事件」中的下列何種處分？(A) 假日生活輔導 (B) 安置輔導 (C) 保護管束 (D) 感化教育。(第6章)

40.和解、調解、仲裁及訴訟，都是法律所規定的權利救濟方式。下列關於「仲裁」的敘述何者「錯誤」？(A) 仲裁多運用於行政訴訟 (B) 仲裁的效力與法院確定判決相等 (C) 需以書面訂立仲裁協議 (D) 由仲裁庭負責仲裁。(第5章)

41.最近全台灣下起豪大雨，佳佳入侵行政院人事行政局網站，更改網頁資訊宣布放假一天。請問：上述行為已觸犯何項罪行？(A) 公共危險罪 (B) 妨害電腦使用罪 (C) 竊盜罪 (D) 誹謗罪。(第6章)

42.小安家養的狗沒有用繩子綁好，狗衝出去咬傷鄰居阿龍，阿龍憤而向地方法院提出訴訟。請問：阿龍的行為在刑事訴訟程序上稱為什麼？(A) 公訴(B) 告訴(C) 自訴(D) 告發。(第5章)

43.民事訴訟與刑事訴訟是由普通法院管轄，原則上採三級三審制。但並不是所有案件都可以上訴上最高法院，以下哪些事件最多只能上訴到高等法院？(甲)阿倫將小智打成重傷(乙)小江因騎車不慎，撞壞別人的腳踏車(丙)柔柔將撿到的手機占為己有(丁)阿玉在臉書上罵安安三字經。

(A) 甲乙丙(B) 甲乙丁(C) 甲丙丁(D) 乙丙丁。(第5章)

44.新北市土城區一名男子義世於福州公園放風箏時，因風大風箏線劃傷恩恩的脖子。雙方當事人於調解委員會兩度協調。請問雙方當事人最可能於何處調解委員會進行協調？(A) 新北市政府 (B) 檢察署 (C) 土城區公所 (D) 警察局。(第5章)

45.15歲的阿瑋，自國小四年級開始一直有在抽菸，且父母知情，卻未曾制止。請問：父母的行為，已違反哪項法律的規定？(A) 《兒童及少年福利與權益保障法》(B) 《刑法》(C) 《社會秩序維護法》(D) 《少年事件處理法》。(第6章)

46.少年法院如果認為其犯罪情節輕微，或未滿14歲者，可以免除刑罰，而讓其接受「保護處分」，其中少年犯罪如果依個別情形安排「假日生活輔導」，通常是由誰來執行？(A) 檢察官 (B) 警察 (C) 法官 (D) 少年保護官。(第6章)

47.中正附近新開一家文具批發店，公民課時，學生依據勞動基準法的規定檢視該店徵人啟事的內容，請問哪一位同學的說明「錯誤」？

中正文具批發室
徵人啟事:工讀生數名
14歲~15歲(中正國中學生優先)
上班時間:週六和週日
18:00~22:00

(A) 敏敏：雇主不得僱用未滿15歲的人工作 (B) 奇奇：雇主不得僱用在校生 (C) 阿生：童工不能在周日工作 (D) 阿璇：童工不能在晚上8：00以後工作。(第6章)

48.「非告訴乃論」是指不論被害人是否又意思追究，檢察官都必須查辦，以下哪件糾紛就是屬於此案件，也就是即使當事人雙方已談好賠償，也不能免除其刑事責任？(A) 花花打棒球不小心打破鄰居家窗戶 (B) 阿明當眾辱罵公司同事 (C) 阿九酒駕撞死人且逃逸 (D) 安安開車撞壞別人的車門。(第5章)

※刑事訴訟是為了對犯罪行為進行追訴，並且加以處罰的訴訟程序，下圖為某個刑事訴訟庭的配置圖
(請依圖片回答49.~50.題)



49.根據上圖內容判斷，圖中角色所穿著的法袍顏色何者「正確」？(A) 甲穿著黑袍藍邊 (B) 丙穿著黑袍紫邊 (C) 乙穿著黑袍白邊 (D) 戊穿著黑袍黑邊。(第5章)

50.根據上圖內容判斷，下列哪個推論的敘述最合理？
(A) 此刑事案件目前在地方法院審理 (B) 此案件有可能被害人按鈴申告，請求追訴之意 (C) 此刑事案件有可能為侵占遺失物 (D) 當此案判決確定，當事人不服還可提起上訴。(第5章)