

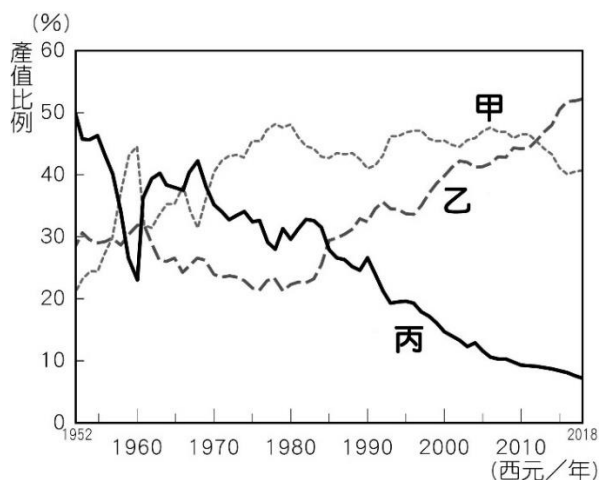
【讀卡科目請依規定畫卡，若有違反畫卡規定而影響讀卡作業之情事，一律扣總分五分。】

【手寫答案卷需確實寫上班級、座號、姓名，違者一律扣總分五分。】

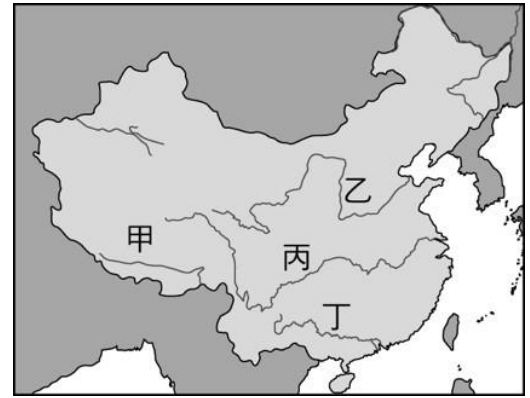
【手寫答案卷需用藍色或黑色墨水筆書寫，違者一律扣總分五分，使用鉛筆書寫扣五分。】

一、選擇題(每題 2 分)：

- 「中國政府允許華僑、港澳同胞、部分外國廠商投資或合資興辦企業，利用廣東、福建兩省的廉價勞力加上外國技術，創造高等的產值。西元 1979 年在深圳、珠海先試辦，西元 1980 年汕頭、廈門進行規畫建設，西元 1988 年於海南省設立，沿海的五個城市進出口貿易額皆有快速的進展。爾後，又將其成功經驗推展至內陸的新疆喀什與霍爾果斯兩個區域。」上述為中國某一項政策的內容，請問對於該地新聞描述，下列何者正確？(p32)
(A)該新聞標題應該是「珠三角經濟圈的崛起」
(B)新聞主要報導的政策為西部大開發
(C)該新聞報導的範圍為中部經濟帶
(D)這項政策的做法類似臺灣的加工出口區。
- 2020 年初新冠肺炎蔓延全球，許多國際品牌被迫延後生產，甚至關閉全球數百家分店。《紐約時報》則形容：「透過新冠病毒，我們才知世界對中國依賴有多深。」請問何者為全球市場依賴中國的原因？(p40)
(A)全球市場向中國購買工業產品
(B)同時為生產基地和主要消費地
(C)歐美市場受限於中國政府控制
(D)中國為世界主要勞動力輸出國。
- 上海曾流傳著一段話：『寧要浦西一張床，不要浦東一間房』，而如今浦東新區不可同日而語，在規畫開發後這一地區憑藉區域內的優勢，使外資與技術大量流入並帶動鄰近地區的發展，目前已成為中國資訊科技產業重鎮。請問：下列選項當中哪一項並非浦東新區所具有的發展優勢？(p37)
(A)農礦豐富 (B)人才眾多 (C)交通便利 (D)市場廣大。
- 中國推動「西部大開發」的政策，積極進行西電東送、西氣東輸、青藏鐵路及南水北調等工程。實行這項政策的主要目標為何？(p35) (A)平衡東西部的經濟差距
(B)發展中國對外關係 (C)防止外國武力進犯 (D)加強少數民族文化保存。
- 下圖為中國三級產值比例變化圖，今年剛畢業的阿冗找到 OPPO 手機專賣店的銷售員工作。請問他的工作所生產的產值屬於下圖何者？(p32) (A)甲 (B)乙 (C)丙



6. 中國的經濟改革開放模式是希望透過一個地區先富起來再帶動其他地區的模式，該國複製東南沿海的成功經驗，將開放地區擴散到沿海及下圖中哪一河川沿岸的都市？(p33) (A)甲 (B)乙 (C)丙 (D)丁



7. 地理課時，老師請同學以「中國經濟崛起」為題發表自己的看法，下列何者的說法正確？(p44)
(A)炭治郎：「中國農業持續成長，使得國際農產品價格不斷上漲。」
(B)禰豆子：「中國因為製造成本較高，成為世界工廠。」
(C)善逸：「中國在發展經濟的同時也製造大量廢棄物，如過多的二氧化碳會加速全球暖化。」
(D)伊之助：「中國窮人太多，缺乏消費市場，商機不佳。」
8. 豐富的礦產是一國工業發展的基礎，下圖為中國礦產分布圖，請觀察新疆因盛產何種礦產，而成為中國新興工業地帶？(p31) (A)煤礦 (B)鐵礦 (C)鹽礦 (D)石油



9. 中國近年來快速起飛，尤其是高速鐵路的建設，加速內部的連結、縮小了城鄉差距，例如：其中一條高鐵可連結中國的首都與最大的經濟中心，該條鐵路的起點、終點應該是下列何者？(p36-37) (A)重慶 - 武漢
(B)北京 - 上海 (C)廣州 - 上海 (D)北京 - 重慶
10. 西元 2017 年 11 月，美國總統川普與中國國家主席習近平的會面，兩國簽署號稱價值約 7.7 兆臺幣的商業合作

協議，這也意味美國不得不重視中國對全世界的影響。

請問：中國對全球的影響不包括下列何者？(p42)

- (A)提供充足且廉價的勞力 (B)擁有廣大的消費市場
(C)成為歐、亞、非三洲轉運站 (D)進、出口貿易額位居全球前五名。

11. 中國的經濟帶中，哪一個經濟帶有中國最重要的能源礦產分布，但因為現代化起步較晚而造成人口和資金外流？(p35) (A)甲 (B)乙 (C)丙。



12. 新聞報導指出：「渤海溢油不止；雲南水庫遭受鉛污染，……；陝西榆林的沙漠中竟出現高耗水的高爾夫球場……。」以上內容顯示出中國正面臨何種情況？(p43)

- (A)經濟持續失控 (B)不當開發造成環境災害
(C)礦產資源豐富開採不盡 (D)汙染問題只存在大都市。

13. 近年來，由於中國工業發展，工廠與汽、機車數量快速增加，製造大量的廢氣，使得空氣品質惡化。請問中國影響臺灣空氣品質，其影響的原因主要是由下列何種風向所致？(p43) (A)夏季季風 (B)冬季季風 (C)夏秋颱風 (D)春季龍捲風。

14. 美國量販店 COSTCO 於西元 2019 年在中國上海市開業，這是中國第一間 COSTCO，開幕當天車水馬龍、人潮擁擠，商品搶購一空，導致當日提前結束營業，請問上海 COSTCO 的成立，主要是看上中國的何項優勢？(A)進出口貿易盛 (B)勞工工資低廉 (C)面積大物產豐 (D)市場潛力龐大。(p40-41)

15. 下表為中國於 2005 年、2011 年的進口項目結構比，表格中的五項類別皆為當年度占比最重的前五名。其中基本金屬、電子產品、積體電路、機械的進口結構比，2011 年的數值皆比 2005 年還要低，可以推測出下列何種情況？(p40)

	基本金屬	電子產品	積體電路	機械	礦產品
2005 年結構比	8.6	20.1	12.4	8.8	14.0
2011 年結構比	6.8	13.9	9.8	8.5	24.7

- (A)供應商原料不充足 (B)供應商減少出貨量
(C)中國技術水平下降 (D)中國產業逐漸轉型。

16. 西元 2006 年出版的《沒有中國製造的一年》書中，作者決定一年內完全不要使用中國製造(Made in China)的產品，過程中有許多不方便，如：兒子的鞋子不能以台幣 300 元的價格買到，必須耗費許多力氣在網路上尋找，才能以 7 倍的價格買到「不是中國製造」的鞋子。請問

這本書所隱含的意義為何？(p32)

- (A)中國工資低廉，所生產的產品成本低
(B)中國購買力強大，使產品價格上揚
(C)中國經濟力強大，導致外移人口多
(D)中國環保措施寬鬆，導致環境問題

17. 中國深圳從只是一個沒沒無聞的小漁村轉變為中國的一線都市，甚至成為中國最大的「無人機之都」的原因在於它是電腦電子配件產業群聚點、擁有高階人才、地理位置佳，無人機的發達也使生活更加便利，如 2020 年初新冠肺炎爆發之際，中國便利用無人機進行噴灑消毒，避免人員接觸的交叉感染。請問中國深圳位於那一個經濟圈？(p34) (A)環渤海經濟圈 (B)長三角經濟圈 (C)珠三角經濟圈

◎猜猜我是誰：請根據下列人物旁邊的描述，選出最適合的答案。

18.



我歷經幼年喪父、親族背叛，但在蒙古草原各部族的浴血爭戰中越戰越勇，於十三世紀初統一蒙古各部族，建立蒙古國，並與繼位者三次向西擴張，建立四大汗國。

請問上述的人物應為下列何人？

- (A) 岳飛 (B) 忽必烈 (C) 朱熹 (D) 鐵木真。(p90)

19.



我來自神聖羅馬帝國的科隆，擔任天主教耶穌會的傳教士，於明朝後期來到中國。我為了順利傳教，允許中國教徒祭祖祀孔，並將西方科學知識與技術，如曆法、幾何學介紹到中國來。

請問上述的人物應為下列何人？

- (A) 利瑪竇 (B) 徐光啟 (C) 馬偕 (D) 馬雅各。(p102)

20.



我是南宋的知識分子，曾在廬山白鹿洞書院講學授徒，並同時整理文獻，集宋代理學之大成。並著有「四書集注」，後來在元代成為科舉考試的標準本。

請問上述的人物應為下列何人？

- (A) 岳飛 (B) 忽必烈 (C) 朱熹 (D) 鐵木真。(p93)

21. 陳阿錡在家裡看大陸歷史連續劇時，看到劇情演出北宋一場對抗外族的戰爭中，皇帝登上前線城樓督戰，結果「諸軍皆呼萬歲，聲聞數十里，氣勢百倍」。最後交戰雙方達成停戰協議，北宋給予對方歲幣以換取和平。請問關於上述此場戰役的敘述，下列何者錯誤？(A)這場

戰爭交戰的雙方應是北宋與遼國 (B) 親自督戰的皇帝應是宋太祖 (C) 皇帝登上的門樓應位於當時的澶州 (D) 最後雙方簽訂的停戰協議為「澶淵之盟」。(p88)

22. 歷史老師上課時，抽點班上同學回答中國歷史上「永嘉之禍」和「靖康之禍」的異同點，以下是班上四位同學的回答：

◎林洋洋：「匈奴人引發永嘉之禍，契丹人引發靖康之禍。」

◎劉均均：「永嘉之禍發生在西晉時期，靖康之禍發生在北宋時期。」

◎陳樂樂：「永嘉之禍後原本的政權南遷建立南晉，靖康之禍後原本的政權南遷建立南宋。」

◎林佑佑：「二件事情都導致原本漢人政權的首都遭到攻陷，皇帝被俘虜。」

請問根據上面的回答，哪些同學的回答是**正確**的？(A) 林洋洋、劉均均 (B) 劉均均、林佑佑 (C) 林洋洋、陳樂樂 (D) 陳樂樂、林佑佑。(p81,89)

23. 宋朝將領岳飛曾有感於亡國之恨，寫下名作〈滿江紅〉：「靖康恥，猶未雪。臣子恨，何時滅！駕長車，踏破賀蘭山缺……待從頭、收拾舊山河，朝天闕。」文中提到岳飛想征伐，一雪亡國恥辱的對象應為下列何者？

(A) 契丹人 (B) 匈奴人 (C) 蒙古人 (D) 女真人。(p89)

24. 「馬可禾澤是義大利的商人，他從歐洲來到元朝時期的中國通商貿易，他到達當時元朝的首都，並在當地看到人民普遍使用紙張來進行交易，這類紙張上蓋有政府官印，其價值等同金、銀等珍貴金屬；另外他也看到從元朝首都到全國各地，沿途都有招待所，提供旅人更換馬匹或休憩，讓旅行變得十分方便。」請問下列選項有關於上文的描述，哪一個是**正確**的？(A) 馬可禾澤所到達的元朝首都為「汴京」(B) 當時人民用來交易的紙張為元代貨幣「寶鈔」(C) 上文中提到的招待所為當時的「市舶司」(D) 馬可禾澤若依照當時的種族地位來劃分，他應被歸類為「南人」。(p90,91,92)

25. 下圖是中國某一朝代的疆域圖，疆域範圍包括 A~E，甲、乙、丙、丁代表當時社會各階層分布的主要地區。



而下面是有關於上圖的描述，請問哪一個選項是**錯誤**的？(A) 從圖中的疆域來判斷，這是元朝及四大汗國的疆域 (B) 圖中的 A、B、C、D 為蒙古西征後所建立的四大汗國 (C) 在這個朝代的朝廷之中，可以見到來自波斯、俄羅斯等地的官員 (D) 依照當時社會種族地位階層的劃分，「甲」地區屬於「漢人」。(p91)

26. 許小翔在閱讀歷史書籍時，看到英國哲學家培根曾說：

「宋元時期的三大科技成就，把事物的面貌都改變了，第一種是在學術方面、第二種是在戰爭方面、第三種是在航海方面。」請問培根所指的宋元三大科技成就，應是下列哪三項？(A) 造紙術、地動儀、渾天儀 (B) 理學、火炮、地圖 (C) 活字版印刷術、火藥、指南針 (D) 雕版印刷術、長槍、船艦。(p93)

27. 新北市立中正國中在校慶時舉辦園遊會，8 年 21 班的同學想要以美洲當地的美食當作販賣的招牌，請問在該班的攤位上最有可能發現下列哪一樣食物？

(A) 三星蔥抓餅 (B) 蝦仁番茄炒蛋 (C) 黃金番薯煎餅 (D) 豚骨拉麵。(p102)

28. 陳小佑在好讀週報上看到一題機智問答上面寫著：「請根據下面表格中的三個提示，寫出最合適的答案。」

提示一	殖民過菲律賓的馬尼拉
提示二	信仰天主教
提示三	以美洲的白銀來通商貿易
符合提示的答案	?

請問上面的答案欄中，應填入下列何者最為適當？

(A) 西班牙 (B) 葡萄牙 (C) 日本 (D) 荷蘭 (p100,101,103)

29. 用功的姜小邵在上完歷史課之後，針對明朝的歷史上課重點做了以下的表格如下：

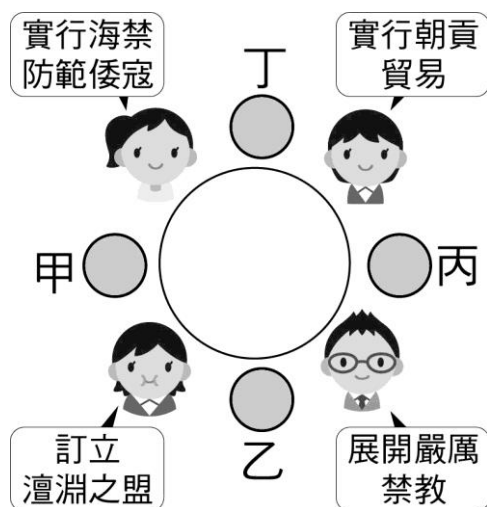
甲	明朝的建立者為 <u>趙匡胤</u>
乙	明朝為防範蒙古人，將首都遷到北京
丙	明朝為防範鄭氏政權，對沿海居民實施海禁政策
丁	明朝末年因為大饑荒而造成倭寇四處叛亂
戊	明代派遣 <u>鄭和</u> 率領船隊前往東南亞、印度洋地區宣揚國威

但粗心的他把一些重點給弄錯了，請問根據上面的表格內容，有哪幾點是**錯誤**的？(A) 甲丙丁 (B) 甲丁戊 (C) 乙丙丁 (D) 甲乙丙丁 (p98,99,100)





30. 孔小芳老師在上課時提到：「十三世紀中國的泉州港是當時世界上最繁榮的商港，當時外國商人紛紛渡海東來通商貿易，海上交通十分發達。其中來自「甲國」的商人掌握了印度洋、中國東南沿海的海上貿易。而他們來到中國後，大多居住在泉州城南的番坊，並且因信仰的關係，在當地建立清真寺來從事禮拜。另外當時政府在泉州也設立機構特別處理外國人出入境、對外貿易和徵稅等事宜，更使得宋元商業貿易更加蓬勃發展。」請問下列有關於上面的描述，何者**錯誤**？(A) 甲國商人指的是阿拉伯商人 (B) 甲國商人所信仰的宗教為基督教 (C) 甲國商人也將指南針帶往歐洲，有助於日後新航路的發現 (D) 當時中國政府在泉州所設立的機構為市舶司 (p92,93)

31. 以下是一段關於西元 16 世紀中國的歷史：「甲國家作為中國忠實的藩屬國，面對外來侵略者的力量，選擇效忠於中國乙朝。所以當遠在海外的丙國家，想要對甲國家進行侵略，於是在甲國與中國乙朝的合作下，兩度驅逐丙國家的入侵。」請問上文中的甲、乙、丙各自指的是什麼？(A) 甲：朝鮮、乙：明朝、丙：日本 (B) 甲：日本、乙：明朝、丙：朝鮮 (C) 甲：越南、乙：明朝、丙：朝鮮 (D) 甲：日本、乙：清朝、丙：荷蘭。(p99)

32. 明朝政府的對外活動，僅限於各國使節的來華朝貢。請問下列敘述何者**錯誤**？ (A) 各國須接受明朝的冊封，才能與明朝通商 (B) 榜葛刺國曾對明朝兩度進行朝貢長頸鹿 (C) 「朝貢」是明朝將與之貿易者視為平等往來的國家 (D) 「朝貢貿易」反映明朝天朝上國的心態。(p99)
33. 邱阿紘在假日時參加了一場中正國中歷史漫畫讀書會，此次主題為討論中國歷代皇帝的政策與作為。同桌有4個同學分別談論了不同朝代的帝王事蹟，聊天內容與座位如下圖所示。而邱阿紘兩旁的同學分別討論了中國清朝皇帝的政策，根據圖中內容來判斷，邱阿紘的座位最有可能位於圖中何處？ (p88,99,100,103)



- (A)甲 (B)乙 (C)丙 (D)丁。
34. 李阿豪看到一本旅遊書上寫著：「日本的『出島荷蘭商館跡』是國家指定史蹟，在鎖國時代的200年間是日本唯一對西洋開放的貿易通商口岸，政府致力於恢復其當年的原貌。但自明治時期起，出島因填海造陸的工程，逐漸改變其模樣，如今已看不出其原始風貌了。」請問出島應位於日本的何處？ (A)馬關 (B)東京 (C)廣島 (D)長崎。(p103)
35. 下列哪位候選人所提出的政見，已經超越了地方行政首長的職權？(p151-153)
(A)王大明 (B)朱楚喬 (C)陳芊芊 (D)韓大燦

王大明  與其他縣市共同修建捷運運輸網	朱楚喬  興建公有停車場以增加地方的財政收入
陳芊芊  修改地方法規，強制徵收天燈永續發展費	韓大燦  致力於本縣文化資產的保存，並推動鄉土教育

36. 平和里社區巷道常發生車禍，居民向地方行政機關提出請求，希望在路口設置閃黃燈或其他交通標誌，減少事故發生。請問：依據題目的敘述，平和里的居民是以哪一種方式來表達意見？ (A)投書媒體 (B)陳情 (C)選舉投票 (D)示威遊行 (p162)

37. 有關政府對於新冠肺炎疫情的振興方案，工商協會理事長表示，紓困方案當然是發現金最好，對經濟最有幫助，但是要排富；在野黨也建議「紓困、排富、發現金」；網友大都表示，發現金最有感，也最實在。經由媒體報導與彙整上述各方建議，形成民意，以提供政府施政的參考。上述畫底線的內容，最可能是公共意見形成的哪個階段？ (A)公開表達吸引關注 (B)反覆的對話與討論 (C)少數人間的討論 (D)匯集成為公共意見(p160)
38. 媒體評論：「這次地方選舉，執政黨的慘敗很難被歸咎於單一原因，可以說是一連串錯誤政策和各種背離民意的施政，所造成的最終結果。」下列何者可作為上述內容的最佳解讀？ (A) 人民應積極參與選舉是現代公民應盡的基本義務 (B)政府施政須以公共意見為基礎，否則會面臨執政正當性的危機 (C)此乃保證人民基本自由的權利 (D)媒體在公共意見彙整與傳達扮演重要的功能 (p158)
39. 台北市的人行道及腳踏車道擴寬計劃，以「健康節能省碳城市」的概念出發，希望營造友善行人及腳踏車行駛安全的環境。請問：有關監督此計畫的實施及成效屬於下列哪一機關的職權？ (A)台北市政府 (B)台北市議會 (C)台北市民代表會 (D)台北市大安區區長 (p152)
40. 台東市因連日豪雨部分道路坍方，相關單位馬上進行搶修，以免造成更大的傷害。下列有關「修建道路」的工作敘述，何者正確？ (A)屬於地方社會服務工作 (B)由台東市市議會通過修建道路工作的預算 (C)由台東市公所負責執行修建道路的工作 (D)若該道路坍方造成傷亡不會成為台東市市民代表會質詢的議題 (p150-152)
41. 每逢年底在台灣的台北市、新北市、台中市等地皆有跨年晚會，但從去年初爆發的新冠肺炎至今仍未有證實有效的疫苗出現，我國中央流行疫情指揮中心陳時中表示：「跨年時是冬天，尊重各縣市的規劃，沒有特別強制要不要辦或辦的方式。」以下有關的敘述，何者正確？ (A)中央政府與地方政府間的權限發生爭議時，依據《憲法》規定交由行政院解決 (B)依事務的性質判斷，辦理跨年活動的權限屬於地方政府 (C)依事務的性質判斷，辦理跨年活動的權限屬於中央政府 (D)有關是否停辦跨年活動的問題已在網路上呈現正反意見的激烈討論，顯示出公共意見的影響性 (p150,159)
42. 下表為某地方政府網站上的資料，請根據資料內容判斷，下列何者的說法最為適當？ (A)小芸：地方事務分層負責，有助民眾的參與 (B)阿明：跨地方政府的合作，解決各項問題 (C)小靜：自治事項分類服務，民眾依其所需使用政府的各項服務 (D)小玲：安全衛生為該地方政府的施政重心 (p150-151)

環境保護	社會關懷
想了解本市各地垃圾車清運路線及出發時間，可點閱「環境保護局」網頁。	針對公益彩券經銷商資格遴選，由「社會局」進行公告。
休閒育樂	購屋居住
街頭藝人欲申請相關演出許可，可洽詢本市「文化局」。	「都市發展局」網站已公告都市更新相關法規可供民眾查詢。

43. 桃園市復興區「合流部落」曾遭颱風重創，災後桃園市政府擬定援建計畫，由慈濟基金會協助災民興建永久屋，為受災鄉親打造舒適的家。下列相關敘述，何者正確？(A)桃園市與嘉義市為同一層級的地方政府 (B)臺中市霧峰區是山地原住民區 (C)復興區的行政機關為鄉公所 (D)復興區為直轄市山地原住民區 (p152)
44. 下圖為杰倫所整理的有關地方政府層級及架構的報告摘錄。根據內容判斷，其中哪一項敘述是正確的？(p152)
(A)甲 (B)乙 (C)丙 (D)丁

- 甲、臺中市升格後，與彰化市同屬於直轄市
- 乙、直轄市的政策推動，須經過省主席的同意
- 丙、直轄市市長是由行政院院長提請總統任命
- 丁、民國 86 年省虛級化後，省長及省議員改制為省主席及省諮議員

45. 下列有關地方自治的原則及規定，請選出以下正確的組別？(甲)有關我國地方自治事項明確規定在《地方制度法》中 (乙)自己選舉自治官員 (丙)不受中央政府的監督 (丁)自己管理該地區的公共事務 (戊)自己制定地方法規 (A)甲乙丙丁 (B)甲乙丙戊 (C)甲乙丁戊 (D)甲乙丙丁戊 (p150)

46. 下表是方瑀觀察某法案在國會審議過程中，議員在接受利益團體遊說的前後，對於法案態度產生的變化。請根據內容判斷，最可能是方瑀觀察到的觀點？

調查時間	遊行遊說前	進行遊說後
支持法案的議員比例	15%	70%
反對法案的議員比例	5%	25%
未表態的議員比例	80%	5%

- (A) 遊說對議員的決定沒有影響力 (B) 利益團體喚起民眾關注公共議題 (C) 利益團體影響政策制定 (D) 透過利益團體遊說是民眾直接表達意見的方式 (p161-162)
47. 妮妮以下圖的方式表達個人對這個議案的立場。這是以何種方式向政府表達對公共事務的意見？ (A) 公民投票 (B) 選舉投票 (C) 參加遊行 (D) 民意調查 (p161)

通 過 權		
	同 意	不 同 意
同 意 不 同 意 權	16	
編 號 權	<p>您是否同意：廢除 電業法第95條第1 項，即廢除「核能 發電設備應於中華 民國一百十四年以 前，全部停止運轉」 之條文？</p>	
主 文		
備 欄		

48. 許多公民團體聯合舉行反空汙遊行，遊行主要訴求包括自由呼吸，呼吸自由；平等呼吸，健康平等；無煤臺灣，永續健康等，並請政府不要逃避責任並積極改善火力發電造成的汙染。下列何者是此遊行的目的？ (A) 公開表達意見與傳播民意，監督政府做好環境保護 (B) 公民團體以民間力量，自行解決空汙問題 (C) 人民採取

間接方式抗議政府，作為公共事務的意見表達 (D) 政府主動探知多數民意，以之作為決策依據 (p160-161)

49. 臺北市政府為落實「開放政府，主權在民」的理念，推出 i-Voting 網路投票平臺，針對一些市政議題，在網路上讓市民進行投票。上述臺北市政府的目的是希望能制訂符合多數民眾意見的政策，以顯示民意的哪一項特性？ (A)議題性 (B)變動性 (C)複雜性 (D)影響性 (p159)
50. 下列有關政黨與利益團體的比較，何項敘述正確？ (p162-163)

	政黨	利益團體
(A)目的	取得執政權	取得組織政府的機會
(B)方式	推薦候選人參選	參與選舉，希望獲得執政機會
(C)面對選舉的態度	設立服務處，希望獲得多數民眾支持	支持理念相同的候選人參選
(D)舉例	台灣拒菸聯盟	台灣民眾黨