

【讀卡科目請依規定畫卡，若有違反畫卡規定而影響讀卡作業之情事，一律扣總分五分。】

【手寫答案卷需確實寫上班級、座號、姓名，違者一律扣總分五分。】

【手寫答案卷需用藍色或黑色墨水筆書寫，違者一律扣總分五分，使用鉛筆書寫扣五分。】

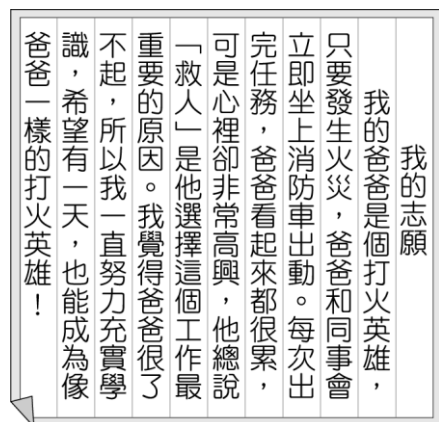
## 一、 選擇題

1. 附圖為阿權與小祥的聊天內容，從他們對話中，可看出小祥的家庭發揮哪一項功能？(第1章)



- (A) 保護與照顧功能 (B) 教育功能  
(C) 生育功能 (D) 經濟功能。

2. 附圖是佑佑在國文課堂上寫的一篇作文，由內容來看，該篇作文所要表達的概念，最符合哪項敘述？(第1章)



- (A) 個人價值觀受家庭成員影響很深 (B) 家庭生活依賴成員經濟收入維持 (C) 家庭教育功能已由傳播媒體取代 (D) 社會變遷讓家庭種類產生變化。

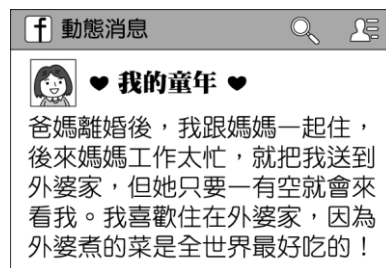
3. 冬冬剛出生就被父母親棄養，是在社工師和安置機構的幫助下才順利長大，而依我國(甲)法，子女如有被父母遺棄的狀況，可向(乙)請求免除或減輕對父母的扶養義務。上文(甲)、(乙)依序應填入何者？ (A)《刑法》、法院 (B)《憲法》、警察局 (C)《民法》、法院 (D)《性別工作平等法》、警察局。(第1章)

4. 719 班班上分組討論各種家庭型態，安安的分組別要以戲劇的方式介紹折衷家庭。請問：附表中安安應扮演哪一角色，才符合「折衷家庭」的設定？(第1章)

演員	角色
慧尼	媽媽
阿德	爸爸
成成	兒子
安安	？

- (A) 叔叔 (B) 兒子 (C) 表妹 (D) 祖父。

5. 阿偉在臉書分享自己的童年故事（如附圖），文章中他提到所經歷的家庭型態變化過程，應為下列何者？(第1章)



- (A) 雙薪家庭→兩地家庭  
(B) 單親家庭→頂客家庭  
(C) 單親家庭→隔代教養家庭  
(D) 跨國婚姻家庭→新住民家庭。

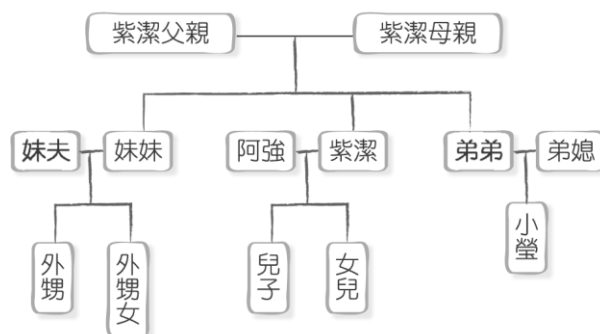
6. 根據附圖中的對話，下列關於民法中親屬關係的說明，何者「正確」？(第1章)



- (A) 陳先生和陳太太之間屬於姻親  
(B) 陳太太和瑋瑋的親屬關係是因血緣而產生的  
(C) 陳太太和瑋瑋的親屬關係是直系血親  
(D) 陳先生和瑋瑋之間屬於擬制血親。

7. 小威家中住有爸爸、媽媽與表哥，可知小威家有哪些親屬關係？(甲)直系血親(乙)配偶(丙)姻親(丁)旁系血親 (A)甲乙丙 (B)甲丙丁 (C)乙丙丁 (D)甲乙丁。(第1章)

8. 根據附圖的家系圖判斷，對阿強而言，小瑩是何種親屬關係？(第1章)



- (A) 血親的配偶的血親 (B) 血親的配偶  
(C) 配偶的血親 (D) 配偶的血親的配偶。

9. 新婚的稟澤和品蓁，預計明年會為家中增添一個小寶寶，婚後他倆與稟澤的大哥、大嫂、公婆住一起。下列相關敘述，何者「正確」？  
(甲)稟澤和品蓁互為配偶(乙)品蓁與大哥配偶互為妯娌(丙)他們目前組成的家庭型態為三代家庭(丁)品蓁和稟澤的父母是姻親 (A)甲乙丙 (B)甲乙丁 (C)甲丙丁 (D)乙丙丁。(第1-2章)

尚有題目，請繼續作答

10. 公民課時，愛兒正在進行一項課堂報告，如下所示，根據受訪者回答的內容判斷，她所探討的主題應是現代家庭面臨的哪一項問題？(第 2 章)

訪談內容

受訪者一：「太晚結婚加上年紀大了，一直無法順利懷孕。」

受訪者二：「我和老公薪水都不高，養不起小孩。」

受訪者三：「我們很享受夫妻兩人的獨處時光，所以決定不生小孩，當個頂客族。」

- (A) 少子化問題 (B) 人口老化問題  
(C) 家庭暴力問題 (D) 隔代教養問題。
11. 中正國中幾位學生放學後聚在一起談論夢想中的婚姻生活，下列何人的想法最符合「性別平權」的概念？(第 2 章)

- (A) 老公要聽我的話，這樣我們才不會吵架。  
(B) 小孩要生兩個，而且要跟我姓。  
(C) 我希望能和另一半在同一間公司上班，並一起分擔家事。  
(D) 以後我負責賺錢，老婆負責做家事和顧小孩。

12. 以下是阿傑在微信的留言，希望網友給點建議，其中何人的回覆對阿傑的問題比較有正面的助益？

心得分享

最近和父母老是吵架，請問大家可否給我一點建議？

- (A) 小慈：其實適當的言語暴力有助於解決爭執  
(B) 小蜂：要先冷靜下來，先離開一下現場，管理情緒很重要  
(C) 小芳：溝通的時候要很大聲說話，才能用氣勢壓過對方  
(D) 小湘：必要時和對方打架，讓對方知道你絕對不會妥協。(第 2 章)
13. 敏倫在臉書求助網友自己遇到的家庭問題，希望能找到適當的處理方式，附圖中哪一位網友的建議較具有「平權家庭」的精神？(第 2 章)



- (A) 齊隆 (B) 國羽 (C) 淳彥 (D) 海敦。

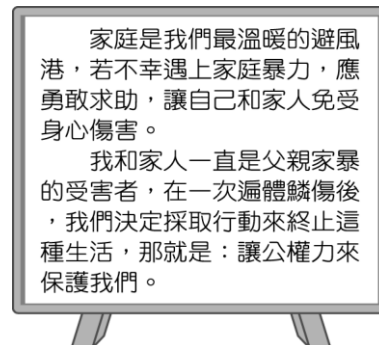
14. 政府推動家庭平權除了可打破過去「法不入家門」的觀念外，也積極宣導家庭暴力事件並非私領域。根據《家庭暴力防治法》的內容規定，下列何者提到的狀況可以聲請保護令？(第 2 章)

- (A) 樓上鄰居因停車問題把我推倒在地。  
(B) 我妹妹的手臂上都是媽媽用藤條抽打的傷痕。  
(C) 隔壁班同學經常對我拳打腳踢。  
(D) 老師對我的處罰已經影響我的受教權。

15. 小沛對於丈夫阿泰的薪水很不滿意，覺得自己嫁給他太委屈，所以常常用言語對泰達冷嘲熱諷，甚至動不動就毆打他，讓阿泰在過度的精神壓力下得了憂鬱症。關於上述情形的說明，下列何者「正確」？

- (A) 阿泰應該忍耐，因為報警可能會更傷感情  
(B) 因兩人為配偶，法律無法干涉  
(C) 阿泰可向警察局聲請保護令  
(D) 言語暴力也是家庭暴力的一種。(第 2 章)

16. 附圖是一名讀者小齊在報紙上分享自身經驗的故事，根據內容，下列何者比較有可能是他採取的行動之一？



- (A) 向法院聲請保護令  
(B) 向法院聲請斷絕親子關係  
(C) 請求勞工局限制父親的工作權  
(D) 向戶政事務所聲請保護令。(第 2 章)

17. 在荷蘭、西班牙、鄭氏來臺前，原住民與海商已有貿易往來，但未對其生活與宗教信仰造成太大的衝擊。請問：在其他勢力占領臺灣前，原住民的生活應呈現何種風貌，下列敘述何者正確？

- (A) 種植水稻、蕃薯  
(B) 以漁獵、游耕維生  
(C) 原住民大量外銷鹿皮至中國  
(D) 田野間追捕野狼 (課本 p.108)

18. 承上題，請問當時原住民的農業風貌應該具有下列哪種特色？(A) 以動物糞便來施肥 (B) 在固定地點長期耕作 (C) 使用動物進行整地 (D) 以焚林方式維持地力 (課本 p.108)

尚有題目，請繼續作答

題組一：閱讀本文並回答第 19、20 題

1626 年總督派出 2 艘槳帆船，12 艘中式帆船（又稱戎克船），搭載士兵 300 名在 5 月 4 日穿越巴士海峽在 7 日抵達臺灣南端，經過臺灣的花東和宜蘭海岸順黑潮往北前進。

北上的沿途，他們將蘇澳命名為聖老楞佐（San Lorenzo），蘭陽海灣命名為聖加大利納灣（Santa Catalina），在 5 月 10 日到達三貂角，船隊在這兒首度見到有人煙的村落，將這兒命名為 Santiago，後來轉化為我們今天所稱的「三貂角」。由於這個地方的海域太過狹隘停泊不易，所以決定留下 12 艘中式帆船在這兒休息，派船上的馬丁略神父和主駕駛率領兩艘槳帆船先行北上偵查。兩船離開三貂角之後，首先會經過一個明顯的地標，將它命名為猴角（Punta de Monos），也就是今天的鼻頭角。

馬丁略神父率領的兩艘槳帆船在經過大約半天的時間，通過今日和平島北方的海蝕地形海岸，最後發現一個較為寬敞適合停泊的港口，西班牙人將它命名為 Santísima Trinidad，中文可以翻譯成「聖三位一體」，也就是今天的和平島。它不僅指島嶼，也包括港口，但不久後這個名稱就消失了，取而代之的是「聖薩爾瓦多」（San Salvador），它不僅指城堡，也指港口，甚至包括整個雞籠地區。「聖薩爾瓦多」意思是「聖救主」的意思。馬丁略神父隨即通知其他船隻跟隨進港，12 日登陸宣布佔領。

19. 請問馬丁略神父最可能是為哪一個宗教服務？(A)佛教 (B)伊斯蘭教(C)天主教(D)基督教（課本 p.110）

20. 承上題，請問這些人來到臺灣最主要目的為何？(A)扶植原住民建國(B)就近與鄰國貿易(C)統治臺灣原住民族 (D)傳播宗教福音（課本 p.110）

21. 臺灣在 17 世紀時有一個原住民部落聯盟，他們勢力範圍主要在今日的臺中市、彰化縣和南投縣一帶。在荷蘭統治臺灣的末期，他們仍保有半獨立狀態，到了明鄭時代，因負隅頑抗而受到征伐。在清朝統治時期因不堪勞役繁重，於雍正年間起而抗官，並圍攻彰化縣城，最終被清廷平復。此族裔歷經此役，勢力已完全衰退，再也無法抵擋清朝政權及漢人的移殖，最後各社族人遠走埔里及宜蘭等地。請問：上文中提到的聯盟，其共主應該是下列何者？(A)新港王 (B)大甲王 (C)大肚王 (D)臺中王（課本 p.108、111）

22. 1648 年來臺的荷蘭土地測量師 Caspar Schmalkalden，他親眼目睹在赤崁的公司大庭園舉辦的地方會議（Landdag）：「一百多位各村社長老，在長桌並排而坐；臺灣長官、評議會議員、書記坐在前方的亭子裡，後方有一列士兵手持火繩槍、長戟，圍成半圓形護衛著。地方會議的年度重頭戲，是長官逐一點名接見各社長老

，宣讀年度考評，多數長老獲得肯定、續任；少數長老因怠職而遭撤換，改任新人，並授予權杖；不論續任、新任，長官會口頭嘉勉或訓誡，如無例外，都會賞給棉布、菸草。之後，照例宣讀公司的重要規定、長老職責、權杖意涵等等。」上文描述荷蘭人在統治臺灣原住民時會以「地方會議」的方式進行管理。請問：在這場會議中荷蘭人和原住民的互動方式，下列敘述何者**正確**？(A)部落長老與荷蘭官員地位平等(B)部落長老實際上並無管理部落的權利(C)荷蘭為了管理方便採用直接統治 (D)部落長老會被荷蘭授予象徵權威的權杖（課本 p.109）

23. 清朝「渡臺禁令」嚴格限制漢人來臺的條件，請問以下有關渡臺禁令的敘述何者**正確**？(A)頒布原因是鄭經正積極建設臺灣，清朝欲斷鄭氏的貿易管道 (B)清朝體諒臺灣原住民的處境，把關入臺人士保障安全 (C)此規定是鼓勵移民提高自己實力，通過條件來臺發展(D)此規定要求不得攜帶家眷，只能單身來臺。（課本 p.115）

24. 2018 年文化部文化資產局發布臺灣首屆世界記憶國家名錄的 9 項文獻資產，其中獲選的其中有「OO 文書」，其主要包括 18-19 世紀初南部平埔族群原漢土地交易契約文書、原住民內部教育「習字帖」及購物清單，以漢語、羅馬拼音文字並列為基本形式，並與平埔族 OO 社關係密切。這些文獻內容反映原漢土地交易紀錄及 OO 社人的適應策略，並顯示貨幣、市場觀念已深入社民的日常生活，記錄下 17 世紀末到 19 世紀初的生活型態與社會轉變的歷程，讓我們有機會從臺灣原住民觀點出發，觀察臺灣早期文化歷史記憶系統。請問關於上文描述的獲獎文獻，下列敘述何者**錯誤**？(A)此類文字用在原住民與漢人的交易紀錄，因此被稱為番仔契(B)此類土地契約簽訂，只要雇用翻譯核對雙語內容無誤即可，不必以圖標示土地位置(C)這份文書的文字系統是臺灣的原住民進入到歷史時代的開端(D)這套文字系統的出現與西方傳教士有密切相關（課本 p.110）

25. 小豪與班上同學正在準備歷史舞台劇，為了符合歷史情境，他們參考了史書內容，紀錄了幾個希望還原的歷史場景，以下是他們的劇本內容的一部份：

時間地點：17 世紀的臺灣南部

場景一：來自某國的人登陸臺灣南部遇到原住民

場景二：某國人設立教堂與學校

場景三：學校副校長用「原住民語言」講授教義以及外國語課程

場景四：學生輪流擔任祈禱者輪讀聖經

根據劇本內容，請回答當時臺灣原住民與西方人相處情況，下列敘述何者**錯誤**？

(A)用「原住民語言」講授教義，教義是指天主教的教義 (B)禱告者輪讀聖經，聖經內容是用羅馬字拼寫而成 (C)教授外國語是指荷蘭語 (D)上述提及的「原住民語言」是指西拉雅族語（課本 p.110）

26. 有關清朝初期的「劃界封山」，以下選項敘述何者**錯誤**？(A)是避免原漢衝突所設置的界線(B)為了保護原住民的傳統文化而設置(C)此防臺而治臺的政策內容(D)防止漢番勾結作亂（課本 p.115）
27. 「有唐山公，無唐山媽」這句話是在說明清代生活在臺灣的男性要結婚不容易，請問這句俗諺反映出清領前期臺灣社會的何種現象？(A) 漢原衝突(B) 吏治不良(C) 男女比例失衡 (D) 族群複雜（課本 p.115）
28. 小華在網路論壇上看到一段文章寫道：「中國大陸史學界對施琅有頗多研究，評價也很兩極。過去將他定位為背叛明朝，投降滿清的漢奸；之後為了宣揚『兩岸一家親』，則肯定施琅建議將臺灣納入版圖的事蹟，稱其功業有助於完成兩岸的統一。」請問：上述所提到施琅的功業，他應是在哪位皇帝在位期間所發生的事？(A)光緒皇帝 (B)康熙皇帝 (C) 雍正皇帝 (D)乾隆皇帝（課本 p.114）
29. 臺灣行政區經過數次的變革，請看圖(一)到圖(二)的演變，可知當時清政府基於管理需求增置許多行政區域，請問下列哪個人跟這些行政區的演變**無關**？(A)吳沙(B)郭懷一(C)朱一貴(D)以上皆非（課本 p.116）



▲圖(一)



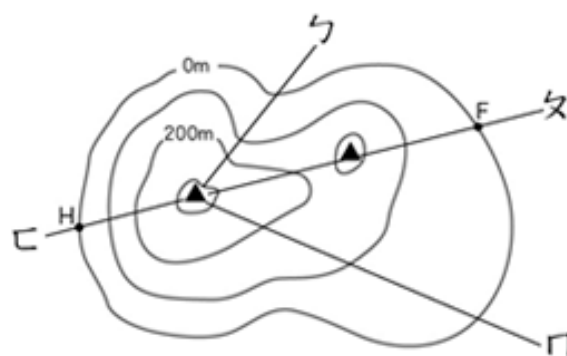
▲圖(二)

**題組二：閱讀本文並回答第 30、31 題**

清同治末年，清朝與日本簽訂了一份專約，內容記載如下：「為會議條款互立辦法文據事：照得各國人民有應保證不致受害之處，應由各國自行設法保全，如在何國有事，應由何國自行查辦。茲以台灣生番曾將日本國屬民等妄為加害，日本國本意為該番是問，遂遣兵往彼，向該生番等詰責。今與中國議明退兵並善後辦法，開列三條於後：

- 一、日本國此次所辦，原為保民義舉起見，中國不指以為不是。
- 二、前次所有遇害難民之家，中國定給撫恤銀兩，日本所有在該處修道、建房等件，中國願留自用，先行議定籌補銀兩，別有議辦之據。
- 三、所有此事兩國一切來往公文，彼此撤回註銷，永為罷論。至於該處生番，中國自宜設法妥為約束，以期永保航客不能再受兇害。」

30. 請問清朝與日本簽訂專約後，對臺灣有何影響？(A)臺灣因而改建為省 (B)臺灣自此成為日本屬地 (C)清朝展開理蕃政策 (D)清朝開始積極建設臺灣（課本 p.117-119）
31. 請問此次專約簽訂後，清朝派誰來處理臺灣事務？(A) 劉銘傳 (B)沈有容(C)沈葆楨(D)林爽文（課本 p.117）
32. 保存古蹟可以深化連結土地與人民的歷史傳承，古蹟能引領後人回到歷史現場，去感受當時的重大變遷或現象。請問高雄的「旗後砲臺」與臺南的「億載金城」這兩處國定古蹟的出現，反映當時的臺灣有何迫切的需要？(A)拓墾丘陵山地 (B)對抗反清勢力(C)招撫山區生番 (D)防止列強入侵（課本 p.118-119）
33. 位於基隆的「獅球嶺隧道」是臺灣最早的鐵路隧道，隧道口有主持鐵路興建的清朝官員所題之「曠宇天開」四字。請問主持興建這條鐵路的人為何來到臺灣？(A)牡丹社事件(B)朱一貴事件(C)清法戰爭(D)清日戰爭（課本 p.117-119）
- 34.下列對台灣地形特徵哪項敘述**正確**？(L3)  
(A)臺灣由歐亞板塊和印澳板塊擠壓所形成  
(B)台灣的人口多集中在平原跟盆地  
(C)玉山為台灣的脊梁山脈，貫穿台灣全島  
(D)台灣地形起伏小，以平原為主要地形。
- 35.下列有關各種地形的特徵，何者**錯誤**？(L3)  
(A)平原是平坦且開闊的地形  
(B)高原是頂部較平且高度低於 1000 公尺  
(C)山地是高差大且高度高於 1000 公尺  
(D)丘陵是連續起伏的小山丘。
36. 有關下圖的敘述何者**錯誤**？(L3)

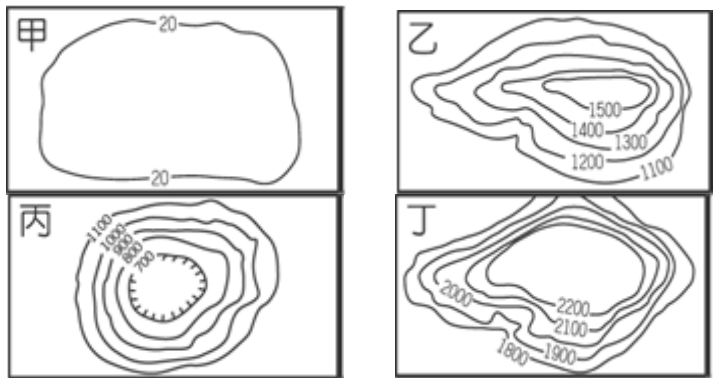


- (A) ㄅ路線位於河谷  
(B) F 點和 H 點海拔高度皆為 0m  
(C) ㄘ路線比 ㄗ路線陡峭  
(D) 此圖的等高線高度間距為 200m
- 37.台灣之所以有這麼高的地勢，主要是來自於下列的那一股力量？(L3)  
(A)內營力－板塊運動  
(B)外營力－侵蝕作用  
(C)內營力－火山運動  
(D)外營力－崩塌作用。



38.台灣最多ㄅ地形、看不到ㄅ地形，若依等高線圖來表示，ㄅ及ㄅ分別是下圖中的哪張圖？(L3)

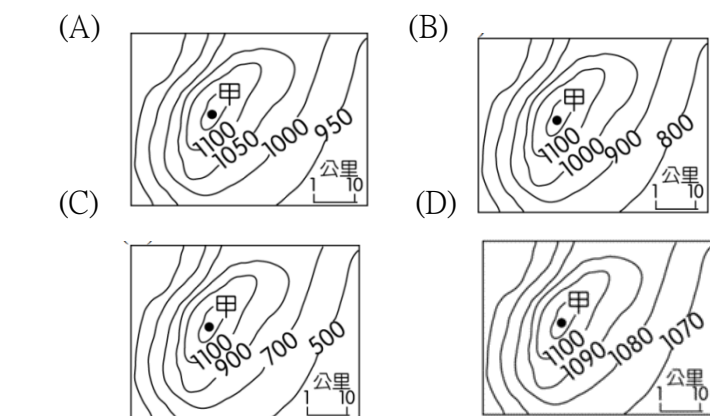
- (A)ㄅ為甲圖、ㄅ為乙圖  
(B)ㄅ為乙圖、ㄅ為丁圖  
(C)ㄅ為丙圖、ㄅ為丁圖  
(D)ㄅ為丁圖、ㄅ為甲圖。



39. 某地理實察解說如下：「該地區早期為河川沖積形成，而後受到板塊運動作用而使地層抬升，最後兩側出現河川侵蝕作用，而形成現在的地形。」上述考察地點應該為下列哪一地形區？(L3)

- (A)林口台地 (B)埔里盆地  
(C)雪山山脈 (D)嘉南平原。

40. 下列為四個不同等高線地形圖，何者的「甲」點海拔高度可能最高？(L3)



41. 臺灣四面環海附近海域的離島約有 88 個，成因各不相同，哪一組島嶼的成因性質相同？(L4)

- (A)蘭嶼、太平島  
(B)綠島、龜山島  
(C)東沙島、澎湖群島  
(D)琉球嶼、釣魚臺。

42. 下表是上地理課時所做的沙岸、岩岸之比較表格，下列何者有錯誤？(L4)

	甲	乙	丙	丁
	海岸平原	海岸線	海水深度	主要地形
沙岸	狹窄	平直	淺	沙洲 潟湖
岩岸	寬廣	曲折	深	岬角 灣澳

- (A)甲 (B)乙 (C)丙 (D)丁。
43. 若僅依經緯度來判斷，何處最可能出現珊瑚礁島？(L4)
- (A)100°W、40°S (B)120°E、15°N  
(C)5°W、60°N (D)15°E、70°S。

44. 清代著名的探險家郁永河在《裨海記遊》描寫「造化鍾奇構，崇岡湧沸泉怒雷翻地軸，毒霧撼崖顛」的景觀。

根據上文，他到哪一座國家公園可以看到硫磺噴氣孔景觀？(L3)

- (A)甲  
(B)乙  
(C)丙  
(D)丁。



45. 下表格為台灣各縣市養殖面積占比，請問表格中的XXX最可能是哪個縣市？(L4)

排序	虱目魚	吳郭魚	石斑魚	牡蠣
1	XXX 51%	桃園市 31%	屏東縣 33%	雲林縣 36%
2	嘉義縣 24%	XXX 29%	XXX 32%	嘉義縣 31%
3	高雄市 23%	嘉義縣 22%	高雄市 28%	XXX 26%

- (A)新北市 (B)花蓮縣 (C)台南市 (D)澎湖縣。
46. 東沙島和太平島為臺灣在南海發展的重要基地，是因為這些小島具有何種價值？(L4)
- (A)可發展大規模農牧業  
(B)可興建軍事及商業港口  
(C)可進行海水淡化工程  
(D)可延伸經濟海域範圍。

◎題組一：右圖為台灣五大山脈分布圖

47. 交通部表示高鐵由台北南港延伸到宜蘭計劃初步評估可行，但各界有不同的看法。高鐵對宜蘭生態與環境的衝擊難評估，因為必須鑽山洞穿過\*山脈，路線也會經過翡翠水庫集水區，可能影響雙北 6 百萬人的飲水，必須經過詳細評估再作決定。文中\*指的是哪一山脈？(L3)

- (A)A (B)B (C)C (D)D (E)E。
48. 阿里山林業鐵路從民國 98 年因天災受損中斷至今，在各方努力重建下，最後路段 42 號隧道剩餘 108 公尺，將於今年 12 月貫通，預計明年底通車。文中所提到的鐵路位於圖中的哪一座山脈？(L3)

- (A)A (B)B (C)C (D)D (E)E。

◎題組二

49. 「此公路全長 388 公里，沿路可看太平洋海景與峭壁山色，為世界著名的景觀公路，但地震發生非常頻繁，邊坡土石極易鬆動，在大雨或颱風過後更常會出現落石坍方等。」上述中的公路位於圖中哪段海岸？

- (A)甲 (B)乙 (C)丙 (D)丁。(L4)
50. 關於乙地區的海岸敘述何者錯誤？(L4)
- (A)多因外營力而形成 (B)台江國家公園的所在  
(C)適合興建港口 (D)跟丁海岸同屬平直的海岸。

