

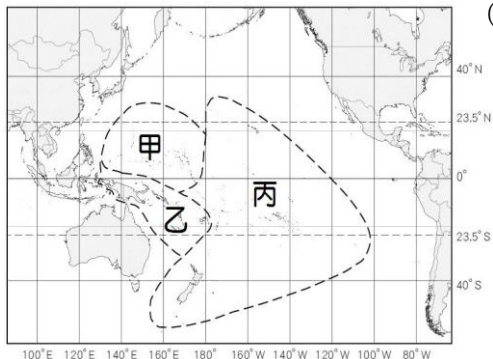
【讀卡科目請依規定畫卡，若有違反畫卡規定而影響讀卡作業之情事，一律扣總分五分。】

【手寫答案卷需確實寫上班級、座號、姓名，違者一律扣總分五分。】

【手寫答案卷需用藍色或黑色墨水筆書寫，違者一律扣總分五分，使用鉛筆書寫扣五分。】

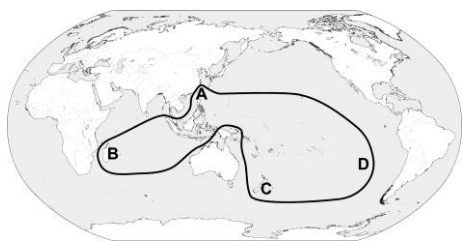
一、選擇題

1. 附圖為大洋洲各島群的分布圖。有一德國人航行至玻里尼西亞島群中的某小島後失蹤，疑似被當地食人族烤食，但遭小島居民駁斥，因為食人傳統早就廢除了。關於上述「玻里尼西亞島群」的位置，這個島嶼應位於圖中的哪一區？ (P52)



(A) 甲 (B) 乙 (C) 丙。

2. 在某次展覽中，海寶看到下面這幅圖。根據此圖，請給這幅圖一個圖名，下列何者最為適合？ (P50)



- (A)環太平洋火山分布圖
(B)南島語族分布圖
(C)亞太經濟合作會議會員分布圖
(D)大洋洲行政分布圖

3. 下列是世界氣候類型與其相應的氣候特徵，請找出正確配對？ (P56)

- (A) 熱帶莽原氣候---夏雨冬乾
(B) 溫帶地中型氣候---全年溫和有雨
(C) 溫帶海洋性氣候---終年高溫多雨
(D) 熱帶雨林氣候---受西風影響。

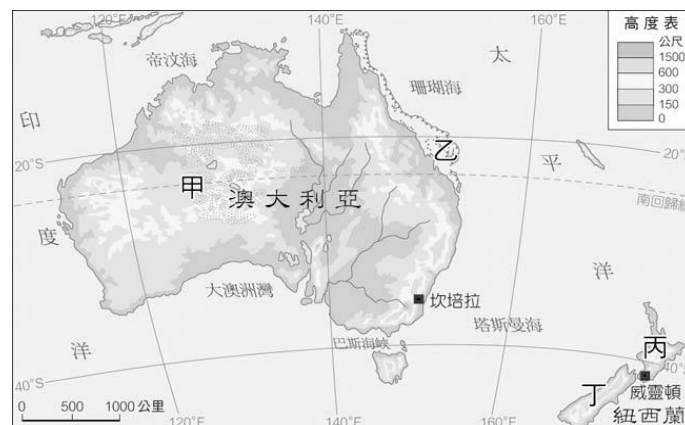
4. 鐵礦砂是煉製鋼鐵的必須原料，而鋼鐵是房屋建設、汽車、造船、機械等產業的根本。根據統計，目前全球主要的鐵礦出口國為澳洲及巴西，其中澳洲的鐵礦砂出口占全球的 56%，而巴西則約占 26%。澳洲礦產資源豐富，與下列哪一項自然條件最有關係？ (P64)

(A)位置孤立 (B)地質古老 (C)高原地形 (D)水源豐富。

5. 「不論在臺灣還是太平洋上斐濟、東加等地的原住民族，都有以構樹作為材料，製作成南島文化特有的樹皮布的傳統。」根據考古資料顯示，有學者認為臺東的都蘭灣是四、五千年前南島語族航出臺灣時期的文化核心。」請問：下列有關南島語族的敘述何者錯誤？

- (A)南島民族很有可能是從臺灣遷移出去
(B)臺灣是南島語族地理分布的最北端
(C)樹皮衣是南島物質文化的代表之一
(D)南島語族分布範圍僅限於太平洋地區。(P50.51)

※ 澳洲與紐西蘭的位置與氣候條件優越，自然景觀較為單純及獨特，因此觀光產業興盛，政府也積極地保護這些珍貴的資產。請參考簡圖，回答下列 6.7 題：



6. 美美為了最新一期的地理雜誌——「冰河主題」，寫下「屬於南阿爾卑斯山群的庫克山，海拔高度 3,724 公尺，這裡超過 3,000 公尺的高山有 20 座，還有 360 條冰河，最大的一條是塔斯曼冰河，由冰川切割出來的山峰、山巒，氣勢十分雄偉。」，美美是到圖中何處才獲取報導主題的素材？ (P54)

(A)甲 (B)乙 (C)丙 (D)丁。

7. 大堡礁是世界上最大、最長的珊瑚礁群，被列入世界自然遺產，之前公開徵求保育員，世界各地的人擠破頭應徵。大堡礁位於圖中的何處？ (P62)

(A)甲 (B)乙 (C)丙 (D)丁

8. 北極和南極以往是地球上最神祕，且居住人口最少的地方，現在隨著科學的探勘，人們逐漸了解這塊神祕的區域。下表關於南北極的比較，何者正確？ (P67.68)

	南 極	北 極
(A)	中心是南極大陸	中心是格陵蘭島
(B)	天氣寒冷，無動物居所	企鵝生態是當地的重要觀光景點
(C)	當地居民為毛利人	當地居民為因紐特人
(D)	擁有豐富的礦產，至今還未商業開採	是亞、美、歐來往的交通要地

9. 大洋洲三大島群中有許多島嶼，如大溪地、夏威夷、關島、帛琉等，其氣候溫暖宜人，海水清澈、風光明媚，是許多觀光客經常前往的度假勝地，大洋洲主要分布在下列哪一個海域？ (P52)

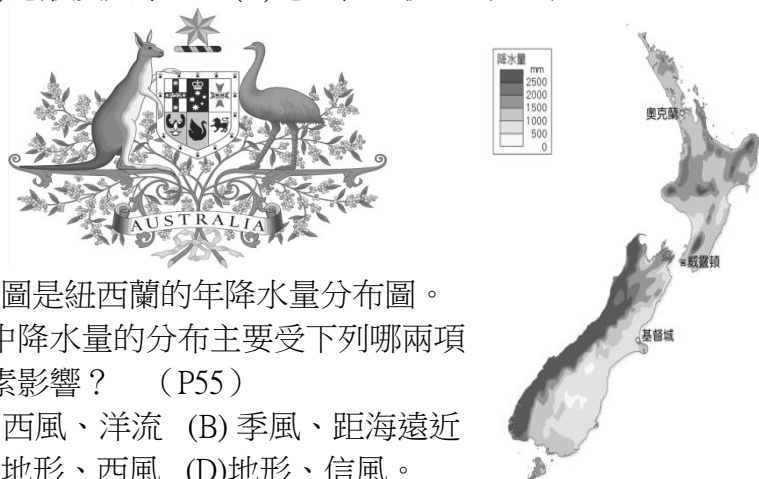
(A)太平洋 (B)印度洋 (C)大西洋 (D)北極海。

10. 圖為澳洲地區氣候類型分布圖。請問：下列哪個地區 降水季節不同於其他三區？ (P63)

(A)甲 (B)乙 (C)戊 (D)己



11. 下列旅行社關於「紐西蘭 5 日遊」的廣告詞，其中哪句話是錯誤的？（P54）
 (A)快來感受電影魔戒中的壯麗景觀以及哈比人的小屋，絕對讓你身歷其境
 (B)我們毛利人是非常會搞笑的民族，快來體驗一下毛利人的文化
 (C)感受一下逐水草而居的游牧生活，來體會餐風露宿的感覺
 (D)想泡溫泉嗎？想體會冰河的壯闊嗎？來這裡，一次讓你滿足。
12. 大洋洲的諸多島嶼，其地勢高低與面積大小各有不同，有些面積較小且低平，有些則面積較大且地勢較高。其中由珊瑚礁構成的「低島」因生活資源有限，通常不適合大量人口居住。上述「生活資源有限」是指？（P53）
 (A)人口密度高 (B)飲用的淡水不足
 (C)缺乏礦物資源 (D)居民多住在火山分布區。
13. 圖為某國家的國徽。該國挑選兩種只會前進、不會後退的特有生物，作為國家進步的象徵。而此國也是世界上無尾熊最多的地方。由於什麼原因，使得這裡有如此既稀少又獨特的物種？（A）地處熱帶 （B）環境汙染甚少 （C）地形廣大平坦 （D）地理位置孤立（P65）



14. 右圖是紐西蘭的年降水量分布圖。圖中降水量的分布主要受下列哪兩項因素影響？（P55）
 (A) 西風、洋流 (B) 季風、距海遠近
 (C) 地形、西風 (D) 地形、信風。
15. 紐西蘭出口許多乳酪、奶油、奶粉、羊毛等不易腐壞的產品，除了人口稀少、勞力不足等因素之外，還與下列哪一項原因有密切關係？（P57）
 (A)與北半球產季相反 (B)距離歐、亞等主要市場較遠
 (C)加工後利潤較高 (D)北半球國家沒有生產類似產品。
16. 澳洲目前為全球第 20 大貿易國，對外貿易早期重歐輕亞，但目前亞洲已經躍居澳洲對外貿易的首位，占有澳洲外銷市場約 60%；東亞各國(含日本、中國、南韓、臺灣)亦占有澳洲進口市場相當大的比例。澳洲逐漸將市場重心轉移至亞洲地區主要因為下列哪兩者？（P66）
 (甲)亞洲人喜愛澳洲產品 (乙)受歷史背景影響
 (丙)澳、歐間運輸成本昂貴 (丁)亞洲經濟勢力崛起
 (A)甲乙 (B)甲丙 (C)乙丙 (D)丙丁。
17. 全球氣候變遷已成為重要的環境課題，許多學者紛紛提出警告，若再不予以注意則將產生嚴重的後果。下列何者不是受到全球暖化的影響？（P69.70）
 (A)澳洲大堡礁出現白化現象
 (B)暴雨、颱風發生機會增加
 (C)冰河、冰層逐漸擴大
 (D)北極地位更受矚目。
18. 小史繳交了一份日本於十九世紀六十年代有關明治維新

的報告，請問：他的內容有哪些錯誤？(甲)原因：受美國壓迫，江戶幕府結束閉關鎖國 (乙)經過：由江戶幕府全權領導明治維新，性質為西化的改革運動 (丙)擴張：利用牡丹社事件進犯台灣，並逼迫清朝放棄越南的宗主權 (丁)擴張：欲控制清朝周邊藩屬國，例如：干涉朝鮮內政 (戊)擴張：利用琉球內亂，發動中日甲午戰爭 (A)甲乙丙 (B)乙丙丁 (C)甲乙戊 (D)乙丙戊。
 (5-2, P.111)

19. 一位歷史評論家，發表文章描述中國某時代的生活面貌：「首部載客的有軌電車出現在中國，不但改變了人們的生活方式，亦促進經濟發展。此外，西式電燈、電話、電影能在民眾日常生活中可見。漸漸的，西裝和洋服也取代傳統服飾，成為時尚新潮流。」請問：下列何種現象亦有可能出現在此文章中？（A）阿拉伯人東來貿易帶動文化交流 （B）大量北方士人南遷促使南北融合 （C）中國文化外傳至鄰近國家如日本 （D）新知識分子推動社會改革的發展。（6-1, P.114-P.115）
20. 湯普生是一位法國的傳教士，他在 19 世紀來到中國內地遊玩，一路沿著長江沿岸一帶的江寧、九江、漢口……四處觀光，一面繼續宣傳天主教思想，他覺得中國真是個風景秀麗的國家。請問：湯普生最有可能是什麼時候來到中國的？（A）鴉片戰爭前 （B）英法聯軍爆發以前 （C）英法聯軍以後 （D）乾隆年間。（5-1, P.110）
21. 阿達是清末民初《白話報》的記者，近日正忙著完成人物專訪。此專訪的主題是介紹當時典型的新時代女性，阿達遂採訪四位不同的市民，她們的發言如下列所述：
 ◎丁典：女性最迷人的特質是溫柔婉約，穩當的照顧家庭成員是唯一成就感來源。
 ◎霜華：完成傳宗接代是女性最重要且神聖的任務，因為這是繼起宇宙之生命。
 ◎狄雲：婚姻可不聽命於父母，自由戀愛或許會遇到錯的人，但卻是個人自主意識的展現。
 ◎戚芳：女性受的教育較低，普遍而言能力不如男子。但在相夫教子方面，卻比男性優秀。
 請問：何人的發言最有可能被選入此專訪中？（A）丁典 （B）霜華 （C）狄雲 （D）戚芳。（6-2, P.116-P.117）
22. 一份報紙斗大的標題寫道：「洋人的世界末日——在民眾日漸升高的仇洋情緒中，各地都有燒教堂、殺洋人，並到處毀壞鐵路及電線桿等洋物的現象，北京城籠罩在恐怖的殺戮氣氛中……。」請問：報紙中描述的應該是何事？以及該事件在政府的縱容與鼓動下引發了哪一場列強的侵華戰爭？（A）太平天國之亂、鴉片戰爭 （B）義和團之亂、八國聯軍 （C）義和團之亂、英法聯軍 （D）太平天國之亂、八國聯軍。（5-2, P.113）

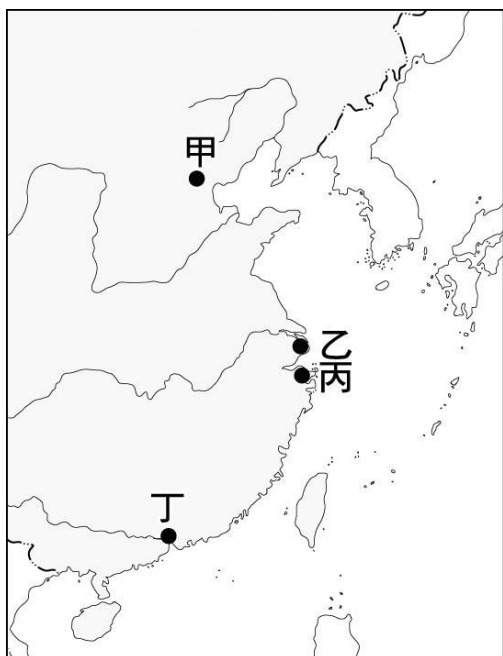
◎題組：請閱讀下列短文並回答問題。

清末大臣李鴻章晚年曾感嘆說：「我辦了一輩子的事，練兵、海軍，都是紙糊的老虎，從未能大刀闊斧的辦理。」李鴻章將衰敗的清帝國形容是一間破屋，而他不過是一個用紙片裱糊破洞的工人。

如果破洞是小風、小雨所造成的，他還可隨時修補，但是突如其來的強風豪雨，則讓他措手不及，既無法事先防範也無力修補。

資料來源：吳永著。《庚子西狩叢談》。

23. 李鴻章的「紙糊工作」指的是哪項改革運動與措施？
 (A)「自強運動」：興建鐵路，學習西方技術 (B)「立憲運動」：修訂憲法，實施君主立憲 (C)「戊戌變法」：學習西方制度，精簡政府機構 (D)「庚子後新政」：廢除科舉，設立新式學堂。(5-1, P.110)
24. 李鴻章感嘆他辦了一輩子的事，卻未能大刀闊斧辦理的原因，下列何者**正確**？ (A)保守勢力者反對改革的推行 (B)地方官員全力反對中央政令 (C)西方國家強力阻擾中國改革 (D)政府拒絕選派學生出國留學。(5-1, P.110)
25. 今天臺灣的首善之都通常指臺北，作為政治與經濟中心，與國際商業往來最頻繁。而在中國，另一座城市雖非今日的首都，卻能見證近現代一百八十年來的經濟發展，可以說沒有《南京條約》就沒有這座最現代化的城市。請問：該城市位於附圖中的哪個地點？ (A)甲 (B)乙 (C)丙 (D)丁。(6-1, P.114)



◎題組：請閱讀下列短文，回答下列問題：

鴉片戰爭是清代第一場的對外戰爭，中國自鴉片戰後，開始改變其世界觀，將「中國即世界」轉變為「世界的中國」，且為中國數千年以來未有之變局，對中國的歷史發展造成相當大的影響。

26. 有關中英鴉片戰爭發生的原因，下列敘述何者**正確**？ (A)中英貿易嚴重失衡 (B)咸豐皇帝派林則徐至上海嚴禁鴉片 (C)讓中國見識英國的船堅炮利 (D)英國要改善中國一口通商的貿易限制 (E)英國曾遣使中國，交涉通商問題，因跪拜禮節衝突毫無成果 (A)甲乙丙 (B)甲丁戊 (C)乙丙丁 (D)乙丙戊 (5-1, P.108-P.109)
27. 下列哪些是鴉片戰爭後所簽訂的條約內容？ (甲)開放五口通商 (乙)割讓香港 (丙)協定關稅 (丁)領事裁判權 (A)甲乙丁 (B)甲丙丁 (C)乙丙丁 (D)甲乙丙丁。(5-1, P.109)
28. 傳教士一直都是西方與中國之間交流的重要橋梁，清朝末年中國與西方接觸日益頻繁，報章雜誌也蓬勃發展。傳教士除了傳教外也投入報業，介紹西方的地理、歷史、政治等，成為中國認識西方的重要管道。請問：下列何者為傳教士所興辦的報紙？ (A)《白話報》 (B)《萬國公報》 (C)《新民叢報》 (D)《臺灣民報》。(6-1, P.114)

29. 附表為《馬關條約》的若干條文。請問：其中哪條對中國的民生工業傷害最重？ (A)甲 (B)乙 (C)丙 (D)丁。(5-2, P.111)

(甲)	中國承認朝鮮自主
(乙)	中國賠款二萬萬兩
(丙)	日人可以在中國各口岸設廠製造
(丁)	割讓臺、澎等地

30. 翠山是清末的知識分子，他本欲參加三年一度的科舉，但是政府卻宣布考試即將廢除，科舉取士的時代即將走入歷史，使得翠山及其同窗好友都十分的恐慌。請問：科舉的廢除與清末的哪一項改革有關？此外，這一項改革是清政府受哪一場戰爭失敗的刺激？ (A)立憲運動、日俄戰爭 (B)立憲運動、八國聯軍 (C)庚子後新政、八國聯軍 (D)庚子後新政、日俄戰爭。(5-2, P.113)

◎題組：請閱讀短文回答下列問題：

梁啟超在西元 1895 年《馬關條約》簽訂後，與康有為一起聯合各省舉人發起「公車上書」。西元 1898 年，變法開始後，光緒皇帝於 7 月 3 日召見他，命呈《變法通議》，授六品卿銜，令辦理京師大學堂、譯書局事務。同年 9 月 21 日，變法失敗，梁啟超、康有為在外國人的協助下逃亡日本。請問：

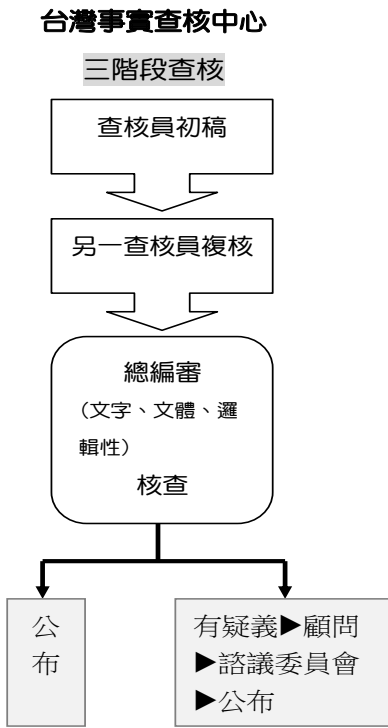
31. 西元 1898 年的變法，促成了京師大學堂的成立，而這個改革應是下列何者？原因是受到哪一場戰爭失敗的刺激？ (A)明治維新、鴉片戰爭 (B)戊戌政變、八國聯軍 (C)自強運動、英法聯軍 (D)戊戌變法、甲午戰爭。(5-2, P.112)
32. 最後這個改革並沒有成功，最大的因素應是下列何者？ (A)慈禧太后與守舊派的反對 (B)列強反對改革的實施 (C)政策內容引起民眾的反彈 (D)只注重器物層面沒有涉及制度面。(5-2, P.112)
33. 晚清時期，家族關係與婦女角色出現劇烈變化，此變化的原因與下列何者**較無**關連？ (A)各類新式報章雜誌的宣傳 (B)基督教傳教士在中國成立女子學校 (C)梁啟超等人援引西方經驗，提倡興女學 (D)西方國家於通商口岸內徵用大量女工。(6-2, P.116-P.117)
34. 下列是西元 1906 年上海甲、乙官員的對話內容：
 甲：「前年在東北發生的這場戰役，實在令人大開眼界，結果也讓人驚訝！」
 乙：「總結教訓，中國若想富強，可以學習戰勝國，得召開國會、頒布憲法！」
 以上兩人是在表達對哪一場戰役的看法？以及對哪一項改革運動的渴求？ (A)日俄戰爭、立憲運動 (B)英法聯軍、自強運動 (C)甲午戰爭、戊戌變法 (D)八國聯軍、庚子後新政。(5-2, P.113)
35. 新冠病毒在英國出現傳播速度更快的新變種病毒株，可能比舊病毒株增加 70% 感染率。英國首相強生今日 (2020/12/20) 宣布倫敦疫情警報等級，明天起升級至第 4 級，先前宣布的 5 天鬆綁耶誕過節計畫也將取消。由於新變種病毒株出現，英格蘭東南部地區過去幾天確診案例飆升。上述內容凸顯出媒體的哪一個功能？ (A)提供訊息 (B)設定議題 (C)評論議題 (D)形成民意。(p169.)

36.志明和春嬌討論著甲、乙兩報針對同一個社會事件所做的報導。

甲報標題
學校把關不嚴 國中畢旅學生得諾羅上吐下瀉

乙報標題
諾羅病毒來勢洶洶 高中畢旅也難逃

- 比較兩則新聞，分析下列敘述何者正確？ (A)甲報聚焦諾羅病毒的傳染力強 (B)乙報聚焦探究學校行政的疏失 (B)兩報報導一定都是客觀中立的 (D)兩報標題都具有議題設定的效果。(p.169)
37. 為了抑制不實資訊的負面影響，「臺灣媒體教育觀察基金會」與「優質新聞發展協會」共同成立臺灣事實查核中心，其查核方式如下圖。



- 臺灣事實查核中心的設立，與下列何種媒體現象有關？ (A)媒體未針對不同的意見給予平衡報導而失公正 (B)媒體為求快速與獨家報導，未善盡查證之責 (C)媒體在標題或內容中不自覺加入自己的立場 (D)媒體強化性別、族群或階級的刻板印象與歧視。(p.170)
38. 大眾媒體對某一個問題的報導量愈大，就愈容易被公眾認為它是當前最重要的問題。這樣一來，大眾媒體就可以透過操作內容，來影響人們的認知、態度和行為。上述內容主要說明媒體可能產生的哪一種現象？ (A)媒體報導未必反映真實 (B)媒體內容存在隱藏性的歧視 (C)媒體報導有特定的立場 (D)媒體利用政治人物特權影響閱聽人的認知。(p.170)
- 39 下列某高中針對校內四個議題，進行網路投票，從這四個網路議題內容及投票的行動，可以看出公共事務的參與有哪一項特色？ (A)社群網路的公共事務參與，較無法得到回應 (B)社群網路較無法匯集來自各地的不同意見 (C)當消息在社群散播後，吸引學生響應度低 (D)現今社群網路是進行公共事務參與的趨勢。(p.172,173)

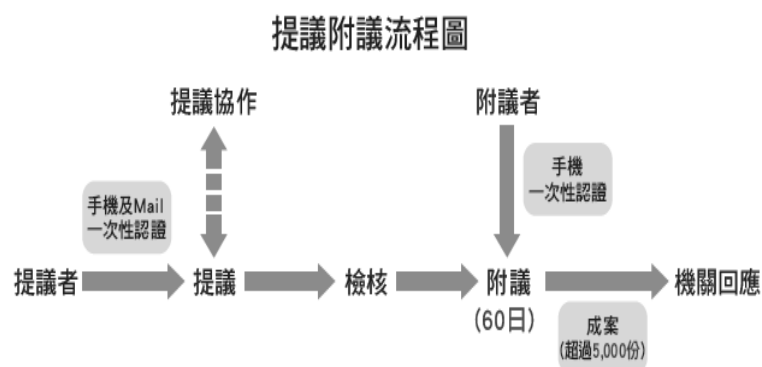
網路議題 1 自己的課綱自己審 <input type="checkbox"/> 贊成 <input type="checkbox"/> 反對	網路議題 2 學生自治納法落實參與校務 <input type="checkbox"/> 贊成 <input type="checkbox"/> 反對
網路議題 3 主張「政黨法」，學生可組校內政黨 <input type="checkbox"/> 贊成 <input type="checkbox"/> 反對	網路議題 4 推動「○中男裙一裙聚效應」，男生可穿裙子上學 <input type="checkbox"/> 贊成 <input type="checkbox"/> 反對

- 40.下列行為哪些屬於網路對公共事務參與所造成的影響？(甲)北非突尼西亞的民眾透過社群軟體串聯，發動反專制政府運動，又稱「茉莉花革命」(乙)小莉十分孝順，每天都親手做菜和切水果給自己的父母吃(丙)「世界展望會」在網路上發起募款活動，籌集經費以幫助非洲長期饑餓的孩童(丁)老謝為招待國外好友，特別上網尋找美食餐廳，並查詢電話以便預先定位 (A)甲乙 (B)乙丙 (C)甲丙 (D)丙丁。(p.172,173)
41. 曾有大學教授提出「政治會因你的參與而美好」的觀點，這是因為在民主國家中，人民有權參與政治並共同決定公共事務。下列何者不是政治參與的方法？ (A)小鴻在民眾黨的「主席信箱」留言，表達對現今政治亂象的不滿 (B)小英在某日報發表對社會福利政策的建言 (C)小華從美國搭飛機回臺灣投票 (D)小慶參加社區舉辦的合唱研習營。(p.178)
42. 小荃：「我對於政府接下來要實施的政策非常不能接受。」小志：「或許我們可以透過公民投票的方式表達反對的意見，以改變政府的政策。」從上述兩人談論的內容，應與哪一項人民的權利最相關？ (A)選舉 (B)複決 (C)創制 (D)罷免。(p.180)
43. 依據我國某選區某類型的選舉結果公告，當選者為 5 號與 7 號兩位，由上述可以判斷此為何種公職人員的選舉？ (A)宜蘭縣長 (B)新北市長 (C)新北市土城區長 (D)屏東縣屏東市民代表。(p.179)
44. 我國根據選舉的各項法律規定，辦理公職人員選舉。下列為我國選舉的過程，請依照先後順序排列。(甲)政黨提名候選人，並向選務機關登記(乙)選舉委員會發布選舉公告(丙)選務機關開票，並公告選舉結果(丁)選民投票(戊)候選人展開競選活動 (A)乙→甲→戊→丁→丙 (B)甲→戊→乙→丁→丙 (C)甲→乙→戊→丁→丙 (D)乙→戊→甲→丁→丙。(p.182)
45. 下列四人何者可以參與我國立法委員的選舉投票？ (A)小芳 (B)小忠 (C)小安 (D)小雄。(p.181)

姓名	國籍	年齡	設籍選區	受監護宣
小芳	中華民國	19	19 年	×
小忠	中華民國	40	6 個月	○
小安	法國	35	5 年	×
小雄	中華民國	24	10 年	×

題組

- ※ 行政院國家發展委員會建置了「公共政策網路參與平臺」，目的讓國民針對公共政策提出建議，透過附議過程，形成共識，作為調整施政方向的參考。民眾提案的方式如下：



舉例來說：近日一位自稱高中生的網友在「公共政策網路參與平台」提議，108 課綱應「移除學習歷程檔案」，不到 3 天內就通過 5 千個附議門檻，累計至今甚至逼近 8 千個附議。這項提案再次掀起教學現場對於升大學新制學習歷程檔案熱議，引來教育界對此密集投書、關注，教育部必須回應，不僅是否調整政策走向，更牽動所有學生和家長的心。請回答下列問題：

46. 行政院國家發展委員會建置「公共政策網路參與平臺」，最能凸顯下列何種社會趨勢？ (A) 網路發達提升閱聽人媒體識讀能力 (B) 網路發達削弱了民間團體的影響力 (C) 網路發達擴大民眾公共參與的機會 (D) 網路發達使閱聽人只能成為訊息接收者。(p.168)
47. 民眾在國發會的公共政策網路參與平臺提案，這種公共參與的模式與下列何者最為相似？ (A) 勞工團體向勞動部陳情，要求提高基本工資 (B) 民眾至市長信箱要求改善下水道的清污 (C) 消費者向消費者文教基金會投訴不良的店家 (D) 空服員向工會反應，航空公司未支付加班費。(p.172,173)
- ※ 小強本身是視覺障礙者，法律規定可由小強的弟弟協助他投下總統、副總統選舉票，而小強的弟弟除了協助小強投票之外，自己也要投下生平的第一張選票。請回答下列問題：
48. 小強弟弟協助小強投票的當時，應注意哪些事項？ (A) 在選票上的圈選欄中蓋上小強的私人印章 (B) 在投入票匭前將小強的選票內容公開亮票 (C) 保障小強的隱私，協助小強「祕密投票」 (D) 在投票所大聲詢問小強要投給哪位候選人。(p.181)
49. 雖然小強本身是視覺障礙者，但與非身心障礙者一樣具有選舉權，這顯示選舉具備何項原則？ (A) 普通 (B) 平等 (C) 直接 (D) 無記名。(p.181)
50. 小強的選票與其他選票一樣，皆具備相同的價值與效力，這顯示選舉具備何項原則？ (A) 普通 (B) 平等 (C) 直接 (D) 無記名。(p.181)