

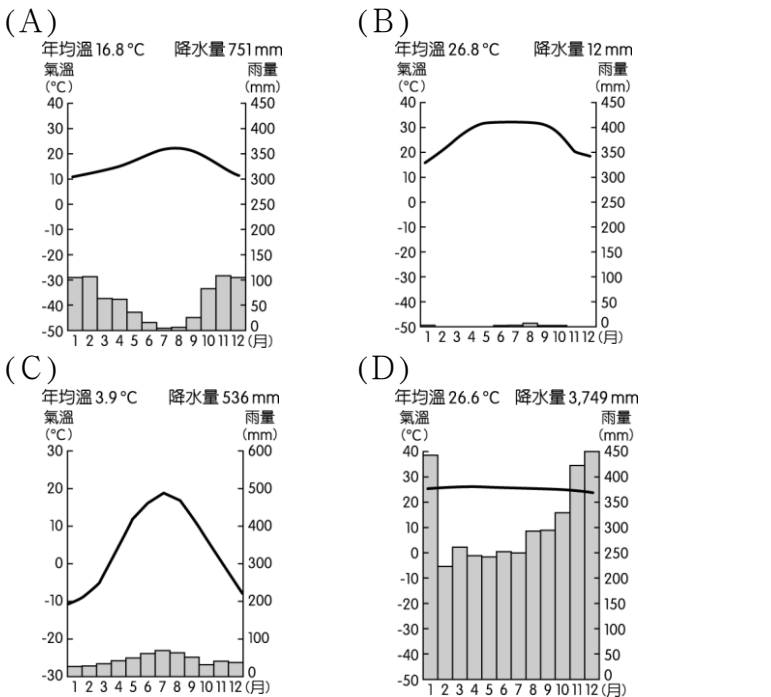
【讀卡科目請依規定畫卡，若有違反畫卡規定而影響讀卡作業之情事，一律扣總分五分。】

【手寫答案卷需確實寫上班級、座號、姓名，違者一律扣總分五分。】

【手寫答案卷需用藍色或黑色墨水筆書寫，違者一律扣總分五分，使用鉛筆書寫扣五分。】

一、 選擇題

1. 附圖為茲卡病毒警戒圖，以圖中茲卡病毒警戒區判斷，其分布的氣候環境包括下列哪一氣候？P86.87



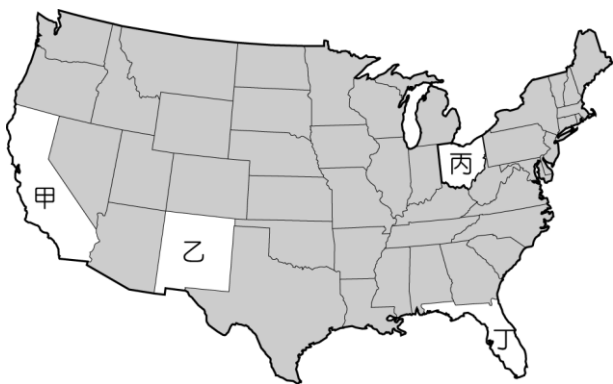
2. 中南美洲的熱帶栽培業相當發達，耕種的規模相當大。請問：該地區所種植的主要作物中不包括下列何者？(A)咖啡 (B)香蕉 (C)甘蔗 (D)蘋果。P90
3. 北美洲境內東西兩岸，出現寒帶氣候的緯度不一。東岸的寒帶氣候約在北緯50度就出現，西岸的寒帶氣候卻在北緯60度才出現。其中東岸有此特徵與下列哪一股洋流有關？(A)拉布拉多寒流 (B)加利福尼亞涼流 (C)墨西哥灣暖流(D)阿拉斯加暖流。P72
4. 季風亞洲和北美洲的農業均相當發達，附表中有關這兩個地區的農業型態分類，何者正確？

	甲	乙	丙	丁
季風亞洲	商業性農業	自給式農業	自給式農業	商業性農業
北美洲	自給式農業	自給式農業	商業性農業	商業性農業

- (A)甲 (B)乙 (C)丙 (D)丁。P.72
5. 世界盃的足球雙雄分別為巴西及阿根廷，雖同位於拉丁美洲，但區域發展的特色卻各不相同。請問：附表中有關這兩個國家的地理環境比較，何者「不正確」？

	疆域位置	通行語言	主要氣候	經過緯線
巴西	低緯度地區	葡萄牙語	熱帶氣候	赤道
阿根廷	中緯度地區	西班牙語	溫帶氣候	北回歸線

- (A)疆域位置 (B)通行語言 (C)主要氣候 (D)經過緯線。 P85.86
6. 美國足球大聯盟（MLS）成立後積極拉攏知名球星，讓觀眾人數及技術水準快速上升。其中某地區的球隊取名為地震隊，和當地的自然環境關係甚大。若根據其隊名判斷，則該隊最可能來自附圖中哪一州？

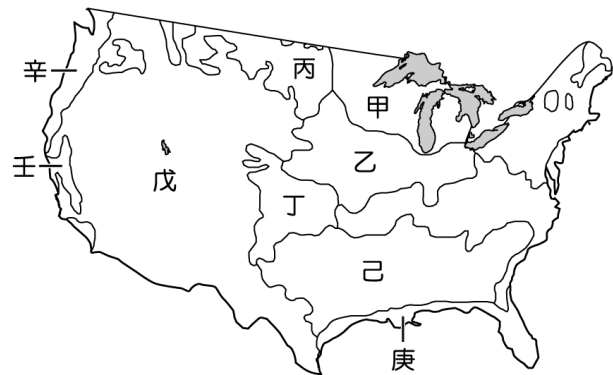


- (A)甲 (B)乙 (C)丙 (D)丁。P68

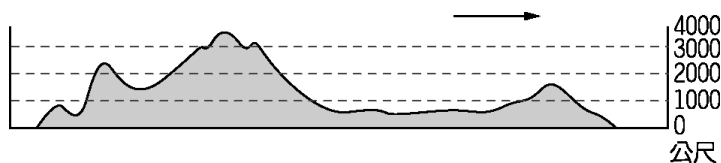
7. 巴拿馬運河為聯洋運河，在航運交通上極為重要。請問：其航運路線位於附圖中何處？(A)甲 (B)乙 (C)丙 (D)丁。P84.85



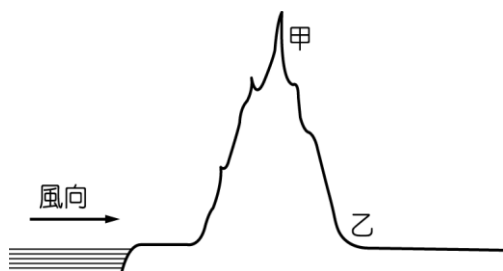
8. 拉丁美洲的墨西哥近年來加工出口業盛行，許多外國廠商皆前往設廠，成為拉丁美洲少數工業較為發達的國家。請問：這和下列哪一項因素的關係最大？(A)鄉村地區人口外移 (B) 加入北美自由貿易協定(C) 都市化程度高 (D)山區礦產豐富。P.73
9. 美國的天然資源豐富，因此工業活動盛行。附圖中美國哪一個地區擁有廉價的水運網及水力發電，成為重要的工業區？(A)甲 (B)乙 (C)戊 (D)壬。P.73



- 10.美國境內面積廣大，各地區的地形特色皆不相同。附圖為美國某地區的地形概況，依圖中地勢起伏情形判斷，圖中箭頭所指的方向應為何？



- (A)東方 (B)西方 (C)南方 (D)北方。P.69
- 11.安地斯山北段的山間盆地，是人口、都市集中的精華區，其原因為何？ (A)地處低緯 (B)地勢低平 (C)適合發展山牧季移 (D)地勢險要，易守難攻。P.89
- 12.隨著交通運輸的發展，國際間區域分工愈趨精細，可利用不同國家的地理條件發展不同產業，建立起相互合作的關係。如某咖啡工廠的原豆多來自於馬來西亞等地，但由於農產品生產具季節性，因此為穩定原料能全年供應，該國最適合於何處投資咖啡農場？ (A)墨西哥 (B)巴西 (C)阿根廷 (D)印度。P.90.91
- 13.阿根廷的拉布拉他平原為世界上重要的糧食作物生產區，其位置位於附圖中乙處，依此判斷，圖中的「甲」應為哪一座山脈？



- P.85
- (A)落磯山脈
(B)安地斯山脈
(C)阿帕拉契山脈
(D)海岸山脈。
- 14.附表為美國境內溫帶大陸性氣候及溫帶海洋性氣候的比較，何者「錯誤」？P.70.71

	年溫差	降水分布	分布地區	面積大小
溫帶大陸性氣候	年溫差大	夏季降水	大陸西岸	面積較大
溫帶海洋性氣候	年溫差小	全年有雨	大陸東岸	面積較小

- (A)年溫差 (B)降雨分布 (C)分布地區 (D)面積大小
- 15.近數十年來，巴西積極開發境內的亞馬孫河流域，卻屢遭各國批評。下列何者最可能是各國反對亞馬孫河流域過度開發的主要原因之一？(A)森林內蘊藏物種繁多，牽繫著地球的生態平衡 (B)擁有廣大的針葉林，是全球木材資源的主要供應地 (C)下游地區有馬雅文明的遺址，是人類學研究的重要題材 (D)流域面積廣大，支流眾多，是南美國際貿易重要的航運路線。P.92
- 16.北美洲的中間地帶為北美大平原，其北部受到哪一種作用的影響，形成湖泊遍布的景象？ (A)火山作用 (B)河川作用 (C)溶蝕作用 (D)冰河作用。P.68
- 17.中南美洲的地震頻繁，常造成當地民眾生命與財產的損失。請問：該地區多地震的成因為何？ (A)緯度較低 (B)板塊活動 (C)港灣水深 (D)海岸線長。P.83
- 18.有學者指出：「18世紀至今，二百多年間人類製造的東西，比18世紀以前幾十萬年中製造的東西多得多。」但有學者也指出：「在19世紀中期，英、法等國家為了尋求更多的原料與市場，積極爭奪殖民地，埋下20世紀初第一次世界大戰的禍因。」請問：這樣的景象出現與哪一歷史事件最相關？(A)地理大發現(B)宗

教改革 (C)科學革命 (D)工業革命。(p.153)

- 19.有位總統的就職演說提到：「南部各州的人民似乎已有一種看法，認為共和黨一但主政，他們的生命、和平、財產岌岌可危；這種看法沒有合理的根據。」他又在連任的就職演說提到：「四年前的此時，全國上下都為一場即將爆發的內戰焦慮不安，黑奴佔全國人口八分之一，這些黑奴本身構成一種特殊有力的利益，這項利益也是戰爭的肇因。」請問這位總統最有可能是何人？(A)華盛頓 (B)拿破崙 (C)林肯 (D)梅特涅。(p.160)
- 20.狄更斯的小說《雙城記》中描述：「這是最美好的時代，也是最惡劣的時代；是光明的季節，也是黑暗的季節；是充滿希望的春天，也是使人絕望的冬天。」故事是描述18世紀末，一個法國家庭的遭遇，並譴責革命的殘暴不仁。請問：當時法國面臨何種問題？(A)法國爆發二月革命 (B)拿破崙遠征俄國慘敗 (C)國王與國會議員發生內戰 (D)羅伯斯比爾實行恐怖統治。(P.161)
- 21.「清教徒革命」、「法國大革命」、「法國二月革命」，上述的這三場革命，有何共同點？(A)曾實施開明專制 (B)曾建立共和體制 (C)曾建立君主立憲政體 (D)曾頒布保障人權的憲法。(p.157、161、163)
- 22.臺灣曾因高麗菜生產過剩，高麗菜中盤商每公斤的收購價錢只有一塊錢，辛苦種植的菜農根本無法賴以維生，因此四處陳情，希望政府出面解決他們的困境。兩位電視名嘴分別對此議題發表看法：名嘴甲認為：「這一切都該放手讓市場機制來決定的，政府不必管太多啦！」名嘴乙認為：「菜農應該團結起來，向剝削他們的商人發動階級鬥爭，將中盤商壓榨而來的利益均分給辛苦的菜農。」請問甲、乙的論點與哪兩位學者類似？(A)洛克、盧梭 (B)培根、洛克 (C)亞當斯密、盧梭 (D)亞當斯密、馬克思。(p.150、153)
- 23.拿破崙在逝世前說了一段話：「我是一位新普羅米修斯……我曾從天上竊了火種，作為一份禮物，奉獻給法蘭西。」拿破崙奉獻給法蘭西的「火種」應是指下列何者？(A)人權宣言 (B)征俄之役 (C)拿破崙法典 (D)建立法蘭西第一共和。(p.162)
- 24.狄更斯的小說《孤雛淚》提到：「12歲的奧利佛在19世紀的英國礦場擔任小童工，每天工作10幾個小時，穿梭在狹窄汙穢的環境中，只能領微薄的薪水，同礦場裡，如同奧利佛這樣的童工還很多。」當時的學者約翰教授，站出來為這些弱勢的貧童發聲，同時譴責礦場老闆的惡劣行徑，要求給予社會中弱勢群體活下去的權利。請問：約翰教授的主張是屬於哪種範疇？(A)社會主義 (B)民族主義 (C)人文主義 (D)理性主義。(p.153)
- 25.西元18世紀的普魯士出現一位開明專制的君主，他自知君主只是國家第一公僕，其行為以公正、無私、智慧為準則，在他手中，普魯士陸續打敗奧、法、俄等歐洲大國，擠身強國之林，並成為日耳曼日後統一的基礎。請問他最有可能是誰？(A)路易十四 (B)腓特烈二世 (C)凱薩琳二世 (D)詹姆士二世。(p.151)
- 26.17世紀英國的資產階級與新貴族決定發動政變，結束當時意圖恢復舊教、厲行專制的國王之統治。他們與國王長女的丈夫——荷蘭國王商量，希望他能支持此次活

- 動。西元 1688 年荷蘭國王率六百艘軍艦和一萬多名士兵登陸英國，他聲明來到英國的目的是為了保護「新教、自由、財產及自由的議會」，隨後受到許多民眾的歡迎，連國王的軍官都倒戈，英王只得倉皇而逃。這是一次稱不上革命的革命，沒有流一滴血，國會取得最後的勝利。由上文得知，荷蘭國王聲明要保護「自由的議會」，是由於英國議會政治的淵源甚早，下列相關敘述何者正確？(A)早在 12 世紀英國就有限制國王權力的法案出現 (B)清教徒革命之後，約翰王簽署大憲章，國王徵稅募兵都受到國會的限制 (C)形成三權分立的政府體制 (D)確立英國最高立法機構為國會。(p.157)
27. 拿破崙垮台後，歐洲各國為了重整政治秩序，在首相梅特涅的主導下，召開維也納會議。維也納會議中提出三大訴求：「一、恢復拿破崙稱霸歐洲前的各國舊王室地位；二、將尼德蘭割讓給荷蘭補償損失；三、保證瑞士為永久中立國及防止法國勢力再起。」關於維也納會議，下列敘述何者正確？(A)維也納會議後，法國專制王室順利恢復統治 (B)維也納會議後，歐洲從此沒有大規模戰爭 (C)為了避免會議爭議，梅特涅是中立國首相 (D)維也納會議處理領土的原則：瓜分、侵占。(p.163)
28. 路易拿破崙以巧妙的權術將第二共和改為第二帝國後，他將第二帝國說成「法國革命最美麗的成果」，還以「整個社會秩序與福利」作為施政號召。(一)公共建設：修路、開港、疏河、將彎曲巷道改建為林蔭大道、美化首都。(二)勞工福利：鼓勵工人組合作社與工會、承認工人有罷工權利、興辦工保與職業傷害保險等。(三)對外侵略：在阿爾及利亞建立永久的殖民政府、對中國發動英法聯軍、克里米亞戰爭(成功讓俄退出黑海)。根據上文敘述，下列何者選項正確？(A)路易拿破崙積極向外擴張，法國的殖民地僅次於英國 (B)法國因對外戰爭過多，財政負擔沉重最終爆發大革命 (C)路易拿破崙頗得人民愛戴，因此法國至今仍是君主國 (D)法國的貧富差距擴大，因此人民鼓吹成立全世界第一個共產黨。(p.163)
29. 19 世紀初的英國議會政治仍有些缺失，在日後的改革法案中逐漸被改善。請問，以下關於 19 世紀初英國議會政治的缺陷，何者並非當時的現象？(A)工業革命後，人口分布狀況不同 (B)「衰廢市鎮」仍保有席次 (C)國會選舉有嚴格的財產限制 (D)分成「貴族」、「教士」、「平民」三階級投票。(p.158)
30. 旅遊雜誌介紹美國的一個城市：「這個城市位在美國東部海岸，是美國最早開發的城市之一。此外，在美國還是英國殖民地的時期，為了對抗英國的殖民統治，北美殖民地代表也是在這個城市舉行大陸會議，並於 1776 年 7 月 4 日發表《獨立宣言》，宣布脫離英國。」旅遊雜誌介紹的是哪個城市？(A)紐約 (B)洛杉磯 (C)費城 (D)波士頓。(p.159)
31. 魏源《海國圖志》提到：「我們的國王出兵協助亞墨里加(或譯：亞美利加)戰勝，卻造成財政問題雪上加霜，所以召集貴族、僧侶、平民召開三級會議，討論開徵新稅的問題……後來，人民罷黜國王並判處死刑，緊接而來的是國家發生長達七年的混亂，當時，雖政治混亂導

致人心不安，但有位大臣-那渡利捻(拿破崙)卻因為軍功而建立英雄形象，得到群眾的信服。」上述內文最有可能是哪一事件的開端？(A)法國大革命 (B)二月革命 (C)七月革命 (D)光榮革命。(p.161)

32. 文藝復興以來，歐洲人的思考方式受到人文主義的影響，重新思索宇宙的運作原理，關於此一時期，何者正確？(A)培根提出「演繹法」，強調「我思故我在」，認為一切知識都必須經嚴格論證才能確立 (B)1666 年起，為了支持科學研究，法國成立法蘭西科學院，學者固定在皇家圖書館集會 (C)伽利略以科學實驗所得之數據支持天主教教會傳統的「地心說」，史稱「伽利略革命」 (D)由於西元 17 世紀歐洲宗教人才輩出、成果豐碩，所以這個世紀被稱為「天才的世紀」。(p.147-148)
33. 美國獨立運動和法國大革命，為反抗暴虐的殖民政權及專制王權，人民力量獲得空前勝利，並在保守的歐洲政局掀起濤天巨浪。請問：下列何項是兩者的共同處？(A)革命均發生在 19 世紀 (B)革命發生的原因均來自於徵稅問題 (C)革命過程均處死國王 (D)革命結束後均未再有國王統治。(p.159、161)
34. 法國文豪雨果說：「□□的名字，不僅代表一個人，而是一個時代。」這位思想家曾被監禁，出獄後流亡英國，他細心觀察英國的政治制度和經濟，向讀者介紹洛克的哲學、政治自由的理論和牛頓的物理學，並抨擊教會限制大眾言論思想和許多不公平的事，影響了整個時代的思維。請問，□□可填入？(A)伏爾泰 (B)笛卡兒 (C)盧梭 (D)狄德羅。(p.149)
35. 以下是美麗的公民老師運用四種理財工具投資，並在賣出後的獲利情形—

工具	投資金額	獲利金額
股票	400,000	-50,000
共同基金	80,000	5,000
債券	100,000	2,500
外幣存款	150,000	6,500

根據資料，公民老師使用的投資理財工具中，何者的投資報酬率最高？(A)股票 (B)共同基金 (C)債券 (D)外幣存款。(Ch5)

36. 假設公民老師在 2019 年年中，在美金對台幣 1:30 元時，又再度以新台幣 150,000 元投資美金，並在 2021 年年初，在美金對台幣 1:28 元時賣出。請問，此時投資報酬率大約為多少？(A)-6.7%(B)6.6%(C)0.06%(D)-0.67%。(Ch5)
37. 假設中正國的總人口數為 191.6 百萬人，其中就業人口為 117.6 百萬人，失業人口為 9.4 百萬人。請問，該國的失業率為多少？(A)4.9% (B)7.4% (C)7.9% (D)9.4%。(Ch5)
38. 下列哪一位中正國的人民，正處於「失業」狀態？(Ch5)
(A)丁丁公司受疫情影響結束營業，新工作一直沒著落
(B)迪西正在攻讀研究所，鑽研高深的學問
(C)拉拉為求穩定工作，決定報考公職，在家苦讀準備
(D)小波承接室內設計案子，在家完成。
39. 當中正國的勞工面臨失業的情況時，如果想要找尋就業機會，下列何者「不是」理想的做法？(Ch5)
(A)向各縣市就業服務中心請求協助
(B)參加職業訓練班

- (C)到人力網站搜尋求職訊息
(D)選擇高報酬的理財工具。
- 40.「給他魚吃，不如教他如何釣魚。」這句話主在強調如果要改變經濟現狀，下列何者是最重要的方法？
(A)自行創業當老闆 (B)發放失業保險金 (C)培養自身的工作能力 (D)提供失業者工作機會。(Ch5)
- 41.許多高汙染高破壞的產業，固然創造了可觀的國民所得數據，但造成的環境損害也相當大。因此在國際相關組織的研究下，推出了一套名為「綠色國民所得帳」的經濟評估機制，其重點在於將自然資源的消耗及環境品質的變化等負面影響自國民所得中扣除，使人們在追求財富的同時，也能正確意識到，經濟的發展不能忽略環境的成本。請問，以下何種作法最不符合此一機制的精神？
(A)垃圾處理費採隨袋徵收 (B)開放水庫周邊經營渡假村 (C)以補貼方式鼓勵民眾買機車時選購電動機車 (D)擴大發展再生能源。(Ch6)
- 42.「投資一定有風險，投資基金有賺有賠，購買前請詳閱申購說明書。」這句廣告詞提醒人們投資不能只想著賺錢的美好，也要注意風險的控管。請問：以下誰的行為最有風險意識？
(A)小強利用假日時間到各風景區擺攤增加收入
(B)美珍每天都會記帳，隨時注意是否有不必要的開支
(C)鈞皓使用「定期定額」方式投資基金，此外也撥一部分錢購買保險
(D)近期日圓狂跌，明貞將所有存款領出買進日圓預備大賺一筆。(Ch5)
- 43.經濟學某課程所用的某本書上寫著：「人類的各種經濟發展作為，除了滿足現階段人類的需要，還必須維持『環境正義』、『跨越世代間的公平』，以讓後代人類享有發展的機會。」，上述短文之敘述，最合乎下列何者的定義？(A)永續發展 (B)經濟循環 (C)外部成本 (D)風險評估。(Ch6)
- 44.關於企業經營型態的特點，下列四位同學的描述及配對，何者「正確」？(Ch6)
(A)小紅帽：阿明和阿賢兩位好朋友共同出資經營一家咖啡店，共同享有事業經營的權利，並共同承擔營運責任與風險。---「股份有限公司」
(B)白雪公主：隨著商業活動的興盛，生產的規模愈來愈大，所需要的資金也愈來愈多，因此中正集團發行股票向社會大眾募集，而每個股東對公司的責任，只有其所投入的資金。---「合夥企業」
(C)睡美人：小葵向銀行申請了一筆貸款，加上自己原有的存款，投入資金成立一家有機食品餐廳，並認真推廣業務，希望能獲取利潤。---「獨資」
(D)人魚公主：小新在網路上註冊虛擬的店鋪或工作室，便可以買賣交易談生意。這種「在家上班，自己創業當老闆」的模式，成為時下最熱門的生財之道。---「合夥企業」
- 45.美國企業家比爾·蓋茲曾說過的一句話——「省一塊錢，就是賺一塊錢」。這句話其主要在強調的觀念，與下列何者的作法有異曲同工之妙？(Ch5)
(A)媽媽將家中多餘物品上網拍賣

- (B)爸爸利用周末假日兼職送外賣
(C)上大學的弟弟課業優良領取獎學金
(D)上班族的姐姐到附近國小跑步，取代上健身房。
- 46.喜羊羊：「大環境經濟不景氣，我被公司資遣，短期間又找不到工作，家庭經濟頓失依靠，怎麼辦？」
灰太狼：「政府為保障失業勞工面臨生活的困境，制定法律，規定符合一定條件的勞工，在失業時可向公立就業服務機構申請失業給付。你不妨到相關單位詢問看看？」
※根據上述對話內容判斷，下列敘述何者「正確」？
(Ch5)
(A)喜羊羊所面臨的是結構型失業
(B)灰太郎所指的法律是《就業保險法》
(C)喜羊羊申請失業給付最多可請領八個月
(D)灰太郎所指的這些好處，是因為受到憲法保障人民的「自由權」
- 47.經濟高度發展的今日，「綠色消費」逐漸受到社會大眾的重視。下列何種消費行為符合「綠色消費」的觀念？
(A)汽車使用高級汽油 (B)外食使用免洗餐具 (C)室內溫度維持20℃ (D)使用網路寄送賀卡。(Ch6)
- 48.由於天然資源日益減少，在廚具市場上，環保材質的開發愈來愈重要，某廚具業者表示，所謂環保材質，須達到3R標準，即回收(Recycle)、減量(Reduce)、回收再利用(Reuse)的訴求。廚具設計大量運用的材質，包括櫃體板材及檯面、封邊材質，其中用量最大的就是廚櫃設計的板材。為減少自然資源木材的濫用，目前廚櫃板材以塑合板為主，但其黏著劑中的甲醛是致癌物，因此強調低甲醛的板材，就成為目前熱門的環保板材。除此之外，天然的大理石、不鏽鋼、人造石，可回收利用的鋁合金及玻璃，也是常用在廚具的環保建材。請問，廚具業者重視節能減碳的環保趨勢並開發環保材質，主要是負起企業的何種責任？(Ch6)
(A)政治責任 (B)行政責任 (C)社會責任 (D)法律責任
- 49.探志郎離家北上，獨自在外打拚。他進行家庭經濟規畫，附表是他上個月的收支紀錄表。

繳交稅款	7,000 元	水電費	1,000 元
假日外送收入	12,000 元	交通費用	1,000 元
孝親費	15,000 元	工作獎金	2,000 元
生活雜支	8,000 元	健保費	1,000 元

請問：若探志郎一個月本業的薪水是35,000元，再根據附表紀錄，上個月可以儲蓄的錢有多少？(Ch5)

- (A)12,000元 (B)16,000元 (C)23,000元 (D)24,000元
- 50.下列四位企業負責人的發言中，何人的說法符合「取之於社會，用之於社會」的精神？(Ch6)

- (A) 今年海外投資計畫重點在研發新技術。
宋經理
- (B) 企業合作模式將使年度獲利爬升。
夏董事長
- (C) 本公司成立基金會以扶助弱勢為目的。
劉總裁
- (D) 新產品將上市，會由時下偶像藝人代言。
湯廠長