

【讀卡科目請依規定畫卡，若有違反畫卡規定而影響讀卡作業之情事，一律扣總分五分。】

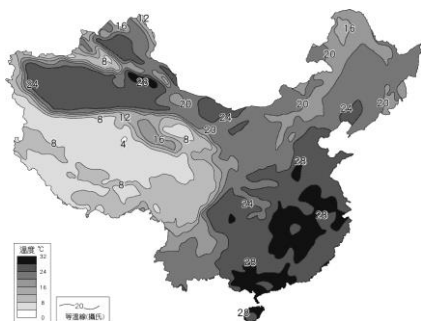
【手寫答案卷需確實寫上班級、座號、姓名，違者一律扣總分五分。】

【手寫答案卷需用藍色或黑色墨水筆書寫，違者一律扣總分五分，使用鉛筆書寫扣五分。】

一、 選擇題

1. 李白將進酒「君不見，黃河之水天上來，奔流到海不復回！君不見，高堂明鏡悲白髮，朝如青絲暮成雪。人生得意須盡歡，莫使金樽空對月。」文中河川流向和下列哪一項因素關係最密切？ (A)地勢高低 (B)地理位置 (C)氣候冷熱 (D)歷史背景。 P.9-10

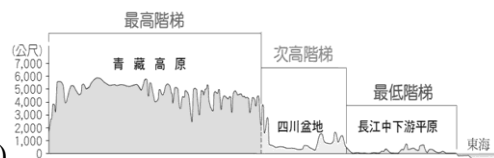
2. 附圖為中國7月月均溫等溫線圖，可看出中國夏季氣溫的分布具有地區性差異。圖中西南部明顯氣溫較低，主要是受到下列何項因素影響？ (A)緯度 (B)地形 (C)海陸位置 (D)距海遠近。 P.10



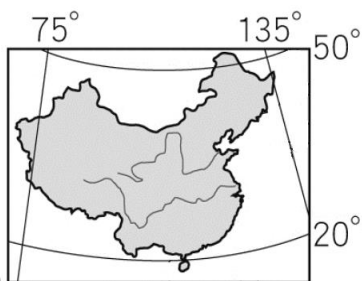
3. 就降水的空間分布而言，中國的年降水量分布大致呈現何種趨勢？ (A)由北向南遞減 (B)由東北向西南遞增 (C)由東南向西北遞增 (D)由東南向西北遞減。 P.12
4. 下列哪一個選項中的圖最能說明中國地勢西高東低的情況？ P.11



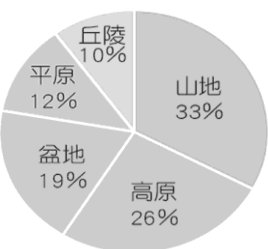
(A)



(B)



(C)



(D)

5. 西元206年，項羽兵強，而劉邦自知不敵，將蜀地的棧道焚盡，表示無心反攻。待時機一到，便大修棧道。秦將笑說蜀地群山環繞，棧道難建，卻不知劉邦已借到陳倉攻回關中。上述「明修棧道，暗渡陳倉」的四川盆地最可能位於下圖中何處？ (A)甲 (B)乙 (C)丙。 P.10-11



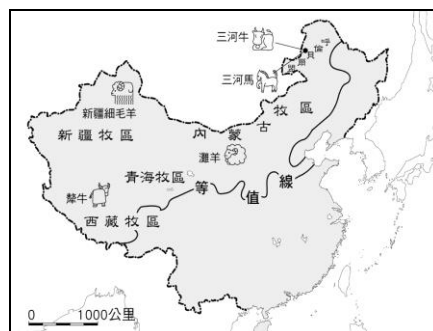
6. 附圖為中國行政區圖。圖上所標示的甲~丁，其行政單位名稱為何？ (A)省 (B)自治區 (C)直轄市 (D)特別行政區。 P.8



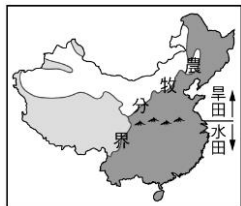
7. 附圖為中國三級階梯地勢示意圖，中國地勢呈三級階梯，此地勢特徵造成的影響不包括下列何者？ (A)季風氣候盛行 (B)有利海洋水氣深入內陸 (C)河川多向東注入太平洋 (D)人口分布多集中東南半壁。 P.9



8. 附圖為中國主要牧區及其優良牲畜品種分布示意圖。請問：圖上的等值線最可能代表什麼意義？ (A)最冷月月均溫0℃ (B)最暖月月均溫20℃ (C)年降水量500mm (D)年降水量750mm P.15

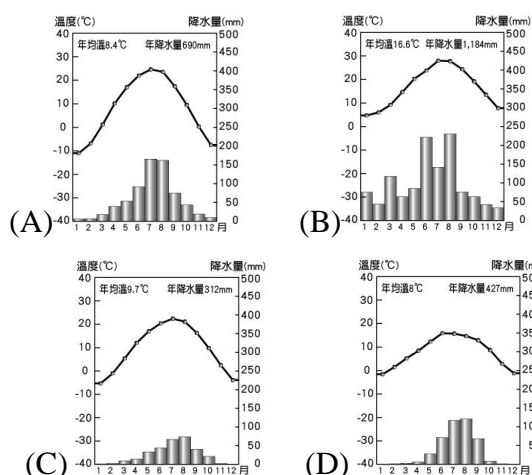


9. 附圖中呈現了中國農業及牧業活動的主要分布地區。請根據附圖判斷，中國農業的水旱田分界線主要為下列何者？
(A)長江 (B)嶺南丘陵 (C)黃河 (D)秦嶺、淮河一線。



P.14

10. 青稞性耐寒、生長期短，多分布在海拔4,200~4,500公尺的高寒地區。其穀粒收成後常磨成粉再炒熟，食用時加酥油茶或清茶用手捏成坨，叫做「糌粑」；也可以釀製成青稞酒。青稞是中國某地居民的主要糧食作物，依其生長條件判斷，青稞主要分布於青藏高原，下列為中國四種氣候圖，依圖中資料判斷，哪一個最符合上述地理區的氣候圖？ P.14



11. 「阿里是這個自治區最偏遠的地區之一，面積 34.5 萬平方公里，平均海拔在 4,500 公尺以上。近年來，隨著野生動物保護力度不斷加大，該地區境內的野生動物數量逐年增多，據報載，有記者於西元 2020 年 5 月在該地區拍攝到了罕見的『金絲野犛牛』，由於牠們生存在高寒缺氧、人跡罕至的羌塘高原，加上數量稀少，行蹤難被掌握，因此很難發現。」文中提及的自治區最可能為下列何者？
(A)甲 (B)乙 (C)丁 (D)戊。 P.14-15



12. 中國某地理區特殊的傳統民居型態，厚實的黃土屋頂及圍牆呈現冬暖夏涼的特色，也形成「人家半鑿山腰住，車馬多從頭頂過。」的奇特景觀，在附圖中何地，最容易看到這種特殊的居住景觀？ (A)甲 (B)乙 (C)丙 (D)丁。 P.16

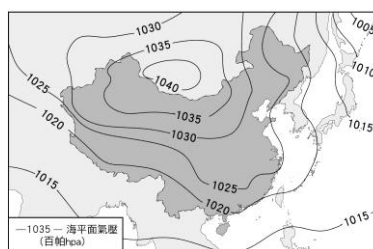


13. 呈上題，中國為滿足人口成長的需求，設立多處「全國性商品糧基地」，上圖中何處農民為了提高糧食的生產量，以機械化的方式提升效率？(A)甲 (B)乙 (C)丙 (D)丁。
P.19

14. 近年來，中國農、牧業已從傳統的自給自足轉變為以商業性為主。為使專業化生產的農、牧產品，能更有效率輸送至各地，並降低成本，下列哪一個配套措施更顯得重要？ (A)改善交通系統 (B)改良農業技術 (C)更新宣傳方法 (D)改進灌溉設施。 P.19

15. 中國因應經濟發展需求，在某地區已經有現代化的企業畜牧場，當地以機械轉盤擠奶設施，快速且大量採集鮮乳，以供應市場所需，上述牧場最有可能是下列何者？
(A)新疆 (B)西藏 (C)內蒙古 (D)廣西壯族。 P.19

16. 附圖是中國某季節的氣壓圖。由圖推判當時的季節，選出氣壓與風向示意圖，H、L各代表高、低氣壓，箭頭代表風向。下列何者為當時正確的氣壓風向圖？ P.19



- (A) (B)
(C) (D)

17. 自春秋戰國以來，為了緩解糧食的壓力，歷代君王提倡圍湖造田或圍河造田，來增加耕地面積。西元1958年，毛澤東提出「大躍進」，大批農民遷移到洞庭湖地區，使湖南省的圍湖造田達到高峰。圍湖造田表面上解決糧食問題，卻可能造成下列哪一種環境問題？ (A)乾旱 (B)颱風 (C)水患 (D)土石流。 P.18

◎「歷史人物版」猜猜我是誰：

請根據下列歷史人物旁邊的描述，選出最適合的答案。



他被回紇等部族擁戴為「天可汗」，成為各部族的共主與最高領袖。各部族在回紇以南、突厥以北建立一條「參天可汗道」，並在各地設置供使臣的馬匹休息，及提供使臣酒肉及休憩的處所。」

18. 請問下列有關於上述歷史人物的敘述，何者正確？ (A)他是漢朝的皇帝 (B)他派遣使者打通絲路 (C)他出兵攻滅東突厥 (D)他實施焚書坑儒的政策。(p81)



他結束東周時期五百多年諸侯割據的混戰局面，為中國近兩千年來文化、經濟的統一奠定基礎，卻也因專制獨裁、橫徵暴斂、嚴刑峻法，賦役繁重而大失民心，成為中國歷史上暴君的代名詞。

19. 請問下列哪一件事與上述的歷史人物**無關**？(A) 他以「皇帝」作為君主的稱號 (B) 他統一文字、貨幣、車軌、度量衡 (C) 他實施郡縣制度統治國家 (D) 他推行胡漢融合政策。(p78)



他被皇帝派遣出使西域，希望聯合西域國家的力量對抗匈奴。他在出使的過程中，詳實記錄西域的地理、人口、特產、兵力等情況，也從西域引進汗血馬、黃瓜、葡萄等物，增進國人對西域地區的認識。

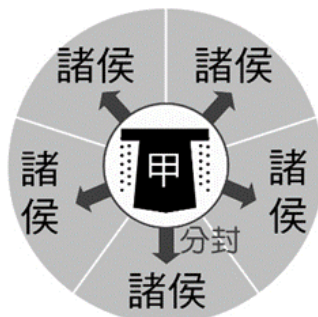
20. 請問上述的歷史人物為下列何人？(p80)
(A) 張騫 (B) 商鞅 (C) 玄奘 (D) 文成公主。

◎時光旅人：請根據下列朝代背景的描述，判斷出這是中國歷史哪一個朝代的現象。

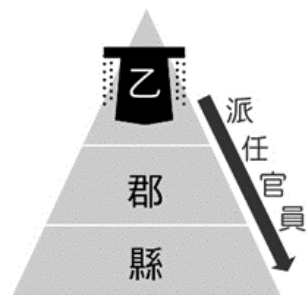
21. 這個朝代崇尚儒家經典，使得經學的研究風氣日益興盛，不少學者在不斷鑽研經學後得到獨特的見解，形成一家之學，累世相傳的情況；加上通達經書者得以任官的規定，擁有「家學」者易累世為官。請問上述朝代最有可能指的是下列何者？
(A) 西周 (B) 東周 (C) 秦代 (D) 漢代。(p78)
22. 這個朝代的首都長安大街上有許多高鼻深目的突厥人、粟特人、天竺人等，還可觀看到充滿異國風情的胡旋舞和喝到美味的葡萄酒。此外，許多來自日本、新羅的留學生，在首都長安的學校學習中國的文化。請問上述朝代最有可能指的是下列何者？
(A) 唐代 (B) 秦代 (C) 漢代 (D) 魏晉南北朝。(p82,83)
23. 這個朝代的統治者將土地劃分給諸侯，名義上國家土地是天子王室的，但事實上分別由獲得封地的諸侯所管理，他們擁有分封土地上的所有資源和收益，只需向王室繳納一定的貢賦即可，並且要負起保衛王室的義務。」請問上述朝代最有可能指的是下列何者？
(A) 西周 (B) 秦代 (C) 漢代 (D) 唐代。(p77)

24. 一位剛從北方遷到南方建康城的世族子弟劉小樂，談及她搬家的原因：「北方不久前爆發大亂事，亂軍攻入首都洛陽，將洛陽劫掠一空，並俘虜皇帝跟王公貴族等，人心惶惶，我才趕緊帶著家人搬到南方來。」請問以下關於上面事情的描述，何者**錯誤**？
(A) 劉小樂原本在北方所處的朝代為西晉 (B) 劉小樂所遇到的亂事為「永嘉之禍」 (C) 發動亂事的民族為鮮卑族 (D) 劉小樂逃到南方之後，不久後南方建立起東晉政權。(p81)

25. 王小瑄有一天在網路上看到「佾舞」是古代最隆重的祭祀所使用的儀式，「佾」的意思即為「行列」。西周以來，曾有觀看樂舞的相關規定：天子「八佾」，即供六十四人；諸侯「六佾」，即三十六人……。以此判斷，當時之所以制定這樣的規定，其原因應與下列何者相關？(A) 避免各地諸侯征戰 (B) 培養政府所需官員 (C) 招募政府所需人才 (D) 區別貴族身份等級。(p77)
26. 上歷史課時，老師在黑板上畫了兩個不同時期的政治制度的圖表，請問下列有關於這兩個圖表的敘述，何者的敘述是**錯誤**的？(p76,78)



▲圖 1



▲圖 2

- (A) 圖 1 指的是封建制度，圖 2 指的是郡縣制度 (B) 圖 1 中的甲指的是「周天子」，圖 2 中的乙指的是「秦始皇」 (C) 圖 1 封建制度的缺點是缺乏宗室的屏障，比較無法保衛王室 (D) 圖 2 郡縣制度，地方長官由中央任命，可以達到中央集權的目的。
27. 施小哲下載了一個以墓穴探險解謎的動作遊戲，遊戲中施小哲將扮演考古隊中的專業人士，帶領考古隊前往中國各地墓穴挖掘寶藏，並且解讀墓穴中的文物。在新手教學中，施小哲成功克服墓穴中的種種機關，拿到了一個重要的破關道具：墓穴主人的日記。此破關道具欄中說明，該日記為鮮卑文寫成，但因為歲月久遠的關係已經破舊不堪，目前解讀的內容只有：「……我堂堂獨孤家的子孫，竟要被昏庸的君主強迫改成姓劉…但太子洵已被處死，目前也只能忍耐，等待時機……為確保安全，還是不去新都洛陽，留在舊都平城再做打算……」請問根據上面日記內容的描述，下列的敘述何者**錯誤**？
(A) 根據此墓穴主人日記的內容，這個墓穴主人很有可能是魏晉南北朝中北魏的人 (B) 根據此日記的內容，這個墓穴主人的君主很有可能在推行漢化政策 (C) 根據此日記的內容，這個墓穴主人的君主很有可能是北魏孝武帝 (D) 根據此日記的內容，這個墓穴主人的君主很有可能會鼓勵他和漢人通婚。(p81)
28. 愛看書的賴小竹在《資治通鑑》中看到以下一段文字：「仙芝聞之，將蕃、漢三萬眾擊大食，深入七百餘里，至怛羅斯城，與大食遇。相持五日，葛羅祿部眾叛，與大食夾攻唐軍，仙芝大敗，士卒死亡略盡，所餘才數千人。」文中描述的戰事，後來造成下列哪一個影響？
(A) 佛教傳入中國 (B) 胡旋舞盛行 (C) 中國造紙術西傳 (D) 日本唐化運動展開。(p83)

29. 用功的吳小蓁以「**佛教在中國的發展**」為主題製作了一個表格如下所示，請問其中哪一個選項有**錯誤**(p82)

項目	時間	內容
(A)	秦代	透過絲綢之路經西域傳入中國
(B)	魏晉南北朝	社會動盪，人心需要慰藉而廣為流傳
(C)	魏晉南北朝	佛教盛行，開始開鑿莫高窟、雲岡、龍門石窟等佛像藝術
(D)	唐代	佛教鼎盛，此時玄奘西行取經並翻譯佛經，貢獻甚大

30. 下面附圖為中國兩個朝代的興起示意圖，甲、乙分別代表中國的兩個朝代，請問下列敘述何者**正確**？ (A) 乙朝代的出現早於甲朝代 (B) 乙朝代滅亡的原因是因為受到外族的入侵 (C) 甲朝代實施中央集權郡縣制度 (D) 乙朝代的社會不區分階級貴賤。(p76)



31. 小琳老師在上表藝課時，請班上學生們分組構想一齣橫跨多朝代歷史的時代劇，下列是某一組學生上台表演的部分臺詞：

- ◎劉阿圻：「我對我的父母親非常孝順，因此地方官員推薦我至中央朝廷任官。」
- ◎簡小哲：「評選的官員都是世族，我是寒門出身，始終為下品，無法出頭天呀。」
- ◎王阿丞：「因為國君用人唯才，身為平民的我有機會當官了。」
- ◎謝小霖：「我多年苦讀，終於通過科舉考試光宗耀祖了。」
- ◎王阿輔：「我是一般的平民，在我這個時代當中，我沒有受教育的機會。」

請問根據上面五位學生的表演臺詞來判斷，哪一位學生所處的時代最早？另外哪一位學生所處的時代最晚？

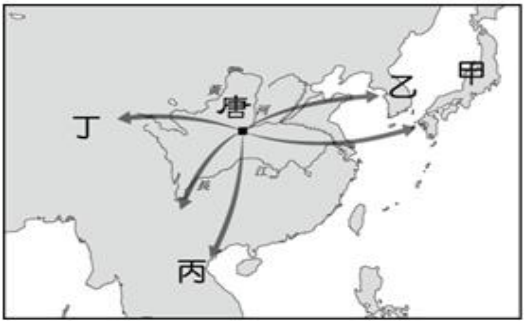
(A)最早：王阿輔，最晚：簡小哲 (B) 最早：王阿輔，最晚：謝小霖 (C) 最早：謝小霖，最晚：王阿丞 (D) 最早：劉阿圻，最晚：謝小霖。(p79)

32. 在歷史課時，老師正帶領同學們解讀一份秦代的史料：「某里的無爵平民王太雄：家屋一棟二室……；妻林小香在逃，不予查封；成年女兒王小美，未婚；未成年兒子王阿虎，身高六尺五寸；奴婢：未成年女子李小華；家中豢養雄犬一隻。」請問下列關於上述資料的描述，何者敘述**錯誤**？(p77)

(A) 秦國實施此一戶籍制度是從商鞅變法改革後開始實施 (B) 秦代政府針對每戶人口的年齡實施義務教育 (C) 秦代政府調查戶口用以徵稅與徵兵，並加強對人民的控制 (D) 從上述史料文字的描述，我們可以看出當時秦代

政府相當重視戶籍管理。

33. 「相傳唐朝時某國使者祿東贊奉命到達長安，向唐太宗提出和親，但當時亦有其他國家的使臣前來提親，這令唐太宗十分為難。最後唐太宗決定出題考驗使臣的智慧，以判定其國君的才幹，並答應讓「文成公主」嫁到勝出者所屬國家，這即是歷史上著名的「六試婚使」，而祿東贊也順利完成任務。」請問根據上文，祿東贊應是由下圖中哪一個國家的首領指派至長安？(p83)



(A) 甲 (B) 乙 (C) 丙 (D) 丁。

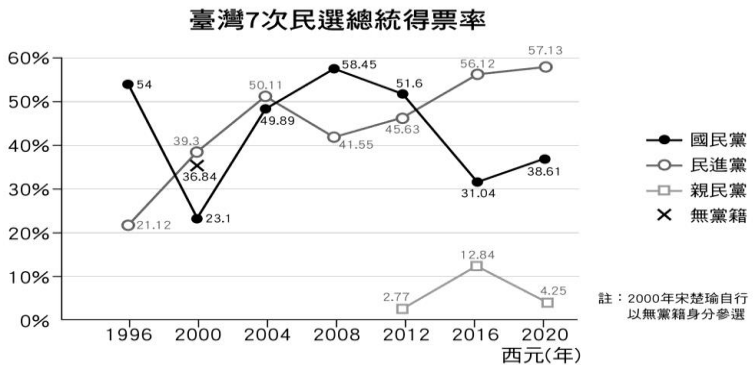
34. 史學家項林·約翰對於某個中國建築的工程有所研究，他評論道：「這是古代中國不同時期為抵禦塞外草原部落入侵，而修築的浩大軍事設施，後來逐漸成為草原部落與農業民族的分界線。」請問上述項林·約翰所指的應該是下列哪一項建築工程？(p80)

(A) 長城 (B) 運河 (C) 驛站 (D) 馳道。

35. 在敘利亞爆發內戰後，大量難民湧入歐洲，德國總理梅克爾(Angela Merkel)表示願意無條件接收敘利亞難民。但過多的難民湧入德國後，卻引發國內動盪不安、犯罪事件頻傳的社會問題。對難民感到恐慌的德國人從 38% 上升至 51%，梅克爾的支持率也從 63% 創低至 54%。難民政策讓梅克爾在西元 2018 年議會選舉接連受挫，她宣布放棄競選政黨主席一職外，也表示第四度總理任期結束後不再尋求連任。有關上述德國面對難民議題的相關敘述，下列何者正確？ (A)德國的國家構成要素中包含湧入的難民 (B)梅克爾一職屬於國家構成要素中的主權 (C) 德國國內反對聲浪是牽涉到社會秩序的安定 (D)出現難民潮是導因於德國國內經濟發展不佳。(p129)

36. 新聞報導：「總統率團展開外交出訪行程，前往中美洲友邦巴拿馬參加新任總統就職典禮，並將順道訪問另一個友邦薩爾瓦多。」上述總統的外交出訪行程，主要落實了何項國家組成目的？ (A)保衛國家安全 (B)保障基本人權 (C)發展社會福利 (D)維持社會秩序。(p129)

37. 下圖是我國歷屆總統大選得票率的變化圖。下列哪一項國家與政府關係的分析與該圖最為貼切？ (A)政黨輪替等同於國家主權的更替 (B)國家中的政府為一個持續性個體的組織 (C)若無法進行民意表達，國家將無法持續(D)政府執行國家事務的權力必須經過人民定期授權。(p130)



- 38 中正村被鄉公所規畫為垃圾焚化爐的興建地點，居民為了阻止垃圾焚化爐的興建，一同到鄉公所前抗議，但警察以該活動未依法申請，進行強制驅離。上述凸顯出民主政治運作的哪些內涵？ (A)民意政治、責任政治 (B)民意政治、法治政治 (C)責任政治、法治政治 (D)民意政治、政黨政治。(p131,132)
- 39 在傳統的君主封建時代中，「人治」是國家運作的核心，代表國家的統治以掌權者的意志為依歸。隨著社會變遷，現代民主國家開始重視「法治」精神。關於「法治精神」在民主社會中的定位，下列敘述何者正確？ (A)由人組成的社會終究要以「人治」為原則，「法治」則作為輔助的工具 (B)「法治」意味著法律可自行妥善運作，法治社會中可以完全杜絕「人」的影響力 (C)「人治」的效果往往因人而異，「法治」才可以建立穩定而客觀的標準 (D)在法治社會中，法律由統治者制定，作為管理國家與人民的強力工具。(p 138)
- 40 依據我國法律及國際法的規定，下列哪一個區域屬於我國的領土範圍？ (A)200 哩以內的經濟海域 (B)12 哩以內海域 (C)公海上空 (D)我國船隻所航行的海域皆是。(p128)
- 41 政府擬修法以遏阻房價遭投資客不當炒作，修法內容除了限制預售屋及新建成屋換約轉售，並加重炒作房價的罰則。下列相關敘述何者正確？ (A)人民正在對國家行使主權 (B)人民主權透過政策而彰顯 (C)政府以統治權來管理社會 (D)政府用法律維護國家主權。(p130)
- 42 標哥半夜在家中高歌時，發生附圖情形：



- 根據圖中所示，下列敘述何者正確？ (A)標哥的權利不應受任何限制 (B)警察的做法已侵害標哥權利 (C)警察說法符合依法行政精神 (D)警察以公權力保障標哥權利。(p131)

- 43 浩子與小莉聊到最近的熱門新聞，如附圖：



- 根據內容，小莉的回應最可能為下列何者？ (A)政府應該以公權力保障人民的權利 (B)人民有權力收回其賦予政府的權利 (C)人民依法行使投票權屬於依法行政 (D)人民有權利收回其賦予政府的權力。(p140,141)

- 44 以下是佳佳在某雜誌上看到的一段敘述——

英國歷史學家艾克頓爵士曾說：「權力使人腐化；絕對的權力使人絕對腐化。」意思是若一個人(或政府)的權力過於集中，則容易淪為獨裁。

根據內容判斷，由君主專制進展到民主政治中，政府權力的運作應更加重視何種原理？ (A)分權制衡 (B)主權在民 (C)中央集權 (D)主權至上。(p 142)

- 45 孫中山創立「五權分立」學說，主張行政、立法、司法、考試、監察五權應獨立運作，是因為他發現三權分立的學理並不完善，容易產生下列哪些問題？(甲)行政部門兼有考試權，可能出現濫用私人的狀況 (乙)行政部門兼有監察權，可能發生貪汙腐敗的現象 (丙)司法部門兼有監察權，可能導致效率低落的危機 (丁)立法部門兼有監察權，容易形成議會專制的弊端 (A)甲乙 (B)甲丁 (C)乙丙 (D)丙丁。(p143)

題組：

「甲」(人名)學說主張政府的行政、立法與司法職權範圍要分別獨立行使，以免權力過度集中，造成濫權。此學說起源可追溯至古希臘，而其後被法國的哲學家進一步發展。在美國憲法裡，【甲】詞從未出現，但卻有著清晰的指示。其指出「所有【乙】權力皆由美國國會所有」、「【丙】權力則由美國總統所有」、「【丁】權力由一個美國最高法院和一些次級法院所有」。其通過將政府權力劃分，以達至權力制衡，防止權力集中與濫權。

- 46 上文提出「甲」學說的學者最有可能為下列何者？ (A)孫中山 (B)蘇格拉底 (C)孟德斯鳩 (D)亞里斯多德。(p142)
- 47 根據上述言論判斷，此位學者主張最接近民主政治的哪一個原則？ (A)主權在民 (B)三權分立 (C)五權分立 (D)主權制霸。(p 142)
- 48 根據內容判斷，美國憲法中提及的【乙】權力，應為政府的何項權力？ (A)行政權 (B)司法權 (C)立法權 (D)監察權。(p143)
- 49 二百多年來，美國總統是美利堅合眾國的國家元首，同時也是美國行政機關的最高領袖與三軍統帥。由此可知，美國憲法賦予美國總統的【丙】權力，應為政府的何項權力？ (A)行政權 (B)立法權 (C)司法權 (D)監察權。(p143)
- 50 美國憲法規定的【丁】權力，是指政府的何項權力？ (A)考試權 (B)立法權 (C)監察權 (D)司法權。