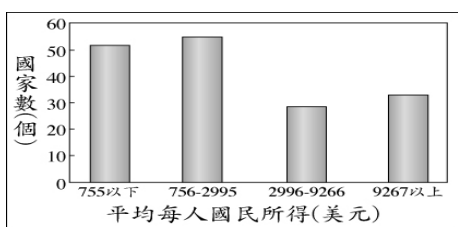


【讀卡科目請依規定畫卡，若有違反畫卡規定而影響讀卡作業之情事，一律扣總分五分。】

一、選擇題(每題2分,共100分)

1. 全球化的過程中，今日發生的傳染病，如愛滋病、禽流感、SARS、口蹄疫、新型 H1N1 流感與嚴重特殊傳染性肺炎等，其疾病的流動擴散與致病風險，都遠高於以往。請問：下列哪項因素是上文中最佳的解釋？ (A)運輸的快速與普及 (B)國際的產銷分工 (C)新型傳染病檢疫不易 (D)近年宅經濟盛行。(P40)
2. 圖（一）是小芳上臺報告時，用來輔助說明報告題目的統計圖。根據圖中內容判斷，他的報告主題最可能是下列何者？ (A)國際金融風暴 (B)全球貧富差距 (C)國際貿易盛行 (D)跨國企業增加。(P.42)

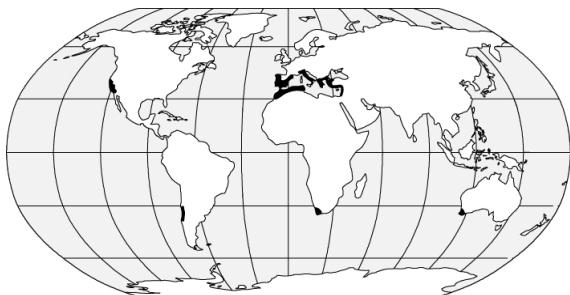


圖（一）

3. 區域性組織成立的目的是以加強區域內的經濟合作，提升對外的競爭力，依區域劃分的不同而有不同的結盟組織。以墨西哥為例，其同時加入哪兩個區域性經貿組織，受惠頗多？(甲)APEC (乙)AU (丙)EU (丁)NAFTA (A)甲乙 (B)甲丁 (C)乙丙 (D)丙丁。(P.46)
 4. 全球化的過程中，世界各國物品快速流通，因此彼此互相影響。請問：當非洲及南美洲的熱帶雨林地區發生森林大火，哪項商品的價格將會大幅波動？ (A)小麥 (B)稻米 (C)可可 (D)茶葉。(P.39)
 5. 交通革新的過程中，有利跨國企業的發展。下列有關跨國企業的敘述中，何者最為正確？p41
(A)生產規模不大，因應各國市場特色
(B)集中企業母國生產，有利節省運費
(C)跨國性的廣告銷售，市場遍及世界
(D)成本高於本國企業，依賴品牌行銷
- ※ 請根據短文，回答第 6 ~ 7 題(p.58)

生態系統的失衡將成為未來面對的嚴重問題，因此需要
在自然環境保育及人類生活型態中去取得平衡。請問：

6. 自然環境的特色影響當地的人類活動，如圖（二）所分布的地區最適合從事何種產業活動？

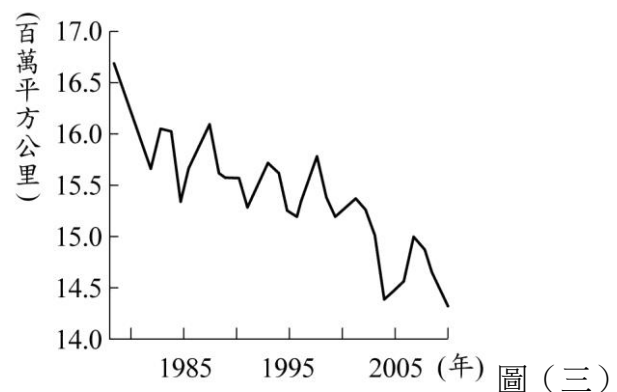


圖（二）

- (A)放牧牛群 (B)種植咖啡 (C)砍伐雨林 (D)栽種葡萄
7. 承上題，在當地從事相關的產業活動時，必須克服下列哪一項問題？(A)雨量不足 (B)缺乏勞力

(C)氣候嚴寒 (D)叢林密布

8. 《富比士》指出 2017 全球前 2,000 大上市企業中，科技領域有高達 49%是來自美國的企業，而前 10 名中，美國就占了 8 家。由上述報導可推論美國經濟具有下列哪一特色？ (A)經濟仰賴原料出口 (B)第一級產業發達 (C)產品的附加價值低 (D)掌握技術與資金。(P.41)
9. 隨著全球化的發展，各企業紛紛進行國際交流，成為時代的趨勢。下列為臺灣某電腦大廠的產銷措施，其中哪一措施和全球化的關係最小？ (A)商品至中國進行加工 (B)澳洲進口大量原料 (C)全臺各地廣設展覽場 (D)透過物流進行外銷。(P.42)
10. 圖（三）顯示歷年 2 月分北極海冰範圍變化情形，該變化趨勢與下列同時期何者的變化趨勢最為相似？ (A)全球熱帶雨林面積 (B)全球海平面的高度 (C)全球二氧化碳濃度 (D)全球淡水資源需求。(P.53)



圖（三）

11. 報載：「大北極熊族群居住的加拿大哈德孫灣，其冰封季節比 30 年前短 35 週，剝奪北極熊獵捕海豹的機會，海豹是牠們度過漫長夏季饑荒的基本脂肪來源。」請問：文中所報導之事實，與下列哪項環境議題的關係最密切？ (A)土地荒漠化 (B)全球暖化 (C)酸雨強度增加 (D)臭氧層破壞。(P.53)
12. 水資源問題為近年來備受關注的議題，尤其在下列哪一個氣候區內更加受到重視？ (A)溫帶季風氣候 (B)溫帶海洋氣候 (C)熱帶雨林氣候 (D)熱帶沙漠氣候。(P.57)
13. 全球性經濟活動的運作下，許多經濟性組織紛紛因應而生。請問：下列哪一個組織具有「加強區域內國家合作、增強面對區域外國家的競爭力」的目的？(p.46)
(A) WTO (B) UN (C) NAFTA (D) IMF
14. 國內部分產業在國際市場上面臨區域整合的貿易危機，例如：臺灣紡織業部分產品已被法國課徵相當高的關稅，臺灣紡織業者若欲避免在法國市場因關稅所造成的競爭力下降，則到下列哪一國設立工廠再輸往法國最為適合？(A)中國 (B)泰國 (C)波蘭 (D)墨西哥(p.46)
15. 以下為某國際公約的三個主要目標：(1)保障生物多樣性。(2)可持續利用其組成部分。(3)公平分享資源所帶來的好處。由以上敘述可知此公約為下列何者？(P.58)
(A)《生物多樣性公約》 (B)《京都議定書》 (C)《地球高峰議定書》 (D)《蒙特婁公約》
16. 圖（四）是蘭嶼達悟族祖傳對飛魚季的規範。這一規範

歷代達悟族人必須嚴格遵守，且依照傳統習俗，飛魚季時還要舉行三次祭典。請問：此一規範主要是落實下列何種資源利用的觀念？ (A)減少供給量 (B)產業升級 (C)提供加工原料 (D)尋求永續經營。(P.59)



圖(四)

17. 登革熱疫情是臺灣夏天時十分受注目的環境與健康問題，登革熱原本只發生於熱帶地區，現今病媒斑蚊的分布範圍已擴大到溫帶地區。請問：上述現象的原因最可能是下列何者？ (A)酸雨現象加劇 (B)全球氣候變遷 (C)病毒抗藥性增強 (D)土地沙漠化嚴重。(P.55)
18. 以「拒絕納稅」、「抵制英貨」、「不任公職」……種種非暴力方法，癱瘓英國殖民政府，鼓勵人民爭取獨立建國的是下列何者？ (A)甘地 (B)凱末爾 (C)威爾遜 (D)羅斯福。(P.91)
19. 某一些國家為了能在政治和經濟兩方面與當時的美、蘇兩大集團相抗衡，於是有下列哪一國際組織應運而生？ (A)第三國際 (B)共產國際 (C)國際聯盟 (D)第三世界。(P.103)
20. 聯合國由六大主要機構所組成，其中負責解決國際糾紛，常任理事國擁有否決權的機構是下列何者？ (A)大會 (B)安全理事會 (C)國際法庭 (D)秘書處。(P.98)
21. 1990年第一家進入莫斯科的西方企業是來自美國的麥當勞速食店，請問這種情形的出現，應該與下列何事有關？ (A)戈巴契夫努力推動經濟改革 (B)史達林施行計畫經濟的成果 (C)列寧進行共產主義革命成功 (D)葉爾辛改組獨立國協的效應。(P.107)
22. 西元1919年「三一運動」是一場大規模的抗日活動。這是當時何地的民族復興運動？ (A)印度 (B)朝鮮 (C)菲律賓 (D)臺灣。(P.91)
23. 19世紀時馬志尼曾以「恢復古羅馬光榮」，鼓吹義大利民族運動。至20世紀時，何人也曾提出此一口號，取得政權，建立極權統治？ (A)希特勒 (B)史達林 (C)列寧 (D)墨索里尼。(P.94)
24. 下列哪些代表冷戰時代的區域性戰爭？(甲)日俄戰爭(乙)越戰(丙)以阿戰爭(丁)韓戰 (A)甲乙丙 (B)甲乙丁 (C)乙丙丁 (D)甲丙丁。(P.104,105)
25. 美、英兩國為了換取蘇聯對日宣戰的承諾，不惜在哪一場會議中犧牲中國的權益？ (A)巴黎和會 (B)德黑蘭會議 (C)雅爾達會議 (D)開羅會議。(P.97)
26. 西元1947年7月，美國的蘇聯問題專家肯楠在外交季刊上發表了一篇專文，主張美國對蘇聯的擴張，必須採取「長期而忍耐、但又堅定而警覺的圍堵政策……每當蘇聯對世界任一地區顯示侵略企圖時，美國必須以堅定不移的相對力量加以制止。」根據上述資料，後來美國可能組成哪個組織，作為因應？ (A)華沙公約組織 (B)獨立國家國協 (C)亞太經濟合作會議 (D)北大西洋公約組織。(P.103)
27. 第二次世界大戰美國中途加入戰局，促使美國參戰的

主因是什麼？ (A)德國入侵波蘭 (B)日本偷襲珍珠港 (C)美國簽署聯合國憲章 (D)義大利併吞衣索比亞。(P.96)

28. 英國首相張伯倫曾說道：「若不滿足希特勒的企圖，可能引爆一場世界大戰，為避免戰爭的爆發，我們也只有犧牲捷克的權益了，唯有這樣才能贏得屬於我們這一代的和平。」這段對話顯示英國首相抱持著哪一種態度？ (A)極權主義 (B)共產主義 (C)姑息主義 (D)孤立主義。(P.95)
29. 1930年代亞洲和歐洲分別因為下列哪一事件的爆發，而掀起二戰的戰火？ (A)九一八事變、德國併吞捷克 (B)珍珠港事變、蘇聯進攻日本 (C)盧溝橋事變、德國侵略波蘭 (D)珍珠港事變、德國侵略蘇聯。(P.95)
30. 楊明源校長想組團到歐洲參觀冷戰時期最具代表性的建築物遺址，請問你會推薦下列哪一遺址才能最符合校長需求？ (A)希臘-聖索菲亞教堂 (B)波蘭-奧特維茲集中營(C)美國-雙子星大樓 (D)德國-柏林圍牆。(P.104)
31. 2001年美國爆發「911事件」，導致兩千多人傷亡，這個恐怖行動的成因十分複雜，其中包括了阿拉伯國家對美國的不滿。回溯歷史得知，由於美國支持下列哪一國家建國，因而引起伊斯蘭教國家的不滿情緒？ (A)伊拉克 (B)以色列 (C)土耳其 (D)阿富汗。(P.105,110)
32. 西元1933年，美國總統羅斯福為解決經濟大恐慌所造成的眾多失業人口及社會問題，採用哪位經濟學家的「以消費刺激經濟繁榮」理論，並推動多項大型公共工程，才逐漸改善此一局面？ (A)凱末爾 (B)凱因斯 (C)亞當斯密 (D)馬克思。(P.93)
33. 西元1917年的俄國臨時政府無力解決政經危機，布爾什維克黨順勢提出「和平、土地、麵包」的口號發動革命。下列相關敘述何者正確？ (A)布爾什維克黨後改稱共產黨 (B)領導布爾什維克黨發動革命的是史達林 (C)俄國人不願繼續參與第二次世界大戰 (D)推翻臨時政府的革命為「七月革命」。(P.92)
34. 娜美打算會考後去歐洲進行為期一個月的旅行，預定要去德國、荷蘭、奧地利、比利時、法國、西班牙等國。你會建議她應該先兌換哪一種貨幣，讓這趟歐洲之旅更為便利？ (A)美金 (B)英鎊 (C)歐元 (D)馬克。(P.108)
35. 為了遏止全球暖化的趨勢，世界各國在2015「聯合國氣候峰會」中，簽定以下那個國際文件，以接替「京都議定書」？(p.137、151)
(A)巴黎協定
(B)聯合國氣候變化綱要公約
(C)溫室氣體減量與管理法
(D)蒙特婁議定書
36. 以下那一個國際條約，具有我國國內法的效力？(p.150)
(A)世界人權宣言
(B)聯合國氣候變化綱要公約
(C)公民與政治權利國際公約
(D)禁止核子武器擴散條約
37. 由於中共的杯葛，我國很難以官方身份參加政府間的國際組織或國際會議，但我國努力突破中共的外交封鎖仍有部分成效。請問以下何者是我國加入的全球性

- 政府的國際組織？(p.144)
(A)國際奧林匹克委員會 (B)世界貿易組織
(C)亞太經濟合作會議 (D)世界刑警組織
38. 以下那一個國際條約，是世界各國為了防止臭氧層破洞擴大，禁止繼續使用氟氯碳化物而簽訂？(p.148)
(A)京都議定書 (B)溫室氣體減量及管理法
(C)蒙特婁議定書 (D)巴黎協定
39. 下列何者為全世界最大的國際政府組織？(p.141)
(A)國際刑警組織
(B)星際聯邦
(C)國際奧林匹克委員會
(D)聯合國
40. 今年新冠肺炎全球傳染，疫情嚴重。我國防疫成果斐然，並且為了主動協助其他國家防疫，自3月下旬至今，已捐助各國至少1500萬張口罩。請問：我國捐助口罩的行為，屬於那一種國際互動方式？(p.137-138)
(A)國際援助 (B)國際合作 (C)國際交流 (D)國際衝突
41. 為了彌補助全球貿易產生的貧富差距，下列那一個組織倡議改進國際貿易，給了農勞工合理的報酬，並且將部分利潤用於改善當地的教育、飲水和醫療？(p.149)
(A)經濟合作發展組織
(B)世界貿易組織
(C)國際公平貿易標籤組織
(D)世界銀行
42. 下列何者是「全球性」的「NGO」？(P.139-141)
(A)世界刑警組織 (B)亞太經濟合作會議
(C)國際衛生組織 (D)國際奧林匹克委員會
43. 下列那一個政府的國際組織，其功能是推動核武裁軍，促進和平使用核能？(p.143)
(A)國際世界展望會 (B)國際原子能總署
(C)國際綠色和平組織 (D)無國界醫生組織
44. 美國總統川普上任後，強力要求中國遵守WTO之精神，對美國廠商平等開放其國內市場。中國不同意，因此川普下令對中國輸出到美國的數千種商品課徵高額關稅，中國亦以同樣方式回應。請問：上述事件中，中美處於那一種國際互動型態？(p.137-138)
(A)國際合作 (B)國際交流 (C)國際援助 (D)國際衝突
45. 各國政府為了共同打擊國際犯罪，合作緝捕罪犯，共同建立下列那一個國際組織？(p.153)
(A)國際反恐委員會 (B)國際綠色和平組織
(C)國際刑警組織 (D)國際特赦組織
46. 由於中共的杯葛，我國很難以官方身份參加政府間的國際組織或國際會議，但我國努力突破中共的外交封鎖仍有部分成效。請問以下何者是我國加入的區域性政府的國際組織？(p.144)
(A)WTO
(B)WHO
(C)ASEAN
(D)APEC
47. 由於中共以「全世界只有一個中國」為由，阻止我國以正式國名加入國際組織，因此，部分願意接納我國參加，請我國改以別的名稱加入。請問：我國以下列那一個名稱加入WTO？(p.144)
(A)臺澎金馬個別關稅領域
(B)臺灣
(C)中華臺北個別關稅領域
(D)中華臺北
48. 我國推動節能減碳，在2015年通過以下那一項法律，承諾在2030年前至少減碳50%？(p.151)
(A)巴黎協定
(B)溫室氣體減量與管理法
(C)聯合國氣候變化綱要公約
(D)空氣污染防治法
49. 下列那一個國際組織，負責全世界傳染病的調查、監控和防治？(A)WTO (B)NGO (C)WHO (D)CHO。
(p140)
50. 下列何者是我國為了對友邦進行技術合作、人道援助、國際教育，而成立的組織？(p138)
(A)國際公平貿易標籤組織
(B)國際合作發展基金會
(C)國際綠色和平組織
(D)國際青年志工組織