

# 新北市立中正國民中學112學年度第一學期九年級社會科 第二次段考試題

範圍：地理 B5 L3-4 歷史 B5 L3-4 公民 B5 L3-4 班級：\_\_\_ 座號：\_\_\_ 姓名：\_\_\_

【讀卡科目請依規定畫卡，若有違反畫卡規定而影響讀卡作業之情事，一律扣總分五分。】

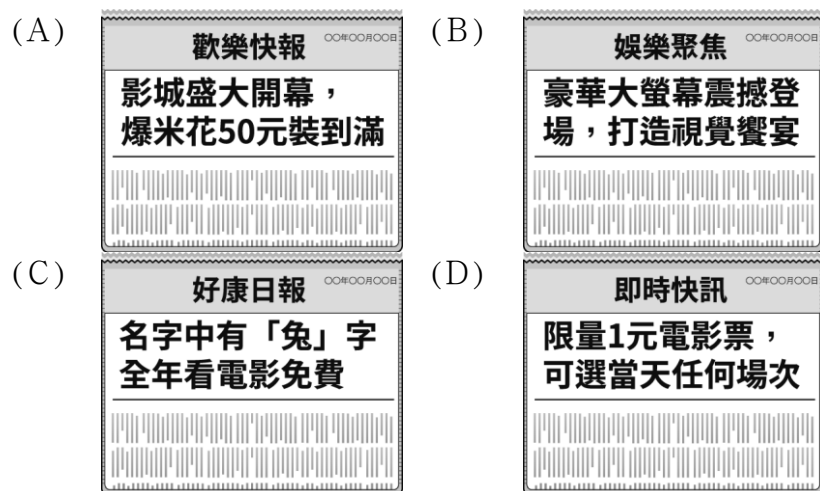
## 一、選擇題(共50題，共計100分)

1. 很多行業在市場中競爭激烈，依據附圖對話內容判斷，關於這家商店的營運方式，下列說明何者「**正確**」？（課本P160-161）



- (A)以折扣優惠促銷商品 (B)採取非價格競爭方式  
(C)降低品質來減少成本 (D)運用社群媒體做宣傳。

2. 佑佑正在學習市場競爭方式，想尋找「非價格競爭」的例子，下列哪一則社群媒體的報導符合需求？（課本 P160-161）

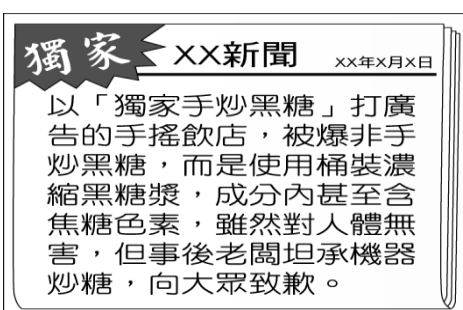


3. 九年二十三班的同學以戲劇演出方式解釋市場經濟，根據以下角色判斷，下列何人的臺詞「**完全正確**」？（課本P160-163）

演出角色表：  
麵線店老闆—阿華  
花店老闆—阿俊  
顧客—阿蘭  
顧客—阿靖

(A)阿華：我的目的是賺取利潤(B)阿俊：我在市場進行交易，是為了滿足生活所需(C)阿蘭：當市場競爭激烈的時候，我的選擇並不多(D)阿靖：若單純以價格為考量，我選擇價格較高者

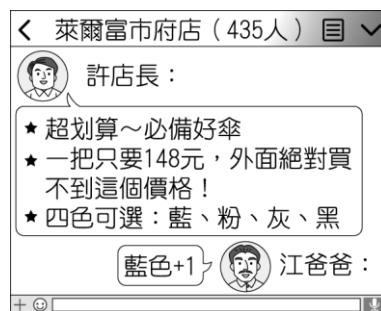
4. 花花點擊網路新聞時發現平常愛喝的手搖飲登上頭版，如附圖。請問：店家的行為是屬於下列哪一種損害消費者權益的方式？（P164-165）(A)仿冒他人商品(B)以不實廣告欺騙消費者(C)販賣黑心食品(D)未妥善處理消費糾紛



5. 江江下班回來，大廈管理員親切的說：「李小姐，你的網購包裹送來了。這個月住戶買得特別多，你看管理室堆了滿滿的包裹！」江江尷尬的說：「雙十一購物很划算，而且一天內就會送到，所以就多買了。」根據以上的對話內容，其進行交易的市場型態，與下列何者「**相同**」？（課本 P170-171）(A)周日早晨，小哲到巷口早餐店購買一份漢堡回家享用(B)小鈞在網路上看周年慶廣告，決定到百貨公司購買玩具(C)阿介透過電視購物頻道，購買母親節要送給媽媽的鍋具(D)阿勳傍晚補習結束後，到住家附近的便利商店購買洋芋片
6. 小花家經營的餐飲店貼出徵人告示如下，根據其內容，下列何者說明「**正確**」？（課本P172-173）

誠徵以下正職人員 待遇面議  
1. 店內環境清掃人員 1 名  
2. 中式餐飲廚師 1 名  
3. 服務生 2 名

- (A)應徵正職人員須同時擅長三種工作  
(B)此種生產模式會降低產品品質  
(C)員工同時負責三種工作可降低成本  
(D)此餐飲店採用專業分工的生產模式。
7. 江爸爸逛市場時看到一把新傘想要購買，正巧收到Line群組的訊息發現同一把傘在促銷，附圖中的促銷活動是屬於哪一種市場競爭方式？



- (A)企業形象(B)多元化服務(C)價格(D)產品品質為增進對公民課堂知識的理解，幾位同學正在討論國際分工的特色，下列何人的發言「**完全正確**」？（課本P172-175）
- (A)奈奈：各國專業生產機會成本較低的商品  
(B)汐汐：可提升生產效率並減少產品數量  
(C)生生：低技術勞工轉為從事高技術工作  
(D)雨雨：導致民眾對產品的購買意願降低。
9. 棋棋正在和朋友討論最近的購物經驗，根據附圖對話判斷，下列哪一項解讀「**正確**」？



- (A)奈奈：各國專業生產機會成本較低的商品  
(B)汐汐：可提升生產效率並減少產品數量  
(C)生生：低技術勞工轉為從事高技術工作  
(D)雨雨：導致民眾對產品的購買意願降低。

(課本P174-175)

10. 花花國與樹樹國兩國正在進行芒果進出口貿易的協議，尚未開放前兩國的國內生產與交易數據如附表，根據表中內容判斷，下列何項推論「**正確**」？(課本P174-175)

花花國		樹樹國	
生產量	100 公噸	生產量	10 公噸
價格 (每公斤)	15 元	價格 (每公斤)	115 元
國內銷售量	60 公噸	國內銷售量	10 公噸

- (A)樹樹國將出口芒果至花花國販售  
(B)國內芒果的價格會因大量進口而提高  
(C)國際貿易可解決樹樹國芒果過剩問題  
(D)花花國因芒果交易獲得貿易收入
11. 喬喬前往國外求學，為賺取學費，她在網路上教法語，透過電腦設備，每天和學生約定時間上線，每次上課一小時，指導他們聽和說。根據上述，下列說明何者「**正確**」？(課本P170-171)
- (A)郁喬與學生是在有形市場交易  
(B)郁喬提供的教學屬於有形財貨  
(C)郁喬是生產者，學生是消費者  
(D)教課時使用的電腦可稱為商品
12. 小雅在網路上購買一件小洋裝，收到貨時卻發現和賣家網站照片上的顏色不一樣，她打給賣家想要退貨，但賣家聲稱貨物既出，概不退還，頂多只能夠接受更換其他商品。下列有關小雅處理此次消費糾紛的方式，何者「**恰當**」？(課本P164-165)
- (A)向消費者服務中心尋求專業的協助  
(B)自認倒楣，默默接受不適合的商品  
(C)依公平交易法，控告賣家廣告不實  
(D)委曲求全，同意賣家更換其他商品。
13. 在台灣平均走 5 分鐘就有一家便利商店，咖啡取得方便，超商也常推優惠搶客，一家推出中杯單品美式買 6 送 6，另一家則祭出大杯美式買 1 送 1，搶攻咖啡消費市場。上述便利商店咖啡銷售所採取的競爭方式與下列何者「**相同**」？(課本P160-161)
- (A)身分證對中 2 碼 609 元爽住星級飯店  
(B)網路購物享有運送到家服務  
(C)線上會員累積點數換贈品活動  
(D)線上訂購低溫商品，可超商取貨。
14. )政府為了培養民眾正確與理性的消費行為，發起相關宣導運動，如「標示不全商品不買」、「問題食品藥品不吃」、「1950 專線要記牢」。上述這些文宣活動應該是下列哪個單位負責推動？(課本P164-165)
- (A)消費者保護處  
(B)公平交易委員會  
(C)消費者文教基金會  
(D)國家通訊傳播委員會。
15. 附表為四名員工每小時生產衣服或長褲的產量。在不考慮其他條件下，何人生產一件「衣服」的機會成本較「低」？(課本P172-173)

(A)靜靜(B)大大(C)安安(D)阿福。

	衣服(件)	長褲(件)
靜靜	4	8
大大	9	3
安安	10	4
阿福	12	5

16. 阿雄與家人至彰化王功漁港旅遊，體驗採蚵，活動結束後準備吃晚餐，發現因當地養蚵業興盛，蚵仔煎店家眾多，猶豫要吃哪一家才好。請問：根據當地蚵仔煎店家的數量判斷，下列何者「**正確**」？(課本P162-163)
- (A)缺乏同類型廠商競爭  
(B)消費者的選擇少  
(C)屬於高度競爭的市場型態  
(D)蚵仔煎價格只能由店家所控制。

【題組題】：以下為歷史上曾建立過橫跨歐、亞、非三洲的六個帝國，請閱讀圖片並回答 17-21 題



後面尚有試題



戊



己



17. 請依序將帝國建立的時間排列出來，以下何者**正確**？(A)甲乙丙己丁戊(B)丙己乙甲丁戊(C)己乙丙甲戊丁(D)丙己甲乙戊丁（課本P.103）

18. 基督教體系曾因某帝國的歷史與政治關係而建立了官僚化制度，後來某帝國分裂與一連串因素導致第一次的基督教宗教分裂。請問某帝國指的是哪一張圖？(A)甲(B)乙(C)丁(D)己（課本P.98-100）

19. 「□攻陷君士坦丁堡的消息對歐洲人造成極大衝擊，尤其是向來主導歐洲貿易、蓬勃發展的威尼斯，因為其經濟繁榮的基礎就是在整個歐洲販售從亞洲進口的辛香料、織物、瓷器等東方貿易活動，現在面臨全面中斷的危機，威尼斯為了恢復貿易重鎮的地位，明知教廷不滿商人和異教徒來往，也決心和□修復關係。」請問□指的是哪一個帝國？(A)甲(B)乙(C)丁(D)戊（課本P.110）

20. 該國在八世紀時擴張到鼎盛狀態，與當時東方中國的□朝遙遙相望，並且以巴格達為中心，並建立海陸長城貿易的商業路線，發明支票，並將此商業制度與他國技術傳播到歐洲，對東西文化交流頗有貢獻。請問文中敘述的某國應該是指何者？(A)乙(B)丁(C)戊(D)己（課本P.101-103）

21. 承上題，關於中國□朝的敘述，請問何者**正確**？(A)因為怛羅斯之役的敗仗，導致該朝發明的活字版印刷術西傳，奠定文藝復興的基礎(B)大量翻譯古希臘、羅馬典籍，建立圖書館保存文獻書籍(C)傳播佛教文化輸出至日本、朝鮮，對佛教傳播頗具貢獻(D)西征至歐洲，導致大量移民遷到義大利北部，引發古文化研究熱潮（課本P.101-102、110-111）

22. 《摩奴法典》中寫道：「刹帝利辱罵婆羅門，罰款100帕那（銀錢單位）。吠舍辱罵婆羅門，罰款150到200帕那。首陀羅辱罵婆羅門，用滾燙的油灌入他的口中和耳中；婆羅門污辱刹帝利，罰款50帕那。婆羅門污辱吠舍，罰款25帕那。婆羅門污辱首陀羅，罰款12帕那。高級種姓的人，如果殺死一個首陀羅，僅用牲畜抵償。」請問：以文中內容作為證據，可以得到下列哪一個**最合適**的結論？(A)說明阿利安人建立種姓制度的緣起(B)從文中責罰條件未見報復主義，可見法律面前人人平等(C)內容可見國王為鞏固自身地位，為婆羅門階層(D)從文中可通過處罰輕重排序各階級地位（課本P.96）

23. 承上題，關於此階級的緣起與發展，請選出下列敘述何者**正確**？(A)種姓制度的階級誕生結合了印尼王朝婆羅門教信仰(B)婆羅門教的經典為吠陀經，主張突破輪迴、眾生平等(C)佛教的出現是為了反駁種姓制度的階級觀念，行善修行即可超脫輪迴(D)佛教現今在起源地已經式微，幸好西元前八世紀有阿育王推廣佛教，使得佛教現在仍流行於東亞地區（課本P.96-97）

24. 小黃跟朋友們下課時間正在討論耶穌與基督教的話題，請問下列選項誰說**錯**了？(A)小黃：耶穌與基督教誕生於羅馬和平時期，是羅馬帝國最巔峰的年代(B)小楊：耶穌批評猶太教的腐敗，主張神愛世人(C)大楊：翻閱舊約聖經可以找到關於耶穌的生平事蹟(D)嘴哥：基督教與猶太教的神是相同的，皆為耶和華（課本P.98）

25. 此圖為拜占庭帝國最珍貴的教堂遺產——坐落於君士坦丁堡的聖索非亞大教堂，請用你的歷史知識判斷下列何者敘述**不正確**？(A)這座教堂座落於現今土耳其的伊斯坦堡(B)這座教堂過去曾是希臘正教重要的宗教場所(C)圍繞中央的四根尖塔顯示中古後期的哥德式建築風格(D)現在這座建築物在十五世紀被鄂圖曼土耳其佔領後改為清真寺。（課本P.99-100）





請閱讀資料，回答第 26-28 題

第 20 條：當教宗說赦免一切懲罰時，並不真的指所有的懲罰，而僅僅是指他本人所施於人的懲罰。

第 28 條：當錢幣在錢櫃中叮噠作響，增加的只是貪婪和利己之心。至於教會代禱的功效，僅由神主宰。

第 37 條：真誠悔過的基督徒，或生或死，就是沒有贖罪券，也能分享神和教會的賜福和恩典。

第 94 條：應當告誡基督徒通過苦行、死亡和地獄，忠心追隨其主基督。《資料來源：教會改革運動邁向五百週年（2010.10.14）。取自基督教週報。》

26. 請問這份資料想抨擊的對象為下列何者？(A)羅馬公教(B)希臘正教(C)喀爾文教(D)路德教派（課本 P.98-100、113-115）
27. 根據此文內容，下列何者為他的主張？(A)主張堅定的信仰即可獲得拯救，購買贖罪券可以加強信仰的力量(B)主張人要用工作表現來榮耀上帝，因無暇禱告可以花錢來委託教會代為禱告(C)主張絕對效忠教宗，贖罪卷只是一種忠誠的表現(D)主張透過閱讀聖經，就可以直接與上帝溝通並得到拯救（課本 P.113-115）
28. 請問這份資料引發哪一史事的發展？(A)文藝復興(B)第一次宗教分裂(C)第二次宗教分裂(D)十字軍東征（課本 P.98-100、110-115）
29. 小傑正在籌劃一場展覽，他想要將「防疫新生活」與「文藝復興」這兩個主題結合起來，請幫忙小傑檢查哪一幅畫不該出現在這場展覽中：（課本 P.110-112）

(A)米開朗基羅_創造亞當	(B)達文西_最後的晚餐
	
乾洗手代言	吃飯保持社交距離
(C)瑪格利特_戴黑帽的男人	(D)拉斐爾_穿紅衣的年輕男生
	
務必戴上口罩	無時無刻勤洗手

30. 在第二次宗教改革後，因為歐洲宗教競爭激烈，導致許多宗教開始立志向海外傳播，開啟一波波傳教士前仆後繼地前往世界各地傳播福音，關於基督教第二次宗教革命後，第一位前往中國的西方傳教士敘述如下，何者敘述**正確**？(A)來到中國的第一位傳教士是清朝時期來中國傳教的利瑪竇(B)關於他所隸屬的教會，其主張是為了重塑希臘正教威望的耶穌會(C)此宗教的特色是政教合一，傳教士與航海員得以代表國家的名義在世界各地進

行版圖擴張(D)為傳教順利，他與中國好友徐光啟翻譯了幾何原本等著作，帶動中西文化交流（課本 P.98-100、113-115）

31. 西元1648年，參與戰爭的各國終於厭倦了戰爭，同意簽訂《威斯特發利亞條約》（Peace of Westphalia），正式結束三十年戰爭。《威斯特發利亞條約》是現代國際關係學著名的條約，因為它確立了「主權國家」的概念，即一個國家不得干涉其他國家的內政，國界也明確地劃分，徹底改變了歐洲人對「國家」的概念。請問下列關於三十年戰爭的影響，何者**錯誤**？(A)這是一場新、舊教對抗結合世俗政權的權力鬥爭(B)戰後各國簽訂條約承認新教國家的獨立(C)此後各國明確劃分界線，宗教對立情況越發嚴重(D)此條約成為國際法源依據，制止歐洲國家以宗教為名發動戰爭。（課本 P.115）
32. 下列關於文藝復興的介紹，請問何者敘述**錯誤**？(A)起源自14-16世紀的伊比利半島北部城市，是一場追求完美復刻古文化的運動(B)因為商業興盛，富豪與貴族的開始流行贊助藝術，帶動文藝創作興起(C)因為阿拉伯商人將造紙術與印刷術傳播到西歐，書籍成本大幅下降促進知識傳播速度(D)肯定人性的價值，也不再單以教會官方語言拉丁文書寫文字，歐洲各地開始發展方言文學（課本 P.110-111）
33. 請閱讀兩篇立場不同的文章，再回答以下問題：

文章一：西元 1076 年春，教宗格列哥里告日耳曼人書聽說，對國王(指亨利四世)被開除教籍，你們有不少人感到懷疑和憂慮。……因此，我們願意盡力對你們正確的(良心可以為我們作證)說明所以將其開除教籍的經過。過去，我們……就聽說國王的種種邪惡和不名譽的行為。……我們雖然無才無德，既然登上了教宗寶座，而他又罪惡與年歲俱增，我們更以各種方式勸告、辯論、請求、譴斥，使他痛改前非——因為深知天主已將他的靈魂付託給我們，我們有權告誡他甚於其他人。……為了金錢，他出賣教區和修道院，任命豺狼替代牧人；為使悔改有效，他們應將非法交易所得的教會財產，歸還原主；真心悔改，向天主為自己的罪做補償。

文章二：西元1076年4月或5月，亨利四世文告……他外表似一修士，亦有教宗之稱，但他主持宗座，是用侵略者的暴力，而非用善牧的愛心……因為照他的判斷，任何人都不是合法的教士，只有從反覆無常的他那裡買得許可的人才是。……他也企圖剝奪我的王權，並威脅要奪取我的王國和靈魂……。

根據文章一與文章二的內容做為證據，請問可以得到以下何者**最適合**的推論？

- (A)這兩則資料可作為中古西歐出現政教合一的史料證據(B)文章二指出國王譴責教宗出賣教區和修道院，任命不當的人(C)文章一指出教宗指責國王只承認他任命的教士是合法教士(D)文章一指出教宗認為國王應該歸還教會財產（課本 P.104-105）

34. 下列有關美洲的敘述，何者**正確**？(課本P.36)

- (A) 盎格魯美洲與拉丁美洲的分界在巴拿馬運河
- (B) 中南美洲又被稱為拉丁美洲
- (C) 南美洲全境位於南半球
- (D) 中南美洲目前以英語為主要語言

35. 下列有關美洲工業的敘述，何者**錯誤**？(課本P.42)

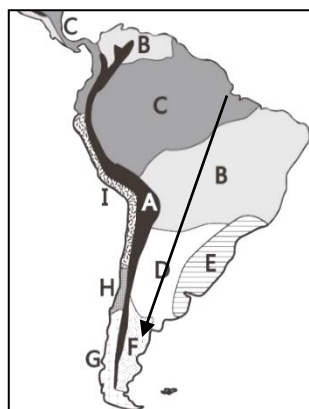
- (A) 西雅圖以太空工業為主
- (B) 舊金山以高科技產業聞名
- (C) 墨西哥灣以石油工業達發
- (D) 洛杉磯以影視工業聞名

36. 烏拉圭都市化程度為95%、阿根廷為92%、智利90%，皆高於美國的82%，此數據代表南美洲國家的哪一項特色？(課本P.54)

- (A) 社會福利優於美國
- (B) 平均國民所得高於美國
- (C) 都市機能完善，沒有貧民區
- (D) 鄉村經濟蕭條，推力大。

37. 參加南美洲大縱走旅行由C區向F區前進，沿途經過的四個區域如右圖箭頭所示。請問：下列敘述何者**錯誤**？(課本P.48)

- (A) C區常降午後雷陣雨
- (B) B區有7月為明顯的乾季
- (C) D區看到畜牧業發達
- (D) F區年溫差小、全年有雨



38. 中南美洲主要以農、礦業為基礎的殖民式經濟結構。請問：以下各國主要輸出的農礦產品配對何者**正確**？(課本P.52)

- (A) 波利維亞的銀礦
- (B) 巴西的菸草
- (C) 智利的咖啡
- (D) 古巴的銅礦

39. 巴拿馬運河全長約80公里，船隻多時要等3至4天是常有的事，否則繞過南美洲的合恩角至少須多行駛8千公里。請問：這是因為巴拿馬運河溝通哪兩大洋，可以大量節省船隻的行駛時間？(課本P.47)

- (A) 太平洋、印度洋
- (B) 太平洋、北極海
- (C) 大西洋、太平洋
- (D) 大西洋、印度洋

40. 北美大平原地區的農民，通常只生產一種農產品，收穫後將農產品全部運往市場銷售，再從市場購回所需的各類物品。這種農業經營方式最符合下列哪種概念？(課本P.41)

- (A) 商品化
- (B) 集約化
- (C) 機械化
- (D) 全球化

41. 中南美洲在不同時期，先後有不同族群進入居住，彼此的混血後代成為當地現今的主要居民。請問：中南美洲主要包含了哪些民族的後代？(甲)歐洲白人 (乙)印第安人 (丙)南島語族人 (丁)非洲黑人(課本P.51)

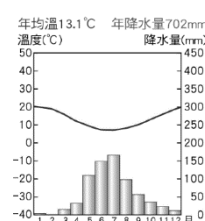
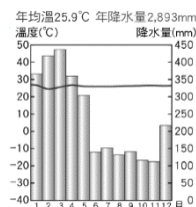
- (A) 甲乙丙
- (B) 甲乙丁
- (C) 甲丙丁
- (D) 乙丙丁

42. 美國-墨西哥-加拿大協定(原北美自由貿易協定)是美、墨、加三國以經濟合作面向為考量，所簽署的協定。請問：在此協定中，墨西哥所扮演的角色與優勢特色為何？

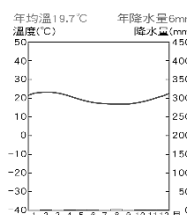
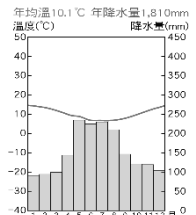
- (甲) 提供充沛的資金 (乙) 提供關稅減免的優惠條件
- (丙) 提供高階的技術 (丁) 提供廉價的勞動力
- (A) 甲丙 (課本P.53)
- (B) 甲丁
- (C) 乙丙
- (D) 乙丁

43. 請問：若想了解從南美洲智利這個國家的南部朝向北方旅行，路途中會遇到的氣候變化情形可用下列哪幾張圖依序排列表示？(課本P.48)

(甲) (乙)



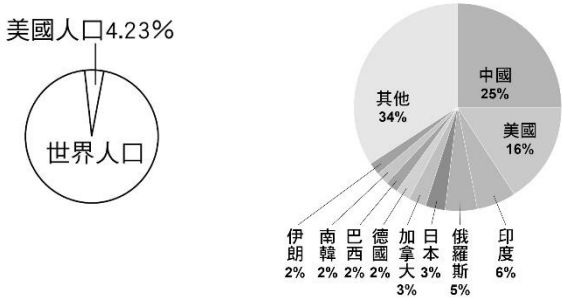
(丙) (丁)



- (A) 丙丁乙
- (B) 甲丙乙
- (C) 丙乙丁
- (D) 甲乙丁



44. 小康自美國西岸搭飛機至東岸，依序可見下列哪些景觀？(課本P.37)
- (A)洛磯山脈、阿帕拉契山脈、北美大平原  
(B) 洛磯山脈、北美大平原、阿帕拉契山脈  
(C)阿帕拉契山脈、洛磯山脈、北美大平原  
(D)北美大平原、洛磯山脈、阿帕拉契山脈
45. 北美的商業性農業及中南美洲的熱帶栽培業有不少相似處，下列何者**不是**此兩項農業的相似處？(課本P.41/52)
- (A)種植單一作物  
(B)大規模生產  
(C)易受國際市場價格波動  
(D)機械化程度高。
46. 附圖美國人口占世界圓餅圖與十大能源消耗國圓餅圖，依據圖示內容判斷，下列哪個敘述**較為合理**？(課本P.43)



- (A)美國為石油國家輸出組織會員  
(B)美國著重發展高耗能產業  
(C)美國人均消耗能源高  
(D)美式文化大量輸出全世界
47. 熱帶雨林提供氧氣供生物生存，因此被稱為地球之肺，而世界最大的熱帶雨林區就位於南美洲亞馬遜盆地。請問：以下有關雨林的敘述何者**錯誤**？(課本P.48)
- (A)東南亞印尼與非洲剛果都有雨林  
(B)雨林的植被高低成層分布  
(C)雨林全年高溫多雨  
(D)雨林適合農業開墾，人口密度高

題組：請依據下列北美地區氣候分區圖，回答48~50題。

The map shows North America with climate zones numbered 1 to 8. Zone 1 is the northernmost area, shaded with horizontal lines. Zone 2 is in the northwest, shaded with vertical lines. Zone 3 is in the southwest, shaded with diagonal lines. Zone 4 is in the central-west, shaded with a grid pattern. Zone 5 is in the central-east, shaded with horizontal lines. Zone 6 is the largest central area, shaded with a solid light gray. Zone 7 is in the southeast, shaded with diagonal lines. Zone 8 is in the far south, shaded with a grid pattern. The Arctic Circle is marked with a dashed line.

48. 美國的這一州水資源非常珍貴，該州居民多使用下列背景的車牌，來代表當地景觀特色，請問該州最有可能位於圖中的哪一區？(課本P.38)



- (A)第3區  
(B)第4區  
(C)第5區  
(D)第6區
49. 下列有關於美國常見的氣候災害敘述何者**錯誤**？(課本P.39)
- (A)乾旱常出現在冬季的第3區  
(B)暴風雪常出現在冬季的第6區北部  
(C)龍捲風常出現在春夏之交的第6區中南部  
(D)颶風常侵襲夏秋兩季的第7區。
50. 請問第6區中看不到何種農業景觀？(課本P.41)
- (A)酪農業  
(B)副熱帶農作  
(C)小麥帶  
(D)玉米帶

試題結束