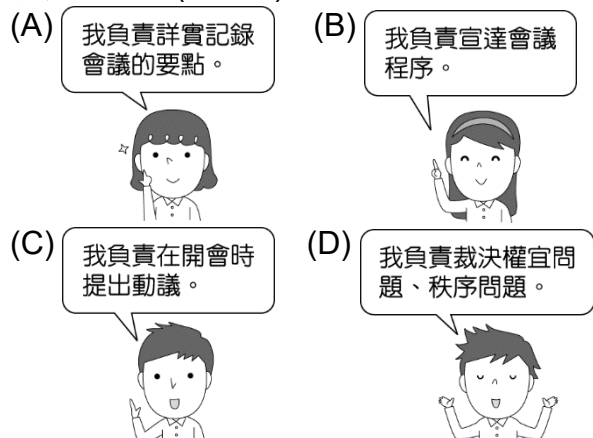


新北市立中正國民中學112學年度第一學期七年級社會科第三次段考試題

範圍：公民 B1L5~6、歷史 B1L5~6、地理 B1L5~6 班級：_____座號：____ 姓名：_____

【讀卡科目請依規定畫卡，若有違反畫卡規定而影響讀卡作業之情事，一律扣總分5分。】

1. 四位同學正在介紹自己在班會所擔任的角色，下列哪一位是主席？(P.190)



2. 莉莉到原住民族部落參訪，看到附圖中的活動正在進行，此活動應屬於「原住民族部落活力計畫」的哪一目標？(P.196)



- (A)落實部落會議組織，奠定原住民族自治基礎
(B)回復共工共耕文化，減少貨幣依賴
(C)強化生活照顧功能，推動健康部落生活
(D)復振部落傳統文化，凝聚文化主題認同。
3. 根據附圖中的情境，友志是提出下列何者來請主席處理？(P. 190)



- (A)秩序問題 (B)公平問題
(C)權宜問題 (D)正義問題。
4. 小香看到一篇短文如下，根據內容判斷，作者寫此篇文章的用意最可能為下列何者？(P.192)

給我親愛的族人

許多年輕人搬離部落到都市工作，追尋他們想要的生活方式，這是令人開心的事，但我們不能忘了祖先留下的珍貴禮物，如：美麗的族語與歌謠、對大自然的胸懷和對族人的關懷，我們應該把這一切延續下去。

- (A)發展部落環境的觀光資源
(B)維護部落領袖的控制權力
(C)保障原住民族的宗教自由
(D)促進原住民族文化的傳承。

5. 布農族最盛大的射耳祭熱鬧展開，主持者致詞時表示：「希望每年部落子弟都能回來參加活動，這是我們部落重要的節慶，大家可以在參與時體會先輩們的智慧和精神，並將這些傳統延續下去。」上述內容主要傳達什麼意義？(P.195)

- (A)建立宗教信仰
(B)認同族群文化
(C)宣揚政策理念
(D)保障弱勢群體。

6. 原住民族具有與大自然和諧共存的文化，發展出重視生態平衡的價值觀，這種觀念體現在下列何種行為上？(P. 195)

- (A)在尚未開發地區採挖礦產
(B)在動物繁殖季節停止狩獵
(C)在溼地保育範圍興建房舍
(D)在國有原始林地砍伐樹木。

7. 中正國中923班正在進行班會討論畢旅的地點，有四位同學依序提出意見，如附表。請問：表決的先後順序應為何？(P.191)

姓名	地點	提議先後順序
小花	六福村	2
小豪	劍湖山	3
小芬	九族文化村	1
小儒	義大世界	4

- (A)六福村、劍湖山、九族文化村、義大世界
(B)義大世界、劍湖山、六福村、九族文化村
(C)劍湖山、義大世界、九族文化村、六福村
(D)九族文化村、六福村、劍湖山、義大世界。

8. 靜文發現跟同學一起撰寫的報告錯誤百出，如下所示，只有哪一段完全正確？(P.194)

第一段：根據《地方制度法》，查找「部落」的意義。
第二段：由於各部落的生活空間經常遷移，管轄區域並不固定。
第三段：召開部落會議，由部落領袖主持會議過程。
第四段：部落領袖產生的方式，各族均是由家族世襲，因此權力控制穩定。

- (A)第一段
(B)第二段
(C)第三段
(D)第四段。

9. 政府推動「107年度原住民族部落活力計畫」，根據這項計畫的相關敘述，何者「錯誤」？(P. 199)

- (A)希望創造部落永續發展的機會
(B)藉由互助共生的部落傳統文化來推動
(C)由文化部負責推動實施
(D)以部落集體力量來處理部落族人所面臨之處境

背面尚有試題，請繼續作答

新北市立中正國民中學112學年度第一學期七年級社會科第三次段考試題

範圍：公民 B1L5~6、歷史 B1L5~6、地理 B1L5~6 班級：_____座號：____ 姓名：_____

【讀卡科目請依規定畫卡，若有違反畫卡規定而影響讀卡作業之情事，一律扣總分5分。】

10. 以下為小蔡所提出的問題，下列何者為其正確的解答？

(P.198)

求解

請各位大大幫我解答一下，若我想組一個科學研究社，依學生自治實施步驟，該怎麼做？

小蔡

- (A)成立社團→舉辦社團活動→訂定社團組織章程
- (B)成立社團→訂定社團組織章程→舉辦社團活動
- (C)訂定社團組織章程→成立社團→舉辦社團活動
- (D)舉辦社團活動→訂定社團組織章程→成立社團

11. 報紙專欄刊出一篇社論如下，針對社論提出的問題，下列何人的回應較為適當？(P.198)

【社論專欄】

再度有原住民族因使用槍枝狩獵保育類動物而遭到判刑。雖然法律是具有強制力的規範，但若與原住民族傳統狩獵文化發生衝突時，究竟孰輕孰重，兩者間的矛盾應如何解決？

- (A)小祥：原住民族應與政府協調溝通，尋求法律與傳統之間的平衡
- (B)小維：法律不能剝奪人權，應允許原住民族無限制進行狩獵
- (C)小好：原住民族應發動抗爭廢除法律，爭取特權以維護傳統狩獵文化
- (D)小玲：法律之前人人平等，政府不應允許原住民族持有任何槍枝。

12. 學生對於學校公眾事務都有參與、表達意見，包括取得和分享各種訊息和思想、及結社自由的權利，藉由參與的過程培養公眾生活的參與能力，並將此能力運用在生活中。下列何者含有保障學生有表達與參與的權利？

(P.187)

- (A)《民法》
- (B)《兒童權利公約》
- (C)《性別教育平等法》
- (D)內政部《會議規範》。

14. 立德、世聰和家誠三人是好朋友，每年夏天，三人都會一同參加營隊。今年，新朋友紹勳和他們分在同一間房間。立德為了湊齊營隊的報名費，去賣回收的瓶罐紙箱，紹勳卻跟大家說：「立德是個窮乞丐，必須靠賣回收的瓶罐紙箱賺錢。」大家聽了全都哈哈大笑。立德紅著臉，感到相當難為情，紹勳卻回答：「我是開玩笑的啦！」對此，立德思考該如何讓紹勳知道這帶有惡意的玩笑，會讓人感到不舒服。(改自習作P.56)

- (A)學習權
- (B)身體自主權
- (C)人格發展權
- (D)參與權

題組二：

公民老師在課堂上舉了一則「校園性騷擾事件」的新聞報導（如附圖），請班上學生分組討論此事件。請依據該事件，回答 15~16 題：

臺北市昨日發生一起校園性騷擾事件，被害人為一名男高中生，在學校晚自習時，被坐鄰座的同校學長從旁撫摸臀部，其他同學見狀趕緊報告老師。



15. 此事件應適用哪一項法律來處理？(P.186)

- (A)《性騷擾防治法》
- (B)《性別平等工作法》
- (C)《性別平等教育法》
- (D)《民法》。

16. 此事件應交由學校哪一單位調查處理？(P.186)

- (A)家長會
- (B)性別平等教育委員會
- (C)學生申訴評議委員會
- (D)輔導處。

後面尚有試題，請繼續作答

※13至16題為題組，閱讀下列圖文後回答問題：

【題組一】

人權是不能缺少的生存條件，透過閱讀不同的童書繪本，除能了解自己擁有的權利，也能學會尊重他人。請依據下列書籍的簡介，在 13~14 題中填入相應的兒童權利。

13. 偉利的媽媽在王老闆的公司擔任清潔員。當媽媽在工作時，王老闆會和偉利玩搔癢遊戲。遊戲時，時常碰觸偉利的私密部位，雖然偉利要求住手，但王老闆並沒有停下來，反而警告他，絕對不可以跟任何人說，否則將解僱媽媽。面對王老闆的警告，偉利思考該不該向別人說出這件事。(改自習作P.56)

- (A)學習權
- (B)身體自主權
- (C)人格發展權
- (D)參與權

新北市立中正國民中學112學年度第一學期七年級社會科第三次段考試題

範圍：公民 B1L5~6、歷史 B1L5~6、地理 B1L5~6 班級：_____座號：_____姓名：_____

【讀卡科目請依規定畫卡，若有違反畫卡規定而影響讀卡作業之情事，一律扣總分5分。】

※17至19題為題組，閱讀下列文章後回答問題：

資料一：

在這個島上住有約三百萬的漢人，其中約一百萬是住在加拿大長老教會從事宣教的四個地區。這些漢人分為閩南人和客家人兩類。在我負責的臺灣北部，漢人中八分之七是閩南人，他們是從島的對岸福建省來的移民或移民的子孫；我路過時，婦女和孩子們從家裡跑出來，追著我要藥品、要拔牙。

資料二：

我們經過內埔，一個客家村莊，有著強大的客家勢力，所有人都出來到街上看我們。阿嵐，我們的客家傳教士，就走在我們後面，他告訴我看到他們拍手(看起來似乎很生氣)，而且聽到他們評論：「這是有朝一日外國人占領我們之後，我們的穿著！」

資料三：

清代客籍移民進入屏東地區開發後，客家人與原居的平埔族群間因開墾等衝突不斷。因天主教傳教士進入屏東萬金地區傳教，主要以該地的平埔族群為傳教對象，使得傳教士在漢人與平埔族群發生衝突時，多採支持或保護平埔族群的態度。迄今萬金地區居民信仰天主教者仍超過八成，教徒信仰中心—萬金天主堂也成為當地知名景點。

資料四：

「在兩國開戰前，我由香港想回臺灣，卻被法軍當成是德國間諜，只好去見法軍司令才被允許回臺上岸。回臺後，英國領事還給我一份證明說我是英國人。……戰事逼近我的教堂時，我曾醫療受傷的清軍與法軍，劉銘傳大人還獎勵我，並賠給我戰火受損教會財產的金額。」

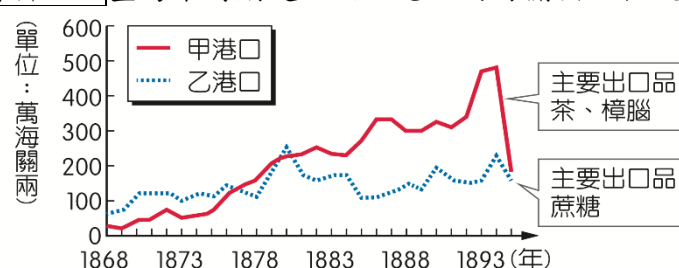
17. 根據前述資料顯示，請問這些天主教與基督教的傳教者得以進入臺灣各地進行宣教，與哪一個事件有關？(習作改寫) (P.136)
 - (A)清法戰爭 (B)甲午戰爭
 - (C)英法聯軍 (D)牡丹社事件。
18. 根據資料一的敘述，請問下列哪一個選項與此人有關？(習作改寫) (P.136)
 - (A)興建鐵路 (B)興辦新樓醫院
 - (C)開山撫番 (D)開辦牛津大學堂。
19. 清帝國晚期傳教士接連來臺傳教，下列選項為根據上述資料所得出的歸納結論，請問何者「錯誤」？(習作改寫) (P.136)
 - (A)婦女與孩童會向傳教士尋求醫療資源的幫助，證明傳教士用以提供藥品與拔牙服務是有效的傳教策略
 - (B)傳教士會主動扮演調停原漢衝突的角色，而且經常偏袒平埔族
 - (C)根據資料四的內容，當時所發生的「戰事」指的是英法聯軍
 - (D)根據文中所述，有些漢人會將傳教士視為西方的侵略者，傳教士偶爾會遇到漢人不友善的對待。
20. 「本地早期為原住民活動區域，清初便有先民來此開墾，因為在此設土牆防禦原住民的襲擊，因此稱為「土城」(今新北市土城區)」，請問土城地名的由來反映了什麼樣的史實？(習作改寫) (P.122-123)

- (A)漢人與原住民的武力衝突
- (B)漢人合資開墾土地的關係
- (C)拓墾完畢後的土地經營模式
- (D)水利設施的興建與影響。

21. 下列兩則資料顯示1880年代時臺灣的樟腦與蔗糖出口突然出現衰退。請由資料一與資料二中判斷，下列何者是造成衰退情況的可能原因？(習作改寫) (P.126)

- (A)英法聯軍 (B)清法戰爭
- (C)甲午戰爭 (D)牡丹社事件。

資料一：臺灣某時期起，兩大港口的海關出口值統計圖



資料二：

本市港口在開港通商後，漸漸自漁港轉型為商港。1860年代初期，正式開放成為國際貿易港，出口貨物以蔗糖為主。1879年，英國政府在港口北側山丘，興建領事館處理商務。1880年代前期，臺灣蔗糖產量與對外出口量達到高峰。不料因被法國海軍封鎖港口一段時間，導致糖價暴跌，使得臺灣糖業受挫。

22. 下表是臺灣開港通商後，部分洋行在臺的營運狀況。若考慮當時商品產區與出口地，這些洋行最不可能設置於圖中何處？(習作改寫) (P.126)

- (A)甲乙 (B)甲丙 (C)乙丙 (D)乙丁。

名稱	主要出口商品
寶順洋行	茶
美利士洋行	樟腦
公泰洋行	樟腦
費爾·哈士迪斯洋行	樟腦、煤



23. 糖是臺灣重要的農產品，自荷蘭時代開始，長期位居首要出口商品；但到開港後，其地位曾一度被下列哪個產品取代，此產品的出口亦成為臺灣的經濟重心逐漸北移的原因之一？(P.126-130)
 - (A)茶葉 (B)鹿皮 (C)稻米 (D)香蕉。
24. 新莊萬應堂所祭拜的萬應公，也就是有應公，下列選項為「有應公」的相關介紹，請問何者敘述「錯誤」？(P.132-134)
 - (A)有應公廟專門祭祀無子嗣的孤魂野鬼
 - (B)這些無主孤魂在生前可能被稱為羅漢腳，因為他們單身未婚而無子嗣祭拜
 - (C)這些大量的無主孤魂很可能是因為受到劃界封山的政策影響而無法結婚
 - (D)有應公廟存在於臺灣各地反映出清代的臺灣社會生存艱難不易。

背面尚有試題，請繼續作答

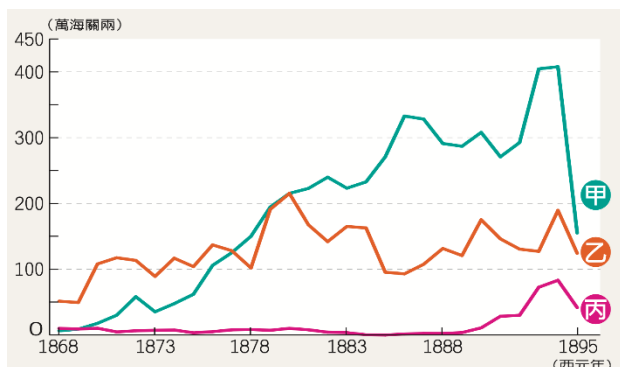
新北市立中正國民中學112學年度第一學期七年級社會科第三次段考試題

範圍：公民 B1L5~6、歷史 B1L5~6、地理 B1L5~6 班級：_____座號：_____姓名：_____

【讀卡科目請依規定畫卡，若有違反畫卡規定而影響讀卡作業之情事，一律扣總分5分。】

25. 下圖為臺灣海關統計茶、糖、樟腦出口總值比較圖，請問以下的分析敘述，何者**正確**？(P.128)

- (A)甲商品主要生產於臺灣南部
(B)乙商品主要銷往美國與東南亞
(C)丙商品主要生產於臺灣北部
(D)乙丙商品主要輸出於安平港與打狗港。



26. 關於吳沙率眾進入蛤仔難一事，請問下列敘述何者**最為正確**？(P.122)

- (A)吳沙與眾人合資申請墾照，進入蘭陽平原從事開墾農地
(B)吳沙是在劉銘傳任內取消劃界封山時，響應政策進入蘭陽平原開墾
(C)吳沙與蛤仔難當地原住民相處融洽，原漢共同開發蘭陽平原
(D)吳沙此番行動為越界開墾，但侵墾行為最終被清朝肯定並設置為噶瑪蘭廳。

27. 老皮與朋友們正在討論清朝的農業發展，請問下列何者**正確**？(P.122-123)

- (A)老皮：灌溉水源是農業開發的成敗，但因為開發需耗費鉅資，所以漢人曾與原住民合作在彰化開墾八堡圳
(B)阿寶：水源增加使農業的稻米、樟腦產量大增，不但可以自足且能銷往東南亞各地
(C)艾薇爾：早期民眾向官府申請墾照，往往需要合資才得以負擔資金，例如臺南的金廣福墾號就是一例原漢共同集資的拓墾組織
(D)嘩莫：臺灣南部因為河流夏雨冬乾，官方推動興建曹公圳幫助農業發展。

28. 茶、糖、樟腦的增產與出口，為臺灣賺取大量外匯。然而，社會基層勞工的生活卻無改善，請根據下列兩則資料，判斷開港後的臺灣，進口的〇〇指的是哪一種商品？(P.126)

- (A)軍用物資 (B)鴉片 (C)糖 (D)紡織品。

資料一：

19 世紀後期，一位美國記者描述大稻埕的景象：「衣衫襤褸、雙腳赤裸的茶販，年復一年挑著茶葉來大稻埕販賣，但是他們得到的銀子，一轉眼就不知去向了。」

資料二：

1880 年，英國領事館在報告中如此描述：「臺灣〇〇的消費量，平均還超過大陸。」據統計，從開港起，臺灣每年的進口品總值中，〇〇占的比例平均高達 90% 以上。」

29. 根據你的台灣史知識，下列選項所描述的清領時期的台灣社會，請問何者**正確**？(P.128)

- (A)臺灣人習慣透過貿易獲利，具有重商趨利的性格
(B)工、商業關係的緊密性，成為臺灣經濟的一大特點
(C)臺灣種植的農產品皆傾向自給自足，商業貿易出口大於進口，形成入超
(D)臺灣的經濟貿易產值仍不足以提供臺灣人民過著富足的生活，因為洋行壟斷控制臺灣的所有貿易。

30. 會館是商人辦公、互相聯絡的場所，請問下列關於彰化縣鹿港泉郊會館的敘述，何者「**錯誤**」？(P.124-125)

- (A)泉郊會館是漢人與外國人商業交流、洽公交易的場所
(B)郊的作用是通過機構的管理，維持公平貿易環境與適當的商品價格
(C)一旦市場發生惡性競爭，郊會適時介入問題處理
(D)除了前述的所有功能以外，泉郊會館還可以協調配運去泉州的貨船。

31. 中部地區的大甲西社事件是清朝統治時期一起大型規模的原住民反抗事件，請問原住民發起反抗事件的**主因**為何？(P.137-138)

- (A)官員的壓迫 (B)土地的流失
(C)傳統文化的改變 (D)番界的改變。

32. 平埔族面對漢人的侵墾與衝擊，只能不斷遷徙以保全族人安全，請問以下何者**最不可能**為平埔族的遷徙路線？(P.138)

- (A)臺中到埔里 (B)豐原到宜蘭
(C)花蓮到臺北 (D)高雄到臺東。

33. 清領時期的臺灣充滿移民的多元文化，這些移民會因為利益有所衝突，也會因為長期互動使文化融合逐步協調社會秩序，在治安法規不彰的臺灣，宗教與文教是一股穩定社會秩序的主要動力，請問以下敘述何者**正確**？(P.132-134)

- (A)早期移民因為渡臺禁令，必須隻身來臺，為了快速找到互助同伴，乃以同姓非血緣關係結下緣份，因此出現開臺祖的特殊信仰
(B)清領初期移民社會的文教並不興盛，因為當時臺灣仍在開發階段，拓墾階段移民較無心力參與文教事業
(C)共同信仰可以凝聚更多不同身份、不同族群的人，這樣的信仰能有效的破解社會群體的對立，例如清水祖師
(D)原鄉神明的信仰也是來臺移民的重要聚集場所，因為這是一個可以讓人迅速融入社會的方式，例如媽祖。

後面尚有試題，請繼續作答

新北市立中正國民中學112學年度第一學期七年級社會科第三次段考試題

範圍：公民 B1L5~6、歷史 B1L5~6、地理 B1L5~6 班級：_____座號：_____姓名：_____

【讀卡科目請依規定畫卡，若有違反畫卡規定而影響讀卡作業之情事，一律扣總分5分。】

34. 右圖是可芳老師使用中央氣象署 App，查詢12月21日晚間土城區的即時天氣與一週預報，由圖示內容可得知下列哪項事實？

(P.56~57)

- (A)12月21日的降水量為10mm
(B)未來一週均為高溫、多雨
(C)天氣預報的主要內容是氣壓與風向
(D)中央氣象署App可提供氣溫與降水的資訊



35. 下表是2023年農業災害的新聞報導，內容與哪一種氣象災害有關？(P.66~67)

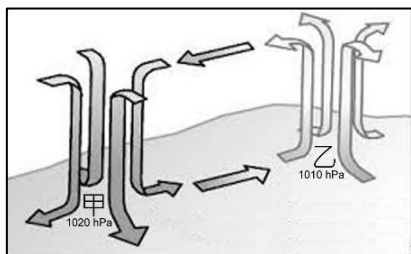
李子是來自溫帶地區的果樹，需留意以下幾點：
(1)冬季落葉休眠，需一定的低溫時數，變暖時萌芽；
(2)開花期較一般果樹早，冬末、春初易遭霜害；
(3)花謝後果子成熟，不能過度乾旱，需人為灌溉；
(4)長期積水會使樹根枯死。

高雄地區2023年2至3月降雨量少，影響李子結果率，農業局統計今年每公頃產量只有正常年產量的6成，農委會將提供農產業天然災害現金救助。

- (A)寒害 (B)旱災 (C)水災 (D)颱風

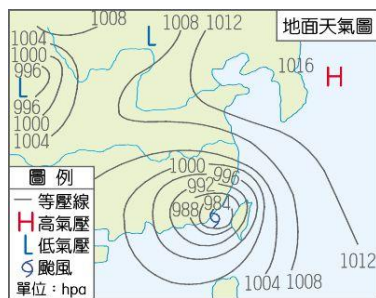
36. 氣壓是重要的天氣因素，影響無所不在。右圖是2個氣壓系統的示意圖，下列哪項敘述正確？(P.58)

- (A)甲地為低氣壓，乙地為高氣壓
(B)甲地較乙地承載較重的空氣重量
(C)甲地空氣膨脹上升，乙地收縮下沉
(D)甲地易成雲致雨，乙地晴朗穩定



37. 右圖是某時節臺灣周圍的地面天氣圖，根據圖示內容，下列何者敘述正確？(P.59)

- (A)臺灣被低氣壓籠罩，風強且雨勢大
(B)臺灣有滯留鋒面停留，雨時長、雨區大
(C)臺灣上空有高氣壓，天氣炎熱、不易降雨
(D)圖示為冬季常見的氣候狀況



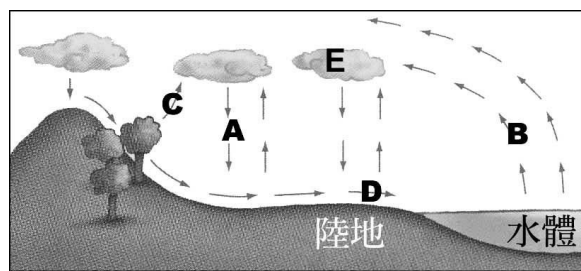
38. 為了維持生存，各地的人們會以不同的方式獲得水資源，列舉如下：(P.70)

(甲)由地面向下打井，抽取水源；
(乙)興建堤壩，攔截河川的水；
(丙)建築海水淡水化廠，過濾鹽份後使用；
(丁)直接取用淡水湖泊的水源。

在上述4種方式中，哪一種使用的是地下水？

- (A)甲 (B)乙 (C)丙 (D)丁

39. 2023年的12月份有冷氣團來襲，加上水氣充足的條件，在中、高海拔的山區發生降雪，遊客紛紛到山上賞雪。上述的天氣現象，與上圖水循環的哪一個流程有關？(P.71)



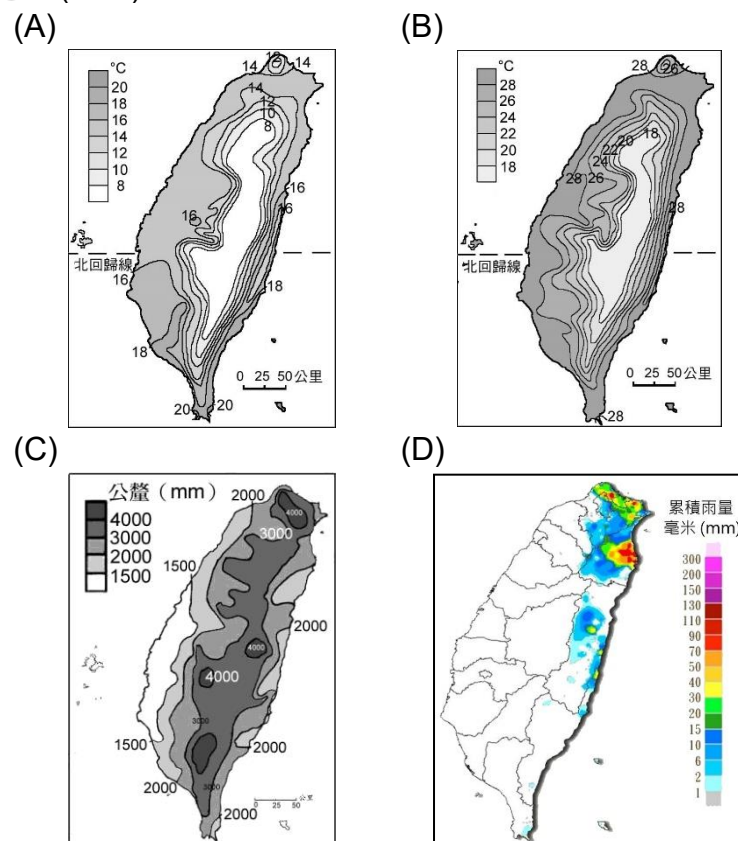
- (A)A
(B)B
(C)C
(D)D

40. 為了增進臺北、宜蘭間的交通，舒緩每逢週末就塞車的路況，交通部多次提出「北宜直鐵」的方案，至今尚未通過。主因是路線穿越右圖中的甲區域，10年工期將嚴重破壞大臺北地區的水源地。上述的甲區域為何處？(P.72)



- (A)翡翠水庫集水區
(B)曾文水庫集水區
(C)八堡圳集水區
(D)嘉南大圳集水區

41. 受到緯度位置、日照角度的影響，臺灣北部與南部的冬季氣溫有明顯的差異，北部平地的氣溫較涼爽，南部平地的氣溫可達20°C。下列哪個圖示可顯示上述的氣候特色？(P.62)



背面尚有試題，請繼續作答

新北市立中正國民中學112學年度第一學期七年級社會科第三次段考試題

範圍：公民 B1L5~6、歷史 B1L5~6、地理 B1L5~6 班級：_____座號：____ 姓名：_____

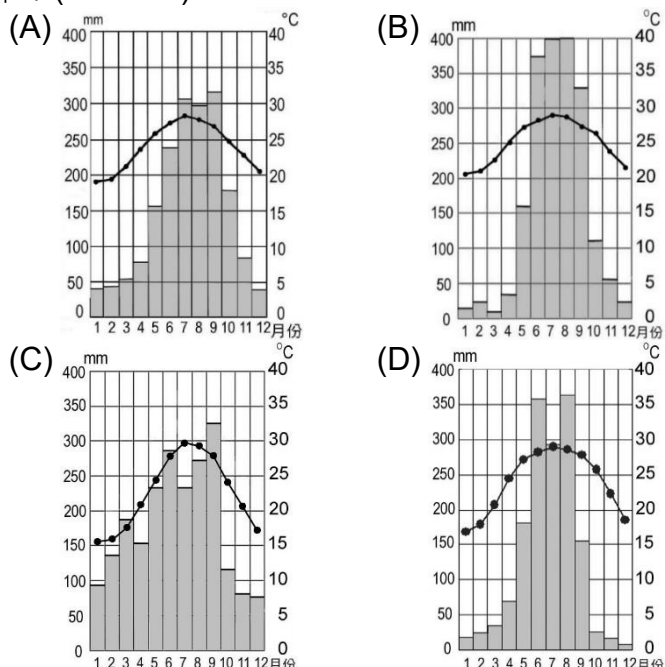
【讀卡科目請依規定畫卡，若有違反畫卡規定而影響讀卡作業之情事，一律扣總分5分。】

※下表為臺南市的氣候數據，依數據回答42~43題：

月份	1	2	3	4	5	6	7	8	9	10	11	12
氣溫	16.9	17.9	20.7	24.4	27.2	28.2	28.9	28.5	27.8	25.7	22.3	18.5
降水	17.9	23.9	35.1	68.9	181.1	357.9	292.7	364.6	155	25.2	16.6	7.6

(氣溫的單位是℃，降水量的單位是mm)

42. 以氣候圖表示臺南市的氣候，下列哪一個是最正確的圖示？(P.60~61)



43. 依據臺南市的氣候數據，當地具有什麼樣的氣候特徵？(P.62~63)

- (A)位在山地，終年多雨、涼爽
- (B)位在盆地，終年炎熱、多雨
- (C)夏季多雨，冬季少雨
- (D)年溫差大，超過20℃

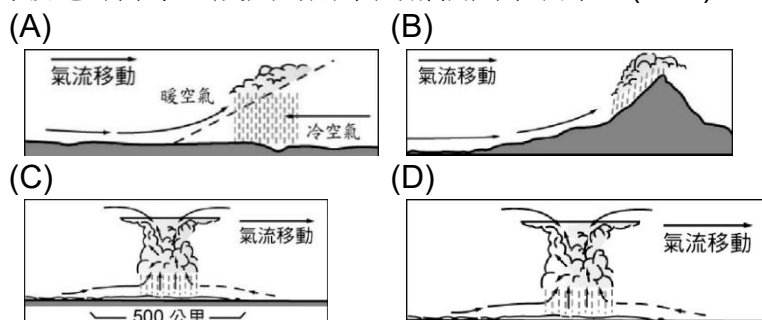
※閱讀下列短文，回答44~46題：

南投縣仁愛鄉有一座號稱全臺最悲情的加油站，由於位在支流匯入主流的位置，屬於土石流的潛勢區域，自921地震後已遭土石流掩埋4次。2023年8月由臺灣東北邊掠過的卡努颱風引進「西南氣流」，在中部山區的迎風坡帶來破紀錄雨量，加油站南方平時的「涓滴細流突然水位暴漲」，挾帶高處的土石順勢而下，堆積近2層樓高。



由於這座加油站是埔霧公路(台14線，連接埔里與霧社)沿途唯一的加油站，多次遭逢天災後仍修復營業，除了興建更高大的擋土牆外，更應思考的是在環境脆弱的區域，人為開發是否為唯一的選項。

44. 在上述短文裡，提及2023年最悲情加油站遭土石流淹沒的破紀錄降水，成因可用下列哪個圖示表示？(P.57)



45. 上述短文裡提到的西南氣流，指的是什麼？(P.64)

- (A)西南季風
- (B)東北季風
- (C)來自西南方的鋒面
- (D)來自西南方的颱風

46. 上述短文裡提到加油站遭土石流掩埋的原因是「涓滴細流突然水位暴漲」，顯示溪流具有下列哪一項水文特色？(P.72)

- (A)河川長度短
- (B)流量變化大
- (C)坡度平緩，水流較慢
- (D)河川年輸沙量較少

※閱讀下列短文，回答47~48題：

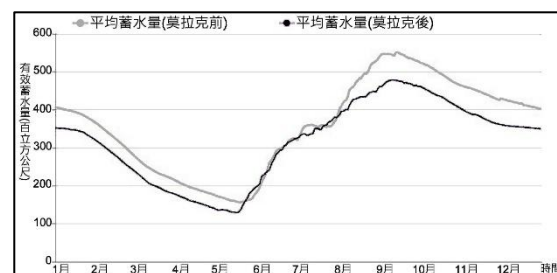
興建於1920年代的烏山頭水庫是當時東南亞最大的水利設施，運用的是曾文溪支流官田溪的水源。1973年攔截曾文溪的曾文水庫完工，成為至今全臺容量最大的水庫。

受到南部地形與氣候的影響，多數水源流入大海、無法運用，因此南部的水利設施規模較北部大，即使如此仍不時有缺水、限水等水情。

47. 上文提到臺灣南部河川多數水源無法運用，與下列哪一項地形或氣候特性有關？

- (A)多平原地形
- (B)坡陡流急
- (C)降水季節分布均勻
- (D)河川東西分流

48. 根據統計，曾文水庫在2009年莫拉克侵襲前後，蓄水量有近500萬立方公尺的差異(如右圖)，必須進行各項清淤工程以延長水庫壽命。造成上述蓄水量差異的原因是什麼？(P.76)



- (A)降水量減少
- (B)興建水力發電設施
- (C)泥沙大量淤積
- (D)流域內超抽地下水

※閱讀下列短文，回答49~50題：

受到環境因素的影響，臺灣中部沿海與澎湖是全臺降水量偏少的區域，先民開墾土地時需克服「風頭水尾」(海風強勁，缺乏淡水灌溉)的惡劣條件。

克服用水困境的方法之一為抽取地下水，由於早期農業用水較少，不致造成「環境問題」，近年因人口增加、產業變遷，政府限制居民過度抽取，以保育地下水。

49. 造成中部沿海與澎湖降水偏少的環境因素，包括下列哪一項？(P.64)

- (A)日照偏弱，少對流雨
- (B)山地包圍，地勢封閉
- (C)位在夏季季風背風坡
- (D)地勢低平，不易抬升水氣

50. 上述短文裡提到的環境問題是什麼？

- (A)地層下陷
- (B)土石流
- (C)河川輸沙量高
- (D)地下水位上升

試題結束