

【讀卡科目請依規定畫卡，若有違反畫卡規定而影響讀卡作業之情事，一律扣總分五分。】

【手寫答案卷需確實寫上班級、座號、姓名，違者一律扣總分五分。】

【手寫答案卷需用藍色或黑色墨水筆書寫，違者一律扣總分五分，使用鉛筆書寫扣五分。】

一、選擇題

1. 關於東南亞的描述，下列敘述何者錯誤？L3 綜合
(A)所涵蓋的區域皆位於北半球 (B)位於中國及印度兩大古文明之間(C)可分為中南半島和南洋群島兩部分(D)全區氣候以熱帶季風與熱帶雨林氣候為主。

2. 泰國、越南均為世界重要稻米出口國，其稻米盛產的原因除了高溫多雨外，還跟下列哪項因素有關？P34
(A)三角洲面積廣大 (B)多港埠型都市
(C)多火山、地震影響 (D)殖民國家的發展。

3. 早期這個國家的人民被迫取了西班牙姓名；後來適逢政治變遷，學習了新統治者使用的英文，是東南亞最大的天主教國家。上文中的描述應位於圖中哪個國家？P38
(A)甲 (B)乙 (C)丙 (D)丁



4. 中南半島有許多南北向的河流與山脈，大多發源自中國的哪個地形區？ P34
(A)東南丘陵 (B)雲貴高原 (C)橫斷山脈 (D)嶺南丘陵。
5. 印度大平原由恆河平原與印度河平原所組成，是印度的精華區，關於恆河與印度河的比較，下表中何者錯誤？P46

地理區	印度河	恆河
(A)位置	印度大平原西側	印度大平原東側
(B)氣候	乾熱	濕熱
(C)注入海洋	阿拉伯海	孟加拉灣
(D)主要國家	印度	巴基斯坦

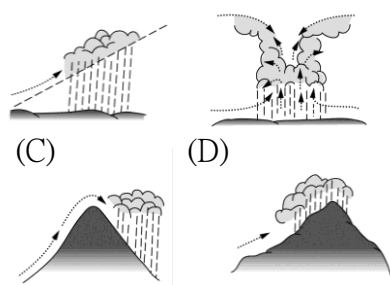
6. 印度半島有「次大陸」之稱，可分為三大地形區，請問從北到南依序應該是下列何者？P46
(A)高原→平原→山地 (B)山地→平原→高原
(C)高原→山地→平原 (D)山地→高原→平原
7. 魯夫一行人在航行中留下的航海日誌中描述了「航行期間終日高溫，常在午後被熱帶暴雨打個溼透，心情相當惡劣，只有到晚上，清風徐徐吹來，是一天最舒服的時候。」由此日誌內容判斷，魯夫一行人最有可能來到下列哪個地區？ P36
(A)中南半島(B)菲律賓群島(C)東印度群島(D)印度半島。
8. 隨著交通革新的發展，國際分工越趨頻繁，因此世界各國紛紛尋求不同的國家進行合作，增加自己的競爭力。近數十年來臺灣在面臨產業轉型的過程中，和東南亞國家之間的關係越趨密切，直接反映在彼此之間的貿易額上。臺灣商人前往東南亞設廠投資，提升企業競爭力，主要是受到哪一工業區位的吸引？P40
(A)技術 (B)動力 (C)原料 (D)勞工

9. 海寶到東南亞某國旅遊，在自己的遊記上寫出「去這個國家就可以讓我從北半球玩到南半球，山坡地盡是大片的橡膠園和咖啡園。全國伊斯蘭教寺廟林立，人種及語言多采多姿，而且因為當地幣值很低，一美金就可以換到九千多元，每天出門都像百萬富翁。」請問：海寶最可能到下列哪個國家旅遊？ P39.40
(A)泰國 (B)印尼 (C)新加坡 (D)越南。

※圖一為南亞國家示意圖。請回答 10. 11 題

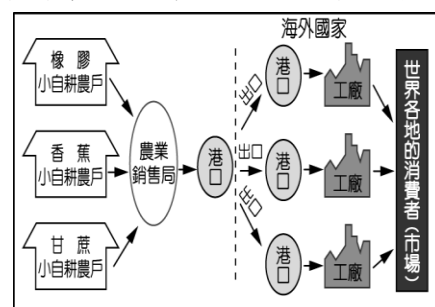
10. 圖一中丁國降雨十分豐沛，就成因而言，其主要降水類型為下列何者？P47

(A) (B)

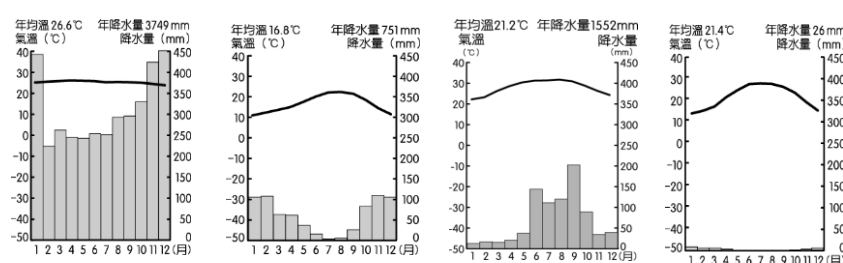


(圖一)

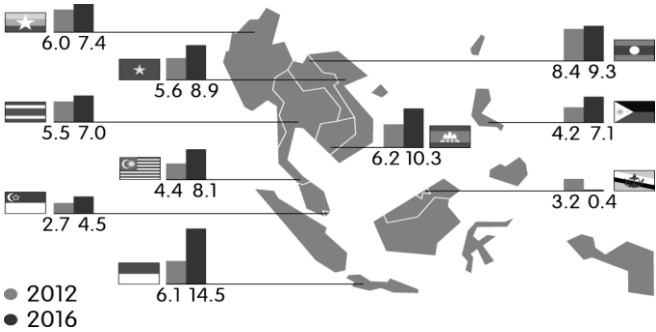
11. 「美美生長的地方有許多伊斯蘭教徒，他的父母以租田地種植水稻維生，但因為常鬧水災，農作收成很不穩定，家中十幾個兄弟姊妹常常三餐不繼。為了生活，美美和幾個較大的弟妹與同村其他小孩到都市的紡織廠打工，貼補家用。」從上文推測，美美最可能出生於上圖一的哪個國家？P50.51 (A)甲 (B)乙 (C)丙 (D)丁。
12. 「在全球化的趨勢下，我知道有很多工作會被他國的便宜勞工給搶走，但從來沒想過連電腦工程師也會被外包……面對外籍勞工的競爭，我不知道自己的工作還可以持續多久。」文中提到的外籍勞工最可能來自於哪個國家？P51
(A)印尼 (B)新加坡 (C)印度 (D)斯里蘭卡。
13. 下圖為東南亞農業活動的主要流程，依圖中資料判斷，下列哪一種氣候類型最適合該產業活動的發展？P36.40




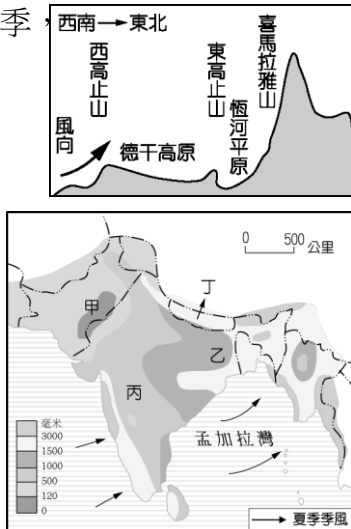
(A) (B) (C) (D)



14. 印度半島農業發達：恆河上游種植旱作小麥；中游是小麥、稻米輪作；下游栽種水稻和黃麻。造成土地利用呈現這種現象的主要原因為下列何者？ P51
(A)氣溫 (B)雨量 (C)地形 (D)土壤
15. 20 世紀後期亞洲的經濟發展相當快速，今日許多外資將眼光轉向東協，看好該區域組織將成為下一個高成長市場。下圖為該組織會員國的經濟成長率分布圖。(指 GDP 的年增率，通常以此作為一國經濟實力、人民福祉和國際地位的指標。) P41



- 下列相關敘述中，何者正確？ (A)鄰近美國並有簽署關稅合作協議 (B)經濟增長正處於緩慢發展階段 (C)汶萊經濟成長率出現衰退的現象 (D)人口眾多且都市化程度較低。
16. 印度半島的氣候依其特色分為三季，右圖中的季風現象最可能出現在下列哪一個季節？ P49
(A)熱季 (B)乾季 (C)涼季 (D)雨季。
17. 南亞人口眾多，為了提供充分的糧食而在乾燥地區從事灌溉。圖中何處由於受到氣候限制的影響，因此多以灌溉方式來從事農作，雖然增加了糧食生產，卻也造成鹽鹼化的問題愈趨嚴重？ P52
(A)甲 (B)乙 (C)丙 (D)丁。
18. 有一著作寫道：「所有的顛沛流離，最後都由大江走向大海；所有的生離死別，都發生在某一個車站、碼頭。上了船……」、「中國出現一波新的移民浪潮，促使中國人向香港及海外移居，香港人口因此遽增一百多萬。」請問：這段移民潮的背景最可能為何？ (A)滿清覆亡 (B)抗戰爆發 (C)國共內戰 (D)韓戰爆發。(P.111)
19. 小林長亭替日本軍方工作多年，近日更編寫了「基本國策綱要」的新計畫書，如附圖所示。請問：在該計畫書中，小林長亭將會以下列何項方式替日本籌謀未來的行動？ (A)對美國實施石油禁運 (B)計畫在中國投擲原子彈 (C)扶植溥儀成立滿洲國 (D)掠奪東南亞石油與橡膠。(P.107)
20. 蔣中正在日記中曾寫道：「美國與我國簽訂關稅自主之約，其實為平常應有之事，然他國尚多觀望，此乃美國對華政策先佔一著之勝利；以言平等待我之民族，當以美國為嚆矢也。」請問上述情形是在下列哪個民國時期



- 產生？ (A)聯俄容共 (B)十年建設 (C)抗日戰爭爆發 (D)中華民國遷台。(P.101)
21. 「穿越戰爭現場」的展覽中，展出了發生於二十世紀中國與日本某場戰爭形勢圖，該圖下方附有該場戰爭後，不同倖存者所錄製的影片，其內容大意如表所示。請問：下列表中何人的影片最貼近正確史實？ (A)甲 (B)乙 (C)丙 (D)丁。(P.108)



民眾身分	影片大意
甲（菲律賓居民）	日軍占領馬尼拉，與美軍瘋狂激戰
乙（臺灣居民）	日軍在臺灣舉行殺人比賽，殘忍無比
丙（瀋陽居民）	日軍炸毀瀋陽某段鐵路，成立偽政權
丁（廣島居民）	日軍殘忍逼迫廣島婦女成為慰安婦

22. 孫中山、袁世凱、黎元洪、蔣中正等人都曾經擔任過中華民國的總統，不過有人將蔣中正定位為「第一任總統」。這個原因可能為何？ (A)因為他是正式總統 (B)可能是以施行憲法作為判斷 (C)因為他是由人民直選的總統 (D)因為他是第一位反共的總統。(P.111)
23. 國民政府訓政時期，依據「先安內後攘外」的政策施行，多次派遣軍隊圍剿中共，致使中國共產黨於民國 23 年（西元 1934 年）開始「兩萬五千里長征」。請問：下列關於中共「兩萬五千里長征」的敘述，何者正確？ (A)兩萬五千里長征由原本的根據地四川遷移到陝西北部 (B)中共的「兩萬五千里長征」正值國民政府的軍政時期 (C)中國共產黨受到國民政府的圍剿與日本的襲擊，形成兩面夾攻的情況 (D)國民政府的剿共直到「西安事變」後才停止，進而全面轉向對日作戰。(P.101)
24. 黃埔軍校教授部主任王柏齡在《黃埔創始之回憶》中寫道：「一天下午，傳來電諭，說蘇俄派來一艘載滿槍械的船，就快到了，叫我們預備收。這真是天大的喜事，全校自領袖長官以至於全體學生，無不興高采烈，聽聞船上載有八千支有刺刀的俄式步槍，每槍有五百發子彈，無不歡天喜地……我們不能不感謝我們革命的朋友蘇聯。也唯有革命的朋友，才有這樣無私的援助。」請問上文中所提到的全校領袖長官是指下列何人？ (A)袁世凱 (B)孫中山 (C)蔣中正 (D)晏陽初。(P.100)
25. 綱領部分再度確認黨治形態：以黨治國，即為黨國（Party-State）。主要依據為法律第三十條：由中國國民黨全國代表大會代表國民大會行使中央統治權。中國國民黨全國代表大會閉會時，其職權由中國國民黨中央執行委員會行使之。請問上述情形最有可能在下列哪個民國時期產生？ (A)武昌起義成功，中華民國建立初期 (B)袁世凱專政 (C)國民黨聯俄容共 (D)北伐成功後。(P.100)

26. 有人直言對日抗戰期間「以空間換取時間」做法相當無奈，儘管可以保存當時國軍有生力量，但老百姓生命財產，卻因兵禍受到難以估計的損失，加上中國當時「以空間換取時間」所犧牲的領土，是中國經濟和工業最為發達東部及沿海地區，剩下國民政府控制的領土，工業基礎設施十分薄弱，意味著不能自產軍械以應付前線軍隊需要。要維持國軍持續作戰能力，就需要依靠當時道路狀況差劣的滇緬公路輸入軍備，以及蘇聯軍事援助。如果情況持續下去，中國的戰爭潛力必然註定被削弱，僅能自保而已。請問對日抗戰「以空間換取時間」，最典型例子是國民政府將首都遷移至何處？(A)瀋陽 (B)重慶 (C)上海 (D)南京。(P.106)
27. 他在自傳《我的前半生》中說：「日本人從皮包里拿出了《滿蒙人民宣言書》以及五色的「滿洲國國旗」，放到我面前的茶几上。我氣得肺都要炸了。我的手顫抖著把那堆東西推了一下，問道：『這是個什麼國家？難道這是大清帝國嗎？』我的聲音變了調。結果日本人照樣地不緊不慢地回答：『自然，這不是大清帝國的復辟，這是一個新國家，東北行政委員會通過決議，一致推戴閣下為新國家的元首，就是『執政』。』請問上文的他最有可能是指下列何人？(A)溥儀 (B)張學良 (C)蔣中正 (D)袁世凱。(P.102)
28. 美國羅斯福總統在國會說道：「日本這次沒有正式宣戰，卑鄙的攻擊會永遠承擔不名譽的罪名……美國人民必然獲得最後勝利，我們不單要盡力防衛，更要使這種卑鄙的行為再也無法危及我們……我們將會獲得最後勝利，願上帝保佑。在此本人僅要求國會宣布『參戰』。」請問上述與下列哪一場歷史事件有關？(A)珍珠港事件 (B)九一八事變 (C)一二八事變 (D)盧溝橋事變。(P.106)
29. 會議在舊金山召開，50 國政府及諸多非政府機構參與並起草成立憲章。西元 1945 年 10 月 24 日，當時安理會五大常任理事國（法國、中華民國、蘇聯、英國和美國）及多數其他簽署國（46 國）共同批准憲章，這個組織正式宣告成立。請問這個組織是指？(A)世界貿易組織(WTO) (B)聯合國 (C)國際聯盟 (D)亞太經濟合作會議(APEC)。(P.107)
30. 歷史學者趙慶河教授曾經表示，他母親提過，在民國 37、38 年期間，物價飛漲、一日數變，「一碗麵賣十二萬元，當時吃麵都要先付錢，不然等麵吃完，就已漲到廿萬元。」顯見通膨之嚴重。依照民國史事和社會經濟的關係判斷，請問當時發生何事？(A)北伐 (B)十年建設 (C)八年抗戰 (D)國共內戰 (P.110)

※沛沛在展覽中看到以下的文字：近代日本崛起的速度相當迅速，從鎖國政策之下的閉關自守，到甲午戰爭證實其實力的壯大，進一步雄踞東亞；1920 年代，在國內的壓力下，更是積極向外擴張，最終發動中日戰爭，期間不過八十餘年。請問：

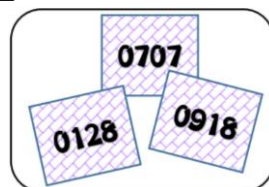
31. 文中提及使日本實力迅速壯大的關鍵，應為下列何者？(A)自強運動 (B)五四運動 (C)日俄戰爭 (D)明治維新。(P.102)
32. 對於底線部分提及的情勢，下列敘述何者正確？(A)國內外經濟危機，使軍國主義勢力成長 (B)以琉球漁民被殺害為由，進而出兵臺灣 (C)為爭奪中國東北的特權，

爆發日俄戰爭 (D)黑船事件後，國內掀起提倡改革的聲浪。(P.102)

※阿嵐和朋友參加了在臺北國史館進行的闖關遊戲，不擅長歷史的他們卡關了，只好向路過的你求助，你能協助他們解開謎題嗎？

33.

請參考下方數字，依提示選擇正確答案。〈提示〉數字代表日期，如 0707 就是 7 月 7 日。



數字代表著日期，也表示著發生事件的時間或是名稱，請試著將這些數字按照發生地點由北至南排列。

- (A)0707→0918→0128
(B)0128→0707→0918
(C)0918→0707→0128
(D)0918→0128→0707。(P.102、106)

34. 這是一張八年抗戰中日衝突的地圖(分為八區)。請問塗色區塊要如何配對，才能答對這一關呢？

- (1)請將屬於日本殖民地的地方塗綠色；
(2)請將九一八事變後淪陷的區域塗紅色；
(3)請將八年抗戰時日軍進行屠殺的地點塗藍色；
(4)請將揭開八年抗戰全面抗日序幕的地點塗黃色。



- (A)綠→甲、紅→乙、藍→庚、黃→辛
(B)綠→甲、紅→丙、藍→辛、黃→庚
(C)綠→甲、紅→乙、藍→辛、黃→庚
(D)綠→甲、紅→庚、藍→辛、黃→乙。(綜合)

35. 附圖中兩人所討論的新聞事件應為下列何者？(Ch3)



- (A)富商遺產分配引發子女間的爭議
(B)男子持刀搶劫夜歸女子的名牌包
(C)政治人物未依規定申報名下財產
(D)青少年無照駕駛機車被警方攔檢

36. 《刑法》第266條規定：「在公共場所或公眾得出入之場所賭博財物者，處3萬元以下罰金。」隨著資訊科技的發達，卻有在家中透過線上賭場賭博，被認定不算公然賭博，獲判無罪的案例，引起社會討論。法院判決的關鍵在於「簽賭網站非公共場所，不具公開性。」但仍指出因科技精進新興賭博之行為，如認為有依《刑法》處罰之必要，應循立法途徑修法明定，以杜爭議。文中畫線部分的敘述符合何項精神？ (A)不知者無罪 (B)罪刑法定原則 (C)法律之前人人平等 (D)無罪推定原則。(Ch3)
37. 一名男子開車衝撞值勤警察，所幸警察及時閃避，未發生憾事，地方法院的法官依殺人未遂罪將男子判處5年有期徒刑，並褫奪公權2年。下列敘述何者「正確」？ (A)法官最後會負責執行判決 (B)有期徒刑是剝奪犯罪者的財產 (C)被褫奪公權者不得參加公務員考試 (D)褫奪公權是剝奪犯罪者所有的參政權。(Ch3)
38. 一名男子涉嫌仿造醫療口罩並販售仿冒品，想大賺疫情財，檢察官依《刑法》詐欺等罪將其起訴，並聲請法院「沒收」其不法所得。關於「沒收」的敘述，下列何者「正確」？ (A)屬於民事責任的一種 (B)剝奪犯罪者的財產 (C)為不能單獨科處的從刑 (D)避免犯罪人將不法所得移轉。(Ch3)
39. 小新在連續劇中看到「打官司」的情節，進而和班上同學討論民事訴訟與刑事訴訟的相關內容。下列同學所提出的說法何者「正確」？(Ch4)
(A)正男：「民事訴訟庭會看到檢察官起訴。」
(B)妮妮：「民事訴訟可向加害人要求罰金。」
(C)風間：「刑事訴訟可由被害人提起告發。」
(D)阿呆：「刑事訴訟可由被害人提出自訴。」
40. 為了讓學生對自己未來有興趣的職業有所了解，老師製作了一份「職業大哉問」的寒假作業。小丸子想當檢察官，小玉想當警察，關於她們的作業報告，何者「出錯了」？ (Ch4)
(A)小丸子：檢察官對刑事案件進行審理、判決
(B)小丸子：檢察官擁有刑事案件偵查權，並代表國家起訴犯罪
(C)小玉：警察協助民眾處理報案程序
(D)小玉：警察依法協助檢察官偵查犯罪、調查犯罪情形及蒐集證據。
41. 小美正在學習《刑法》，他嘗試解讀新聞內容，下列敘述何者「正確」？(Ch3, Ch4)

社會案件前線

網紅小蘭於直播時散播不實言論，惡意造謠攻擊另一位網紅小惠，遭小惠提告後，小蘭被判妨害名譽罪成立。

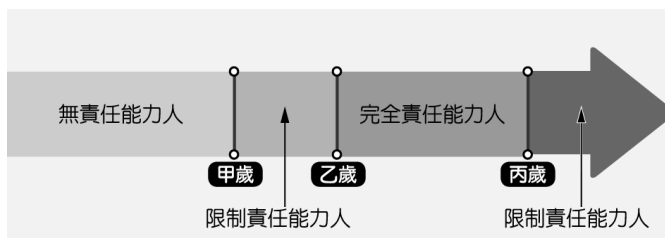
- (A)小蘭的行為已經侵犯社會法益 (B)妨害名譽罪為告訴乃論 (C)小惠的提告行為稱之為「告發」 (D)檢察官會主動偵查上述社會案件。
42. 一名五十歲的婦人有精神疾病，某日開車被警方臨檢攔下後，不僅以言語辱罵警方，還出手攻擊上前勸導的警員，事後婦人解釋因精神狀況不佳，才導致行為不當，但警方仍將她移送法辦。請問：這名婦人可能將會受到什麼制裁？ (A)屬精神障礙者，得減輕其刑 (B)屬

精神障礙者，不以《刑法》處罰 (C)屬無責任能力人，得減輕處罰 (D)屬完全責任能力人，須接受《刑法》制裁。(Ch3)

43. 公民老師規畫「刑事案件偵辦模擬體驗」活動，將追訴實況移植課堂，由學生扮演法官、檢察官、警察、被告、律師與被害人等角色，讓學生透過活動認識訴訟流程與培養法治觀念。模擬活動中，扮演被害人的香香遭朋友阿德打傷後報警，案件移送至「地檢署」做後續處理。請問，「地方檢察署」隸屬於哪一個機構？(Ch4)
(A)行政院 (B)立法院 (C)司法院 (D)監察院。
44. 下列四則新聞標題，哪一則標題「完全正確」？(Ch3)

新聞標題	
新聞一	十三歲嫌犯被捕，將不會受到任何處罰
新聞二	二十歲大學生，疑似課業壓力過大打傷人可減刑
新聞三	瘡啞者犯下殺人案，法官將酌情減刑
新聞四	冷血殺人犯，檢察官作出死刑判決

- (A)新聞一 (B)新聞二 (C)新聞三 (D)新聞四。
45. 在刑事法庭中，「他」穿著黑底紫邊的法袍，並在法庭上說道：「根據我偵查的結果，被告有犯罪嫌疑。」請問：「他」應為下列何者？ (A)法官 (B)檢察官 (C)警察 (D)律師。(Ch4)
46. 花蓮監獄聘請勵志心靈專家至監所為收容人做心靈勵志講座、推廣收容人監外學習工作技能等，希望有助收容人未來順利重返社會，自力更生。此種做法是想要達成何種目的？ (A)處罰犯罪 (B)預防犯罪 (C)矯正犯罪 (D)補償被害人。(Ch3)
47. 《刑法》對於責任能力的規定，依據年齡分為三種，如附圖所示。請問：由左至右，年齡的分界應該為何？(Ch3)



- (A) 7、14、20 (B) 7、12、18
(C) 14、20、75 (D) 14、18、80。
48. 依照附圖對話內容判斷，此案件糾紛最可能是下列何者？(Ch4)



- (A)此為民事訴訟，可能是對方欠債不還
(B)此為刑事訴訟，可能是對方偷竊物品
(C)此為刑事訴訟，可能是對方過失傷害
(D)此為民事訴訟，可能是對方言語誹謗

49. 附圖中兩人討論的現象違反下列哪一項原則？



(A)無罪推定原則 (B)罪刑法定原則 (C)誠實信用原則 (D)契約自由原則。(Ch3.Ch4)

50. 下列四位同學分享對「罪刑法定原則」的認識：

小東：執法者有大幅度解釋法律的空間
小西：法律生效後才能懲罰違法的行為
小南：社會多數人的習慣會影響判決結果
小北：處罰的罪責應有明確的範圍規範

以上哪些同學的說法較為符合該項原則的意涵？ (A) 小東、小西 (B)小西、小南 (C)小東、小北 (D)小西、小北。(Ch3)

【試題結束】