

【讀卡科目請依規定畫卡，若有違反畫卡規定而影響讀卡作業之情事，一律扣總分五分。】

【手寫答案卷需確實寫上班級、座號、姓名，違者一律扣總分五分。】

【手寫答案卷需用藍色或黑色墨水筆書寫，違者一律扣總分五分，使用鉛筆書寫扣五分。】

一、選擇題

1. 1854年某英國博物學家前往東印度群島考察，八年內總共蒐集了12萬餘件的生物標本，並著有《馬來群島自然考察記：紅毛猩猩與天堂鳥的原鄉》。該博物學家在當地所見到的傳統住屋型式最可能是下列何者？B.4

(A) (B)



(C) (D)



2. 近年來我國政府審慎評估「農村引進農業外勞」的可行研擬該政策最主要是為了下列哪一項臺灣農業特色？(A)農作種類多樣 (B)農村人力老化 (C)農業耕地狹小 (D)農產品商品化。B.2

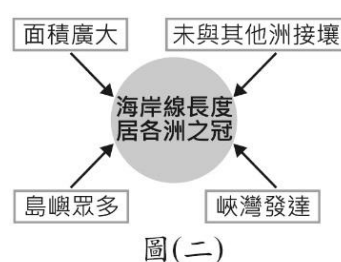
3. 圖(一)是雜誌上的旅遊廣告，該行程的主要特色最可能是下列何者？(A)莽原動物大遷徙 (B)峽灣海岸郵輪行 (C)針葉林生態探索 (D)葡萄酒莊體驗遊。B.4

東非肯亞 13日之旅
桑布魯國家自然保護區
馬賽馬拉國家自然保護區
全程安排領隊隨團
出發日期8月2日

圖(一)

4. 「2016年初，滿載商品的貨運列車從中國浙江義烏出發，經西安、蘭州和烏魯木齊等城市後，駛往伊朗德黑蘭，歷時14天完成首航，再現古絲路的輝煌。」這班列車在駛離中國後，最可能途經下列何地？(A)東歐 (B)南亞 (C)中亞 (D)東南亞。B.3

5. 圖(二)是阿政繪製某大洲海岸特色的成因分析，●代表特色，□代表成因。該大洲最可能是下列何者？(A)美洲 (B)非洲 (C)亞洲 (D)歐洲。B.5



圖(二)

6. 臺灣因山林面積廣大、巡查不易，出現許多違法開發山林資源的事件。政府機關若要快速比對不同時間的地表狀況，找出可能遭到大範圍違法伐林的地點，使用下列哪一種地圖最為適合？(A)分層設色圖 (B)地形剖面圖 (C)衛星影像圖 (D)等高線地形圖。B.1

7. 「食物里程」是指食物從生產地送到消費者手中的運送距離。某企業的老闆在台中市舉辦年終尾牙宴時，為響應節能省碳、降低污染的環保政策，於是考量食物

里程來選用水果。若皆以相同款式的貨車運送，選用哪一產地直銷的水果，最能符合該老闆的想法？(A)屏東的蓮霧 (B)雲林的柳丁 (C)高雄的芭樂 (D)宜蘭的番茄。B.6

8. 承上題，食物里程越長，對環境的影響越大。主要會導致哪一環境問題的惡化？(A)臭氧層破洞 (B)全球暖化 (C)地層下陷 (D)海洋汙染。B.6

9. 臺灣年降水量充沛但平均每人可再生水資源卻不算豐富主要是那些因素造成的？(A)地處低緯，蒸發量大 (B)土地面積狹小且人口密集 (C)五大地形中，山地面積廣布 (D)河川流速快且降水季節分布不均。B.1

10. 圖(三)小芬在網路上看到的某日下午一點臺灣部分測站的氣溫資料，當時臺灣氣溫空間分布的差異與下列何者關係最為密切？(A)大陸冷氣團逐漸南下 (B)蒸發旺盛形成熱對流 (C)熱帶低氣壓逐漸增強 (D)滯留鋒面持續向北移。B.1



圖(三)

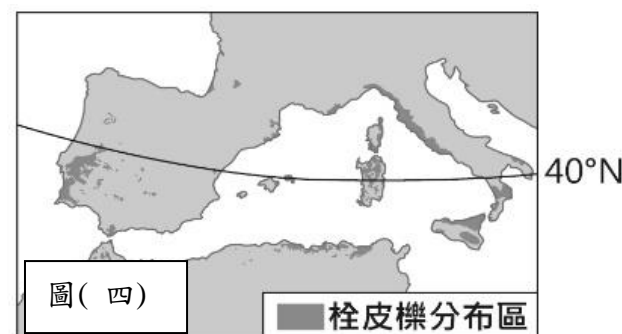
11. 下表(一)是1949年至2014年臺灣北、中、南、東四大區域平均逕流量的相關數據，其中何者為南部區域？(A)甲 (B)乙 (C)丙 (D)丁。B.1

表(一)

月分 區域	11~4月	5~10月
甲	1814.66	15668.50
乙	3405.17	11909.67
丙	4186.25	12670.98
丁	5594.71	9446.95

單位：百萬立方公尺

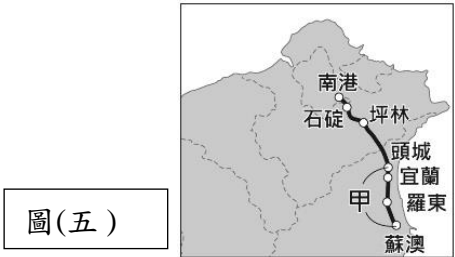
12. 封裝酒瓶的軟木塞是由栓皮櫟的樹皮製成。根據圖(四)栓皮櫟的分布區判斷，其生長環境的



圖(四)

氣候特色，主要為下列何者？(A)全年有雨，無明顯乾季 (B)乾燥少雨，年降水量250mm以下 (C)夏雨冬乾，年降水量1,000mm以上 (D)冬雨夏乾，年降水量400至800mm。B.5

13. 圖(五)為蔣渭水高速公路路線圖，其中甲路段經過的地形主要為下列何者？ (A)山地(B)平原(C)丘陵(D)盆地。B.1

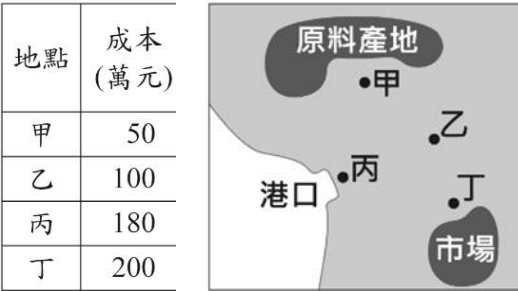


14. 我國海軍敦睦艦隊在遠航訓練前，會先繞行臺灣進行短程的航訓任務，並停靠主要港口供民眾參觀。表(二)為 2015 年該艦隊依序停靠的本島港口，根據各港口位置判斷，該航線應為下列何者？ (A)由西南部出發行經臺灣北部至東部沿海 (B)由西南部出發行經臺灣南部至東部沿海 (C)由東部出發行經臺灣北部至西南部沿海 (D)由東部出發行經臺灣南部表至西南部沿海。B.1

表(二)

港口	經度	緯度
甲	120.27°E	22.62°N
乙	120.15°E	22.99°N
丙	120.52°E	24.26°N
丁	121.74°E	25.13°N
戊	121.86°E	24.60°N
己	121.62°E	23.98°N

15. 計畫在右圖表中，乙、丙、丁選擇一地開設工廠，呈現選擇不同地點設廠的生產成本。若不同設廠地點的成本差異僅來自運輸成本，則相較於原料，該工廠的產品具有下列何種特性？ (A)易腐敗 (B)易破碎 (C)體積變小 (D)重量增加。B.2



16. 外流就業人口是指不住在戶籍地縣市，而住在外縣市之就業人口，例如某人戶籍地在嘉義縣，但因工作而住在臺南市，則計入嘉義縣的外流就業人口。下表為 2012 年桃園縣(已改制為桃園市)、雲林縣、臺東縣、澎湖縣四個行政區的外流就業人口統計資料，其中何者為桃園縣？ (A)甲 (B)乙 (C)丙 (D)丁。B.2

行政區	外流就業人口(千人)	外流就業人口占該區就業人口比率(%)
甲	12	30.78
乙	31	29.86
丙	83	25.06
丁	59	6.28

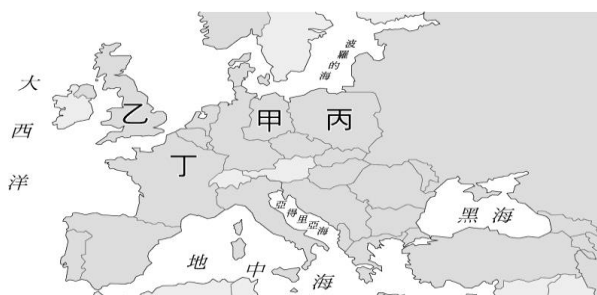
17. 下表為某作物三大品種在全球及中國分布的比較。根據表中資訊判斷，該作物最可能為下列何者？ (A)玉米 (B)咖啡 (C)棉花 (D)葡萄。B.5

品種分布	甲	乙	丙
原產地	衣索比亞	剛果	賴比瑞亞
全球分布範圍	28°N~38°S間的海拔1300至1900公尺地區，其中以巴西、哥倫比亞最多	10°N~10°S間的低海拔地區，東南亞、印度及非洲中部和東部為主要栽種區	宜於低海拔地區種植，僅分布於賴比瑞亞、馬來西亞、印度、印尼等國
中國產區	在雲南、廣西、福建、廣東的南部	主要在海南島	栽種較少


18. 美國羅斯福總統曾經主持「爐邊閒談」的廣播節目，在節目當中不斷的對美國人民信心喊話，陳述他即將推動的新政之內容及理想，獲得當時大多數美國民眾的支持。請問：羅斯福推動新政的背景為何？(A)第一次世界大戰爆發 (B)經濟大恐慌爆發 (C)共產國際散布世界 (D)歐洲的極權政治興起。(第六冊)
19. 《七十年長征：江渭清回憶錄》的作者對於西元 1961 年發生的某件事情印象相當深刻，他在回憶錄中留下相關的描寫，其內容如下：這裡耗糧特別大，不分老少、不管活輕活重，都在一個大鍋裡吃，一年吃了兩年糧，全年口糧幾個月就吃光了，浪費大得不得了……而且，以前各家各戶燒飯時，對鍋灶碗盆，十分愛護，現在吃大鍋飯了，鍋灶經常壞，碗筷隨手丟，經常要重新添購鍋碗灶具……上文所記述的史實來看，下列敘述何者不正確？(A)以為人定可以勝天，卻反而引發大饑荒 (B)各地為了配合政策，紛紛浮報糧食產量 (C)實行集體生產與物資平均分配，造成農民生產意願低落 (D)當時共產黨訴求「攘外必先安內」。(第四冊)
20. 見右圖是歷史老師在課堂上講解某時期臺灣歷史所畫的示意圖。由圖片內容推斷，老師最可能是講述何時的歷史？(A)十三世紀 (B)十五世紀 (C)十七世紀 (D)十九世紀。(第一冊)
21. 陳奶奶回憶說：「在那個年代，市面流通著各種貨幣，後來政府廢除銀兩，規定一律改用銀元；再過一陣子，政府規定只能用指定銀行發行的紙幣，終於解除了幣制混亂的局面。」陳奶奶描述的應是下列哪一時期？(A)民國 17~26 年十年建設 (B)民國 26~34 年八年抗戰 (C)民國 34~38 年國共內戰 (D)民國 62~68 年十項建設。(第四冊)
22. 下列有關亞歷山大東征與蒙古西征的比較，何者正確？(A)前者將造紙術傳入中國，後者將火藥傳入歐洲 (B)前者疆域橫跨歐、亞、非三洲，後者橫跨歐、亞兩洲 (C)前者融合了希臘、西亞、埃及與中國文化；後者是融合蒙、漢兩大文化 (D)都因農業民族攻擊草原民族而起。(統整)



23. 二十世紀初，歐洲有「三國同盟」與「三國協約」兩大聯盟組織；到二十世紀中葉，又出現「北大西洋公約組織」與「華沙公約組織」兩大集團。這些國際結盟是屬於下列何種性質的組織？(A)經濟互惠 (B)文化交流 (C)軍事合作 (D)社會救助。(第六冊)
24. 「1948年6月24日，蘇聯全面切斷該區的水陸交通及貨運，只保留三條走廊通道。6月29日，美國派出大批飛機來到該區，對此區200多萬居民運送糧食及物資。空運飛行次數在一年內超過20多萬次。」請問：上述文字描寫的是下圖何處的狀況？(A)甲 (B)乙 (C)丙 (D)丁。(第六冊)



25. 某報紙社論提及：「最近物價狂飆，整個經濟社會在震盪著，人民生活極端困苦，誰都希望政府能夠設法徹底解決。人民實在太苦了，再提起日本投降時所設想的美麗遠景，似乎只是痴人說夢。人民現在沒有絲毫的奢望，只求有最低限度的安定生活。貧者越貧，富者越富，兩者之間的差距越來越大，這種社會實在太危險了。」文中提及「物價狂飆」，主要與下列何者的關係最密切？(A)日軍帶走大量物資，導致臺灣資源短缺 (B)廢除專賣制度，使人民與政府收入減少 (C)人口大量的移入，造成日常物資的缺乏 (D)臺灣資源大量輸往中國以支援國共內戰。(第四冊)
26. 沈葆楨、劉銘傳等人來臺建設的重點項目，反映出當時清朝治臺最主要的目的為何？(A)墾殖移民增多，加強行政管理 (B)提倡新式工業，增加賦稅收入 (C)增強海防建設，鞏固東南海疆 (D)推動儒學教育，落實文化建設。(第一冊)
27. 中古晚期，封建制度逐漸瓦解，歐洲逐漸從封建式政權走向一種新的政治體制。請問下列有關這種新政治體制的發展何者正確？(A)貴族積極參政提升貴族影響力 (B)火藥的傳入有助於封建的瓦解 (C)市民階級透過封建制度而取得領導權 (D)王權的提升反而削弱國家認同。(第五冊)
28. 下圖甲、乙、丙三張照片，分別與某戰爭中的三個重要事件有關，若依這些事件發生的時間先後順序排列，下列何者正確？(A)乙丙甲 (B)乙甲丙 (C)丙甲乙 (D)丙乙甲。(第六冊)

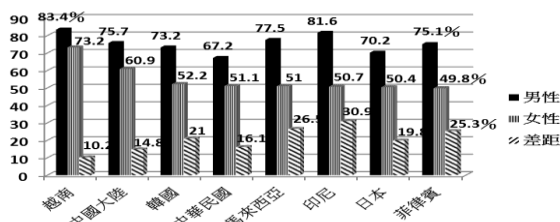


29. 《南史·王僧達傳》：路瓊之的祖父是皇太后的兄長，路家是皇親國戚，瓊之官小卻位重。他與當時高門世族王僧達是鄰居。有一天，路瓊之盛裝打扮，專程拜訪王僧達。到了王家，王僧達卻不大理會，反而問路瓊之：「以前在我們王家趕車的路慶之，是你的什麼人啊？」路慶之就是路瓊之的祖父，這是很明顯的羞辱。瓊之走後，王僧達甚至命人把他坐過的坐牀(古代的坐具)給燒掉了。路瓊之回去向太后哭訴，太后大怒，向皇帝告狀。皇帝卻清描淡寫的回答：「瓊之年少，沒事去拜訪王僧達，被羞辱也沒辦法。僧達是貴公子，怎麼可以因此而處罰他呢？」上述故事反映出世族社會的何種特徵？(A)國君用人唯才，布衣可以為卿相 (B)重視門第觀念，連皇帝也不能妄加干涉 (C)禁止與外族通婚，鞏固勢力 (D)君權凌駕世族之上。(第三冊)
30. 美國總統威爾遜於1914年的一份文告中提到：「美國人民來自很多民族，主要則來自現正處於戰爭的民族……美國不僅在名義上，在實質上也必須保持中立。」但是後來美國卻從中立態度轉而參加世界大戰，其原因為何？(A)日本偷襲珍珠港的舉動 (B)德國使用無限制潛艇政策 (C)奧國皇儲斐迪南被暗殺 (D)俄國因經濟衰敗退出戰局。(第六冊)
31. 阿龍是個東南亞華僑商人之子，他無意中翻到祖先留下來的祖訓，內容提到：「當年我們經過這裡，覺得這是一塊值得開發的地區，於是我們選擇不回中國而留在此地發展，克勤克儉，終於漸有成就，後世子孫務必必要守成！」這段內容最有可能與下列何事有關？(A)鄭和下西洋 (B)靖難之變 (C)海禁政策 (D)渡臺禁令。(第三冊)
32. 「民族主義」盛行於十九、二十世紀，民族主義者強調對民族的忠誠，並且追求民族的最高利益，是當時歐洲社會以及政治的主導思想之一。請問：下列哪一歷史事實不足以體現「民族主義」的表現？(A)玻利瓦領導拉丁美洲的獨立運動 (B)馬志尼組青年義大利黨鼓吹統一 (C)第一次世界大戰之前三國協約的結盟 (D)中國五四運動中「外爭主權」的訴求。(第六冊)
33. 圓圓整理出臺灣在清帝國統治晚期中對外事件的衝擊，並製成表格(見下圖)進行報告，老師發現表格需要修正，請幫圓圓找出表格中哪一選項是錯誤的？(第一冊)

選項	牡丹社事件	清法戰爭
(A)起因	琉球問題	越南問題
(B)地點	基隆、澎湖、淡水	恆春半島
(C)人物	沈葆楨	劉銘傳
(D)結果	加強建設臺灣	臺灣建省

34. 英國歷史家湯恩比說：「人類從歷史上學到的教訓，就是永遠不會從歷史上學到教訓。」請問：南宋的「哪件史事」是因為未記取北宋的教訓，而導致國家走向滅亡？(A)聯絡蒙古人一起對抗女真 (B)對契丹稱臣，並以宗室女子和親 (C)修建長城以防女真南下 (D)簽訂盟約，以歲幣換取和平的局面。(第三冊)

35. 勞動是指個人運用自己的體力或心力，創造出能滿足需求的事物以獲取生活所需，下列有關勞動的敘述何者「正確」？ (A) 有獲得實質報酬才叫勞動 (B) 勞動的目的僅為了賺取薪水 (C) 媽媽在家照顧妹妹屬於市場勞動 (D) 爸爸在家整理家務也是一種勞動。(第3章)
36. 有關市場勞動和家務勞動的比較，下列何者「正確」？ (A) 家務勞動能夠幫助維持市場勞動的穩定運作 (B) 市場勞動的範圍只能在一個國家境內無法跨國移動 (C) 家務勞動無法像市場勞動對經濟社會產生貢獻 (D) 只有市場勞動者能提供家庭成員生理和心理的照顧。(第3章)
37. 勞動者在國際間流動形成國際移工，造成國際移工普及的主要因素應為下列何者？ (A) 社會福利的推動 (B) 全球分工的影響 (C) 社會結構的改變 (D) 醫療資源的普及。(第3章)
38. 珍珍看到下列部分國家的市場勞動統計圖表，由圖中資訊判斷，下列何者解釋「最適當」？ (A) 亞洲國家男女性別比差距甚大 (B) 亞洲國家勞動市場男性參與比例皆多於女性 (C) 亞洲國家女性無酬勞動比例偏低 (D) 亞洲國家男女性同工不同酬現象顯著。(第3章)



39. 政府為保障勞工的工作環境與職場安全，制定下列何部法律且這部法律名稱曾改名？ (A) 《職業安全衛生法》 (B) 《性別工作平等法》 (C) 《勞動基準法》 (D) 《人權兩公約》。
40. 中華人民共和國於 1971 年取代我國，單方面主張「一個中國」的原則，使我國無法以其他國家發展正式的外交國家，請問上述是指哪一個國際組織？ (A) EU (B) WHO (C) WTO (D) UN。(第4章)
41. 國際組織的分類可以依照加入成員的分布範圍，區分為全球性與區域性國際組織，依此分類判斷，下列哪一組國際組織的類型「完全相同」？ (A) 聯合國、東南亞國協、亞太經濟合作會議 (B) 無國界醫生、歐洲聯盟、東南亞國協 (C) 世界展望會、聯合國、歐洲聯盟 (D) 聯合國、世界衛生組織、世界貿易組織。(第4章)
42. 西元 2020 年初全球新冠肺炎疫情爆發時，因為臺灣防疫有成，曾捐贈許多醫療資源給其他國家。臺灣此一舉動應屬國際社會的哪一種互動方式？ (A) 國際合作 (B) 國際衝突 (C) 國際交流 (D) 國際援助。(第4章)
43. 西元 2009 年，我國以觀察員身分受邀列席世界衛生大會，報告我國對新型流感的防疫工作，當時代表為衛生署署長葉金川。當時我國是以何種名義參加？ (A) 中華民國 (B) 中華臺北 (C) 臺灣 (D) 臺澎金馬個別關稅領域。(第4章)
44. 阿文受電影「艋舺」影響想要成立中正太子幫分會，所幸公民老師及時發現阻止且引用相關法條告誡他。請問：該法條為限制《憲法》所賦予人民的哪項基本權利？

- (A) 平等權 (B) 受益權 (C) 自由權 (D) 參政權。(第4冊)
45. 阿花因天黑視線不良誤入港口範圍內釣魚，但他的行為已違反相關法規，將可能被處以罰鍰，警方提醒民眾千萬不要因疏忽而觸法。上述阿花如果被開罰而不服，依法他應先採下列何種方式進行權利救濟來保障自身權益？ (A) 向警察機關提出請願 (B) 向法院提出上訴 (C) 向訴願管轄機關提出訴願 (D) 向高等行政法院提起訴訟。(第4冊)
46. 小花在網路平臺提問如下圖的法律問題，下列哪一位網友回答是「正確」的？ (A) Hello：是剝奪權利的處罰，指不能參加國家考試和競選公職候選人 (B) Yes：是違反《刑法》犯罪行為的從刑，可以單獨科處 (C) Tom：屬於剝奪自由的刑罰 (D) Mary：是《刑法》中的主刑。(第4冊)

看板>法律 Laws
作者：小麗 Cherry
標題：我的朋友被褫奪公權，這是什麼意思啊？

47. 阿神年滿 18 歲就去考駕照，通過考試後政府會核發駕駛執照，這是屬於下列哪個法律所明定的規範？ (A) 憲法 (B) 行政法 (C) 刑法 (D) 民法。(第4冊)
48. 小傑(15 歲)國中剛畢業想打工，根據現行相關法律規定，他可以到下列何處打工？ (A) 到花花超商打工，值大夜班晚上 9 點到隔天早上 6 點 (B) 假日到郝吃餐廳當服務生 (C) 未經父母同意去速食店上班 (D) 平日早上 9 點到加油站打工 5 小時。(第4冊)
49. 中正國中幾位同學相約玩桌遊「模擬法庭」，安安抽到的角色卡上寫著「負責偵察犯罪後向法院提起訴訟」，則安安在遊戲中扮演的角色，應為下列何者？ (A) 法官 (B) 律師 (C) 檢察官 (D) 警察。(第4冊)
50. 根據右圖的對話內容，請判斷目前三人的年齡「由大至小」應如何排列？ (A) 東東、玲玲、小小 (B) 玲玲、東東、小小 (C) 小小、玲玲、東東 (D) 玲玲、小小、東東。(第4冊)

小小：如果我偷東西可完全免除刑責。
玲玲：雖然我的年紀還不能參與公投，但犯罪時可以減輕刑責。
東東：民國 109 年的總統大選，我是首投族，投下自己神聖的一票。