

# 新北市立中正國民中學111學年度第二學期七年級社會科第三次段考試題

範圍：公民 B2L5~6、歷史 B2 L5~6、地理 B2 L5~6 班級：\_\_\_\_\_ 座號：\_\_\_\_ 姓名：\_\_\_\_\_

【讀卡科目請依規定畫卡，若有違反畫卡規定而影響讀卡作業之情事，一律扣總分五分。】

【手寫答案卷需確實寫上班級、座號、姓名，違者一律扣總分五分。】

【手寫答案卷需用藍色或黑色墨水筆書寫，違者一律扣總分五分，使用鉛筆書寫扣五分。】

## 一、 選擇題

1. 中正國中 719 班上同學正為了公民課「探討社會福利政策」報告分組進行討論，下面哪一位同學所提的政策最可能已經「偏離主題」？(P194-195)

(A)推動優質長期老人日間照護  
(B)家長請領 2 至 4 歲育兒津貼  
(C)政府普發全民 6000 現金  
(D)補助中低收入戶的補助金。

2. 電影《關鍵少數》改編自真人真事，描述 1960 年代黑人女性在 NASA（美國太空總署）工作，並以傑出的工作能力促成人類首次繞行地球壯舉。影片中有一場景為主角之一凱薩琳，每次都要跑 800 公尺才能到達允許黑人使用的廁所。因為路程遙遠，以至於上司以為她經常打混。請問：根據這部電影劇情，凱薩琳是因哪一社會地位而遭遇到不公平待遇？(P183-184)

(A)族群  
(B)資源分配  
(C)身心障礙  
(D)教育程度。

3. 媽媽看某一電視節目談論的主題是「政府辦理社會福利措施的經費」，下列哪一位現場觀眾的發言內容「最正確」？(P196-197)

(A)許小姐：由於人民繳納的稅款充足，不需擔心經費問題  
(B)徐先生：我國經濟發展良好，因此國庫豐沛  
(C)劉小姐：社會福利資源有限，政府應嚴格控管支出  
(D)王先生：如果面臨經費不足，公益團體應接手辦理社會福利措施。

4. 依附圖的情境判斷，小志應適用下列哪一種社會保險？(P194)

我沒有外出工作，負責照顧家裡，適用哪一種社會保險？

志豪

(A)勞工保險  
(B)國民年金保險  
(C)職業保險  
(D)全民健康保險。


5. 公民課時，老師希望分組討論追求公平正義的社會所應有的做法，附表中哪一位同學的回答「最正確」？(P185-187)

同學	回答內容
江江	團體參與淨灘活動，回饋社會
彤彤	個人捐款給慈善單位，盡一分心力
妙妙	政府制定有助於財團的法律
亭亭	向身心障礙者借人頭戶開樂透彩券行

(A)江江 (B)彤彤  
(C)妙妙 (D)亭亭。


6. 根據統計，臺灣每年浪費約 68 萬噸食物，卻有近 70 萬的中低收入人口三餐無法溫飽，所以有許多慈善團體，透過將剩餘食物發送給弱勢群體，希望讓食物再分配、再分享及再利用。請問：上述團體的行為符合下列哪一概念？(P186)

(A) 透過民間力量落實公平正義的理想




伯恩

(B) 政府透過政策幫助中低收入人口




芊芊

(C) 個人建立珍惜食物的觀念



阿嘉

(D) 政府修法改善政策缺失



浩浩

7. 下列何者「不屬於」社會保險所保障的對象？(P194)

(A)小花拿健保卡去看醫生  
(B)小花的阿姨是農民參加農保  
(C)小花的媽媽參加國民年金保險  
(D)小花的表哥投保康康人壽新平安傷害保險。

# 新北市立中正國民中學111學年度第二學期七年級社會科第三次段考試題

範圍：公民 B2L5~6、歷史 B2 L5~6、地理 B2 L5~6 班級：\_\_\_\_\_ 座號：\_\_\_\_ 姓名：\_\_\_\_\_

8. 星星雜誌報導：Netflix 從一個快被產業淘汰的 DVD 出租業者，變成今日的影音串流龍頭，雖說善用的大數據等科技工具幫了大忙，Netflix 卻做出了令人「驚豔」的創新，因為它是贏在「打動人心」。就跟當年蘋果電腦推出 iPhone 一樣，讓人覺得「竟然有這麼美好的東西」。上述報導的主題為何？(P182)
- (A) 社會現象永遠不會改變  
(B) 社會變遷中存在著不公平的現象  
(C) 社會變遷中制度的改變最明顯  
(D) 科技發展加速了社會變遷。
9. 近年越來越多的人具環保意識，爸爸帶小心逛環保商店時，就看到店裡環保餐具的產品款式多樣，除材質有不鏽鋼、玻璃、矽膠等之分外，以玉米、小麥為主原料的款式也非常特別，挑選起來可說是一門學問。上文呈現下列何種社會變遷現象？(P182)
- (A) 制度層次影響器物層次  
(B) 理念層次影響器物層次  
(C) 器物制度影響理念層次  
(D) 制度層次影響理念層次。
10. 下列何者是「不屬於」改善社會不公平現象所做的努力？(P186-187)
- (A) 台灣勞工陣線等團體今天到勞動部前召開記者會，要求勞動部改善勞工的勞動條件  
(B) 透過「公車式小黃」，以計程車替代公車提供服務，解決偏鄉居民交通問題  
(C) 為身心障礙考生提供特殊考場或延長時間，維護其考試權益  
(D) 政府推行「代租包管」政策，以優惠措施鼓勵擁有房子者釋出空房，租給弱勢民眾，保障其居住權利。
11. 在市場擺攤賣菜的陳樹菊阿嬤曾被《富比士》雜誌、《時代》雜誌選為亞洲慈善英雄人物榜、年度最具影響力時代百大人物，她 20 年來捐出超過 1000 萬元做公益。請問：陳樹菊阿嬤的善行對社會有何幫助？(P186)
- (A) 發揮個人力量幫助弱勢，讓社會更溫暖  
(B) 縮小貧富差距  
(C) 讓所有人都安居樂業  
(D) 改善資源分配不均的問題。
12. 從胖虎的日記裡，可看出胖虎擔心的是社會變遷下所帶來的何種議題？(P183-184)
- 我發現金門、臺東、雲林的外流就業率是臺灣最高，超過28%，我只好跟鄰居一樣，包袱收一收往大城市奔去。我還要擔心鄉下父母的健康與就醫問題，因為家鄉的醫院實在太少了。如金門縣平均每1萬人只分配得到5.79位醫師，約只有臺北市34.09位的1/6。另外，有88%偏鄉缺醫師、3%鄉鎮零醫師，都是一個很大問題。
- (A) 身心障礙者的權益被忽視  
(B) 性別在薪資處於不平等  
(C) 資源分配不均造成城鄉差距擴大  
(D) 少數族群處於相對弱勢的地位。
13. 陳小姐是失業的單親媽媽，一些房東因擔心她收入不穩可能收不到房租，大多不願租屋給她，所幸經由里長轉介社會局，才得以住進新北市政府婦女中途之家；之後，新北市政府興建只租不賣的「健康公宅」，因具承租的資格又幸運抽中籤，才終於不用再面臨租不到房子的痛苦。從上文敘述中，可以看到哪些「社會福利」措施？(P194-195)
- (A) 社會救助與社會保險  
(B) 就業安全與福利服務  
(C) 福利服務與居住正義  
(D) 社會津貼與社區營造。
14. 隨著科技發展，各種工具與技能推陳出新，加速社會變遷，其中以器物層次改變最快，下列哪一種社會變遷是屬於「器物」層次？(P182)
- (A) 傳統婚禮到公證結婚  
(B) 重視經濟發展到環境永續  
(C) 馬車到汽車  
(D) 基本學力測驗到國中教育會考。
15. 「印度良心」影星阿米爾罕(Aamir Khan)藉由主持節目揭露社會長期詬病的問題，包含非法墮胎女嬰、兒童性騷擾、嫁妝問題、殺蟲劑濫用、醫療不當，社會不公的種姓制度等，讓印度民眾正視社會過去所不敢面對，或是不敢公開討論的話題。由於議題犀利嚴肅，累積超過 5 億觀眾收看，在輿論的影響下，成功督促政府儘速通過多項法案並加以執行。文中提及多項促進社會變遷公平正義的方式，下列何者「並未」包含？(P182-184)
- (A) 檢視及改善法律與政策  
(B) 募集資金提供實際物資  
(C) 覺察社會不公平的現象  
(D) 培養對公共議題的關注。
16. 政府推動的社會福利政策包含有(甲)全民健康保險(乙)災害的民眾生活補助(丙)原住民族家庭服務中心(丁)推動無歧視無障礙空間(戊)鼓勵婦女做子宮頸抹片檢查。請問其中哪些項目是屬於「福利服務」方面的項目？(P195)
- (A) 甲丁  
(B) 乙戊  
(C) 丙丁  
(D) 乙丙

背面尚有試題，請繼續作答

# 新北市立中正國民中學111學年度第二學期七年級社會科第三次段考試題

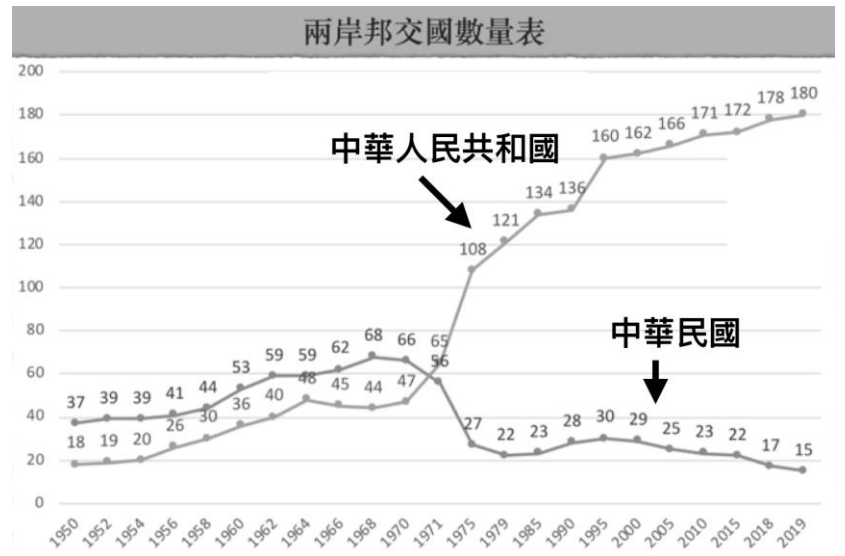
範圍：公民 B2L5~6、歷史 B2 L5~6、地理 B2 L5~6 班級：\_\_\_\_\_座號：\_\_\_\_ 姓名：\_\_\_\_\_

※ 第17-21為題組，請閱讀文章並回答下列問題：

下列是四則與中華民國外交有關的文件內容	
資料甲	以光榮之同感，追溯上次大戰期間，兩國人民為對抗帝國主義侵略，而在相互同情與共同理想之結合下，團結一致併肩作戰之關係；……美國願與中華民國加強合作，為維護和平與安全而建立集體防禦力量，以保障西太平洋區域的安全。雙方以軍事為基礎，進行政治、經濟、社會各方面的合作。
資料乙	國會授權美國政府，繼續維持美國人民與在臺灣人民間之商業、文化及其他關係，以促進美國外交政策。……所實施的各項方案或交往關係，同樣適用於臺灣人民。美國將提供防禦性武器給臺灣人民，以抵抗任何訴諸武力而危及臺灣人民安全及社會經濟制度的行動。
資料丙	恢復中華人民共和國的一切權利，承認它的政府的代表為中國在聯合國組織的唯一合法代表，並立即把蔣介石的代表從它在聯合國組織及其所屬一切機構中所非法佔據的席位上驅逐出去。
資料丁	美利堅合眾國承認中華人民共和國政府是中國的唯一合法政府，並承認中國的立場，即只有一個中國，臺灣是中國的一部分。在此範圍內，美國人民將同臺灣人民繼續保持文化、商務和其他非官方關係。

17. 請看資料甲的文章，請問在當時的時代背景之下，雙方合作的法源依據為何？（課本第120-123頁）  
（A）中美關係白皮書  
（B）中美共同防禦條約  
（C）臺灣關係法  
（D）臺灣旅行法
18. 請看資料乙的文章，請問當時的時代背景處於下列何種階段？（課本第120-123頁）  
（A）武力對峙（B）鞏固外交  
（C）彈性外交（D）務實外交
19. 今年四月，我國邦交國巴拉圭的選舉引發國民熱議與擔憂，當時在野黨候選人一度向選民喊話「當選後就要與我國斷交，巴拉圭需要與中共建交獲得更多經濟合作」然而，最終選舉結果，由執政黨候選人持續連任，結束當前的外交危機。目前外交恢復穩定關係，但此次事件也再次喚醒國人關注到邦交國減少的焦慮感。請問：參

考下圖兩岸邦交國數量表，造成中華民國的邦交國數量如雪崩式掉落的關鍵時間點為哪一年？（課本第120-123頁）（A）1960（B）1971（C）1975（D）1975



20. 承上題，造成兩岸邦交數量產生差距的關鍵時間點，與上述哪一份資料有關？（課本第120-123頁）  
（A）資料甲（B）資料乙（C）資料丙（D）資料丁
21. 請按時間排序資料發生的時間，下列何者正確？（課本第120-123頁）  
（A）甲丙丁乙（B）甲乙丙丁  
（C）乙丙甲丁（D）丙甲丁乙

※ 第22-23為題組，請閱讀文章並回答下列問題：

西元2019年1月2日，習近平「告臺灣同胞書」40週年紀念談話：「和平統一、一國兩制」是實現國家統一的最佳方式，體現了海納百川、有容乃大的中華智慧，既充分考慮臺灣現實情況，又有利於統一後臺灣長治久安。……堅持一個中國原則，維護和平統一前景。……我們不承諾放棄使用武力，保留一切必要措施的選項，針對的是外部勢力干涉和極少數「臺獨」分裂分子及其分裂活動，絕非針對臺灣同胞。世界上只有一個中國，堅持一個中國原則是公認的國際關係準則，是國際普遍共識。……臺灣問題是中國的內政，事關中國核心利益和中國人民民族感情，不容任何外來干涉。」

22. 根據上述習近平的談話內容，可以得知目前中華人民共和國的對臺政策包括下列哪些？  
（甲）放棄使用武力  
（乙）強調一個中國  
（丙）容許臺灣實施不同於中國的制度  
（丁）兩岸問題是「內政」問題  
（戊）不反對臺獨  
（己）以統一臺灣為目標。（課本第120-121頁）  
（A）乙戊（B）乙丙丁  
（C）乙丙丁己（D）甲乙丙丁己



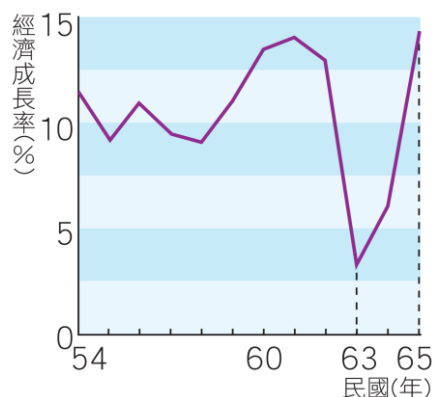
# 新北市立中正國民中學111學年度第二學期七年級社會科第三次段考試題

範圍：公民 B2L5~6、歷史 B2 L5~6、地理 B2 L5~6 班級：\_\_\_\_\_座號：\_\_\_\_ 姓名：\_\_\_\_\_

23. 文中，習近平提到和平統一、一國兩制，請問該口號「最早」於何時提出？（課本第120-121頁）  
（A）1953（B）1971（C）1979（D）1997

24. 新北市中和區每年都會舉辦盛大的潑水節活動。「潑水節」的正式名稱為宋干節(Songkran)，是泰國、寮國、緬甸、柬埔寨及中國傣族人等東南亞國家的新年。人們會在節慶期間以相互潑水慶祝，潑水的由來是因「水」在佛教傳統儀式中代表淨化、祝福，所以人們會藉潑水象徵清除厄運、罪惡，展開純淨一年。請問：原為東南亞地區節慶的潑水節會在新北市出現，與下列何者關係最密切？（課本第122、130-131頁）  
（A）配合並推廣政府的新南向政策  
（B）原住民族提倡並復興南島文化  
（C）新住民移入帶入不同地區文化  
（D）政治上欲加強與東南亞的聯繫

25. 右圖是民國54~65年，臺灣經濟成長率曲線圖，請問民國63年為何經濟成長大幅下滑？（課本第127頁）



26. 承上題，請判斷圖片內的時間背景，分別經歷過哪些時期的經濟政策？（課本第127頁）  
（A）美國援助、進口替代（B）進口替代、出口擴張  
（C）出口擴張、十大建設（D）十大建設、產業升級

27. 韓戰不僅只是韓國的戰爭，更在當時牽動了亞洲政治的緊張關係，下列有關韓戰的敘述何者「正確」？（課本第122頁）（A）時間發生在1950-1954年（B）當時是因為南韓出兵攻打北韓，在亞洲地區引發民主與共產勢力對抗（C）韓戰結束後，美國與我國簽訂中美關係白皮書（D）戰爭期間，美國主動巡防臺灣海峽

28. 小美最近看到一則新聞內容：「反亞泥還我土地運動終於等到正義！」、「《礦業法》三讀刪霸王條款」、「環團：讓土地主人有權決定未來！」請問此種類型的社會運動議題，在台灣最早從何時開始興起？（課本第131頁）  
（A）民國五十年代（B）民國六十年代  
（C）民國七十年代（D）民國八十年代

29. 歷經了近三年的時間，Covid-19在台灣自2023年5月1日起自第五類傳染疾病降階為第四類，中央流行疫情指揮中心終於完成階段性任務，正式解編。回顧2019年12月

COVID-19在中國武漢爆發，中國從此使用封城方式抗疫，後正式名之為「清零」。直到隔年1月疫情仍持續延燒，中國確診病例已經破千人，各城市陸續宣布封城，尤其武漢市不只大眾運輸交通全面暫停，高速公路也通通關閉。武漢封城後，當各國陸續展開撤僑行動，但仍有近2000名台商仍滯留當地。請問：當時想要盡快返台的那些台商們應該先聯絡哪一個單位進行求助？（課本第120-121頁）

（A）海基會（B）陸委會（C）國台辦（D）海協會

30. 民國80年代，台灣逐步降低貿易限制，開始積極加入國際組織，致力參與國際關係，請問下列組織中，何者為台灣目前有加入的組織？（課本第127頁）

（A）Asia-Pacific Economic Cooperation (APEC)  
（B）Indo-Pacific Economic Framework for Prosperity (IPEF)  
（C）Regional Comprehensive Economic Partnership (RCEP)  
（D）Comprehensive and Progressive Agreement for Trans-Pacific Partnership (CPTPP)

31. 阿龍在廢墟探險中檢到了一本日記，日記的主人叫文聰，內容日期大約落在民國四十年代，請問阿龍不可能在這本日記中看見什麼內容？（課本第126-129頁）

（A）文聰因為跟同學們聊天太激動，不小心脫口說了閩南語，結果被老師罰跑操場（B）因為越戰徵調物資，結果物價瘋狂飛漲，最近要省點花錢（C）媽媽每天都要去紡織廠上班，害我跟妹妹從小就必須學會煮飯（D）爸爸今年打算向政府購買放領的公地，以後再也不用再去幫別人種田了

32. 小豪在一篇論文中讀到一段話：「□□文學主要範疇：（1）反抗美國、日本的帝國主義；（2）呼籲社會與政治的改革；（3）讚揚市井小民的美德；（4）以民族自尊對抗美國與日本的傲慢無禮、粗俗下流。」請問□□應該填入哪個選項？（課本第129-130頁）

（A）鄉土文學（B）多元文化  
（C）反共文學（D）美國文化

33. 下列關於十大建設的發展背景介紹，請問何者「正確」？（課本第127頁）（A）政府規劃一系列輕工業輔導計畫（B）與新加坡、日本、香港一起獲得亞洲四小龍的讚譽（C）政策推動的遠因是中東地區爆發戰爭（D）加工出口區的成功帶動讓各國紛紛效仿

背面尚有試題，請繼續作答

# 新北市立中正國民中學111學年度第二學期七年級社會科第三次段考試題

範圍：公民 B2L5~6、歷史 B2 L5~6、地理 B2 L5~6 班級：\_\_\_\_\_座號：\_\_\_\_ 姓名：\_\_\_\_\_

【讀卡科目請依規定畫卡，若有違反畫卡規定而影響讀卡作業之情事，一律扣總分 5 分。

34. 「都市化」是近代聚落發展的主要趨勢。下列有關「都市化」的說法，何者最適當？ (A)農業經濟活動轉為工業活動 (B)農村聚落減少，都市聚落增加 (C)鄉村人民生活提升至都市水準 (D)鄉村人口移入都市，使都市擴大的過程。(P.53)
35. 臺北捷運的路線除了臺北市外，還延伸到新北市的淡水、新店等地，現今路網仍不斷擴充。這顯示捷運路線的規畫最可能是以何種區域範圍為考量？(P.59)  
(A)行政區 (B)住宅區 (C)都會區 (D)觀光區。
36. 下列有關「都市化」的敘述，何者正確？ (A)鄉村人口移入都市，使都市擴大的過程 (B)是指都市不斷擴張，使都市和附近市鎮連結在一起 (C)是指鄉村對都市人口有強大拉力，以吸引都市人口移入 (D)鄉村人口數占都市人口數的百分比，是為都市化程度。(P.58)
37. 下列哪一條交通線最有助於都會區內部的交流，使其有更緊密的連結？ (A)臺北捷運 (B)南迴鐵路 (C)中山高速公路 (D)西部濱海公路。(P.56)
38. 捷運系統對於紓解都會區內的交通幫助甚大，下列有關其優點的敘述，何者正確？ (A)其缺點為易受交通阻塞的困擾 (B)運客量較汽車少 (C)屬於長程運輸服務 (D)有專用的行車軌道。(P.56)
39. 根據西元2020年臺灣各縣市人口統計資料指出，臺北市過去一年人口減少42,623人，是人口減少最多的城市，而桃園市則增加19,770人，是人口增加最多的城市。有學者研究指出，此一人口增減現象，有可能是因為臺北市房價過高，許多民眾寧可搬到房價合理且各項津貼補助較臺北市高的桃園市居住。請問：此一人口移動的現象，可以用下列哪一個概念來說明？(A)都市化 (B)高齡化 (C)郊區化 (D)全球化。(P.63)
40. 臺北市政府主張，為促進都市土地再開發利用，有計畫改善老舊的居住環境、復甦都市機能，因而將民眾家的祖厝強制拆除，但也引發爭議。請問：臺北市政府所主張的執法內容，是基於下列何種精神？ (A)工業化 (B)都會區擴張 (C)郊區化 (D)都市更新。(P.63)
41. 「該地有『港都』之稱，是臺灣地區最大的國際商港，曾經也是世界第三大的貨櫃港，但受到中國廣建深水港的影響，成長速度不及中國的新興港口，使其世界港口排名逐年下滑。」請問：此港位所指為何？(A)基隆港 (B)高雄港 (C)臺中港 (D)花蓮港。(P.64)
42. 「這裡是臺灣的精密機械黃金縱谷，捷安特總部也將進駐科學園區，同時結合港口、高鐵等交通優勢，讓本地可以成為人與貨物自由流動的樞紐。」請問：此一發展方向是下列哪一都市的特色？ (A)臺中市 (B)臺北市 (C)臺南市 (D)高雄市。(P.64)
43. 下列哪一個都市是帶動臺灣中部區域發展的火車頭？(A)苗栗市 (B)斗六市 (C)彰化市 (D)臺中市 (P.62)

44. 綠島和蘭嶼是臺灣東側著名的離島，在行政上隸屬哪一縣管轄？ (A)宜蘭縣 (B)臺東縣 (C)花蓮縣 (D)屏東縣。(P.69)
45. 有名場景中的「八八坑道」，昔日為戰車部隊躲藏的軍事坑道，因坑道內能保持一定的溫度與溼度，而被運用以儲存當地盛產的高粱酒品，現今則成為知名的酒類品牌。根據上述，若想窺探此一坑道的實況，應前往臺灣的哪一個區域？ (A)東部區域 (B)北部區域 (C)中部區域 (D)金馬地區。(P.69)
46. 新北市人口已突破四百二十萬人，人口數幾乎等同於美國洛杉磯，更比日本橫濱、德國柏林、法國巴黎等城市的人口還要多。請問：新北市吸引大量人口移入的主要原因最有可能為下列何者？(A)平原面積廣大 (B)就業機會較多 (C)氣候暖溼多雨 (D)社會治安較佳。(P.63)
47. 「睽違36年，臺北松山機場和東京羽田機場重新開航，日本的首航班機特別提供12張免費機票，給姓名中有「羽田」和「松山」的日本遊客到臺灣一日遊，每天將有8個航班往返松山跟羽田，臺灣跟日本的一日生活圈也正式成形。」文中提到「臺灣和日本一日生活圈正式成形」，這是因為搭乘飛機具有下列哪一種交通特性？ (A)速度最快 (B)機動性強 (C)長程運輸 (D)載貨量大。(P.56)
48. 「近十二年來，臺北、新北、基隆、桃園(北北基桃)四城市的人口已成長近50萬。如果比較15~64歲的青壯年人口，北北基桃四城市從627.2萬人，增加至679.6萬人，青壯年人口增加的速度，高於同區域全部人口的成長速度。」請問：北北基桃四城市人口增加的主因，應為下列何者？ (A)都市更新奏效 (B)移出率增加 (C)死亡率降低 (D)都市化快速。(P.63)
49. 「單車極點環臺遊・環島大募集」活動如火如荼的展開，從附圖可看出「極北——富貴角燈塔」、「極東——三貂角燈塔」、「極西——國聖燈塔」、「極南——鵝鑾鼻燈塔」等臺灣四個極點，其中哪一個極點不屬於直轄市管轄？(A)極南 (B)極西 (C)極東 (D)極北。(P.68)
50. 民國五〇年代臺灣設置加工出口區的區位選擇，傾向鄰近國際港口，空間上高度聚集，以利產品輸出。就此區位考量而言，下列何地最有設置加工出口專業區的條件？ (P.64)  
(A)新北市 (B)臺北市 (C)高雄市 (D)桃園市。

