

【讀卡科目請依規定畫卡，若有違反畫卡規定而影響讀卡作業之情事，一律扣總分五分。】

【手寫答案卷需確實寫上班級、座號、姓名，違者一律扣總分五分。】

【手寫答案卷需用藍色或黑色墨水筆書寫，違者一律扣總分五分，使用鉛筆書寫扣五分。】

一、 選擇題

01. 「該品牌礦泉水源自歐洲的□□，由千年冰雪融化而成，清純甘冽，潔淨自然。為了保持水質純淨，水源地周圍 50 公里內，嚴禁任何人為活動。」空格最有可能是哪座山脈？p32
- (A)烏拉爾山山 (B)喀爾巴阡山
- (C)阿爾卑斯山 (D)高加索山
02. 嘉玲計畫與永森一同出國旅遊，上網蒐集該地的氣候資料，如附表所示。根據表中資料，嘉玲最可能在當地看到下列何種景觀？p34

項目 \ 月分	1 月	7 月	全年
平均氣溫(℃)	9	26.9	15.5
降水量(mm)	583	150	733

- (A)一望無際的葡萄園、橄欖園
- (B)仙人掌散布在連綿的沙漠中
- (C)高低成層、樹冠茂密的雨林
- (D)稀疏的樹木點綴於高草原上。
- 03 2014 年，中國與甲國簽署了乳製品的合作協議，由於甲國夏季涼爽，土壤鹽分較高，向來以酪農業發達著稱，兩國合作將有助於提高中國乳製品的品質與產量。甲國最可能為下列何者？p35
- (A)北韓 (B)荷蘭 (C)泰國 (D)挪威
- 04 某國的國旗以白色為底，上有藍色十字，充分展現該國的自然與人文特色。因該國有四分之一的國土在北極圈內，氣候寒冷，故白色象徵冬季白雪覆蓋的國土；藍色象徵境內廣布的冰蝕湖、河流；十字表示該國在歷史上與其他北歐鄰國的密切關係。上文是在介紹何國的國旗？(A)丹麥 (B)芬蘭 (C)瑞士 (D)立陶宛 p33
- 05 英國與法國完成工業革命時，甲國還是個農業國。但甲國有自己的經濟學：一、生產過程的和諧與安全；二、高科技產品的實用性。讓他們在工業化後大幅度追上英美等國，成為世界工業強國。事實上，大量的煤礦、實事求是的精神及產學緊密結合更是甲國工業進步的力量。請問：上述中的「甲國」最可能是下列哪一個國家？(A)荷蘭 (B)德國 (C)瑞典 (D)義大利 p36

*根據下圖（一），請回答第 6 ~ 8 題



圖（一）

- 06 小芳上臺介紹歐洲各國，該國瀕臨大西洋，於地理大發現時代，在亨利王子組織下探索大西洋及非洲海岸，相繼發現並佔領亞速爾、維德角等群島；開創了大航海時代。請問：小芳報告的國家位於圖中何處？(A)甲 (B)乙 (C)丙 (D)丁 p32
07. 西元 79 年，該國東部的維蘇威火山噴發，奪走龐貝城數以千計的人命。如今科學家說，與維蘇威火山隔著海灣對望的『超級火山』一旦噴發，火山下的三百萬人口大城市恐遭不測。」請問：科學家預測的是圖中哪一國？p33p39
- (A)甲 (B)乙 (C)丙 (D)丁
08. 歐洲各國致力於綠色環保能源產業的開發，若以環境條件來看，「甲」國使用下列何種能源的條件最不好？(A)水力 (B)地熱 (C)風力 (D)太陽能 p37
09. 下表是小芳在書中看到關於某國際組織的簡介，根據內容判斷，這最可能是在介紹下列何者？ P42

這個區域型經濟組織是由煤鋼共同體發展而來，創始成員國有六個：德國(西德)、法國、義大利、荷蘭、比利時和盧森堡。該組織的旗幟歷史可追溯至 1955 年，旗幟上星星的數量與會員國數量無關；旗幟中的 12 顆星星，即因為數字 12 傳統上是完美、完整與整體的象徵，亦意謂著一年 12 個月、一天 12 個時辰，以及希臘神話中的 12 個主神等；而『圓環』則象徵歐洲各國合作統一。因此不論該組織如何擴大，旗幟依舊維持著 12 顆星星，而旗幟也一直飄揚在該組織總部外的廣場。

- (A)UN
- (B)EU
- (C)ASEAN
- (D)APEC

*根據圖（二）請回答第 10~12 題

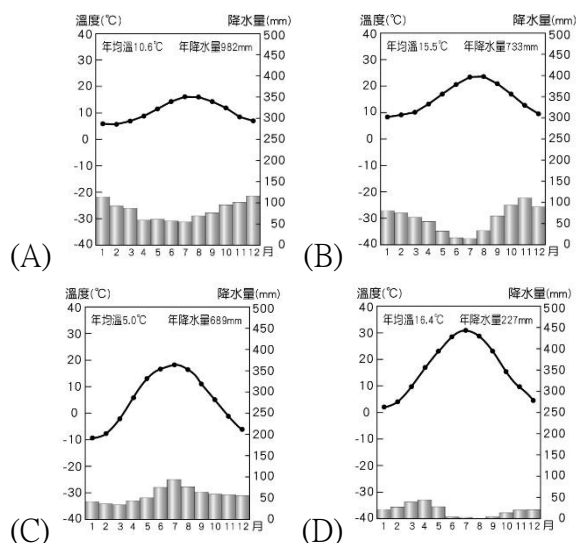


圖（二）

10. 周生想要挑戰世界上最長的單一國境鐵路旅行，於是從圖中甲地搭上向東的列車，準備橫跨歐亞兩洲，到達丁地。旅程需要花費 7 天才能抵達終點；周生可以在火車上望著眼前迅速飛過的美景，雄偉高山、寬闊湖泊、清澈溪水，美景不停在眼前轉換，可謂人生一大享受。請問：周生搭上這班列車後，沿途最常見到的景觀可能為何？(A)低溼的苔原 (B)高大的雨林 (C)廣闊針葉林

(D)稀疏的莽原 p47

11. 由圖中甲地的地理位置判斷，甲地的氣候特徵應最接近下列哪一張氣候圖？p47



12. 周生想考察沿途地形起伏概況。若他從甲地出發，搭上西伯利亞鐵路的火車，向東抵達太平洋岸的丁地，則一路上會經歷什麼樣的地形轉變呢？p46
- (A) 平原→平原→高原→山地
(B) 盆地→平原→高原→山地
(C) 平原→山地→高原→台地
(D) 山地→高原→盆地→平原

13. 英國的汽車相關產業勞工高達 82 萬人，對英國經濟貢獻良多。目前有跨國企業揚言將取消英國的汽車生產基地，是因英國退出歐盟後將會失去下列何項優勢？p44

(A) 商品關稅 (B) 貨幣更動 (C) 宗教信仰 (D) 國防安全

14. 德國豐富的礦產是多年來能源供應和經濟繁榮不可或缺的條件。但德國現在卻是全球綠能發展的領頭羊，擁有全歐最多的太陽能發電和風力發電。德國再生能源發電的自然條件在歐洲並不是特別優秀，以氣候特徵影響再生能源發電而言，南歐國家更優於德國的條件是什麼？

(A) 終年受盛行西風吹拂
(B) 年溫差較小，四季有雨
(C) 年溫差較大，夏雨冬乾
(D) 年溫差較小，夏季日照充足 p34.37

15. 歐洲與俄羅斯同在歐亞大陸上，俄國作為歐洲最大的天然氣供應國，2021 年 10 月俄羅斯即將完成一條通往歐洲的天然氣管道，此充滿爭議的管道更凸顯俄國對歐洲能源流動的影響力不斷增強。比較這兩個地區的共同點，下列何者正確？ P48

(A) 皆屬於廣義的基督教世界
(B) 皆屬於季風氣候區
(C) 皆屬於同一個時區範圍
(D) 皆位於板塊交接處

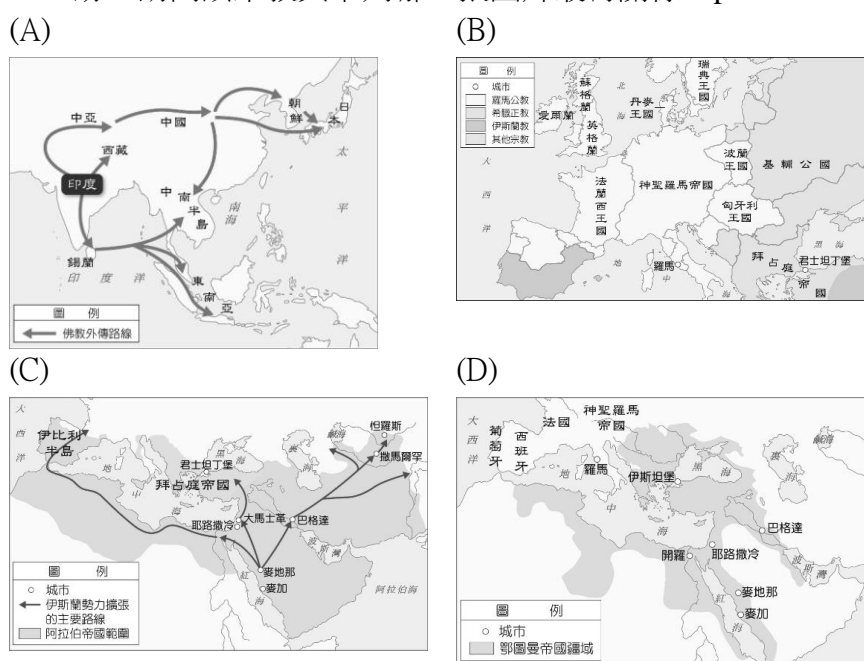
16. 小美暑假參加海外留學團，在新生聚會上，同學們輪流介紹自己的國家。下列哪一位同學介紹的內容與事實相符？ (A) 法國香奈兒：「我國為西方文明的搖籃，眾多歷史古蹟每年吸引遊客慕名前來，如雅典帕德嫩神殿。」 (B) 英國龐德：「我國為工業革命發源地，也是目前歐洲工業產值最高的國家。」 (C) 西班牙高第：「我的家鄉汽車工業發達，賓士、BMW 皆是我國著名汽車廠牌。」 (D) 荷蘭飛利浦：「我國雖有許多土地面積低於海平面，但我們用填海造陸的土地發展園藝農業，因此有『花卉王國』之稱。」 p38.39

17. 附表為 2018 年全球前十大旅客造訪國家排行榜，小芳依據表中資料判斷，想蒐集國際遊客數量最多的國家郵票，下列哪一張是小芳搜集到的郵票？p38.39

排名	國家	國際遊客人數 (百萬人)
1	法國	89.4
2	西班牙	82.8
3	美國	79.6
4	中國	62.6
5	義大利	62.1
6	土耳其	45.8
7	墨西哥	41.4
8	德國	38.9
9	泰國	38.3
10	英國	36.3



18. 下圖為某宗教的起源地，它一路向北與東方傳播，深深影響今日的亞洲國家，在韓國、緬甸、泰國都有它的痕跡，請問該宗教與下列哪一張圖片最有關係？p.95



19. 「早期的羅馬帝國經常發生對基督教徒的迫害，相對地，同時代的基督教徒渴望成為殉教者的急切心情，甚至更甚於求得一個主教的職位。」根據上文可見部分基督徒熱衷於追求殉教，換句話說，迫害者與被迫害者都不斷讓此事發生。請問：下列何者不是基督教受到打壓的原因？p.96 (A) 與猶太教一起反對羅馬統治 (B) 僅信仰

上帝一個神明 (C)與羅馬傳統宗教教義相違背 (D)不願膜拜羅馬皇帝。

20. 當西羅馬帝國崩解，西歐地區在經濟、社會、政治上陷入瓦解與長期動亂，許多居民失去工作，流離失所，再加上治安混亂，人民渴望安定，因而尋求宗教的慰藉。此時是教會出來穩定社會秩序，人民的日常生活逐漸與教會密不可分，形成基督教世界。漸漸的日耳曼人也改信基督教，日耳曼民族君王、諸侯、貴族等，將部分土地捐贈給教會，這使得教會的財富日益增加，埋下了日後政教衝突的伏筆。

根據上文，西羅馬帝國的崩解進入中古時期，當時的政治、經濟與社會都遭逢巨變，可謂民不聊生。請問：有關中古時期的敘述，何者**正確**？p.97

- (A)日耳曼民族建國，與西歐的人們在文化上十分和諧
(B)從西歐到阿拉伯的民眾改信基督教，教會是日常生活中的一環
(C)教會在各地設立學校，培養教士抄寫古籍
(D)西歐社會逐步成為政教合一的世界。
21. 印度阿育王在位時期，設立許多「阿育王柱」，上面刻有敕令和教諭，致力推崇某宗教觀念，宣揚慈悲與智慧。關於阿育王對該宗教的影響，下列敘述何者**正確**？
(A)他促使印度教傳播到東亞各地 (B)他是阿拔斯王朝的君主，開創該國的黃金時期 (C)他派遣眾多僧侶到國外弘揚佛教 (D)他信奉基督教，因而大肆毀佛。P.95
22. 小婷在網路上查到一段資料：「穆斯林意指歸順阿拉的人，他們一生追隨阿拉與聖訓，《古蘭經》是真主阿拉的話語，是聖訓為造物主所差遣的最後一位先知的言行錄。」請問小婷正在查詢的主題**跟下列何者有關**？p.98
(A)悉達多 (B)耶穌 (C)穆罕默德 (D)漢摩拉比。
23. 中世紀開始，阿拉伯人崛起於阿拉伯半島上生存艱難的沙漠地區，逐漸擴展領地，運用強大的駱駝商隊與海上貿易，建立廣土眾民的國家，在世界歷史上扮演舉足輕重的角色。請問：下列敘述何者**錯誤**？p.98-99
(A)八世紀時阿拉伯人建立跨歐、亞、非三洲的帝國
(B)阿拉伯人以農業為主，在商業制度與文化交流上並無成就
(C)七世紀伊斯蘭教的創立使阿拉伯人團結成強大的力量
(D)移居中國西北的阿拉伯人，元朝將他們歸類在「色目人」階級。
24. 小浩正在寫一份報告，請看報告的條列內文，判斷這份報告的題目應該是下列何者？p.106
(A)啟蒙運動 (B)宗教改革
(C)科學革命 (D)文藝復興
25. 有關西歐地區的文藝復興發展背景，組成原因有許多經濟、政治、社會等因素，這些都促使文明前進的動力。請問下列哪一個選項與阿拉伯人的成就有關？p.106
(A)商業復甦，城市興起，人們開始追求精緻的生活
(B)翻譯古希臘、羅馬的書籍，引發人們的研究熱情
(C)發明造紙術、印刷術使知識得以快速流通
(D)推動方言進行創作，促進大眾文學的興起
26. Covid-19 使人類的生活在許多層面都受到影響，例如生活方式、討論議題，而《十日談》這本書也在此波疫情意外奪下暢銷書籍寶座。該書為十四世紀義大利作家

義大利商業復甦
方言文學的興起
以人為本的價值

薄伽丘所撰寫，描述當時佛羅倫斯有 10 名男女為了躲避黑死病，決定到郊區的別墅避難。請問：與薄伽丘同時代的文學作家們應當會有下列何種特色？ P.107

(A)帶動大眾文學的創作風氣 (B)藝術創作愈加神祕、抽象難解 (C)創作語言皆以拉丁文書寫 (D)藝術家創作限縮於宗教主題。

27. 德國電視臺曾舉辦「最偉大德國人」票選，其中的第二名，他以推動宗教改革聞名，勇於批判贖罪券的發行，同時也翻譯德文聖經，成為積極促進現代德語發展的重要推手。請問：這位德國人是下列何者？p.109

(A)莎士比亞 (B)喀爾文 (C)羅耀拉 (D)馬丁路德

28. 社會學者韋伯在著作《新教倫理與資本主義精神》提出，他認為某個基督教教派的主張，因為鼓勵人們勤奮努力，並肯定經商致富是榮耀上帝的表現，推動歐洲地區資本主義的發展，促使。請問韋伯提到的「教派」最有可能指下列哪一教派？p.109 (A)希臘正教 (B)路德教派 (C)英格蘭國教派 (D)喀爾文教派。

29. 大航海時期下的台灣，荷蘭北上趕走西班牙政權，此事除了商業競爭因素以外，還與他們所傳播的宗教恩怨有關，前者為基督教，後者為天主教。請問造成此宗教恩怨的原因，與下列何者**最為相關**？p.111 (A)東正教出現 (B)發現新航路 (C)宗教改革 (D)文藝復興。

30. 阿德與同學們正在討論中古時期的宗教改革，請問下列有關宗教改革影響的論述何者**正確**？ P.109-110

小明：馬丁路德主張預選說，認為財富累積是榮耀上帝

婷婷：宗教改革運動後形成的諸多教派統稱為「新教」

阿時：喀爾文創立耶穌會，強調神職人員的訓練與紀律

阿德：英王亨利八世因婚姻問題與教宗決裂，進而脫離羅馬教會，創立「英格蘭國教派」

(A)小明、婷婷 (B)阿時、阿德

(C)婷婷、阿時 (D)婷婷、阿德

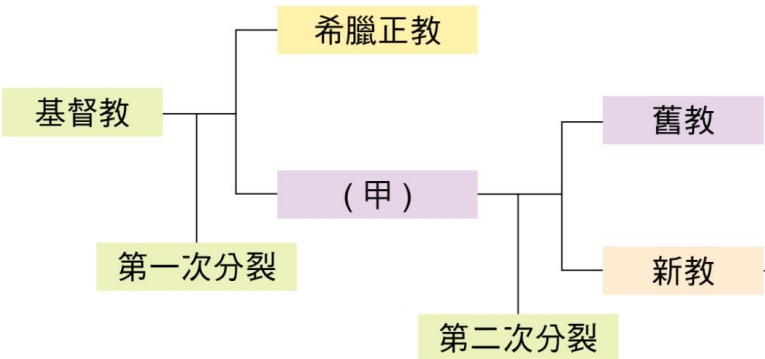
31. 下圖為拉斐爾的畫作，其畫作主題為聖母與聖子，強調聖母的母親角色形象，請問這幅畫主要反映出文藝復興時代的什麼特質？p.108

(A)人文思想 (B)神學思想 (C)王權思想 (D)民族思想



32. 1950 年印度獨立，其憲法第 15 條規定：「任何人不得因種姓、宗教、出生地而受歧視」。對於賤民，憲法規定以中性名詞「表列種姓」稱呼之，並於憲法第 17 條規定廢除「不可接觸制」等保護性措施。但是種姓制度對今天的印度社會，仍然保留著巨大的影響力。請問：下列關於種姓制度與其來源宗教的敘述何者**正確**？p.94

- (A) 由印度當地原住民所創 (B) 相信眾生平等，修行可以超脫輪迴 (C) 雖有階級，但可自由決定婚姻 (D) 其來源宗教為婆羅門教。
33. 下圖為兩次宗教分裂的樹狀圖，請問下列敘述何者錯誤？p.97，p108-110
- (A) 第一次宗教分裂時間為 11 世紀 (B) 甲為以羅馬教宗為首的羅馬公教 (C) 第二次宗教分裂時間為 13 世紀 (D) 舊教在第二次宗教分裂進行改革，其代表為耶穌會



34. 巴爾幹半島地理位置重要，自古以來即為兵家必爭之地，素有歐洲火藥庫之稱，然而近代由於種族與宗教問題複雜，戰火四起、烽煙瀰漫。請依序排列巴爾幹半島上的統治政權：(甲)羅馬帝國(乙)鄂圖曼土耳其(丙)亞歷山大帝國(丁)拜占庭帝國 p.99，p.110
- (A) 甲乙丙丁 (B) 丙乙甲丁 (C) 乙甲丙丁 (D) 丙甲丁乙

35. 以下是四家廣告印刷工廠的生產資料——

工廠	甲	乙	丙	丁
產量 (張/天)	2,000	2,000	2,000	2,000
售價 (元/張)	15	15	15	15
工資(人 員×日	18× 1,000	15× 1,000	16× 1,000	17× 1,000

- 假設其生產的產量與員工薪資均相同，若今日四家工廠賣出的總數量相同，則根據表中資料，在其他條件相同的情形下，哪家工廠所獲取的利潤最低？(A)甲 (B)乙 (C)丙 (D)丁。(p157)
36. (甲)表示，某商品廣告宣稱「可短期內增高，是矮子的福音！」，然廠商無法提出相關醫學學理或臨床試驗等資料佐證，該廣告所載內容屬虛偽不實，且將衍生交易相對人就商品的使用效果有誤認之虞，已違反(乙)第 21 條第 1 項規定。針對上述判決書內容，請判斷(甲)、(乙)分別為何？(A)消費者保護委員會、《消費者保護法》(B)消費者文教基金會、《公平交易法》(C)消費者保護委員會、《民法》(D)公平交易委員會、《公平交易法》。(p 161)
37. 下列四位同學針對「貨幣」提出個人的看法，其中何者的敘述最恰當？(A)小明：我國的法定貨幣由各個銀行分別發行 (B)小英：兩國貨幣的兌換比率稱為利率 (C)小強：貨幣價值若不穩定，會降低人們接受的意願 (D)小芳：當要用更多貨幣才能買到相同的商品時，代表貨幣升值。(p167)

38. 下圖為文烈到銀行兌換外國貨幣時，看到的電子公告——

幣別	本行賣出
美金	28.01
日圓	0.2561
歐元	34.35

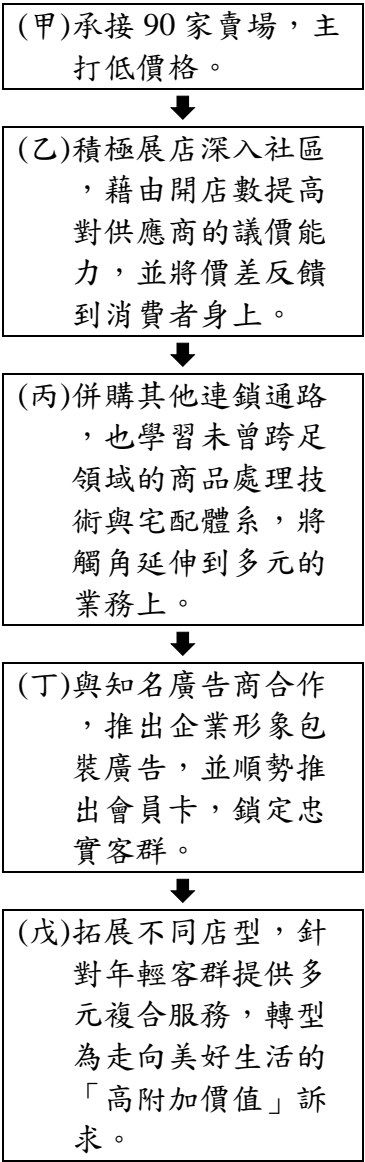
- 他好奇貨幣兌換價值不同的理由，就問了一下銀行員。下列哪一位行員的說明正確？(A)行員甲：各國貨幣價值視其能購買的商品數量而有差異 (B)行員乙：各國貨幣價值以該國國民存款的多寡而定 (C)行員丙：各國貨幣價值因製作成本的不同而有差異 (D)行員丁：各國貨幣價值因國民所得高低而有差異。(p 167)
39. 嘉恩今早領到這個星期的零用錢，他先還了昨天姐姐代墊的午餐費，接著衝到文具店搶購限量發行的遊戲卡。剩下的錢他決定投進撲滿，希望年底前可以買新球拍。前述內容中沒有提到貨幣的哪一項功能？(A)交易媒介 (B)價值衡量 (C)價值儲存 (D)債務清償。(p168)
40. 曾經商品貨幣漸漸取代以物易物的方式，是因商品貨幣具有下列哪些特徵？(甲)人們接受程度高(乙)數量無限供應(丙)不易變質可儲藏(丁)本身沒有價值(戊)可細分方便攜帶 (A)甲乙丙 (B)甲丙戊 (C)甲乙丙戊 (D)乙丙丁戊。(p166,167)
41. 雲翔在公民作業中提到，中央銀行具有(甲)辦理存放款、(乙)健全銀行業務、(丙)穩定金融、(丁)管理外匯市場等業務，又稱為銀行中的銀行。老師指出作業中的何處有誤？(A)甲 (B)乙 (C)丙 (D)丁。(p167)
42. 百貨公司週年慶吸引許多消費者前往採購，小莉今年也用信用卡刷了 8,000 元買化妝品。下列相關敘述何者正確？(A)信用卡和儲值卡一樣皆須預付款項 (B)信用卡能夠延遲支付，具完整的貨幣功能 (C)雖以刷卡完成交易，仍須用貨幣支付刷卡費用 (D)由於科技進步，使用時毋須擔心資安問題。(p 169)
43. 志雄在 1 月時，將 30 萬元新臺幣兌換為美元後，至美國遊學，在美國花了 4 千美元後，於 3 月回臺並將剩下的錢換回新臺幣。這段時間的匯率變動如下——

月份	美元	新臺幣
1 月	1	30
2 月	1	29
3 月	1	28
4 月	1	31

- 祐全應可換回多少新臺幣？(A)16.8 萬元 (B)20 萬元 (C)18.6 萬元 (D)21 萬元。(p170,171)
44. 旅遊網紅作家 Peter 在臉書上分享以下的旅遊情報——長壽國一向是我國國民最愛的旅遊國家之一，近期受到國際情勢影響，長壽幣與我國貨幣的匯率由原本的 1：1 變成 0.75：1，此一變化顯示，(甲)我國貨幣兌換成長壽幣呈現貶值，也就是說，(乙)相同的我國貨幣購買長壽國的商品數量相對會變少，而此時(丙)將有助於提升想要前往長壽國旅遊者的意願，而(丁)親友拜託在長壽國購買商品並不是最佳時機。哪一項資料在敘寫時出現錯誤？(A)甲 (B)乙 (C)丙 (D)丁。(p170,171)

題組

※中正生活用品連鎖零售店經營 40 年以上，會員數超過 800 萬人，其發展歷程如下——



根據上述發展歷程，請回答下列問題：

45. 此連鎖生活用品零售店歷經多次的經營策略變化，最主要的目的為何？ (A)降低生產成本 (B)提高生產數量 (C)提升企業形象 (D) 增加銷貨收入。(p156)
46. 此連鎖生活用品零售店在哪些階段的經營策略，採取「價格」的競爭方式？ (A)甲、乙 (B)丙、丁 (C)乙、戊 (D)甲、丙。(p158)
47. 針對文中連鎖生活用品零售店的經營分析，下列何者正確？ (A) 丙階段的做法可增加消費者的認同度 (B)從價格競爭策略走向非價格競爭策略 (C)非價格的競爭創造出亮眼的銷售數字 (D)受到削價競爭方式衝擊促使戊的轉型。(p158,159)

※子婷經營了一間藥妝店，這幾年的生產成本分析圖如下表

項 目	占 比
人事成本	20%
店面租金	45%
進貨成本	30%
雜 支	5%

針對上表資料，子婷大膽做出了 2 項經營策略上的改變：

第一項策略是減少最大項的生產成本支出。另外，她觀察發現化妝年齡層愈來愈低，因此決定第二項策略是鎖定年輕族群，將訂價落在不會太高又實用的彩妝用品上。請回答下列問題：

48. 子婷針對上表進行的分析說明，下列何者正確？ (A)薪資占比最高，其次為地租 (B)為節省薪資支出，請家人顧店可不計入成本中 (C)銷貨收入低於生產成本，造成入不敷出 (D)須尋求生產成本最低的組合方式。(p156,159)
49. 下列何者較可能是子婷的第一項經營策略？ (A)改由網路管道販售商品 (B)改聘外籍勞工投入生產 (C)增加新店鋪的營業據點 (D)所有商品一律對折販賣。(p156)
50. 子婷的第二項經營策略，是考慮下列哪項生產課題？ (A)生產什麼 (B)如何生產 (C)為誰生產 (D)何時生產。(p157)