

新北市立中正國民中學110學年度第一學期八年級社會科 第二次段考試題

範圍：歷史科和公民科:第三章~第四章

地理科:2-2~第四章

班級：___ 座號：___ 姓名：___

【讀卡科目請依規定畫卡，若有違反畫卡規定而影響讀卡作業之情事，一律扣總分五分。】

【手寫答案卷需確實寫上班級、座號、姓名，違者一律扣總分五分。】

【手寫答案卷需用藍色或黑色墨水筆書寫，違者一律扣總分五分，使用鉛筆書寫扣五分。】

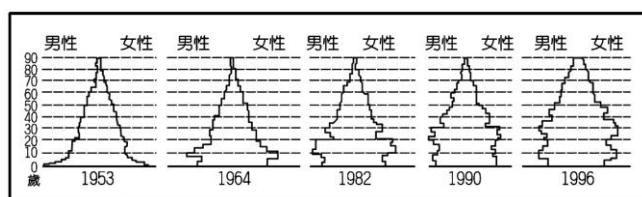
一、 選擇題(每題2分，共100分)

1.由於一胎化政策及醫療進步的影響，在2014年的時候，由中國的人口結構進行預測，哪一種社會機構最為重要？

(A)幼稚園 (B)美容院 (C)安養院 (D)學校。(P.26)

2.下圖為顯示中國人口年齡結構變化的「人口金字塔圖」。

從圖中可以看出自1950年來，人口金字塔出現很大的變化。請問：造成此種變化的主要原因是何者？(P.27)



(A)人口密度增加 (B)人口大量移入都市
(C)推行一胎化政策 (D)人口總數急遽增長

3.目前中國男女性別的比例是男多於女，而造成此種現象的原因可能有哪些？甲、一胎化政策；乙、重男輕女的觀念；丙、飲食習慣改變

(A)甲乙 (B)乙丙 (C)甲丙 (D)甲乙丙。(P.27)

4.2013 年中國公布與人口相關的政策中，提出人口結構需要進行改革，規畫放寬生育限制及延長退休工作年限，最主要的原因為何？(P.28)

(A)婦女比例大幅攀升 (B)壯年人口比例漸減
(C)嬰幼兒死亡率提高 (D)總生育率逐漸增加

5.中國自經濟改革開放後，國民所得日漸提高，影響其飲食習慣及消費類別。隨著都市化的發展而銷量大增的酪農業，其主要生產地區位於附圖中何處？(P.33)

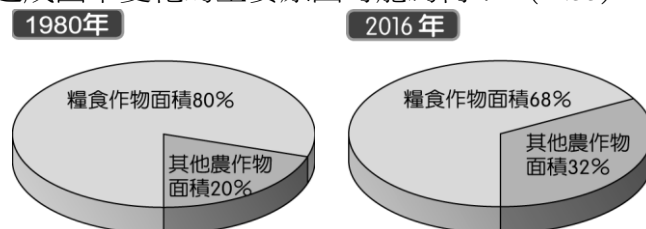


(A) 1 (B) 2 (C) 3 (D) 4。

6.隨著經濟的發展，中國的飲食習慣出現改變，畜牧業的需求量與日俱增。然而中國卻在 2017 年及 2019 年出現大規模的禽流感及非洲豬瘟等問題，重創相關產業的發展。上述相關疫情和下列何種養殖方式的的關係最大？(A)商品化 (B)多樣化 (C)集約化 (D)都市化。(P.35)

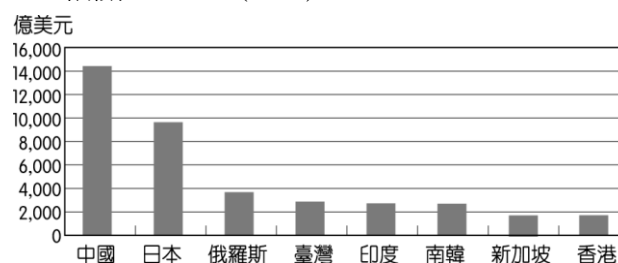
7.根據中國國家統計局的資料顯示，該國三十多年來的糧食作物栽種面積出現明顯變化，如附圖所示。請問：

造成圖中變化的主要原因可能為何？(P.33)



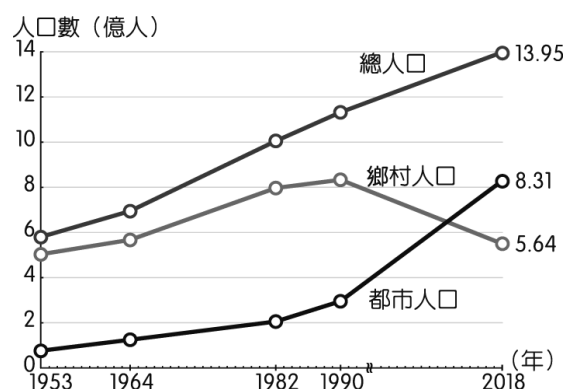
(A) 市場需求改變 (B) 一胎化政策造成 (C)氣候變遷 (D)畜牧業放牧面積擴張。

8. 圖為某年全球前八大外匯存底國家的資料，中國之所以高居榜首，且遠勝過第二位的日本達 4,000 億美元以上，這與中國在1980年代實施的哪一項經濟政策最為相關？(P.36)



(A)計畫經濟 (B)一帶一路 (C)西部大開發 (D)設立經濟特區。

9.附圖為中國的城鄉人口變化圖，近年來人口的變化趨勢主要是受到下列哪一因素影響？(P.40)



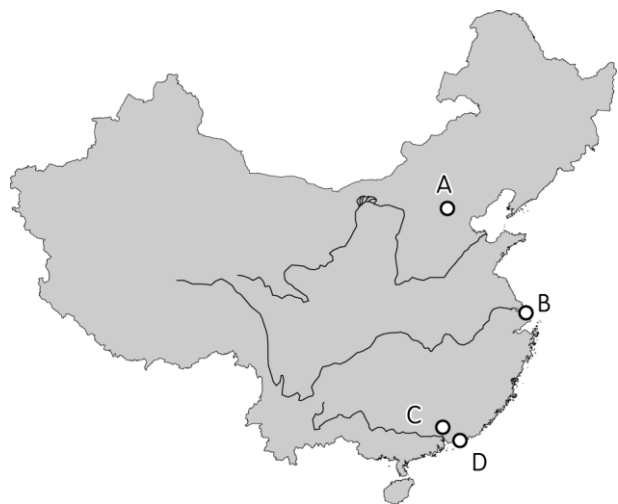
(A)經濟發展 (B)戶籍制度 (C)人口減少 (D)交通建設。

10. 2020年非洲受到氣候的因素影響，沙漠蝗蟲過境，肆虐十多個國家，造成嚴重的作物損失。目前這些蝗蟲由非洲出發後，一路向東來到了印度，更直逼中國。學者指出此次蝗蟲數量龐大，大約有4千億隻，所過之處寸草不留，將是農業活動的危機。若其方向不變，則對於附圖中哪一區的威脅最大，而導致中國糧食嚴重短缺？(P.34)



(A)甲 (B)乙
(C)丙 (D)丁。

11. 中國的四大都市北京、上海、廣州、深圳，分別有不同的發展歷程與特色，附圖中四大都市位置敘述何者正確？(P.37)

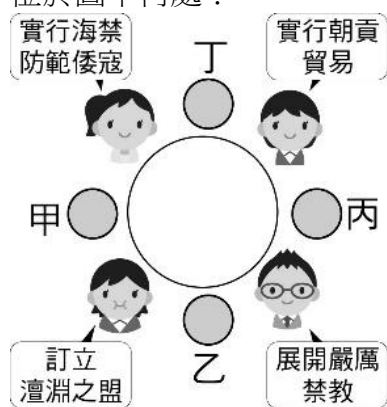


- (A) A地處中國海岸線中點和長江的出海口，因交通位置優越且腹地廣大，快速發展成中國重要的金融中心。
(B) B位於珠江三角洲頂點，鄰近香港、澳門，是中國南部水陸交通樞紐。
(C) C地是中國的政治中心，有大量頂尖大學，近年朝向資訊科技業發展。
(D) D地為中國經濟特區，且吸引大量新創企業與人才的新興都市。
12. 美國蘋果 **iphone13**，展現前所未見的新功能，著重耐用性，從邊到角，全面顧到。中國銷售量將超越美國，成為蘋果公司全球最大市場。中國成為蘋果公司的主力市場，主要與下列哪一條條件相關？(A) 消費人口多 (B) 人民的偏好 (C) 工業生產重鎮 (D) 交通運輸方便。(P.44)
13. 中國近14億人口對其社會經濟的發展影響甚大。請問：所造成的發展優勢包括附中表中哪些？(P.44)
- | 選項 | 發展優勢 |
|----|------|
| 甲 | 市場廣大 |
| 乙 | 資金充足 |
| 丙 | 勞工眾多 |
| 丁 | 糧食充足 |
- (A) 甲乙 (B) 丙丁 (C) 甲丙 (D) 乙丁。
14. 中國光棍節，即將在11/11登場，再次展現中國龐大的消費能力，使阿里巴巴、淘寶等網路購物平臺在中國蓬勃發展，這是何種交易活動的興起？(A) 批發 (B) 電子商務 (C) 量販店 (D) 零售。(P.45)
15. 中國藉由推動一帶一路政策來解決國內何種問題？(P.48)
(A) 國內生產過剩 (B) 資金過剩 (C) 基礎設施不足 (D) 害怕非洲崛起。
16. 近年來，部分中國工廠傳出關閉營運的消息，例如：南韓三星電子 (Samsung) 即表示，在2019年10月將關閉中國最後一座智慧型手機工廠，因為近年不僅受到某因素的影響，使企業人事成本提高，另外也受到美國提高關稅的影響，使中國代工的產品賣到美國時關稅增加。為因應這些轉變，往後三星將遷移生產線到越南、印度

。請依據文章敘述，判斷某因素應為下列何者？(A) 天災連年 (B) 工資上漲 (C) 網路發達 (D) 資源枯竭 (P.44)

17. 根據中國國家統計局資料顯示，上海市每人平均GDP為15,000多美元，而貴州省每人卻僅有4,000多美元。上述資料顯示出下列何種特色？(P.39)
(A) 中國經濟發展快速 (B) 中國對外貿易額大 (C) 中國區域發展不均 (D) 中國內陸市場廣大。
18. 「達魯花赤」在蒙古語中原意是「掌印者」，在元朝建立之後，這樣的官職被普遍設置在不同的政府部門中，即為該部門的最高長官。此外，蒙古帝國的各汗國在與元帝國分立後，也在當地汗國設置達魯花赤的官職。請問：這樣的官職，較有可能是由下列哪一些族群的人來擔任？(A) 蒙古人 (B) 漢人 (C) 阿拉伯人 (D) 女真人。(P.113)
19. 儒家思想自西漢以降，深刻影響中國學術、文化、政治和社會，也決定後世政府選才制度的形式和思想，無論是推舉孝廉、九品官人之法或科舉制度，皆與儒家關係密切。關於儒學與相關選才制度的關聯和影響，下列何者有誤？(A) 魏晉取才雖重人品家世，仍尊崇儒家為主的經學 (B) 儒家思想與科舉制度在宋元期間仍影響周遭國家 (C) 宋代科舉制度更加完備，並雜揉佛道創造新儒學 (D) 元代時國家征戰不斷，科舉和儒學傳統消失。(P.115)
20. 西元 2017 年 8 月有一則新聞報導—〈非洲發現中國血緣遺骸〉：「西元 2017 年 8 月初，由中國、美國和肯尼亞的考古學家組成的團隊，在肯尼亞拉穆縣的曼達島挖掘出了擁有中國血緣的人骨遺骸。……發現的這些人骨遺骸，具有東亞人獨有的鏟形門齒，同時經 DNA 技術鑑定，均具有中國血緣，雖然出土這幾具遺骨的墓葬沒有發現隨葬品，但是在島上發現了不少中國瓷器以及貨幣。曼布魯伊遺址出土的中國銅錢上頭刻有『永樂通寶』四字。」請問：以你所學的歷史知識，應如何看待此事？(A) 唐帝國對外貿易興盛，許多國家自海外來華貿易 (B) 宋元時期，海上貿易發達，政府鼓勵移民 (C) 明初頒布渡臺禁令，促成許多居民前往海外發展 (D) 鄭和下西洋的成果，意外打通南洋與印度洋航線。(P.122)
21. 資料一：學者對一事件的評論為：「是一種地緣政治 (geopolitics) 的產物，表示這兩種帶競爭性的體制在地域上一度保持到力量的平衡」、「影響了中國思想界及中國整個歷史。」
資料二：此事達成的協議包括：「每歲以絹二十萬匹，銀一十萬兩……只令三司差人搬送至雄州交割。沿邊州軍各守疆界，兩地人戶不得交侵。或有盜賊逋逃，彼此無令停匿。至於隴畝稼穡，南北勿縱騷擾。……誓書之外，各無所求，必務協同，庶存悠久。」
對此事件的描述，下列何者正確？(A) 在此事件之後，中國成為東亞國際秩序中的霸主 (B) 所謂兩種競爭性的體制，是指農業文明與游牧文明 (C) 對宗教信仰的觀點不同是此事件的主要導火線 (D) 對中國思想界的衝擊是理學的天人觀被迫修正。(P.110)

22. 「1680年代，一位名為沈福宗的年輕人在歐洲社交界造成轟動——他個性沉穩、禮貌且知識淵博，能輕鬆遊走於中國、歐洲學術文化圈之間；更重要的是，他竟然是個基督教徒，是□□在中國傳教成功的活生生例證！這讓當時的歐洲人樂觀的相信，既然□□能使如此完美的中國人皈依基督宗教，如果有了足夠的金援，他們豈不是能讓每個中國人都成為基督徒？」請問上述的□□應該填上的組織名稱為何？ (A)共濟會 (B)長老會 (C)耶穌會 (D)同盟會。(P.124)
23. 宋朝蘇軾曾評論當時讀書人：「老儒先輩，自稱他們年輕時，要想求取《史記》、《漢書》而不能得到；僥倖得到了，都親手抄寫，日夜誦讀，惟恐有所不足。近年書商輾轉互借翻刻，使諸子百家的書，一天就能流通萬張以上，書對學習的人來說，數量多且容易獲取，他們的文章學術成就，理應超過前人好多倍，但年輕的學子們，都把書束之高閣，不去閱讀，言談虛浮不實，毫無根據，這是什麼道理呢？」請問：這個時代的知識分子會與前人不同，和當時的哪一項技術發展有關？ (A)造紙術 (B)印刷術 (C)指南針 (D)火藥武器。(P.116)
24. 炳則參加了一歷史讀書會，專門討論歷代帝王建設、作為。同桌有4位友人分別談論了不同朝代的帝王事蹟，聊天內容與座位如下圖所示。炳則兩旁的同學分別討論了清朝的皇帝，根據圖中內容判斷，他的座位最有可能位於圖中何處？

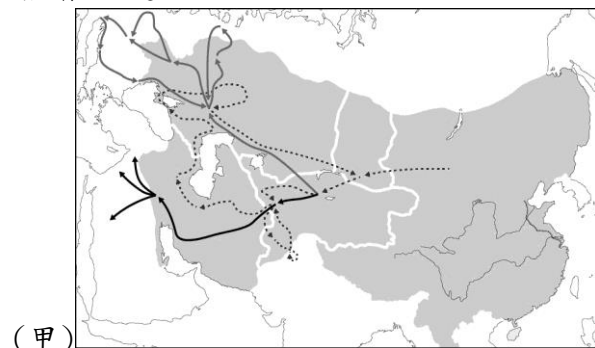


- (A)甲 (B)乙 (C)丙 (D)丁。(P.122,125)
25. 近年來中正夜市客源減少，管委會決議採仿古設計，重新改建夜市。建築師若要模仿宋代夜市建築，應參考下列何人的藝術作品？ (A)張擇端 (B)利瑪竇 (C)宋徽宗 (D)朱熹。(P.115)
26. 「當敵人步步進逼時，皇帝已經走投無路，他寫下遺詔：『朕自登極十七年，內地三陷，逆賊直逼京師。雖朕德薄匪躬，上干天咎，然皆諸臣誤朕也。』後來明朝皇帝在景山的一棵樹上，上吊自殺了。」請問：遺詔上提到的「逆賊」，是指當時攻陷北京的何人？ (A)吳三桂 (B)湯若望 (C)朱元璋 (D)李自成。(P.120)
27. 宋代分北宋和南宋，請從以下文句，選出影響宋代分裂的原因。 (A)天寶餘生我尚存，永嘉流禍君知否 (B)故壘西邊，人道是、三國周郎赤壁，亂石崩雲，驚濤裂岸 (C)靖康恥，猶未雪，臣子恨，何時滅 (D)自從澶州盟，南北結歡愉。(P.111)
28. 一段明代史料提到：「閩省土窄人稠，五穀稀少。故邊海之民，皆以船為家，以海為田……。一旦禁止，則利源阻塞，生計蕭條……。萬一乘風揭竿，揚帆海外，無

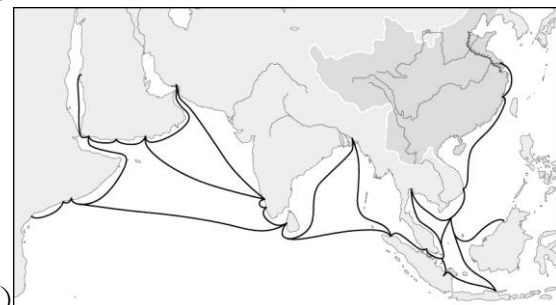
從追捕，死黨一成，勾連入寇。」文中所述在說明何事？ (A)福建商人海路貿易網的形成 (B)福建省漁業發達的原因 (C)朝貢貿易的耗費龐大 (D)海禁造成的不良影響。(P.122)

29. 十四世紀的歐洲文獻中，曾指出泉州一帶有個義大利人社區。在西元1951年，人們在揚州發現一個十四世紀的墓葬，裡頭埋著一個名為「凱瑟琳·雅麗歐尼」的義大利女子。對上述二則資料的解讀，最合理的應為以下何者？ (A)十四世紀時，蒙古打通了東西商路，這名女子可能隨著義大利商隊而來 (B)十四世紀時，蒙古西征阻隔了東西陸路交流，故這名女子最可能是經海路來華 (C)十四世紀時，蒙古西征曾及於歐洲，這名女子可能因此被擄至中國 (D)十四世紀時，東西方並無直接往來，此墓葬極可能是假造的。(P.114)

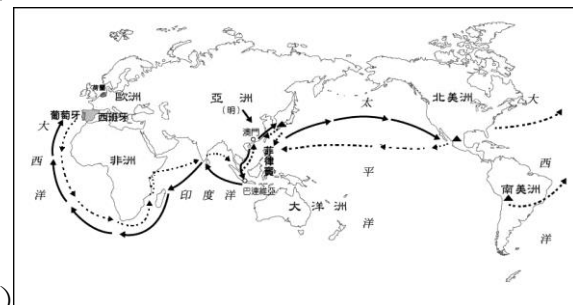
◎以下四件史事均促成東西文化交流，對人類歷史影響深遠。



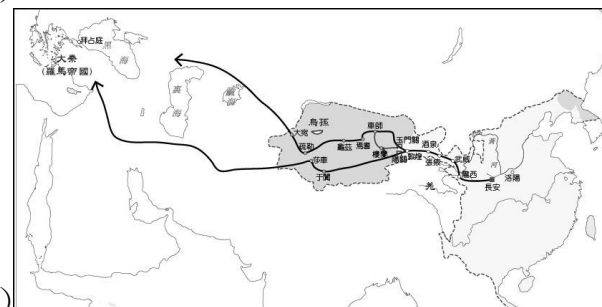
(甲)



(乙)



(丙)



(丁)

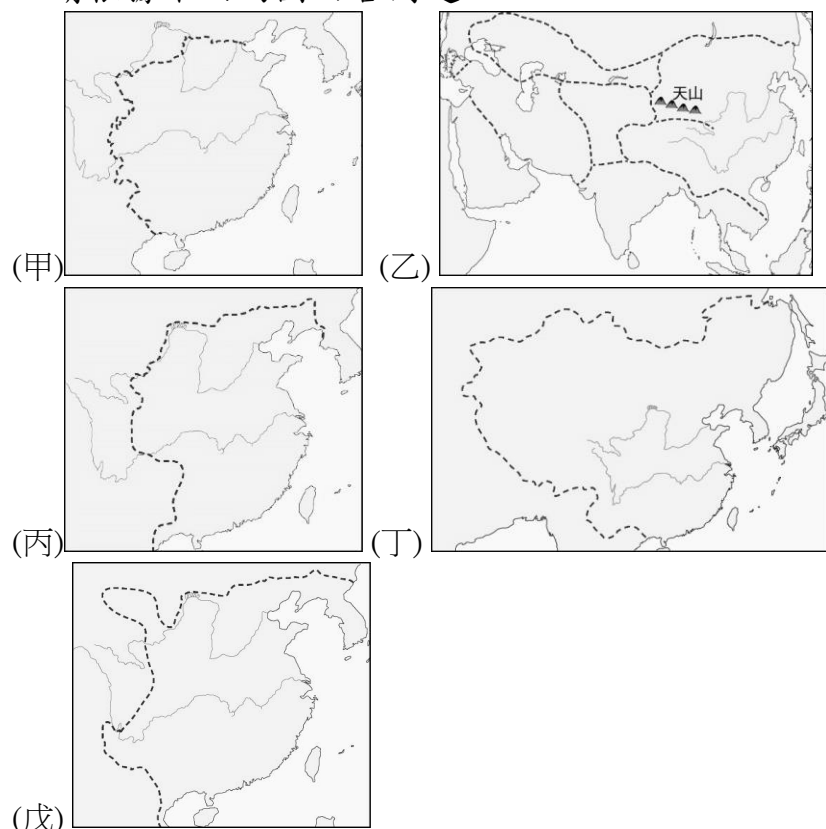
請依序回答下列問題：

30. 原目的在建立朝貢關係，並展示武力與宣揚國威，卻意外促成漢人移民東南亞。此情形與哪一路線圖關係密切？ (A)甲 (B)乙 (C)丙 (D)丁。(P.122)
31. 大批穆斯林商人東來，並在聚集地建清真寺，伊斯蘭信

仰廣泛傳播，當時穆斯林聚集的泉州市不僅是昌盛的通商巨埠，而且是一座繁華的國際都市，除中國人外，來自外國的商人、傳教士、僧侶、遊歷家、貴族和使節等達數萬人。此種盛況與哪一張圖代表的朝代有關？ (A)甲 (B)乙 (C)丙 (D)丁。(P.117)

32. 白銀不斷流入中國，不但使中國經濟發生變化，也成為推動中國與國際經貿交流的重要媒介，促使中國進入世界經濟體系之中。此情形與哪一路線圖關係密切？ (A)甲 (B)乙 (C)丙 (D)丁。(P.123)

◎下圖中，甲~戊五張地圖虛線部分代表疆域範圍。請根據下面的圖回答問題：

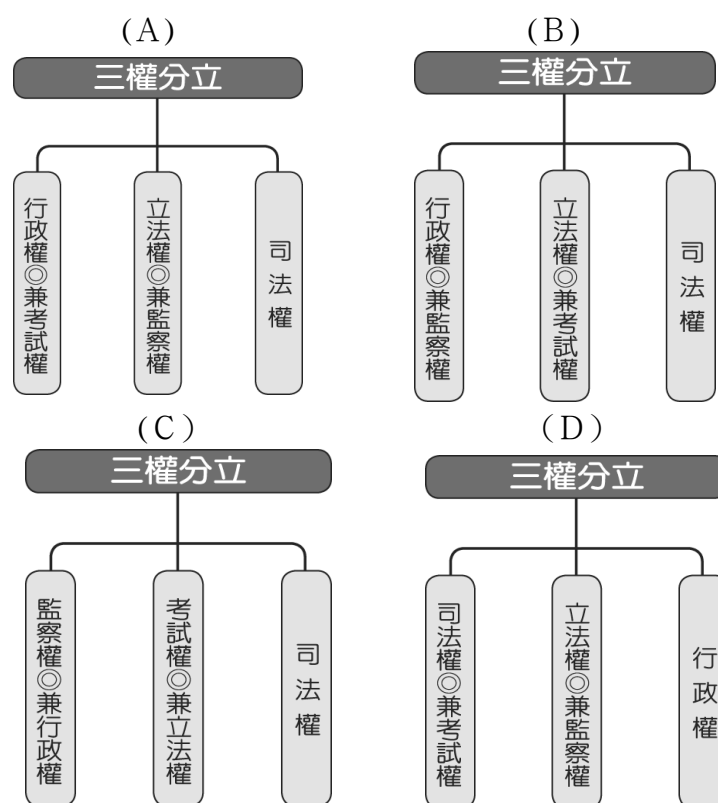


33. 五張地圖中，奠定中國現代疆域規模的是哪一張地圖？ (A)甲 (B)乙 (C)丁 (D)戊。(P.121)
34. 五張地圖中，哪些是游牧民族所建立的疆域規模？ (A)甲、丙 (B)乙、丁 (C)乙、丙 (D)丁、戊。(P.112,121)
35. 新聞報導：「民國 107 年 12 月 18 日，立法院三讀通過《憲法訴訟法》，並將於民國 111 年 1 月 4 日正式實施。施行後，未來□□在審理釋憲案件時，將採用具法院性質的「憲法法庭」模式，取代過去以會議決議的形式。」上述□□應填入下列何者？ (A)行政院 (B)大法官 (C)立法委員 (D)監察委員。(Ch3)
36. (呈上題) 上述新聞所陳述的內容，屬於落實憲政精神的何項重要原則？ (A)主權在民 (B)權力分立 (C)違憲審查制度 (D)法治政治。(Ch3)
37. 大韓民國(簡稱:韓國)的憲法法院於2017年3月10日裁定韓國國會的彈劾案成立，朴槿惠成為韓國憲政史上第一位被彈劾成功及罷免的總統。請問，若換成是在台灣，彈劾總統的正確程序應該為何?(Ch4)
- (A)監察院提出後，送司法院懲戒法院處理
- (B)大法官提出後，送司法院憲法法庭審理
- (C)立法委員提出後，交由公民投票複決

(D)立法委員提出後，交由司法院憲法法庭審理

38. 小克說：「我國《憲法》採用孟德斯鳩的三權分立原則，中央政府的權力互相制衡，而政府的施政受到民意的監督。」請問：小克的國家應該為下列何者？ (A)英國 (B)北韓 (C)中華民國 (D)中華人民共和國。(Ch3)

39. (呈上題)請問：下列何者為三權分立示意圖？(Ch3)



40. (呈上題)孫中山先生認為孟德斯鳩所提的「三權分立」，可能由於何種原因而產生國會專制的流弊？ (A)行政權兼考試權 (B)立法權兼行政權 (C)立法權兼監察權 (D)立法權兼司法權。(Ch3)
41. 小丸子欲製作海報說明政府預算、決算的流程，但不小心將各機關的貼條混淆了，附圖中若由甲至戊依序貼上機關的名稱，下列何者正確？(Ch4)



- (A)行政、審計、行政、審計、立法
- (B)行政、審計、立法、行政、立法
- (C)立法、行政、行政、審計、立法
- (D)行政、立法、行政、審計、立法
42. 新聞報導：「監察院的調查報告指出，現行原住民保留地私下違法轉租、轉讓情形日益嚴重，原民會未督導各縣市積極處理，通過提案◆◆原住民族委員會。」上述◆◆應為下列何者？ (A)質詢 (B)糾舉 (C)彈劾 (D)糾正。(Ch4)
43. 小凱參加國中同學會，發現班上許多同學和自己一樣，現在都在政府機關工作。根據下列四人的發言推斷，其

中何人是在「司法院」任職？ (Ch4)

- (A)阿嘉：我可以對違法失職的公務人員提出彈劾。
(B)大均：我負責掌理公務人員撫卹、退休等事宜。
(C)小雅：我可以審理政黨違憲之解散事項。
(D)小凱：我可以提出總統、副總統罷免案。

44. 柯南：「當公務人員的彈劾案件通過之後，會交由我們審理，否則即使公務員涉及違法情事，我們也不能主動對當事人的行為進行審議。」根據柯南的說法判斷，他應是任職於下列哪一個機關？ (A)審計部 (B)法務部 (C)懲戒法院 (D)憲法法庭。(Ch4)

45. 婉如收到朋友傳來的一則Line近況通知，如下所示，當中的(甲)、(乙)應為中央政府的哪兩個機關？

Line 訊息

我參加(甲)舉辦的國家考試，順利考上了，下個月要去(乙)下設的法務部上班囉！

- (A)考試院、行政院 (B)行政院、立法院 (C)考試院、司法院 (D)監察院、行政院。(Ch4)

46. 阿翔利用以下新聞內容詮釋民主國家的憲政精神，他所要說明的要點最可能為何？(Ch3)

外電消息

為因應新型冠狀病毒(COVID-19)疫情，英國政府擬出三百多頁的緊急立法草案，將整個國家所有可能涉及的層面納入考慮，以確保在緊急狀況之下，政府的管制措施都有明確的法律授權。

- (A)修憲歷程與違憲審查制度 (B)政府權力行使與法治政治 (C)有限政府與落實定期選舉 (D)集權統治與地方自治運作。

47. 小嫻整理了我國五院院長的產生方式，其中敘述正確的有哪些？(Ch4)

甲	行政院院長	全國公民直接選舉
乙	立法院院長	立法委員互相選舉
丙	司法院院長	總統直接任命
丁	考試院院長	由總統提名，經行政院同意後，由總統任命
戊	監察院院長	由總統提名，經立法院同意後，由總統任命

- (A)甲丁 (B)乙戊 (C)丙戊 (D)乙丁。

48. 從行政院與立法院的制衡關係來看，下列相關敘述，何者錯誤？ (A)立法院須向行政院提出施政方針與施政報告 (B)立法院有向行政院院長及各部會首長提出質詢的權力 (C)立法院可對行政院院長提出不信任案，進行倒閣 (D)立法院對行政院院長的不信任案通過後，行政院院長必須下台，也可呈請總統解散立法院，進行改選。(Ch4)

49. 小新看到一則新聞報導，是關於行政院將「某議案」移請立法院「覆議」的消息。上述報導中的議案最可能是下列何者？ (A)憲法修正案 (B)總統、副總統彈劾案 (C)總統、副總統罷免案 (D)法律案。(Ch4)

50. 附圖為某場研討會中兩位與會者的發言。請問：這場研

討會的主題最可能為下列何者？(Ch3)



- (A)主權在民 (B)法治政治 (C)權力分立 (D)責任政治