

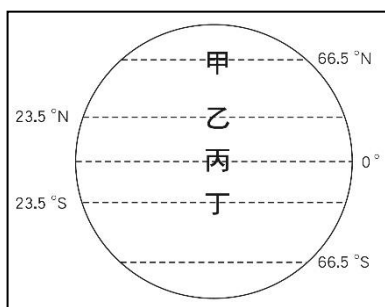
【讀卡科目請依規定畫卡，若有違反畫卡規定而影響讀卡作業之情事，一律扣總分五分。】

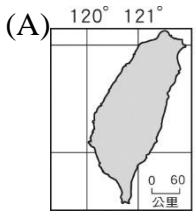
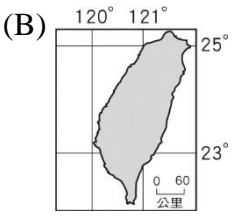
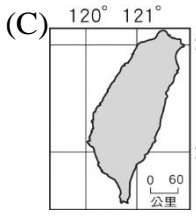
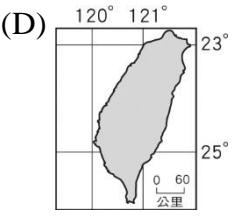
【手寫答案卷需確實寫上班級、座號、姓名，違者一律扣總分五分。】

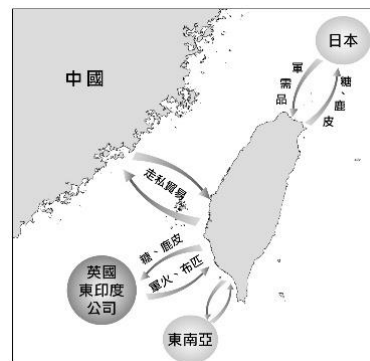
【手寫答案卷需用藍色或黑色墨水筆書寫，違者一律扣總分五分，使用鉛筆書寫扣五分。】

選擇題

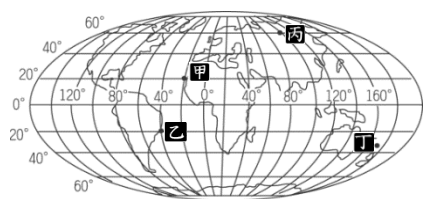
- 關於位置的描述，下列何者屬於「絕對位置」？( P.11)  
(A)阿銘家在金城路2段100號 (B)小布家在家樂福的北方 (C)台南孔廟位於火車站的西南方 (D)阿華的座位在小明的右方。
- 小睿從教室走到學務處實際距離為100公尺，在地圖上量測為4公分，則該地圖的比例尺應為下列何者？(P.13.20)  
(A)1 : 1,500 (B)1 : 25,000 (C)1 : 150,00 (D)1 : 2,500。
- 著名電腦公司出品的手機在美國舊金山(120°W)6月29日下午6點開始販售，全球各地的新聞大肆報導。而臺灣最快可以在何時看到第一位買到手機幸運兒的相關報導？  
(A)6月29日早上10點 (B)6月29日凌晨2點  
(C)6月30日早上10點 (D)6月30日凌晨2點 (P.18)
- 聖誕節時，北半球的芬蘭居民穿著厚重大衣，與南半球的澳洲短袖裝扮大不相同。上述情形與下列何者最有關係？  
(A)地軸傾斜影響 (B)地球自轉方向  
(C)經度各自不同 (D)地勢高低變化。(P.19)
- 附圖為地球緯線分布圖，關於緯線的特色敘述，下列何者不正確？(P.18)  
(A)甲為南極圈，在冬至時太陽直射此處  
(B)乙為北回歸線，溫帶與熱帶的分界  
(C)丙是赤道，緯線中最長的一條  
(D)丁為南回歸線，是太陽直射地球的最南端。
- 9月9日下午中央氣象局發布強颱風璨樹中心位置在「東經127.2度，北緯15.7度」。璨樹颱風大約是位於臺灣的哪一個方向？( P.11)  
(A)東北方 (B)西北方 (C)東南方 (D)西南方。
- 從海陸位置看臺灣，下列哪一個說明最適宜？(P.23)  
(A)臺灣是美洲大陸東側的島嶼  
(B)臺灣掌控大西洋西側南北往來的要道  
(C)臺灣位於太平洋東側、海洋和大陸的交界處  
(D)臺灣的位置可成為太平洋進入亞洲大陸的重要門戶。



- 臺灣雖然人口與土地占不到全球的百分之一，但早期的荷蘭與日本卻相當看重臺灣的貿易地位，其主要的原因為何？(P.28)  
(A)資源十分豐富 (B)氣候溫暖溼潤  
(C)特有生物眾多 (D)地理位置優越。
- 下列何者是臺灣島正確的經緯度位置示意圖？(P.23)  
(A)  (B)   
(C)  (D) 
- 澎湖縣每年春夏之際舉辦的國際花火節，是全國唯一帶狀長期的海上花火盛會，花火的施放讓民眾體驗澎湖夏日之美。若就相對位置而言，澎湖縣位於臺灣島的哪一個方向？(P.23)  
(A)東方 (B)西方 (C)北方 (D)南方
- 附圖是十七世紀鄭氏政權在臺灣的對外貿易示意圖，臺灣具有國際貿易轉口站的特質，與下列哪一項特性最有關？(P.26)  
(A)優越的相對位置  
(B)有北回歸線經過  
(C)有海陸生態環境  
(D)寒、暖洋流流經。
- 日本(135°E)是臺灣民眾最常前往賞櫻旅遊的國家，依據兩地的經度位置判斷，由臺灣前往當地旅行的民眾，到日本時需要將手錶進行何種調整？(P.18.25)  
(A)調慢一小時 (B)調慢兩小時  
(C)調快一小時 (D)調快兩小時。



13. 各地區所在的經緯度位置差異對日常生活的影響甚大，依據圖中資訊判斷，附圖中哪一個地區每年最晚進行跨年倒數的活動？(P.18.23)



(A)甲 (B)乙 (C)丙 (D)丁

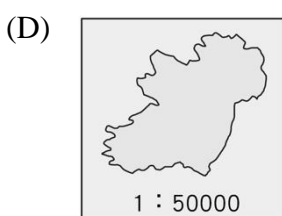
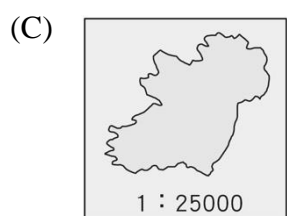
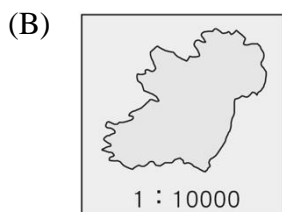
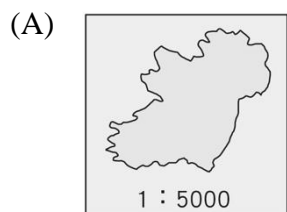
14. 面積狹小的臺灣島能夠擁有多樣生態環境的原因不包括下列何者？(P.26)

(A)海陸交界的地理位置，兼有海陸域生態  
(B)寒、暖洋流交會，帶來豐富的海洋資源  
(C)溫帶與熱帶交界位置，動物遷移必經地  
(D)島嶼人口密度較低，環境保育觀念極佳

15. 關於經緯線的比較，下列何者正確？(P.17)

項目	經線	緯線
(A)定義	赤道及與赤道平行的圓圈線	連結南、北極點的弧線
(B)方向	南北向	東西向
(C)長度	赤道最長，往兩極縮短	等長
(D)度數	南北半球各有 0 ~90 度	東西半球各有 0 ~180 度

16. 下列四張不同比例尺的島嶼地圖，其中哪一張的島嶼實際面積最大？(P.13)



17. 文鈞在中秋連假和家人到附圖中塗黑的行政區旅遊，他旅遊的縣市是下列哪一個縣市？

P.25 (A)宜蘭縣 (B)彰化縣  
(C)花蓮縣 (D)屏東縣。



18. 歷史老師在上課講到鄭氏政權，提到鄭氏能抗強盛的清帝國長達 21 年之久，主要是歸功於下列哪一項經營的成功？(p.101) (A)文化教育 (B)海上貿易 (C)礦產資源 (D)引進漢人政治制度

19. 歷史學家將人類的歷史區分為「史前時代」與「歷史時代」兩部分。請問劃分的依據是什麼？(p.84)

(A)農業的發明 (B)文字的使用  
(C)用火的技術 (D)鐵器的出現。

20. 清帝國統治時，將臺灣原住民區分為「生番」及「熟番」，請問最主要是依據什麼標準分類？(p.93)

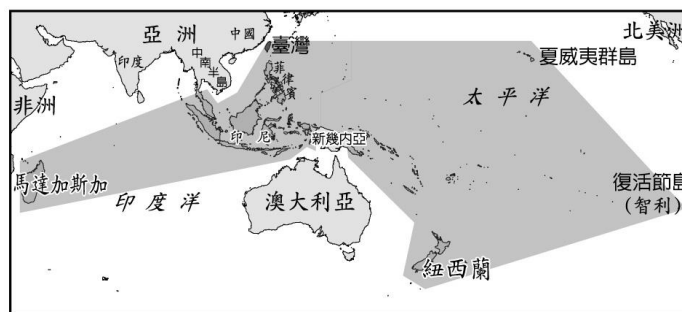
(A)語言系統 (B)打獵或農耕 (C)是否納稅 (D)居住地區

21. 在台灣的歷史中，請問哪一個對原住民族的稱呼是有尊重並經過當事人（原住民族）同意？(p.93)

(A)生番 (B)高山族 (C)山胞 (D)以上皆無

22. 下圖為南島語族的分佈範圍，請判斷下列哪一個選項不屬於南島語族？(p.92)

(A)馬達加斯加 (B)復活節島 (C)澳大利亞 (D)菲律賓



23. 承上題，依圖片資訊線索判斷下列選項何者正確？(p.92)

(A)南島語族分佈在大西洋群島上  
(B)復活節島是南島語族的發源地  
(C)南島語族目前已全數失去蹤跡無法考證關聯  
(D)南島語族分佈範圍最北達到臺灣

24. 臺灣史前文化博物館以某遺址石棺中挖掘出土的人獸形玉石作為博物館 LOGO。根據學者推測，這種玉石可能是當時的人用來與祖先、神靈、動物溝通的媒介。請問：該 LOGO 的靈感是出自於哪一個遺址文化？(p.90)

(A)甲 (B)乙 (C)丙 (D)丁



國立臺灣史前文化博物館  
NATIONAL MUSEUM OF PREHISTORY





25. 下表中的甲、乙、丙代表不同史前文化的經濟活動，請判斷甲乙丙的發展先後順序。(p.89-91)
- (A)甲乙丙(B)丙甲乙(C)甲丙乙(D)丙乙甲

經濟活動	
甲	以採集、狩獵、漁撈方式維生
乙	以鐵製工具用於狩獵、農耕、捕魚
丙	已能種植農作物，並使用陶器儲存

26. 十六世紀始，歐洲人陸續航海來到亞洲從事貿易，請問葡萄牙、西班牙、荷蘭分別在下圖哪裡建設亞洲總部根據地，下列選項何者**正確**？(P.97)
- (A)甲乙丙(B)乙丙丁(C)丙乙甲(D)丁甲乙



27. 配合下圖與表格，大航海時代下的台灣因地理位置，躍上了國際貿易的舞台，請判斷佔領台灣的統治者順序以及其佔領地的配對，選出何者**正確**？(P.97-98)

	先來	後到
(A)	荷蘭→丁	西班牙→甲
(B)	荷蘭→丙	葡萄牙→甲
(C)	葡萄牙→乙	荷蘭→丁
(D)	西班牙→甲	荷蘭→丙



28. 十六世紀以後，歐洲各國商隊紛紛來到亞洲建立貿易與傳教的據點，主要是受到下列哪一項因素的影響？(p.96)
- (A) 歐亞新航路建立 (B) 蒙古西征  
(C) 黑死病盛行 (D) 日本鎖國
29. 阿牛是明朝晚期的漢人，因為生活壓力而加入荷蘭東印度公司的招募來到台灣開墾荒地，沒想到荷蘭公司無節制地增加稅賦，讓工作生活是越來越難過，最後他與其他漢人們決定響應 OO 的計劃推翻荷蘭人的統治，最後密謀失敗不幸慘死他鄉。請問 OO 是誰？(p.99)
- (A) 顏思齊 (B) 郭懷一 (C) 鄭芝龍 (D) 沈有容
30. 鄭氏家族與臺灣的歷史緊密相連，下列有關鄭氏家族的敘述，何者**正確**？(p.100-101)
- (A)鄭芝龍曾是中國東南的海上霸主，當時荷蘭人想做生意都必須與他交好 (B)鄭芝龍的開墾策略，號稱「寓兵於農」，被稱為軍屯 (C)鄭成功驅逐占據基隆、淡水一帶的西班牙人，經營臺灣 (D)鄭經在位時，清廷派施琅攻臺，鄭軍戰敗投降。
31. 明朝政府為了防止倭寇侵擾沿海，實行了哪一項措施，反而使台灣成為走私貿易的重要據點？(P.101)
- (A) 海禁政策 (B) 禁教政策 (C) 遠征日本 (D) 鎖國政策
32. 觀看下表荷蘭與鄭氏在台灣經營的模式比對，請選出何者**正確**？(P.99-101)
- |         | 荷蘭     | 鄭氏    |
|---------|--------|-------|
| (A)目的   | 對抗清朝   | 賺錢貿易  |
| (B)進口貨物 | 米、糖    | 絲綢、香料 |
| (C)出口貨物 | 軍需用品   | 鹿皮、糖  |
| (D)開墾模式 | 招募漢人耕種 | 軍隊屯田  |
33. 臺灣原住民族鄒族有一個傳說神話：「很久以前，世界變成一片汪洋大海，於是鄒族人逃到了玉山。後來洪水退了，部分下山的族人來到這裡建立部落，部分族人則到西部去另建村落。」下列敘述何者**正確**？(P.92-93)
- (A)傳說能作為歷史研究的佐證材料，應該全都相信  
(B)有關臺灣原住民起源的傳說故事，版本只有一個  
(C)透過傳說，我們可以推測族群發展或遷徙的過程  
(D)傳說都是口述而來，加油添醋，全部都無法相信
34. 16 世紀時漢人海商由澎湖逐漸轉往臺灣發展，請問以下原因何者**正確**？(P.96)
- (A)澎湖被日本漁民佔據  
(B)明朝派官兵進駐澎湖  
(C)澎湖成為荷蘭租界地  
(D)鄭芝龍佔領澎湖

35. 附圖為小芬一家人在群組的對話，根據內容，何者的「人性尊嚴」受到重視？(p.146)  
(A)小芬 (B)小芬媽 (C)弟弟 (D) 小芬爸。

小芬：媽媽，弟弟每次都不倒垃圾！  
小芬媽：女生多做點家事是應該的，阿媽以前也是這樣要求我。  
弟弟：爸爸，我將來想當一名化妝師。  
小芬爸：好喔，我以前想學化妝都會被爺爺罵！以後你可以教爸爸怎麼保養。

36. 以下是阿豪看到某篇文章的敘述——

童兵往往出現在社會動盪之際，由於壯年人口從軍數量不足，因而吸納十餘歲的未成年人加入軍旅。又或者是戰事頻傳，家庭功能式微，導致部分孤兒迫於現實而投身軍旅。這些兒童過早投身軍旅生活，在其思慮與身心都尚未健全之際，就沉浸在充斥殺戮氣息的生活，這將造成兒童性格上的扭曲與暴戾。

上述內容最適合作為下列何者的探討案例？(p.147)

- (A)《京都議定書》 (B)《世界人權宣言》  
(C)聯合國氣候變遷大會 (D)《中華民國憲法》。
37. 性騷擾主要是指以明示或暗示的方式，從事不受歡迎且具有性意味或性別歧視之言詞或行為，以致影響他人的人格尊嚴、學習和工作機會或表現，但未達性侵害之程度者。下列有關「性騷擾」之敘述，何者錯誤？  
(甲)「性騷擾」通常只會發生在異性之間 (乙)只要對方的言語或行為具有性意味或性別歧視，令人感到不舒服即成立 (丙)「性騷擾」的受害者以女性居多，凸顯兩性不平等仍然存在的 (丁)「性騷擾」是不會發生在好女孩身上  
(A)甲乙 (B)甲丁 (C)乙丙 (D)乙丁。(p.158,159)
38. 《勞動基準法》是我國最基礎的勞動法律，主要是規定勞動條件最低標準，保障勞工權益，加強勞雇關係，為促進社會與經濟發展而制定。由此可見，《勞動基準法》與勞工尊嚴的維護息息相關，請問：上述畫線部分實現人權保障的哪一項內涵？(p.147)  
(A)個人的生命與身體應該維持完整  
(B)個人擁有自由選擇的能力與機會  
(C)政府應積極提供人民工作的保障  
(D)個人有免受政府非法侵害的權利。
39. 電影「瓦嘉達」，描述在伊斯蘭教的教旨下女性不許騎單車，原因是真主不允許，而且騎單車可能會破壞女孩的貞操、甚至失去生育能力。此外，成年女性是不允許開車的，因過程中會導致女性與警察、汽車修理工等陌生男子有所接觸，這被認為傷風敗俗。透過該部電影表現出來的情節，下列論述何者正確？(p.147)  
(A)伊斯蘭教的教旨適用於全世界  
(B)該國女性並沒有自主決定的選擇權  
(C)該國女性崇尚獨立自主的個體  
(D)該國男子的人性尊嚴沒有受到尊重

40. 圖中同學對小志的取笑，屬於何種對性別的不尊重？  
(A)性騷擾 (B)性侵害 (C)性別歧視 (D)性別偏見。  
(p.154,155)



41. 為保障性別工作權之平等，貫徹《憲法》消除性別歧視、促進性別地位實質平等之精神，政府制定了《性別工作平等法》，依據該法律：雇主對求職者或受僱者之招募、甄試、進用、分發、配置、考績或陞遷等，不得因性別或性傾向而有差別待遇。下列哪些徵才廣告的用詞違反該法律的立法精神，依法得處以罰款？(p.154,155)  
(A)甲乙 (B)丙丁 (C)乙丙丁 (D)甲乙丙。

(甲)

滿意小吃  
(土城店)誠徵  
工作夥伴  
洗碗阿姨  
1. 有經驗佳・薪面議

(乙)

達人客運  
誠徵司機大哥  
1. 月休 8 日  
2. 需輪夜班  
3. 薪水 33,000 起

(丙)

大富貴銀行  
誠徵櫃臺服務員  
1. 大學以上學歷畢業  
2. 具簡易文書能力  
3. 如懷孕須自動離職

(丁)

順風民宿  
誠徵房務人員  
1. 相關科系畢業  
2. 滿 20 歲無經驗可  
3. 溫柔細心吃苦耐勞

42. 某位學者指出：「一般家庭的先生只給太太菜錢、水電費等基本開銷，卻忽略了妻子的『人力成本』。例如：目前請家務清潔到府服務每月需 1 萬多元，24 小時保姆約 3 萬元，還有其他雜務也需請助理來做，將這些人力支出加總後，可估算家庭主婦的年薪至少百萬。所以，臺灣目前尚缺乏『家務有給』觀念。其實，在家操持家務的妻子，對家庭也具有功勞。」以上說法主要是從哪一層面探討性別平等問題？(p.156)  
(A)責任承擔 (B)貢獻肯定 (C)利益分配 (D)需求滿足。

43. 立法院通過《社會救助法》，該法制定的宗旨，在於照顧低收入戶、中低收入戶及救助遭受急難或災害者，並協助其自立。政府制定《社會救助法》主要在維護人性尊嚴的哪一個內涵？(p.147)  
(A)享有身為人的生存基本條件  
(B)維護生命與身體自主權完整  
(C)擁有自我決定能力活出自我  
(D)盡情發展自我價值的選擇自由。

44. 莉莉和阿宏夫妻倆終於盼到孩子的降臨，以下是兩人在第一次產檢後的對話----

阿宏：「關於孩子的事，我會盡全力協助你的，你有什麼需要就告訴我吧！」莉莉：「不對。什麼叫協助我？」阿宏：「噢？就是盡力幫妳的忙呀！……」莉莉：「這是幫忙嗎？我們不都要一起成為父母嗎？我是第一次懷孕，對於一切都一無所知，非常不安。難道我得獨自學習，然後再對你下指令嗎？一起學習，一起成為父母，夫婦不就是如此嗎？」

以上對話中，可以推論出莉莉在強調人與人的互動中哪一個概念的重要性？(p.156)

- (A)責任承擔 (B)貢獻肯定 (C)利益分配 (D)需求滿足。

45. 「性別歧視」是因性別偏見而對某性別採取實際的行動，形成不利的差別待遇。下列何種情況屬於上述情形？  
(甲)男女同工不同酬 (乙)升遷時，限制管理職僅限男性擔任 (丙)穿著較中性的女生被稱為「男人婆」 (丁)規定男生不可以上家政課(p.154)  
(A)甲乙 (B)丙丁 (C)甲乙丁 (D)甲丙丁。

46. 下列為子婷在網頁上看到的一則報導根據內容，下列該敘述與何者最相關？(p.149)  
(A)人權的保障需要有政府介入  
(B)立法可以保障人權，卻無法維護其尊嚴  
(C)更生人不應享有與一般人民同等待遇  
(D)此處是透過民間團體保障人權。

**更生人工作權應予保障**

監察院調查並要求交通部、內政部檢討改善後，已有修法草案放寬計程車禁業限制，若完成立法程序，出獄的更生人一定期限後將可擔任計程車駕駛。

47. 在公司服務滿 6 年的珊珊想要申請育嬰假，於是上網查詢相關規定，其中哪一項資料錯誤？(p.158)  
(A)甲 (B)乙 (C)丙 (D)丁

甲	限父親提出申請
乙	期限到子女滿 3 歲為止
丙	育嬰假又稱為「育嬰留職停薪」
丁	《性別工作平等法》中有育嬰假的相關規定

48. 關於認識性別和性別平等正確觀念的意義，下列敘述何者正確？(甲)藉此扭轉男尊女卑傳統，從此女尊男卑 (乙)可以打破性別刻板要求限制，充分發揮所長 (丙)使個人得以依照能力與特質，適性發展 (丁)方便社會建立健康和諧的兩性互動關係(p.158)  
(A)甲乙丙 (B)甲乙丁 (C)乙丙丁 (D)甲乙丙丁。

49. 幾天前曉婷在不情願的情況下與隔壁班的男友發生「親密行為」，事後心中一直感到不舒服，也很擔心自己會懷孕。(甲)曉婷的同學佳琳立刻向學校提出檢舉，由(乙)學校輔導處受理，接著召開(丙)性別平等教育委員會進行調查，調查完畢後，將結果(丁)提報到教育主管機關。請問：以上畫線部分何者不符合校園性平事件的標準處理程序、且該如何修正？(p.159)  
(A)甲，只有曉婷本身才有權利提出檢舉  
(B)乙，應該由學務處受理  
(C)丙，應該由學生獎懲委員會進行調查  
(D)丁，應該提報到檢警機關。

50. 《性騷擾防治法》、《性別工作平等法》以及《性別平等教育法》，這三部法律合稱『性平三法』，以下關於三部法律的描述何者需修正？(p.159)  
(A)《性騷擾防治法》規範用於校園和職場以外的其他場域 (B)雇主在工作上言語騷擾員工則適用《性別工作平等法》 (C)校園場域中發生性平事件，則適用《性別平等教育法》 (D)教師與學生發展師生戀關係，適用《性別工作平等法》。