

【讀卡科目請依規定畫卡，若有違反畫卡規定而影響讀卡作業之情事，一律扣總分五分。】

【手寫答案卷需確實寫上班級、座號、姓名，違者一律扣總分五分。】

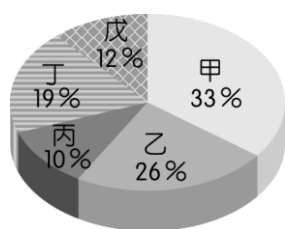
【手寫答案卷需用藍色或黑色墨水筆書寫，違者一律扣總分五分，使用鉛筆書寫扣五分。】

一、 選擇題：每題2分

1. 圖(一)為中國地勢的三階地形圖。若根據圖(二)五大地形面積比例圖判斷，其中高階的地形種類主要為圖(二)中的哪兩種地形？(A)甲、乙 (B)乙、丙 (C)丙、丁 (D)丁、戊。 P8

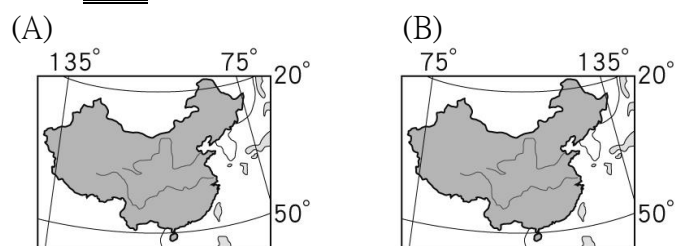


圖(一)



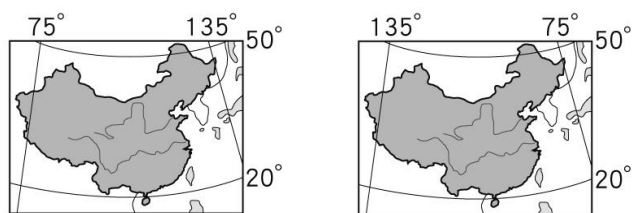
圖(二)

2. 魯夫一行人想航行到中國，他們應該選擇下列哪一張正確的經緯網圖？ P6

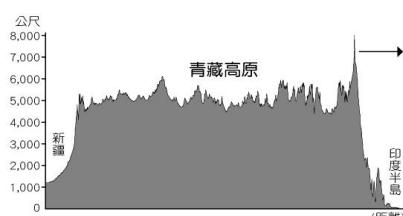


(C)

(D)



3. 下圖為青藏高原的地形剖面圖。依圖中位置判斷，箭頭所指的方向為何？P10



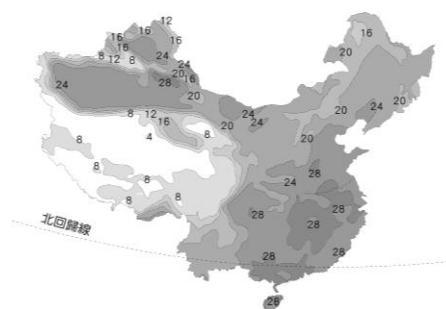
- (A)東 (B)西 (C)北 (D)南。

4. 「山脈走向受板塊擠壓方向不同所影響，東半部山脈主要受(甲)菲律賓海板塊與歐亞板塊推擠，多為(乙)東北——西南走向，如大興安嶺、太行山；西半部山脈受(丙)印澳板塊與歐亞板塊推擠，成(丁)南——北走向的山脈，如天山、崑崙山、喜馬拉雅山。」上文為關於中國山地地形之敘述，請選出敘述錯誤選項？ P9

- (A)甲乙 (B)乙丁 (C)甲丁 (D)乙丙。

5. 下圖為中國夏季等溫線分布圖。從圖中等溫線數值可看出，夏季時中國大部分地區氣溫多在20℃以上，但西部地區卻在10℃以下，造成此種現象的主要原因為何？

- (A)距海較遠 (B)地形 (C)季風 (D)緯度。P12



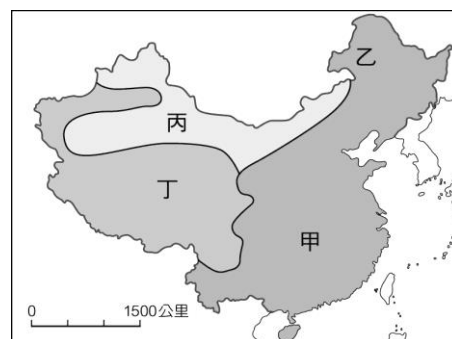
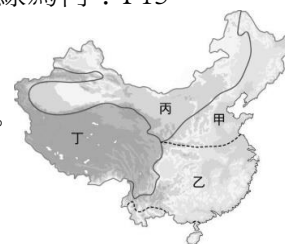
6. 下列對於影響中國氣候因素的敘述，何者正確？P12-15

- (A)冬季是主要的雨季 (B)夏季氣溫受緯度影響較明顯  
(C)距海愈遠雨量愈多 (D)冬季等溫線大致呈東西走向。

7. 右圖中，甲、乙兩區的天然地理界線為何？P13

- (A)長城、大興安嶺  
(B)青藏高原、大興安嶺  
(C)秦嶺、淮河 (D)長江、秦嶺。

※下圖是中國的氣候類型分布圖，根據下圖請回答8.9題 ( P22)



8. 從甲區到乙區，較不可能出現下列哪種現象？

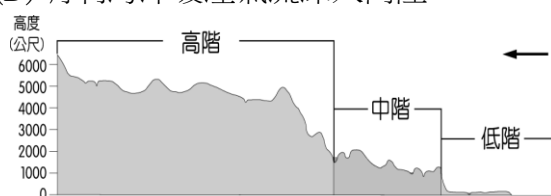
- (A)大量的水稻景觀轉變為以小麥為主的田地  
(B)由水運轉變為以陸運為主  
(C)由水田轉旱田  
(D)居民主食從麵換成米。

9. 圖中丙區以畜牧活動為主，但少部分地區卻可以發展出農業活動，請問關鍵點為？

- (A)科技 (B)水源 (C)土壤 (D)氣溫。

10. 中國地形若依此圖分布形態加以判斷，下列哪種地理現象與此種地勢起伏沒有直接的影響？P8

- (A)跨越多個時區  
(B)大河大多由西往東流  
(C)東半部多沖積平原  
(D)有利海洋暖溼氣流深入內陸。



11. 下圖為中國五個自治區分布圖。請問：哆啦美在某旅行社的廣告中看到：「此地有特別的壯族文化，飲食文化有著濃郁的民族地域特色。石灰岩地層廣布，有獨特的地形地貌 讓這裡成為中國旅遊的熱門地點……。」請問：此地所指應位於圖中的何處？  
(A)甲 (B)乙 (C)丙 (D)戊。 P7



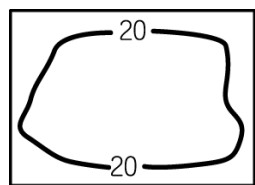
12. 圖為中國某種地形分布圖。請找出描述錯誤的選項？P10



- (A)甲「放眼望去，為一片平坦遼闊的草原」  
(B)乙「深厚的黃土堆積，易受流水侵蝕呈現崎嶇不平的形態」  
(C)丙「大河源頭，寒冷荒涼」  
(D)丁「到達此地，產生頭暈目眩，呼吸困難」。
13. 受到氣候影響，中國各地人民在住的方面如何調整，以適應當地的生活環境？P23  
(A)黃土高原的蒙古包——厚毛氈有避寒及阻風沙之效，且圓帳的風阻較小 (B)騎樓設計——可防突如其來的雷陣雨 (C)新疆維吾爾族的窯洞——因乾燥少雨而就地取材，有冬暖夏涼的特色 (D)黃河流域的高架屋——將屋子架高，以防風、防潮。
14. 圖(一)為中國的地形分布圖，丸尾發現某地區的地形是以圖(二)這種等高線圖為主，且有肥沃黑土層。請問：此等高線最有可能位於圖(一)中的哪一個地區？P11(A)甲 (B)乙 (C)丙 (D)丁。



圖(一)



圖(二)

15. 蘭州1月月均溫為-6.1℃，7月月均溫為22.1℃，年降水量為316 mm。從這些資料可知蘭州是屬於下列哪種氣候類型？P16  
(A)溫帶草原氣候 (B)溫帶沙漠氣候  
(C)高地氣候 (D)溫帶季風氣候。
16. 中國位於季風亞洲的影響範圍內，氣候受到季風影響甚大。中國季風氣候發達的主要原因是什麼？P14  
(A)位於北半球 (B)位於中緯度地區  
(C)海陸位置分布 (D)洋流經過。
17. 人口稠密區大致和哪一氣候區相符？P16.24  
(A)乾燥氣候(B)季風氣候(C)草原氣候(D)高地氣候

18. 周人滅商之後，有鑑於前朝滅亡的教訓，發展出「天命靡常，唯德是輔」的觀念。意思是說，上天不會無條件地支持某一個統治者，如果人的表現不好，天命就會轉移。因此西周特別強調以制度來維繫其統治基礎。請問：該朝代未實施下列哪一制度？(A)科舉制度 (B)宗法制度 (C)禮樂制度 (D)封建制度。(P.96)
19. 高仙芝是唐代名將，其家族原本是來自朝鮮半島，後來他隨父親遷至中國，並且志願從軍，長期鎮守西域一帶。他為唐代立下不少戰功，卻在怛羅斯一役敗給大食。此戰的失利使唐代逐漸失去對中亞的控制權，也促成何種中國文物西傳？(A)印刷術 (B)指南針 (C)火藥 (D)造紙術。(P.105)
20. 根據史書左傳記載，管仲曾對齊桓公說：「戎狄等外族之心，就像豺狼那樣的野獸，不可能得到滿足；諸夏之國，皆親近之人，不可遺棄他們；安逸就像毒藥一樣，不可以留戀。」依據你對史實的認知，齊桓公在聽完管仲的建議後採取了什麼措施？(A)號召各地諸侯在邊境修築長城，以防禦外族入侵 (B)號召各地諸侯尊周王室為共主，共同抵禦外族的入侵 (C)號召各地諸侯籌措經費，與外族貿易取得商業利潤 (D)號召各地諸侯選出優秀的貴族女子，和外族通婚換取和平。(P.97)
21. 秦孝公時接納何人的建議，推動一系列的改革，包括推動連坐法、制定法律、改革戶籍制度、獎勵軍功、開墾荒田等富國強兵的手段，讓秦國奠定強盛的基礎？(A)李斯 (B)韓非 (C)商鞅 (D)嬴政。(P.97)
22. 歷史老師於課堂上請同學以簡單的幾句話表達魏晉南北朝時期的社會特色。甲生：「世族社會，對社會影響力大。」乙生：「社會動亂，宗教活動興盛。」丙生：「貴族沒落，平民崛起。」丁生：「萬般皆下品，唯有讀書高。」上述哪幾位同學的說法較為正確？(A)甲丁 (B)甲乙 (C)乙丙 (D)丙丁。(P.99)
23. 北魏時期胡漢融合，隋唐皇室也具有胡人血統，因此夷夏觀念淡薄，這種情況導致了隋唐時代的哪種風尚？(A)胡風盛行，唐帝國因而大力推行漢化 (B)來自西域的學問在中國大行其道 (C)胡風盛行，充滿異國風情成為唐帝國的時代風貌 (D)皇室提倡胡風，導致傳統士人不滿。(P.104)
24. 下列四位同學正在談論，關於佛教在中國的發展。請問：哪位同學的觀念「錯誤」？(A)小晨：佛教起源自印度，西漢末年經由絲路傳入中國 (B)小婕：魏晉南北朝時期，人民飽受戰亂之苦，佛教因而盛行 (C)小綺：漢代時，玄奘前往印度取經，回國後致力翻譯佛經 (D)小庭：佛教從中國傳入新羅、日本等地，成為東亞文化圈內涵之一。(P.104、105)
25. 西漢初年，因為經濟基礎較差，國家實力較弱，加上當時的主要政治思想以「清靜無為」為主，因此對匈奴採取何項外交策略？(A)和親政策 (B)聯合西域諸國共同對抗 (C)主動出擊 (D)給予金錢以換取和平。(P.102)
26. 下列何者在中國隋唐時期全力模仿中國漢字、曆法、儒學和佛教，甚至連中央政府的也是照單全收，因而有「君子國」之稱？(A)新羅 (B)吐蕃 (C)日本 (D)大食。(P.105)
27. 一個歷史評論家在文章中寫著：「東周時期，某一學派強調己欲立而立人，己欲達而達人，己所不欲，勿施於人。」此學派的中心思想為「仁」。請問：東周之後，

- 此一學派將如何發展？(A)唯有獨占受教育之權的貴族有資格學習此學派思想 (B)成為禮樂規範的依據，確保封建秩序 (C)漢初地方政府成立太學教導此學派經典 (D)此學派推崇尊君和倫理秩序，得到漢武帝的青睞。(P.98)
28. 小棋在課堂報告說：「他們論政，總是站在君主的立場，即使有時顧及人民，也是為君主打算。他們反對賢人政治，因為世上的賢人太少了，只要國家法律制度完備，國君具備一點駕馭臣下的手段，再加上適時的展現威嚴，即使中材之主也可以治理國家……。」下列哪一位歷史人物的觀點最適合當作小棋課堂報告的最佳例子？(A)墨子 (B)孔子 (C)老子 (D)韓非。(P.97)
29. 唐初以來，西北各族紛紛遣使入貢，並擁戴唐朝君主為天可汗，唐朝的聲威遠播，成為東亞地區的盟主。請問：致使各族君主納貢歸降的原因為何？(A)打敗匈奴，收回北邊失地 (B)擊敗東突厥 (C)結束中國長達四百多年的紛亂局面 (D)三次親征高麗成功。(P.103)
30. 周王朝的貴族依據身分差異可分為不同階層，各階層使用的音樂、舞蹈及儀仗隊等方面，都有明確的限制及規定，不同身分的人也遵守不同的規範，請問：周王朝制訂此規範的目的何在？(A)提供貴族享樂的機會 (B)建立中央集權制度 (C)確保封建秩序的穩固 (D)避免地方動亂的爆發。(P.96)
31. 1929年中國四川三星堆遺址出土，根據放射性元素定年，三星堆遺址大約和我國商、周兩個王朝同時期。但三星堆出土的文物卻迥異於商、周所出土的文物風格。請問：三星堆文物的出土代表著何種意義？(A)遠古部落的攻伐與合作 (B)古代文化發展的多元並立 (C)封建制度的不穩固 (D)禮樂制度的規範。(P.90)
32. 生活在秦末咸陽的小杰，常以文字記錄他的生活。下列選項何者可能是他所留下對於當時生活的紀錄？(A)政府的田賦和勞役負擔相當輕鬆，我和左鄰右舍都不會因此感到壓力 (B)君主秉持仁政治國，生活好過多了 (C)由於地方政府的推舉，我將以「孝子」身分被推舉到中央任官 (D)我被編入戶籍，若私自離開本籍，將會遭到處罰。(P.98)
33. 本學期歷史課程從商代開始，介紹中國三千多年的歷史發展。請問：從商代開始介紹中國發展，其原因為何？(A)發現最早的文字-甲骨文 (B)發現最早稻米耕種的紀錄 (C)全國出現眾多大型聚落 (D)出現最早的草原民族的紀錄。(P.90)
34. 一位生長在北方的鮮卑族青年，自從響應其政府實施漢化運動的號召而南遷洛陽以後，人生際遇發生了很大的變化。請問：做為一個支持朝廷運動的洛陽青年，他應有哪些行為表現？(甲)喜愛中原文物典籍(乙)堅持原有姓氏(丙)穿著漢服並改說漢語(丁)只會和鮮卑女子交往 (A)甲乙 (B)甲丙 (C)乙丙 (D)丙丁。(P.103)
35. 以下宣傳內容，顯示出現代民主國家的哪一項功能？

身心障礙者職業重建服務窗口  
政府勞工局幫您找「頭路」！！  
服務項目：■就業諮詢、評估  
■研擬職業重建服務計畫  
■整合身心障礙者職業重建資源網絡

- (A)推動社會福利 (B)改善教育環境 (C)維護社會秩序 (D)伸張司法正義。(Ch1)

36. 附圖為珊珍一家人於群組中談論政府施政，對話內容顯示的意涵與下列何者最為接近？(Ch1)



我有加入總統帳號，能夠即時了解政府制定政策時的方向和立場。



如果政府部門施政不合理，我會到他們的官網留言建議。



上次參加老屋改建公聽會，我充分表達意見，要求政府必須保障我的權益。

- (A)政府權力僅集中在少數人手中  
(B)民眾可透過管道討論公共政策  
(C)政府各層級官員專業能力不足  
(D)政府施政已無法受到民意監督
37. 天線國選舉在即，幾位朋友在社群發表意見，下列何人的論點較為「正確」？(Ch1)
- (A)迪西：選舉結果若形成政黨輪替，恐將造成國家解體  
(B)拉拉：執政黨推派的人選當選，將不會造成政黨輪替  
(C)小波：不同政黨執政，將會影響國家在國際上的地位  
(D)丁丁：一個國家的主權，將會隨政權轉移而產生變化
38. 小新在期刊上看到一篇對某國民眾進行的調查研究，總結性的報告如下所示：

#### 問卷調查結果

1.問題一：政府制定政策前，民眾是否有參與討論或表達意見的機會？

回答：否，由長期執政的政黨所決定。

2.問題二：國家的領導者是依人民自由意志投票選舉產生？

回答：否，人民無此權利。

根據內容呈現，下列哪一項推斷較為「正確」？(Ch1)

- (A)國家事務推動由人民主導進行  
(B)政府主權受到外國勢力的控制  
(C)政府施政受到民意嚴密的監督  
(D)人民缺乏充分參與政治的機會
39. (1) 電腦網路內容分級處理辦法  
(2) 身心障礙者權益保障法  
(3) 監獄組織通則  
(4) 土地登記規則  
若依法的位階來區分，以上四者依序分別為：(Ch2)
- (A) 命令、法律、法律、命令  
(B) 憲法、法律、命令、法律  
(C) 法律、法律、法律、命令  
(D) 命令、法律、命令、命令
40. 人民有四大基本權利，孫老師於教師節時，到凱達格蘭大道參加示威遊行活動，爭取權利。請問，下列何項權利與孫老師的行為屬於相同的權利？(Ch2)
- (A)小雯將自己神聖的一票投給了他心目中的總統候選人  
(B)小東參加政府舉辦的「勞工職業訓練」，增強自我能力  
(C)小嫻創立「中正無敵美麗黨」，並登記為合法的政黨  
(D)小花因特殊身分考生（原住民考生）於會考總分加分



41. 下列是木蘭為繳交公民學習單而抄寫某書籍的一段內容：「二十世紀後，人民除了(甲)消極要求國家不得侵害其『自由權』外，亦積極要求(乙)國家提供各種給付的『受益權』，如(丙)選舉、罷免及受國民教育等權利。然而在自由競爭下，貧困或弱勢人民之生存權遭受到嚴重的威脅，於是國家透過立法，使人民達到實質上的平等，而形成(丁)『平等權』的概念。」由於他一時疏忽，造成有一項錯誤。請協助他指正出來？ (A)甲 (B)乙 (C)丙 (D)丁。(Ch2)

42. 附圖兩人對話中，□□應是指下列何者？(Ch2)

為什麼有些社會福利機構的用電收費，低於一般電價？

因為□□根據法律訂定《優惠電價收費辦法》，而能實施這些優惠措施。

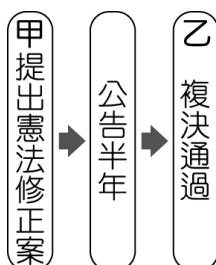


阿明 阿壯

- (A)經濟部 (B)總統 (C)立法院 (D)司法院。
43. 小愛課後整理我國修改憲法流程的筆記(如右圖)，她決定在「甲」、「乙」兩處加入標註使筆記更完整且清楚。

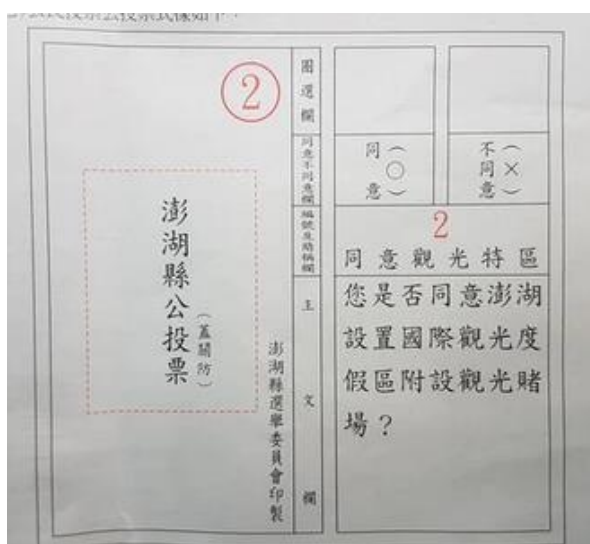
下列何者最可能是小愛所標註的內容？(Ch2)

- (A)甲：立法院、乙：司法院大法官  
(B)甲：立法院、乙：公民投票  
(C)甲：總統、乙：立法院  
(D)甲：司法院大法官、乙：公民投票。



44. 依據《離島建設條例》、《公民投票法》的規定，澎湖於民國98年9月舉辦公投，投票決定是否於縣內設置觀光賭場。請問：《公民投票法》及《離島建設條例》依序屬於哪一種法律位階？ (A)憲法、法律 (B)法律、法律 (C)命令、法律 (D)法律、命令。(Ch2)

45. 附圖為澎湖的公投議案，此項投票屬於《憲法》保障人民的哪項基本權利？  
(A)平等權  
(B)自由權  
(C)受益權  
(D)參政權。  
(Ch2)



46. 新型冠狀病毒(COVID-19)疫情襲捲全球，花花國政府成立中央流行疫情指揮中心，為防堵疫情延燒，啟動多項防疫措施，例如：口罩統一徵用販售、居家檢疫隔離14天等，實施初期雖然遭遇許多問題，但接收到民眾反應和專家學者建議後，相關部門立即進行修正和改善，終讓防疫政策趨於穩定，人民也給予行政團隊滿意的評價，信任政府的作為。請問：上述政府和人民間的互動

，可以觀察到何種現象？(Ch1)

- (A)政府施政已失去公信力  
(B)人民無法監督政府部門  
(C)雙方欠缺正式的溝通管道  
(D)民眾參與公共政策的制定

47. (承上題)花花國民眾對行政團隊的評價顯示何種意義？(Ch1)

- (A)重視民意有利政策推動執行  
(B)執政當局應變能力較他國低  
(C)政府施政應以社會福利優先  
(D)人民不宜過度參與公共事務

48. 香港在傳出多名確診病例後，當地民眾擔心醫護資源無法負荷，串連發聲，希望香港政府嚴格管制中國其他地區居民進入香港，並立即訂定積極有效的防疫政策，避免如2003年非典型肺炎(SARS)造成299人死亡的悲劇重演。香港當局在延宕多日後終於回應民眾：獲得中央政府同意後，將縮減部分交通口岸。請問：香港無法被稱為一個國家的原因，應是缺乏何項組成要素？ (A)人民 (B)領土 (C)政府 (D)主權。(Ch1)

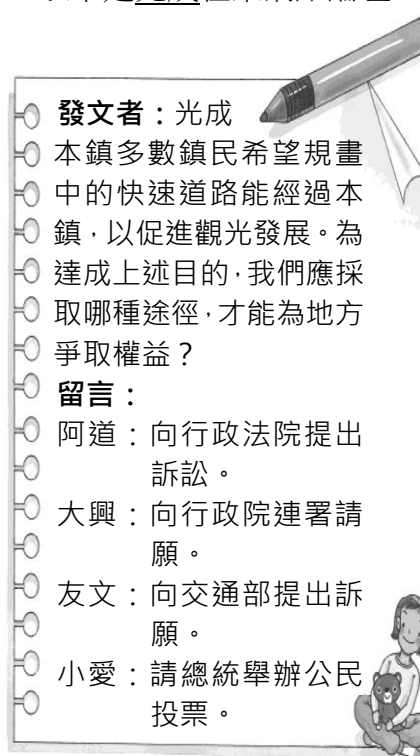
49. 附表為中正國近四任總統大選主要政黨得票率，第十五任總統當選之後，歡樂無法黨結束快樂自在黨自開國以來長達56年的執政。請問：

	歡樂無法黨	快樂自在黨
第十五任總統大選	40.3%	38.7%
第十六任總統大選	40.9%	48.9%
第十七任總統大選	38.1%	48.7%
第十八任總統大選	49.1%	47.8%

上表中資料顯示該國經歷了幾次政黨輪替？(Ch1)

- (A)1次 (B)2次 (C)3次 (D)4次。

50. 以下是光成在某網路論壇上的貼文——



根據內容判斷，他的四位好友的留言，何者最能達成他的願望？ (A)阿道 (B)大興 (C)友文 (D)小愛。(Ch2)