

【讀卡科目請依規定畫卡，若有違反畫卡規定而影響讀卡作業之情事，一律扣總分 5 分。】

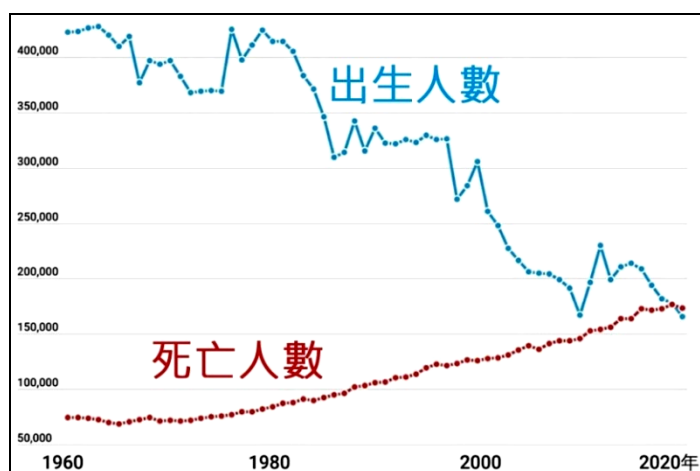
【手寫答案卷需確實寫上班級、座號、姓名，違者一律扣總分 5 分。】

【手寫答案卷需用藍色或黑色墨水筆書寫，違者一律扣總分五分，使用鉛筆書寫扣 5 分。】

## 一、選擇題

1. 下圖是臺灣自1960年以來的出生人數與死亡人數，依據圖示的內容，下列哪一項敘述正確？(P.7)

- (A) 1960年的人口自然增加率約 5‰
- (B) 1980年的人口自然增加數約10萬人
- (C) 2000年的人口成長以社會增加為主
- (D) 2020年的人口自然增加率低於零



2. 四表是北部4個都市2020年的人口變動數據，請問：哪個都市的人口增加數量最多？(P.6)

都市	臺北市	新北市	桃園市	基隆市
出生人數	19,029	26,181	21,444	2,007
死亡人數	17,212	24,500	13,180	3,015
移入人數	117,562	173,605	105,073	16,449
移出人數	163,028	162,002	93,567	16,757

- (A) 臺北市 (B) 新北市
- (C) 桃園市 (D) 基隆市

3. 臺灣婦女平均生育的孩童數量，由1950年的7人逐年下降至2019年的1.05人，有明顯的少子化現象。請問：造成臺灣少子化的原因，包括下列哪一項？(P.7)

- (A) 經濟衰退，無法養育子女
- (B) 衛生條件不佳，新生兒死亡率高
- (C) 晚婚與不婚的現象普遍
- (D) 教育水準下降，缺乏節育觀念

4. 臺灣在1960年代推動人口政策，喊出「兩個孩子恰恰好，一個孩子不嫌少」的口號；1996年後提倡「兩個孩子恰恰好，三個孩子不嫌多」。上述人口政策的調整，都與哪個人口因素有關？(P.7)

- (A) 出生率 (B) 死亡率
- (C) 移入率 (D) 移出率

5. 性別比是表示某地區男性與女性人口數的比例，計算方式為【 $\frac{\text{男性人數}}{\text{女性人數}} \times 100$ 】，下列為2020年1月份臺灣4個行政區的性別比，哪個行政區「女性多於男性」？(P.8)

- (A) 新北市 95.42 (B) 宜蘭縣 101.55
- (C) 雲林縣 107.14 (D) 連江縣 136.71

6. 下圖是臺灣1980年、2010年與2040年預測的扶養比示意圖，根據圖示內容，下列何者敘述正確？(P.8)

扶養比公式為【 $\frac{\text{幼年人口} + \text{老年人口}}{\text{壯年人口}} \times 100\%$ 】



- (A) 1980年的扶養比約60%
- (B) 2010年的扶養比高於2040年
- (C) 2040年每一位壯年人平均扶養7位幼年與老年人
- (D) 歷年扶養比的變化為先升後降

7. 「人口中位年齡」是全體人口年齡排序的中間數，如：2018年非洲人口中位年齡約20歲，即一半人口小於20歲、另一半高於20歲。日本的中位年齡是47.3歲，臺灣為40.7歲，兩地中位年齡均穩定增加中。請問：人口中位年齡增加，與下列哪個社會現象有關？(P.12)

- (A) 新生兒的預期壽命減少
- (B) 老年人口比例增加
- (C) 壯年人需扶養更多的幼年人口
- (D) 壯年人經濟負擔沉重，向海外遷移

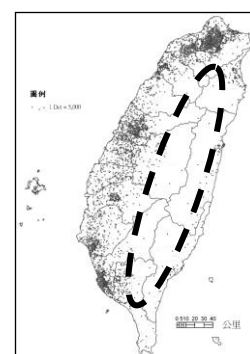
8. 許爸爸敘述了自己的經歷如下表，請問：關於下列內容，何者敘述正確？(P.10~11)

自幼與家人居住在中部的山區，以砍竹子、種菜等低收入的農活維生，決心要謀求更好的生活條件。求學階段來到臺北市，大學畢業後便在收入較高、工作好找的北部工作，進而成家立業，遷居此地。

- (A) 離開中部山區的推力為「較差的環境品質」
- (B) 到臺北市求學是「暫時的國際遷移」
- (C) 臺北市吸引許爸爸的拉力為較佳的「工作機會」
- (D) 由人口密度較高的地區，移居密度較低的區域

9. 右圖是臺灣人口分布點圖，可明顯看出分布不均。圖中虛線包圍的範圍內，人口數量較少的原因是什麼？(P.10)

- (A) 工商業發達
- (B) 缺乏水源
- (C) 開發較早
- (D) 地勢較高



10. 17世紀的大航海時代，在臺灣的荷蘭人稱呼本地最大族群為「福爾摩沙人」，這群人以狩獵維生，有著黝黑的皮膚、刺青，追逐獵物時展現強健的體能；性格友善、忠實且好客。請問：上述的福爾摩沙人是今日的哪個族群？(P.14)

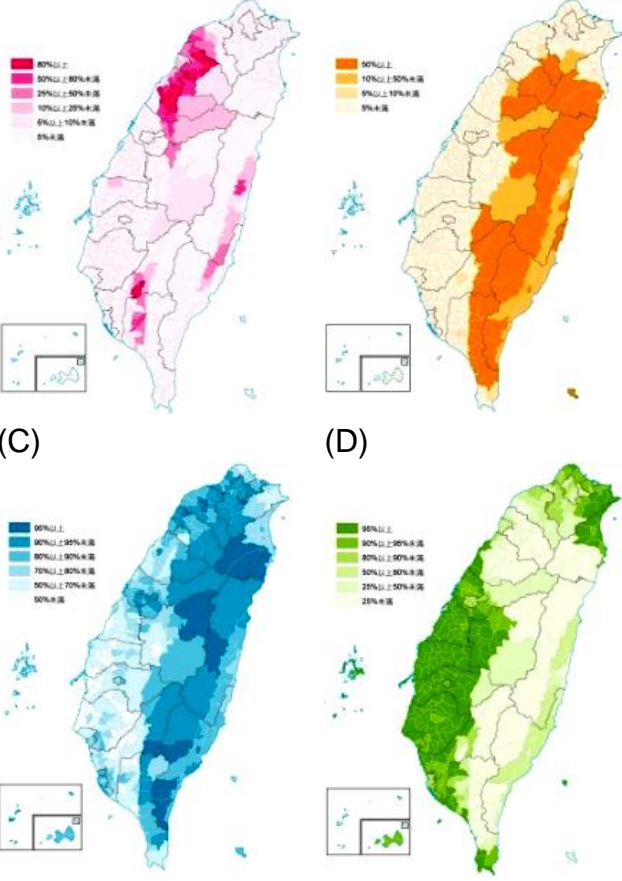
- (A) 原住民族 (B) 來自閩南的漢人
- (C) 新住民 (D) 來自廣東的客家人



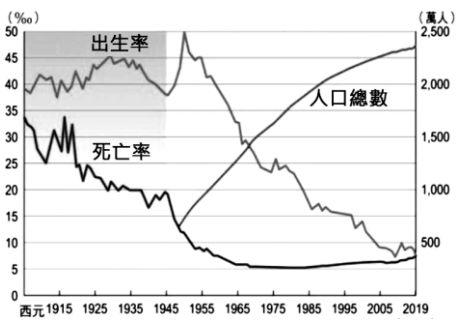
- 11.右圖是臺灣某族群佔各鄉鎮人口的比例圖，顏色愈深代表比例愈高。請問：在圖中比例較高的範圍，最能見到下列哪一個文化現象？(P.14)
- (A)竹子盛裝小米作為傳統主食
- (B)茶葉、芝麻、花生等製作擂茶
- (C)滷肉飯、蘿蔔糕等米食文化
- (D)牛肉麵、饅頭等麵食文化
- 12.下圖是由政府印製的宣導手冊，以中文、越南文對照，發送目的是因應「人口變動趨勢」，協助某族群適應臺灣的生活與文化。請問：上述的人口變動趨勢是什麼？(P.11、15)

附錄目錄		Kèm bảng phụ lục	
附表一：各地方政府旅遊服務中心資訊	238	Phụ lục 1: Thông tin của trung tâm dịch vụ du lịch chính quyền địa phương	238
附表二：各地方政府家庭教育中心資訊	242	Phụ lục 2: Tài liệu và thông tin của trung tâm giáo dục gia đình thuộc cục / văn phòng giáo dục chính quyền quận huyện và thành phố	242
附表三：地方政府社會局(處)新住民家庭服務中心	248	Phụ lục 3: Tài liệu và thông tin của trung tâm dịch vụ gia đình cư dân mới thuộc cục (văn phòng) xã hội chính quyền quận huyện và thành phố	248
附表四：新住民學習中心資訊	268	Phụ lục 4: Tài liệu và thông tin của trung tâm học tập cư dân mới	268
附表五：認識交通標誌	274	Phụ lục 5: Nhận biết biển báo giao thông	275
附表六：移民署服務站資訊	280	Phụ lục 6: Thông tin về địa chỉ và số điện thoại của các Trạm phục vụ ở các huyện và thành phố của Sở Di dân	281
附表七：家庭暴力及性侵害防治中心資訊	284	Phụ lục 7: Thông tin về địa chỉ và số điện thoại của Trung tâm Phòng chống xâm hại tình dục và Bảo vệ gia đình của Chính phủ tại các huyện và thành phố	285
附表八：新住民法律諮詢窗口資訊	292	Phụ lục 8: Thông tin về địa chỉ các địa điểm phục vụ tư vấn pháp luật cho Cư dân mới	293
附表九：各國駐臺機構辦事處資訊	314	Phụ lục 9: Thông tin về địa chỉ và số điện thoại của văn phòng đại diện các nước tại Đài Loan	315
附表十：外交部領事事務局資訊	318	Phụ lục 10: Tài liệu và thông tin của các cơ quan chi nhánh bộ ngoại giao và cục lãnh sự bộ ngoại giao	319
附表十一：外籍人士與國人結婚與歸化流程		Phụ lục 11: Bảng thủ tục đăng ký hộ khẩu và đơn xin nhập quốc tịch Trung Hoa Dân Quốc cho công dân trong nước kết hôn với công dân nước ngoài	

- (A)婚姻關係發生，永久性的人口國際遷移增加
- (B)工作契約生效，暫時性的人口國際遷移增加
- (C)政府獎勵生育，出生率不斷提高
- (D)人口不斷老化，長期照顧需求增加
- 13.客家人是臺灣第二大的漢人族群，人數超過200萬人，主要居住在新竹、苗栗、屏東、花蓮等縣市，環境多為丘陵地帶。請問：下列哪個地圖可正確標示客家人佔多數的位置？(P.15、綜合題)
- (A)
- (B)



- 14.右圖是臺灣自1915年以來的出生率、死亡率與人口總數統計圖，請問：下列4個年代中，哪個的自然增加率最高？(P.7)
- (A) 1915 (B) 1955
- (C) 1985 (D) 2005



- ※15至17題為題組，閱讀下列圖文後回答問題：
- 觀察歷年的人口金字塔可得知人口組成的變化趨勢，並及早應對。以下為不按時間排列的民國50年、70年與107年的人口金字塔，可區分出 3 種類型。
- 高金字塔
- 彈頭型
- 低金字塔
- 15.在高金字塔的階段，臺灣總人口約1820萬，當時0至14歲的男性人數，最接近以下哪個數字？(P.9)
- (A)72.8萬 (B) 290萬 (C)582萬 (D)1165萬
- 16.在彈頭型人口金字塔的階段，老年人口超過7%，達到國際公認「人口老化」的狀況，此時最急需推動的政策是什麼？(P.9)
- (A)廣設小學，讓就學更方便
- (B)成立社區托老中心
- (C)鼓勵提早退休
- (D)增加國中每間教室的座椅，容納更多學生就讀
- 17.依據人口組成的變化趨勢，正確排列3類人口金字塔出現的順序，以下何者正確？(P.9)
- (A)高金字塔 ⇨ 彈頭型金字塔 ⇨ 低金字塔
- (B)彈頭型金字塔 ⇨ 高金字塔 ⇨ 低金字塔
- (C)高金字塔 ⇨ 低金字塔 ⇨ 彈頭型金字塔
- (D)低金字塔 ⇨ 高金字塔 ⇨ 彈頭型金字塔



◎請根據 18~19 題所給的提示，選出最為適當的答案。

18. 提示一：西元 1915 年；

提示二：余清芳；

提示三：日治時期規模最大的武裝抗日事件。

(A)朱一貴事件 (B)西來庵事件

(C)霧社事件 (D)郭懷一事件。(p69)

19. 提示一：清代官方編組的地方自衛組織；

提示二：青壯年男子組成「壯丁團」；

提示三：日治時期輔佐警察和地方機關執行公共事務。

(A)警察制度 (B)理蕃政策

(C)保甲制度 (D)南進政策(p71)

20. 楊大勛在鄉下老家找到一張舊郵票如右列附圖，奶奶告訴楊大勛這張郵票是她的爺爺留給她的紀念品，已有百年以上的歷史，現在可是價值連城的骨董了。請問：這張郵票發行的時間應該是下列何者？(p68)



(A)1895 年 (B) 1919 年 (C) 1937 年 (D)1945 年

21. 羅阿宸有一天在日本統治臺灣的歷史書上看到有一項法律寫著以下的條文：

第一條：臺灣總督在其管轄區域內，得制訂具有法律的效力之命令。

.....

第五條：現行法律或將來應頒布之法律，如其全部或一部分有施行於臺灣之必要者，以敕令定之。

請問從以上的資料判斷，日本政府所制訂的法律為下列何者？

(A)三一法 (B) 六三法

(C)三六法 (D)臺灣民主國律令。(p68)

22. 寸小真是生活在日治時期的臺灣人，右圖為寸小真當時在臺灣的生活遭遇。關於右圖的描述，下列哪一個選項是錯誤的？

我不喜歡改名為真子，也討厭穿和服到神社參拜。



哥哥被徵召到南洋打仗，希望可以平安歸來。



(A) 當時為第一次世界大戰爆發，寸小真的哥哥被日本徵召到南洋地區打仗；

(B) 這段時期的臺灣總督由武官擔任；

(C) 日本當時在臺灣推行的政策「皇民化運動」；

(D) 日本於此一時期鼓勵臺灣人民說日語、改日姓、拜神社等日本風俗和禮儀。(p70)

23. 黃小祐在圖書館中看到一本書上提到日治時期某一種人的行為：「他們平時除施行高壓、打罵慄悍，大多負責盡職，是塑造他們形象威嚴的一大原因。他們人數不多，兩三個，但天天梭巡，對地方上大小事與人，都瞭若指掌。在鄉村，其地位還在地方名士之上，被稱作『大人』。」請問根據上面文字的描述，黃小祐在書上看到的應是指下列何人？

(A)天皇 (B)總督 (C) 保正 (D) 警察。(p71)

24. 「李毅·巴萬記得小時候山上來了一群衣著奇怪的人，他們被部落長老喝斥一頓以後無奈地離開，之後下山的道路就被鐵絲網封住。又過了好多年，那群人又來了，這

次伴隨武器，不服從者被暴力對待不得不屈服，服從的部落則獲得醫藥資源、學校資源等，但最讓族人憤慨的是這群人入侵獵場，肆意砍伐森林，又逼迫族人做苦力，導致大家心生不滿，後來聽說隔壁部落的頭目莫那魯道率領六部族人一起叛變，最後在山林裡壯烈犧牲，事情愈演愈烈，還鬧上國際新聞，使日本政府受到輿論譴責。」而以下選項是關於上文的敘述，請問哪一個選項是正確的？

(A)上文中衣著奇怪的人指的是清朝政府的代表

(B)李毅·巴萬小時候部落的轉變是因為當時政府開始推動「理蕃政策」

(C)隔壁部落的頭目莫那魯道是屬於賽夏族的原住民

(D)莫那魯道所率領的原住民叛亂事件為「牡丹社事件」。(p72)

25. 林阿好於寒假時參加南投公益小旅行，參觀位於南投水里的大觀發電廠，發現大觀發電廠的前身為日月潭水力發電所，最早興建於日治時期，整個工程將濁水溪與日月潭連貫起來，形成一個完整的水利供電系統。請問當時日本興建日月潭水力發電所，是由於下列哪一政策的實施？

(A)農業臺灣，工業日本 (B)農業南洋，工業臺灣

(C)日臺合一

(D)土地與林野調查。(p80)

26. 林小喬在網路上搜尋日治時期的臺灣時，看到下面一段文字：「西元 1912 年，甲博士奉命來臺，將臺灣米與日本米配種實驗，耗費多年而創造出新品種『臺灣乙米』，氣味可口遠勝『在來米』，而且使臺灣稻米的輸日數量因而激增。」請問上面文字中的甲和乙應填入下列何者比較恰當？

(A) 甲：八田與一，乙：關山；

(B) 甲：後藤新平，乙：蓬萊；

(C) 甲：磯永吉，乙：蓬萊；

(D) 甲：伊藤博文，乙：池上。(p80)

27. 請問日本殖民統治時期，為了利用臺灣的資源，日人在臺的基礎建設有哪些？(甲)人口普查；(乙)整建臺中港；(丙)土地調查；(丁)完成環島鐵路；(戊)普遍設立郵政、電報、電話等。

(A)甲乙丙丁 (B)甲乙丙丁戊

(C)甲乙丙戊

(D)甲丙戊。(p76,77)

28. 『西元 1919 年 8 月，臺灣總督田健治郎，在上任時發表施政方針：「如果臺灣成為帝國領土的一部分，當然隸屬帝國憲法統治的版圖。不能和英、法諸國的殖民地一視同仁，所以，統治方針要以這個大精神為出發點，推行各項設施經營，使本島民眾成為純然的帝國臣民，應教化善導，使馴其向我朝廷忠誠，涵養對國家之義務觀念。」』請問下面選項當中有關於上文的描述，哪一個選項是錯誤的？

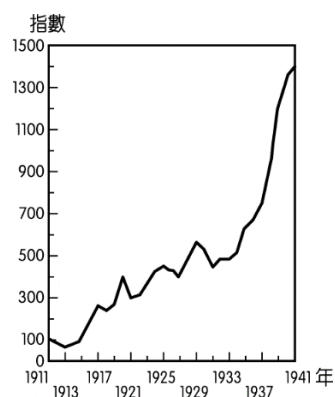
(A) 田健治郎是屬於文官總督；

(B) 當時日本在臺灣所推行的統治政策為「內地延長主義」；

(C) 此一統治政策的推行是受到國際間「民族自決」風潮的影響所導致；

(D) 此一政策實施後，臺灣人開始被視同為日本人，享有與日本人相同的權利與義務。(p69)

29. 附圖為 1911~1941 年臺灣輕工業生產指數圖。由圖中資料可知，1930 年代以後，臺灣輕工業生產指數大幅上升，與下列何者有關？



- (A) 日本政府推動皇民化運動  
(B) 總督府積極發展臺灣的糖業  
(C) 配合日本的「南進政策」，試圖將臺灣建設成南進的補給基地  
(D) 基隆到高雄的西部縱貫鐵路完工通車。(p80)
30. 附圖是歷史老師帶來跟同學們分享的紙鈔，並且希望班上同學討論紙鈔存在的歷史背景。請問下列四位同學當中，何人的說法較符合史實？



- (A) 賴小諭：「這應該是清末劉銘傳時期發行的貨幣。」  
(B) 鄧阿宜：「我覺得是荷蘭聯合東印度公司在大員發行的貨幣。」  
(C) 林小穎：「我想這可能是日治時期設立的臺灣銀行發行的貨幣。」  
(D) 周阿甄：「這是國民政府接收臺灣後，為取代日幣發行的貨幣。」(p76)
31. 「西元 1895 年是決定臺灣命運的一年。4 月分的臺灣，春天降臨，然而卻充滿了惶惑與不安，因為對岸的祖國，在 甲 戰爭戰敗後，已將臺灣拋棄。面對新來的主人 乙 國和臺灣未卜的將來，臺灣巡撫 丙 在府衙中一籌莫展。」請問根據上文中的敘述，敘述中的 甲、乙、丙 應填入下列何者比較恰當？
- (A) 甲：甲午，乙：日本，丙：唐景崧；  
(B) 甲：牡丹社事件，乙：日本，丙：沈葆楨；  
(C) 甲：甲午，乙：日本，丙：丘逢甲；  
(D) 甲：中法戰爭，乙：法國，丙：劉銘傳。(p68)
32. 小蓉老師在假日的時候跟朋友到烏山頭水庫風景區遊玩，看到一座衣著樸素的全身銅像豎立在園區當中，這座銅像是日治時期規模最大水利工程的设计建造者。請問這座銅像所紀念的人物是誰？以及他所設計的水利工程為何？
- (A) 後藤新平，嘉南大圳 (B) 磯永吉，八堡圳  
(C) 莫那魯道，瑠公圳 (D) 八田與一，嘉南大圳 (p79)
33. 有一位英國商人詹姆士·新仁在西元 1915 年時來到臺灣經商，請問他當時可能會經歷下列哪一種體驗？
- (A) 從臺北乘坐火車到高雄，前往橋仔頭糖廠參觀  
(B) 參觀已經完工的嘉南大圳灌溉嘉南平原的土地  
(C) 他可任意開發無主山林地，來獲取珍貴的森林資源  
(D) 他聽到臺灣南投仁愛鄉發生了「霧社事件」，造成原住民死傷慘重。(p72,76)
34. 根據以下的資料，請問何者敘述正確？

資料一：第一憨，種甘蔗予會社磅。

資料二：1905 年 6 月臺灣總督府規定：為制止各製糖工廠間的原料爭奪，避免擾亂蔗價，各蔗作區畫定一定範圍的區域。此區域內的甘蔗未經許可，不得運

出區域之外，或供作砂糖以外成品的製作原料。

- (A) 資料一的「會社」指的是外國商人成立的洋行  
(B) 資料二的規定，可保障日本人投資的糖廠，使其可低價收購甘蔗原料  
(C) 這是在臺灣總督府實施「工業臺灣，農業南洋」政策下的措施  
(D) 根據資料一可得知當時臺灣蔗農受到當時政府的保障。(p78)
35. 亞軒為了完成以「文化」為主題的公民報告，在網路上搜尋相關資料，發現不僅經濟高度發展的國家有文化，低度開發的部落也有文化。請問：亞軒所觀察到的文化特性與下列何者相同？(p.124)
- (A) 為了適應當地氣候，住在沙漠的人會穿長袍、戴頭巾，住在雪地的人會穿厚重保暖的防寒衣  
(B) 世界各國大多有慶祝新年到來的習俗，有些是聚集在教堂祈禱祝福，有些會在街頭唱歌跳舞狂歡，有些則與家人團圓守歲，祈求平安度過舊的一年，順利開展新的一年  
(C) 打招呼時，非洲馬賽族族人是在對方臉上「呸」的，吐一口口水。而傳統的巴拉圭人則是開心地在對方臉上打一巴掌  
(D) 受到地理環境影響，亞熱帶地區發展出騎樓或拱廊建築，高緯度地區的建物則多採傾斜式屋頂設計
36. 下列四位同學正在分享對「文化」概念的理解，哪一位的說明最為正確？
- (A) 小東：文化具有普遍性，並非人類社會所特有的現象  
(B) 小西：文化是社會長期累積的經驗，有高低優劣之分  
(C) 小北：文化是人類為因應生存需要而產生  
(D) 小南：文化包含人類生活的全部，舉凡浩瀚宇宙、藝術創作、典章制度等皆是文化的展現 (p.124)
37. 文化現象滲透於人們日常生活中的每一個環節，依照臺灣社會的現況，下列哪一項不屬於主流文化？
- (A) 環保愛地球 (B) 重視孝道精神  
(C) 慣用火星文 (D) 崇尚民主自由 (p.125)
38. 下列有關「主流文化」與「次文化」的敘述，何者正確？
- (A) 次文化是個別群體所展現的生活方式，較主流文化更具有獨特性  
(B) 相較於主流文化，次文化是發展較為落後的文化  
(C) 面臨不同文化價值衝突時，應以主流文化作為判斷依據  
(D) 次文化的內容與主流文化並無共通性，故能促進文化多樣性 (p.125)
39. 歷史課時，老師提到日本在統治臺灣期間建立嚴密、完整的戶籍、地籍制度，並鼓勵臺灣人改成日式姓名。日治時期結束，臺灣省行政長官公署頒布「臺灣省人民回復原有姓名辦法」，規定已改為日式姓名者，恢復原有的命名；至於原住民如無原有姓名可回復者，也應依規定更改為中國姓名。根據上述內容，此時期政府的政策展現何種文化內涵？
- (A) 保留原住民傳統姓名文化  
(B) 更改原住民姓名展現文化創新  
(C) 為減緩本省人民與原住民姓名差異所形成的文化衝突  
(D) 規定改為中國姓名隱含文化位階概念 (p.126-127)



40. 幾位同學正在討論自己平常收聽的音樂，根據他們的對話內容，可觀察到下列何種文化現象？
- 小茗：南韓音樂就是厲害，女團跳舞都很好看

小彥：韓劇配的主題曲超好聽，很多首我都會唱

小瑋：大家都在聽韓文歌，聽臺語歌、客家歌謠的應該是異類吧
- (A)一國經濟發展程度影響其文化水準高低
- (B)在地傳統文化因本質低俗而漸遭淘汰
- (C)外來文化較為優越，在地傳統文化應追隨其腳步向上提升
- (D)強勢文化透過資源優勢危及在地文化的自我認同(p.126)
41. 108 新課綱將 7 國東南亞新住民語言納入國小「必選」，引發部分家長質疑「孩子學英文的時間都沒有了!」、「從來沒有一個國家，語言要配合新住民!」、「母語在家學不就好了?」。請問：網路上這些言論顯示下列何種文化觀念？
- (A)多元文化 (B)文化相對主義
- (C)我族中心主義 (D)次文化 (p.128)
42. 隨著資訊及文化交流活動的頻繁，世界各地的文化紛紛在臺灣社會相互激盪，也帶給國人相當大的衝擊與震撼。面對上述現象，以下哪一項態度較為合宜？
- (A)固守傳統文化，鄙棄強勢文化
- (B)保護本土文化，排斥外來文化
- (C)批評傳統文化，接納強勢文化
- (D)立足本土文化，包容外來文化 (p.128-129)
43. 只要是群體生活，就會有規則提供成員遵守，比如：班有班規，校有校規，社會則有社會規範。下列關於「社會規範」的敘述，何者正確？
- (A)任何社會規範都能發揮穩定社會的力量
- (B)社會規範是自然界所有生物都應遵循的行為準則
- (C)社會規範易隨時空不同而改變，當社會越進步，社會規範也就越不重要
- (D)社會規範約束力強，會阻礙個人成長與社會發展 (p.132)
44. 日本電影「送行者：禮儀師的樂章」講述某位年輕人在大提琴事業上失敗後回到故鄉，意外的開始從事傳統祭祀禮儀師的工作，片中藉由主角從抗拒到最後自信投入，描述入殮儀式的過程與「讓亡者踏向來生之旅」的重要意義。小芳針對電影中的儀式進行附表的歸納整理，其中哪一個部分出現了錯誤？
- | 項目         | 有 | 無 |
|------------|---|---|
| (甲) 長時間累積  |   | ✓ |
| (乙) 約束外在行為 | ✓ |   |
| (丙) 公權力制裁  |   | ✓ |
| (丁) 強制力    |   | ✓ |
- (A)甲 (B)乙
- (C)丙 (D)丁 (p.133)
45. 小翔假日和家人出遊，在火車上看到宣導標語寫到「請優先讓座給需要的旅客」，請根據社會規範的概念判斷，下列敘述何者正確？
- (A)此標語的規範和「人在做，天在看」屬於相同類型
- (B)此標語的規範被視為最低限度的行為準則
- (C)此標語的規範是人類社會最早發展出來的社會規範形式
- (D)若違反此標語的規範將會受到良心譴責 (p.133-136)

46. 下列是四位同學對於「社會規範」的說明，其中何人的闡述較為正確？
- (A)欣怡：各種社會規範皆具有強制力
- (B)小清：一個人的行為若違反道德，必定也違反法律
- (C)仁杰：宗教信仰是透過立法機關制定的條文來約束個人行為
- (D)阿志：法律無法規範每一生活細節，須靠其他規範協助約束內在良知 (p.134-136)
47. 會考前，學校會為學生準備包子和粽子並到附近廟宇拜拜，取其諧音「包中」，祈求學生進入理想學校，請問此舉動呈現了哪些社會規範？
- (A)宗教信仰、倫理道德 (B)風俗習慣、宗教信仰
- (C)倫理道德、風俗習慣 (D)法律、宗教信仰 (p.133-136)
48. 下圖是小昱在公民課上製作的關於社會規範的比較表，但裡面有一些內容需要修正，請問：就他所抄寫的內容中，只有哪一項是正確的？ (p.136)
- |         | 法律        | 風俗習慣、宗教信仰、倫理道德 |
|---------|-----------|----------------|
| (A)產生方式 | 長期累積、自然形成 | 透過一定程序制定而成     |
| (B)作用   | 僅規範外在行為   | 規範人的外在行為及內在良心  |
| (C)強制力  | 有強制力      | 有強制力           |
| (D)處罰方式 | 社會輿論批評    | 國家公權力介入        |
49. 胖虎騎乘家中的機車上街，經交通警察臨檢發現他無照駕駛，依法被開處罰單且扣留機車牌照，並通知胖虎的父母將車子取回。上述警察機關的做法，最能彰顯法律的哪一項特徵？
- (A)法律無法約束人民的外在行為
- (B)法律明確規定人民應該遵守的事項
- (C)國家可以強制力來處罰違反法律者
- (D)國家須依照一定的程序來制定法律 (p.136)
50. 社會規範對個人具有約束效果，附圖中兩人所展現的社會規範具有以下何種特色？
- (A)是民眾相沿成習的慣例
- (B)具有啟迪個人內在良知的作用
- (C)是人與人之間相處的行為準則
- (D)具有強制力 (p.134)

