

【讀卡科目請依規定畫卡，若有違反畫卡規定而影響讀卡作業之情事，一律扣總分五分。】

【手寫答案卷需確實寫上班級、座號、姓名，違者一律扣總分五分。】

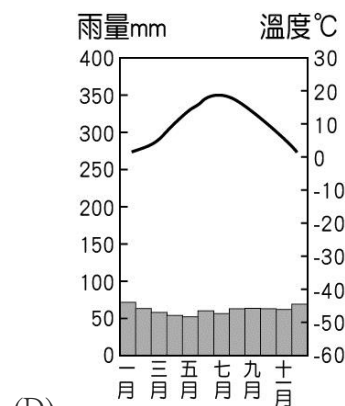
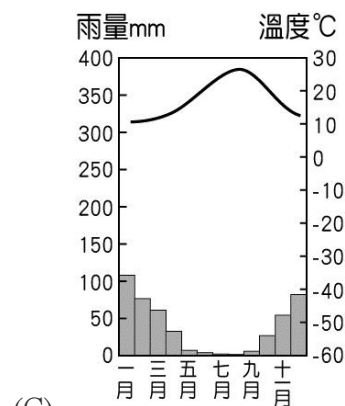
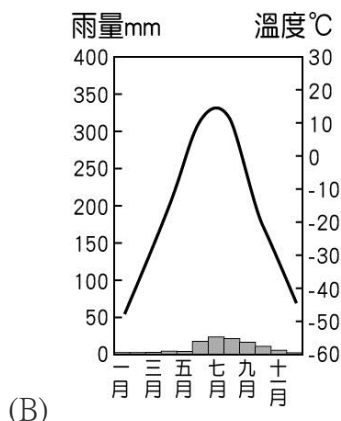
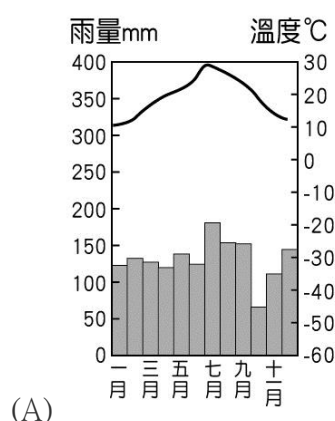
【手寫答案卷需用藍色或黑色墨水筆書寫，違者一律扣總分五分，使用鉛筆書寫扣五分。】

一、 選擇題

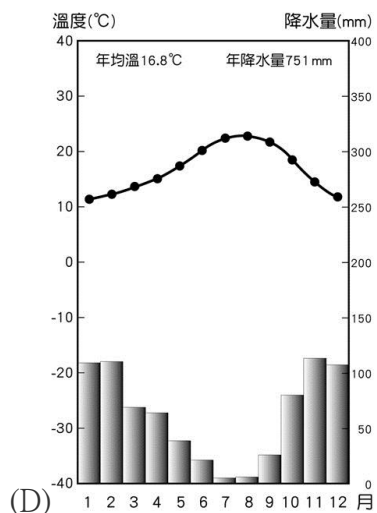
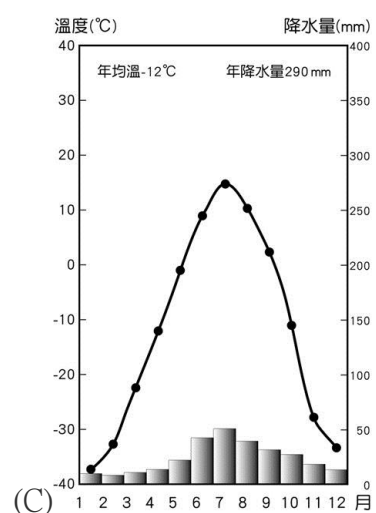
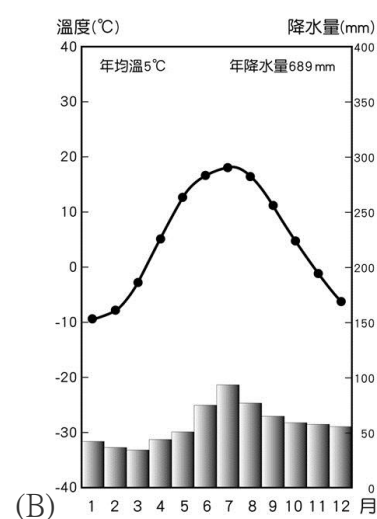
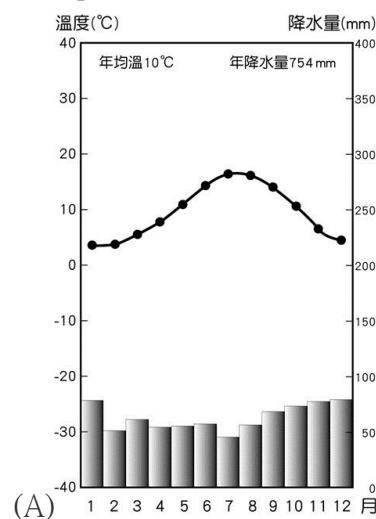
- 阿甘找到一張古老的地圖，上面標示寶物埋藏的地點在北海周圍的陸地上，請問：阿甘依循地圖到北海尋寶，下列哪一個國家不是他尋寶的地點？(A)荷蘭 (B)愛爾蘭 (C)挪威 (D)丹麥。(p.30)
- 近期新聞報導：「沙烏地阿拉伯國王沙爾曼率領千人代表團訪問 X 國，並與 X 國簽訂多項金額龐大的貿易與投資協議，其中包括價值 30 億美元的武器交易協議與價值 10 億美元的能源投資協議等。沙爾曼表示，這兩個全球前十大石油出口國未來將繼續合作，以穩定全球石油市場。」，請問：已知文中 X 國除了石油豐富之外，還是全球最大的天然氣出口國，下列何者最可能是 X 國？(A)法國 (B)俄羅斯 (C)英國 (D)瑞典。(p.49)
- 下列關於俄羅斯氣候的敘述，何者正確？(A)太平洋是主要的水氣來源，因此東側形成濕潤的溫帶海洋性氣候 (B)俄羅斯北面臨海，沿海地區為降水量最豐富的地區 (C)因氣候寒冷，北極海沿岸的植被以苔原為主，西伯利亞南部則多針葉林 (D)俄羅斯位居高緯地區，以乾冷、年溫差小的溫帶大陸性氣候為主。(p.47)
- 老皮在歐洲旅遊時拍了一張照片，如附圖所示。已知圖片中的地形在中國廣西也可見到，請問：根據地形特徵判斷，老皮可能是去哪一個區域旅遊？(A)東歐 (B)西歐 (C)北歐 (D)歐俄。(p.42)



- 每年在法國舉行的坎城影展，紅地毯上身著華服的大明星們成為鎂光燈的焦點，為這個位於法國南部的濱臨海洋城市增添風情。請問：下列哪一個最可能是坎城的氣候圖？(p.31)



- 伊斯蘭教的穆斯林在約六月中旬時，會有為期一個月的齋戒月，必須遵守白天禁食的戒律，只有日出前和日落後才得以進食。請問：下列哪一個國家的穆斯林禁食的時間最長？(A)英國 (B)丹麥 (C)瑞士 (D)冰島。(p.30、p.37)
- 阿寶預計暑假到莫斯科旅遊，於是在網路上搜尋了莫斯科的氣候圖，請問：以下哪一個是阿寶搜尋到的氣候圖？(p.43)



- 萊因河和多瑙河常常被拿來比較，多瑙河的航運價值遠不如萊因河重要，其主要原因為何？(A)沿岸地形崎嶇 (B)河流長度較短 (C)出口流向不佳 (D)流經國家較少。(p.43)

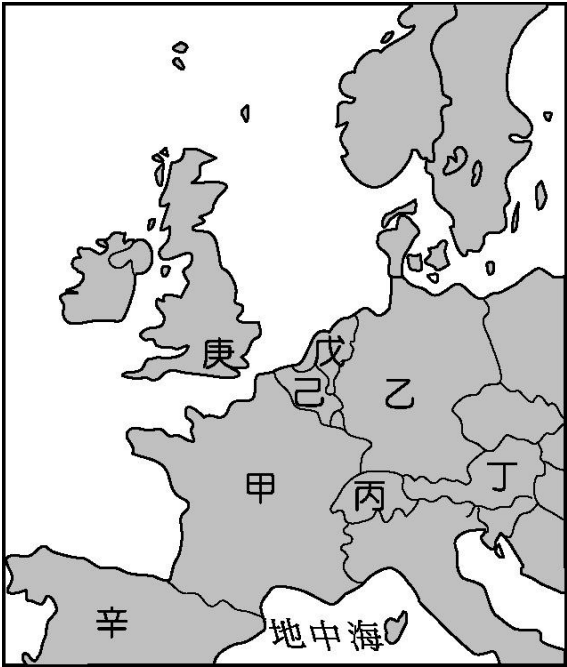
9. 附圖為俄羅斯地圖，下列關於各區的敘述何者正確？
(A)甲：自然環境較佳，為人口稠密的精華區 (B)乙：以高原地形為主體，有豐富水力資源 (C)丙：為高聳的山地，多火山地震 (D)丁：地形平坦，是農業精華區。
(p.46~p.49)



10. 下表是中央大運河與京杭大運河的比較，下列何者正確？ (p.34)

名稱	中央大運河	京杭大運河
(A) 國家	法國	中國
(B) 地勢	南低北高	西高東低
(C) 主要河川流向	南→北	東→西
(D) 運河方向	東西向	南北向

- ◎ 附圖為歐洲西半部簡圖，請回答 11、12 題：



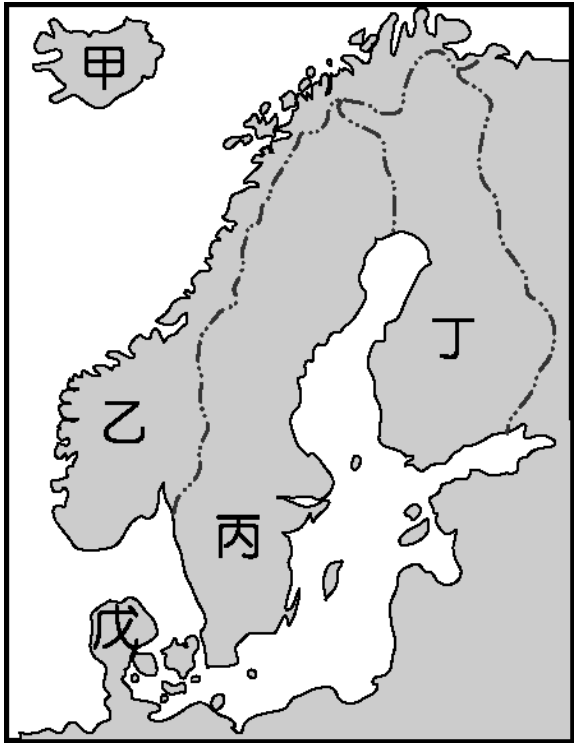
11. 阿達想要以萊因河的源頭為出發點，沿著流路上的國家旅遊，最後抵達河川的出海口，請問：他的起點與終點各是哪一個國家？(A)丙、戊 (B)甲、己 (C)丁、己 (D)甲、戊。(p.31)
12. 大鼻在旅遊網站看到一段旅遊介紹，如附表所示，請問：文宣是在介紹下列哪一個國家？(A)甲 (B)丙 (C)丁 (D)戊。(p.36)

特色一	坐擁阿爾卑斯山的湖光山色，廣大的滑雪場地吸引眾多愛好滑雪的人士前來一展身手。
特色二	銀行獲得世界各地富豪們的信賴。
特色三	身分地位象徵的勞力士錶顯示精密的製作水準。

- ◎ 最近加泰隆尼亞獨立議題備受關注，這凸顯出長期以來歐洲存在著國內特定區域的獨立問題，請閱讀下列相關例子並回答 13、14 題：

13. 比利時聯邦政府根據語言族群而設立了三個社區，同時又設立了三個行政區，即瓦隆區、弗拉芒區和布魯塞爾-首都區，社區和行政區互相覆蓋，分工明確。其中一個語言區除了爭取更多在文化上的自主，目前他們最大的政黨-中間偏右的新法蘭德斯聯盟 (N-VA)，還以逐步朝向獨立發展為主要政見。請問:以比利時的地理位置判斷，北半邊和南半邊的語言區各是什麼？(A)法、荷 (B)法、德 (C)荷、法 (D)德、法。(p.30)
14. 在 2014 年 9 月 18 日那一天，蘇格蘭舉行了獨立公投，想要脫離英國獨立，但最終 55.8% 的蘇格蘭人民選擇了繼續留在英國。據媒體報導，蘇格蘭有獨立的自信是因為世界聞名的 X 油氣田布倫特產區，蘇格蘭的 X 承擔著英國將近一半的能源供應，石油儲量相當於 30 億—40 億桶。英國政府曾表示，X 將在未來 20 年為英國帶來 3300 億美元的收入。請問:X 可能為下列哪一個海域？(A)大西洋 (B)北極海 (C)北海 (D)波羅的海。(p.32)

- ◎ 附圖為北歐簡圖，請回答 15~17：



15. 在旅行社工作的亭亭正在規劃歐洲之旅，以下是他對圖中國家下的標題，請問：下列哪一個配對是正確的？
(A)甲：千湖之國 (B)乙：峽灣之國 (C)丙：歐洲牧場 (D)丁：日不落國。(p.38)
16. 莉莉在網路上看到一幅國旗，網頁上註解：「北歐五國的國旗，中間都是十字形，這十字又稱為斯堪的納維亞十字，不僅象徵著主要的信仰，也代表著雖然各自獨立但都認同斯堪的納維亞文化，國旗上不同的顏色有著各國的意義，像是 X 國的白、紅、藍，分別象徵著冰雪與火山以及大海。」，請問：依據顏色的象徵意義判斷，X 國最可能是下列哪一個國家？(A)甲 (B)乙 (C)丙 (D)丁。(p.39)
17. 酷蒂在國際貿易相關網站上看到一份資料，如附表所示，請問:依據表中內容判斷，這是屬於哪一個國家的資料？(A)甲 (B)乙 (C)丁 (D)戊。(p.39)

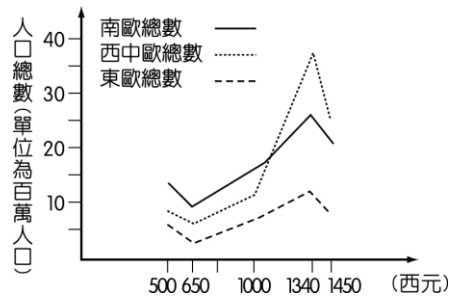
主要出口項目	醫藥品、一般工業機械、動力機械、肉類、成衣、雜項製品、電力設備、魚及海鮮、石油及其製品、特殊工業用機械
主要出口市場	德國、瑞典、美國、英國、挪威、中國大陸、荷蘭、法國
主要貿易港	哥本哈根自由港

18. 索爾在上課時列出一張比較表。請問歐洲政治體制自上古時期歷經中古發展至近代，其演變情形依甲→乙→丙應為何者？ (A)大帝國→王權國家→封建王國 (B)封建王國→王權國家→大帝國 (C)王權國家→大帝國→封建王國 (D)大帝國→封建王國→王權國家。(P.103、117)
- | | | | |
|----|------|-------|---------|
| ＼ | 政治體制 | 分布地區 | 代表國家 |
| 上古 | 甲 | 地中海沿岸 | 羅馬帝國 |
| 中古 | 乙 | 歐洲大陸 | 神聖羅馬帝國 |
| 近代 | 丙 | 大西洋沿岸 | 英、法、西、葡 |
19. 一位傳教士描寫他在一個殖民地上看到的現象：「這些魔鬼在廣大的土地上進行蹂躪、破壞、殺戮，那裡原先是一片安樂景象，有美麗的大省、寬廣的谷地、可愛的區域、很大的村莊，人口眾多、黃金豐富。他們對各個民族趕盡殺絕，不留下任何說別種語言的人，只有那些逃進山洞或地洞的人才逃脫這殘酷可憎的命運。他們採用種種奇異、極端殘忍、不公正與褻瀆宗教的手段，屠殺、毀滅了這些無辜的人民。」請問這是指哪一個國家對哪一個殖民地的掠奪？ (A)西班牙對南美洲 (B)荷蘭對印尼 (C)日本對臺灣 (D)英國對印度。(P.118)
20. 某位學者在其著作中說到，某民族對近代歐洲科學發展的影響為：「如果說印度的科學家使數學進步，那麼□□的貢獻則是加以延展這些進步，並矯正其錯誤之處。」請問文中的□□應該填入何者才正確？ (A)羅馬人 (B)阿拉伯人 (C)法蘭克人 (D)斯拉夫人。(P.109)
21. 「東羅馬帝國的皇帝在宗教上有『等同使徒』的頭銜，可以任免主教和獎懲教士。他也直接介入教會的教義和崇拜問題，有一些大公會議均由皇帝召開並主持」，以上敘述反映東羅馬帝國歷史上的哪一現象？ (A)政教衝突 (B)基督教式微 (C)教權至上 (D)政教合一。(P.107)
22. 戰爭帶來破壞、死亡，但是戰爭有時又是民族文化交流的催化劑，史上11~13世紀有哪一戰爭，正是扮演著這項角色，促成了東西文化的交流？ (A)英法百年戰爭 (B)鄂圖曼帝國滅東羅馬 (C)十字軍東征 (D)蒙古西征。(P.110)
23. 有一本書，據說是路易十四每晚必讀的書籍，也是拿破崙和希特勒力量的泉源，是哪一本書使眾多統治者如此欣賞呢？ (A)《神曲》 (B)《君王論》 (C)《天方夜譚》 (D)《唐吉訶德》。(P.115)
24. 查士丁尼在位時期，是羅馬帝國最後一段光榮輝煌的時期，史稱「查士丁尼時代」。查士丁尼以羅馬皇帝自居，一生的最大心願，在恢復羅馬帝國過去的光輝，為此，他擬定了四項政策：(甲)以武力收復西方失地，完成歐洲政治統一；(乙)修訂法律、整理法學，完成法治的統一；(丙)排斥異端，扶持正統，完成歐洲宗教的統一

- ；(丁)美化君士坦丁堡並興建聖索菲亞教堂，顯示帝國的繁榮與富強。在這四項中，哪些政策不僅在當時實現，且延續至拜占庭帝國統治的末期？ (A)甲丙 (B)丙丁 (C)甲乙 (D)乙丁。(P.106)
25. 某一時代的人們特別熱衷於古典人物，稱羅馬廢墟雖為「一堆古代廢物，但卻常刺激我們，予我們新的近代精神！」請問這應是哪一時代的特色？ (A)文藝復興 (B)宗教改革 (C)科學革命 (D)啟蒙運動。(P.114)
26. 下列何者是中古社會中安定社會的力量？ (A)基督教會(B)封建諸侯(C)各國君主(D)莊園領主。(P.105)
27. 《聖經》有言：「富人上天堂，比駱駝穿針孔還難。」這句話似乎意謂著若想要讓靈魂進天堂，則必須拋棄財富。但這種看法後來被何人所打破？ (A)馬丁路德 (B)穆罕默德 (C)喀爾文 (D)羅耀拉。(P.120)
28. 發生於中古後期的英法百年戰爭，對歐洲歷史發展影響深遠。下列哪一項敘述不在其內？ (A)英法長期糾葛的封建關係結束，各自朝獨立、統一之途邁進 (B)在戰爭中刺激了國民意識與國家認同，戰後各自朝向民族國家的路途發展 (C)戰後兩國的王權都得到提升，由封建邦國走向君主專制主義 (D)對外的戰爭激發國內的團結，百年戰後不再有內戰發生。(P.116)
29. 右圖是基督教兩次分裂的示意圖，圖中哪些代號是指「天主教」？ (A)甲丙 (B)甲丁 (C)乙丁 (D)乙丙。(P.121)
- ```
graph TD
 A[基督教] --> B[羅馬公教]
 A --> C[希臘正教]
 B --> D["(甲)"]
 D --> E[舊教]
 D --> F[新教]
 E --> G["(丙)"]
 F --> H["(丁)"]
```
30. 西方中世紀時普遍仍認為阿拉伯人是野蠻的異教徒，十字軍東征更是教會灌輸大眾為神對抗異教徒的觀念，將穆斯林全都描繪成落後的蠻夷，以此來號召人們投入戰爭，但多虧他們對知識的保存，歐洲才擺脫中世紀的愚昧。請問以下關於阿拉伯人的影響，何者正確？ (A)唐朝稱阿拉伯帝國為「大秦」 (B)阿拉伯帝國的擴張，使伊斯蘭教迅速傳播 (C)阿拉伯人發明的數字一直沿用到現在 (D)中國印刷術經由阿拉伯人傳播，開啟了大航海時代。(P.108)
31. 義大利的威尼斯、佛羅倫斯等地，因控制地中海和黑海的商道，成為資本雄厚的商業城市，推動了早期的文藝復興，但自16世紀中期以後，商貿價值日減，其經濟地位漸為大西洋岸的里斯本等城市取代，主要原因是 (A)義大利文藝復興沒落 (B)地理大發現的影響 (C)土耳其人阻擋商道 (D)重商主義沒落。(P.119)
32. 洛基因為對撲克牌上的國王牌感到好奇，於圖書館查閱後，發現每一張K代表的都是古代偉大的領導者。其中紅心K的查理曼是 (甲) 法蘭克王國的國王，在位時積極對外擴張，國力鼎盛，(乙) 稱自己為羅馬人的皇帝，努力 (丙) 推廣拉丁文與基督教；由於國家的繁榮與強大，在他死後 (丁) 國家持續維持遼闊國土並強盛幾百年。請問上述劃線內容何者有誤？ (A)甲丙 (B)甲丁 (C)乙丁 (D)乙丙。(P.103)

★請依據圖表回答問題：

33. 造成表中第一次人口減少的原因「不」可能是下列何者？ (A)日耳曼人南下造成文明破壞 (B)戰爭的屠殺 (C)經濟的衰退 (D)伊斯蘭教徒入侵。(P.102)



34. 承上題，造成表中第二次人口銳減的主要原因為何？ (A)英法百年戰爭 (B)蒙古西征 (C)黑死病 (D)迫害巫術的熱潮。(P.111)
35. 根據經濟活動循環圖，消費者將所得用於購買產品的消費支出，會成為下列何者？ (A)生產者的銷貨收入 (B)生產者的生產成本 (C)生產要素市場者的銷貨收入 (D)生產要素市場的生產成本。(p.169)
36. 逸馨在公民課所寫的「國際產業分工與貿易活動」筆記當中，有一處錯誤，請逸馨幫找出為下列何者？ (A)可引進其他國家的技術、資金 (B)可進口國內缺乏的原料和機器設備 (C)導致產業競爭力降低 (D)消費者的選擇增加。(p.180)
37. 在自由市場，各國除專業化分工、各司其職外，還必須從事下列哪項活動，才能享受國際分工帶來的好處？ (A)消費 (B)交易 (C)投資 (D)儲蓄 (p.180)
38. 在臺灣，下列各項產品的價格，是由「商品的價格透過市場供需雙方共同決定」決定？ (甲)換季時的服裝售價 (乙)網拍購物的結標價 (丙)國民中學的學雜費 (丁)行動電話的通話費 (A)甲乙丙 (B)甲乙丁 (C)甲丙丁 (D)乙丙丁 (p.168)
39. 我國在西元2010年與中國簽訂了《兩岸經濟合作架構協議》，其主要內容達成哪方面的協議？ (A)文化交流 (B)打擊犯罪 (C)自由貿易 (D)綠色消費。(p.181)
40. 哈比國位在一個海島上，使用貝殼作為全國通行的貨幣。下列關於哈比國貝殼的敘述，何者正確？ (A)哈比國採取以物易物的交易方式 (B)由私人銀行負責發行 (C)具有交易媒介的功能 (D)貝殼產量未受管制。(p.172)

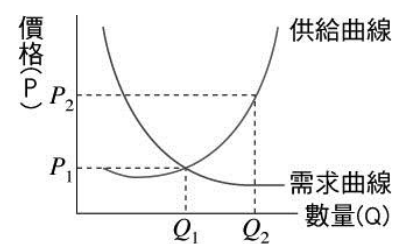
41. 以下是甲國銀行連續五日的外匯公告牌價的顯示表

| 日期   | 甲國貨幣 | 乙國貨幣  |
|------|------|-------|
| 10.2 | 1    | 30.12 |
| 10.3 | 1    | 30.14 |
| 10.4 | 1    | 30.16 |
| 10.5 | 1    | 30.17 |
| 10.6 | 1    | 30.18 |

- 下列對甲、乙兩國匯率關係的敘述，何者正確？ (A)甲國幣值逐日升值 (B)甲國幣值逐日貶值 (C)甲國幣值維持不變 (D)甲國幣值變化無法判斷。(p.172)
42. 日常經濟活動中，影響市場上買賣(供需)雙方是否成交的最重因素為何？ (A)所得 (B)成本 (C)價格 (D)意願。(p.169)
43. 瑞春國公布去年貿易統計數據：「貿易出口總額為瑞春幣4,500萬元，貿易進口總額則為4,300萬元。」依此判斷，下列相關敘述，何者正確？ (A)瑞春國正發生通貨膨脹 (B)瑞春國去年為貿易逆差 (C)瑞春國去年為貿易順差 (D)瑞春國去年為貿易平衡。(p.180)

44. 市場經濟由市場機能主導經濟活動，讓市場順暢的運作，政府則扮演下列何種角色？ (A)主導生產與分配等問題 (B)掌控商品的價格及數量 (C)採取放任態度，什麼事都不用做 (D)僅提供必要的法律規範與公共服務。(p.171)
45. 商品貨幣具有下列哪些特徵？ (甲)人們接受程度高 (乙)數量無限供應 (丙)不易變質可儲藏 (丁)本身沒有價值 (戊)可細分方便攜帶 (A)甲乙丙 (B)甲丙戊 (C)甲乙丙戊 (D)乙丙丁戊 (p.172)

46. 以下是今年火龍果產季的供需圖——



- 在其他條件不變的情況下，若價格由P1變成P2，則其需求的數量將有何變動？ (A)增加 (B)減少 (C)不變 (D)不一定。(p.171)
47. 關於均衡價格的敘述，何者錯誤？ (A)透過市場的供需來調整 (B)供需關係的改變反映在市場價格的變動上 (C)由政府決定市場價格的高低 (D)在均衡價格下買賣的數量，這個數量稱為均衡數量。(p.171)
48. 民國四、五十年代，臺灣在勞動力上具有優勢，所以政府優先發展紡織業等；民國八十年代以後，生化及科技等產業，逐漸取代傳統工業。根據上述內容判斷，我國目前是屬於哪種產業類型？ (A)勞力密集型 (B)資本或技術密集型 (C)自然資源密集型 (D)市場密集型。(p.181)
49. 若以「生產要素」來看，下列何者是製作電影「魔戒三部曲」影片所投入的「資本」？ (A)主導影片的導演 (B)拍攝影片的底片 (C)戶外場地的湖泊 (D)擔任演出的演員。(p.169)
50. 匯率係指外國貨幣與本國貨幣的兌換比例。當本國貨幣貶值時，對本國進出口有何影響？ (A)有利於進口 (B)有利於出口 (C)兩者皆有利 (D)無任何影響。(p.180)