

【讀卡科目請依規定畫卡，若有違反畫卡規定而影響讀卡作業之情事，一律扣總分五分。】

【手寫答案卷需確實寫上班級、座號、姓名，違者一律扣總分五分。】

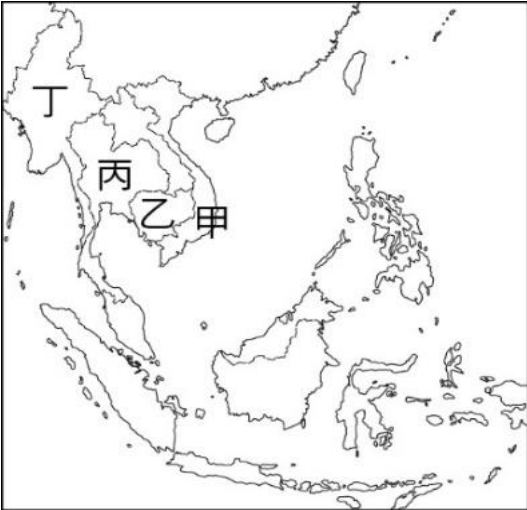
【手寫答案卷需用藍色或黑色墨水筆書寫，違者一律扣總分五分，使用鉛筆書寫扣五分。】

一、 選擇題

1. 2011 年泰國發生嚴重水患，河川沿岸都市紛紛為惡水吞沒，造成汽車零組件短缺及電腦硬碟缺貨，價格飆漲。首都曼谷由於位於何種地形上，飽受威脅？ (A)山坡臺地 (B)三角洲 (C)沖積扇 (D)氾濫平原。P35
2. 小芳整理了中南半島和南洋群島的比較表，卻發現有一處錯誤，請你幫忙找出來！p34~35
- (A)甲 (B)乙 (C)丙 (D)丁

	甲 地形	乙 氣候	丙 宗教	丁 農作生產
中南半島	北高南低	熱帶季風	佛教	種植稻米
南洋群島	多火山地震	熱帶莽原	伊斯蘭教	熱帶栽培業

*圖（一）為中南半島位置圖。請回答第 3 ~ 6 題



圖（一）

3. 新聞報導：「泰皇蒲美蓬（拉瑪九世）2016 年 10 月 1 日駕崩，全泰國進入為期 1 年的國喪期，不僅停止娛樂活動 30 日，所有政府公務員、政府行政機構穿黑服服孝，為期 1 年。」上述國家位在附圖中何處？p34
- (A)甲 (B)乙 (C)丙 (D)丁
4. 新聞報導：「旅遊景點吳哥窟以建築宏偉與浮雕細緻聞名於世，是世界上最大的神廟，1992 年成為世界文化遺產，其造型也成為該國的國旗。」上述景點位在附圖中的哪個國家？p34(A)甲 (B)乙 (C)丙 (D)丁
5. 新聞報導：「某國軍事政變始於 2021 年 2 月 1 日上午，當天該國國務資政翁山蘇姬、總統溫敏和執政黨全國民主聯盟的領導人被國防軍拘留。數小時後，軍方宣布國家進入為期一年的緊急狀態，並表示權力已移交給國防軍總司令敏昂來。」請問:上述國家位於圖（一）中哪一個國家？(A)甲 (B)乙 (C)丙 (D)丁 p34
6. 目前我國廠商在東南亞國協的累計投資金額高達 800 億美元，主要集中在五個東協國家，投資金額高低依序為越南、印尼、泰國、馬來西亞與新加坡。若我國經貿官員打算前往上述臺商最大投資國家考察，則應前往何國？(A)甲 (B)乙 (C)丙 (D)丁 p34

* 圖（二）為南亞位置圖，請回答第 7 ~9 題



圖（二）


7. 印度在西元 4000 年前即開始利用作物編織成紡織品，並在中世紀之前即出口相關產品到埃及，隨後更透過中國古代的絲路銷往西方國家。根據該國紡織部資料統計，其紡織工業為世界第 2 大國，總共雇用超過 3,500 萬人，生產值占國民生產毛額 4%，同時占該國出口值的 11%，相當可觀。目前已是世界第 3 大麻類生產國。請問該作物主要生產區域為圖中何處？ P36
- (A) 甲 (B)乙 (C)丙 (D)丁
- 8.阿哲居住在某國家，過去這個國家的人民自出生起便乎注定了命運，沒有選擇權利。阿哲屬於最低的層級，整個家族都只能做清潔工、宰殺動物等「骯髒」的工作，連居住的地方都要遠離人群，不然會受到上層人民的抵制與攻擊。請問：阿哲可能居住在圖中哪個國家？p36
- (A)甲 (B)乙 (C)丙 (D)丁
9. 小宏是貿易公司的業務經理，他所行銷的產品是當今有名的茶產，其特色是滋味濃烈、香醇、渾厚、芳香、回味甘甜，請問小宏主要採購的產地最有可能是下列何者？(A)甲 (B)乙 (C)丙 (D)丁 p36
10. 印度經濟改革的過程中，跳過全面發展製造業，直接轉進高科技產業領域發展的主要原因，是因為本身下列哪些製造業發展的條件？(甲) 英語普及(乙) 電力(丙) 資金(丁) 薪資(戊)時差(己)數理人才 p46
- (A) 丙丁戊己 (B)乙丙丁己 (C)甲丁戊己 (D) 甲乙丁戊
11. 小芳老師出國自助旅行，拍攝許多照片並在課堂上與同學們分享，其中有一張是猴子吃香蕉的逗趣模樣，另一張則是當地民眾爬椰子樹摘椰子的照片。小芳老師請大家回去研究熱帶栽培業所具有的特徵，以下誰的研究結果是正確的？p39
- (A)小安：為東南亞地區自古以來的傳統產業
- (B)小婷：所種植出來的作物，主要是自給自足
- (C)小靚：容易受到國際市場價格的影響，風險高
- (D)小宇:機械化程度高
12. 印尼的人口約為 2.7 億人，舊都雅加達的人口就超過 1,000 萬人，龐大的人口壓力遠超過都市可容納的人口數量，使雅加達的都市問題十分嚴重。湧入雅加達的

人們，多是因為原本在鄉村從事的產業難以維持生活所需，而遷往都市尋求更多機會。請問：何者最可能是這些人原本從事的產業？(甲)採收橡膠(乙)種植油棕(丙)咖啡加工(丁)砍伐針葉林 (A)甲乙丙 (B)甲丙丁 (C)乙丙丁 (D)甲乙丁 p38

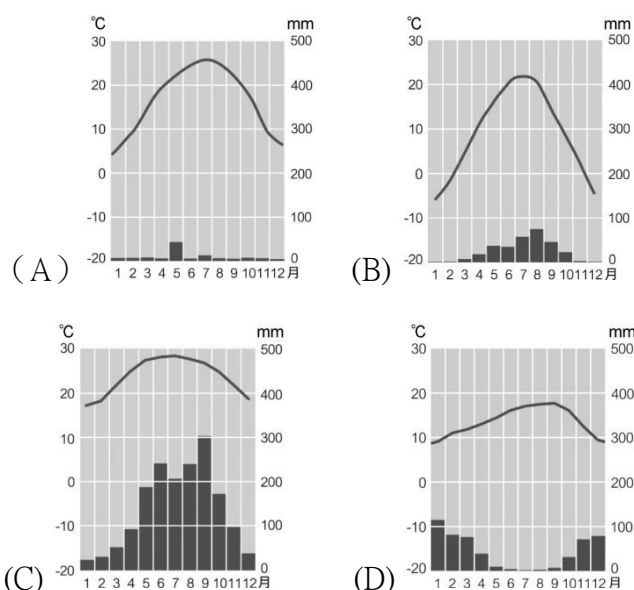
13. 臺灣的機械產業實力僅次於德國與日本，是重要的經濟支柱之一，但是近年來位於東南亞的客戶有漸漸向中國投懷送抱的趨勢，影響臺灣的出口外銷成績。請問：下列哪項因素有助於中國機械產品外銷至東南亞國家？(A)中國機械品質較優良 (B)中國「一帶一路」策略成功 (C)中國在東協國家享有關稅減免 (D)中國人口多勞動力便宜 p48

14. 東南亞各國的經濟增長相當快速，自1967年當地的東南亞國協成立以來，各國平均的GDP增長率約為每年8~11%，成為重要的新興市場，也吸引了許多外資進入。此現象與當地具備哪些發展條件關係最大？(甲)人口眾多(乙)技術進步(丙)資源豐富(丁)資金雄厚 (A)(甲)(丙) (B)(丙)(丁) (C)(甲)(乙) (D)(乙)(丁) p45

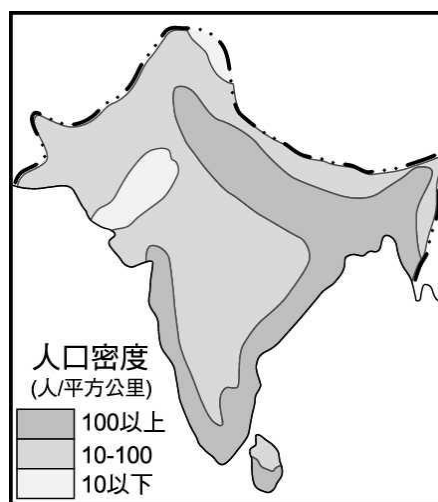
15. 圖(三)為東南亞地區的传统建築，此種建築不僅可以通風、防潮，下層還可以圈養家畜。請問：下列哪個地區的氣候最適合此種房屋型式？p35



圖(三)



16. 圖(四)為南亞人口密度分布圖。南亞地區總人口數約有14億，是世界人口稠密的地區，但人口分布不均，這種現象與下列哪項因素關係最密切？p37
(A)地勢高低 (B)氣候乾溼 (C)開發早晚 (D)階級制度



圖(四)

17. 由於歷史和宗教原因，信奉伊斯蘭教的羅興亞人不被緬甸政府承認為公民，備受歧視迫害。近來連續爆發嚴重流血衝突，大量難民逃離緬甸。請問：東南亞國協會員曾針對羅興亞難民，召開過特別會議，尋求解決之道。哪個國家最可能是與會成員？(A)印度 (B)孟加拉 (C)斯里蘭卡 (D)泰國 p48

◎是非題：請根據題目內容的敘述，判斷是正確(○)或是錯誤(X)，例如：

【孫中山：推動護法運動】、

【蔣中正：廣州黃埔陸軍軍官學校的校長】、

【川普：來中國調解國共衝突】

→○○X

18. 【中共於二萬五千里長征時的口號：停止內戰，一致抗美】

【中共推行大躍進的口號：超英趕美】、

【中共推動文化大革命的口號：破四舊，立四新】、

→請選出合適的選項。(p96,p109,p110)

(A)X○○ (B)○○○ (C)X○X (D)○○X。

19. 【九一八事變：日本佔領山東】、

【七七事變：日本進攻南京】、

【珍珠港事變：日本進攻美國夏威夷的軍事基地】

→請選出合適的選項。(p95,p97,p98)

(A)○X○ (B)○○○ (C)XX○ (D)○○X。

20. 【十年建設：民國17年~民國26年】、

【中日八年全面戰爭：民國26年~民國34年】、

【文化大革命：西元1966年~西元1976年】

→請選出合適的選項。(p94,p97,p98,p110,p111)

(A)○X○ (B)○○○ (C)X○X (D)○○X。

21. 劉小函向哆啦A夢借時光機想回到以前的中國看看，結果她調了四個不同時間，看到四個不同的景象，以下是她所看到的景象：

(甲) 她看到日軍在河北省宛平縣盧溝橋附近演習，藉口士兵失蹤，與中國守軍爆發軍事衝突；

(乙) 她看到日本破壞瀋陽郊外的鐵路，隨即發動「九一八事變」攻打瀋陽，進而佔領東北；

(丙) 她看到當時中國通貨膨脹嚴重，物價飛漲，人民用100元法幣只能購買一張紙；

(丁) 她看到當時中國的青年學生組織「紅衛兵」批判傳統文化，到處對地主、知識分子、老師等人展開鬥爭，造成人人自危。

若將劉小函上面所看到的四個不同景象，依照正確的時

間順序加以排列，請問下列選項何者**正確**？

(p95,p97,p107,p110)

(A) 甲乙丙丁 (B) 丙甲乙丁 (C) 乙丁甲丙 (D) 乙甲丙丁

22. 承上題，後來劉小函將時光機調到實施訓政與十年建設時期的中國，請問下列哪一個情況她應該**會**遇見？(A) 國民政府宣布正式進入「以黨治國」的訓政時期，並公布中華民國臨時約法，作為此時期的國家根本大法 (B) 國民政府重整稅收，收回清末以來喪失的關稅自主權 (C) 政府實施「廢兩改元」，以銀元代替銀兩，接著發行新台幣，統一幣制混亂的局面 (D) 九一八事變後，日本扶植溥儀在山東成立「滿洲國」。(p94,p95)
23. 林小婷看到電視上播出有位中國老農夫對於以前的回憶：「當時煉鋼要超英趕美，因此人人將鍋、鏟、鐵窗架全丟進煉鐵爐燒煉。連國小生放學後都要來支援煉鋼，導致學生們在上學時都睡眠不足……」請問上述情況最可能與下列何者有關？(A) 大躍進 (B) 新文化運動 (C) 文化大革命 (D) 五四運動。(p109)
24. 用功的郭小睿有一天看到歷史課本上面的課文寫著：「日本在甲天皇展開變法維新後，國力迅速成長，在甲午戰爭勝利後，取得了乙地。但西元 1929 年爆發了丙事件，嚴重衝擊日本的社會及經濟。於是日本欲藉擴張以獲得更多資源，使其丁主義昂揚，鄰近的日本的中國遂成為其擴張的首要目標。」請問根據上面課文中的內容，下列敘述何者**正確**？(A) 甲天皇指的是孝德天皇 (B) 乙地指的是重慶 (C) 丙事件指的是世界性的經濟大蕭條 (D) 丁主義指的是共產主義。(p97)
25. 西元 1937 年 12 月 13 日是一個悲慘的日子，這一天日本軍隊攻入中國的某個大城市，殘殺無辜軍民，並搶奪物資，甚至還有日本軍官舉行「殺人比賽」，看誰殺的軍民較多，這使得該座城市成為人間煉獄，慘不忍睹。請問這座城市最可能是下列何者？(A) 北京 (B) 上海 (C) 南京 (D) 瀋陽。(p99)
26. 歷史學者唐德剛在為某人撰寫口述歷史的序言中的一些內容如下：
「在上一世紀，三〇年代之初，當〇〇〇對日本侵略我東北，以其「不抵抗主義」來應付「九一八事變」的高潮期，我正是一個才略懂國事的小學生。我記得那時我們到街上遊行，……真把〇〇〇這個「東北軍閥」恨得牙癢癢的。其後「西安事變」爆發，我已是一個頗懂時事的中學生。這時我對〇〇〇反而有些同情與崇拜之心。其後年紀漸長，尤其是在美國大學，對中西各族學生，教了三十多年的中國近代史，〇〇〇這個歷史人物，在我的課堂裡，時正時反，或正或反的，也翻了好幾次身，而說不出個定論來……。」請問下面關於上文內容的描述，何者**錯誤**？
(A) 〇〇〇指的是蔣中正 (B) 因當時的戰略方針為「先安內後攘外」，所以〇〇〇以「不抵抗主義」來應付「九一八事變」 (C) 〇〇〇指的是張作霖 (D) 文中提到〇〇〇這個歷史人物的歷史評價會時正時反，或正或

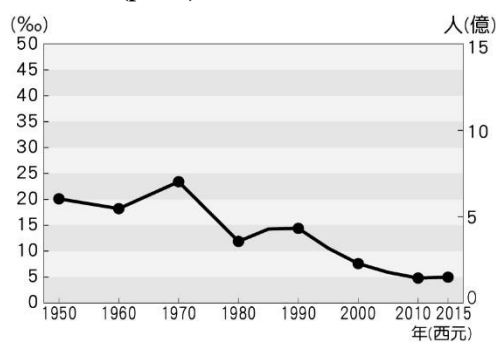
反，是因為以中國國民黨的立場而言，他是一個叛國綁架領袖的罪人；但以中國共產黨的立場而言，他是拯救中共當時局勢的偉人。(p95,p96)

27. 林阿陽在家裡收看公共電視臺《將相浮沉錄》這個節目時，節目內容談到美國某位官員：「二次大戰之後，△△△極力說服美國各界援助歐洲重建……這個計畫讓殘破的歐洲重新站了起來。這時△△△已經計畫退休，但是他又受到美國總統請託出使中國，目的是要調停國共間的衝突……。」請問△△△所指的美國官員是誰？而他前往中國調停的結果為何？(A) 馬歇爾；調停成功，國共雙方言歸於好 (B) 馬歇爾；調停失敗，國共衝突未止 (C) 羅斯福；美國覺得國民黨處境堪憐，持續給予援助 (D) 鮑羅廷；中國政府聘他為官員，協助外交拓展。(p106)
28. 賴小靜在複習歷史時，看到課本內容提到中華民國政府的歷史出現幾個重要的法律，包括 甲「動員戡亂時期臨時條款」、乙「中華民國臨時約法」、丙「中華民國憲法」、丁「中華民國訓政時期約法」等。請問這幾個重要法律頒行的時間先後順序應該為何？(A) 甲→乙→丙→丁 (B) 甲→丙→乙→丁 (C) 乙→丁→甲→丙 (D) 乙→丁→丙→甲。(p81,p94,p106)
29. 中華人民共和國建國之後，由毛澤東掌權了很長一段時間。請問下列何者**並非**毛澤東時期所推動的政策？(A) 為進行重新分配，推動土地改革，沒收地主的土地，分配給貧苦農民，並將民間企業收歸國有 (B) 為籠絡知識分子，尊重其言論自由 (C) 為加速農工發展，推動「大躍進」運動 (D) 為了奪回最高權力，發動「文化大革命」，利用青年學生組織「紅衛兵」展開鬥爭。(p108,p109,p110)
30. 前中華民國總統李登輝於西元 2020 年 7 月逝世，他曾擔任中華民國總統長達 12 年，期間推動了許多影響深遠的政策，其中包含廢止了長達 43 年的《動員戡亂時期臨時條款》。請問當初這項條款是因下列哪一個事件而制定的？(A) 國共內戰 (B) 中日戰爭 (C) 西安事變 (D) 珍珠港事變。(p106)
31. 歷史老師在課堂上請同學們上台發表關於中國共產黨從民國 16 年與國民政府決裂、擴張到建國的經過，以下是五位同學上台發表的內容：
◎徐阿擇：「民國 19 年起，國民政府多次圍剿中共，中共展開二萬五千里長征抵達陝西北部。」
◎王小熙：「因為民國 25 年九一八事變的緣故，國民政府停止剿共，中共局勢轉危為安。」
◎潘小蓁：「中日戰爭期間，中國共產黨曾經在華北的農村實施改革，獲得當地人民支持。」
◎江大陸：「中日戰爭結束後，中國共產黨在美國的協助下接收東北武器物資，勢力迅速擴張。」
◎黃小庭：「西元 1949 年，中國共產黨已掌握了大部分的中國領土，於同年 10 月 1 日建立了中華人民共

和國，實行中國共產黨一黨專政。」

請問根據上面五位同學的發表，哪些同學的敘述是正確的？ (A) 王小熙、江大陸、黃小庭 (B) 王小熙、潘小蓁、黃小庭 (C) 徐阿擇、潘小蓁、江大陸 (D) 徐阿擇、潘小蓁、黃小庭。(p95,p96,p107,p108)

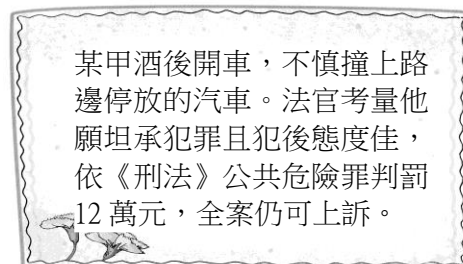
32. 西元一九四〇年代，日本對南洋採取積極侵略，威脅美、英等國殖民地，美國為阻止日本的行動，對日本實施了(甲)手段。日本為突破資源不足的限制，於民國 30 年 12 月發動了(乙)事件，攻擊美國在夏威夷的軍事基地。請問上面敘述中的(甲)、(乙)分別為下列何者？ (A) 甲：石油禁運、乙：珍珠港事變 (B) 甲：投擲原子彈、乙：七七事變 (C) 甲：農地轟炸、乙：七七事變 (D) 甲：農地轟炸、乙：珍珠港事變。(p98)
33. 西元一九六〇年代，全球各地革命聲浪不斷。越南戰爭、古巴革命、德國、法國及東南亞地區共產黨相繼發起革命。在這段時間，世界革命似乎成為可能。於是當時流行一段話：「東方已紅，西方也準備好了。」請問上面敘述中的「東方已紅」，代表下列何項事件影響世界性革命風潮的出現？ (A) 國共內戰 (B) 共軍二萬五千里長征 (C) 大躍進運動 (D) 文化大革命。(p111)
34. 韓小薰教授是研究中國人口變化的專家，他在中國人口史專題報告中，放了一張圖片，內容是西元1950年～2015年的中國人口自然增加率。韓小薰教授特別解釋在西元1950～1960年期間，中國自然增加率急速下降的原因。請問他最有可能提出下列何項解釋？ (A) 國共兩黨激烈衝突，發生大規模的戰爭 (B) 中共推行大躍進運動失敗，導致糧食不足與過度勞動，引發大饑荒 (C) 文化大革命的發生，導致很多人民被紅衛兵批鬥而死 (D) 日本對中國的侵略，發生中日戰爭，很多人民因戰爭而死。(p109)



35. 為有使犯罪人於刑罰執行完成後，可以順利的回歸及適應社會，台北監獄積極開設許多技能社團，使受刑人依興趣及特質參與此些社團，像是石雕社、手工藝社、木工社、寫作社、合唱團等。由此可見，國家愈來愈重視對犯罪人採取何種對待方式？ (A) 管制 (B) 報復 (C) 教育 (D) 處罰(p158)
36. 某銀行櫃檯人員藉由業務之便，盜領客戶的存款，遭到法院判決詐欺取財、偽造文書、背信等罪，被判處 2 年有期徒刑，關於該櫃檯人員所受刑罰的敘述，下列何者正確？ (A) 該處罰屬於從刑 (B) 該處罰屬於主刑 (C) 該處罰是行政罰 (D) 該處罰附隨於主刑才能科處(p159)
37. 禎風流個性陽光，但用情不專，喜歡腳踏兩條船，被禎風流欺騙的受害者決定聯合起來向檢察官舉發他的行為

，但檢察官卻說，除了道德勸說，當前並無法律可以約束禎風流的行為。對此現象，以下何種看法正確？(A)基於罪刑法定主義，無法以《刑法》處罰禎風流 (B)受害者可自行採取報復手段以維護正義 (C)多數人不認同花心行為，法律就應加以處罰 (D)法律對於禎風流的行為沒有罰則，可知他的行為並無不妥之處(p156-157)

38. 立法院 2020 年 12 月 31 日三讀通過有關妨礙公務罪的修正案，增訂「以駕駛動力交通工具犯之」的規定，此規定的意思為：若公務員依法執行職務上的工作時，如以動力機械作為妨礙公務員執行公務者，則構成此罪，以下有關《刑法》的概念，何者有誤？ (A) 所有犯罪行為，都是違法行為 (B) 國家在行使刑罰權時，必須遵守罪刑法定原則及依法行政的精神 (C) 在 2020 年 12 月 30 日以前以汽車衝撞員警所駕駛的機車，構成上述題目中的罪名 (D) 由立法委員三讀修正通過的《刑法》，賦予國家的刑罰權發動具有正當性(p156-157)
39. 有記者報導一則受到社會矚目的酒駕致他人死亡案件，某特種行業者於下班之後，即駕駛自有的小客車回家，但在途中不幸撞上騎機車的甜點師傅並當場死亡，此甜點師傅的家人悲痛萬分，但經過多年後，甜點師傅的家人希望犯錯的駕駛人能真的自我反省，還會主動寫信鼓勵犯錯的駕駛人應趁在獄中的時間，多培養自身各方面的能力，並且犯罪人也會回信給受害者的家人，從上文中的內容顯示出刑罰的何種目的？ (A) 懲罰犯罪 (B) 嚇阻犯罪 (C) 矯正犯罪 (D) 修復式司法(p158)
40. 以下是小美在電視上看到的一則新聞報導——



根據報導內容判斷，某甲受到何種刑事上的處罰？ (A) 沒收 (B) 罰金 (C) 拘役 (D) 罰鍰(p159)

41. 當有行為對社會或個人權利產生巨大傷害時，須由國家發動刑罰權，以強制力對行為人施以制裁，以達到嚇阻或預防犯罪，並發揮司法正義的效果。以下有關於刑罰權的敘述，何者錯誤？ (A) 刑罰權一經發動將可能剝奪犯罪人的生命、自由、財產等權利 (B) 國家在行使刑罰權時，不須遵守依法行政的精神 (C) 刑罰權的行使範圍，受到《刑法》的規範 (D) 刑法是國家對人民執行刑罰權，處置犯罪者的依據 (p156-157)
42. 《刑法》規範「何種行為構成犯罪」及「犯罪行為應如何處罰」。有關《刑法》的相關敘述，何者正確？ (A) 《刑法》賦予人民可以使用私刑，以維護社會的公平正義 (B) 刑罰是維護社會秩序、防治犯罪的最後手段 (C) 嚇阻犯罪是制定刑罰的唯一目的 (D) 《刑法》規定：「行為之處罰，以行為時之法律有明文規定者為限」意思是指所有刑罰權的發動全面賦予國家，不受任何拘束(p156-157)
43. 阿亮過 16 歲生日時，想與同學飲酒歡慶生日，於是到便利商店買酒，卻被店員拒絕。該店員拒絕賣酒給阿亮的理由最合理的是下列何者？ (A) 依據《兒童及少年福利

- 及權益保障法》不得販賣具有酒精成分的飲料給未成年人 (B)依據《兒童權利宣言》店員如販賣酒精飲料給阿亮將受到此宣言的處罰 (C)依據《勞動基準法》規定少年不得從事販賣酒精飲料的工作 (D)《兒童及少年性剝削防治條例》禁止少年飲酒(p166-168)
44. 依據《兒童權利宣言》揭示，兒童及少年因身心尚未成熟，需要獲得特別的保護與照顧，包括適當的法律保護，以下何者並非屬於「維護兒少權益」的內容？(A)兒童及少年在基本人權外，應享有該年齡層特定的權益 (B)當兒童及少年權益受損時，可透過相關法律尋求救濟 (C)兒童及少年懂得法律才更能知道如何及時保障自身權益 (D)兒童及少年應了解若自身觸法時應該承擔的法律責任(p164)
45. 依據《兒童及少年性剝削防治條例》的立法精神主要是防治兒童及少年遭受任何形式的性剝削，以維護其身心得以健全發展。以下有關對兒童及少年性剝削及保護的敘述，何者有誤？(A)此條例為預防兒童遭受性剝削，明確規定相關單位與民間應共同合作，提供被性剝削兒童及少年必要的保護 (B)使兒童及少年為有對價的性交，是對兒少的性剝削 (C)某甲如利用兒童拍攝猥褻行為照片，而獲得相當的利益，已違反《兒童及少年性剝削防治條例》的規定 (D)教育人員對疑似或已經遭到性剝削的兒童及少年，應於 12 小時內通報主管機關(p168)
46. 以下四位同學分別從權益維護及責任承擔的面向發表「對於為何兒童及少年應具備基本的法律知識」提出看法，何者正確？(A)小新：懂法律就不會受法律制裁 (B)小禎：在察覺權益受損時，懂得如何透過法律尋求協助 (C)小琪：可以利用法律侵害別人的權利 (D)小魚：法律不會處罰不懂法律的人(p164-165)
47. 老師出了一則回家作業，要同學上網搜尋有關保護兒童及少年的法律知識，並在課堂中發表所獲得的知識，以下哪一位同學的說法有誤？(p164-166)

(A)

《兒童權利公約》是經由我國立法委員三讀通過的法律



(B)

《兒童權利公約施行法》是我國為了接軌國際對兒童及少年權益保障的精神，所制定的法律



(C)

《兒童權利公約施行法》促使行政院應成立兒童及少年福利及權益推動小組



(D)

《兒童權利公約》提出四大原則，例如：尊重兒童意見、不歧視、維護兒童最佳利益等



48. 我國對於兒童及少年權益的保障，有特別的保護專法《兒童及少年權益及福利保障法》，但尚有其他法律與兒童及少年權益的保護相關，請選出以下敘述中有關對於兒童及少年權益保護的規定的內容與其相對應的法規名稱皆正確無誤者：(A)《民法》-規定童工是指未滿 15 歲而受雇從事工作者 (B)《民法》-規定雇用童工者，不可使童工從事具有危險性的工作 (C)《勞動基準法》-規定例假日得使童工工作，且童工只得於早上 6 點到晚上 8 點進行工作 (D)《勞動基準法》-規定雇主若欲雇用 15 歲以上未滿 16 歲者，須經由法定代理人同意(p169)
49. 民眾於發現或得知以下事件後，何者不須向 113 專線進行通報或檢舉：(A)小君由於情緒不佳就對孩子拳打腳踢，把孩子當成情緒宣洩的出口 (B)介紹兒童或少年從事有對價的性交 (C)有業者允許未滿 18 歲的少年進入聲色場所 (D)太雄某一次的小考成績不理想，被父母禁止使用智慧型手機一週(p168)
50. 我國為實現《兒童權利公約》的內涵，並符合國際對兒少權益保障的精神內涵，目前已由立法院通過《兒童權利公約施行法》，依據此法的規定應於下列何機關設立「兒童及少年福利與權益推動小組」，以利公約相關事項的推動？(A)學校 (B)司法院 (C)行政院 (D)監察院 (p166)