

【讀卡科目請依規定畫卡，若有違反畫卡規定而影響讀卡作業之情事，一律扣總分五分。】

【手寫答案卷需確實寫上班級、座號、姓名，違者一律扣總分五分。】

【手寫答案卷需用藍色或黑色墨水筆書寫，違者一律扣總分五分，使用鉛筆書寫扣五分。】

一、 選擇題

1. 每年在華中地區、臺灣、日本中南部和韓國南部等地持續天陰有雨的自然氣候現象，其型態如圖所示。請由圖（一）判斷，其主要降雨成因為何？(A)地形抬升降雨 (B)太陽輻射作用 (C)冷暖氣團交會 (D)熱帶低壓影響。ch3

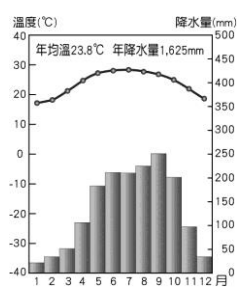


圖（一）

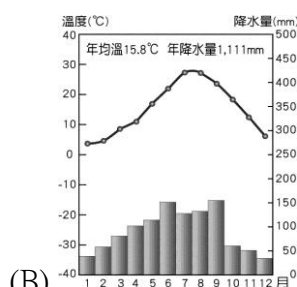
2. 小芳考察四川、湖南飲食文化的發展：據史學家考證，古代巴蜀人早就有「尚滋味」「好辛香」的飲食習俗。此飲食文化可反映當地何種環境特色？p34

(A)地形崎嶇 (B)氣候溼熱 (C)物產豐饒 (D)宗教信仰

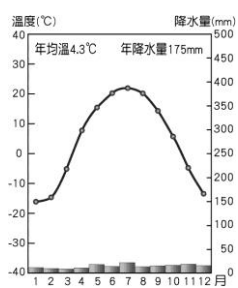
3. 察爾汗鹽湖，是中國青海省西部的一個鹽湖，由於水分不斷蒸發，鹽湖上形成堅硬的鹽蓋，青藏鐵路和青藏公路直接修建於鹽蓋之上。湖鹽的產生與氣候有極大關係。請問：下列哪張氣候圖所在地區最可能生產湖鹽？ch2.ch3



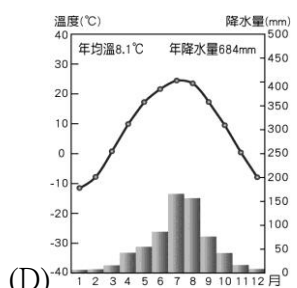
(A)



(B)



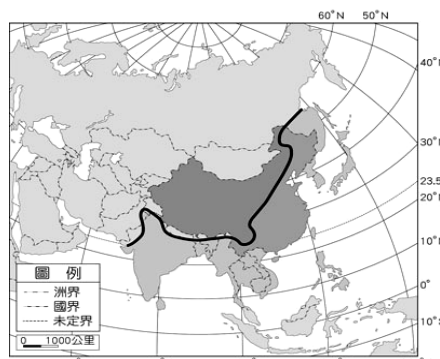
(C)



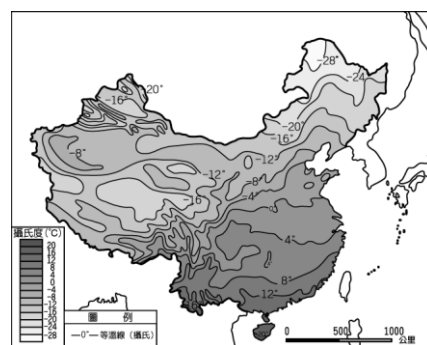
(D)

4. 圖（二）為中國與鄰近國家的地圖，圖中黑線為某種地理現象的分界。請問：下列何者最有可能為此界線以西、以北地區的特徵？(A)四季如夏 (B)日溫差大 (C)冬、夏風向相反 (D)地勢平坦 p28

5. 中國疆域遼闊，各地氣溫皆不同，圖（三）為中國的一月月均溫等溫線圖，由圖（三）可知影響中國東半部冬季氣溫的主要因素為何？(A)山脈走向 (B)緯度高低 (C)洋流流向 (D)季風風向。p26

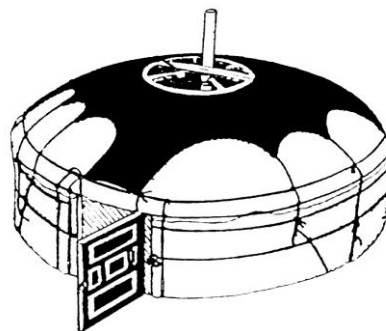


圖（二）

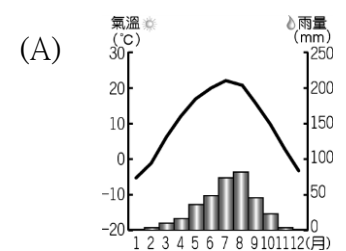


圖（三）

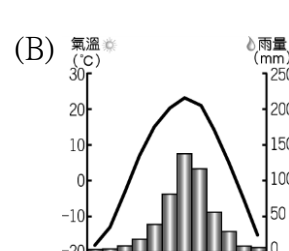
6. 人類的建築常受地理環境的影響，小芳到某地東部看到如圖（四）的住屋景觀；請問：此住屋型是最有可能出現在哪一種氣候類型？



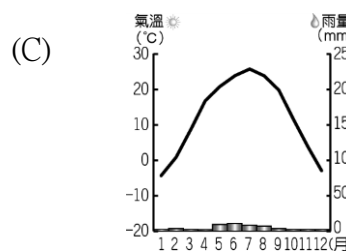
圖（四）P35



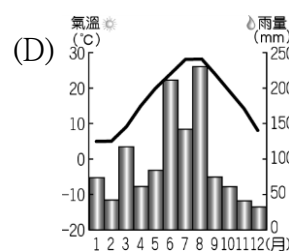
(A)



(B)




(C)



(D)

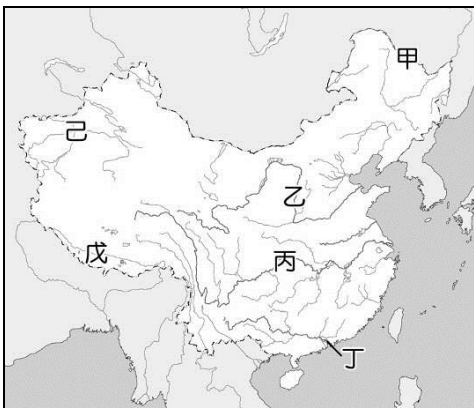
7. 如圖(五)；此住屋主要特點是頂上覆土，內部下面方型上面拱型（應天圓地方之說），前面有木結構、帶門和格子窗的外壁，內部牆面上抹泥、熟石灰或摻石灰的泥，還可以貼紙和窗花進一步裝飾，住屋前的地面平整後，在周圍圍以土牆。請問小芳最有可能到何處考察？ch2.3

(A)青藏高原(B)黃土高原 (C)雲貴高原(D)內蒙古高原



圖(五)

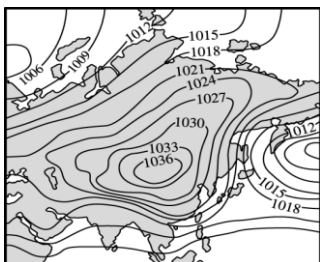
8. 圖(六)為中國水系分布圖。請問：哪些河川因為地形走勢的影響，最後會注入太平洋？ (A) 甲乙丙戊 (B) 乙丙丁戊 (C) 乙丙丁己 (D) 甲乙丙丁。P32



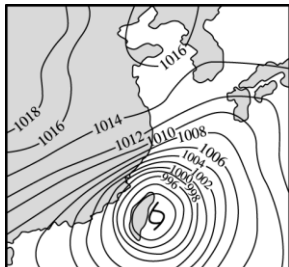
圖(六)

9. 中央氣象局報導：「近日臺灣受到中國冷氣團南下的影響。預計在明日午後第一波冷空氣將抵達臺灣上空，沿海和空曠地區氣溫可能會降至8℃，提醒民眾必須注意保暖。」請問：此時天氣圖應為下列何者？ch3

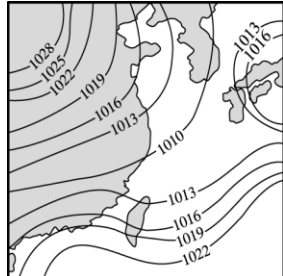
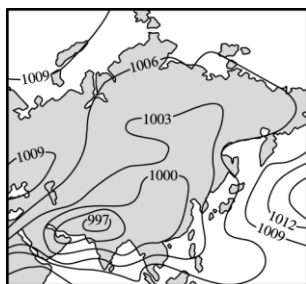
(A) (B)



(C)



(D)



10. 小芳到中國某地旅遊，發現該區因地形崎嶇、交通不便；族群交流不易，聯繫困難而彼此分化，是中國少數民族最多元的地區之一，請問小芳到圖(七)哪一區旅遊？p38



圖(七)

(A) 甲 (B) 乙 (C) 丙 (D) 丁。

11. 「小芳國總人口數由 50 萬增加至 100 萬，大約經過三十五年；由 100 萬增加至 200 萬，大約經過三十年。」由上述的內容可知小芳國有哪一種人口現象？p37

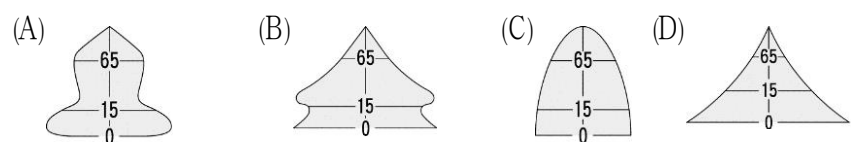
(A) 人口加倍時間增長，成長趨緩 (B) 人口加倍時間縮短，成長增速 (C) 人口加倍時間縮短，成長趨緩 (D) 人口加倍時間增長，成長增速。

12. 小芳到中國進行城市探索之旅，計畫到中國金融中心、全球最繁忙的港口考察；該地環境適宜發展商貿流通、金融、信息、製造等。下列何者最似該地氣候類型？

(A) 甲 (B) 乙 (C) 丙 (D) 丁。P30~31

都市	一月月均溫 (°C)	七月月均溫 (°C)	年雨量 (毫米)
甲	3.7	28.8	1,200
乙	-4.7	26.0	350
丙	18.2	28.2	1,850
丁	-9.7	22.7	720

13. 為了控制人口數量，提高人口素質，中國政府自1979年起，開始實施「計畫生育」政策，導致幼年人口比例減少，老年人口比例漸增加，未來，「中國的人口金字塔圖」最有可能形成下列哪個圖形？p42



14. 「長白山上的好兒郎，吃苦耐勞不怕冰霜……」曲中所描述的種族，在中國55族中位居第二，曾經入關而建立大帝國，請問該族發源於下圖(八)何地？p39

(A) 甲 (B) 乙 (C) 丙 (D) 丁。

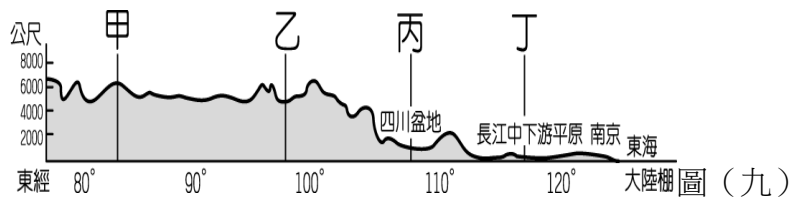


圖(八)

15. 中國實施一胎化政策造成人口金字塔圖出現明顯的變化，而其所造成的影響不包括下列何者？p42

(A) 未來勞動人口短缺 (B) 性別比上升 (C) 城鄉人口分布不均 (D) 出現人口高齡化現象。

16. 圖（九）為中國地形剖面圖，請由圖中資料加以判斷，
哪一個地區的環境負載力最「高」？ch1.ch3
(A)甲 (B)乙 (C)丙 (D)丁。




17. 「高齡化社會」通常出現在經濟發展程度高的國家，如日本、瑞典。但中國卻在 2000 年已達到高齡化社會的標準，其成因可能與下列何者最有關係？ (A)國民所得的金額逐年增加 (B)實行嚴厲的計畫生育政策 (C)社會資源多偏向老人福利 (D)勞動力大量流入鄰近國家。P42
18. 西晉末年，「起兵攻進洛陽、俘虜晉帝」及「正式結束北方混戰局面」的外族分別是下列何族？ (A)匈奴、鮮卑 (B)匈奴、羌族 (C)氐、匈奴 (D)鮮卑、氐族。(P.92,)
19. 歷史老師在課堂上與同學們討論魏晉南北朝時期的特色，四位同學發表的意見？下列哪一位同學的說法**不符合**史實的是？甲：「北方政局長期處於分裂狀態。」乙：「北魏統一北方後，北方出現胡漢融合的趨勢。」丙：「南北朝時期，北方經濟生產開始趕上南方。」丁：「魏晉南北朝時期，北方胡漢融合的政策，導致日後北魏的分裂。」 (A)甲 (B)丙 (C)乙 (D)丁。(P.94)
20. 南朝與孫吳、東晉合稱「六朝」，這些朝代在中國歷史上有何重要性？ (A)開鑿運河，運送糧食 (B)實施科舉制度，提升民間讀書風氣 (C)開發江南地區，經濟日漸繁榮 (D)推行漢化政策，打破胡漢隔閡。(P.94)
21. 東晉時代住在建康的小勳「託父祖餘蔭，年方雙十，已居朝中要職」，顯示當時任官制度的哪一特徵？ (A)世家大族政掌控政府官職 (B)飽讀經書的青年尤其受朝廷器重 (C)政府派任官職的根據是個人的才德 (D)「孝廉」的薦舉多偏重世家大族子弟。(P.95)
22. 小軒研究魏晉南北朝宗教盛行的概況，整理了下列史料，其中何者需修正？ (A)該時期最盛行的宗教是佛教與道教 (B)道教創於東漢末年中國本土 (C)佛教源起南亞印度 (D)期間道教曾吸收老莊思想，流傳統治階層，一度成為曹魏的國教。(P.97)
23. 有關大唐文化的傳播與成就的敘述，下列何者無誤？ (A)日本明仁天皇在位時展開唐化運動的大化革新 (B)色彩豔麗的三彩陶可以了解唐人的生活兼容並蓄的特色 (C)景教、佛教與伊斯蘭教均在唐朝時傳入 (D)佛教在唐朝時發展更盛，宗派林立其中以密宗最具代表性。(P.103~105)
24. 電視正在播放一齣以唐朝為背景的連續劇，下列哪一個情節**不符合**歷史事實？ (A)李世民在玄武門之變取得皇位 (B)唐玄宗歧視外族，禁止胡樂胡舞 (C)鹽商小達在交易過程中使用飛錢 (D)詩聖杜甫勤練詩賦參加科舉考試。(P.綜合)
25. 唐玄宗的愛妃楊貴妃最愛吃荔枝，然而荔枝為熱帶水

果，大多在江南一帶才有種植。唐玄宗為了討楊貴妃歡心，命人從江南利用運河快速運往長安。請問：此次的運輸過程，**不會**經過下列哪一條運河？ (A)廣通渠 (B)通濟渠 (C)永濟渠 (D)江南河。(P.99)

26. 《三國演義》：「天下大勢，分久必合，合久必分」，說出了歷史發展的大勢。如果以歷史分合的角度來看三國的歷史，請問下列哪一事件決定了魏、蜀、吳三分天下的局面？ (A)淝水之戰 (B)官渡之戰 (C)赤壁之戰 (D)長板坡之戰。(P.91)
27. 唐玄宗天寶年間，唐朝的軍隊與哪一國家交戰，結果導致中國的造紙術因而西傳？ (A)突厥 (B)大秦 (C)高麗 (D)大食。(P.104)
28. 他即位後，廢除了以前選官用的九品中正制，選官不問門第。規定各州每年向中央選送三人，參加考試，合格者錄用為官。他也改革了法律、田制、兵制，成果豐碩，還修建新都大興，開闢渠道……。」請問上文中的皇帝在位的時候，被歷史家美譽為？ (A)文景之治 (B)開皇之治 (C)貞觀之治 (D)開元之治。(P.99)
29. 小綸是 7、8 世紀時的回紇人，當時他所屬部落的君長，因鄰國被唐朝軍隊擊滅而感到震驚，紛紛聯合西域各國向唐君主表明歸順之意，並以「天可汗」尊稱唐君主。請問：當時被擊滅的鄰國是下列何者？ (A)東突厥 (B)西突厥 (C)匈奴 (D)鮮卑。(P.100)
30. 有關西晉的衰亡歷史發展敘述，下列何項正確。西晉武帝即位後大封宗室為王，自此諸王擁兵自重，導致惠帝在位時宗室內鬥發生(甲)八王之亂，使得國家元氣大傷，給了邊境胡人叛變機會，因此西晉(乙)懷帝在位時，(丙)鮮卑族攻陷國都(丁)長安，皇帝被俘，史上所稱的(戊)永嘉之禍，不久，西晉滅亡？ (A)甲乙戊 (B)甲乙丙 (C)乙丙丁 (D)甲丙戊。(P.92)
31. 唐朝建立了中國歷史上難得一見的盛世，最終卻難免走上末路。下列關於唐末的衰亡亂象：(甲)武后篡位 (乙)藩鎮割據 (丙)宦官亂政 (丁)牛李黨爭 (戊)外患入侵。以上哪些敘述是正確的？ (A)甲乙丙 (B)乙丙丁 (C)丙丁戊 (D)甲丙丁。(P.100,101)
32. 歷史老師請同學在黑板上寫下安史之亂與黃巢之亂的比較。以下敘述正確的有幾項？(甲)發生時間: 黃巢之亂早於安史之亂(乙)為亂範圍: 前者遍布大江南北，後者遍及黃河流域一帶(丙)亂事性質: 前者屬於民變，後者屬將領叛變(丁)平亂者: 前者是朱元璋，後者是郭子儀。請問： (A)3 項 (B)2 項 (C)1 項 (D)0 項。(P.101)
33. 2011 年，洛陽被聯合國授予「世界文化名城」稱號。自夏朝開始，有 13 個中國正統朝代定都於此，歷史文化遺產豐富。請問：下列歷史典故，哪一項**無法**編入洛陽的歷史文獻中？(甲)李淵建國(乙)劉裕篡東晉(丙)八王之亂(丁)北魏漢化((戊)司馬炎篡曹魏 (A)乙丙 (B)乙丁 (C)甲丙 (D)甲乙。(綜合)
34. 小傑是追隨朱溫打天下的士兵，在他到處征戰、攻佔城池時，請問下列何者**不是**他可能會拿到的寶物？ (A)吳道子的詩集 (B)顏真卿的真跡墨寶 (C)色彩繽紛的胡人陶俑 (D)印度的珍貴佛經。(P.105)

- 35.我國中央與地方政府的分權方式，規定在《甲》中；此外，為因應各地情況差異，由各縣市政府決定並負責的做法，最符合《乙》精神？請問《甲》、《乙》分別是？CH3
(A)《憲法》；權力分立 (B)《地方制度法》；地方自治 (C)《憲法》；地方自治 (D)《地方制度法》；權力分立。
- 36.我國對於中央與地方政府的分權方式是採「均權制度」。下列哪一位同學的舉例屬於地方政府的權限？CH3
(A)甲乙(B)乙丙(C)丙丁(D)甲丁。



- 37.下列何者最不可能是地方民意機關的職權？(A)糾正政地方行政政府 (B)質詢地方政府官員 (C)議決地方政府提案事項 (D)議決地方法規。CH3
- 38.下列有關地方行政機關和民意代表的配對，哪些正確？
(甲)基隆縣政府—基隆縣議員 (乙)高雄市政府—高雄市民議員 (丙)宜蘭市政府—宜蘭市議員 (丁)烏來區公所—烏來區民代表 (A)甲乙 (B)甲丁 (C)丙丁 (D)乙丁。CH3

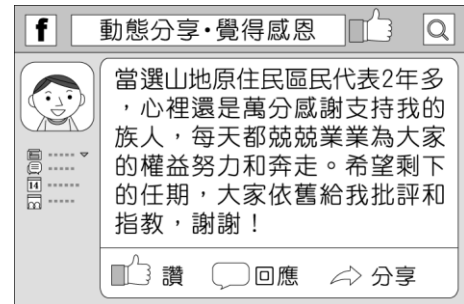
題組

玉齡將一年全家所繳交的稅款整理如下表(一)


所得稅	7,800 元	使用牌照稅	10,000 元
營業稅	2,100 元	地價稅	25,000 元
娛樂稅	5,000 元	房屋稅	3,200 元
關稅	10,000 元	貨物稅	20,000 元
遺產稅	30,000 元	贈與稅	5,000 元

- 39.請問:她繳給國稅局的稅額是多少？CH3
(A)39900 (B)40900 (C)10500 (D)74900
- 40.承表(一) 玉齡全家所繳的稅款中，有幾項屬於以「財產價值」為課稅對象？CH4
(A)5 項 (B)6 項 (C)7 項 (D)8 項
- 41.「地方政府主動結合地方上的人力、物力及 財力，發揮自力更生的精神，經營各種生產事業，再將營運的收入建設地方」，由上述說明可得知，應為何項地方建設財源呢？CH3
(A)均權制度: 地方上的人民依法，自行管理地方上的公共事務 (B)公共造產:地方國民運動中心 (C)地方稅收:關稅 (D)中央補助: 依據《財政收支劃分法》

- 42.下列有關地方自治內容的敘述，何者有誤？ CH3
(A)桃園市與臺南市同屬相同行政區層級 (B)企業贊助不是地方政府的經費來源之一 (C)人民選出地方議員，執行法令政策並監督中央政府 (D)在修憲後，省已經被虛級化，不再具有地方自治團體的性質。
- 43.附圖是少安擔任公職的心情分享，根據圖中內容，下列何者敘述最正確？



- (A)少安的工作是負責執行上級政府委辦的事項 (B)少安任職於地方行政機關 (C)此原住民區公所屬行政院的派出機關 (D)少安服務的區域位於直轄市。CH3
- 44.根據附圖的新聞內容判斷，何者在監督政府的經濟作為上發揮功效？CH4



- (A)教育機構 (B)傳播媒體 (C)公益團體 (D)職業團體。
- 45.同學們課後一起複習「公共財」的概念，下列哪一位同學提出的見解為誤？ CH4
(A)國國：公共財無法避免「搭便車」心態的民眾使用 (B)泰泰：政府所提供的資源不全是公共財 (C)民民：使用公共財的對象不易加以限定 (D)安安：公共財是指可以共享且無法排除他人使用的物品或勞務，如貓空纜車。
- 46.在現代民主國家中，政府的任務是為民服務。下列何選項符合政府「保障私有財產」的經濟功能？CH4
(A)



(B)



(C)

讀者投書

身為一個作家，每一篇文字都是我的心血，我希望政府能拿出魄力來，打擊盜版，捍衛創作者的著作權，不要再讓我的權利受到侵害。

作家 詹擷

(D)



47.

20171014 中央社報導

行政院發言人今天表示:行政院院長上午在行政院會裁示，鑒於台灣又在海外從事詐騙犯毒案件層出不窮，嚴重損害國家的國際形象，各部會必須更搶力執法，以有效打擊詐騙犯毒。

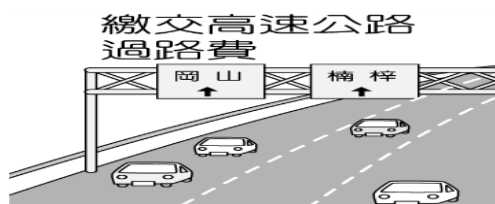
請問：上述犯罪行為可用下列何種概念來表示？

- (A) 外部成本 (B) 受益原則
(C) 外部效益 (D) 機會教育。CH4

48.下列有關政府收入的情境，何者符合「負擔能力原則」？

CH4

(A)



(B)

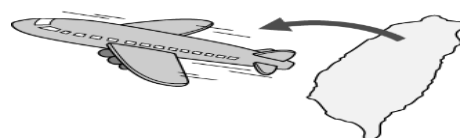


(C)



(D)

出國申請護照



49.某知名藝人自國外買進電影蝙蝠俠駕駛的大車並繳了關稅。請問：關稅與下列何稅同屬於銷售稅？(甲)地價稅(乙)娛樂稅(丙)營業稅(丁)貨物稅(戊)贈與稅

(A)甲丙丁 (B)乙丙丁 (C)丙丁戊(D)乙丁戊。CH4

50.附圖中兩人談論的內容，屬於政府的哪一項收入來源？



- (A) 財產收入 (B) 舉債收入
(C) 公營事業盈餘收入 (D) 租稅。 CH4