

【讀卡科目請依規定畫卡，若有違反畫卡規定而影響讀卡作業之情事，一律扣總分五分。】

【手寫答案卷需確實寫上班級、座號、姓名，違者一律扣總分五分。】

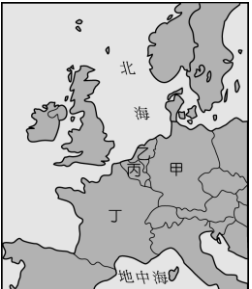
【手寫答案卷需用藍色或黑色墨水筆書寫，違者一律扣總分五分，使用鉛筆書寫扣五分。】

一、選擇題

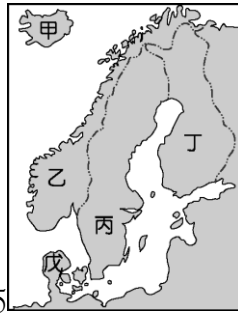
1. 十八世紀末以來，工業革命逐漸向外傳布，影響遍及全世界。當時最早是以附圖何處為中心向外傳播？(A)甲 (B)乙 (C)丙 (D)丁。 P.36-38



2. 歐洲的萊因河流域跨越多國的工業重心，而成為重要的工業地帶。請問：該河川從附圖中哪一個國家注入海洋，帶動該國港口的發展？(A)甲 (B)乙 (C)丙 (D)丁。 P.37,41

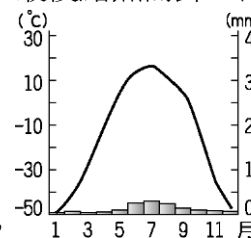


3. 呈上題，哪一個國家因蘊藏豐富的煤礦而工業發達，且因實事求是的民族性，使其工業產品特別堅固耐用，如汽車、通訊等皆廣為全球消費者所信賴？(A)甲 (B)乙 (C)丙 (D)丁。 P.40
4. 我國經濟部部長欲前往歐盟總部洽談經濟合作事項，他應該前往下列哪一個都市？(A)鹿特丹 (B)布魯塞爾 (C)巴黎 (D)倫敦。 P.42
5. 「該國位處大西洋的火山地震帶，火山活動頻繁，熔岩高原及高緯度，使其冰河地形也很發達，漁產為其最大宗的出口貨品；除了海洋漁業外，居民也充分利用地熱和溫泉等資源，從事養殖漁業。」上文所指的國家最可能是下列何者？(A)日本 (B)挪威 (C)冰島 (D)義大利。 P.45
6. 陳老師和學生分享歐洲旅遊心得，介紹該國除了手錶品牌聞名世界之外，金融業因制度健全、信譽卓著聞名，陳老師分享的國家，最可能是下列何者？(A)盧森堡 (B)冰島 (C)英國 (D)瑞士。 P.42
7. 歐洲境內哪一個國家音樂氣息濃厚，為許多音樂家的出生地，如莫札特、舒伯特等？(A)捷克 (B)奧地利 (C)波蘭 (D)法國。 P.42
8. 「研究指出，有些人在天色較陰暗的月分裡，因為所受日照時數大幅減少的緣故，會有精神不濟、情緒低落、活動力降低的『冬季憂鬱症』徵狀。」會造成黑夜漫長最可能是下列何者？(A)赤道 (B)南回歸線 (C)北極圈 (D)本初子午線。 P.43
9. 「童話大師安徒生出生於北歐某國的哥本哈根，為北歐海運的重要十字路口，港口航運發達。在港口地區就佇立著安徒生筆下的美人魚銅像，成為著名的景點。」上述的某國位於附圖中的何處？(A)甲 (B)乙 (C)丙 (D)戊。



P.45

10. 西元 1812 年拿破崙進軍俄羅斯，五十萬大軍長驅直入，但竟不敵俄國的自然環境，最後黯然而歸。造成拿破崙大潰



敗的區域為附圖氣候區，請根據圖中資料判斷，其氣候類型為下列何者？(A)溫帶大陸性氣候 (B)溫帶沙漠氣候 (C)溫帶地中海型氣候 (D)寒帶氣候。 P.57

11. 奧地利、匈牙利、塞爾維亞、克羅埃西亞和斯洛維尼亞這五個相鄰的國家，為保護境內某一河川流域的重要自然資源和野生動物，於 2011 年簽訂一項宣言，建立跨國的自然保護區。上述河川應是指附圖中何者？(A)甲 (B)乙 (C)丙 (D)丁。 P.53



12. 「該國過去是共產國家，境內多為斯拉夫人所組成，信仰東正教，生活規律相當嚴謹，和熱情奔放的拉丁人形成強烈對比。」上述最可能為下列何國？(A)法國 (B)西班牙 (C)荷蘭 (D)俄羅斯。 P.52,53
13. 東歐的波蘭在第二次世界大戰期間曾淪為德國納粹處決猶太人的基地，然而該國在戰後又因為領土受到德國和俄國的影響而有所變遷，形成農、工業並重的國家。請問：該國位於附圖中的哪一個地區？(A)甲 (B)乙 (C)丙 (D)丁。 P.54



14. 呈上題，2020年九月捷克參議院來台參訪分享該國的「皮爾森啤酒」，說到喝啤酒，不少人直覺反應就是「德國啤酒節」，但全球平均國人飲啤酒量最多的國家卻不是德國，而是捷克，每人每年平均要喝下143公升的啤酒，比排行第4的德國多了將近40公升。請問捷克位於圖中的何處？(A)甲 (B)乙 (C)丙 (D)丁。 P.55

15. 有北極熊之稱的俄羅斯境內曾出現規模達 6.8 的淺層地震，劇烈的搖晃造成當地居民的恐慌。上述現象最可能的發生地點為附圖中的何處？ (A)甲 (B)乙 (C)丙



- (D)丁。 P.56
16. 歐洲哪一個地區位於東、西往來的要衝，戰略地位重要，且宗教及族群相當複雜，因此有「歐洲火藥庫」的稱號？ (A)東歐 (B)西歐 (C)南歐 (D)北歐。 P.53
17. 世界最大的船難發生在第二次世界大戰末期，一艘滿載上萬難民的郵輪「威廉·古斯特洛夫」號在逃難之際，遭到俄軍潛水艇發射的魚雷擊沉，整艘船上約九千人在波蘭附近的海域溺斃。請問：上述事件中的海域最可能為下列何者？ (A)大西洋 (B)波羅的海 (C)黑海 (D)地中海。 P.54
18. 下列有關中世紀後期文化交流與社會變遷「事件產生的原因-事件-事件導致的結果」的敘述，下列何者「正確」？ (甲)農業技術改良-人口增加-貿易熱絡；(乙)各行業興起-行會出現-大學的起源；(丙)貿易興盛-市民階級出現-文藝復興運動的產生；(丁)黑死病的衝擊-蒙古西征-火藥武器的西傳；(戊)塞爾柱土耳其人阻止基督徒朝聖-十字軍東征-佛羅倫斯的興起？ (A)甲乙丙丁 (B)甲乙丙戊 (C)乙丙丁戊 (D)皆正確。 (P.130,131)
19. 中國春秋戰國時代的法家站在君王的立場，提出君王應以法、術駕馭底下的臣民。歐洲文藝復興時代同樣有一位學者著有《君王論》，強調君主為確保政權穩定，可以權術治國。這位學者為下列何人？ (A)馬基維利 (B)莎士比亞 (C)佩脫拉克 (D)但丁。 (P.136)
20. 阿拉伯的商人在中世紀時期十分活躍，除了往來東西方帶動商業活動外，也經常促進文化間的交流。下列關於阿拉伯商人的說明，何者「正確」？ (A)將許多伊斯蘭教的典籍翻譯成拉丁文後傳到歐洲 (B)將支票與股份有限公司的制度運用於商業活動上 (C)中國的印刷術與指南針也經由阿拉伯人帶往歐洲 (D)為了便於經商，阿拉伯人發明數字，並將其傳播至各地。 (P.129)
21. 小祐和幾位同學想要以中古時期歐洲日耳曼人生活為報告主題，但下列哪一位同學所找到的相關資料是「不正確」？ (A)小祐：基督教信仰是他們的生活重心，日常生活皆受教會影響 (B)小凱：西歐的農民在莊園中，必須辛苦耕種，向地主繳納穀物，還須服勞役。 (C)小宸：查理曼大帝在西元 962 年被羅馬教宗加冕為神聖羅馬帝國的皇帝。 (D)小庭：土地大都掌握在貴族領主手中。 (P.122)
22. 蝴蝶效應（英語：Butterfly effect）是指在一個動態系統中，初始條件的微小變化，將能帶動整個系統可能帶來巨大的改變。若依據蝴蝶效應，如果將「東漢討伐北匈奴」一事當作初始條件的微小變化，那麼下列哪一史事則可視為動態系統中那個巨大的改變？ (A)地理大發現 (B)西羅馬帝國滅亡 (C)東羅馬帝國滅亡 (D)亞歷山大東征。 (P.121)
23. 中古歐洲實行封建制度，當時許多王國都有血緣或政治上的關係，例如：英、法兩國即是。但是受到下列哪一事件的影響，英、法兩國終結過去的封建關係，分別形成以國王為領導核心的民族國家？ (A)西羅馬帝國滅亡 (B)宗教改革 (C)地理大發現 (D)百年戰爭。 (P.137)
24. 「16 世紀初，歐洲探險家在中美洲發現當地人飲用一種可

可豆加水和香料製成的飲料，之後輾轉由其他人帶回歐洲將可可豆磨成了粉，從中加入了水和糖，在加熱後被製成的飲料稱為「巧克力」，深受大眾的歡迎。很快傳遍整個歐洲。」根據以上所述，這位探險家及當地人應該最「有可能」為何者？ (A)麥哲倫、馬雅 (B)達伽馬、印加 (C)狄亞士、印加 (D)哥倫布、阿茲提克。 (P.139,140)

25. 高第（Antoni Gaudí i Cornet）曾說：「為什麼歐洲每個城市都有雄偉的教堂，有些還要蓋兩三個世紀？沒關係，我的客戶（即上帝）不趕時間。」。基督教為中世紀歐洲民眾精神寄託，教會與人民的日常生活亦息息相關。請問：有關當時教會所發揮的功能，下列何者「錯誤」？ (A)西羅馬帝國滅亡後，羅馬教皇打擊蠻族統治歐洲 (B)抄寫典籍，保存希臘、羅馬古典文化 (C)為民眾舉行生命禮儀，如受洗、婚禮、喪禮等 (D)興建學校，普及文化與教育。 124
26. 一本以阿拉伯文書寫的經典中寫道：「祂禁止你們食用自然死亡之生物、血液、豬肉，以及非誦真主之名而屠宰者。」不但明文規定不得吃豬肉，基於衛生和健康考量，要求信徒食用自己宰殺的健康牲畜，並將血放乾淨。請問關於此經典的敘述「正確」為何？ (A)手持此經典的民族消滅了拜占庭帝國 (B)此經典可隨處見於巴格達、麥加等城市 (C)此經典為查士丁尼法典 (D)手持經典的信徒稱為阿拉。 (P.128)
27. 聖索菲亞大教堂現今是座博物館，館內的收藏主要是希臘正教與伊斯蘭教的文物，為哪兩個政權的統治作見證？ (A)羅馬帝國、阿拉伯帝國 (B)西羅馬帝國、東羅馬帝國 (C)東羅馬帝國、鄂圖曼土耳其帝國 (D)神聖羅馬帝國、鄂圖曼土耳其帝國。 (P.126)
28. 馬偕牧師一生為臺灣的醫療和教育貢獻良多，當有臺灣人跟他說他做了這麼多好事，將來一定可以上天堂時，馬偕牧師的想法卻是：自己能否得救上帝早就預定好了，自己做好事只是為了榮耀上帝。根據馬偕牧師的想法判斷，他是屬於哪一教派？ (A)天主教 (B)英格蘭國教派 (C)路德教派 (D)喀爾文教派。 (P.141)
29. 小婕整理出關於拜占庭帝國的敘述。請問：下列何者正確？ (A)拜占庭帝國使用日耳曼語言並信奉基督教，實施教教分離 (B)狄奧多西大帝致力於恢復古羅馬帝國的聲威，並編著法典 (C)西元十五世紀中葉，拜占庭帝國為塞爾柱土耳其帝國所滅 (D)拜占庭帝國抵擋東方民族的進攻，並保存龐大的古希臘文獻，對歐洲文化保存貢獻甚大。 (P.126)
30. 西歐中世紀後期，各國君王的權力逐漸提高，導致原有的封建制度因而瓦解。有關當時政治局面轉變的說明，下列何項敘述「錯誤」？ (A)國君允許具備知識能力的市民參與行政 (B)君主透過相近的血緣、文化等，提高人民對國家的認同 (C)羅馬教宗聲援君主，主張政教合一 (D)英格蘭、法國為當時王權提高的代表國家。 (P.137)
31. 下列哪個國家建立了橫跨歐、亞、非三洲的大帝國，並因為該國首都位居東西貿易路線上，因而壟斷東西貿易，進而引發西歐國家從事海上探險的活動？ (A)鄂圖曼土耳其帝國 (B)東羅馬帝國 (C)義大利 (D)阿拉伯帝國。 (P.139)
32. 西班牙的阿罕布拉宮建築形式別樹一格，為聯合國指定的世界遺產。中世紀歐洲應為基督教世界，阿罕布拉宮卻呈現伊斯蘭教的風格。這和哪一件史事有關？ (A)蒙古西征 (B)十字軍東征 (C)伊斯蘭世界的擴張 (D)日耳曼人的遷徙與建國。 (P.128)
33. 羅馬公教教會受到新教的衝擊，也開始進行改革。其中，

- 耶穌會的成就最令人矚目。有關耶穌會的說明，下列哪一項敘述「正確」？(A)屬於路德教派的分支(B)重視教士信仰的虔誠與知識的訓練(C)否定教宗的權威(D)十六世紀宗教改革時由利瑪竇創辦。(P.142)
34. 發生於在西元西元 14~16 世紀的文藝復興，兼具復古與創新的特色，當時有人曾說：「羅馬廢墟雖為一堆古代廢物，但卻常刺激我們，給予我們新的近代精神！」請問：下列關於文藝復興的敘述，何者「正確」？(A)主要精神
35. 下列有關還真的貨幣使用功能敘述，何者正確？

為人文主義，重視「以人為本」的現世生活，因而時常批判中世紀封建貴族與教會權威 (B)拜占庭學者因受到日耳曼人的侵擾而西遷避難，帶來許多古希臘與羅馬典籍 (C)最早出現在因掌握東西方貿易而興起的義大利北部，城市中有錢有閒的封建貴族追求精緻文化 (D)但丁、佩脫拉克和塞凡提斯是重要作家，他們均以拉丁文寫作，帶動了大眾文學的發展。(P.136)

還真透過 3333 網路人力銀行找到一份工作，領到第一份薪水後，她先預留 3000 元，做為跨年旅遊的費用；再請家人到「西堤」吃一頓牛排大餐，並以信用卡結帳；接著再還清之前向大哥借的 2000 元治裝費；最後，還真想買一支最新型手機犒賞自己，一看標價 28000 元，心想還是下個月再買，以免自己成為卡奴了。

- (A) 預留 3000 元－價值儲存 (B) 還大哥 2000 元－交易媒介 (C) 以信用卡結帳－價值衡量 (D) 一支最新型手機 28000 元－債務清償。〔第3章〕

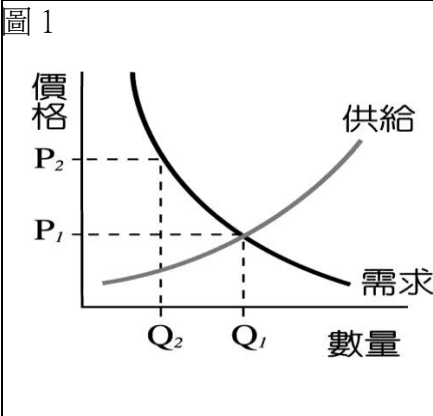


表 1

單位 :億元	奇奇國	妙妙國	花花國	丁丁國
出口總額	435	580	660	980
進口總額	656	245	880	535

- 36.根據圖 1 判斷，依據市場機能，當甜柿價格定價於 P1 時，市場會出現何種現象？(A) 供過於求 (B) 供需均衡 (C) 供不應求 (D)無法判斷。
- 37.表 1 是四個國家進出口總額統計資料，請問：哪些國家呈現貿易順差現象？〔第4章〕
- (A) 奇奇國、妙妙國 (B) 奇奇國、花花國 (C) 妙妙國、花花國 (D)妙妙國、丁丁國。
- 38.世界各國目前多為混合式經濟制度，其經濟活動多由價格機能主導，但有時公權力也會適時介入並且干預，就像一隻「看得見的手」。請問：下列敘述何者最符合「看得見的手」介入干預的情形？(A) 消費者因商品價格而調整需求量 (B)國際美元的交易行情價 (C) 制定政策以限制進出口商品的數量 (D)廠商因商品價格上漲而增加供給量。〔第3章〕

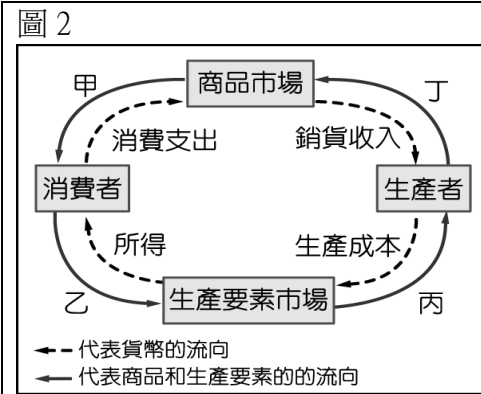


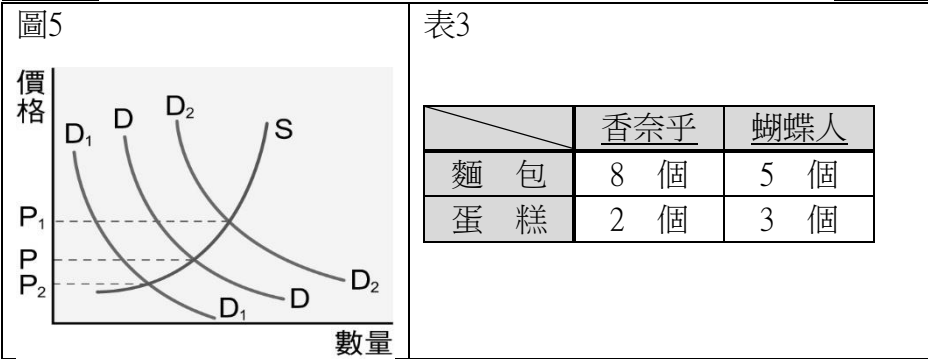
表 2

人名 產品	善義	益之助
「小娃娃」	甲個	12個
「小飾品」	20個	16個

- 39.美麗國的老年人口比例為全球最高，幼年人口比例卻是最低，這將會造成未來投入勞動的壯年人口不足。請問：上述壯年人口的變化，最可能先使圖 2 中甲、乙、丙、丁哪一個部分出現短缺？(A) 甲 (B)乙 (C)丙 (D)丁。〔第3章〕
- 40.善義與益之助皆能生產「小娃娃、小飾品」，表2為在相同條件下兩人對「小娃娃」與「小飾品」的產量表，而且從下列表格中可看出善義對生產「小娃娃與小飾品」皆享有絕對利益，但最後兩人決定依照比較利益原理來專業分工時，善義則負責去生產「小娃娃」、益之助則負責去生產「小飾品」。根據上述內容判斷，甲最可能為下列何者？〔第4章〕
- (A) 16 (B) 8 (C) 12 (D) 6。
- 41.一斤香蕉在市場上的行情若為30元時，生產者願意且能生產的產量是70斤，但此刻消費者對香蕉的需求量只有60斤時，依市場法則，下列何者最可能是一斤香蕉在市場上的新成交價？〔第3章〕(A) 32元 (B) 30元 (C) 28元 (D) 41元。
- 42.下列敘述中，何者符合經濟活動循環體系中「生產要素需求」的定義？(A) 電玩遊戲公司推出新家用電玩主機 (B) 富剛毅永是一位鐘錶收藏家，長期跟鐘錶店預購高階機械錶 (C) 花花百貨公司推出新成分保養品 (D) 青青餐廳業者招考三名新進員工。〔第3章〕

圖3			圖4		
	鬼國	神國	人名 產品	探刺郎	迷豆子
「電動腳踏車」	40小時	60小時	「木屋」	3棟	1棟
「機車」	30小時	15小時	「磚屋」	2棟	1棟

- 43.圖3為鬼國和神國生產各一部電動腳踏車和機車所花的時間，一部相同品質的電動腳踏車，鬼國需要40勞動小時、神國需要60勞動小時；生產一部相同品質的機車，鬼國需要30勞動小時，神國需要15勞動小時，請問兩國之間應如何從事貿易對雙方最有利？（A）鬼國出口機車，神國出口電動腳踏車（B）鬼國出口電動腳踏車，神國出口機車（C）鬼國出口機車，向神國進口電動腳踏車（D）神國出口電動腳踏車，向鬼國進口機車。〔第4章〕
- 44.如圖4，探刺郎每月可造出3棟木屋或2棟磚房，迷豆子每月可造出1棟木屋或1棟磚房；請問若探刺郎與迷豆子決定依比較利益原理來分工，何者正確？（A）迷豆子在建造磚房上享有比較利益（B）探刺郎在建造木屋上相對機會成本較高（C）探刺郎在建造木屋上沒有享有比較利益（D）分工方式應由探刺郎造磚房、迷豆子造木屋。〔第4章〕



- 45.某魚類商品的市場供給需求圖，如圖5所示，S代表供給線，D代表需求線，該魚類商品目前的市場均衡價格為圖中P點；假設在其他條件不變的情形下，新聞報導：「該魚類商品經研究證實多吃可能有害身體健康」，則該因素最可能造成D與P的移動方向為何：（請務必看清楚圖中D1、D2線的位置及P、P1、P2這三點的位置）〔第3章〕
- （A）D→D₁、P→P₁（B）D→D₂、P→P₁（C）D→D₁、P→P₂（D）D→D₂、P→P₂
- 46.香奈乎與蝴蝶人準備開麵包店，他們希望透過分工合作生產的方式來提高產品的總產量，下表是他們每小時各自生產麵包與蛋糕的數量。請問：他們該如何分工最適合？（A）香奈乎做麵包，蝴蝶人做蛋糕（B）全由香奈乎來負責（C）全由蝴蝶人來負責（D）香奈乎做蛋糕，蝴蝶人做麵包。〔第4章〕
- 47.「比較利益原理」可用來落實「天生我材必有用」和「人盡其才」的理念；請問上述比較利益的概念與下列何者關係最密切？（A）需求法則（B）市場均衡（C）供給法則（D）機會成本。〔第3-4章〕
- 48.假設其他條件不變，鬼沙國貨幣若對日之呼吸國貨幣相對升值，則就日之呼吸國與鬼沙國之貿易而言，上述現象對日之呼吸國出口商、進口商的影響效果是：（A）對出口商有利、對進口商不利（B）對出口商不利、對進口商有利（C）對兩者皆有利（D）對兩者皆不利。〔第4章〕
- 49.甲幣與乙幣分別為甲和乙兩國的貨幣，10月1-10日甲幣對乙幣的匯率為1:0.6，11-20日匯率變為1:0.61，21-31日匯率變為1:0.62，請問此現象代表10月份甲幣與乙幣間的相對關係是：（A）甲幣升值、乙幣貶值（B）甲幣貶值、乙幣升值（C）甲幣升值、乙幣升值（D）甲幣貶值、乙幣貶值。〔第4章〕
- 50.柱石在市場上販售自製的手工餅乾，她想以最科學的方法計算出一盒應該定價多少，所以她在販售初期採取差別定價，做出如表4的統計表。根據以表4中資料判斷，柱石所生產的餅乾最可能定價在多少錢才能達成市場均衡？〔第3章〕

表4		
價格	供給量	需求量
250 元	100 盒	60 盒
220 元	90 盒	65 盒
190 元	85 盒	77 盒
160 元	70 盒	85 盒
130 元	60 盒	95 盒

- （A）160元（B）190元（C）170元（D）220元。