

【讀卡科目請依規定畫卡，若有違反畫卡規定而影響讀卡作業之情事，一律扣總分五分。】

【手寫答案卷需確實寫上班級、座號、姓名，違者一律扣總分五分。】

【手寫答案卷需用藍色或黑色墨水筆書寫，違者一律扣總分五分，使用鉛筆書寫扣五分。】

一、選擇題

1. 下圖為亞洲某現象的分布圖，其中 A 涵蓋的區域有哪些共同特徵？（P12）

(甲) 大多盛行季風 (乙) 多為高度經濟發展國家
(丙) 糧食作物以稻米為主 (丁) 傳統民居皆為斜頂設計



(A) 甲乙 (B) 乙丙 (C) 丙丁 (D) 甲丙。

2. 朝鮮半島上有兩個國家：南韓與北韓，兩國雖然位在同一个半島上，但是自然資源與人文環境差異很大。

下表中關於兩國的比較何者正確？（P13.22）

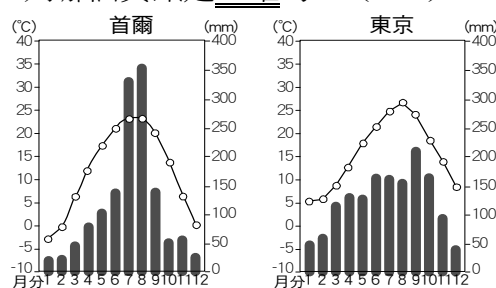
國家	(甲) 首都	(乙) 政治體制	(丙) 氣候類型	(丁) 天然資源
北韓	開城	民主體制	溫帶季風	缺乏資源
南韓	首爾	共產體制	溫帶季風	豐富的煤鐵礦

(A) 甲 (B) 乙 (C) 丙 (D) 丁。


3. 朝鮮半島的人口集中在黃海沿岸，日本人口則主要集中在太平洋岸，兩地人口分布的差異與下列哪個因素的關係最密切？（P14）

(A) 平原位置 (B) 緯度高低 (C) 降水多寡 (D) 礦產分布。

4. 下圖是南韓首爾與日本東京的氣候圖，由氣候圖判斷下列哪個資訊是正確的？（P15）



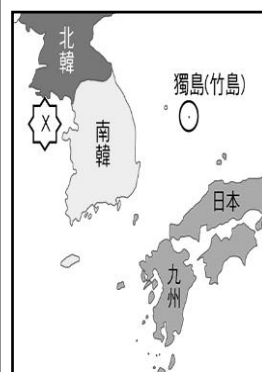
- (A) 東京降水量較多，是因為受到東北季風的影響
(B) 首爾冬季降水較少是因為西北風來自大陸內部較乾燥
(C) 東京冬季較溫暖，是因為日本地勢較低
(D) 首爾降水集中在夏季，是受到西南季風的影響。

5. 泡溫泉是日本的國民運動，「」此符號代表溫泉，上方畫了三道熱氣，是代表一天當中泡湯的最好時段為：晚餐前、晚餐後，以及睡覺前，總共三次，除了一般民眾外，在日本的野溪溫泉中甚至也看得到猴子泡溫泉的情形。請問：溫泉的形成與日本何項環境條件關係最密切？（P14）

(A) 位處中緯度地區 (B) 地處環太平洋火山帶
(C) 溫和溼潤的氣候 (D) 坡陡流急的河流。

6. ●獨島在哪裡？

南韓今天起在日韓間有主權爭議的獨島（日本稱竹島）周邊海域舉行為期 2 天的軍事演習，日本已透過外交管道提出強烈抗議，要求南韓軍方停止演習。獨島由東、西兩個島嶼和 37 塊岩礁組成。獨島四周海域是一片豐饒的漁場，海底可能蘊藏豐富資源，因主權涉及漁業等海洋利益，南韓與日本多年來為此僵持不下。南韓雖事實上控制獨島，但日本卻宣示獨島主權，導致日韓兩國關係緊張。【截中央社 2019/08/25】



新聞稿中這個具爭議的島嶼，其位置如右圖所示。請問：應位在下列哪個海域？（P13）

(A) 日本海 (B) 南海 (C) 黃海 (D) 太平洋。

7. 朝鮮半島的山脈排列大致呈「多」字型，骨幹「太白山」分布偏東，其位置與下列哪個地理特徵關係最為密切？（P14）

(A) 位居大陸與島嶼間的橋梁位置 (B) 全境均屬溫帶季風氣候
(C) 山地直逼海岸，海岸曲折 (D) 都市與人口分布偏向西部。

8. 賞櫻是日本人春季的一大盛事，稱之為「花見(Hanami)」。每年 3 月起日本氣象廳就會開始做櫻花綻放的日期預報(如圖)，供民眾安排賞櫻活動時的參考。

請問：家住印尼的美美想在五月訂機票前往日本賞櫻，他應該選擇哪個地區才能欣賞到櫻花初開的景象？

(P15)

(A) 九州 (B) 北海道
(C) 四國 (D) 本州。

9. 從圖中發現日本主要工業區和工業都市多集中在太平洋沿岸，其主要原因不包含下列何者？（P22）



(A) 礦產豐富 (B) 交通便利 (C) 鄰近航線 (D) 地形平坦

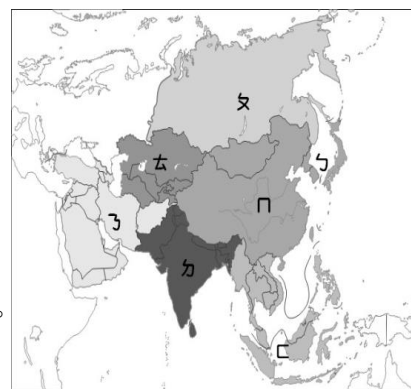
10. 日本積極進行海外投資與設廠，卻造成「產業空洞化」，意指企業為降低成本，將生產單位轉移至生產成本相對較低的國家，導致其國內失業率提高、產業衰退與經濟結構失衡的現象。下列四種職業，何者最有可能會面臨所屬產業外移的問題？（P22）
(A)在市郊種植花卉 (B)在太平洋從事遠洋捕撈
(C)在電腦代工廠組裝零件 (D)在遊戲研發部上班。
11. 臺、日、韓三國近幾年來皆努力推動智慧型農業的相關政策，如無人機灑藥施肥、農地水量自動管理、自動駕駛的耕耘機等，並利用大數據分析及預測天候環境，以提高作物產量。這樣的農業變化趨勢，除了導因於科技的進步，也與哪一項困境有關？（P25）
(A)減少溫室效應的影響 (B)因應加入 WTO 的衝擊
(C)耕地面積嚴重不足 (D)農業勞動人口減少。
※日本使用年號來紀年的方式仿自於中國，飲茶、花道皆由中國傳入；而在韓國，農曆過年、端午、中秋則並列為年度三大節日，歲時節慶與中國相似。此外，中、日、韓三國的人們為了適應各自不同的自然環境，也發展出各具特色的住屋形式與飲食文化。請回答 12.13 題：（P16.17.18）
12. 日本和南韓部份的文化特色，受到中國的影響很深，其原因為何？
(A)人民種族相同 (B)同處板塊交界
(C)皆為季風氣候 (D)地理位置相近。
13. 東北亞飲食受氣候影響，發展出獨特的文化樣貌。而一個地區的住屋形式、設施也與其氣候條件息息相關，下列哪一種特色敘述與氣候無關？
(A)日本房舍多以輕質木造建築為主 (B)韓國在屋中設置暖炕設施(C)日本合掌村使用傾斜度較大的屋頂(D)發展各式漬物、泡菜。
14. 工業區在設置時會考慮很多因素，右為南韓工業區分布圖，由圖中可讀出下列哪個訊息？（P23）
(A) 主要發展輕工業
(B) 原料與產品，仰賴進出口
(C) 企業總部遷移海外
(D) 政府扶植大型財團。
15. 根據下面文章內容，請找出最適合為本文的主題？（P27）



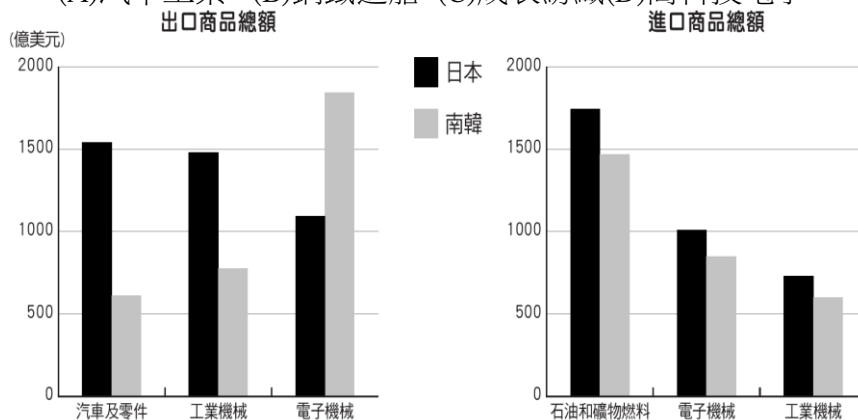
「南韓度過西元 1997 年的亞洲金融風暴以後，國內生產毛額(GDP)有顯著的提升，其中文化產業的蓬勃發展功不可沒，尤其在影視、音樂、電玩產業等領域，最高曾占國內生產毛額將近 7%的產值，而透過韓劇在亞洲的熱賣，不僅提升大韓民族的形象，更創造顯著的經濟利益，像是到訪南韓的觀光人數因為韓劇的熱賣而大幅增加。南韓的文化產業除了帶動觀光業成長以外，連帶食品、文具和服飾等商品也都跟著熱賣起來。」

- (A) 跨國企業在全球經濟中的角色 (B)東北亞的經濟發展與衰微 (C) 文化產業帶來的經濟成果(D)戲劇融入民族意識已成為潮流。

16. 右為亞洲分區圖。韓國與日本的競合關係十分微妙，西元 2019 年，該國民眾因與日本的歷史舊恨引發貿易戰爭，開始發起拒買日貨活動，像是日本啤酒對於該國出口量就驟減了 99.3%，連帶釀酒的原料也受影響，米便是其中之一。請問：上文提及的兩個國家位於圖中哪一個分區？（P29）
(A)ㄅ (B)ㄆ (C)ㄇ (D)ㄊ。



17. 透過一個國家的進出口貿易商品，我們可以大致了解該國在經濟發展上的強項及其不足之處。下圖是日本及南韓在西元 2018 年國際貿易前三大進出口商品類別及金額。請問：目前這兩個國家經濟發展的主要產業，並未包含下列何者？（P28）
(A)汽車工業 (B)鋼鐵造船 (C)成衣紡織(D)高科技電子。



◎題組：請閱讀下列短文並回答 18-19 題。

國共之間的結盟，主要因為民國初年的軍閥割據與外國勢力紛亂，雖然兩黨之間的政治立場和發展目標並不相同，但在軍事的合作、社會改革、重新統一國家上面，目標是一致的。

在南方廣州攜手訓練一批軍事菁英，緊接著於西元 1926 年大舉北上，推進至長江流域，可謂是軍事上的大成功。軍事上的成功反而加深國共之間的政治衝突，西元 1927 年於武漢發生內部鬥爭，使得國共合作宣告終結，造成北伐事業的中斷。緊接著於 1928 年 5 月 3 日，某列強於華北地區製造事端，再度造成北伐事業中斷，然國民革命軍沉得住氣繞道北伐，於 1928 年 12 月底接受東北各省的歸順，名義上結束了長達十幾年的中國內部分裂。

18. 請問：哪些重大史事的發生，阻撓國民革命軍北伐的進程？(甲)黎元洪、段祺瑞府院之爭 (乙)蔣中正清黨、國民政府內部分裂 (丙)段祺瑞毀棄臨時約法、參與第一次世界大戰 (丁)日本出兵山東，製造濟南慘案 (A)甲乙 (B)乙丙 (C)甲丁 (D)乙丁。（1-3 P.84）
19. 請問：哪些因素使得國民革命軍於 1928 年底完成北伐統一？(甲)蘇聯協助國民黨完成黃埔建軍 (乙)蔣中正於濟南慘案中，率北伐軍奮力擊退來犯日軍 (丙)東北軍閥張作霖遭日本人炸死，其子張學良率部歸順南京國民政府 (丁)中國共產黨始終與國民政府合作完成北伐目標 (A)甲乙 (B)乙丙 (C)甲丙 (D)乙丁。（1-3 P.84）

20. 有一文獻內容如附圖所示，從這份文獻的內容判斷，其與下列何事有關？ (A)參與第一次世界大戰 (B)二十一條要求 (C)迫清帝退位 (D)恢復帝制聲名。(1-2 P.82)

本大總統特派全權委員與日本全權委員在北京議訂關於山東省之條約及關於南滿洲及東部內蒙古之條約……。

中華民國4年6月1日

◎題組：請閱讀下列短文並回答 21-23 題。

中國外交官員顧維鈞在一封給北京政府的電報中表示：「日本宣稱自己繼承德國在山東的權益，但中國在對德宣戰後，早就廢除了清末以來所有不平等條約，日本憑什麼繼承被廢除的條約？日本代表於和會中，提出段祺瑞政府於民國6年(西元1917年)對於「二十一條」要求中的山東權益再簽署「欣然同意」，被日方認為是追認「二十一條」，以此拒絕中國收回山東的要求。於是英、美等國將中國的權益出賣給日本，使日本得以繼承德國的特權，但在國內群眾發起示威運動抗議浪潮的壓力下，我們的代表決定拒絕接受列強這樣的安排，在和會中拒簽和約內容，並將親日派的官員全數遣回……。」請問：

21. 上述提到的民眾抗議浪潮，是指何事？顧維鈞參與的是哪一場和會？ (A)五四運動、巴黎和會 (B)復辟運動、濟南和會 (C)立憲運動、巴黎和會 (D)護法運動、南京和會。(2-2 P.88)
22. 在此抗議浪潮下，下列哪個口號與此運動無關？ (A)「外爭主權，內除國賊」 (B)「廢除二十一條要求」 (C)「還我山東，還我青島」 (D)「扶清滅洋、仇洋反教」。(2-2 P.88)
23. 關於這項國內群眾示威運動的影響，下列敘述何者錯誤？ (A)全國各地大學出現不同訴求的學生運動 (B)新女性積極參與社會運動，婚姻與愛情較傳統女性擁有更大的自主意識 (C)李大釗、陳獨秀等人於民國10年成立中國國民黨 (D)迫使北京政府拒絕簽署巴黎和約。(2-2 2-3 P.88-P.89)
24. 辛亥革命之所以能成功，除了孫中山的努力外，也集合了眾多的歷史因素而發展。請問：下列哪些選項的解讀是正確的？ (A)甲乙 (B)乙丙 (C)甲丙 (D)甲丁。(1-1 P.80)

(甲)武昌起義後，各省紛紛群起響應，進而促成中華民國建立
(乙)湖北省保路風潮高漲，調動四川新軍前往鎮壓，為革命黨人起義製造有利的形勢
(丙)長江以南各省在立憲派與革命派的合作下，相繼宣告獨立
(丁)因為英法聯軍的爆發，促使孫文及革命黨人士主張武力推翻滿清

25. 孫中山曾於民國初年的一場喪禮，送上親自題字的輓聯「作民權保障，誰非後死者！為臨時約法流血，公真第一人。」以下關於這副輓聯所描述的對象之敘述，何者正確？ (甲)孫中山因此決定發起二次革命，主張討伐段祺瑞 (乙)此人主導的國民黨主張以政黨政治約束總統權限，因國會大選獲勝而遭遇不測 (丙)這場喪禮是為洪憲帝制失敗的袁世凱所籌辦 (丁)這場喪禮是為實踐內閣制理想而遭暗殺的國民黨領導人宋教仁所籌辦 (戊)造成這位人物死亡的嫌疑犯都與張作霖有密切或直接關係 (A)甲乙 (B)乙丁 (C)甲丁 (D)丙戊。(1-2 P.81-P.82)

◎題組：請閱讀下列短文並回答 26-28 題。

清末以來，各地新式學堂興起和出國留學風氣漸盛，造就一批新知識分子。他們興學出書，宣揚新知，帶動思想與政治社會的變革，成為中國社會推動新文化運動的主要力量。請問：

26. 民國4年，陳獨秀創辦下列哪個刊物，引介西學，批判傳統？ (A)《萬國公報》 (B)《新民叢報》 (C)《白話報》 (D)《新青年》雜誌。(2-1 P.86)
27. 西元1917年，他接任北京大學校長後，奉行「對於各家學說，依各國大學通例，循思想自由原則，兼容並包」，使北大洋溢多元學術的色彩。這位使北京大學校風為之一變且成為推動新文化運動重鎮的人物為何？ (A)蔡元培 (B)梁啟超 (C)蔣中正 (D)胡適。(2-1 P.86)
28. 請問：以下敘述哪些與新文化運動的內容無關？ (甲)批判傳統文化與儒家思想，打倒孔家店 (乙)提倡君主立憲，成立責任內閣制 (丙)引入共產主義思想，介紹「德先生」、「賽先生」的觀念 (丁)提倡白話文取代艱澀難懂的古文 (A)甲 (B)乙 (C)丙 (D)丁。(1-3 P.87)
29. 下列為一位學者於西元1915年所發表的文章節錄，請閱讀後回答問題。
「……中國數千年以來，習於君主專制體制，各地學校短缺，大多數之人民智識不甚高尚，人民更缺乏參與政治之能力，四年以前，由專制一變而為共和，此番變動太快，難望有良好結果……中國將來必因總統繼承問題「釀成禍亂」……如一時不立即撲滅禍亂，可能導致敗壞中國之獨立……中國如用君主制，較共和制為宜，此殆無可疑者也。」(資料來源：古德諾。共和與君主論。西元1915年8月20日發表於北京每日新聞。)
請問：此篇文章的發表，最可能為下列何人的哪一項政治野心鋪路？ (A)袁世凱、洪憲帝制 (B)段祺瑞、控制北京政府 (C)梁啟超、君主立憲 (D)張勳、溥儀復辟。(1-2 P.82)

◎題組：請閱讀下列短文並回答 30-31 題。

一位演講者提到：「我們的組織宗旨是『驅除韃虜，恢復中華，創立民國，平均地權』，這剛好呈現出民族主義、民權主義與民生主義的內涵，在這樣的精神感召下，我們將號召更多人一同投入這樣的革命事業中，希望能藉此創立一個民主共和國體制。」請問：

30. 根據上述演講的內容可知，這位演講者與組織搭配最有可能是何者？ (A)梁啟超、立憲派 (B)李鴻章、興中會 (C)孫中山、同盟會 (D)康有為、立憲派 (1-1 P.80)
31. 組織的宗旨是希望能夠「驅除韃虜」，「韃虜」所指為何？ (A)日本 (B)滿清 (C)俄國 (D)英國。(1-1 P.80)

32. 振華說道：「新女性若走入職場，對女性自身人格、教育、社交、婚姻等方面皆有正面影響，不但能減輕男性的負擔，又能使女人不依賴男人養活，保障女性生活及人格的獨立……。」這樣的觀點最可能出現在何時？
(A)明朝初年 (B)明朝末年 (C)清朝初年 (D)民國初年。(2-3 P.89)
33. 民國初年發生了兩件與帝制有關的事件，下列選項皆與帝制事件有所關聯，請選出與史實相符的敘述。(甲)袁世凱在解散國會，毀棄臨時約法後，立即稱帝 (乙)張勳發動復辟，是為了擁立前清廢帝溥儀 (丙)黎元洪與段祺瑞發生了府院之爭，導致張勳有機會發動復辟 (丁)段祺瑞鎮壓張勳復辟帝制後，拒絕恢復臨時約法，以致孫中山號召國會議員南下廣州展開護法事業 (戊)洪憲帝制登基的皇帝是溥儀 (A)甲乙丙 (B)乙丙丁 (C)丙丁戊 (D)甲丁戊。(1-2 P.82-P.83)
34. 西元 1917 年俄國發生革命，成立世界上第一個共產政權，稱作「蘇維埃社會主義共和國聯邦」，簡稱「蘇聯」。蘇聯於西元 1921 年在中國成立「中國共產黨」，為尋求在中國發展，與當時想壯大國民黨組織和軍權的孫中山合作。孫中山更聘請俄國人鮑羅庭為顧問進行協助，是為「聯俄容共」政策。請問：依據上文敘述判斷，下列何者敘述有誤？ (A)共產黨員加入國民黨後，漸接受孫中山「三民主義」而拋棄「共產主義」 (B)合作基礎在於共產黨員須以個人名義加入國民黨 (C)蘇聯協助國民黨進行黨組織的改造，並提供軍事與經濟援助 (D)在國共合作的前提下成立黃埔軍官學校，展開北伐事業。(1-3 P.84)
35. 下圖為公民課小志報告時用來輔助說明的圖卡。根據內容判斷，下列相關敘述何者正確？ (A)呈現的是人治社會 (B)以法律來限制政府的權力 (C)執行法律沒有一定的標準 (D)賦予政府無限的權力。(p 136)




36. 我國《憲法》規定的修憲程序，須經立法委員 1/4 提議，3/4 出席，及出席委員 3/4 之決議，才能提出《憲法》修正案。並於公告半年後，進行選舉人公投，有效同意票必須超過選舉人半數以上，才能完成修憲程序。由上述可知，《憲法》的修訂程序複雜，顯示憲法具有何種特性？ (A)固定性 (B)最高性 (C)原則性 (D)理想性。
37. 公民老師上課時提到的法律類型及制定機關整理如附表筆記，但不慎有所汙損。下列何者可能是汙損處的內容？ (A)立法院 (B)司法院大法官 (C)行政機關 (D)地方法院。(p138)

項目	類型	制定或修正機關
甲	憲法修正案	立法院
乙	憲法	國民大會
丙	法律	立法院
丁	命令	

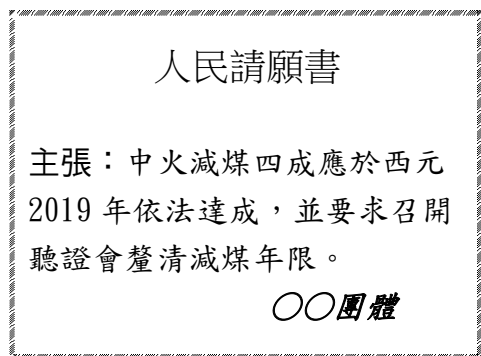
38. 臺灣每年夏、秋兩季常有颱風侵襲。此時，各地方政府首長會視天氣狀況，發布是否上班上課的訊息。上述訊息屬於法律的何種層級？ (A)緊急命令 (B)法律 (C)命令 (D)憲法。(p138)
39. 下圖為小芳在政府官網上看到的一則憲法的解釋文，根據內容判斷，有關憲法內涵的描述何者正確？ (A)僅針對人民權利義務訂基本規範 (B)任何法律及命令與其牴觸者無效 (C)憲法修正後公告半年再公民複決 (D)憲法由立法院修改後總統公告之。(p 137)

解釋字號	釋字第 791 號【通姦罪及撤回告訴之效力案】
解釋公布院令	中華民國 109 年 05 月 29 日 院台大二字第 1090015723 號。
解釋文	刑事訴訟法第 239 條但書規定：「但刑法第 239 條之罪，對於配偶撤回告訴者，其效力不及於相姦人。」與憲法第 7 條保障平等權之意旨有違，且因刑法第 239 條規定業經本解釋宣告違憲失效而失所依附，故亦應自本解釋公布之日起失其效力。

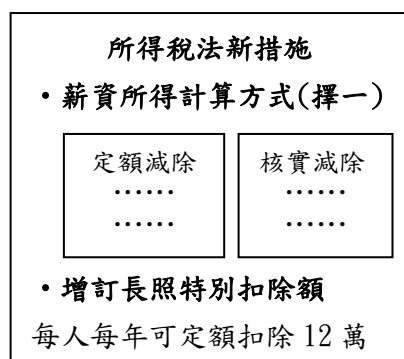
40. 小豪：「我認為市政府所訂定的《老人生活津貼審核辦法》，不符合公平正義原則。」
小芬：「如果多數市民也這麼認為，則可運用法律賦予人民的權利，依一定程序來決定保留或是廢除這項法規。」上述小芬所說的權利，是指公民的哪項參政權？
(A)選舉權 (B)罷免權 (C)創制權 (D)複決權(p 141)
41. 我國《憲法》保障人民的平等、自由、受益與參政基本權利。下列哪項權利的行使屬於參政權的範圍？(p141)



- 42 大學課堂中對於人民權利的討論，下列何者有誤？ (A) 小江：「透過公民投票決定公共事務，是參政權的實踐。」 (B) 老劉：「我要上法院提出訴訟，行使人民的受益權。」 (C) 小張：「我擁有自由權，可以決定自己要信仰的宗教。」 (D) 老宋：「警察無正當理由監聽我的電話，侵害到了我的平等權。」 (p140,141)
- 43 下圖為某團體的請願書，這應該是人民在請求何種權利？ (A) 勞動權 (B) 環境權 (C) 自由權 (D) 長期照顧權。 (p140,141)

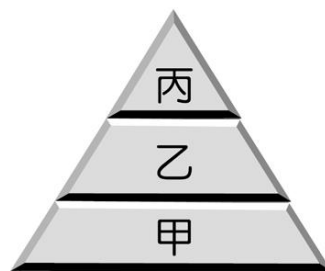


- 44 我國《憲法》第 62 條：「立法院為國家最高立法機關，由人民選舉之立法委員組織之，代表人民行使立法權。」第 63 條：「立法院有議決法律案、預算案、戒嚴案、大赦案、宣戰案、媾和案、條約案及國家其他重要事項之權。」根據前述兩條文之內容，足以證明制定《憲法》對於國家的何種重要意義？ (A) 規範政府的組織與職權 (B) 保障人民的基本權利 (C) 立法程序通常較為繁複 (D) 補充法律命令的具體規範。 (p137)
- 45 公民老師請學生發表對行政法的相關敘述，下列哪位學生的說法錯誤？ (A) 行政行為皆須遵守「依法行政」原則 (B) 主要目的是為了限制人民的權利 (C) 拘留、罰鍰等處分，皆屬於「行政罰」 (D) 警察取締違規停車屬於行政法的範疇。 (p 150,151)
- 46 下圖為政府制定的法規與相關措施，納稅義務人須依據此規定繳納稅額。該法律彰顯行政法具有下列哪項特性？ (A) 是一部專屬且獨立的行政法典 (B) 將人民權利義務的規範具體化 (C) 明確規範人民基本權利的內涵 (D) 僅就重要事項作原則性的規範。 (p147)



- 47 109 年底聯合報刊載國立東華大學前學生會長許同學因在校內違規行駛、違規停車及停車逾時等原因被開單，積欠違規金額未繳納而未辦妥離校手續，學校因此僅核發「畢業證明書」，而未給予畢業證書。大學生對此不服，向教育部提起_____。根據文中內容，該空格內應當填入下列何者？ (A) 遊說 (B) 請願 (C) 訴願 (D) 罰鍰。 (p151)

- 48 下列選項中的行政行為，哪些屬於行政機關為了維護社會秩序，對人民採取強制或干預等行政措施？(甲)工廠排放廢水，被行政主管機關勒令歇業(乙)高中畢業後，選擇繼續就讀大學(丙)開車未繫安全帶，被警察開出罰單(丁)通過路考，領取汽車駕駛執照 (A) 甲乙 (B) 乙丙 (C) 甲丙 (D) 乙丁。 (p 150,151)
- 49 圖為法律依位階高低所區分的三個層級，若以我國國民教育為例：
《ㄅ》：「凡 6 歲至 15 歲之國民，應受國民教育；已逾齡未受國民教育之國民，應受國民補習教育。」
《ㄆ》：「人民有受國民教育之權利與義務。」
《ㄇ》：「國民小學及國民中學之設置，除依本法第三條及第四條規定外，應依下列各款辦理：一、以便利學生就讀為原則。二、以分別設置為原則。」
上述ㄅ、ㄆ、ㄇ依序代表圖中哪個位階的法規？ (A) 乙、丙、甲 (B) 乙、甲、丙 (C) 丙、甲、乙 (D) 丙、乙、甲。 (p137,138)



- 50 小峰收到一張「臺北市府交通局」發出的違規停車罰單，關於政府該行政作為，下列敘述何者最為貼切？ (A) 執行單位為行政及立法機關 (B) 不受上位階的法令拘束 (C) 縮小並侵害人民的權利 (D) 行政行為必須有法律依據。 (p141)