

新北市立中正國民中學109學年度第二學期九年級社會科 第一次段考試題

範圍：地理科和歷史科第一~二章

班級：__ 座號：__ 姓名：__

公民科第一~三章

【讀卡科目請依規定畫卡，若有違反畫卡規定而影響讀卡作業之情事，一律扣總分五分。】

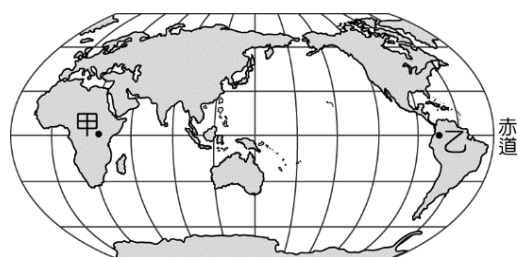
【手寫答案卷需確實寫上班級、座號、姓名，違者一律扣總分五分。】

【手寫答案卷需用藍色或黑色墨水筆書寫，違者一律扣總分五分，使用鉛筆書寫扣五分。】

單一選擇題：每題兩分。

1. 附圖為全球各大洲分布圖，赤道通過的地區幾乎均為熱帶雨林氣候，但圖中的甲、乙兩區卻不是此種氣候類型。造成上述狀況的因素為下列何者？ P7-8

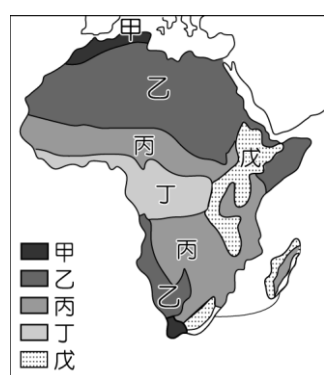
(A) 海陸分布 (B) 植被疏密 (C) 洋流差異 (D) 地勢高低。



2. 「……許多探險家想從沿海順著口口河的河道，深入河流的源頭。但因為環境的限制，困難重重，直到十九世紀才由史坦萊探測成功。」文中的口口河因為地形限制造成下游落差大，多瀑布急流最可能是指下列何者？(A) 尼羅河 (B) 尼日河 (C) 剛果河 (D) 三比西河。 P.7

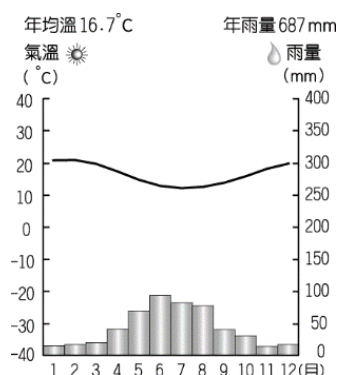
3. 東非大裂谷為 3500 萬年前所形成的地理奇觀，主要由非洲板塊運動所造成。請問：其地質構造主要為下列何者？(A) 褶曲向斜 (B) 斷層陷落 (C) 斷層隆起 (D) 褶曲背斜。 P.7

4. 臺灣的國際珍古德教育及保育協會於1998年成立，秉持著珍古德博士的理念：『每一個人都是重要的一份子，每一個人都可以造成改變』。因此，台灣的非洲志工隊學生將秉持著這樣的理念前往熱帶雨林的剛果服務，獲取人生中相當難得的經驗。這些學生最可能前往的地區為下列何處？(A) 甲 (B) 乙 (C) 丙 (D) 丁。 P.8



5. 承上題，在非洲肯亞高草疏林大草原探尋獅子、大象、花豹和水牛群等動物大遷移為當地一年一度的盛典，總是吸引了大量的旅客前往。在非洲野生動物棲息地多位於上圖中的何種氣候帶內？(A) 甲 (B) 乙 (C) 丙 (D) 丁。 P.8.16

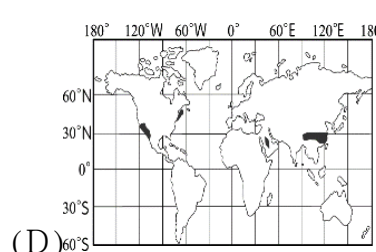
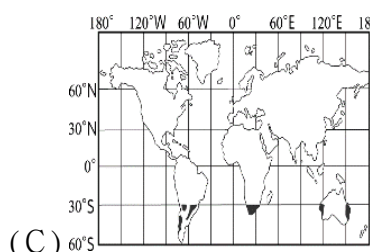
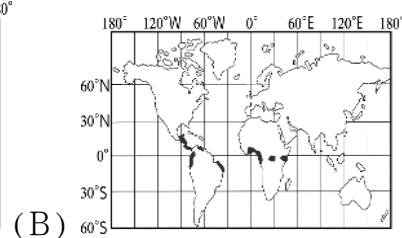
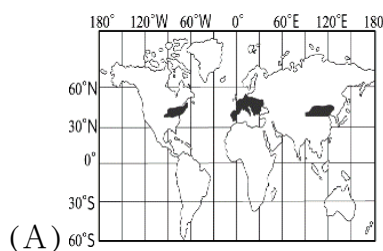
6. 附圖為程程到某地區旅遊的氣溫雨量圖，請由圖中資料加以判斷，該地區的氣候類型何者最有可能是程程旅遊的行程？(A) 紐西蘭福克斯冰河5日遊 (B) 北極極光5日遊 (C) 法國蔚藍海岸、葡萄酒莊8日遊 (D) 南非葡萄酒莊、好望角10日之旅。 P.11



7. 「位在非洲森林裡的揚加人部落，其生活方式非常原始，當他們的生產活動造成土地肥力耗竭，致使食物供應大減時，便將該地棄置，再尋找另一塊林地生活。」上文主要是在描寫該部落的何種生活方式？(A) 粗放的游耕 (B) 逐水草而居 (C) 林木加工業 (D) 採集與狩獵。 P.10
8. 附圖為愛滋病疾病的感染率圖，其中最嚴重的是某一洲。依此判斷，此種疾病主要分布在下列何處？(A) 亞洲 (B) 非洲 (C) 歐洲 (D) 中南美洲。 P.16



9. 熱巧克力是受大眾喜愛的飲料，它濃郁的口感與香氣，易使人產生幸福的感覺。巧克力的原料——「可可豆」，全球每年吃掉的巧克力或可可豆相關產品超過350萬噸。早期西班牙人將它傳入歐洲後，發展出添加糖和牛奶的飲料形式，再演變成塊狀巧克力，廣受歐洲人歡迎。為增加產量，西班牙人曾派遣商船航行到非洲，以衣物等民生製品交換、誘騙當地黑人上船，將他們運送到種植可可的農園工作，這些商船再將農園產品運回歐洲母國販售。文中提到的原料，依其生長條件判斷，最可能分布於下列哪一幅標示的區域中？ P.20



10. 小均若要利用暑假前往與台灣有邦交，位於密克羅尼西亞的帛琉旅遊，當他搭上直航的班機後，飛機飛行的方向大致為何？(A)東北(B)西北(C)東南(D)西南方。P.22
11. 澳洲因為地理環境的差異，因此形成不同的氣候區分布。目前該國人口最為集中的是夏雨型暖溼氣候地區，主要位於下圖中何種氣候帶內？
(A)甲 (B)乙 (C)丙 (D)丁。 P.26



12. 「在油價飆漲的時代，各國紛紛尋求替代能源，其中利用太陽能發電是發展比較成熟的技術，但是也有其限制，必須在日照充足、雲層阻擋少、場地空曠的地方設置發電廠。」僅考慮上述的自然條件，若要設置一大型太陽能發電廠，下列何地最適合？(A)熱帶雨林區 (B)針葉林區 (C)兩極地區 (D)沙漠地區。P.8.26
13. 南極大陸西北的一座冰棚，2月27號發生10年來，第三度大規模崩裂，一座面積1270平方公里的冰山，大約是5個台北市大小，斷裂脫離。最近許多科學家在南極大陸進行科學研究，這將對解開地球之謎幫助甚大。這些科學家所進行的研究內容可能為下列何者？(A)石化資源的形成 (B)野生動物的遷移 (C)世界氣候的變遷 (D)海陸板塊的撞擊。 P.32
14. 紐西蘭的南島及北島為該國面積最大的島嶼，下列有關這兩個地區的敘述中，何者最為正確？ P.28

	(A)地形	(B)緯度	(C)氣候	(D)風向
北島	冰河	較低	溫帶	西風
南島	火山	較高	熱帶	東風

15. 附圖為世界重要都市的分布位置圖，若以航空交通往來於亞洲及美國兩地，最短的航線經過下列哪一個海域？(A)地中海 (B)大西洋 (C)印度洋 (D)北極海。P.31



16. 小葶利用假期到紐西蘭的南島觀光，並在課堂中將這趟行程的特色和大家分享，下列有關該地區的敘述何者正確？(A)火山地形為主 (B)熱帶雨林 (C)最大都市商港所在 (D)福克斯冰河。 P.28
17. 大洋洲中著名的夏威夷群島位於三大島群中東側的玻里尼西亞，而度假天堂關島則位於西側的密克羅尼西亞。這兩個島群之間主要以下列哪一條經緯線相隔？(A)國際換

日線 (B)本初經線 (C)赤道 (D)北回歸線。 P.23

18. 關於近代拉丁美洲各國歷史發展和其建國獨立運動的敘述，下列敘述何者正確？(A)拉丁美洲向來有「歐洲火藥庫」之稱 (B)地理大發現後，葡、西、德、義等國隨即對拉丁美洲進行侵略，此屬於新帝國主義的行為 (C)玻利維亞共和國國名，即是為了紀念有「南美華盛頓」之稱的林肯 (D)十九世紀開始，美國對拉丁美洲的滲透控制行為，屬於新帝國主義的侵略。(P.80)
19. 小婕上臺報告日耳曼統一的經過：維也納會議後成立日耳曼邦聯，後來(甲)由薩丁尼亞王國領導，成立關稅同盟，達成(乙)軍事上的統一，1862年威廉一世任用(丙)俾斯麥為首相，推動政治統一，1870年發生(丁)普奧戰爭，次年完成統一建國。其中僅有一項正確？(A)甲 (B)乙 (C)丙 (D)丁。(P.70)
20. 以下哪一組人物和主張的配對，何者是正確的？(A)俾斯麥：「現謹將我們軍隊征服的南部地區，獻給我們最誠實的國王——薩丁尼亞國王。」(B)加里波底：「當前各種重大問題，不是說空話或多數議決所能解決的一復興日耳曼，只有靠鐵與血。」(C)門羅：「帝國就是和平！只要我當皇帝，我將帶給你們昔日法蘭西民族光榮的神話。」(D)馬志尼：「莫在祖先的帳中沉睡。青年人啊，熱愛理想吧！崇敬理想吧！復興古羅馬的光榮吧！」(P.71)
21. 第一次世界大戰前，國際間結盟的情勢逐漸形成，當時法國拉攏俄國相互結盟的背景為何？(A)普法戰爭之後，法國被德國孤立 (B)德國積極發展海軍，威脅到俄國 (C)英國鼓吹日耳曼民族團結，威脅到俄國 (D)德國煽動墨西哥反俄，引起俄國的不安。(P.81)
22. (甲)浪漫主義 (乙)寫實主義 (丙)印象派 (丁)啟蒙運動 (戊)文藝復興。上述哪些屬於十九世紀文藝發展的內容？(A)甲乙丙 (B)乙丙丁 (C)乙丙戊 (D)丙丁戊。(P.75)
23. 下列學生做有關 19 世紀到 20 世紀初期歐美的社會及文化的報告，各自所選出的主題、人物和成就，那些人的敘述正確？[甲]：我要選印象派代表梵谷，他的作品《拾穗》反映出真實的農村生活。[乙]：我想選畢卡索，他所開創的立體畫派令人驚艷，充滿創新。[丙]：我想選佛洛伊德，因為對他在心理學上有關夢的解析很感興趣。[丁]：我要選雷馬克，他的作品《戰地春夢》述說一次大戰的殘酷，好看。[戊]：我想選愛因斯坦，他提出開創性的「相對論」，影響 20 世紀物理學發展。(A)乙丙丁 (B)乙丙戊 (C)甲丙戊 (D)丙丁戊。(P.86,87)
24. 第一次世界大戰戰爭結束，召開會議處理戰後國際局勢，關於該會議的相關敘述，下列何者正確？(A)法國總理 克里蒙梭提出的「十四點和平原則」為會議指導原則 (B)美國總統威爾遜的主張，促使日本在臺灣推行皇民化運動 (C)會中決定要讓戰敗國負擔巨額的賠款與戰敗責任 (D)會中決議將山東讓給日本，引發中國的新文化運動。(P.84)
25. 世俊是某部歷史小說的主角，生於十八世紀的長崎；他想要到國外遊歷，便偷偷登上一艘停泊於港口的外國船隻，打算偷渡出國。依據史實，他後來最有可能隨船抵達哪個國家？(A)美國 (B)紐西蘭 (C)英國 (D)荷蘭。(P.73)
26. 十九世紀拉丁美洲各國紛紛獨立，當時推動玻利維亞、委內瑞拉等國獨立的玻利瓦曾說：「只有團結才能驅逐敵人，建立一個自由的政府。」玻利瓦所指的「敵人」應是下列哪一國家？(A)美國 (B)英國 (C)西班牙 (D)義大利

新北市立中正國民中學109學年度第二學期九年級社會科 第一次段考試題

範圍：地理科和歷史科第一~二章

班級：___ 座號：___ 姓名：___

公民科第一~三章

- 。(P.67)
27. 巴爾幹半島長期動盪不安，經常有危機發生，因此有「歐洲火藥庫」之稱。請問：該地區在 19 世紀時紛紛脫離下列哪一個國家的殖民統治？ (A)羅馬帝國 (B)亞歷山大帝國 (C)拜占庭帝國 (D)鄂圖曼土耳其帝國。(P.68)
28. 第一次世界大戰後，世界各地出現許多新興國家；這些國家大多集中在哪一個地區？ (A)亞洲 (B)非洲 (C)歐洲 (D)拉丁美洲。(P.85)
29. 日本歷史上的某位統治者憂心因天主教傳入，破壞傳統的社會文化，於是驅離傳教士，乃至禁止外國商船到日本，於是實施「鎖國」的政策。請問：該政策的實施，是由下列何者所頒布？ (A)日本天皇 (B)江戶幕府 (C)室町幕府 (D)鎌倉幕府。(P.79)
30. 十九世紀開始，歐洲國家對非洲進行侵略，紛紛建立殖民地；然而只有哪兩個國家，仍維持其獨立地位？ (A)阿爾及利亞、賴比瑞亞 (B)賴比瑞亞、衣索比亞 (C)剛果、賴比瑞亞 (D)利比亞、衣索比亞。(P.74)
31. 皇儲斐迪南大公夫婦到塞拉耶佛檢閱軍事演習時，引起塞爾維亞民族主義者的憤怒，並派人暗殺皇儲夫婦，成為一次大戰的導火線。請問：斐迪南大公應是哪個帝國的皇儲？ (A)奧匈帝國 (B)德意志帝國 (C)俄羅斯帝國 (D)鄂圖曼土耳其帝國。(P.81)
32. 德米特里回憶童年時說：「記得在 1917 年 2 月，聖彼得堡發生革命，沙皇退位；半年後又爆發十月革命，最後我國退出第一次世界大戰。」根據內容，德米特里應該為哪國人？ (A)俄國 (B)英國 (C)奧國 (D)德國。(P.82)
33. 義大利半島在 19 世紀初期曾經被拿破崙所征服，但維也納會議之後，又再度分裂成數個小國。請問：當此分裂之際，義大利半島受哪些列強所控制？ (A)英、法 (B)奧、法 (C)奧、德 (D)英、德。(P.71)
34. 美國自 19 世紀中期開始，對歐洲各國的爭端即抱持著「中立」的態度，但至 20 世紀初期，歐洲各國因為族群對立與利益衝突所引發一場世界大戰當中，美國卻轉而參戰。請問：該轉變的主要原因為何？ (A)日本進佔遼東半島 (B)義大利的倒戈 (C)俄國退出戰場 (D)德國實施無限制潛艇政策。(P.82)
35. 小丸子一時好奇，盜用好友小玉的帳號、密碼，偷看她的電子郵件內容。上述小丸子的行為會不會觸犯法律？ (A)不會 (B)會，觸犯《著作權法》 (C)會，觸犯《刑法》竊盜罪 (D)會，觸犯《刑法》妨害電腦使用罪。(Ch2)
36. 《道路交通管理處罰條例》新規定已在民國 100 年 8 月 1 日正式上路，並從民國 101 年 2 月 1 日起開罰。修正後的《道路交通管理處罰條例》增列後座乘客亦須繫安全帶的規定，一旦違反規定，處駕駛人新臺幣 1,500 元罰鍰。在新法令實施前，政府透過各種傳播媒體大力宣導新的規定與罰則，以利推動，這是傳播媒體何種功能的發揮？(甲)提供訊息 (乙)教育大眾 (丙)休閒娛樂 (丁)監督政府 (A)甲乙 (B)甲丁 (C)乙丙 (D)乙丁。(Ch2)
37. 我國政府制定《個人資料保護法》，透過立法規範，個人資料之蒐集、處理及利用，應該尊重當事人之權益，並於合理的目的與範圍下，才能利用個人資料。上述規定是為了避免個人的哪種權利遭受侵害？ (A)參政權 (B)環境權 (C)人格權 (D)平等權。(Ch2)
38. 【甲】致力促使全世界人類盡可能獲得最高的健康水準，西元 2020 年 10 月 9 日【甲】宣布通報新增 35 萬多例新冠肺炎(COVID-19)確診，創單日新高，再次要求各國不僅須專注實施管制措施，也要加強監測系統、檢測、接觸者追蹤和確保民眾都有參與防疫。上述【甲】最可能是下列何者？ (A)世界貿易組織 (B)聯合國 (C)世界衛生組織 (D)國際特赦組織。(Ch3)
39. 「臺灣國際醫療團隊前往非洲布吉納法索，教導該國政府衛生人員檢測禽流感病株，並運送醫療器具，以阻止病毒擴散。」上述作為的國際互動型態，與下列何者情況是「相同的」？(Ch3)
- (A) 西元 2018 年第 18 屆印尼雅加達巨港亞洲運動會於 8 月 18 日盛大開幕，吸引 45 個國家選手參賽。
- (B) 美國總統川普宣布退出伊朗核協議不久後，中東局勢跟著陷入動盪，以色列和伊朗這對宿敵開始在敘利亞境內互轟，以色列率先攻擊伊朗在敘利亞的基地打響第一槍後，伊朗也隨後展開報復。
- (C) 2015 年的聯合國氣候峰會通過了《巴黎協定》，各簽署國將訂定自己的排碳目標，共同來遏阻全球暖化失控趨勢。
- (D) 慈濟基金會運送物資與救援隊伍進入日本地震災區。
40. 「當美式飲食文化擴散到世界各地，取代許多國家年輕人傳統的飲食習慣時，日本壽司、臺灣小籠包也傳輸到其他國家，提供外國民眾不同的飲食選擇。」上述內容最可能在討論下列哪項議題？ (A)跨國企業為生產地創造就業機會 (B)強權國家主導世界局勢 (C)文化全球化與多元化 (D)產品的跨國運輸消耗更多資源。(Ch1)
41. 魏德聖導演為了真實呈現霧社事件，花費鉅資拍攝《賽德克·巴萊》，讓臺灣民眾機會了解臺灣這塊土地的歷史文化。魏導演的做法符合下列哪項精神？ (A)保存與發展在地文化 (B)促進文化交流與接觸 (C)區分不同文化的優劣 (D)區隔特殊文化。(Ch1)
42. 野生救援組織 (WildAid) 是一個由民間各界人士志願組成，致力於保護野生動物的全球性組織。該組織以附圖中的文字作為標語，並將臺灣列為重要的宣導地點，究其原因，在於我國傳統飲食文化中，魚翅象徵富裕與財力，因此對魚翅的使用量較高。由上文判斷，該組織的「組成性質」與下列哪一個國際組織最為相似？
- 「請不要吃魚翅」**
沒有買賣，就沒有殺害



每年數百萬條鯊魚被割鰭後，丟棄在海洋中，任其痛苦死去。
只為少數人愛吃魚翅、用魚翅宴客。
- (A)歐洲聯盟 (B)國際反地雷組織 (C)世界衛生組織 (D)亞太經濟合作會議。(Ch3)
43. 為了突破現行外交的困境，我國以各種方式積極參與國際事務，努力拓展在國際上的生存空間。而下列何者與事實不符？ (A)以「中華臺北」名稱加入區域性的國際組織--亞太經濟合作會議 (B)以「臺澎金馬個別關稅領域」加入全球性的國際組織--世界貿易組織 (C)以「中華臺

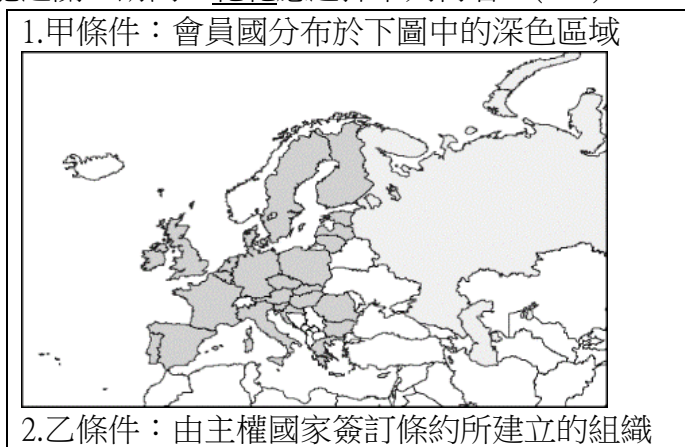
新北市立中正國民中學109學年度第二學期九年級社會科 第一次段考試題
範圍：地理科和歷史科第一~二章 班級：___ 座號：___ 姓名：___
公民科第一~三章

北」名稱獲邀出席全球性的國際組織---世界衛生大會（WHA）（D）以「中華臺北」名稱加入區域性的國際組織---東南亞國協。（Ch3）

44. NCC 分析 107 年民眾申訴電視案件，發現以申訴廣告及新聞報導內容不妥最多，民眾最在意的是內容不實、偏頗不公的情形。因此閱聽人應具備下列何項能力，以分析、評估、批判新聞報導的內容，並且選擇適宜的節目內容？(A)新聞自由 (B)媒體自律 (C)媒體識讀 (D)媒體接近使用權。(Ch2)
45. 非政府組織（NGO）中，每個組織都各有不同的努力目標，其中以關心氣候變遷、核子擴散、海洋汙染、森林保育等議題聞名國際的是下列哪一個組織？（A）國際世界展望會（B）國際特赦組織（C）國際紅十字組織（D）國際綠色和平組織。(Ch3)
46. 根據附圖中的情境，可知雇主與員工之間存在何種現象？(Ch1)



- (A)文化失調 (B)文化交流 (C)文化衝突 (D)文化創新。
47. 花花參加遊戲，必須找出符合附圖中兩個條件的國際組織才能過關。請問：花花應選擇下列何者？(Ch3)



- (A)國際刑警組織 (B)世界衛生組織 (C)歐洲聯盟 (D)國際奧林匹克委員會。
48. 「數十年來，某組織為身障者的權利發聲，亦延伸至國際反地雷議題。2006 年，該組織成功推動「殺傷性地雷管制條例」之立法後，在 2013 年 6 月 10 日，國防部方正式公告金門地區完成排雷行動，讓當地居民不必再因擔心誤觸地雷，而戰戰惶惶地生活。然而，多年後的今日，戰火仍在世界各處持續延燒，誤觸地雷的無辜平民百姓們，他們的重建工作更是該組織所重視的議題。」請問，上文中所提到的組織，應為下列何者？(A) 臺灣路竹會 (B)伊甸基金會 (C)慈濟基金會 (D)國際世界展望會。(Ch3)
49. 下圖呈現出某次比賽後，主辦單位公布的得獎名單。小新發現，考生姓名中間都是一個「O」，請問其中原因，最可能是下列何者法律的規定？(A)《消費者保護法》(B)《個人資料保護法》(C)《專利法》(D)《著作權

法》。(Ch2)

兒童組--得獎名單

名次	准考證號碼	考區	考生姓名	名次	准考證號碼	考區	考生姓名
第 1 名	20182003	中科考區	杜○右	第 16 名	20182011	大甲考區	賴○茫
第 2 名	20182020	桃園考區	鍾○玟	第 17 名	20182065	大甲考區	陳○彤
第 3 名	20181032	大甲考區	吳○義	第 18 名	20182022	南投考區	何○澤
第 4 名	20182044	南投考區	蔡○芳	第 19 名	20182014	大甲考區	楊○淳
第 5 名	20182001	中科考區	邱○淳	第 20 名	20182061	南投考區	吳○潤
第 6 名	20181042	南投考區	吳○瑩	第 21 名	20181040	大甲考區	李○達
第 7 名	20182031	大甲考區	鄭○瑜	第 22 名	20181020	大甲考區	張○純
第 8 名	20182038	南投考區	鍾○平	第 23 名	20181037	桃園考區	廖○誼
第 9 名	20182055	大甲考區	推○嵐	第 24 名	20182032	桃園考區	李○愷
第 10 名	20181041	桃園考區	廖○恩	第 25 名	20182066	大甲考區	鄭○暉
第 11 名	20181001	中科考區	鍾○雲	第 26 名	20182033	大甲考區	陳○月
第 12 名	20182017	大甲考區	吳○琳	第 27 名	20182049	南投考區	許○軒
第 13 名	20182047	桃園考區	賴○威	第 28 名	20181035	南投考區	賴○毓
第 14 名	20181019	大甲考區	徐○智	第 29 名	20181027	桃園考區	徐○錠
第 15 名	20182057	南投考區	何○樺	第 30 名	20182054	大甲考區	蔡○群

50. 下表中的報導內容應與下列何種現象最為相關？

【本報訊】網路科技企業 Google 公司表示旗下所有服務將短暫停止運作 1 分鐘至 5 分鐘，包括電子郵件、搜尋引擎等網路服務。專家預估，全球網路流量將會在這段期間內驟降 40%。

- (A)全球關連 (B)比較利益 (C)國際合作 (D)國際衝突。
(Ch1)