

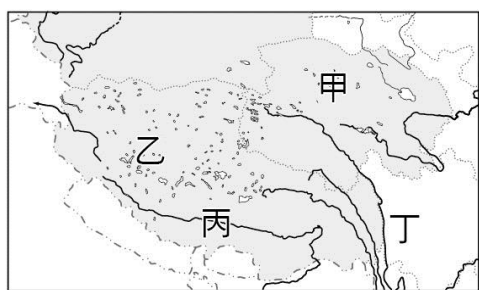
【讀卡科目請依規定畫卡，若有違反畫卡規定而影響讀卡作業之情事，一律扣總分五分。】

【手寫答案卷需確實寫上班級、座號、姓名，違者一律扣總分五分。】

【手寫答案卷需用藍色或黑色墨水筆書寫，違者一律扣總分五分，使用鉛筆書寫扣五分。】

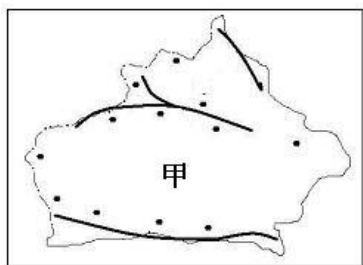
一、選擇題

- 小芳暑假參加可口中國旅遊，行程是這樣安排的：「西安—武威—張掖—敦煌—烏魯木齊。深度體驗大漠的風光；走過當年玄奘法師的取經之路」請問：小芳不會經過下列哪個地形區？ (A)河西走廊 (B)塔里木盆地 (C)準噶爾盆地 (D)黃土高原 p36.37
- 承上題；該地區自古為歐亞經濟、文化往來的中途站，主要的關鍵因素在於下列何者？ (A)土壤 (B)氣候 (C)地形 (D)位置 p36.37
- 中國於一九八〇年代在內蒙古自治區開始增加人工 草料種植的面積，為當地帶來許多的改變與影響，下列哪個改變與這個狀況較無直接相關？ (A)畜牧方式由游牧轉為定牧 (B)由過去的逐水草而居改為定居 (C)畜牧牲畜數量增加 (D)由商業性畜牧轉為自給性畜牧。P35
- 中國地大物博，各個地理區特色迥異。請問：下列有關中國四地與別稱的配對，何者正確？ (A)塔里木盆地—聚寶盆 (B)內蒙古高原—世界屋脊 (C)拉薩—日光城 (D)藏南縱谷—塞上江南。ch3
- 下圖（一）為為青藏地區的簡圖，請問：「某地的地勢較低，水氣豐富，是青藏地區的精華區。」上文中的空格應是指圖中哪個地區？ (A)甲 (B)乙 (C)丙 (D)丁。p41



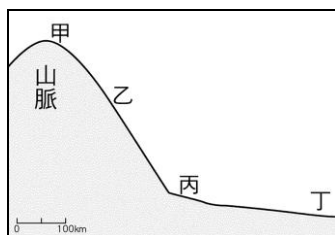
圖（一）

- 圖（二）為新疆維吾爾自治區的簡圖，圖上的黑點為綠洲分布地區的示意。小芳發現，甲盆地的綠洲呈環狀分布，其原因與下列哪個因素最相關？ (A)交通路徑 (B)水源來源 (C)降水多寡 (D)礦產產量。p39



圖（二）


- 承上題，請問：該地的綠洲多半位於圖（三）中的哪個位置？ (A)甲 (B)乙 (C)丙 (D)丁。P39



圖（三）

* 香格里拉是英國小說家詹姆斯·希爾頓 1933 年的長篇小說《消失的地平線》中虛構的地名。書中描寫香格里拉位於喜馬拉雅山脈西端一個神祕祥和的山谷，在小說中，當地的居民長生不老，過著快樂的生活。現在，香格里拉被當成世外桃源與烏托邦的同義詞。根據上文，回答下列問題：p40~p41

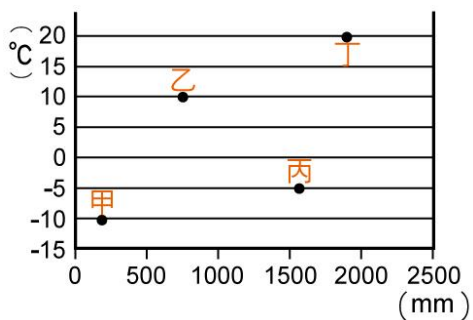
- 小芳前往香格里拉探索高原生態，最可能看到下列哪一種動物？



- 小芳觀察該山谷居民以農牧為生，其牧民日常生活的特色為何？ (A)有瓜果之鄉的美稱 (B)利用坎井取得飲用水 (C)每天面向聖地朝拜五次 (D)以青稞作為主糧
- 當地主要宗教的特色之一是其僧侶稱為喇嘛，請問此多信仰何種宗教？ (A)伊斯蘭教 (B)印度教 (C)藏傳佛教 (D)天主教。
- 「黃河在此處先沿著賀蘭山向北，經陰山阻擋後向東，再沿著呂梁山向南，形成『几』字狀。西漢時，漢武帝派軍隊擊敗匈奴，占領此處，並築城以屯田、養馬，作為防禦和進攻匈奴的基地，當時，人們引黃河灌溉，農業迅速發展，經濟繁榮。」上文介紹的地方應是位在今日何地？ (A)華北平原 (B)河套地區 (C)河西走廊 (D)塔里木盆地。p35
- 下圖（四）的房屋傳統建築以高架的方式建造。請問：其居住環境的氣候條件最類似圖（五）中的哪一地區？ (A)甲 (B)乙 (C)丙 (D)丁。p55



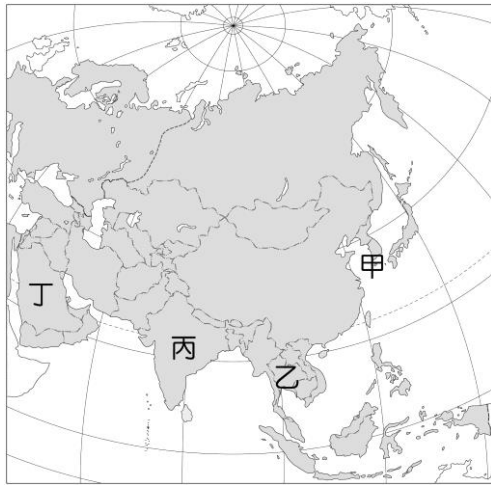
圖（四）



圖（五）

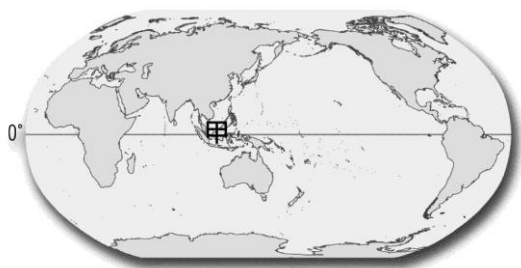
13. 阿里.穆罕默德每天必須面向聖城朝拜 5 次，他的姊姊出門一定蒙上面紗，他們的教義中禁食豬肉。請問：阿里可能住在圖（六）中何處？

(A)甲 (B)乙 (C)丙 (D)丁。p56

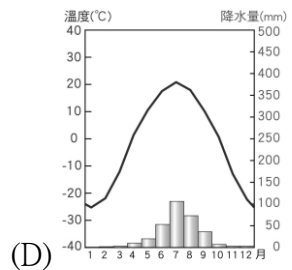
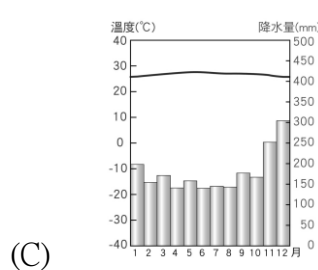
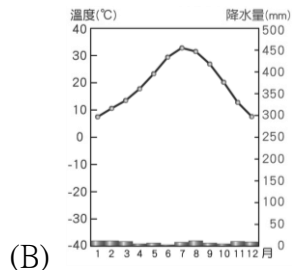
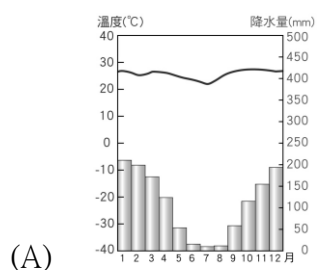


圖（六）

14. 圖（七）為「世界簡圖」，請問：圖中甲區的氣候類型為何？ (A)甲 (B)乙 (C)丙 (D)丁。P53




圖（七）




15. 承上題，甲區的天然植物主要為下列何者？p52

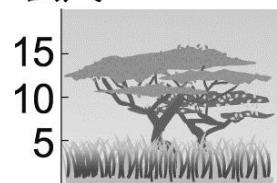
公尺



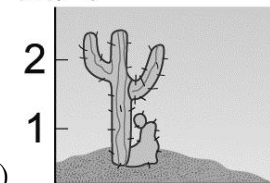
公尺



公尺



公尺



2018 年 2 月 7 日《中央社》報導：「花蓮昨天晚間 11 時 50 分發生芮氏規模 6.0 地震，最大震度 7 級，台北也有 3 級，造成花蓮大樓倒塌及傷亡，中央災害應變中心今天下午 8 時最新災情統計，人員傷亡部分，共計 6 死、258 人受傷，失聯人數 67 人，共計 227 人獲救。此外，也造成部分用戶停水、停電，花蓮部分道路受阻。。」

16. 請問：此地震主要與哪兩個板塊的作用有關？

(A)歐亞、太平洋 (B)歐亞、菲律賓
(C)歐亞、印澳 (D)印澳、太平洋 p51


17. 下列哪種地理特徵，與板塊作用關係較小？

(A)造山運動 (B)地震 (C)火山分布 (D)平原分布 p51

18. 小敏為了段考而整理出「清政府面臨對外戰爭挫敗時所展開的回應」的表單，請問：下列哪一項是錯誤的？(A)鴉片戰爭戰敗後，清政府並無意改革，直到英法聯軍又戰敗，才開始展開自強運動 (B)清政府在中法戰爭後，將台灣提升行政層級，改建為行省 (C)甲午戰爭失敗後，出現兩種不同的救國運動：改革派主張推動「戊戌政變」；革命派則認為應推翻滿清，建立民主共和才能救中國 (D)日本在日俄戰爭中獲勝，遂使朝野人士認為日本戰勝是因實施君主立憲，因此要求「立憲運動」。(綜合)

19. 陳祺是清朝的知識分子，他難過的說道：「我好不容易獲得了舉人的功名，一直在等待三年後科考的機會，沒想到現在沒有機會參加考試了，我當官的美夢也瞬間破滅了……。」請問：陳祺可能遇到什麼樣的事情？ (A)庚子後新政的推動 (B)自強運動的展開 (C)推動立憲運動 (D)發動戊戌政變。(P.105)

20. 右圖漫畫是諷刺清朝政府出賣路權給列強，以換取貸款的行為，導致後來爆發大規模的保路運動。請問：此事件對中國歷史的發展有何影響？



(A)爆發黃花岡之役 (B)引發立憲運動 (C)促成鐵路國有化 (D)促成民國的建立。(P.107)

21. 關於「武昌起義」，下列敘述何者正確？ (A)是由孫中山的興中會組織發動的起義運動 (B)利用清廷鎮壓湖北保路運動的時機發動起義 (C)發生於宣統三年，那年是辛亥年 (D)這個起義是青年節的由來。(P.107)

22. 民初中國上演了一場「復辟事件」的鬧劇。此劇的幕後導演張勳最初受召進京的原因是：(A)調停黎元洪與段祺瑞的政爭 (B)壯大洪憲帝制的聲勢 (C)聲討袁世凱 (D)慈禧的密詔。(P.112)

23. 八國聯軍攻陷首都北京時，當時南方卻沒有受到戰火的影響。請問：造成此現象原因為何？(A)清廷重視東南經濟，不允許遭受迫壞 (B)東南各省都督與列強簽訂東南互保辦法，與中央不同調 (C)清廷授與東南各地都督自主權力對抗列強 (D)東南各都督組成護國軍，對抗列強入侵。(P.104)

24. 光緒年間，有個團體因獲得執政者的默許，進入京城後，包圍外國使館區，殺害外國使節、傳教士，並焚毀教堂等，引起列強的不滿。關於此團體引發的事件，下列何者敘述正確？ (A)促使各國軍隊進駐首都使館區

- (B)執政者留在京城內指揮作戰 (C)此團體極力鼓吹君主立憲 (D)此團體主要目的為推翻滿清。(P.103)
25. 民初，袁世凱謀畫恢復帝制，將國號改為中華帝國，引發各界撻伐，為討伐袁世凱，□□等人領導護國軍運動，與之抗衡。空格中應填入下列何者？ (A)張作霖、唐繼堯 (B)蔡鍔、唐繼堯 (C)蔡鍔、段祺瑞 (D)張作霖、段祺瑞。(P.110)
26. 有位軍人被大家稱作辦帥，他所帶領的軍隊被稱為辦子軍。民國6年，他曾應總統的徵召為調解紛爭而進入北京，卻擁立已退位的前朝皇帝重登帝位，北京城一時龍旗飄揚，念舊的人也穿起了前朝的衣服。請回答下列問題：上文中，由辦子軍擁護的前朝皇帝為何者？ (A)宣統帝 (B)光緒帝 (C)同治帝 (D)道光帝。(P.112)
27. 24歲的林覺民原在日本留學，回鄉參與革命起義，於1911年4月27日被捕後從容就義。他留給妻子的訣別信中，字字句句表達了對妻子的愛，但卻感慨兩人「不幸而生今日之中國！」請問：有關他身處的時代背景，何者正確？ (A)他加入的是當時最著名的革命組織—興中會 (B)回鄉參加的那次起義為「廣州黃花岡之役」 (C)當年正好光緒皇帝剛駕崩，改換宣統帝登基 (D)革命黨人目標在推翻清朝，建立君主立憲國。(P.106)
28. 下列有關清末民初的組織描述，正確者有幾項？(甲)興中會成立於1894年的檀香山；(乙)從同盟會的綱領中，可以看出孫中山的三民主義思想；(丙)國民黨織發起黃花崗之役；(丁)國民黨改組成中華革命黨與二次革命失敗有關；(戊)興中會、同盟會成立的目的是要推翻清朝；(己)宋教仁是中華革命黨的代理理事長。(A)6 (B)5 (C)4 (D)3 項。(P.106、P.109)
29. 中國在1911和1913年各發生一次革命事件，分別是「辛亥革命」和「二次革命」。請問，這兩次的革命對象為何？ (A)溥儀/袁世凱 (B)袁世凱/段祺瑞 (C)溥儀/段祺瑞 (D)袁世凱/曹錕。(P.107、P.110)
30. 老師在課堂上提到：「清末民初的工業發展，深受戰爭的影響。在※※戰爭後，外國的工廠進駐各通商口岸，中國的工商業受到打擊……在○○戰爭時，中國的本土工商業獲得發展的良機，工業產值大幅提升……」小明在課堂上恍神沒聽到這段課程，請告訴他文中的※※與○○「依序」該做何解？ (A)甲午戰爭/第一次世界大戰 (B)鴉片戰爭/第一次世界大戰 (C)鴉片戰爭/第二次世界大戰 (D)甲午戰爭/第二次世界大戰。(P.113)
31. 孫中山推動護法運動時曾說：「吾國之大患，莫大於武人之爭雄，南與北一丘之貉。」關於護法運動下列敘述何者正確？ (A)護法運動要討伐的對象是袁世凱 (B)南與北一丘之貉，分別指的是段祺瑞和南方軍閥 (C)護法運動所要維護的是中華民國憲法 (D)護法運動結束於北伐統一後。(P.112)
32. 民國5年至17年為中國近代史上的軍閥統治時期，下列關於民初時期軍閥的敘述，何者正確？ (甲)軍閥大多依附各國列強 (乙)北洋軍閥發展目標主要在爭奪北京政權 (丙)北洋軍閥的實力較強，其中以直系、皖系、滇系尤其重要 (丁)此時北京政府先後掌握在北洋軍閥手中，最後由直系主持北京政府。(A)甲乙 (B)乙丙 (C)甲丙 (D)甲丁。(P.111)
33. 年近80歲的李鴻章拖著病體和列強簽訂《辛丑和約》，兩個月後便病逝，沒有親眼目睹清朝走向末日，請問此條約對中國所造成的影響何者正確？ (A)清朝開始成立專門主管外交事務的機構 (B)割讓土地面積最多、賠款數目最大，嚴重危及國家經濟 (C)造成北京門戶洞開，國防深受威脅 (D)清朝為了自救展開立憲運動。(P.104)
34. 民國初年，有一場由新知識分子領導的思想與文化改革，歷史老師請同學蒐集相關資料，並上台發表，請問其中哪一位同學的報告完全正確？ (A)小良：「這場改革的展開始於胡適創辦《新青年》雜誌，引進西方思想。」 (B)小平：「新知識分子不僅推崇『德先生』與『賽先生』，也介紹了共產思想。」 (C)小哲：「這場改革提倡使用白話文，但仍以文言文作為宣傳新思想的工具。」 (D)小翊：「新知識分子一邊介紹西方思想，一邊維護中國傳統的文化習俗。」。(P.114)
35. 債權人若是不向債務人請求清償其債務，15年後，債務人得以拒絕償還，這是基於《民法》規定的何項權利行使原則？ (A)權利濫用禁止原則 (B)消滅時效原則 (C)誠實信用原則 (D)契約自由原則。(p.157)
36. 若「犯罪行為」成立，下列敘述何者正確？ (A)行為符合《刑法》規定的犯罪構成要件 (B)行為必須是過失，若是故意則不成立 (C)行為人若達法定年齡，可減輕其刑 (D)過當防衛行為不具違法性，依法應不處罰。(p.164)
37. 我國在哪一種狹義法律中，對於結婚要件有明確的規定？ (A)《憲法》 (B)《民法》 (C)《刑法》 (D)行政法規。(p.157)
38. 自然人自母親受孕的身分認定，一直到當事人死亡後的遺產繼承問題等，幾乎每一件事情都和下列何法有關？ (A)《憲法》 (B)《刑法》 (C)《民法》 (D)行政法規。(p.155)
39. 行為發生當時，《刑法》並無明文規定，此行為構成犯罪，即使違反道德或其他社會規範，國家仍不得任意處罰，這是指下列何項原則？ (A)權利濫用禁止原則 (B)契約自由原則 (C)誠實信用原則 (D)罪刑法定原則。(p.164)
40. 當自己的權利被不法侵害時，可依照《民法》向對方要求負擔何種民事責任？ (A)生命的剝奪 (B)自由的喪失 (C)損害賠償責任 (D)權利的剝奪。(p.160)
41. 春假時，永泰向同學借數位相機，不慎將數位相機摔壞。依《民法》的規定，他應如何負起責任？ (A)原則上直接賠償兩倍金額 (B)原則上將相機修好，修不好則以金錢賠償 (C)若無簽訂書面契約，根本無須負責任 (D)直接賠償相機等值金額。(p.160)
42. 行政機關做出各種行政處分時，必須遵守行政法規的相關規定。人民若是違反行政法規，將會受到行政機關的制裁，並負起何種責任？ (A)民事責任 (B)行政責任 (C)刑事責任 (D)道義責任。(p.168)
43. 8歲的毅璇在文具店偷了魔術方塊。請問：毅璇必須負起何種法律責任？ (A)觸犯《刑法》，要受《刑法》制裁 (B)可以減輕刑罰 (C)由父母代替其接受《刑

法》制裁 (D)未滿 14 歲，心智未成熟，不用《刑法》處罰。(p.166)

44. 「罰金」與「罰鍰」的比較，下列何者正確？ (A)前者屬於行政罰，後者屬於刑罰 (B) 前者所罰的金額一定比後者高 (C)前者是違反行政法規的處罰，後者是違反《刑法》的處罰 (D) 前者由法院宣告，後者由行政機關科處。(p.167)

45. 一名孕婦駕車於國道時，遭一名貨車駕駛撞擊而發生嚴重車禍，事後該名貨車駕駛的駕照遭到吊銷。請問：關於「吊銷執照」的敘述，下列何者正確？ (A)屬於民事責任 (B)為主刑的一種 (C)屬於行政責任 (D)由法院宣告。(p.168)

46. 下列借據在法律上屬於無效契約，其原因為何？

借據

若孫大綸於期限內還不出借款，
必須把女兒孫玲瓏嫁給廖正義。

孫大綸 簽名

廖正義 簽名

- (A)契約上兩人並未蓋章 (B)缺乏見證人在場證明 (C)未使用政府規定的格式 (D)違反公序良俗。(p.157)
47. 依照《民法》的規定，下列哪一個年齡層，其行為在法律上具有完全效力，應負完全的民事責任？ (A)年滿 20 歲 (B)年滿 18 歲 (C)年滿 14 歲 (D)年滿 7 歲。(p.158)
48. 劉老闆為了省租金利用自家騎樓擺攤，阻擋行人通路，這是違反(A) 契約自由原則(B) 權利濫用禁止原則(C) 誠實信用原則(D) 消滅時效原則 (p.158)
49. 某新聞報導：「消費者保護團體主張，不肖廠商為謀利而製造問題商品，且以不實的廣告行銷宣傳，政府應加重對企業經營者的行政罰責。」上述說法，應是指提高下列何種處罰標準？〔97.第一次基測〕 (A)賠償金額 (B)罰鍰額度 (C)徒刑期限 (D)罰金額度。(p.167)
50. 哪一項敘述正確？ (A)行政法規是所有與行政機關行使職權與運作有關的法規總稱 (B)《民法》是為了保障人民的生命、身體、自由等安全 (C)《憲法》的制裁是所有法律中最嚴厲的方式 (D)《刑法》是規定私人間的權利義務關係。(p155.)