

【讀卡科目請依規定畫卡，若有違反畫卡規定而影響讀卡作業之情事，一律扣總分五分。】

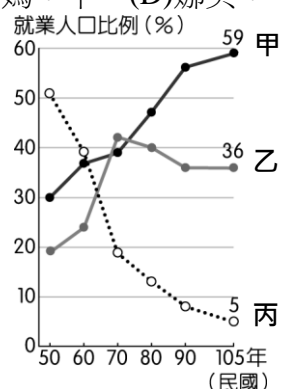
【手寫答案卷需確實寫上班級、座號、姓名，違者一律扣總分五分。】

【手寫答案卷需用藍色或黑色墨水筆書寫，違者一律扣總分五分，使用鉛筆書寫扣五分。】

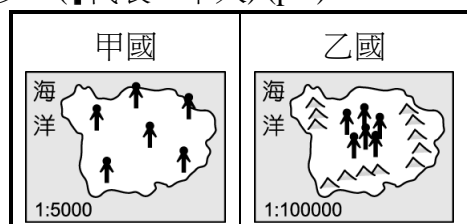
一、選擇題

1. 娜美看到媽媽種的橘子滯銷，所以她利用網路來銷售這些橘子。下圖是臺灣三級產業就業人口百分比的變遷圖，根據上文描述，她們所從事的經濟活動，分別屬於圖中的哪一條線？ (p.17)

(A)娜美：甲；媽媽：乙 (B)娜美：乙；媽媽：丙
(C)娜美：乙；媽媽：甲 (D)娜美：甲；媽媽：丙。



2. 下列為甲乙兩個島國的人口分布示意圖，每張圖的圖紙大小相同，但比例尺都不同。依此判斷，下列敘述何者正確？ (A)甲國土地面積較大 (B)乙國人口密度較高 (C)甲國人民的活動空間較擁擠 (D)乙國人民分配到的土地資源較少。(↑代表一千人) (p.9)



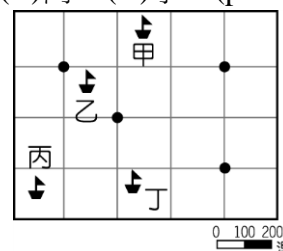
3. 彰化田中連續 3 年舉辦「蜀葵花海藝術節」活動，園區種植的 5 萬株蜀葵花近日進入開花期，高達 2 公尺的蜀葵花成為一座壯觀的花海迷宮，現場還有 DIY 活動，吸引不少遊客前往遊玩拍照。請問：上述的蜀葵花海藝術節，是屬於何種農業型態？ (A)集約農業 (B)休閒農業 (C)有機農業 (D)精緻農業。(p.25)
4. 附表為四個地區的人口資料表，請根據表格內的資訊，判斷哪兩個地區為人口移入區？ (p.7)

地區	甲	乙	丙	丁
人口成長率(‰)	4	6	8	2
出生率(‰)	8	9	6	7
死亡率(‰)	5	3	2	4

5. 新聞報導指出：「面對日益嚴重的少子化問題，行政院長賴清德表示，為達到 2030 年將總生育率提高到 1.4 人的目標，政府將提出新的幼兒照顧津貼獎勵生育，在 2020 年前增設 1200 餘班公立及非營利幼兒園。」上述少子化的問題，對未來造成的影響為何？ (A)未來人口素質低落 (B)未來勞動力不足 (C)未來人口分布不均 (D)未來扶養比降低。(p.13)

6. 遠洋漁業在臺灣漁業產值中占有相當高比例，卻也因為誤入他國經濟海域，而經常發生漁事糾紛。附圖中的黑點分別代表四個島國的位置，圖中哪一艘臺灣作業的漁船，最可能出現上述的情況？

(A)甲 (B)乙 (C)丙 (D)丁。(p.20、21)



7. 附表中對於集約農業和粗放農業的比較，哪一項正確？

(A)甲 (B)乙 (C)丙 (D)丁。(p.18)

	集約農業	粗放農業
甲、單位面積產量	低	高
乙、單位面積投入勞力	少	多
丙、農場面積	小	大
丁、人地關係	地廣人稀	地狹人稠

8. 附圖為台灣人口分布點圖，表示出台灣人口的分布情形與疏密程度。請問：根據附圖中所呈現的空間分布特性來判斷，下列敘述何者錯誤？

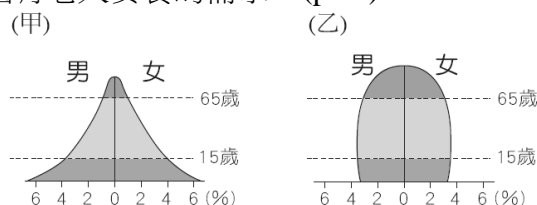
(A)受到地形因素影響，西部人口比東部多
(B)受到氣候因素影響，北部人口比南部多
(C)因開發早晚因素影響，西部人口多於東部
(D)因經濟發展因素影響，臺北市人口密度高。(p.9)



9. 承上題，從附圖中的人口分布，呈現臺灣西半部人口多集中於都市地區，造成人口移入都市的拉力為何？

(A)生活步調悠閒 (B)空氣品質良好 (C)就業機會較多 (D)居住空間寬廣。(p.12)

10. 下圖為甲、乙兩國的人口金字塔圖，請根據其特徵判斷，下列何者的敘述正確？ (A)甲國的經濟發展程度較高 (B)乙國的性別比不均 (C)甲國未來的勞動力將減少 (D)乙國有老人安養的需求。(p.11)



11. 附表是甲、乙兩國的面積與人口資料，下列有關兩國比較的敘述中，何者**正確**？ (p.7、9、10)

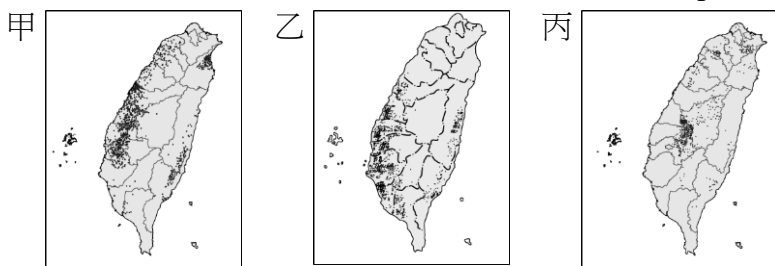
(A)乙國的死亡率較低 (B)乙國的女生比男生多
(C)甲國的扶養比較低 (D)甲國的人口密度較高。

	土地面積	壯年人口比例	性別比	總人口數
甲國	200 km ²	68%	95	1,000 人
乙國	100 km ²	52%	106	700 人

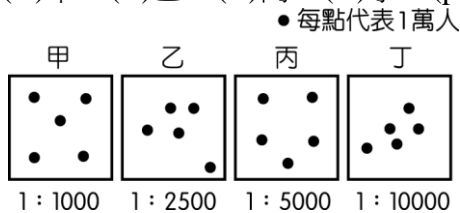
12. 根據統計，產業與社福的外籍勞工截至去年底在台工作者有 67 萬餘人，其中以印尼籍人數最多，已超過 25 萬人。請問：這些勞工應是屬於哪一性質的人口遷移？

(A)永久性的國內遷移 (B)暫時性的國內遷移
(C)永久性的國際遷移 (D)暫時性的國際遷移。(p.12)

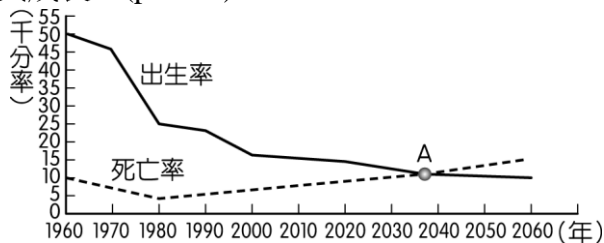
13. 附圖為臺灣早期三種重要農作物的分布圖。根據下圖判斷甲、乙、丙三種農作物，依照正確順序排列最有可能為何？ (A)稻米、甘蔗、茶葉 (B)茶葉、稻米、甘蔗
(C)稻米、茶葉、甘蔗 (D)甘蔗、稻米、茶葉。(p.19)



14. 受到自然和人文不同的環境因素，而影響畜牧業的發展。請問：附圖中哪一個地區的畜牧業活動類型，最可能為欄牧？ (A)甲 (B)乙 (C)丙 (D)丁。(p.23)



15. 附圖為某國的人口成長預測圖。在不考慮社會增加率的情形下，以該國的出生率與死亡率的趨勢變化，在圖中 A 點之後，該國人口將會出現何種變化？ (A)性別比失衡 (B)人口分布不均 (C)壯年人口負擔變重 (D)人口呈現負成長。(p.7~10)



16. 某海島國家的主要產業結構如附表所示，請依表中資料判斷，該國哪一級產業的比例最高？ (p.17)

(A)第一級 (B)第二級 (C)第三級 (D)無法判斷。

觀光業	漁業	食品加工業	農業	運輸業
18%	22%	28%	12%	20%

17. (甲)洋流交會 (乙)海岸平直 (丙)四面環海 (丁)平原廣大，上述哪些項目是臺灣發展漁業的有利條件？

(A)甲乙 (B)甲丙 (C)乙丙 (D)丙丁。(p.20)

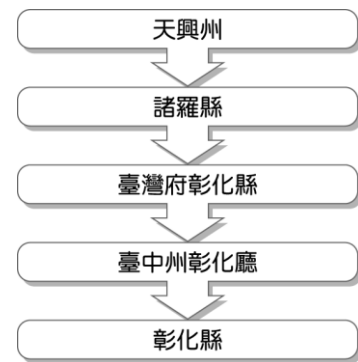
18. 日治時期，總督府可以瓦解反抗勢力，且能確實掌握臺灣的戶口，奠定堅實的統治基礎，與下列何者有關？

(A)警察與保甲制度 (B)總督和壯丁團
(C)警察與軍隊 (D)憲兵與壯丁團。(p.87)

19. 「日本欺凌中國...台民忠義，不肯俯首事仇，屢次懇求代奏免割...而中國欲昭大信，未允改約。全台士民，不勝悲憤。當此無天可籲，無主可依，台民公議自立為民主之國...」。此一文件的出現，應與下列那一場戰爭的結果有密切關係？ (A)牡丹社事件 (B)第一次世界大戰
(C)甲午戰爭 (D)第二次世界大戰。(p.83)

20. 冠霖在書中讀到一篇文章，內容提到「難道以為宗教法器、符咒可以打敗日本帝國的現代化軍隊嗎？」此文章應該是在評論哪一個事件？ (A)霧社事件 (B)牡丹社事件
(C)苗栗事件 (D)西來庵事件。(p.84)

21. 志訓查閱族譜時發現，家族來臺開墾之地所屬的行政區名稱，有如下圖的演變：



請問：族譜中紀錄的哪一行政區名稱是處於日治時期？

(A) 天興州 (B) 諸羅縣 (C) 彰化縣 (D) 臺中州彰化廳。(p.86)

22. 歷史老師帶學生參觀「臺灣日治時期的建設特展」，下列哪一張照片**不應該**出現在這次特展中？ (A)台灣銀行
(B)獅球嶺隧道 (C)台北郵政局 (D)阿里山鐵路。(p.93、94、95)

23. 日本人在臺灣興建了大型水利設施，不但使得農田灌溉面積增加，稻米產量提高，而且還是當時東亞地區最大的水利建設，這個水利工程應為下列何者？ (A)曹公圳
(B)八堡圳 (C)瑠公圳 (D)嘉南大圳。(p.96)

24. 第十三任總督石塚英藏由於某一原住民抗日行動處理不當，引發日本國會與國際輿論譴責，因而引咎辭職。請問石塚英藏最有可能是因為下列哪一事件處置失當而辭職下臺？ (A)臺灣民主國 (B)霧社事件 (C)噍吧哖事件
(D)苗栗事件。(p.84)

25. 1934年6月，日月潭發電所完工，發電量高達10萬千瓦，但當時全臺發電量卻只需要四萬多千瓦。當時日本統治臺灣的工業發展主要是為因應下列何項政策？ (A)南進政策
(B)民族自決 (C)內地延長主義 (D)工業日本，農業臺灣。(p.97)

26. 田中野仁是一位日治初期的資本家，他來臺灣決定投資當時最具代表性的產業，請問他應該從事下列哪一項行業？ (A)開辦新式製糖工廠 (B)開軍工廠製造船艦
(C)紡織或食品加工 (D)買賣茶葉。(p.95)

27. 大輝閱讀一份日治時期的《日日新報》，有一則新聞提到：「日本在各地戰事告急之下除了原本的軍伙、高砂義勇隊之外，也開始募集陸軍及海軍的特別自願兵制，前後共計207,183人」其中提及日本政府大量募集臺人從軍的原因為何？ (A)1894年甲午戰爭 (B)1937年中日戰爭
(C)霧社事件 (D)臺灣民主國抗日。(p.89)

28. 成雲在翻閱歷史資料時看到以下敘述，請幫成雲依照時間排出正確的順序。

甲：許多人放棄原來的漢姓漢名，例如：林在煥當時改成小林次郎。

乙：台灣出現了第一位文官總督，宣稱將日本國內的法制延用到臺灣。

丙：日本總督當局除了以武力鎮壓抗日行動外，一方面尊重台灣人的風俗習慣。

- (A)乙→丙→甲 (B)乙→甲→丙 (C)甲→乙→丙
(D)丙→乙→甲。(p.88、89)

29. 日本治理臺灣時，制定了許多制度，下列四人針對這些制度進行說明，何人的說明是錯誤的？

(A)多賢：日本發布『六三法』，讓總督擁有行政、立法、司法和軍事權。

(B)佐鎮：地方行政以警察為中心，許多事務都有警察介入，是典型的警察政治

(C)彩瑛：地方行政官員由地方人民投票選舉，地方上擁有自治權和自主權。

(D)智聖：保甲制度是沿用自清領時期的組織，並規定成員之間負有連坐責任。(p.86、87)

30. 楊爺爺回憶小時候「每月的一、八、十五日，全校都要按時參拜當地神社，每日到校後要向天皇肖像行禮；不准講母語，一律要用『國』(日)語交談」。造成此種現象的主要原因為何？ (A)霧社事件抗日失敗 (B)總督府推動皇民化運動 (C)民族自決思潮漫延 (D)實施無方針主義。(p.89)

31. 總督府治台初期，須日本國庫補助在台支出，後來台灣財政收入逐年增加，日本國庫補助逐年減少。請問其主要原因為何？ (A)專賣事業的推行 (B)稻米的大量生產 (C)統一貨幣的成果 (D)新式糖廠的設立。(p.93)

32. 日治時期，台灣登記繳稅的土地原本只有35萬公頃，但經過土地調查後，增加至60萬公頃，政府財政收入也因此大幅提高。請問此與何人對台灣的建設有最密切的關係？ (A)八田與一 (B)丘逢甲 (C)後藤新平 (D)磯永吉。(p.93)

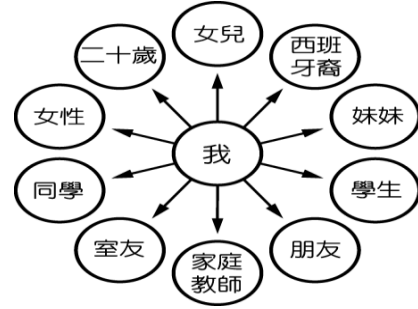
33. 日治時期，社會流行一句俗語：「第一慇，種甘蔗乎會社磅。」請問：這句話反映出當時的什麼現象？ (p.95)

- (A)因蓬萊米價格上帳，沒有農民想種植甘蔗
(B)總督府保護資本家，使蔗農遭到製糖會社嚴重剝削
(C)政府為了有效發展經濟，獎勵人們多種植茶葉
(D)總督府積極發展國防軍需工業，台灣農業逐漸沒落。

34. 花田一路是1930年代隨著父親來臺的日本小孩，他們一家人定居在台南。他的生活中不可能遇到下列哪種狀況？ (A)可以搭火車到基隆，再到基隆港去迎接親人訪台 (B)晚餐吃著香甜的蓬萊米 (C)父親要協助處理余清芳的抗日行動 (D)與擔任警察的父親出門時，聽到父親被村民尊稱為「大人」。(p.84、87、94、95)

35. 我們每個人可能隸屬於不同的團體。下列何者與小琪的關係，不能稱為一個團體？ (A)小琪與其家人 (B)小明與其同學 (C)小琪與在電影院觀賞電影的人 (D)小琪與教會的朋友。(p.142)

36. 附圖是昱君在課堂報告時，用來輔助說明研究議題的圖形。根據圖中內容判斷，她最可能在探討下列哪一主題？〔94. 第一次基測〕



- (A)社會變遷 (B)社會組織 (C)社會階級
(D)社會角色。(p.139)

37. 新聞報導：「少年模仿某部電影的情節，除了自組幫派，還犯下暴力及恐嚇取財的犯罪行為。」上述顯示何種社會化途徑所造成的影響？ (A)學校 (B)傳播媒體 (C)家庭 (D)同儕團體。(p.141)

38. 在童軍活動時，政彥與琨霖分到同一組，他們一起將帳棚搭好，後來卻在準備晚餐時，因一言不合起了口角爭執。請問：上述內容中，可以看到風間與政男在這次活動中依序出現了哪兩種社會互動方式？

- (A)合作、競爭 (B)衝突、合作
(C)合作、衝突 (D)競爭、衝突。(p.142)

39. 小清常常在便利商店門口看到透明的發票箱，上面寫著：「順手捐發票，救救植物人。」請問：擺置發票箱的團體應該是下列哪一種類型的團體？ (A)血緣團體 (B)職業團體 (C)政治團體 (D)社會團體。(p.150)

40. 附表是有關團體的分類方式。請問：團體分為表中三種類型，是依照下列何法的規定？

類別	舉例
職業團體	中華民國全國教師會
社會團體	臺灣野鳥協會
政治團體	中華婦女參政協會

- (A)集會遊行法 (B)政黨法 (C)憲法 (D)人民團體法。(p.151)

41. 下列何者不屬於「工作取向」的團體？ (A)臺灣加入聯合國大聯盟 (B)張廖簡氏宗親會 (C)臺鐵工會 (D)宜蘭縣農會。(p.150)

42. 下列哪一種團體屬於「職業團體」？ (A)周氏宗親會 (B)基隆區漁會 (C)湖北同鄉會 (D)中華單車文化協會。(p.151)

43. 下列何者明文規定：「人人有和平集會結社之自由，並不得被強迫加入任何集會。」？

- (A)《憲法》 (B)《世界人權宣言》
(C)《權利法案》 (D)《獨立宣言》。(p.149)

44. 在教室裡，常會發現課桌椅上被塗鴉或是刻痕，這代表有些同學缺乏下列何種基本素養？ (A)秉持尊重與理性 (B)促進公眾利益 (C)遵守公共秩序 (D)追求社會正義。(p.144)

45. 在博物館或各地名勝古蹟，常見受過訓練的志工熱心地為參觀民眾進行解說及導覽。請問：這種志工行為是下列哪一種基本素養的表現？ (A)促進公眾利益 (B)秉持尊重與理性 (C)追求社會正義 (D)遵守公共秩序。(p.152)
46. 阿德想為社會貢獻一己之力，希望藉由參與團體的方式投身志工的行列，以服務社會。請問：阿司應該參加下列哪一個團體才能達成這個目標？ (A)遠傳電信工會 (B)臺灣大學校友會 (C)創世社會福利基金會 (D)臺灣團結聯盟。(p.152)
47. 法律扶助基金會宗旨：(1)落實憲法上的訴訟權及平等權、協助改善經濟地位；(2)保障弱勢者人權；(3)健全法治基礎。」由上述宗旨可知，「法律扶助基金會」屬於何種功能的團體？ (A)工作取向 (B)關係取向 (C)年齡取向 (D)興趣取向。(p.150)
48. 下列哪一個社會化途徑是兒童離開家庭，進入社會生活的重要橋樑？ (A)社團 (B)同儕團體 (C)傳播媒體 (D)學校。(p.140)
49. 因為資源有限，為了達成自我的目標，有時必須採取下列何種社會互動方式？ (A)合作 (B)衝突 (C)競爭 (D)同化。(p.142)
50. 近年來，有愈來愈多的「非營利組織」成立，這類公益性團體不以營利為目的，而是以公共服務為宗旨。根據上述內容判斷，下列哪一個團體最可能是非營利性組織？〔93. 第一次基測〕
(A)長安食品有限公司 (B)紅葉職業棒球聯盟
(C)善行素食自助餐廳 (D)綠色消費者基金會。(p.152)