

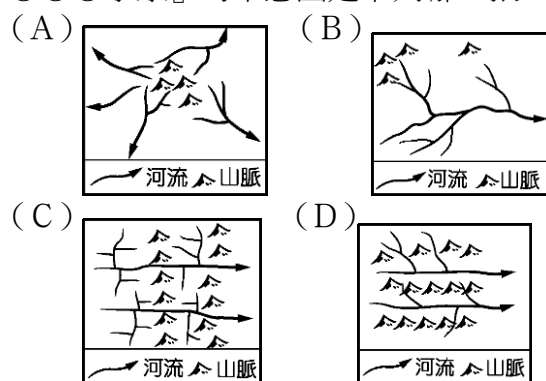
【讀卡科目請依規定畫卡，若有違反畫卡規定而影響讀卡作業之情事，一律扣總分五分。】

【手寫答案卷需確實寫上班級、座號、姓名，違者一律扣總分五分。】

【手寫答案卷需用藍色或黑色墨水筆書寫，違者一律扣總分五分，使用鉛筆書寫扣五分。】

一、 選擇題(每題2分)

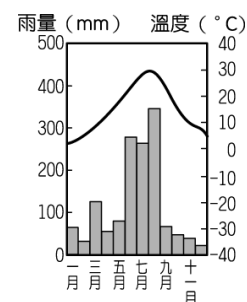
1. 「福建的降水豐富，河川眾多，這些湍急的河川把一座大山切割得好像『豆腐塊』一樣，山成了一塊塊的『豆腐』，水則成了『〇〇〇水系』。」根據上文敘述，『〇〇〇水系』的示意圖是下列哪一張？ P.10



2. 附圖為中國某學者根據自然和人文的綜合數據，繪製的重要地理分界帶。此分界帶的敘述下列何錯誤？ P.7



- (A)年雨量750mm的分界線 (B)7月月均溫0度的分界線
(C)溫帶季風與副熱帶季風的分界線 (D)南船北馬的分界線。
3. 「水在地下流，禾在田中死」以及「天無三日晴、地無三里平、人無三兩銀」的諺語都是下列哪一種地形作用所造成？ P.9
(A)火山噴發 (B)河川堆積 (C)溶蝕作用
(D)沉水作用。
4. 2014年9月，香港有百萬人上街頭爭取真普選，當時下起了雨，抗議民眾撐起雨傘遮雨，沒想到後來雨傘竟也用來阻擋鎮暴警察的胡椒噴霧，因而被國際媒體稱為「雨傘革命」。雨傘革命發生時，香港所下的雨主要是由何種季風風向所帶來的？ P.13-15
(A)東南風 (B)西南風 (C)東北風 (D)西北風。
5. 小新在寒假和母親到中國自由行，在出發前自行上網查到該地的氣候圖，根據圖中資料判斷，小新自由行的城市最可能為下列哪一個城市？ P.16
(A)北京(B)廣州(C)哈爾濱(D)上海。

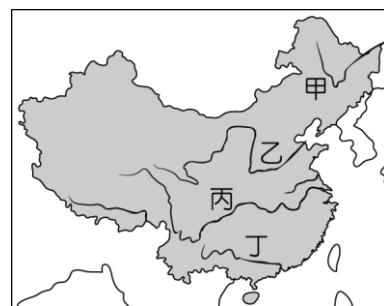


6. 美國總統川普於2018年3月1日在白宮告訴媒體記者，他決定在下週依《1962年貿易擴張法》第232條簽署命令，對所有進口鋼材及鋁材分別課徵25%及10%的關稅，並說課稅後，「鋼鐵業及鋁業將迎來好的事情，我們將看到工作機會增加」。上述川普對中國課的「鋼鐵稅」，將對下列何處造成最大的衝擊？ P.25

(A)東北地區(B)華北地區(C)華中地區(D)華南地區。


7. 王力宏「飄向北方」的歌詞「飄向北方，別問我家鄉，高聳古老的城牆，擋不住憂傷，我飄向北方，家人是否無恙…空氣太髒、太混濁，他说不喜歡」，歌詞「空氣太髒、太混濁」敘述的環境，最有可能是下列何處？

(A)甲 (B)乙 (C)丙 (D)丁。 P.29



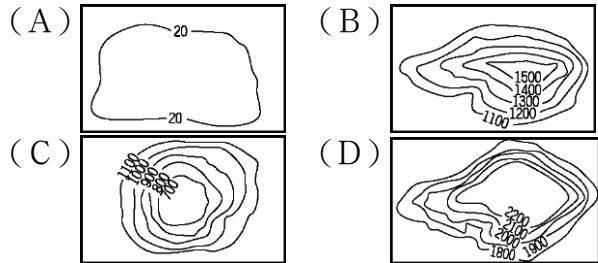
8. 廣西壯族自治區風景秀麗，觀光資源豐富，桂林、陽朔一帶的灕江兩岸有「山水甲天下」之譽；韓愈也曾經以「江作青羅帶，山如碧玉簪」形容灕江兩岸山水。上文所述「山」的景觀特色，最可能是下列何者？ P.9
(A)峰林 (B)鐘乳石 (C)石筍 (D)石柱。

9. 蘇州是世界著名的園林之城，其園林起於春秋，成熟於兩宋，盛及於明清。蘇州園林類型眾多，私家園林獨領風騷，以小巧玲瓏、清幽典雅著稱於世。蘇州園林注重人與自然的和諧統一，通過疊山理水、栽花營林等藝術手法，將自然山水搬入咫尺天地，達到「雖由人作，宛自天開」的藝術境界，所以有「江南園林甲天下，蘇州園林甲江南」的美譽。附圖景色處處可見，最普遍出現在下列哪一個地理區？ P.11

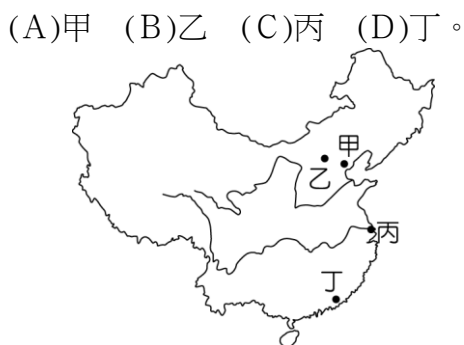


- (A) 四川盆地 (B) 珠江三角洲 (C) 兩湖盆地
(D) 長江三角洲。

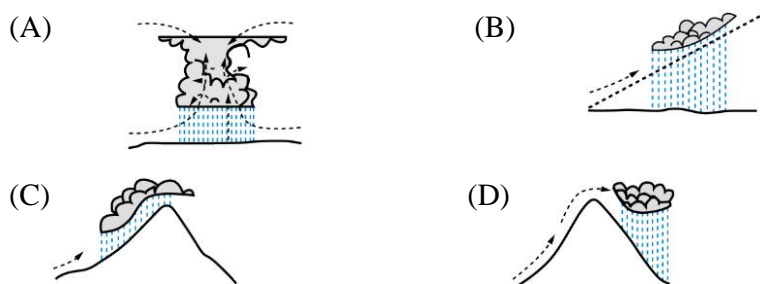
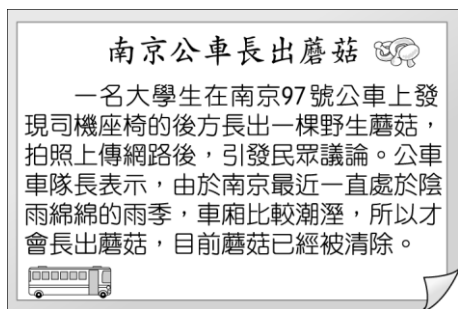
10. 汶川大地震造成八萬多人死亡，幾十萬人受傷，主要是震央是昔日即有「蜀道難，難於上青天」之稱，上述發生地震地區，屬於下列何種地形類型？ P.7



11. 天津港為中國北部重要的國際商港，但2015年3月停放在碼頭的貨櫃發生危險化學物質爆炸，距離爆炸點3公里內的建築都受到波及，釀成嚴重的傷亡，直接經濟損失達到68億元人民幣。上述的爆炸的地點位於下圖中的何處？ P.26



12. 附圖為《揚子晚報》的一則新聞，由新聞內容來看，這則新聞所提及的陰雨綿綿的降雨型態屬於下列哪一種？ P.12



13. 中國為世界第四的觀光大國，在這裡可以參加冰雪節，參觀冬夜裡光彩炫目的冰雪城堡之外，也可以看到充滿俄式建築風情的聖索菲亞教堂，上文景點應該位於下圖中何處？ P.27



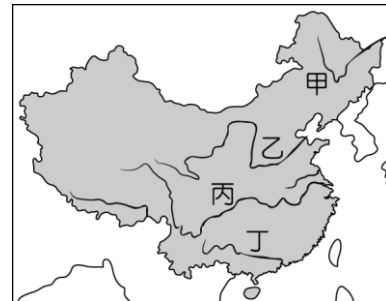
- (A) 甲 (B) 乙 (C) 丙 (D) 丁。

14. 當地居民因為缺乏原始森林材料，於是利用黃土垂直壁立性及質地疏鬆易鑿的特質，建築傳統的居屋，當地有「人家半鑿山腰住，車馬多從屋頂過」的諺語，上文敘述的景觀，主要位於下列何處？ P.19

- (A) 蒙古高原 (B) 雲貴高原 (C) 青藏高原 (D) 黃土高原。

15. 由黑龍江、松花江和烏蘇里江共同沖積而成的三江平原，從一片沼澤地變成水稻農作區，荒無人煙的「北大荒」，今日卻成為農作盛產的「北大倉」，請問該地位於下圖中的何處？ P.24

- (A) 甲 (B) 乙 (C) 丙 (D) 丁。

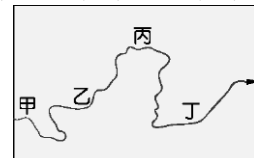


16. 中國某條河川沿岸的主、支流分布地區，資源蘊藏量多，由上游而下，依序為水力、煤礦、石油的分布，因此相當有利於工業活動的發展，也成為該地區吸引外國企業前往設廠的有利條件。文中敘述是指下列何者？

- (A) 長江 (B) 海河 (C) 珠江 (D) 黃河。 P.19-20

17. 附圖是黃河主流流路的示意圖。其中哪一河段由於泥沙大量淤積，使河床高於兩岸平原，形成地上「懸河」景觀，成為當地的分水嶺？ P.28

- (A) 甲 (B) 乙 (C) 丙 (D) 丁。



18. 清朝中葉以後，西方人對中國的物品需求擴增，但因為下列哪項原因，使雙方貿易產生衝突？ (A) 清廷向外國人抽取高額稅金 (B) 中國百姓齊力抵制外來商品入侵 (C) 清廷與外國為爭奪藩屬版圖而開戰 (D) 清廷自詡為天朝上國，設下許多貿易限制。 (P.89)

19. 清末，列強興起在中國租港灣、劃分勢力範圍的風潮，此時某國國家代表向列強提出照會(如附圖)。依圖中內容判斷，提出這份聲明的「某國」，應是指哪個國家？ (A) 俄國 (B) 美國 (C) 日本 (D) 法國。 (P.100)



20. 素有「十里洋場」之稱的上海，在清朝末年乃至民國時期，憑藉著獨特的地理位置，而成為繁華且是非不斷之處。目前上海外灘仍留有哥德式、羅馬式、巴洛克式等風格各異的西式洋房古蹟，象徵著清末以來上海的特殊地位。請問：上海自清末以來成

為外國人居住、經商之地，是由於清末哪一權益的讓與？(A)協定關稅 (B)領事裁判權 (C)片面最惠國待遇 (D)租界。(P.90)

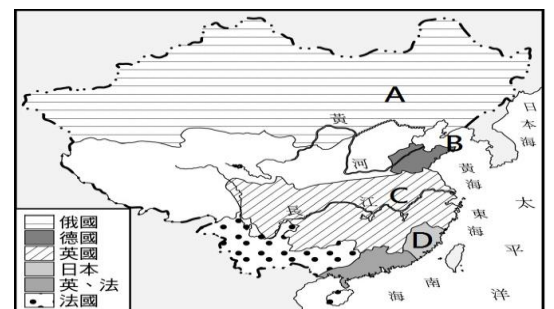
21. 下列關於清末外交事務的敘述，何項正確？(A)道光20年的中英南京條約中，賦予五個通商口岸的英國領事有裁判權；(B)中俄天津條約始准許外國公使可入駐北京，(C)中國則於自強運動時才派遣使節駐外；(D)而戊戌變法時的總理各國事務衙門，處理的事務僅限外交層面。(P.90、91、97)
22. 下列有關太平天國的敘述何者正確？(A)洪秀全以基督教教義和儒家文化為中心思想，創立了拜上帝教 (B)太平軍從廣西起義後一路勢如破竹，最後定都於南京 (C)提出「維護傳統文化」主張，影響日後的革命運動 (D)洪秀全打出「天下一家」的口號，號召傳統知識分子對抗湘軍、淮軍。(P.93、94)
23. 在「宰相有權能割地，孤臣無力可回天」的詩句中，「宰相」指的是清末重要的核心大臣——李鴻章。請問下列何項事蹟與其「無關」？(A)發動百日維新 (B)推動自強運動 (C)前往馬關議和 (D)對抗太平天國。(P.94、97、99)
24. 小綺看到一本外國商人的舊日記，上面寫到「這座城市與其它中國的城市相比，有許多奇特之處，我常在街上看到婦女騎著馬，一點都不怕洋人，她們的腳也不像其它中國女人的腳一樣小，她們稱呼這座城市為『天京』，這是我從未聽過的中國城市名字」請問：這位外國商人當時所描寫的應是哪一時空背景？(A)1840年的北京 (B)1840年的南京 (C)1860年的南京 (D)1860年的北京。(P.93)
25. 下列有關條約與失地的組合，何組「正確」？(A)南京條約—黑龍江以北 (B)中英法天津條約—香港島 (C)中俄璦琿條約—遼東半島 (D)中俄北京條約—烏蘇里江以東。(綜合)
26. 『…某年冬天，李鴻章與英國軍官戈登的洋槍隊攻下蘇州；次年春天，左宗棠與法軍攻陷杭州。六月四日天王自盡，七月十九南京城陷，守城賊兵與湘軍進行巷戰，激戰數日，天國滅亡。』上述事件應是發生於哪一位皇帝在位時期？(A)道光皇帝 (B)同治皇帝 (C)咸豐皇帝 (D)光緒皇帝。(P.94)
27. 小好參加歷史問答比賽，主持人給下了列三項提示：(一)這場戰爭發生在十九世紀中期 (二)這場戰爭間接使中國喪失東北許多領土 (三)這場戰爭的結果，中國既割地又賠款且增開通商口岸至臺灣。請問：這個題目的正確解答為下列何項？(A)英法聯軍 (B)鴉片戰爭 (C)中法戰爭 (D)甲午戰爭。(P.91、92)
28. 清末四位中國人在不同時期發表了所見所聞。(甲)小祐：「上海這裡宛如國中之國，居住很多外國人。」(乙)小語：「這裡的女人跟一般中國女人不同，她們可以參軍、從政，甚至宣揚禁止纏足呢！」(丙)小喆：「我辛苦準備應試，朝廷怎麼可以廢除八股文！」(丁)小慧：「聽說英國派遣馬加爾

尼來中國要求開放通商限制，但因禮儀之爭而失敗。」請將這四人的描述的史實，依序排列？(A)乙丙丁甲 (B)丁丙乙甲 (C)丁甲乙丙 (D)甲乙丙丁。

(綜合)

29. 小憶負責報告戊戌變法，粗心大意，講錯了部分內容。請同學選出「錯誤」的敘述？(A)新政中除了「廢八股文」外，其餘全被廢止，戊戌變法宣告失敗(B)廢八股文，影響許多士人準備科舉考試，反彈聲浪大。(C)守舊人士發動「戊戌政變」，軟禁皇帝。(D)戊戌變法失敗原因是內容龐雜，沒有周全的規劃。(P.101)
30. 清末大臣李鴻章說：「國必先富而後能強，尤必富在民生而國本乃可益固。」請問：在自強運動推行的過程中，哪一項建設最符合李鴻章重視「民生經濟」的說法？(A)輪船招商局 (B)福州船政局 (C)江南機器製造局 (D)總理各國事務衙門。(P.98)
31. 法國傳教士法比歐於清末在中國傳教，請從他的回憶錄中找出記載完全正確之處？「(A)中國於嘉慶年間即已開放傳教士來華傳教，(B)我於道光末年來到了上海；雖然當時傳教士已可至內地傳教，但我認為先在通商口岸穩定基礎再說。(C)咸豐6年時，聽到有傳教士朋友在廣東被殺，讓我悲憤不已；不久後，我國也因此決定與英國聯合出兵攻打中國。(D)咸豐8年，迫使清廷簽約求和。」(P.90、91)
32. 清咸豐皇帝在位期間，帝國內部遭逢最大規模的內亂，復加以外患嚴重的侵逼，腹背受敵，十分危急。請問：前述所指「內亂」、「外患」指的各是什麼？(A)三藩之亂、英法聯軍 (B)太平天國、英法聯軍 (C)三藩之亂、鴉片戰爭 (D)太平天國、鴉片戰爭。(P.91、93)
33. 馬丁是清光緒年間來華做生意的英商，他回憶著「自咸豐末年起，外國商船已經可以沿著長江邊停靠裝卸貨物，待1895年清政府與鄰國簽訂條約後，還可援享過去某條例的規定，就地運用中國廉價的原料和人力，設置工廠進行生產」請問：某條例規定是指？(A)領事裁判權 (B)租借港灣 (C)片面最惠國待遇條款 (D)內河航行權。(P.90)

34. 末列強瓜分中國國土的風潮下，商人小鈞想要到圖中D處開採煤礦，請問：他必須通報何國，並受其規範？(A)英國 (B)德國 (C)法國 (D)日本。(P.100)



35. 我國民法曾經規定，家庭財產都歸男方所有，導致離婚時，女方一毛錢都不能帶走。此一規定違反憲法，因此被修正。請問上述修正是因為憲法在法律位階上的？(p142) (A)不可侵犯性 (B)最高性 (C)獨特性 (D)原則性。

36.政府因應產業升級，可能導致傳統產業勞工因工作技能不符新興產業的需求而失業，因此在各縣市職業訓練中心大量開班，給予失業勞工免費職業訓練。請問：政府上述之行政作為，是因為憲法保障那一種人民的基本權利？(P149)

(A)平等權 (B)勞動權 (C)人格權 (D)受益權。

37.在我國，下列何者屬於狹義的法律？(P142)

(A)立法院通過「檔案法」，授權文化部制定頒佈的「國家檔案移轉辦法」

(B)立法院通過的「傳染病防治法」

(C)總統府在九二一大地震後，因應救災需要，依中華民國憲法增修條文第二條頒佈的緊急命令。

(D)司法院公佈「對民法禁止同性婚姻認定違憲，限定兩年內修法」的解釋文。

38.下列何者是民主國家最普遍且重要的參政權？(P150)

(A)言論自由 (B)選舉權 (C)罷免權 (D)應考試、服公職權。

39.憲法是法治國家制定法律的最重要依據，用以約束政府不能濫權，並保障人民權利，因此不能被輕易修改或更動。通常民主國家用什麼方法讓憲法不被輕易修改？(P143)

(A)修改程序較為困難和複雜

(B)一定要總統和最懂憲法的學者才能參與修正，一般公民不能參與

(C)一定要全國公民全部同意才能修改

(D)國家建立一開始就規定不能修改。

40.憲法保障人民的基本權利，除了已明文規定的權利之外，隨著社會的發展，其他權利也加以保障。請問：勞動權通常指的是勞工可加入下列那一種組織，雇主不得因勞工加入該組織而予以解雇或不平等對待？(P150)

(A)反政府團體 (B)公會 (C)工會 (D)政黨。

41.以下那一種法律是為了落實我國對人民「創制權」和「複決權」的保障，使「創制權」和「複決權」具備了可執行的具體程序和規定？(P150)

(A)公民投票法 (B)公職人權選舉罷免法 (C)總統副總統選舉罷免法 (D)憲法。

42.下列何者不屬於我國憲法保障人民的自由權？(P148)

(A)大明從小每逢周日便和信奉基督教的父母去教堂參加禮拜，但是他成年後決定不受洗成為教徒。

(B)大華今年7月滿20歲，年底縣市長選舉時，可自由決定要投給那一位候選人。

(C)秋月在網路上批評總統施政無方，呼籲下次選舉不要再投給執政黨。

(D)大雄參與吸毒和販賣毒品的行動，但因警方尚未掌握證據，不能加以逮捕。

43.依照我國「中央法規標準法」，下列何者不是「狹義的」法律？(P143)

(A)常備兵補充兵服役規則 (B)強迫入學條例 (C)水下文化資產保存法 (D)地方稅法通則。

44.我國「身心障礙者權益保障法」第38條規定：「各級政府機關、公立學校及公營事業機構員工總人數在三十四人以上者，進用具有就業能力之身心障礙者人數，不得低於員工總人數百分之三。」違反的機關會被處以罰鍰。請問

：上述對身心障礙者的就業機會保障，與憲法保障人民的基本權利的關係，下列何者為非？(P147)

(A)保障身心障礙者的受益權 (B)與視障生參加國家考試，可視狀況延長作答時間的意義類似 (C)違反平等權 (D)落實平等權。

45.下列何者不是法律保障人民權利的功能？(P141)

(A)政府必須依據所得稅法，才能向人民徵稅。

(B)警察要拘提嫌疑犯，必須要依法定程序。

(C)政府要徵收人民的土地來建高速公路，必須依法召開公聽會，說明確有建築高速公路的必要，獲得社會的認同，並給予土地所有人合理的補償。

(D)「志願服務法」鼓勵我國人民擔任志工（志願服務人員）。

46.阿飛在公開的網路聊天室，聲稱他很厲害會製造炸彈，網友說他吹牛，於是他在聊天室說要製造一個炸彈，並在某公共場所引爆。網路警察發現後，立刻前往阿飛家裡拘提他，並對他作筆錄（詢問他的動機和目的，提交檢察官參考）。請問：下列何者不是在拘提和作筆錄時，阿飛可以對警方作的要求？

(A)警方出示搜索票後，阿飛仍拒絕開門 (B)要求警方說明拘提他的理由

(C)要求警方出示搜索票 (D)不可對他刑求逼供。(P148)

47.有關「請願」和「訴願」，下列何者正確？(P149)

(A)聲稱自己很懂稅法的大明，知道好友老張去年被國稅局超徵所得稅，於是自告奮勇要代替老張提起訴願。

(B)大華今年九年級，大華的爸爸對於國中會考造成國中生過度不正常的學習壓力，感到非常憤怒，想要請願讓國中生自由選擇是否參加會考。但因為家長並非國中會考直接相關的人，所以不能就會考制度向政府請願。

(C)為了保障人民權利，請願案不被政府接受時，仍可再次提出。同理，為了避免「訴願委員會」誤判，使人民權利受損，人民訴願案件被駁回後，仍可再次提起訴願。

(D)人民可以向立法院請願，但不能向立法院訴願。

48.有關我國人民「複決權」的行使，請問下列那一項法案，在立法院決議後，一定要再經公民投票複決才能定案？(P143)

(A)涉及人民權利義務的法律案 (B)立法院對行政院的不信任案 (C)憲法修正案 (D)總統因應重大天災頒佈的緊急命令。

49.憲法保障人民的論自由，但是刑法卻訂有「妨害名譽罪」「毀謗罪」，讓人民可透過訴訟，懲罰任意發言批評他人的人，卻不違反憲法。請問：刑法上述的規定是依據憲法中的那一種規定，可以合法限制人民的基本權利？(P151)

(A)增進公共利益 (B)防止妨礙他人自由 (C)避免緊急危難 (D)維持社會秩序。

50.我國憲法規定的「人民的義務」中，那一項具有性別上的鉅大差異，但卻不違反平等權？(P152、153)

(A)服兵役 (B)納稅 (C)受國民教育 (D)保障基本薪資。