

【讀卡科目請依規定畫卡，若有違反畫卡規定而影響讀卡作業之情事，一律扣總分 5 分。】

一、選擇題


1.

新聞報導(改寫)：
可口可樂基金會於 2017 年起，與兒盟攜手推出《我有我的霸免權計畫》，2020 年特別以日益嚴重的○○○○為倡議主題，發起「停『指』吧！別以手指傷害人」行動。孩子最常做的○○○○行為，就是批評、辱罵他人，其次為評論個性、性向、外表等，甚至否定別人存在的意義。

- 根據上述新聞報導，請問「○○○○」應為下列何者？(Ch5)
- (A)言語霸凌 (B)肢體霸凌 (C)關係霸凌 (D)網路霸凌
2. 公民課小組討論班會任務的分工如附表。關於表中班會任務的分工，請問敘述完全正確的有幾人？(Ch5)
- (A)1人 (B)2人 (C)3人 (D)4人。

發言者	任務分工
丁丁	老師可以參與討論和表決
拉拉	紀錄詳實記下開會內容
卡波	主席維持會場秩序
迪西	司儀宣布會議名稱和目的

※ 有「上帝的部落」之稱的泰雅族司馬庫斯部落，因自然美景而吸引觀光商機，但利益分配卻引發部落內部衝突。



。為了解決這些問題，族人們進行多次討論，最後確定「土地部落共有共管」的方式，決定由部落族人共同規畫經營土地，所有參與工作者薪資相同，更將經營所得的利益平均分配，並訂出完善的福利制度，提供需要的族人使用。根據上述，回答3~4題：

3. 上文中泰雅族人面臨問題便邀集族人共同處理的過程，最能代表何種意義？(Ch6)
- (A)遵守法律規範 (B)落實部落自治
- (C)鞏固領袖權力 (D)尊重宗教信仰。
4. 族人最終決定的作法，最能彰顯原住民族的何種傳統價值觀？(Ch6)
- (A)共享互助 (B)自我認同
- (C)文化融合 (D)適者生存

※ 七年級英語歌謠比賽即將來臨，七年十九班共25人，全員出席開班會討論比賽事宜。在討論全班要唱的歌曲時，風間首先提議：Sugar (by Maroon 5)，妮妮接著提議：阿拉丁主題曲A whole new world (by Peabo Bryson & Regina Belle)，小新則提議：動物方城市主題曲Try Everything (by Shakira)，經過充分討論並表決後，結果於下：

Sugar (by Maroon 5)	5票
A whole new world(by Peabo Bryson & Regina Belle)	9票
Try Everything (by Shakira)	10票

投票結果出爐後，風間和妮妮竟為了意見不同而吵架，導致會場秩序大亂，其他同學也起鬨要重新表決。根據上述，回答5~7題：

5. 依照會議規範，三位同學的提議，哪一個提議應該優先表決？(Ch5)
- (A)風間 (B)妮妮 (C)小新 (D)猜拳猜贏者。
6. 關於此次會議中的相關敘述，何者正確？(Ch5)
- (A)投票人數未達全班25人，必須重新表決。
- (B)英語歌謠比賽事關全班同學，所以演唱歌曲必須所有同學都同意才可通過。
- (C)老師是Maroon 5的歌迷，因此在會議當中，也可以加入表決。
- (D)表決結果須依照多數決原則，即使沒有過半，仍以小新的提議Try Everything勝出。
7. 「風間和妮妮竟為了意見不同而吵架，導致開會秩序大亂」，主席所應採取的處理狀況，與下列何者狀況「不同」？(Ch5)
- (A)開班會時，突然發生地震，暫停開會。
- (B)班會時，同學們正在討論校慶園遊會的活動內容，阿茂突然舉手提議說：「星期天我們全班去水上樂園玩吧！」
- (C)班會時有蜜蜂飛進教室，同學們尖叫聲四起。
- (D)班會時，討論運動會班服樣式，卻有同學私下大聲聊天，吵得旁邊同學都聽不到。
8. 「原住民族日」之所以訂在 8 月 1 日，就是要紀念 1994 年 8 月 1 日，原住民族在憲法上正名的歷史時刻。這意味著原住民族該怎麼稱呼自己，不再是由他人所決定，也代表著原住民族與臺灣這片土地之間有最原初、最古老的聯繫，彰顯原住民族在臺灣的特殊地位。關於原住民族的敘述，何者「錯誤」？(Ch6)
- (A) 原住民族召開部落會議討論和決定部落重要事務，可以凝聚共識，作為族人共同遵行的依據。
- (B) 原住民族的部落領袖，其產生方式可以為同一家族世襲，也可以由部落長老推選或部落族人選舉
- (C) 政府會指派代表協助管理原住民族部落共同事務。
- (D) 目前原住民族委員會認定的原住民族有16族。



新北市立中正國民中學111學年度第一學期七年級社會科第三次段考試題

範圍：公民 B1L5~6、歷史 B1L5~6、地理 B1L5~6 班級：_____座號：____ 姓名：_____

9.

校園零體罰立法

更新日期:2006/12/13 04:09

記者：高有智、曾慧蘋／台北報導

蛙跳、罰站、罰蹲等體罰趕出校園！立法院昨天三讀通過修正的「禁止體罰條款」修法，首度明文訂定禁止體罰，國家應保障學生學習權、受教育權、身體自主權及人格發展權，使學生不受任何體罰造成身心侵害。修正案也明載，若違反禁止體罰規範，政府應依法提供當事人或其法定代理人有效及公平救濟管道。

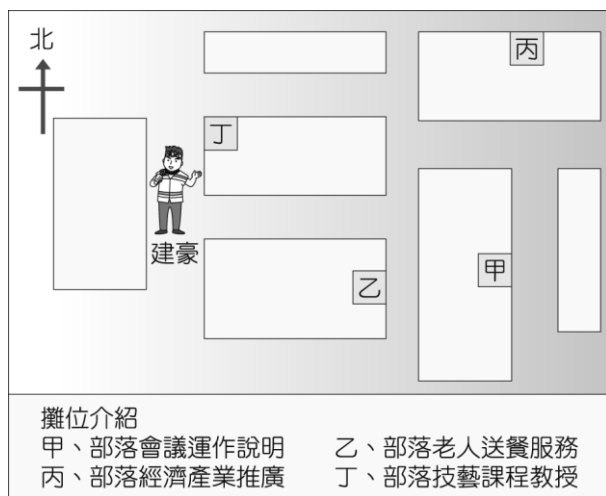
2006年12月12日，立法院正式立法通過「某法」第8條及15條的條文修正案，使得台灣成為全球第109個禁體罰國家。請問，「某法」應為下列何者？(Ch5)

- (A)原住民族基本法 (B)性別平等教育法
(C)教育基本法 (D)國民教育法。

10. 原住民族為保護部落權利，有時會參與集會遊行抗議活動來保護部落的權利。請問：會促使他們參與集會遊行抗議活動的議題較可能是下列何者？(Ch6)

- (A)抗議土地開發案侵犯了部落傳統領域
(B)協助弱勢族人老屋重建
(C)祭拜山神儀式祈求豐收
(D)原住民族教育中心開幕

11. 建豪參觀社區辦的原住民族睦鄰活動，他了解部落內有關生活照顧的功能，那麼他應該走到哪一個攤位詢問？(Ch6)



- (A)甲攤位 (B)乙攤位 (C)丙攤位 (D)丁攤位。

12.

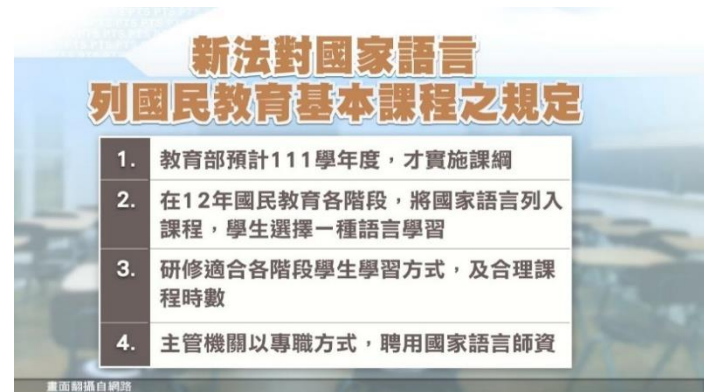
新聞報導(改寫)：

2022 艋舺甘蔗祭活動，11月5日下午在台北市萬華糖廊園區舉辦。市長柯文哲受邀致詞指出，他高度肯定這項活動，對找回過去的人情味，有極其正面的意義，也期許大家繼續努力，充實軟體部分，成為一座文化園區，吸引更多的人前來觀光體驗。

根據上述新聞，此活動可驅使居民凝聚何種力量？(Ch6)

- (A)社區意識 (B)社區營造
(C)社區組織 (D)社區參與。

13.



上圖中的「新法」，應為下列何項法律？(Ch6)

- (A)原住民族基本法 (B)教育基本法
(C)憲法 (D)國家語言發展法。

14. 參與校園公共事務可培養參與公共事務的素養，下列哪一項不是學生可以參與的校園公共事務？(Ch5)

- (A)選舉班級幹部
(B)票選畢業旅行地點
(C)決定班級課表
(D)制定班級生活公約

15. 小花在布告欄看到右圖這張海報——

依此判斷，社區居民成立愛鄉協會，以發展社區特色，主要展現出下列何種概念？

- (Ch6)
(A)多元文化
(B)部落共食
(C)社區參與
(D)終身學習

以推動社會教育文化、社區營造、自然人文保育、環境保護、地方特色推展、關懷弱勢等實際愛護地方行動為宗旨。

16. 附圖中的右方，甲、乙、丙、丁四位同學當中，哪兩位同學的發言「出錯了」？(Ch5)



- (A)乙、丁 (B)乙、丙 (C)甲、丙 (D)甲、丁。

後面尚有試題，請接續下一頁試題作答

新北市立中正國民中學111學年度第一學期七年級社會科第三次段考試題

範圍：公民 B1L5~6、歷史 B1L5~6、地理 B1L5~6 班級：_____座號：____ 姓名：_____

◎「歷史人物版」猜猜我是誰：

請根據下列歷史人物旁邊的描述，選出最適合的答案。



1865 年 5 月，他以基督教長老教會傳教士與醫生的雙重身份來到臺灣，他在高雄旗後(今旗津)登陸後，選定臺灣府作為福爾摩沙醫療傳教的起點。後來，他頂讓一間民房，開辦「看西街醫館」，此為全臺第一間西式醫院，將醫館、藥局和禮拜堂結合為一，展開英國在臺灣醫療傳教之序幕。

17. 請問上述的歷史人物為下列何人？(P.135)

- (A) 馬偕(B)馬雅各(C)甘為霖(D)巴克禮。



他變賣家產，於西元 1740 年集眾在新店溪開鑿水圳，從事更大規模的水源水道建設，此計畫在數年後獲得初步的成功。在開發水圳過程中，常與原住民發生衝突，他在地勢較高處建了一座「鼓亭」派人看守，若發現有人不懷好意，就擊鼓警示，這也是臺北「古亭」地名的由來。

18. 請問上述的歷史人物為下列何人？(P.126)

- (A) 郭錫瑠(B)張達京(C)施世榜(D)曹謹。



福建省漳州人，少年時隨父親來到臺灣，於彰化大里墾地。傳說他加入天地會，是大里一帶天地會領袖。乾隆 51 年(1786 年)由於彰化縣官員緝捕天地會黨人，激起民眾不滿，他於是起事，派黨徒攻打官兵，佔領彰化縣城，並攻打諸羅縣，清廷動用十餘萬軍隊才平定，此為清帝國時期規模最大的民變，最後他於 1787 年底敗於彰化八卦山，隔年被押送北京斬首。

19. 請問上述的歷史人物為下列何人？(P.133)

- (A) 郭懷一(B)朱一貴(C)林爽文(D)戴潮春。

20. 住在臺北的廖小恩打算參訪右表中的水圳，在寒假來場「清代臺灣水圳之旅」，若他從臺北出發，一路往南依序參訪，請問他參訪的順序為何？

甲	曹公圳
乙	八堡圳
丙	貓霧揀圳
丁	瑠公圳

(P.126)

- (A)甲乙丙丁(B)丙乙丁甲(C)丁乙丙甲(D)丁丙乙甲。

21. 程阿毅是乾隆年間的臺灣商人，他經常往來府城與廈門之間做生意，他把臺灣的蔗糖與布料賣到廈門，再從廈門批一些藥材回臺灣販賣。請問如果程阿毅為了保障自身的商業利益，避免和同業之間惡性競爭，請問他可以加入下列哪一些行郊組織？(甲)泉郊(乙)廈郊(丙)糖郊(丁)布郊 (P.127)

- (A)甲乙丙(B)乙丙丁(C)甲乙丁(D)甲丙丁。

22. 曾大樑有一天在網路上參加一個「一句臺灣俗諺 challenge」的挑戰活動，此活動的規則為參與者要舉出一句臺灣俗諺，並寫下其代表的含意，就有機會參加抽獎。而曾大樑想列出一句臺灣俗諺代表清帝國時期臺灣開發的方向，請問下列哪一句俗諺最合適？

(P.127)

- (A)過番剩一半，過臺灣沒得看
(B)有唐山公，沒唐山媽
(C)一府二鹿三艋舺
(D)六死三留一回頭。

23. 承上題，請問根據「上面曾大樑所舉出最合適的臺灣俗諺」，清帝國時期臺灣開發的方向為下列何者？

(P.127)

- (A)由北到南(B)由南到北
(C)由東到西(D)由西到東。

24.

清帝國統治臺灣時期對外貿易比較表		
	開港給外國人通商前	開港給外國人通商後
商業組織	甲	洋行
主要的進口商品	乙	鴉片、紡織品
主要的出口商品	稻米、蔗糖	丙
主要的經濟重心	南部	丁
主要的港口城市	戊	雞籠、淡水、安平、打狗

歷史老師在上課時畫了上面的表格，並請班上五位同學負責回答表格上面的填空，以下是班上五位同學的回答，請問有哪幾位同學的回答是正確的？

- ◎陳阿廷：「甲是行郊」；
◎江阿億：「乙是鹿皮、藥材等日用品」；
◎游小婕：「丙是茶葉、蔗糖、樟腦」；
◎林峻瑋：「丁是北部」；
◎李大儒：「戊是府城、打狗、艋舺」。

(P.127,128,129)

- (A)江阿億、李大儒
(B)陳阿廷、游小婕、林峻瑋
(C)陳阿廷、游小婕、林峻瑋、李大儒
(D)陳阿廷、江阿億、游小婕

25. 陳小芷在複習歷史時，看到自己的歷史筆記中寫著下面一段文字：「十九世紀後期，清廷『開山撫番』的行動，如『大港口事件』的發生，導致部分■■族原住民遭到殺害；另外還有『大嵙崁』事件的發生，讓●●族原住民被迫歸順清廷。」請問上文中的■■族和●●族分別指的是哪一族原住民？(P.137)

- (A)■■是阿美族，●●是泰雅族
(B)■■是泰雅族，●●是排灣族
(C)■■是阿美族，●●是賽德克族
(D)■■是凱德格蘭族，●●是西拉雅族。

新北市立中正國民中學111學年度第一學期七年級社會科第三次段考試題

範圍：公民 B1L5~6、歷史 B1L5~6、地理 B1L5~6 班級：_____座號：____ 姓名：_____

26. 林大樂是清代統治臺灣初期，從中國大陸渡海來臺開墾土地的漢人，請問他比較不能藉由下列哪一個方式來開墾台灣的土地？(P.126)

- (A)向原住民承租土地
- (B)需要向政府申請墾照來開墾無主地
- (C)和別人合資共同開墾土地
- (D)與外國洋人合資開發土地。

27. 李小穎看到網路上有一篇報導寫著「葉姓始祖葉春日於清朝雍正13年帶著他的兒子葉特鳳渡海來臺，在新屋大牛欄落腳、建立家業，後來桃園市新屋區葉家祖祠每年清明節總是湧進大批葉氏子孫前往掃墓，每年超過8000人祭祖，更有不少從美加、紐澳等地返臺的後代，一起慎終追遠……」請問上述報導中的「葉春日」先生在祭祀上應被稱為什麼？(P.134)

- (A)唐山祖 (B)有應公 (C)開臺祖(D)土地公。

28. 下表為清代臺灣科舉人數統計表，由此表可看出在嘉慶、道光時期臺灣考上舉人和進士的人數比在康熙、雍正時期的人數還多。請問出現表中轉變的主要原因應該是下列何者？(P.134)

項目	康熙、雍正時期 (1684~1735年)	嘉慶、道光時期 (1796~1850年)
舉人	15人	74人
進士	0人	6人

- (A)外國傳教士致力於教育事業
- (B)新式學堂的普遍設立
- (C)漢人移墾的人數增加
- (D)教育機構的陸續增設。

29. 劉小棠看到某地方電子報寫道：「曾經為大肚王國成員的道卡斯、巴則海、和安雅、貓霧揀等平埔族群，在19世紀以來出現多次遷徙，導致當地布農族、泰雅族等原住民更往深山移動。」請問當時平埔族遷徙的原因最可能為下列何者？(P.136)

- (A)移墾的漢人巧取土地與清廷的不當政策壓迫所導致
- (B)實施劃界封山政策，導致原住民的物資缺乏
- (C)因男女比例失衡，漢人強取平埔族女性為妻
- (D)清帝國為確保血統純正，多次剿殺原住民族。

30. 江小廷在學校的好讀週報之中看到下面一段文章：「雍正初年，漳州人首先入墾基隆港一帶，泉州安溪人則進入較內陸的暖暖地區開墾，雙方雖以獅球嶺為界，但為了爭奪經濟利益，經常發生械鬥。每逢械鬥，雙方都抬出自己的原鄉守護神來壯大聲勢，漳州人供奉『聖公』，泉州安溪人信仰『保儀大夫』(俗稱尪公)。因械鬥激烈，神明都自身難保，因此出現『尪公無頭殼，聖公無手骨』的俚語。」請問以下有關於上文中的敘述，何者是錯誤的？(P.132,134)

- (A)上述發生械鬥的族群是來自中國的廣東省；
- (B)上文中的『聖公』指的應是『開漳聖王』；
- (C)『聖公』與『保儀大夫』都是屬於早期來臺移民所供奉的原鄉神明；
- (D)上文所描述的應是屬於不同祖籍性質的械鬥。

◎題組：請根據下面的文章回答以下的問題。

時人稱「番勢」的李春生，自幼家境貧困，年少時跟隨父親到廈門經商，在當地習得英語與漢語，使他成為漢人與西方商人溝通的橋樑，因緣際會結識來自蘇格蘭的茶商約翰·陶德，協助他創出「臺灣烏龍茶」(Formosa Oolong)品牌，享譽國際，促成北部製茶事業大為興盛，茶葉成為當時最大宗的出口商品，李春生因此有了「臺灣茶葉之父」的美稱。李春生除了經營事業以外，對於傳教更是不遺餘力，他不僅是臺灣基督教長老教會的奠基者，更在臺灣建省後，協助官員建設臺北淡水河岸的某地區，使該地區成為茶葉的加工與集散地，更成為北臺灣重要的商業區。

31. 請問文中提及「番勢」是指李春生曾藉由擔任下列何者因而起家致富？(P.129)

- (A)買辦 (B)熟番
- (C)墾戶 (D)領事。

32. 上文中提及李春生為臺灣基督教長老教會的奠基者，請問他最可能與下列哪一位傳教士有所往來？(P.135)

- (A)馬雅各 (B)甘為霖
- (C)馬偕 (D)巴克禮。

33. 上文中提及李春生在臺灣建省後，協助官員建設臺北淡水河岸的某地區，請問此地區指的是下列何者？(P.129)

- (A)大溪 (B)大湖
- (C)大甲 (D)大稻埕。

後面尚有試題，請接續下一頁試題作答

新北市立中正國民中學111學年度第一學期七年級社會科第三次段考試題

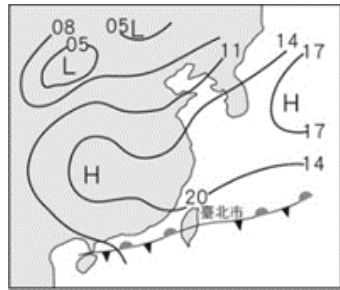
範圍：公民 B1L5~6、歷史 B1L5~6、地理 B1L5~6 班級：_____座號：____ 姓名：_____

34. 臺灣河流具有乾、濕季明顯，也就是是雨量變率大的特徵，請問：此水文特性跟下列哪一張圖資特徵最相關？ (P.64)

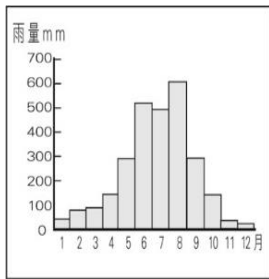
(A)



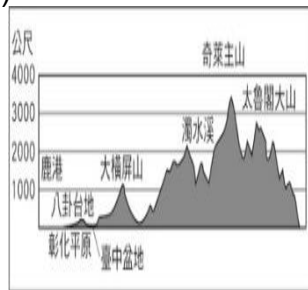
(B)



(C)



(D)



35. 臺灣主要河川大多東西分流，請問：造成上述現象與下列何者原因最相關？

(A)緯度位置 (B) 山脈走向
(C)季風風向 (D) 經度位置。(P.74)

36. 分隔兩條河川的分界線，稱為下列何者？

(A)水系 (B)流域 (C) 集水區 (D) 分水嶺。(P.74)

37. 臺灣河川名稱如濁水溪、汶水溪皆因河川水色混濁而得名。請問：臺灣河川普遍輸砂量較高的原因不包括何者？

(A)河川東西分流 (B)臺灣地質脆弱
(C)降水強度較大 (D) 河川流速較快。(P.74)

38. 西元2022年6月某報導指出：「政府針對主要供水及淤積嚴重的13座水庫，包括石門、曾文、南化、牡丹、烏山頭、霧社、白河、明德、德基、澄清湖、日月潭、仁義潭及阿公店水庫，加速水庫清淤工作，藉此延長水庫壽命與供水穩定度。」由此報導得知，水庫淤泥問題將會越趨嚴重。請問：為了延長水庫壽命，臺灣主要採取何項措施避免河川砂泥影響水庫水質？

(A)禁止水庫發展觀光 (B)增設消波塊
(C)開闢沿岸地下水井 (D) 興建攔砂壩。(P.76)

39. 「將一年各月的月均溫相加後再除以12個月，所得到的數值。」以上敘述為何者？

(A)月均溫 (B)年均溫
(C)年溫差 (D)月溫差。(P.64)

40. 造成空氣流動—風的形成，最直接原因為何？

(A)雨量不同 (B) 氣溫不同
(C)溼度不同 (D) 氣壓不同。(P.62)

41. 下列敘述何者是指「天氣」？

(A)臺灣的「竹風蘭雨」
(B) 基隆被稱為「雨港」
(C) 明天將是「晴時多雲偶陣雨」
(D)南臺灣「四時皆夏」。(P.61)

42. 臺灣西南部沿海從事養殖漁業的居民，常利用何種方式取得水源？

(A)興建水庫 (B) 抽取地下水
(C)執行人造雨 (D) 海水淡化。(P.76)

43. 氣象報告指出臺灣冬季多吹東北風。請問：「東北風」是指哪一個方向的風？

(A)由東北吹向西南的風
(B)由西南吹向東北的風
(C)由西吹向東的風
(D)由南吹向西的風。(P.62)

44. 臺灣當前最常見的河川水資源開發方式為何？

(A)上游興建攔河堰，中、下游設立水庫
(B) 上、下游興建攔河堰，中游設立水庫
(C)中游興建攔河堰，上、下游設立水庫
(D) 上游興建水庫，中、下游興建攔河堰。(P.76)

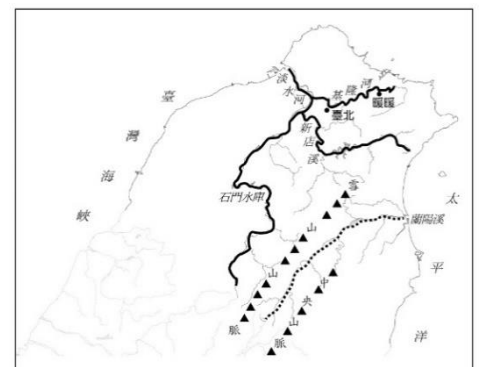
45. 【逆風而行，展翅飛翔】，台灣地處東亞中緯度地區，由於季風型氣候的特性，夏冬兩季盛行風向相反的風向，飛機起降時由於飛機速度變慢，穩定性差，萬一出現強勁側風就有可能把飛機吹歪，嚴重影響飛航安全。因此，機場建設跑道時，應考慮到該地區的盛行風向，盡量讓飛機在起飛和著陸時，能夠逆風而行，因為逆風起降可以縮短飛機的起飛滑跑距離或著陸距離，並有利於飛機的穩定性和操縱性。由上述的飛機起降特性判斷，桃園國際機場的跑道走向最可能為下列何者？

(A)東南——西北 (B) 南——北
(C)東——西 (D) 東北——西南。(P.62)

46. 下列有關水系、流域、分水嶺的敘述，何者錯誤？

(A) 德基水庫的集水區是指從水庫以下的河段範圍
(B)相鄰兩溪流的分界稱為分水嶺
(C)小支流匯成大支流，再匯成主流
(D) 水系是集水範圍稱為流域。(P.74)

47. 我們所在的大台北地區地理學上是一個盆地，行政轄區上分別由台北市與新北市分別管轄，宜蘭所在的蘭陽平原則由蘭陽溪與宜蘭河沖積而成的沖積平原，右



圖是臺灣北部區域地圖，粗黑線是淡水河水系；虛線是蘭陽溪水系。小王在地理課上向全班同學解說北部區域河川特色時，其中哪些敘述正確？(甲)新店溪是主流 (乙)雪山山脈是淡水河流域與蘭陽溪流流域的分水嶺 (丙)河川都是向東注入太平洋 (丁)暖暖的集水區範圍比臺北小 (戊)石門水庫位於支流
(A) 甲丁戊 (B)甲乙丙
(C)乙丙丁 (D) 乙丁戊。(P.75)

新北市立中正國民中學111學年度第一學期七年級社會科第三次段考試題

範圍：公民 B1L5~6、歷史 B1L5~6、地理 B1L5~6 班級：_____座號：____ 姓名：_____

48. 臺灣發生梅雨的時間主要集中於什麼時候？
(A) 夏秋之交 (B) 春夏之交
(C) 秋冬之交 (D) 冬春之交。(P.67)
49. 位於台北市的大屯山氣象觀測站為臺北地區海拔最高的氣象站，在當地適合觀測的氣象資料中不包括下列何者？
(A) 風力 (B) 溫度
(C) 風浪 (D) 降水量。(P.61)
50. 下列關於臺灣河流的敘述，何者是受到「主要山脈南北縱走」的影響？
(A) 河川東西分流 (B) 短小湍急
(C) 含砂石量高 (D) 河川流量穩定。(P.74)