

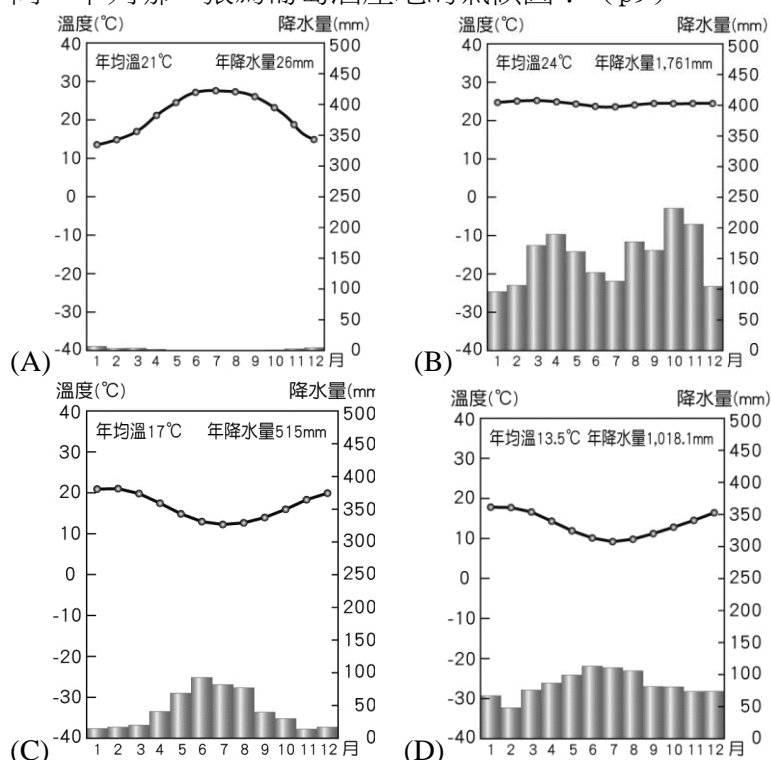
【讀卡科目請依規定畫卡，若有違反畫卡規定而影響讀卡作業之情事，一律扣總分五分。】

【手寫答案卷需確實寫上班級、座號、姓名，違者一律扣總分五分。】

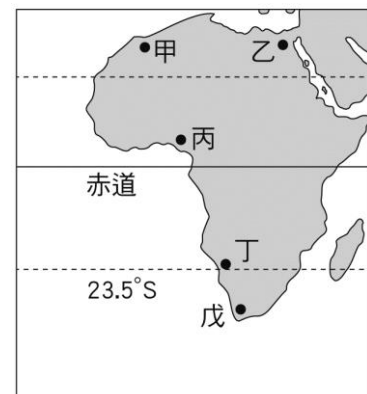
【手寫答案卷需用藍色或黑色墨水筆書寫，違者一律扣總分五分，使用鉛筆書寫扣五分。】

一、 選擇題

- 近年來到南極旅遊的風氣盛行，烏斯懷亞(Ushuaia)是前往南極的主要出發港口，其位在南緯 55 度，面對著比格爾海峽(Canal Beagle)，是全世界最南端的城市，號稱「世界盡頭城市」。請問：烏蘇懷亞位在哪一個國家?(A)紐西蘭 (B)阿根廷 (C)南非 (D)澳洲。(p27)
- 下列四項關於澳洲旅遊的敘述，何者正確？(A)花花到澳洲西北部海域浮淺，那裡有世界最大的珊瑚礁群 (B)泡泡在澳洲西南角的農園打工，發現那裡冬天的降雨量比夏天多 (C)毛毛到澳洲首都旅遊，參觀著名的地標雪梨歌劇院 (D)秀秀到塔斯馬尼亞島旅遊，那裡是個四季如夏的南方島嶼。(p20、p21)
- 動畫電影<獅子王>當中的「丁滿」一角是一隻狐獴，是生長在非洲南部的一種小型晝行性動物，牠們的腹部只有稀疏覆體的毛，底下是黑色的皮膚，當牠們用後腳站立時，這塊腹部的黑色區域能吸收太陽的熱，故能弄暖身體，這通常是牠們渡過寒冷的沙漠夜晚之後做的第一件事。請問：若想實地觀察狐獴，應該前往何地？(A)剛果盆地 (B)東非高原 (C)喀拉哈里盆地 (D)撒哈拉盆地。(p8)
- 北極海沿岸五個國家在 2015 年簽署《北極漁業宣言》，不僅同意暫停中央北冰洋(CAO)公海海域的商業漁業行為直至當地依科學研究確立漁業管理措施，且這次禁令明確訂下至少十六年期限，不僅有助進一步了解氣候變遷帶來的影響，當地海洋生態系統也終得片刻喘息。請問：上文簽署的五個國家中不包括下列哪一個？(A)美國 (B)丹麥 (C)俄羅斯 (D)芬蘭。(p26)
- 經營洋酒行的老皮進口了一批來自非洲的葡萄酒，請問：下列哪一張為葡萄酒產地的氣候圖？(p9)



- 承上題，該產地應該位在下圖何處？(A)甲 (B)乙 (C)丁 (D)戊。(p8)

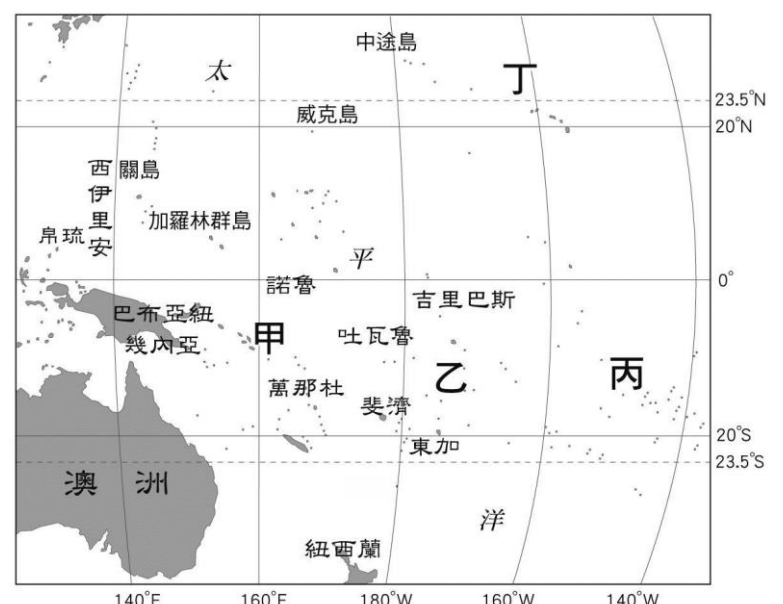


- 2016 年聖多美普林西比與台灣斷交，這個在非洲第二小的國家才被國人關注。在 16 世紀中葉時，葡萄牙殖民者利用奴隸的勞力將聖多美普林西比變成了非洲重要的砂糖出口地，而到了十九世紀早期，葡萄牙公司佔據了當地所有好的農田引進了兩種經濟作物：咖啡與可可，到了 1908 年，聖多美成了世界主要的可可產地之一。根據上文，下列哪一項不是聖多美普林西比產業的特徵？(A)粗放式經營模式 (B)在原產地進行初級加工 (C)易受國際市場價格波動影響 (D)出口導向 (p13)
- 附表關於紐西蘭南、北島的比較，何者正確？(p24)

選項	北島	南島
(A)緯度	較高	較低
(B)盛行風	西風	東南信風
(C)地形	多冰河地形	多火山地形
(D)人口	較多	較少

?

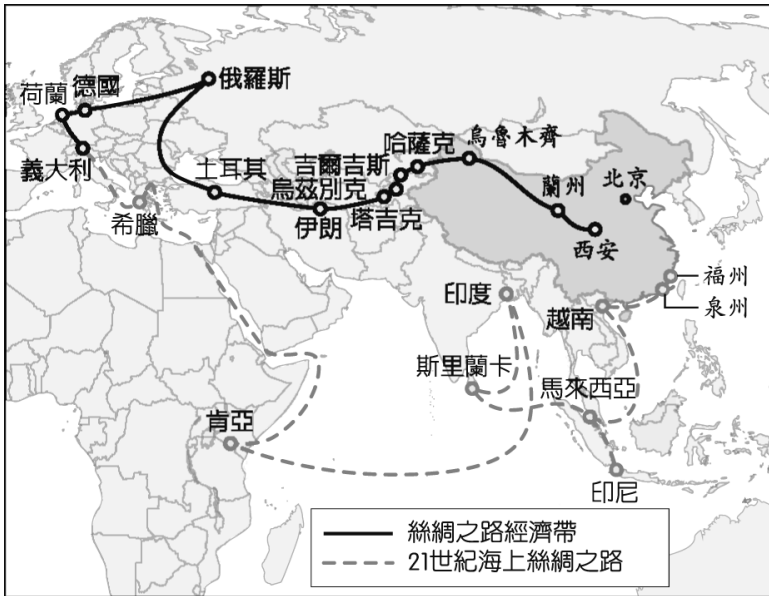
- 附圖為大洋洲地圖，下列相關敘述何者正確？(A)丁為夏威夷，是美國第 50 州 (B)丙屬於密克羅尼西亞島群 (C)乙所屬的島群以地勢低平的大陸島為主，降雨較少 (D)甲大約比台灣慢兩個小時 (p18、p19)



新北市立中正國民中學106學年度第二學期九年級社會科 第一次段考試題

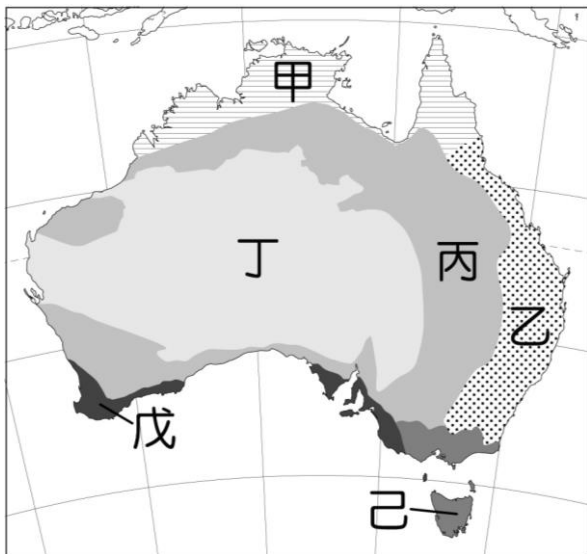
範圍：第六冊一、二課及公民第三冊、歷史一~五冊(占歷史題內容 20%) 班級：___ 座號：___ 姓名：___

10. 「一帶一路」全稱為絲綢之路經濟帶和 21 世紀海上絲綢之路，是中國於 2013 年開始倡議並主導的跨國經濟帶，根據下方 2017 年公布的路線圖，若走海上絲綢之路，從中國的泉州出發前往希臘，會有下列哪一個行程？(A)通過直布羅陀海峽後進入地中海 (B)經過麻六甲海峽後進入印度洋 (C)通過蘇伊士運河後抵達紅海 (D)經過好望角後進入大西洋。(p6、p7)

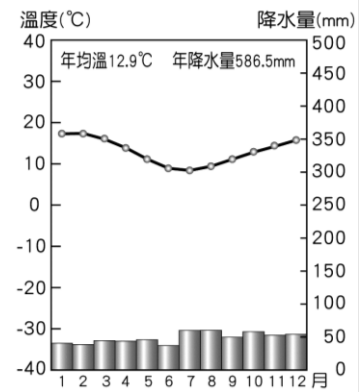


11. 兩極地區是指南、北緯環 66.5 度內的區域，請問：下列關於兩極環境的敘述何者正確？(A)冰河消融，使鄰近海域的航運更加安全 (B)出現新航道，可縮短歐洲到南美洲的航程 (C)南極由於地勢較高，冬溫較北極低 (D)如果想在迎接新年時欣賞「日不落」的奇景，可前往北極地區。(p26、p27)

◎ 附圖為澳洲氣候圖，請回答 12~14 題：

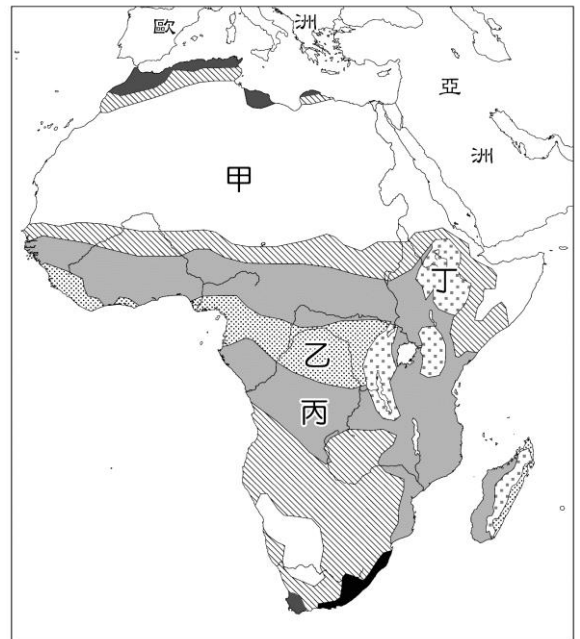


12. 「乙」氣候特徵為夏冬溫差小、降雨分配平均、無明顯乾季，是人口聚集的精華區。請問：形成該氣候的原因為下列哪一些？(1)東部沿岸有東澳暖流經過 (2)西部沿岸有西澳涼流經過 (3)中央有南回歸線橫貫 (4)終年西風吹拂 (5)大分水嶺以東迎信風。(A)(1)(5) (B)(4)(5) (C)(2)(4) (D)(1)(4)。(p21)
13. 樹鼻妹 3 月時到澳洲的農園打工採蘋果，已知當地的氣候如下圖所示，請問：她最可能到圖中哪一個地點打工？(A)甲 (B)丙 (C)戊 (D)己。(p21)



14. 澳洲火樹是一種槲寄生，因在 12 月開花，故又名澳洲聖誕樹，這種長在沙漠地帶的植物一旦發現其他植物的根，就會長出寄生根將其包覆起來，隨後將其切斷，奪取其中的水分和養分，最恐怖的是它會把埋在地底下的水管或電纜線當成宿主，寄生上去破壞管線。請問：若要研究這種特殊植物的，應該到圖中哪一區？(A)甲 (B)丁 (C)戊 (D)己。(p21)

◎ 附圖為非洲氣候分布圖，請回答 15~17 題：



15. 前陣子深受小朋友喜愛的「魔法幸運魚」其實是卵生的鱗魚，原產地大多為乾雨季分明的南美洲及非洲地區，每當乾季來臨前，這種魚會把卵產在潮濕的土中或枯葉堆裡，直到下一個雨季來臨，卵受到雨水的滋潤後就會很快孵化出小魚。請問：這種魚的原產地最可能是圖中哪一個地區？(A)甲 (B)乙 (C)丙 (D)丁。(p8)
16. 下列關於圖中各區環境的敘述，何者正確？(A)甲：亞斯文高壩興建後，下游三角洲的土地肥沃度下降 (B)乙以北地區人種膚色較深，以黑人部落為主 (C)丙：人口密度高，盛行集約式耕作的游耕 (D)丁：農業類型為殖民地式經濟，以葡萄的種植為主。(p6-p9)
17. 舉凡世界大大小小的馬拉松賽事，冠軍頭銜、金牌獎盃幾乎都被來自非洲特定國家的運動選手囊括，這些選手的故鄉多位在高達海拔 2500 公尺以上的村莊，這樣的生活環境讓跑者在海平面處擁有更高的攜氧量。請問：如果想前往選手的故鄉進行採訪，應前往何處？(A)甲 (B)乙 (C)丙 (D)丁。(p6)
18. 鄧小琦在努力用功準備會考，複習歷史重點時，發現「開羅宣言」及「門羅宣言」兩個宣言念起來相似，但內容、時間及發表的國家卻不盡相同，請問下列有關於這

新北市立中正國民中學106學年度第二學期九年級社會科 第一次段考試題

範圍：第六冊一、二課及公民第三冊、歷史一~五冊(占歷史題內容 20%) 班級：___ 座號：___ 姓名：___

- 兩個宣言的描述，何者**正確**？(A)「開羅宣言」發表時間早於「門羅宣言」(B)「開羅宣言」是針對日本所提出，主要內容是要求日本要在二次世界大戰中無條件投降，以及歸還臺灣、澎湖、山東半島給中華民國 (C)「門羅宣言」為19世紀時美國總統門羅所提出 (D)「門羅宣言」主要內容是要求歐洲國家勿干涉巴爾幹半島的獨立運動，後來幫助巴爾幹半島上各國獨立成功。(p52)
19. 「希臘城邦、神聖羅馬帝國、亞歷山大帝國、羅馬帝國、阿拉伯帝國、拜占庭帝國、鄂圖曼土耳其帝國」；請問以上有幾個政權統治過巴爾幹半島？(A)4個 (B)5個 (C)6個 (D)7個。(p53)
20. 上歷史課時，歷史老師詢問班上同學有關於十九世紀德國和義大利統一的相同點有哪些，以下是班上五位同學的回答：
(甲)鄭阿嶽：「這兩個地區都受到 19 世紀民族主義的影響，因而發起統一運動。」
(乙)范小翔：「這兩個地區的統一運動都有一位英明的國王及首相來領導。」
(丙)朱阿綺：「這兩個地區有共同的統一障礙，分別是奧國及法國。」
(丁)吳阿儒：「這兩個地區最後都藉由普奧戰爭來完成統一。」
(戊)楊大浩：「這兩個地區完成統一的時間都在同一年，那一年是 1870 年。」
請問上述有幾位同學的回答是**正確**的？(A)5 位 (B)4 位 (C)3 位 (D)2 位。(p54,55,56)
21. 上歷史課時，歷史老師介紹義大利建國統一的過程中有三位傑出的英雄人物，分別是馬志尼、加富爾、以及加里波底，但調皮的林阿丞卻將這三位人物的貢獻都弄混了，以下是他的認知：
(甲)薩丁尼亞王國首相馬志尼是義大利統一的關鍵人物
(乙)加富爾認為統一義大利只有靠鐵和血；
(丙)加里波底組青年義大利黨，推展「羅馬復興運動」，喚醒義大利民族意識。
請問上述哪一個認知是**正確**的？
(A)(甲) (B)(乙) (C)(丙) (D)全部都不對。(p56)
22. 有一天，有四位同學在下課時討論日本的歷史：
◎林阿馨：「江戶幕府時期實施鎖國政策」；◎蔡小霓：「日本被美國威脅取消鎖國政策」；◎李大棋：「日本在推動大化革新後，成為新帝國主義的國家」；◎溫阿楷：「日本利用中日甲午戰爭打敗中國，並且得到臺灣及澎湖」。請問上述哪一位同學的說法是**錯誤**的？
(A)林阿馨 (B)蔡小霓 (C)李大棋 (D)溫阿楷 (p58,59)
23. 請問新帝國主義、共產主義與寫實主義都與下列哪一事件的發生密切相關？(A)工業革命 (B)宗教改革 (C)地理大發現 (D)啟蒙運動。(p60,62)
24. 非洲在 19 世紀末期曾為新帝國主義國家所侵略，然而哪兩個國家因為種種原因，幸運的**沒有**淪為殖民地？
(A)南非、剛果 (B)埃及、利比亞 (C)賴比瑞亞、衣索比亞 (D)埃及、摩洛哥。(p63)
25. 簡小臻週末在家看了一部動畫電影「梵谷：星夜之謎」，這部2017年的動畫電影主要在講述荷蘭知名畫家文生特·梵谷的生平故事，並入圍2018年奧斯卡金像獎最佳動畫片，請問電影中的主角梵谷是屬於19 世紀哪一派的畫家？(A)浪漫主義 (B)印象派 (C)寫實主義 (D)立體派。(p60)
26. 在一個Line「中正國中會考全力衝刺」的群組當中，有一些同學們在Line上討論有關「民族自決」的思想：
(甲)黃大傑：「民族自決的原則是一次世界大戰之後，由美國總統威爾遜所提出。」
(乙)劉小恩：「此思想傳入臺灣，後來造成臺灣政治社會運動興起。」
(丙)吳小芸：「日本為因應此思想傳入臺灣，故實施內地延長主義，強調日臺合一，要將臺灣人與日本人一視同仁，但實際上日本歧視臺灣人的情形並未顯著改變。」
(丁)林阿儒：「民族自決也造成一次大戰後，俄羅斯、奧匈、德意志與鄂圖曼土耳其四大帝國瓦解。」
請問上述有幾位同學的說法是**正確**的？(A)四位 (B)三位 (C)二位 (D)一位。(p68)
27. 鄭小樺寒假時去台北逛國際書展，他在書展中看到四本書，分別是「西線無戰事」、「夢的解析」、「20 世紀畢卡索名畫賞析」、「少年維特的煩惱」，請問下列有關於這四本書的描述，何者敘述**錯誤**？(A)畢卡索的畫作是屬於立體派的畫風；(B)「西線無戰事」的作者是雷馬克；(C)「西線無戰事」描述戰爭的殘酷，以及人對戰爭的厭惡；(D)「夢的解析」與「少年維特的煩惱」的作者是歌德，是屬於浪漫主義的作品。(p60,69,70,71)
28. 2018年的世界盃足球賽即將在俄羅斯舉辦，在課堂上，老師請同學討論近代俄國的歷史發展，以下是四位同學的報告：
(甲)顏小琪：「俄國在近代屬於新帝國主義的國家，曾利用兩次英法聯軍威脅恫嚇中國與其簽璦琿條約與中俄北京條約。」
(乙)劉大偉：「俄國在1904年的日俄戰爭戰勝，與日本共同瓜分中國東北的權益。」
(丙)陳大漢：「俄國在20世紀初期加入三國同盟，後來在第一次世界大戰當中，俄國屬於同盟國。」
(丁)黃小瑜：「俄羅斯帝國因一次世界大戰而瓦解。」
請問上述哪幾位同學的說法是**錯誤**的？
(A)甲乙 (B)甲丁 (C)乙丁 (D)乙丙。(p64,68)
29. 20世紀第一次世界大戰前後有四位不同國家外交官的談話記錄如下：
◎史蒂芬·振宇：「塞爾維亞實在是太可惡了，他們國家竟然派刺客暗殺我國的皇儲斐迪南，所以我國決心要與塞爾維亞一戰。」
◎哲瑋·詹姆斯：「我國自從17世紀清教徒革命及光榮革命之後，發展出優良的議會政治制度及責任內閣制，而現在大戰期間，我國是協約國的一員，希望最後能打贏這場戰爭。」
◎宏甫·華斯基：「我國原本在一次大戰期間是屬於協約國的一員，但我國一直打敗仗，加上國內經濟蕭條，故在1917年發生兩次革命後，退出戰場。」
◎慕潔·諾威斯基：「我國在1871年完成統一，現在大戰期間是同盟國的老大，但因實施了無限制潛艇政策，

新北市立中正國民中學106學年度第二學期九年級社會科 第一次段考試題

範圍：第六冊一、二課及公民第三冊、歷史一~五冊(占歷史題內容 20%) 班級：___ 座號：___ 姓名：___

惹惱了美國，所以導致美國參戰，並加入協約國陣營，現在我國戰況十分吃緊，實在令人十分憂心。」

請問下列有關於這四位外交官國籍的描述，何者**錯誤**？
(A) 史蒂芬·振宇是奧匈帝國的外交官(B) 哲瑋·詹姆斯是法國外交官 (C) 宏甫·華斯基是俄國外交官(D) 慕潔·諾威斯基是德國外交官。(p64,65)

30. 1919年法國總理(甲)為了商討如何處理第一次世界大戰後的各項事宜，而去參加(乙)時，不禁高喊著：「我總算等到了這個報仇的日子！」他所說的報仇，是為了洗雪德國在1871年(丙)後給法國帶來的恥辱，故後來為了嚴懲德國，對德國簽(丁)，但也因此種下第二次世界大戰仇恨的種子。請問以下關於上文的敘述，何者配對**錯誤**？(A)甲：勞合喬治(B)乙：巴黎和會(C)丙：普法戰爭(D)丁：凡爾賽條約。(p67)

31. 蔡小蓓、徐小庭、林阿蔚、陳小蓉四人在元宵節時相約一起去看燈會展覽，下圖是燈會展覽的某一個展覽花燈這個花燈是20世紀一位著名的科學家，他提出「相對論」，為日後原子彈的發明奠下理論基礎，請問這位科學家是下列何人？(A)居禮夫人(B)愛因斯坦(C)佛洛伊德(D)牛頓。(p69)



◎題組

如圖是第一次世界大戰前夕歐洲形勢圖。請問：



32. 請問上圖中哪一組國家被稱為「三國協約」？(A)甲丁壬 (B)乙丙庚 (C)甲丁庚 (D)丙壬庚。
33. 請問上圖中哪一國中途背叛同盟國而加入協約國？(A)丁 (B)壬 (C)丙 (D)庚。
34. 請問上圖中哪一國於西元1917年發生兩次革命，之後就退出一戰的戰場？(A)丁(B)丙 (C)壬(D)庚。
35. 美國總統川普一日在白宮表示，將長期對進口鋼鋁課重稅，此舉引發歐盟等國家揚言對美採取報復行動，全球貿易戰一觸即發。請問：下列何者最符合上述內容的意涵？CH1

(A)社會救助 (B)產業升級 (C)全球關連 (D)企業合作。

36. 泰國「PANAMA」、拉丁「Despacito」等洗腦神曲在世界各地引發風潮。上述現象與下列何者最相關？CH1
(A)科技化與科技倫理 (B)全球化與文化交流 (C)數位化與多元學習 (D)商品化與國際貿易。
37. 附圖為泰國、緬甸的風俗習慣，身為地球村的我們應以多元的觀點，彼此相互了解、尊重與欣賞。下列哪一種說法符合上述的觀點？。CH1



(A) 同化不同的文化 (B)從文化影響人類生活程度，來判斷文化的地位高低 (C)多元文化不會影響我們的價值觀 (D) 各文化間無高低優劣的分野。

38. 幾位同學對於不同文化接觸頻繁，促使文化交流普遍的舉例，如附表所示。表中完全正確的有哪幾項？。CH1

	方式	內容
(甲) 世圓	殖民	日曾占領台灣為殖民地，留下不少建築物與建設。
(乙) 沛均	傳播	來到臺灣的新移民，帶動異國風味餐廳林立。
(丙) 珈惠	移民	移居英國的華人，群聚在一起形成中國城。
(丁) 衡任	留學	旅遊節目食尚玩家，介紹世界各地的美食人文風情

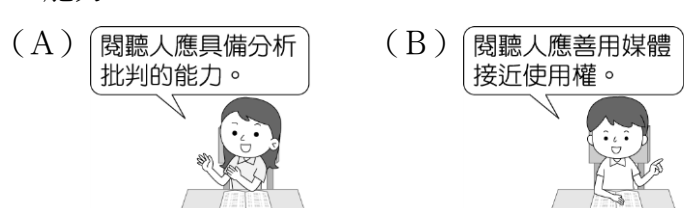
(A)甲丙 (B)乙丙 (C)甲丁 (D)乙丁。

39. 附圖是丘亞閱讀某網路電子報新聞內容。根據內容判斷，該網路新聞可以發揮大眾傳播媒體的何種功能？CH1

北市一名小四男童，寒假期間天天窩在家中迷上手遊。媽媽勸說竟被一陣暴打。經送神經科診斷為「嚴重手機問題使用症」。神經科醫師呼籲家長，千萬別一開始就給孩子手機做玩伴，且一定要控制孩子使用手機時間，培養第二興趣轉移注意力，若有嚴重影響生活或脫序行為，就要尋求醫師協助，並給足時間來戒斷手機成癮。

(A)休閒娛樂、監督政府 (B)休閒娛樂、提供訊息 (C)教育文化、監督政府 (D)教育文化、提供訊息。

40. 幾位好友正在討論如何培養媒體識讀的能力，成為一個理性自覺的閱聽人。請問：下列何人應加強媒體識讀的能力？CH1



新北市立中正國民中學106學年度第二學期九年級社會科 第一次段考試題

範圍：第六冊一、二課及公民第三冊、歷史一~五冊(占歷史題內容 20%) 班級：___ 座號：___ 姓名：_____

(C) 閱聽人應全面接收媒體提供的資訊。



(D) 閱聽人應判斷資訊的正確度。



41. 附圖為美國【野獸日報】的報導，顯示資訊科技發達造成了下列何種隱憂？CH2

民眾喜愛使用追蹤運動路線的 APP

「Strava」暗含洩密危機，軍方人員在網路上分享運動路線，恐怕會連帶揭露各地秘密軍事據點所在地，據悉台灣飛彈指揮總部和部分美國軍事措施的位置都已曝光。

- (A) 網路犯罪成為新興社會問題 (B) 社群互動影響國家資訊安全 (C) 資訊氾濫造成內容真偽難辨 (D) 公開資訊可能侵犯個人隱私。
42. 夙雲：「自蘋果發表第一支 IPHONE 智慧手機開啟智慧手機革命，科技產業和經濟模式快速變化，擴增實境(AR)技術和自駕車的問世，帶給人類生活更加便利。」下列何項敘述最符合上述內容涵意？CH2
- (A) 全球化可促進國際分工 (B) 維持生物的多樣性 (C) 資訊倫理提升科技水準 (D) 科技發展正改變全球生活。

43. 下表是四則侵權的新聞事件關於這四起事件的敘述何者正確？CH2

甲、手機大廠APPLE告Samsung侵犯其滑動解碼技術
乙、某酒商在自家的酒瓶貼上雙龍標籤，遭金門酒廠控告仿冒
丙、某韓國女星對抄襲服裝設計事件道歉
丁、網購業者資安控管不確實，導致消費者個資外洩，慘遭詐騙

- (A) 乙侵害商標權，丙侵害著作權 (B) 甲丁侵害專利權 (C) 乙侵害著作權，丙侵害著作權 (D) 丙丁侵害隱私權
44. 一名媽媽接受人工生殖技術，醫師在胚胎植入子宮前，先進行基因篩選與人類組織抗原配對，成功產下健康女嬰，女嬰的臍帶血將用於移植，拯救患有罕見疾病的哥哥。有學者擔憂，女嬰被賦予「救哥哥」的「工具性」目的來到世上，未來恐被視為潛在捐贈者，而有倫理道德的爭議。下列相關觀點，何項最受多數大眾接受？【綜合題】

- (A) 小女嬰與母親兩人的關係是法定血親 (B) 將女嬰被作為救哥哥的工具，體現了女嬰生命的延續性 (C) 文中學者擔憂的是生命倫理議題 (D) 人工生殖須受相關法規規範，主要是為了維持社會秩序。
45. 網路傳出變種版本勒索軟體「CryptXXX」的大量災情。資安專家建議，個人和企業用戶可採取簡單步驟避免受到勒索軟體感染。更重要的是，若不幸受到感染，也別支付贖金。下列相關敘述，何者錯誤？CH2
- (A) 重要資料要備份

- (B) 病毒碼一定隨時更新 (C) E-MAIL夾帶的網址不隨便點擊 (D) 標題特別吸引人的郵件，立即打開閱讀

46. 近日傳出衛生紙將漲價，引發民眾大搶購。(甲)機關到各大賣場查看，並呼籲民眾無須恐慌搶購；(乙)機關懷疑衛生紙廠商透過媒體再隔空交換訊息，達到合意的聯合行為，展開調查並約談業者。請問：(甲)(乙)機關分別為何？【政治篇】

- (A) 甲:衛福部；乙:消保處 (B) 甲:消保處；乙:公平會 (C) 甲:消基會；乙:公平會 (D) 甲:消保處；乙:調查局

47. 承上題:政府的監督機制可穩定市場交易及物價。此作為可落實哪一項經濟功能？【政治篇】

- (A) 提供公共財 (B) 鼓勵外部效益 (C) 維持經濟秩序 (D) 縮短貧富差距。

48. 中選會確定今107年11月24日舉行「九合一」選舉，附圖為三處投票所。若依下列四位對於地方選舉的敘述，何者錯誤？【政治篇】

投票所	所在地
星星投票所	新竹市(甲)東區(乙)
月亮投票所	雲林縣(丙)土庫鎮(丁)
太陽投票所	高雄市(戊)那瑪夏區(己)

- (A) 曉萱: 九合一包括直轄市長、立法委員、縣市議員等9種候選人選舉 (B) 式捷: 設籍在太陽投票所的選民可領到5張選票 (C) 貴甄: 在行政區的劃分上，甲、丙屬相同層級 (D) 莉清: 丙的縣政府執行社會福利預算。

49. 106年5月24日我國□□院擠滿新法社、路透社、美聯社等國內外媒體，等待亞洲第一個同性婚姻釋憲案的結果。下列何項是對□□院描述錯誤？【政治篇】

- (A) 此院是司法院 (B) 此院的正副院長、大法官提名任命方式和監察院審計部部長相同 (C) 會召開憲法法庭審理公務員彈劾案 (D) 各級法院隸屬此院。

50. 下圖是鑫仁在網路上看到的「10秒鐘看懂義大利修憲公投」示意圖。圖中總理辭職下台，是反映出何種民主政治的特色？【政治篇】



- (A) 責任政治 (B) 法治政治 (C) 民意政治 (D) 政黨政治