

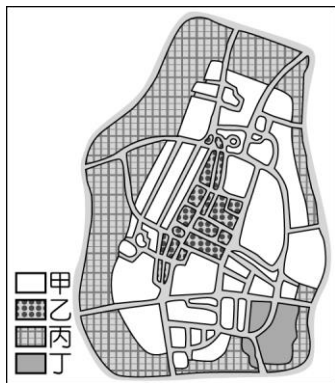
【讀卡科目請依規定畫卡，若有違反畫卡規定而影響讀卡作業之情事，一律扣總分五分。】

【手寫答案卷需確實寫上班級、座號、姓名，違者一律扣總分五分。】

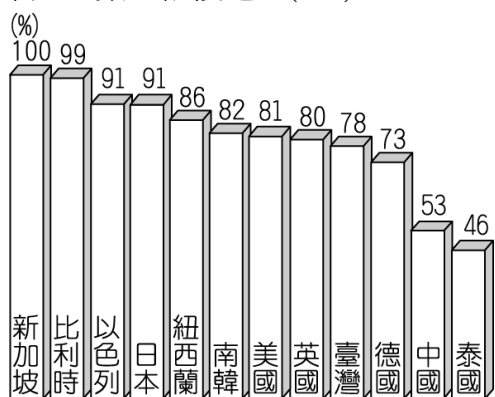
【手寫答案卷需用藍色或黑色墨水筆書寫，違者一律扣總分五分，使用鉛筆書寫扣五分。】

### 一、選擇題

- 在環保意識抬頭下，曉明看中可回收再利用的鋁罐商機無限，因此欲投資煉鋁工廠。請問：他此時需要考慮的區位條件主要為何？ (A)鋁礦原料豐富 (B)勞工工資低廉 (C)動力充足便宜 (D)勞工素質較高。(P30.31)
- 民國96年台灣高鐵通車後對台灣各項產業的影響何者正確？ (A)航空運輸業更蓬勃 (B)勞力密集工業可望回流 (C)國道運輸更加繁忙 (D)國內旅遊活動更興盛。(P44)
- 附圖為發達市的土地使用分區圖。若這個城市的商業區位於道路交通的樞紐地帶，圖中的哪一圖例最可能代表商業區？ (A)甲 (B)乙 (C)丙 (D)丁。(P43)



- 一地若具備優良的自然環境與交通條件，往往會帶動產業發展，形成都市。請問：一般都市居民大多數從事哪些產業？ (A)第一、二級產業 (B)第二、三級產業 (C)第一、三級產業 (D)與產業類別無關。(P42)
- 都市聚落已成為現在社會主要的發展趨勢，附圖為2015年臺灣與其他國家都市化程度比較圖。請問下列敘述何者正確？ (A)泰國的經濟發展程度最高 (B)新加坡以第一、二級產業為主 (C)中國第一級產業就業人口高於比利時(D)臺灣、美國、英國都市化程度接近表示都市人口數也很接近。(P41)



- 下列哪些屬於第三級產業？(甲)製造業(乙)林木業(丙)交通運輸業(丁)批發商(戊)金融保險業(己)國中教師 (A)甲乙丙丁 (B)乙丙丁戊 (C)丙丁戊己 (D)甲丁戊己。(P34)
- 下列各種運輸情境何者最適合空運？ (A)出口捷安特腳踏車到新加坡 (B)進口一千噸泰國榴槤到臺灣 (C)

(D)從台東初鹿牧場運送鮮乳到台北 (D)從荷蘭鹿特丹進口鬱金香到臺灣。(P45)

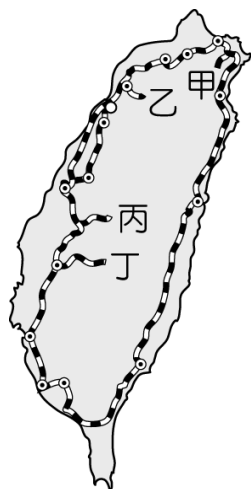
- 人口規模較大的都市，如臺北、高雄，其勞工來源充裕，本身又是市場，故為理想的設廠地點。下列四種工廠，何者的理想區位是在大都市的近郊？ (A)汽車維修廠 (B)鋼鐵工廠 (C)石化工廠 (D)水泥工廠。(P31)
- 21世紀臺灣產業活動面臨升級的考驗與挑戰，為增加在國際市場上的競爭力，下列何種發展方向最為適合？ (A)推動國內重大建設 (B)擴展非洲等落後國家市場 (C)加強產品研發創新 (D)設置加工出口區吸引外資。(P32)

\*附表是四個國家的人口資料。請依據資料回答下列兩題

單位：萬人

| 國家<br>項目 | 甲     | 乙     | 丙     | 丁     |
|----------|-------|-------|-------|-------|
| 人口總數     | 2,100 | 3,600 | 5,000 | 5,400 |
| 都市人口     | 1,400 | 1,800 | 2,800 | 2,900 |

- 哪一個國家都市化程度最低？(P42)  
(A)甲 (B)乙 (C)丙 (D)丁。
- 甲國都市人口占人口總數的比例約為多少？(P42)  
(A)46% (B)56% (C)67% (D)76%。
- \* 設立於民國 60 年代的中國鋼鐵公司，創立初期筆路藍縷的在一片農地中開闢工廠，雖然當時還可找到更便宜的土地，但因為甲設施就在這裡，這是最棒的條件了  
上文是一位中鋼工程師的回憶內容請回答下面兩題
- 如果時空倒轉回到創立初期的中鋼公司在該地的農地上最可能見到哪種景觀？ (A)臺地上滿布埤塘 (B)一望無際的蔗田 (C)滿山遍野的茶園 (D)廣大的棉花田。(P19)
- 上文提到的甲設施為何？ (A)中山高速公路 (B)桃園國際航空站 (C)西部縱貫線 (D)高雄國際港。P47
- 臺灣的經濟成長多依賴出口產業除了缺乏自然資源外還與哪一項原因有關？ (A)成本過高 (B)技術不良 (C)市場限制 (D)政策支持。(P36)
- 交通部觀光局推行臺灣好行觀光巴士，規劃了許多觀光路線，藉此行銷台灣各地區的獨特魅力，利用巴士觀光與公路何種特性較不相關？ (A)機動性能深入各地 (B)適應地形能力佳 (C)載客量大 (D)運輸範圍較廣。(P45)
- \* 臺灣除了環島鐵路之外，尚有四條風景優美、各具特色的支線鐵路。附圖是臺灣鐵路的分布圖。請問：



16. 如果要搭乘某支線參加元宵節放天燈活動，應搭乘哪一支線？ (A)甲 (B)乙 (C)丙 (D)丁。(P44)
17. 嘉義山區蘊藏豐富的林木資源，從前日本人將山上的檜木運到平地，是利用哪一條鐵路支線運送木材？ (A)甲 (B)乙 (C)丙 (D)丁。(P44)
18. 莫拉想要做一篇有關「日治時期臺灣人物」的報告，如果她要介紹林獻堂的生平，應該如何形容？(A) 從事水利建設，有助經濟發展 (B) 領導政治社會運動，追求地方自治 (C) 領導武裝抗日，爭取臺灣自治 (D) 推動義務教育，改變臺灣社會。(P105)
19. 下列哪些社會狀況，是在日治時期可能見到的情形？(甲) 民眾犯了法須接受法院的審判 (乙) 政府嚴格取締吸食鴉片，使鴉片幾乎絕跡 (丙) 女人不再纏足，穿著更多樣化 (丁) 火車行駛有固定的時間表 (A)甲、乙、丙 (B)乙、丙、丁 (C)甲、丙、丁 (D)甲、乙、丁。(P103、104)
20. 日治時期的臺灣人口由1905年的300萬人，到1940年增加為587萬人，人口增長了將近一倍，主要是受到哪項因素的影響？ (A) 南進政策需大量人力，總督府積極獎勵生育 (B) 日本政府為了加速臺灣的開發，從東南亞引入大量的勞工 (C) 日本國內人民大量移入臺灣，導致人口成長迅速增加 (D) 臺灣的衛生條件改善，死亡率降低，人口自然增加。(P104)
21. 西元1926年，凡恩由基隆上船，到日本接受大學教育。當時臺灣青年踴躍前往日本留學，至西元1945年為止，留日學生共達二十萬人。下列哪一項原因造成當時此種風潮？(A) 臺灣沒有高等教育學校 (B) 臺灣人在臺升學不容易 (C) 日本倡導學術研究政策 (D) 日本教育制度較為公平。(P102)
22. 蔣渭水在臨床講義當中提及處方「讀報社」可改善智識營養不良症的問題。請問：下列當時哪一份報紙的創刊，可呼應蔣渭水的診斷處方？(A)《自由中國》(B)《臺灣民報》(C)《台灣時報》(D)《美麗島》。(P105)
23. 圖倫於日治時期參加了一個政黨，此政黨提出「打倒阿片（鴉片）、打倒迷信、打倒惡習」的口號，並組織演講隊在全國進行演講，討論民權、自治等概念，也扶植臺灣的勞工運動和農民運動。請問上述的政黨是指？(A) 中國國民黨 (B) 中國民主黨 (C) 臺灣民眾黨 (D) 民主進步黨。(P106)
24. 「若臺灣人沒有文化，就算日本人願意讓我們享有自治權，臺灣人真的有辦法自己管理自己嗎？因此，提升臺灣人的文化水準，喚醒臺灣人的民族意識，是當下所必

須同時進行的工作」。請問文中所提當下必須同時進行的工作，是指下列何者？ (A) 發起「臺灣議會設置請願運動」(B) 成立「臺灣文化協會」(C) 組織「臺灣民眾黨」(D) 籌組「臺灣地方自治聯盟」。(P105)

25. 上歷史課時，賴老師要求同學討論日治時期的教育狀況，下列哪一位同學的說法是錯誤的？(A) 龍馬：第一所專收台人子弟的中學是台中中學校 (B) 蘿兒：採取差別待遇及隔離政策的原則 (C) 塔拉：台人子弟念的小學校無論師資、設備都比不上日本人念的公學校 (D) 愛里：1943 年推動六年國民義務教育，台灣人的就學率大為提高 (P101、102)

26. 右表是民國 73 至 77 年間，我國人民抗議事件次數的統計資料。表中 76、77 年抗議事件遽增，主要是受到何者的影響？

| 民國（年） | 抗議事件（次） |
|-------|---------|
| 73    | 277     |
| 74    | 427     |
| 75    | 484     |
| 76    | 995     |
| 77    | 1,620   |

- (A) 總統直接民選  
(B) 解除戒嚴  
(C) 修訂《中華民國憲法》  
(D) 終止動員戡亂時期  
。(P115)

27. 承上題，造成這個政治現象的關鍵人物是誰？ (A) 李登輝 (B) 馬英九 (C) 蔣經國 (D) 陳水扁。(P115)

28. 資料一：1960年他與台港在野人士共同連署反對蔣中正三連任總統。

資料二：他發表了《我們為什麼迫切需要一個強有力的反對黨》，鼓吹成立反對黨參與選舉以制衡執政黨。

資料三：他與非國民黨籍人士舉行選舉改進檢討會，主張成立新黨，要求公正選舉，實現真正的民主以上資料和下列哪件事情相關？(A) 陳菊等人成立民主進步黨 (B) 蔣渭水等人組織台灣民眾黨 (C) 學生發起三月學運，要求解散萬年國會 (D) 雷震等人試圖籌組中國民主黨。(P114)

29. 今年的二月二十八日，桃園慈湖陵寢有民眾帶著紅漆闖入，並朝停在裡面的蔣介石棺柩潑灑紅漆，此舉引發各界不同的議論。下列所列出二二八事件發生的原因，「不應該」包括下列何者？(A) 部分官員貪污腐化、濫用特權，使民眾感到不滿 (B) 陳儀擔任台灣省主席，專制統治臺灣 (C) 政府將米糧運往中國大陸支援國共內戰，導致物價飛漲 (D) 查緝私菸時誤殺民眾，引起群眾憤慨。(P111)

30. 承上題，此事件發生當時，實際負責執行臺灣政務的最高行政單位為下列何者？(A) 臺灣總督府 (B) 臺灣省政府 (C) 台灣省行政院 (D) 臺灣省行政長官公署。(P111)

31. 民國37年到民國64年，蔣中正連任了五任中華民國總統，是因為下列哪一條法律所賦予的權利？(A) 地方自治條例 (B) 戒嚴令 (C) 動員戡亂時期臨時條款 (D) 六三法。(P113)

32. 民國40、50年代，一些批評執政當局的臺灣知識分子，慘遭政府逮捕、殺害，讓臺灣的輿論界及政壇折損不少優秀人才，對臺灣日後的民主發展，造成不利的影響。上述臺灣知識分子所面臨的事件為何？(A) 白色恐怖 (



- B) 動員戡亂 (C) 美麗島事件 (D) 二二八事件。(P113)
33. 「(甲)終止動員戡亂時期 (乙)實施地方自治 (丙)宣布開放黨禁、報禁 (丁)首次由人民直選總統」。上述民主化的過程，依照時間先後順序排列，正確的是下列何者？(A) 甲乙丙丁 (B) 丙甲丁乙 (C) 乙甲丁丙 (D) 乙丙甲丁。(P114-115)
34. 1979年12月10日農農的爺爺響應某一個雜誌社的號召，參加國際人權日紀念大會，活動中群眾進行遊行及演講，訴求民主與自由，終結黨禁和戒嚴。結果與憲警爆發激烈衝突，事後許多人被捕入獄。農農的爺爺所參加的活動，應是指下列何者？(A) 臺灣議會設置請願運動 (B) 野百合學運 (C) 二二八事件 (D) 美麗島事件。(P114)
35. 台灣人黃小花於四月底赴日本參加友人工藤新一和小蘭的婚禮，她發現參加日本婚禮時，所拿出的「祝賀禮金袋」有別於台灣整個紅包都是紅色，日本的紅包底色幾乎都是白色的，上面則會以紅、金為主的顏色，甚至有立體的裝飾。請問，這說明了文化的何種特性？(A) 普遍性 (B) 差異性 (C) 累積性 (D) 制約性。(Ch4)



36. 文化的範圍大致可分為：器物、理念與制度等三種，其中下列何者是屬於文化的「制度」內涵？(A) 中國的孔孟學說 (B) 位在新北市淡水區的紅毛城古蹟 (C) 印象派畫作 (D) 屏東縣恆春鎮的中元節豎孤棚（搶孤）活動。(Ch4)
37. 公民課時，公民老師以安妮為例，列舉幾個社會規範的例子，若按照：(1)風俗習慣 (2)倫理道德 (3)宗教信仰 (4)法律的順序，何者為正確排序？(A) 乙甲丁丙 (B) 甲丙丁乙 (C) 丙丁甲乙 (D) 乙丙丁甲 (Ch3)
- (甲)嫁出去的女兒大年初二回娘家，探望雙親  
(乙)結婚必須要以書面為之，並向戶政機關登記才有效力  
(丙)雖然嫁作人婦，但安妮對爸媽依然早晚問安  
(丁)安妮相信「善有善報，惡有惡報」，所以她喜歡多做好事
38. 位在新北市的中和區，由於有許多來自泰、緬的外籍配偶，於是新北市市政府索性在當地舉辦「潑水節」活動，讓這些外籍配偶與本地人士同歡。上述活動可以用哪個概念說明？(A) 文化交流 (B) 文化衝突 (C) 文化競爭 (D) 文化創新 (Ch4)
39. 四位同學下課在討論公民課「社會規範」課程內容，下列何者的說法最正確？(Ch3)
- (A) 小雯：社會的和諧只要靠法律維持即可。  
(B) 阿皓：倫理道德是透過外透過超自然力量來制約個人行為。  
(C) 阿美：宗教信仰具有啟發個人內在的作用，使人比

- 較不會做違背良心的事。  
(D) 小菲：不論社會如何變遷，社會規範都是一成不變的。
40. 中元節與盂蘭盆節是東亞文化上在七月十五的傳統節日，本來中元節是初秋慶賀豐收、酬謝大地的節日，後來道教視中元節為地官赦罪日，佛教傳入後又以此日為盂蘭盆節，加上東亞巫覡宗教及民間信仰習合，不少地區在同一日都有各式活動。民間俗稱鬼節、七月半。上述說明了文化的何種特性？(A) 普遍性 (B) 差異性 (C) 累積性 (D) 制約性。(Ch4)
41. 在我國，行政院下所設置的哪一個部門，負起文化傳承使命，鼓勵文化創意產業的發展？(A) 外交部 (B) 內政部 (C) 教育部 (D) 文化部。
42. 趙小君在社區內樓梯和走廊常看到有人堆放雜物，某日她看到報紙上的一則新聞(如下圖)，她發現原來堆放雜物已違反何項社會規範？(A) 法律 (B) 風俗習慣 (C) 倫理道德 (D) 宗教信仰。(Ch3)



43. 同學們在討論「青少年次文化」，而哪一位同學對於青少年次文化的認知「有所誤解」？(Ch4)
- (A) 阿妙：青少年指的是 12 到 18 歲這個年齡層  
(B) 阿建：可以從青少年的喜好、語言及服裝來了解青少年次文化  
(C) 小清：如嘻哈街舞、火星文就是青少年獨特的文化  
(D) 小文：青少年次文化是社會上大多數人所認同的，且是次一等的文化。
44. 吳起是位身心健全的人，他到文化中心參觀時，因臨時找不到停車位，而把車子停在殘障專用車位。請問：吳起的行為違反下列哪些社會規範？(甲)倫理道德(乙)風俗習慣(丙)宗教信仰(丁)法律 (Ch3)
- (A) 甲乙 (B) 甲丁 (C) 乙丙 (D) 乙丁。
45. 花甲與花乙在賣場購物完要結帳時，兩人因為插隊而引起旁人的注目。請問：他們兩人會招致何種懲罰？(甲)自我良心的譴責(乙)社會輿論的壓力(丙)依法取締(丁)收到罰單 (A) 丙丁 (B) 乙丙 (C) 甲乙 (D) 乙丁。(Ch3)

46. 「樂活」(Lohas, lifestyles of health and sustainability) 這一名詞已成為世界的新生活方式，樂活族就是一群在做消費決策時，會考慮到自己與家人的健康和環境責任的人。這種愛地球、愛動物、愛自己的「永續生活態度」是屬於文化的哪一個層次？(A)器物層次 (B)制度層次 (C)理念層次 (D)實用層次。(Ch4)
47. 根據附圖內容判斷，小鳳應該要選擇下列哪一項法規？



- (A)《食品安全衛生管理法》 (B)《文化資產保存法》 (C)《人民團體法》 (D)《憲法》。(Ch4)
48. 下列何人的做法，符合「第六倫一群己倫」的要求？(A)孔融讓梨 (B)岳飛精忠報國 (C)偉任在圖書館輕聲細語 (D)王祥臥冰求鯉。(Ch3)
49. 你喜歡吃美國式連鎖的披薩？或是義大利的手工披薩？現在有一款加了米做成的米披薩，不但吃的到層層濃郁的起司和食材，披薩皮薄脆卻又帶嚼勁！加入了做清酒的蓬萊米粉，將台灣最好吃的稻香味揉進披薩餅皮裡面，特殊的方塊造型和口感，創造出獨家的義式米披薩，大大的推廣了台灣的米食文化。米披薩因為不含油脂，所以吃起來爽口而不膩，搭配精選配料，口味更勝一級，沒想到台灣的蓬萊米也可以做出這麼有異國風味的特色料理！請問：上述文化具有何種意涵？(A)文化傳承 (B)文化改革 (C)文化交流 (D)文化創新。(Ch4)



50. 「抓週」在嬰兒出生滿一年時舉辦，是一種慶賀的儀式，以祈求小孩平安長大。關於附圖中所舉行的抓週儀式敘述何者正確？(A)是一種倫理道德的規範 (B)沒有幫小孩抓週的父母會受到國家公權力處罰 (C)抓週抓到的東西代表孩子未來一定會走該項職業 (D)是一種相沿成習的社會規範。(Ch3)

