

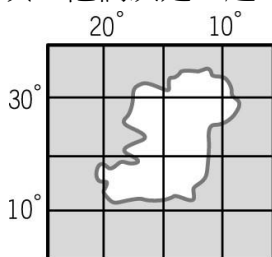
【讀卡科目請依規定畫卡，若有違反畫卡規定而影響讀卡作業之情事，一律扣總分五分。】

【手寫答案卷需確實寫上班級、座號、姓名，違者一律扣總分五分。】

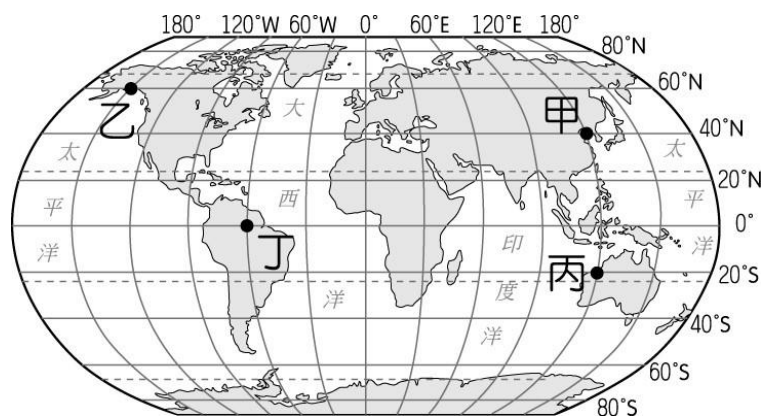
【手寫答案卷需用藍色或黑色墨水筆書寫，違者一律扣總分五分，使用鉛筆書寫扣五分。】

選擇題

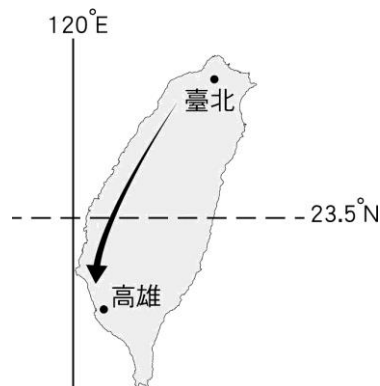
- 交通科技革新日新月異，提升了生活的便利性。目前臺灣有許多縣市已建置 YouBike 租賃站，民眾可利用手機上的 APP 程式查詢腳踏車的租賃狀況，也可顯示周圍的租賃站的位置。請問：這是運用下列何種方式得知目前周圍租賃站的位置？(P16)
(A)傳統地圖掃描 (B)高空衛星偵測定位
(C)飛機高空航照 (D)指北針八方位測量。
- 位置的表示方法有兩種，下列哪一敘述是在說明「相對位置」？(P8)
(A)黃老師的家住在中正路 247 號
(B)後甲燒肉店在重慶北路與忠孝東路交會處
(C)紅霞颱風目前位置在臺灣東南方的海面上
(D)小宏坐在第 2 排第 5 列。
- 臺灣冬季時，常會有候鳥來臺避寒，或者成為避暑北移的休息站。請問：造成此種現象的主要因素為何？(P23)
(A)臺灣環境汙染較少 (B)臺灣冬季雨水較少 (C)臺灣夏季的雨水較為豐沛 (D)臺灣位居溫帶與熱帶氣候的過渡帶上。
- 右圖為小傑和小中一起發現的夢幻島嶼，他們決定一起來這裡蓋度假中心。請問：這座夢幻島嶼位於下列何處？(P10-11)
(A)南半球、西半球
(B)南半球、東半球
(C)北半球、西半球
(D)北半球、東半球。



- 16 世紀時，非洲的黑人被西班牙人販賣至美洲的田園工作，依據兩地的位置判斷，當時這些載運黑人的船隻最可能航行於下列哪個海域？(P21)
(A)太平洋 (B)大西洋 (C)印度洋 (D)北極海。
- 臺南市區的孔家學院要到一飛衝天遊樂場進行地理考察，翻閱比例尺為 1：1,000,000 的地圖，發現兩地之間的距離約為 3 公分。請問：兩地之間的實際距離約為多少公里？(P15)
(A) 30 公里 (B) 100 公里 (C) 1,000 公里 (D) 1 公里。
- 臺灣有許多物種原本是生活於亞洲大陸，但是有一些物種因為環境變遷而留在臺灣，逐漸演變出臺灣的特有種生物。請問：上述中的「環境變遷」所指為何？(P23)
(A)板塊遷移 (B)地殼變動 (C)海水面上升 (D)火山爆發。
- 雨萱出國念書，雨萱目前位於東經 120°的位置，子維位於西經 45°的位置。請問：雨萱與子維所在的兩地時間相差幾個小時？(P12)
(A) 5 小時 (B) 9 小時 (C) 11 小時 (D) 14 小時。
- 有四架飛機分別從甲、乙、丙、丁四個城市，以相同的速度自西向東出發繞行地球一圈。請問：從哪一城市出發的飛機所花的時間最長，最慢完成環球一周的活動？
(A)甲 (B)乙 (C)丙 (D)丁。(P11)



- 下列地圖中，A、B 兩地實際距離何者最長？(P15)
(A) (B)
(C) (D)
- 地球上南北半球季節相反的原因與何者有關？(P13)
(A)地軸傾斜 (B)地球自轉 (C)地表高度 (D)陸地面積大小。
- 附圖是臺灣簡圖，請問依此圖判斷，臺北市的位置最接近下列何者？(P24)
(A)(25°N,121°E) (B)(23°N,121°E) (C)(25°N,119°E)
(D)(23°N,119°E)。

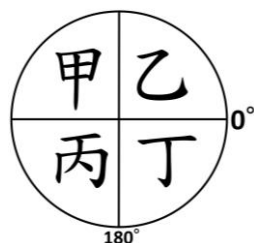


- 阿冠：「這張寶藏圖上看起來有很多寶藏呢！」
小妍：「你怎麼確定這個標示是寶藏呢？有可能其實是地雷呢！」
根據上述對話，他們的寶藏圖在哪個部分標示不夠明確？(P14) (A)圖名 (B)圖例 (C)方向標 (D)比例尺。
- 新北市中正國中的同學參加校外教學，一大早就搭遊覽車南下花蓮，準備參觀太魯閣國家公園。由於早上天氣很好，陽光剛好直射遊覽車內某一邊窗戶，同學們只好把窗簾拉下隔絕窗外刺眼的陽光。請問：若以車頭方向為前方，早上出發時，坐在遊覽車哪邊的同學需要把窗簾拉下？(P22) (A)右方 (B)左方 (C)前方 (D)後方。

15. 根據民航局飛航服務總台統計資料顯示，他國航空班機每架過境一次台灣便收取 1 萬元過境航空服務費，2018 度共提供 22.3 萬架次班機過境服務，比起 2017 年的過路費首度突破 20 億元，更創下歷年新高。請問台灣之所以可以成為多家航空選擇過境台灣的原因為何？(P22)
- (A)台灣位於熱帶氣候及溫帶氣候的交界帶
(B)台灣位於歐亞板塊及菲律賓海板塊接觸帶
(C)台灣位置在東半球及北半球
(D)台灣位於東亞島弧上，是東北亞往返東南亞必經之國。

16. 臺灣因四面環海，島嶼眾多，擁有廣大的經濟海域，但因與鄰近國家的經濟海域重疊，經常有漁業上的糾紛。請問：上述的鄰近國家不包含下列何者？(P25)
- (A)日本 (B)南韓 (C)菲律賓 (D)中國。

17. 世理乘坐滑翔傘因遇上龍捲風而被迫降落，亟需救援，她根據手機 GPS(全球衛星定位系統)，於(40° N, 125° E)地點發出求救訊號。根據資訊判斷，她迫降的地點位於右圖中那個區域？(P10-11)



- (A)甲 (B)乙 (C)丙 (D)丁。
18. 下列臺灣的史前文化中，哪一個文化出現的時代距今最久遠？(P.88)

- (A)長濱文化 (B)大坌坑文化 (C)圓山文化 (D)十三行文化。
19. 人類進入新石器時代以後有許多重大的變革，而有「新石器革命」之稱，其主要意義為何？(P.89)
- (A)已知用火取暖、照明與熟食，使生命得以延長
(B)開始使用文字，明確記載當時人們的各種活動
(C)進入產食時代，人們開始有餘暇從事文化創造
(D)發展嚴密的軍事及國家組織，保障群體的安全。

20. 某一博物館在特展中，展出臺灣某一遺址的生活想像圖。從圖中可以看到人們用火煮食；婦女身上有串玻璃珠串，屋旁還有一冶鐵爐。請問：根據以上所述，這應該是下列哪一文化遺址的想像圖？(P.90)

- (A)長濱文化 (B)卑南文化 (C)圓山文化 (D)十三行文化。
21. 下列何者較可證明「臺北盆地曾是一座湖泊」的論點？(P.89)

- (A)在卑南遺址發現玉器 (B)在圓山遺址挖出貝塚 (C)發現長濱文化人的化石 (D)發現大坌坑文化的繩紋陶器。
22. 文昌在網路上看到一則報導：臺南市政府要幫這群被稱為「熟番」的原住民朋友找回他們原來的身分，有近萬人登記。請問：「生番」、「熟番」的劃分始於何時？(P.92)

- (A)荷治時期 (B)鄭氏治臺時期 (C)清帝國時期 (D)日治時期。
23. 附表為 17 世紀荷蘭勢力在某地的發展情況，就內容判斷，此地應位於附圖何處？(P.100)
- (A)甲 (B)乙 (C)丙 (D)丁。

時間	事件
1604 年	荷蘭人入據此地中國官方出兵驅逐
1622 年	荷蘭人再次占領此地
1624 年	中國官方出兵此地，荷蘭人破壞城堡遷離



24. 附圖是某展覽的簡介，根據內容判斷，此次展覽的主題最可能是下列何者？(P.91)

展覽簡介

在太平洋的眾多島嶼上，有許多使用不同語言的族群，但他們對於鯊魚、烏賊、蝦子等動物的稱呼卻很類似，語言學家因而認為，這些族群語言的起源可能相同。他們的分布範圍東起復活島，西到非洲東岸的馬達加斯加島，南到新幾內亞、紐西蘭，而臺灣則是其分布的北界，保存了許多古語的特徵。

- (A)非洲大陸及其各種語系 (B)南島語族與臺灣原住民
(C)全球化下的語言同化現象 (D)帝國殖民統治的語言政策。
25. 早期的臺灣原住民族並沒有文字，而傳說與神話是了解其發展的重要材料，我們應該如何看待他們的口述傳說與神話？(P.93)
- (A)部分原住民稱自己祖先從裂開的石頭而出，不符合科學推理，不值得採信
(B)祖先曾遭遇洪水災難的傳說，顯示臺灣原住民從中國的黃河流域遷徙而來
(C)許多臺灣原住民都有洪水氾濫的傳說，證明其祖先相同並且來自同一地區
(D)藉由傳說可以推知原住民可能從其他島嶼移居至臺灣，再遷移到其他地區。
26. 平埔族中的「凱達格蘭族」與「西拉雅族」不在官方認定的原住民 16 族中，最有可能的原因為何？(P.92)
- (A)這兩族並非原住民 (B)原住民都住在高山上，但這兩族都住在平原 (C)原住民大多是父系社會，但這兩族卻都為母系社會 (D)這兩族因為住在平地，漢化的結果以致原住民的身份認定困難。
27. 下列何者曾在荷蘭據臺之前招募鄉親前來臺灣開墾？(P.98)
- (A)顏思齊 (B)郭懷一 (C)施琅 (D)鄭成功。
28. 澎湖有全臺澎地區歷史最悠久的媽祖廟—馬公天后宮，這應與澎湖在歷史中的何種地位有關？(P.99)
- (A)最早有漢人聚居 (B)媽祖的出生地 (C)媽祖常顯現神蹟之地 (D)常被海盜騷擾。
29. 十七世紀，臺灣歷史進入國際競爭時期，成為列強多方角逐的場所，也顯示出臺灣在國際地位的重要性。請問：我們若要參觀西班牙人遺留的古蹟，應前往附圖何處？(P.101)




- (A)甲乙 (B)丙丁 (C)丁戊 (D)甲丁。
30. 荷蘭人統治臺灣時，曾在赤崁地區建立商業市鎮，該市鎮名稱為何？(P.100)
(A)熱蘭遮 (B)普羅民遮 (C)尼德蘭 (D)巴達維亞。
31. 十七世紀荷蘭人在臺灣時，大量輸出臺灣的特產，賺取豐厚的利潤。請問：下列何者是當時輸出的臺灣特產？
(甲)稻米(乙)小麥(丙)鹿皮(丁)蔗糖 (P.100)
(A)甲乙丙 (B)乙丙丁 (C)甲乙丁 (D)甲丙丁。
32. 鄭成功縱橫於大陸東南沿海，在據有臺灣後積極從事反清復明的志願。請問：為了籌措軍費，鄭成功會販售臺灣出產的哪些產品以增加軍事預算？(P.103)
(A)稻米、鹿皮 (B)蔗糖、樟腦 (C)茶、糖、樟腦 (D)蔗糖、鹿皮。
33. 鄭氏時期的拓墾行動不斷的擴大，人數也不斷的增加。請問：下列哪一種方式是在拓展開墾時可能採行的方式？(P.103)
(A)軍隊自耕自食 (B)招募荷蘭人從事開墾 (C)獎勵東南亞勞力進口 (D)派遣軍隊開墾花蓮台東。
34. 下列何者不是鄭氏政權的國際貿易或走私貿易的對象？(P.103)
(A)中國 (B)日本 (C)東南亞地區 (D)荷屬東印度公司。
35. 有關我國「國民」與「公民」之間的差異，下列說明何者正確？ (A)凡出生於我國境內者，皆是我國國民 (B)在我國，凡滿 18 歲，依法有選舉之權的國民即為公民 (C)生於台灣的有恩，因為爸爸是台灣人，媽媽是美國人，所以他同時擁有台灣和美國雙重國籍 (D)具有公民資格者，一定也具有國民資格 (p.148-149)
36. 下列四個同學說明的內容及其配對的權利種類，何人正確？ (A)胖虎：學校定期查驗飲水機，確保水質合乎標準，為我們的健康把關——受保護權 (B)技安：我們可以利用下課時間跟同學一起玩遊戲、打籃球——參與權 (C)小夫：我們學校有專業的護理師，並且設有保健室，如果不小心受傷，可請護理師協助處理——生存權 (D)大雄：輔導室辦理性騷擾防治活動，提醒同學要懂得自我保護——發展權 (p.156-157)
37. 國隆經常上課違規搗蛋，影響其他同學學習，老師因此規定，以後只要國隆再有吵鬧行為，就讓他到教室外面罰站。根據上文，下列敘述何者正確？ (A)老師有管理一個班級的責任，他的做法是教師「權利」的展現 (B)在教室外面罰站便無法聽課，有損害國隆「發展權」的疑慮 (C)因為國隆的行為已影響到其他同學的

受教權，所以老師的處置並無不妥 (D)國隆可以跟老師商量其他的處理方式，以維護自己的學習「權力」 (p.154,156)

38. 校園生活是學習成為現代公民的重要歷程，關於學生在校與他人的相處之道，下列何者符合現代公民的德性實踐？ (A)只跟成績好的同學往來，自己才能受到好的薰陶，進而有所成長 (B)凡事以和為貴，在學校如果遇到同學欺負，能忍則忍，不宜把事情鬧大 (C)大家對班級事務有不同意見時，應該少數尊重多數，多數服從少數 (D)欣賞表現優異的同學，但也要鼓勵和接納弱勢的同學 (p.158-159)
39. 下列有關「權利」與「權力」的敘述，何者正確？
(A)華航員工發動罷工爭取工作權益是「權利」的展現 (B)兒童接受教育屬於政府提供的「權力」 (C)人民需靠國家「權利」的運作來保障自身「權力」 (D)警察臨檢酒駕者代表政府「權利」的行使 (p.154-155)
40. 新聞報導：「某政黨候選人疑似成立網軍，透過不同平台散布不實言論攻擊他黨參選人。」有鑒於此，我們應培養現代公民的何項基本德性，避免被有心人士煽動？
(A)遵守法律規範 (B)捍衛公平正義 (C)理性思考批判 (D)參與公共事務 (p.151)
41. 國家是由一群具有該國國籍的國民所組成，國籍的取得除了可因人之出生而由法律直接賦予之外，也可以透過後天歸化取得。下列選項中，何人取得中華民國國籍的方式與其他三者不同？ (A)吳鳳：我是從土耳其至臺灣發展並且定居的節目主持人，以外籍高級專業人才移民取得中華民國國籍 (B)夏天：我曾經參與電視節目《爸爸去哪兒》第三季。我的爸爸是加拿大人夏克立，而我的媽媽是臺灣女藝人黃嘉千 (C)瑞莎：我是從烏克蘭至臺灣發展的模特兒及藝人，後來與臺籍男友 Mike 結婚取得中華民國國籍 (D)戴維斯：我是從美國至臺灣的籃球選手，也是第一位經由歸化成為中華隊選手的運動員 (p.148)
42. 根據下列對話判斷，誰的年紀應該最大？ (A)小美：這次選舉跟公民投票一起辦理，可惜我只能拿到公投票 (B)小明：我明年就可以將打混的市長罷免掉 (C)小黑：我決定參加這次立委選舉，懇請大家支持，讓我有機會服務大家 (D)小志：我今年剛好符合國家考試的最低年齡門檻，打算專心準備考試 (p.149)
43. 722 班正開班會討論班遊地點，同學們依序提出林家花園、三峽老街、木柵動物園三項行程，全班共 27 位，一位同學請假未到校。經過熱烈討論後進行表決，主席將表決結果寫在黑板如下，請問：下列敘述何者正確？
- | | | | |
|------|------|------|-------|
| 行程 | 林家花園 | 三峽老街 | 木柵動物園 |
| 贊成票數 | 10 | 5 | 10 |
- (A)表決順序應該是林家花園→三峽老街→木柵動物園
(B)班上有 2 位同學未參加表決，為保障其權益，應擇日再表決一次 (C)得票數相同的選項，交由主席抽籤決定最後地點 (D)請導師就票數相同的地點做最後裁奪 (p.160)
44. 班會進行中，發生下列哪些事件可提出「秩序問題」？
甲、同學提議班遊地點後，主席即刻進行表決；乙、突

- 然發生地震，同學驚叫連連；丙、會議中有人因意見不合，大打出手；丁、也有人臨時插話，未經主席同意就搶著發言 (A)乙丙 (B)甲丁 (C)甲乙 (D)丙丁 (p.161)
45. 近年來霸凌事件頻傳，使得校園安全受到威脅。下列有關校園霸凌的敘述，何者錯誤？ (A)被霸凌者可能造成生理或心理的傷害 (B)霸凌包含肢體霸凌、關係霸凌、言語霸凌、性霸凌…等 (C)霸凌者若為學生，因年紀尚小，所以沒有觸法的疑慮 (D)若遭受霸凌，應適時尋求協助，不要隱忍 (p.158)
46. 依據《原住民學生升學保障及原住民公費留學辦法》的規定，原住民學生參加免試入學者，其超額比序總積分加百分之十計算。但取得原住民文化及語言能力證明者，超額比序總積分加百分之三十五計算。請問：透過上述規定，有助於保障原住民學生的何項權利？ (A)受保護權 (B)參與權 (C)發展權 (D)生存權 (p.156)
47. 在開班會時，可參考《會議規範》的程序進行。對於會議中每一個角色的職責，下列配對何者錯誤？ (A)主席：裁決權宜問題及秩序問題 (B)司儀：宣布會議開始與會議結束 (C)紀錄：記錄各項議案的表決結果 (D)老師：提醒會議程序的注意事項 (p.161)
48. 民主制度最大的缺點，在於社會長期固定的多數可以決定政治問題，往往忽略少數人的權益，因而形成所謂的「多數暴力」。為了避免此情形一再發生，我們應具有何種公民的基本德性，以維護所有人的權利？ (A)遵守法律規範 (B)和平尊重包容 (C)理性思考批判 (D)捍衛公平正義 (p.151)
49. 根據【甲】：「人人有權在其他國家尋求庇護，以避免迫害。」即受到迫害的人民可以向其他國家尋求保護，也被視為對難民的保障。請問：上述的【甲】，最可能是下列何者？ (A)《中華民國憲法》(B)《國際人權公約》(C)《獨立宣言》(D)《世界人權宣言》 (p.148)

50.



根據上則新聞內容判斷，以下有關性騷擾的敘述何者正確？ (A)該教師的不當行為適用《性騷擾防治法》來處理 (B)校園性騷擾案件依法應交由性別平等教育委員會負責調查 (C)校園性騷擾只會發生在校園中，若到了校外就不屬於校園性騷擾 (D)根據《兒童權利公約》，學生遭到性騷擾，是其發展權受到侵害 (p.159)