

【讀卡科目請依規定畫卡，若有違反畫卡規定而影響讀卡作業之情事，一律扣總分五分。】

【手寫答案卷需確實寫上班級、座號、姓名，違者一律扣總分五分。】

【手寫答案卷需用藍色或黑色墨水筆書寫，違者一律扣總分五分，使用鉛筆書寫扣五分。】

一、 選擇題

1. 過去三十多年的「改革開放」是中國借助歐美先進國家的資金、技術和市場發展的道路；把中國從一個半工業化的封閉計劃經濟變成了世界第一的貿易國和世界工廠。請問：中國自實施改革開放以後，最初在中國設立五個經濟特區，分布在圖(一)中那一個區域？(A)甲 (B)乙 (C)丙 (D)丁。p52

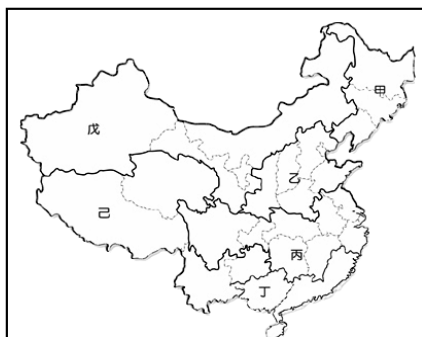


圖 (一)

2. 觀光處指出，在縣長陳福海大力爭取與推動下，去年小三通在政策開放下，成果豐碩。今年將持續加強兩岸旅遊交流及行銷推廣，進一步落實「文化金門、觀光立縣」的幸福慢活島價值，型塑全台幸福指數最高的城市，成為兩岸旅遊的亮點。請問與金門進行小三通的中國城市，也是經濟特區之一的是 (A)汕頭 (B)深圳 (C)廈門 (D)珠海。p52

3. 「冬春白茫茫，夏秋水汪汪，隻聽犁杖響，不見糧歸倉。」這是形容中國某地土地資源開發所引發的環境問題，請問：該環境問題主要發生於圖(二)哪一區？p58

(A)甲 (B)乙 (C)丙 (D)全區



圖(二)

4. 承上題，下列各區所面對的自然資源問題與因應對策何者『正確？(A)「乙」階梯區的環境生態脆弱，一旦遭受破壞，復原期遠較其他地區漫長 (B)近年來中國北京主要的沙塵暴天空一片灰濛濛，行車與工作極為不便！其主要「禍首」在「丙」階梯 (C)為了解決「乙」『過度放牧』『過度開墾』所引發的環境問題，中國建造「綠色長城」 (D)為解決中國霧霾環境問題，政府在「甲」階梯推動「退耕還牧」、「退耕還林」的治本政策。Ch6

5. 請根據附圖(三)回答問題：

近年來中國傳統農、牧業逐漸轉型，請問：下列轉型農、牧業，正確的敘述為？(A)丁區因改良土壤與水利轉作水稻田 (B)乙區的薰衣草田成為中國的普羅旺斯 (C)戊區的商業性畜牧 成為中國最大的乳品供應區 (D)丙區種植咖啡樹成為中國之最 p48

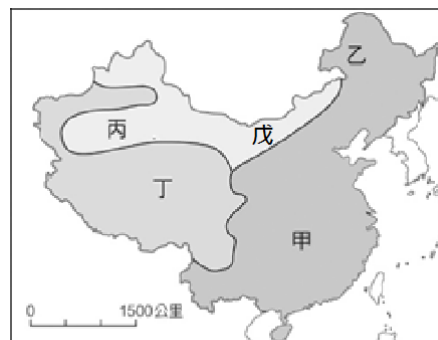


圖 (三)

6. 圖(四)中「甲」線與下列哪組地理界線的位置大致符合？(A) 稻麥區和稻茶區的界線 (B) 水田和旱田耕作區的界線 (C) 農業一穫區和二穫區的界線 (D) 冬麥雜糧區和春麥雜糧區的界線p46

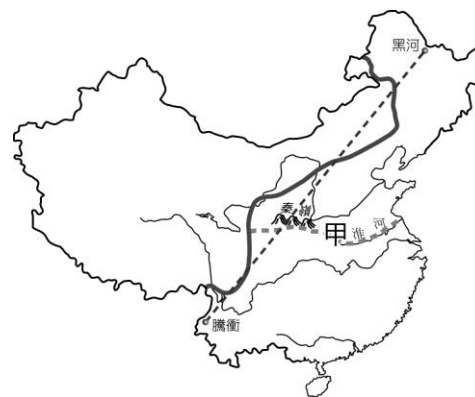
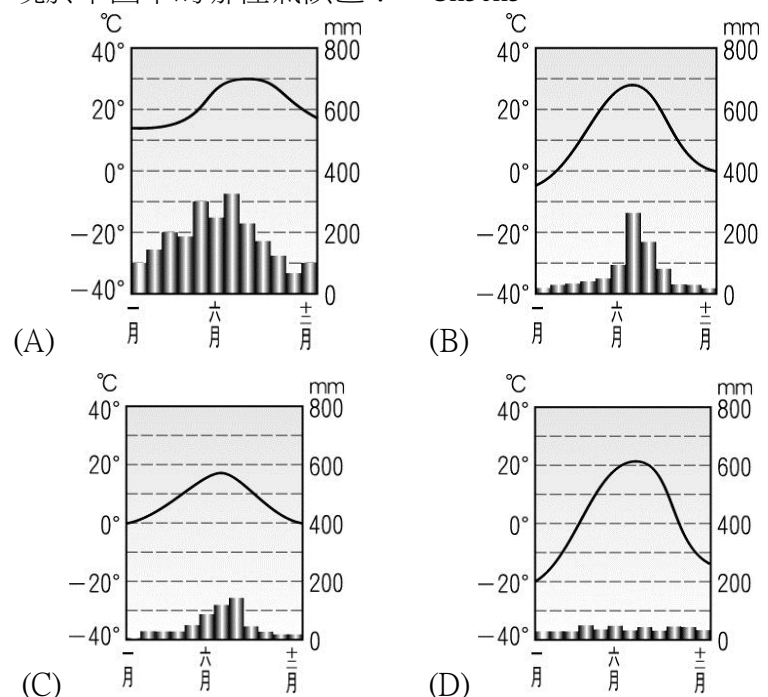


圖 (四)

7. 「居民利用高山融化的雪水灌溉，精細的耕種土地生產春小麥、稻米、棉花、瓜果等作物。」這種農業活動最可能出現於下圖中的哪種氣候區？ Ch3ch5



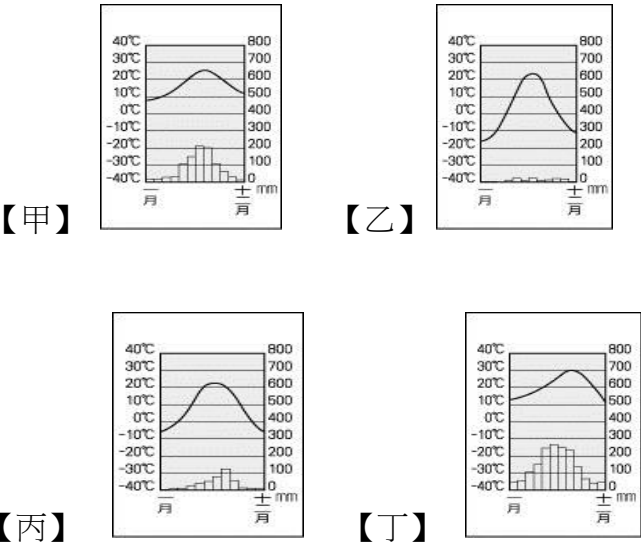
8. 「全球暖化使得此地區冰河後退，短期內可能會使發源於此區的河流氾濫，造成水災，但長期而言，這些河流的水位將會下降，引發乾旱，威脅下游鄰國，影響印度、緬甸等國的人民生活。」上文所述的地區位於中國的何處？ (A)第

二級階梯地區 (B)季風氣候區 (C)乾燥氣候區 (D)高地氣候區。 p61

9.近年來，中國許多內陸的民工不願再到沿海地區工作，反而留在家鄉就業，使沿海地區爆發嚴重的「缺工潮」，沿海工廠只好不斷放寬條件限制，或以其他誘因來吸引員工。下列何者「最」可能是造成上述缺工潮的原因？p52~53

(A)內陸地區的物價高漲 (B)沿海地區的工廠外移 (C)內陸地區就業機會增加 (D)沿海地區薪資所得降低

10. 中國幅員廣大，各地生長季長短不一，請問下列四個城市中，那個城市作物收穫次數最多？ (A)甲 (B)乙 (C)丙 (D)丁 ch3.p46



11.下圖（五）為中國PM2.5的最新分布圖，由圖可判讀PM2.5濃度的高低與下列何者有高度相關？ (A) 畜牧發展 (B)農業興盛 (C)重工業發展 (D)交通方便ch5.ch6



12.. 美國蘋果公司總裁庫克連續三年前往中國，並接受中國官媒新華社專訪，展現前所未見的誠意，庫克在專訪中表示中國將超越美國，成為蘋果公司全球最大市場。請問：中國成為蘋果公司的主力市場，與下列哪一條件最相關？ (A) 國民所得高 (B)消費人口多 (C)工業生產重鎮 (D)交通運輸方便。P54~55

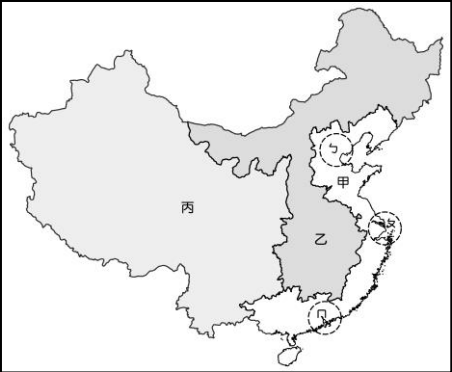
13.長三角與珠三角工業帶的經濟發展突飛猛進，請問: 下列兩地工業的比較，何者錯誤？(A)甲 (B)乙 (C)丙 (D)丁

	(甲) 特色	(乙) 產業型態	(丙) 優勢	(丁) 限制
珠 江 三 角 洲	最早開放	勞力密集 型為主	鄰近香港	缺乏港口
長 江 三 角 洲	產值最高	知識密集 型為主	人才素質	缺水電

14. 中國大陸近年來氣候異常，華南、華中等地多處出現暴雨，釀成水災，但是新疆地區卻遇上罕見乾旱，中國最長內陸河新疆塔里木河竟發生斷流，斷流河段長達 1100 公里。請問：下列何者「非」塔里木河發生斷流的原因？(A)氣候乾旱，雨量少、且蒸發旺盛 (B) 過度放牧及引水灌溉棉花 (C)上游大規模興建水壩、開墾荒地 (D) 溫室效應日益嚴重，融雪量日益增加 p62

15. 兩千多年前，「絲綢之路」是橫貫歐亞大陸的貿易交通線，也是中國與西方國家商業往來的重要通道。如今，中國以“絲綢之路經濟帶”和“21世紀海上絲綢之路”的簡稱提出了「一帶一路」的構想。請問：如果想要提前卡位該經濟帶所帶來的商機，可以前往下列哪一行政區 設廠？ (A) 新疆 (B)廣西 (C)西藏 (D) 雲南。 P54

16. . 中國經濟蓬勃發展，時至今日已成為「世界工廠」，但也因區域發不均，形成三大經濟帶。如圖（六），「甲」經濟帶工商業發展較快速，請問帶動此區經濟發展的因素佔了幾項(甲)資金 (乙)交通 (丙)勞工 (丁)技術 (戊)原料 (己)動力 (庚)市場？(A)兩項 (B)三項 (C)四項 (D)五項 p51



圖（六）

17.中國在推動改革開放政策多年後，於2010年在喀什設立了第六個經濟特區，喀什具有五口通八國的地理優勢，將來可望成為中亞、南亞、西亞經濟圈的中心，此項政策有助於改善中國哪一項經濟問題？p53

(A)人口數量過多 (B)原料、動力不足 (C)區域發展不均 (D)工業發展面臨瓶頸

18.北宋蘇軾《教戰守策》有云：「今國家所以奉西、北二虜者，歲以百萬計。」此處所謂的「二虜」，是指北宋的哪兩個外患？(A)遼、金 (B)西夏、遼 (C)金、蒙古 (D)西夏、蒙古。(P.107)

19. 有關中國歷代開國皇帝，下列敘述何者正確？(A)北宋文帝楊堅發動陳橋兵變，進而謀篡北周而建國 (B)宋太祖趙匡胤稱帝後，以集權中央和提倡武人政治為手段進行改革 (C)劉邦和朱元璋都是平民出身的開國皇帝 (D)秦王嬴政是中國首位皇帝，他沿用周朝制度治理國家。(統整)

20. 關於宋朝靖康之禍與明朝靖難之變的比較，下列何者正確？(A)靖康之禍使皇帝逃亡他方，靖難之變則使皇帝被外族所抓 (B)靖康之禍使宋朝偏安南方，靖難之變則使明朝由盛轉衰 (C)靖康之禍屬於內亂，靖難之變屬於外患 (D)靖康之禍與靖難之變發生時，首都均曾被攻陷。(p.109、117)

21.小兆介紹一位中國歷史人物：「他認為變法改革是解決當時財政問題及邊防危機的主要途徑，於是他丈量田地、改變賦役制度、規定用銀繳納稅款，並重用抗倭寇的名將主持

西北邊防。」這位人物應是下列何人？(A)岳飛 (B)寇準 (C)王安石 (D)張居正。(p.119)

22.有本史書中對於中國歷史上某個朝代因全面通行紙幣，而造成的經濟情況描述如下：「物重鈔輕，民間所存舊鈔遂成廢紙。政府誅求無厭，一草一木均成稅項，小民血汗所入……。後期大量印製的至正寶鈔，甚至造成社會經濟崩潰。」請問：這應該是哪一朝代的現象？(A)唐朝 (B)宋朝 (C)元朝 (D)明朝。(p.111-112)

23.書丞閱讀中國歷史故事時，看到書上對三個不同朝代的官員描述如下：(甲)官員聽聞皇帝廢除丞相，多不敢有異議，深怕得罪皇帝而被施以廷杖(乙)官員大多出身科舉，皇帝常和他們討論如何應付北方遼國的入侵(丙)官員多由統治的外族擔任，甚至還有外國人主掌賦稅相關業務。下列哪一選項最符合上述官員在歷史上出現的朝代順序？(A)乙→丙→甲 (B)乙→甲→丙 (C)甲→乙→丙 (D)丙→甲→乙。(統整)

24.小松發現一段打油詩：「『水滸傳』替天行道，鬥不過『三國演義』的老謀城府，文青都風靡『儒林外史』，還有追求長生不老的『西遊記』魔獸亂舞。」請問這首打油詩與下列哪一個主題密切相關呢？(A)明清小說 (B)宋詞元曲 (C)唐代詩歌 (D)漢賦樂府(p.124)

25.北宋某位君主說道：「現今我們的局勢如此危殆，尤其是北方從開國初期就一直困擾著我們的民族，我們倒不如聯合東北的新興民族來消滅此一民族，豈不更好！」請問：這番話的主要政策為何？(A)聯蒙古滅遼 (B)聯蒙古滅金 (C)聯西夏滅金 (D)聯金滅遼。(p.109)

26.元朝是中國歷代政權中，版圖最大的朝代。為了有效統治各地，於是設立了□□，不但讓信差有可以休息的處所，也使訊息的傳遞更為快速。上文所述的□□指的是下列何者？(A)運河 (B)市舶司 (C)馳道 (D)驛站。(p.112)

27.當地方上的軍事將領實力日益壯大，中央政府又未能妥善處理兩者之間的利害關係時，往往導致將領發動叛變，為自己獲取更大的利益。下列哪一內亂的性質可被歸類為「將領叛變」？(A)靖難之變 (B)靖康之禍 (C)黃巢之亂 (D)三藩之亂。

28.明太祖和明成祖分別將首都定都於不同地方，請問其各與哪一朝的首都相同？(A)南宋、元朝 (B)西晉、清朝 (C)北宋、唐朝 (D)東晉、元朝。(統整)

29.郁綦在書籍中看到一段資料如下：「飲食，天理也，山珍海味，人欲也。夫妻，天理也，三妻四妾，人欲也。」此為宋朝流行的學術思想，下列有關此一思想的描述何者正確？(A)讀書人受其影響行為變得放蕩不羈 (B)北宋朱熹為集大成人物 (C)此思想融合了儒、佛、道等三家思想 (D)此一學術思想名稱為經學。(p.114)

30.清朝政府以少數民族入主中原且維持了長達兩百六十多年統治，請問下列關於滿清的敘述何者正確？(A)清世宗派施琅收復臺灣 (B)清聖祖下令全面禁教 (C)滿清的開國君主是清太祖努爾哈赤 (D)清高宗開創清朝最後一個盛世。

31.淑敏看完金庸小說《射雕英雄傳》中有關成吉思汗西征花剌子模的故事，想再深入了解蒙古西征這一個歷史事件。下列有關蒙古西征的敘述何者正確？(A)首先發動西征的是

忽必烈 (B)三次西征建立橫跨歐、亞、非的帝國 (C)西征時也將火藥與造紙術傳入歐洲 (D)蒙古西征最遠到義大利威尼斯。(p.111)

32.智鈞是明清時代的山西商人，請問關於他的生活敘述，下列何者是正確的？(A)可以透過朝貢貿易，提升自己的社會地位 (B)山西人成立商幫組織經營事業，並建立會館聯絡感情 (C)使用交子進行商業貿易 (D)當時商業繁榮興起許多專業市鎮，像景德鎮就是絲綢聞名。(p.122)

33.明朝官員錢宰異常勞苦，公餘之暇感慨吟詩：「四鼓咚咚起著衣，午門朝見尚嫌遲，何時得遂田園樂，睡到人間飯熟時。」次日錢宰上朝，朱元璋一見他便說，「昨日寫的好詩，不過我並沒有嫌啊！改作憂字如何？」錢宰嚇得磕頭謝罪。朱元璋說：「朕今放汝去，好好熟睡矣」。從此可見朱元璋對百官事務瞭若指掌，這是跟哪個機構有關？(A)東廠 (B)市舶司 (C)巡檢司 (D)錦衣衛。(p.117)

34.下列是四位人物各自描述所處時代的仕宦途徑，請根據他們的描述，選出正確的配對選項。緯振：「我這個時代要當大官的話，家世是上級評審的主要標準。」小丸子：「我這個時代戰亂頻仍，但是只要有才能，不論出身高低，人人都有機會出將入相。」花木：「我這個時代如果通過科舉考試，可以晉身為士紳階級哦！」流川楓：「我這個時代，參加科舉考試仍是當官的主要途徑，且因為有彌封、謄錄的辦法，所比前代還要公平。」(A)流川楓可能參加宋代的科舉考試 (B)小丸子是東晉統治下的人民 (C)花木是唐貞觀年間的人 (D)緯振應該是戰國時代的秦國人。(統整)

35.我國公職人員選舉候選人的最低年齡限制。請問：哪一項配對正確？(A)縣長：35歲 (B)直轄市市長：30歲 (C)總統：45歲 (D)縣議員：26歲。(p.176)

36.附表是子、丑、寅三國政黨政治的現況，根據表中的內容判斷，此三個國家依序是屬於哪一種政黨型態？

國名	政黨政治的現況
子國	國內有很多個政黨，但沒有任何政黨可以在國會取得過半數的席次。
丑國	國內雖然有許多政黨，但是只有一個政黨長期在國會擁有過半的席次，其他政黨無法與該大黨抗衡。
寅國	國內只有兩個勢均力敵的政黨，透過選舉長期交替執政，其他小黨無法取得執政機會或主導政府決策。

(A)一黨制、多黨制、兩黨制 (B)一黨制、兩黨制、多黨制 (C)多黨制、兩黨制、一黨制 (D)多黨制、一黨制、兩黨制。(p.166)

37.英國是兩黨制的國家，在選舉時，經常是由哪兩個勢均力敵的政黨，透過選舉互相競爭以取得執政機會？

(A)人民黨與共產黨 (B)工黨與保守黨 (C)民主黨與共和黨 (D)自由黨與民主黨。(p.164)

38.依據《公職人員選舉罷免法》的規定，下列何者屬於地方公職人員？(甲)行政院長(乙)鎮民代表(丙)市議員(丁)總統(戊)鄉長 (A)甲丙戊 (B)甲乙丙 (C)乙丙戊 (D)丙丁戊。(p.178)

39. 減少選務經費的支出，並節省選民為了投票而花費的時間，合併公職人員選舉於同日舉行。若某年同日舉行二項公職人員選舉，小剛進了投票所後，依法共領取了三張選票，下列何者最可能是此次選舉所產生的公職人員？ (A) 總統、立法委員 (B) 縣長、縣議員 (C) 立法委員、立法院院長 (D) 直轄市市長、直轄市市議員 (p.178)
40. 民主政治的可貴之處在於面對不同政黨的批評與監督，能有接受的誠意和雅量，而各政黨間如有不同意見，應透過何種方式來取得共識？ (A) 理性協商溝通 (B) 堅持各黨己見 (C) 利益分配 (D) 公投結果。 (p. 168)
41. 在某次公職人員選舉開票後，確知李福為甲選區中五位候選人第一高票。依我國現行法律規定判斷，此次李福所當選的應是下列哪一種公職人員？(A)縣議員 (B)監察委員(C)縣議會議長 (D)土城區區長。(p.178)
42. 有關利益團體的敘述，何者正確？ (A)關心與自己有關的政策，且在選舉中積極提名候選人 (B)參與選舉，希望獲得執政機會 (C)對政府發揮制衡監督的作用，取代在野黨角色 (D)專業性的利益團體可彌補國會對專業問題了解的不足。(p.170)
43. 利益團體依照其成立目的及服務對象的不同，分為兩類。下列哪些是基於公共利益而組成的團體？(甲) 臺灣團結聯盟 (乙) 臺灣兒童暨家庭扶助基金會 (丙) 勵馨基金會 (丁)消費者文教基金會 (A)甲乙丙 (B)甲乙丁 (C)甲丙丁 (D)乙丙丁。(p.171)
44. 多黨制的國家因為沒有任何一個政黨可以在國會取得過半數的席次，為了使政府政策持續推行，各政黨通常必須透過協商談判，組成下列何種政府？ (A) 福利政府 (B)萬能政府(C)聯合政府 (D) 利益政府。(p.166)
45. 通常投票時間結束後，由投票所負責開票、計算選票，送交主管選務機關彙整統計後再公告選舉結果。請問：上述所指的選務機關在中央應該是下列何者？ (A) 中央選舉委員會 (B) 監察院 (C)直轄市選舉委員會 (D) 立法院。(p.177)
46. 關於選舉的原則，下列哪一項配對是正確的？ (A)直接原則—一年滿 20 歲的公民，未受監護宣告者，均享有投票權 (B) 無記名原則—在選舉的過程中，不得在選票上註記個人姓名 (C)平等原則—使選民可依照個人的自由意志，圈選自己支持的候選人 (D) 普通原則—一人一票、票票等值 (p.175)
47. 青年學子為爭取《憲法》保障之人民基本權利，可能上街進行集會活動，例如 1990 年的「野百合學運」。上述青年學子的行為最可能是屬於下列何種概念的展現？ (A) 政治參與 (B)政黨輪替 (C)地方自治 (D) 權力分立。(p.173)
48. 利益團體的成員通常會透過下列哪些方式來達成其訴求？ (甲)示威遊行 (乙)向政府機關遊說(丙)支持某位候選人 (丁)利用傳播媒體宣傳理念(戊)提名候選人 (A)甲丙丁戊 (B)甲乙丙丁 (C)乙丙丁戊 (D)甲乙丁戊。(p.170)
49. 探討利益團體與政黨兩者的關係，下列哪一項敘述是正確的？ (A)利益團體的目的在影響決策，政黨目的則是取得政權 (B)利益團體為保持政治的中立，不與任何政黨發生關聯 (C)政黨須透過利益團體的力量，才能促使政府改變政策 (D)政黨不受任何利益團體影響，只為多數的民眾謀福利。(p.171)
50. 下列是選舉的過程，若依照先後順序排列，下列何者正確？(甲)登記參選(乙)競選活動(丙)公布選舉結果(丁)投票(戊)開票、計票 (A)甲乙丙丁戊 (B)甲乙丁丙戊 (C)甲乙丁戊丙 (D)乙甲丁戊丙。(p.176)