

【讀卡科目請依規定畫卡，若有違反畫卡規定而影響讀卡作業之情事，一律扣總分五分。】

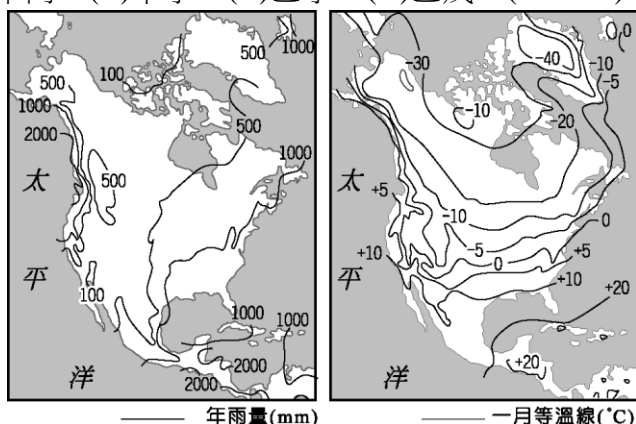
【手寫答案卷需確實寫上班級、座號、姓名，違者一律扣總分五分。】

【手寫答案卷需用藍色或黑色墨水筆書寫，違者一律扣總分五分，使用鉛筆書寫扣五分。】

一、選擇題

1. 附圖為北美地區的氣候資料。依據圖上的等值線判斷，請問：美國西北沿岸地區的年雨量與等溫線分布情形，受到下列哪些因素影響？(甲)副熱帶高壓、(乙)西風、(丙)寒流、(丁)涼流、(戊)暖流。(P.56、57)

(A)甲丙 (B)甲丁 (C)乙丁 (D)乙戊。(P.56-57)

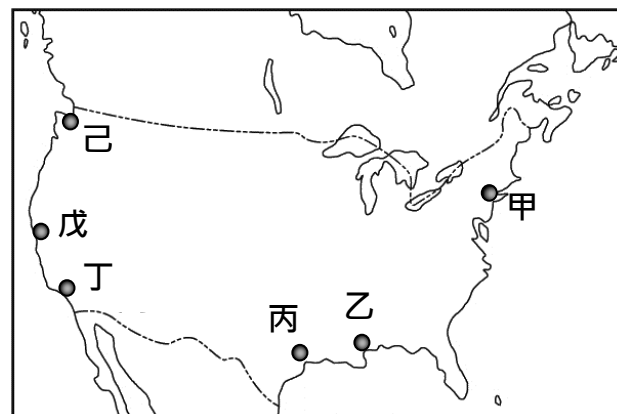


2. 2014年動工的尼加拉瓜運河，為一個正在興建的跨洋運河，花費將近500億美金建造，按照計畫將於2020年左右開始營運，雖將比巴拿馬運河多了三倍的航行時間，但卻可容納更大型的船隻，預計將成為巴拿馬運河強勁的競爭者。附圖為運河的示意圖，若根據圖中資料加以判斷，則甲、乙兩海洋應分別為何？(P.65)

(A)太平洋、印度洋 (B)大西洋、印度洋
(C)大西洋、太平洋 (D)太平洋、大西洋。



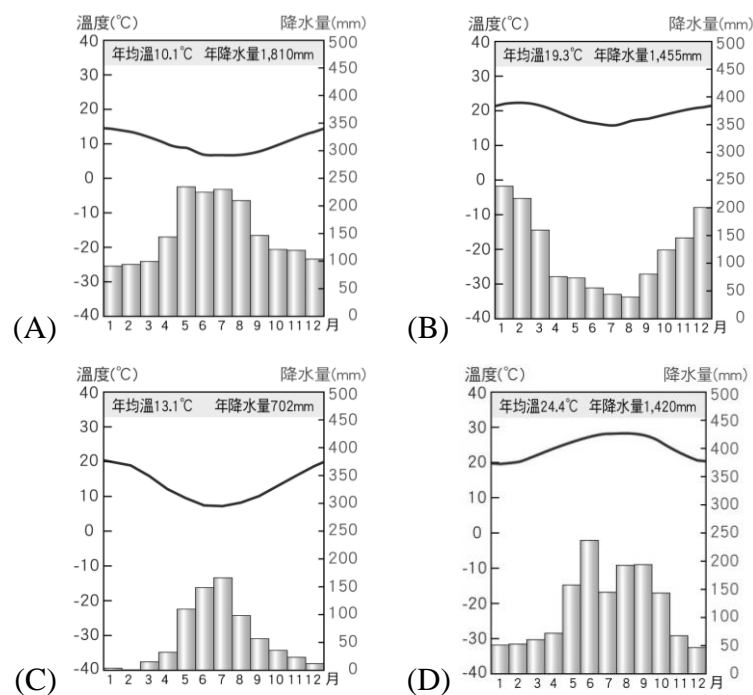
3. 世界各地的沙漠特徵皆乾燥少雨，而成因卻不盡相同。其中，智利北部、秘魯南部，這些沙漠的共同成因為何：(甲)副熱帶高壓籠罩、(乙)距海遙遠、(丙)涼流流經、(丁)背西風。請問：上述甲~丁的成因中，正確的有？(A)甲乙 (B)甲丙 (C)乙丙 (D)乙丁。(P.66、67)
4. 暑假小丸子一家人的美國之旅，第一站先前往波音公司的飛行博物館，瞭解飛機的起源、進化與對未來的科技展望；第二站前往著名的好萊塢環球影城，除了是主題樂園以外，也是仍在使用的電影製片廠之一；第三站去美國太空總署(NASA)所屬詹森太空中心，參觀當時登陸月球所使用的控制中心、太空人訓練中心等；第四站來到美國經濟中心，也是世界重要金融中心。附圖為美國城市分布圖，請問：依照上述小丸子一家人旅遊的先後順序，下列何者為正確的城市代號順序？ (A)戊丁己甲 (B)己戊丙甲 (C)己丁乙甲 (D)己丁丙甲。(P.53、59)



5. 娜美的航行日誌記載著千陽號的航程，某頁記錄的內容大致如下：「從美國舊金山出發後，順著(甲)洋流前進，越過赤道後，成功在(乙)洋的東南漁場找到傳說中的大鯨魚，然後乘著西風繞過南美南端的麥哲倫海峽，最後來到(丙)國進行船上的食物補給。」請問：上文中的甲、乙、丙，指的是各是下列何者？(P.56、66)

(A)秘魯涼流、大西、智利
(B)加利福尼亞涼流、大西、智利
(C)秘魯涼流、太平、阿根廷
(D)加利福尼亞涼流、太平、阿根廷

6. 2016年奧運在巴西東南沿海的里約熱內盧舉辦，除了奧運賽事之外，當地還擁有許多迷人的沙灘風情，也吸引許多觀光客前往。請問：在下列四張氣候圖中，哪張圖最符合該城市的氣候類型？(P.66)



7. 最近，LINE TODAY的新聞標題寫著：「一邊天堂另一邊地獄，巴西貧富差距催生高樓旁的貧民窟」，其中違建的貧民窟幾乎成了南美洲都市的常見景觀，並且隨著都市擴張而不斷增加當中。請問：造成南美洲這種現象的主要因素為下列何者？ (A)工商業快速發展，住宅用地轉為其他用途 (B)鄉村空間有限，缺乏住宅用地 (C)都市發展歷史悠久，老舊社區形成貧民窟 (D)鄉村貧困形成人口推力，大量移入都市。(P.72)

8. 下列中南美洲的國家位置與特色，何者有誤？(P.70、71)
(A)甲：祕魯—昔日為馬雅古文明中心，且高山銀礦豐富
(B)乙：委內瑞拉—石油輸出國，為該國重要的收入來源
(C)丙：巴西—豐富的鐵礦與勞力，有利於吸引國外企業
(D)丁：阿根廷—農牧業發達，重要肉類和穀物外銷國家

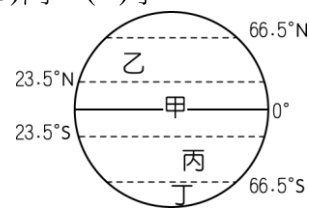


9. 承上題，某國的土地利用類型隨海拔高度而變化，低海拔可見甘蔗、香蕉，中海拔則是玉米、小麥與馬鈴薯，到高海拔轉成高山草原與放牧，呈現多樣且豐富的農牧業景觀。根據第8題的中南美洲國家位置圖，請問：上文中的某國為？ (A)甲 (B)乙 (C)丙 (D)丁。(P.64、67)
10. 美國「商業性農業」與中南美洲的「熱帶栽培業」，雖然在氣候條件上不相同，但在發展上卻有部分共同的特色，下列是關於上述兩種農業經營共同特色的敘述，請問何者正確？ (A)皆出口導向為主，商業性高 (B)皆單位面積產量高，但總產量低 (C)皆集約耕作，大規模種植單一作物 (D)皆高度機械化，農場規模大。(P.58、70)
11. 墨西哥已加入（甲）區域性組織 20 年多年，雖然美國總統川普現在稱此為「史上最糟的貿易協定」，每年對美造成 600 億美元（約台幣 1.82 兆元）的貿易赤字，還減少美國的工作機會，但卻為墨西哥北部的邊境工業區吸引了數千家外商投資，創造了近百萬的工作機會。上文中所提及的（甲）區域性組織為何？(P.59)

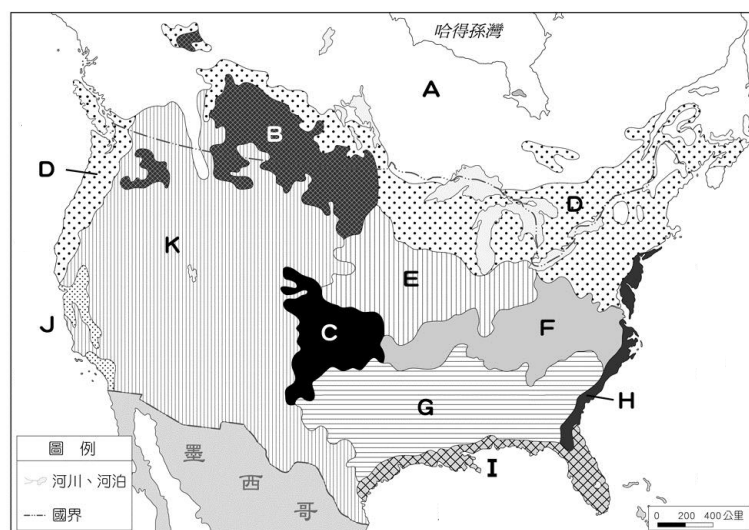


12. 美洲大陸面積廣大，依照文化差異劃分，可分為盎格魯美洲及拉丁美洲兩大部分，關於下列美洲分區的敘述，何者有誤？ (A)盎格魯美洲主要包含加拿大與美國 (B)中南美洲由於歐洲殖民的因素，主要受拉丁文化影響 (C)巴西除外，其他拉丁美洲國家大多受到葡萄牙文化影響較深 (D)拉丁美洲國家的居民信仰，多信仰天主教。(P.54、68)
13. 科南搭乘飛機飛越加拿大境內，他所見到的地形景觀依序為高原→平原→高山。由此可知飛機飛行的方向應該為何？ (A)由北向南飛行 (B)由南向北飛行 (C)由東向西飛行 (D)由西向東飛行。(P.54、55)
14. 亞馬孫河流域擁有全世界最大的熱帶雨林區，生物種類豐富，對於地球的自然環境相當重要。請問：這片熱帶雨林多分布於附圖中哪一地區附近？(P.66、73)

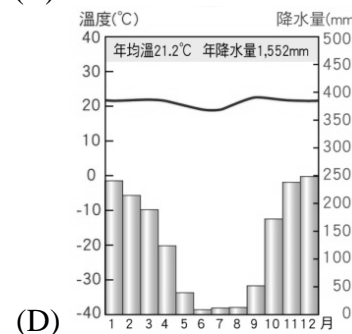
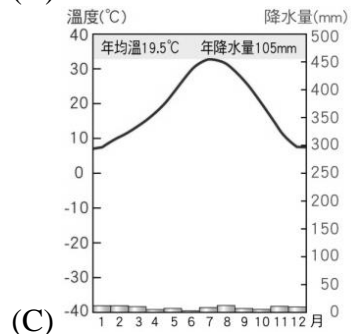
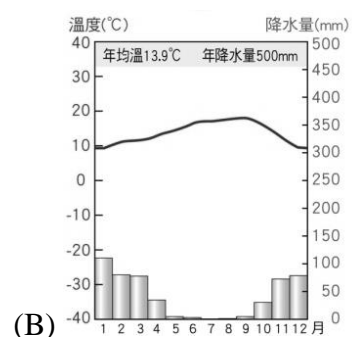
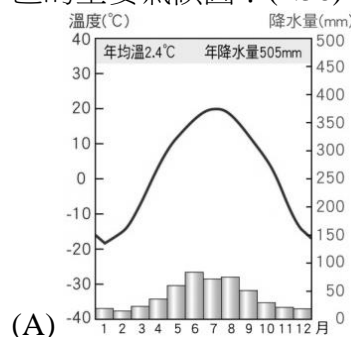
- (A)甲 (B)乙 (C)丙 (D)丁。



*請依據北美洲的農業分布圖，回答下列第 12~14 題：



15. 美國生產的葡萄類別超過 70 種，基本上分為綠色、紅色、黑色，其產季從 5 月至隔年 1 月，每年約 1 億箱的新鮮葡萄，行銷到全世界超過 60 個國家。請問：根據氣候特徵，美國葡萄種植區主要分布於附圖中何處？ (A) D (B) G (C) J (D) K。(P.58)
16. 承上題，在下列氣候圖中，哪張圖最符合美國葡萄種植區的主要氣候圖？(P.56)



17. 附圖中在 I 地區，因氣候溫暖溼潤，表土之下多屬黏土層，有利於涵養水分，適合稻作栽培。上述的稻米生產區，在生產的過程中最容易遇到下列何種氣候災害，造成農作物的損失？(P.57)
(A)乾旱 (B)龍捲風 (C)颶風 (D)暴風雪。
18. 「17世紀和18世紀初，西方人了解中國的歷史、藝術、哲學和政治後，完全入迷了。」然而，「18世紀末，歐洲人對中國的自然資源更感興趣。」請問：導致這種變化的根本原因為何？ (A)專制君權的發揚 (B)工業革命後的需求 (C)科學革命的展開 (D)世界市場的形成。(P.133)

19. 莎士比亞有齣英國歷史劇，描寫12、13世紀之際一位英王的一生經歷，這位國王為爭奪王位和法國進行兩次戰爭，同時他對王位合法繼承人也加以迫害，又和羅馬教廷起衝突，導致貴族對他的叛離，要求進行憲法改革。根據上列的描述，這齣歷史劇應命名為：
(A)《約翰王》 (B)《路易十四》
(C)《亨利八世》 (D)《血腥瑪麗》。(P.136)
20. 17、18世紀歐洲流行「開明專制」，請問：下列哪位君主的作為最符合此一思想？ (A)普魯士腓特烈大帝自稱是「國家的第一公僕」 (B)奧國皇帝約瑟夫二世宣布實施農奴制度 (C)俄國女皇凱薩琳二世停止對啟蒙思想家們的資助 (D)英國查理一世篤信君權神授學說。(P.131)
21. 有一文告，列舉了英王的種種暴行，並莊嚴的宣告：「這些聯合殖民地從此成為，而且理應成為自由獨立的合眾國；它們解除與英王的一切隸屬關係，而它們與大不列顛王國之間的一切政治聯繫亦應從此完全廢止。」請問：此文告所指為何？ (A)法國的人權宣言 (B)英國的權利法案 (C)英國的大憲章 (D)美國的獨立宣言。(P.138)
22. 1788年8月，法國國王路易十六發布一道命令，讓全國的貴族、教士及平民選出自己的代表，翌年到凡爾賽宮參與三級會議。路易十六召開三級會議意在解決下列哪一問題？ (A)外患的威脅 (B)階級的對立 (C)財政的困窘 (D)宗教的迫害。(P.140)
23. 有位學者的主張如下：「……人是生而自由平等的，任何人都沒有強使他人服從的天然權威……只有基於人民自由意志訂定的社會契約才能成為國家合法的根據，在訂立契約時，人民並同意接受『公意』的主導……在這個國家中人民有立法權，法律就是人民共同意志的表現，任何人不能凌駕法律之上……。」對於此種思想會加以反駁的人士是 (A)洛克 (B)馬基維利 (C)盧梭 (D)孟德斯鳩。(P.128,129)
24. 牛頓的遺言：「要是我比笛卡兒看得遠一點，那是因為我是站在巨人們的肩上的緣故。」牛頓所謂的「巨人們」是指：(甲)哥白尼；(乙)伏爾泰；(丙)伽利略；(丁)狄德羅。 (A)甲乙 (B)甲丙 (C)乙丙 (D)丙丁。(P.126,127)
25. 拿破崙於1821年病死聖赫勒拿島，他在臨死前說：「我一生四十次戰爭勝利的光榮，被滑鐵盧一戰就抹去了，但我有一件功績是永垂不朽的，那就是我的X。」文中的X應是指： (A)《人權宣言》 (B)滑鐵盧之役 (C)徵兵法 (D)法典。(P.141)
26. 史家華勒斯坦 (Wallerstein) 的著作《現代世界體系》中，有一章名為「絕對君主制與國家主義」。依你的判斷，該章所描述之時代應有何特徵？ (A)君權神授理論的流行 (B)教會權力高漲 (C)封建制度相當穩固 (D)君主積極拉攏貴族。(P.130)
27. 「87年前，基於對自由的堅信，以及所有人皆生而平等這個信念，我們的先輩開拓者在這片土地上建立了一個新的國家。現在我們被捲入一場偉大的內戰，這場內戰是對這個國家，以及任何堅信及奠基於這些信念的國家，能否永續長存的一次考驗。……從那些已逝的光榮死者身上，我們要更加致力實現當初他們全心奉獻的理念；我們在此決心使他們的血不會白流；我們要使這個國家在上帝的保佑下得到自由的永生，使這個民有、民治、民享的政府永世長存。」請問：上文所指的內戰是指哪一場戰爭？ (A)英國清教徒革命 (B)法國大革命 (C)美國獨立革命 (D)南北戰爭。(P.139)
28. 一本新出版的書介紹當時歐洲各國的政治與體制，書中指出：俄羅斯、法蘭西、普魯士等國盛行君主專制；荷蘭及西班牙已無法維持海上霸權；而英國因開風氣之先，實施君主立憲制度，君主與國會共治，國勢蒸蒸日上。這本書最早可能出版於何時？ (A) 16世紀初 (B) 18世紀初 (C) 19世紀中 (D) 19世紀末。(P.136)
29. 某人指出：我發現四顆行星，發現銀河系是一團星體，這是以前的天文學家未曾觀察到的。借助於望遠鏡，清楚出現在感官前，古往今來煩擾哲學家們的爭辯，為我們看到的證據所破除。這種說法最可能出現在哪個時期？ (A)天文學是15世紀發展起來的，所以這是15世紀的事 (B)基督教會提出地球中心說是在16世紀時，所以這是16世紀的事 (C)望遠鏡是17世紀發明的，所以這是17世紀的事 (D)能如此觀測行星者只有牛頓，所以這是18世紀的事。(P.126)
30. 法王路易十六成為革命階下囚後，在獄中讀了啟蒙思想家的著作，感慨的說：「原來是伏爾泰和盧梭毀了法國！」「是這兩個人，而不是雅各賓黨（法國革命激進派）推翻了波旁王朝！」請問：這段敘述主要說明伏爾泰與盧梭兩人的哪項作為導致波旁王朝被推翻？ (A)他們將自由與平等思想廣泛宣傳，使人民勇於為權利鬥爭 (B)他們著書立說，不斷宣導以革命手段剷除君主制度 (C)他們參與起義，並成為革命早期的領導者 (D)他們言行激烈，甚至比雅各賓黨更為極端。(P.129)
31. 牛頓以機械論解釋整個自然世界，洛克呼籲政府須維護人民的天賦權利，二者一屬自然，一屬人文，看似風馬牛不相及，其實都表現了哪一項「啟蒙」的特色？ (A)回歸傳統價值 (B)論述進步史觀 (C)強調理性精神 (D)注重感性經驗。(P.128)
32. 近代工業革命的主要動力之一是技術的創新。在18世紀的工業革命中，英國工業的技術創新如何產生？ (A)科學革命發現新理論，工業家將這些理論直接應用於生產，帶來技術的創新 (B)時值啟蒙運動，哲士熱衷於傳播科學知識，廠商將這些知識轉變成生產技術 (C)此時的技術創新大都是技術工人為因應現實需要，改良原有機械裝置的結果 (D)在殖民地戰爭中，英國擊敗法國，控制了印度，從印度引進先進的紡織技術。(P.132)
- * 恩格斯曾說：「當『科西嘉怪物』最後被牢牢地禁閉起來之後，大大小小的帝王們立刻在維也納開了一次大會，以便分配贓物和獎金，並商討能把革命前的形勢恢復到什麼程度。民族被買進和賣出，被分割和合併，只要完全符合統治者的利益和願望就行。」請問：
33. 上文恩格斯所說的「科西嘉怪物」所指的為下列何人？ (A)拿破崙 (B)路易拿破崙 (C)梅特涅 (D)羅伯斯比爾。(P.142)

34. 大大小小的帝王們在維也納開了一次大會，會議中所強調的「正統性」是指何者？ (A)成立由市民階級組成的新政府 (B)國家元首應由選舉產生 (C)維護立憲議會政治 (D)恢復被推翻的王朝。(P.142)
35. 大明任職於廣告公司，今年因老闆退休，公司結束營業而失業。請問：大明要依法申請「失業給付」，如果沒有特殊狀況的話，最多可申請幾個月的失業給付？(P.187)
(A)3 個月 (B)9 個月 (C)6 個月 (D)12 個月。
36. 下列何者不屬於「綠色消費」？(P.196)
(A)不購買多層過度包裝的禮品
(B)到海產店吃保育類魚類
(C)購物自備購物袋，不使用店家的塑膠袋
(D)選購符合「綠色經濟」的企業產品
37. 企業對員工的社會責任不包括下列那一項？(P.195)
(A)苛扣員工的加班費 (B)遵守勞動基準法
(C)不要讓員工超時加班 (D)安全衛生的工作環境。
38. 下表是王小姐投資的 4 種理財工具 5 年的平均投資報酬率。依照一般投資風險的原則，那一種理財工具造成王小姐虧損的機率最高？(P.191)
- | 投資理財工具 | (A) | (B) | (C) | (D) |
|------------|-----|-----|-----|-----|
| 5 年平均投資報酬率 | 9% | 13% | 5% | 2% |
39. 下列何者不是企業對消費者的社會責任？(P.195)
(A)食品包裝上提供完整的成份說明 (B)聯合漲價
(C)瑕疵品包退包換 (D)提供完整的使用說明。
40. 小陽還在念大學天文學系，但因家境不佳要自己賺生活費。他聽說某日晚上「獅子座流星雨大爆發」，會有很多人聚集山頂天文台廣場觀賞流星雨。小陽靈機一動，去批了 100 個星座盤，每個成本 100 元，帶到天文台廣場叫賣，每個賣 120 元，只要購買他的星座盤，就免費贈送他的專業星空解說，由於解說精采，星座盤全部賣光。請問他這次流星雨之夜的投資報酬率是多少？(P.191)
(A)15% (B)50% (C)20% (D)30%。
41. 秋紅在便利商店購買瓶裝飲料時，發現瓶子外包裝說明上印有以下圖案，請問下列何者不是該圖的意義？(P.197)



- (A)該圖原為綠色，代表環保，也代表該瓶飲料在生產過程中吸收了多少二氧化碳，淨化空氣
(B)是該瓶飲料碳足跡的標示
(C)說明該瓶飲料從製造到回收過程中的溫室氣體排放量
(D)「102g」指的是該瓶飲料在整個生命週期中的二氧化碳排放量
42. 「尊嚴勞動」的概念，是由那一個團體在 1999 年提出的？ (A)世界衛生組織 (B)國際勞工組織 (C)世界公平貿易組織 (D)世界貿易組織。(P.195)
43. 大方想要投資理財，但是他只有 20 萬的資金可用，他想找尋由銀行匯集民眾的小額投資，交由專業經理人代為管理操作，共同負擔盈虧，以分散風險的理財工具，請問他應該選擇以下那一種理財工具？(P.190)
(A)保險 (B)股票 (C)銀行存款 (D)共同基金。

44. 下列那一種企業，投資人之間彼此不一定認識？(P.194)
(A)獨資企業 (B)兩人合夥企業 (C)股份有限公司
(D)消費者文教基金會。
45. 劉小姐在餐廳擔任外場服務人員，薪資不高，省吃儉用存了一筆錢當急難預備金（例如生大病時使用）。她想用這筆存款來投資理財，增加一些額外的收入，但又擔心自己身體不大好，萬一虧損時，生病沒有錢可用。請問：劉小姐最不適宜選擇下列那一種理財工具？(P.190)
(A)股價漲跌都很大 HCT 手機公司股票 (B)中華民國政府公債 (C)郵局活期存款 (D)玉山銀行定期存款。
46. 下列何者不是企業在「綠色經濟」中的社會責任？
(A)投資廢水廢氣處理設備，保證排放廢水廢氣符合政府訂的標準
(B)造紙廠撥出利潤的 5%復育森林，補回因造紙砍掉的樹
(C)投資研發降低使用能源和減少污染的製造流程
(D)保障勞工基本薪資。(P.195-196)
47. 我國失業勞工依「法」可請領「失業給付」。請問：上述的「法」是以下何者？(P.187)
(A)就業保險法 (B)就業服務法 (C)勞動基準法
(D)勞工安全衛生法。
48. 下列何者為目前較被接受、比較積極的環境保育概念？
(A)污染防治 (B)有毒廢水廢氣處理 (C)永續發展利用
(D)禁止開發利用自然資源(P.196)
49. 下列何者為失業人口？(P.187)
(A)陳平從台灣大學研究所碩士班畢業去服兵役，沒有工作
(B)王一帆任職於電腦公司，過年後辭去工作，但至今仍未找到新工作
(C)蘇東坡因年紀大了身體不佳，退休已一年
(D)陳媽媽是外籍配偶，尚未取得我國身份證，所以依法還不能在我國找工作
50. 阿土伯是投資理財專家，總共投資了 3500 萬在各種理財工具上。下表是投資在各種理財工具上的金額。請問：從表中可看出他的投資符合那一種投資態度？(P.191)
(A)量力而為 (B)集中投資 (C)借錢投資 (D)分散風險

理財工具	銀行存款	政府公債	共同基金	保險	股票
投資金額	600 萬	800 萬	800 萬	300 萬	1000 萬