

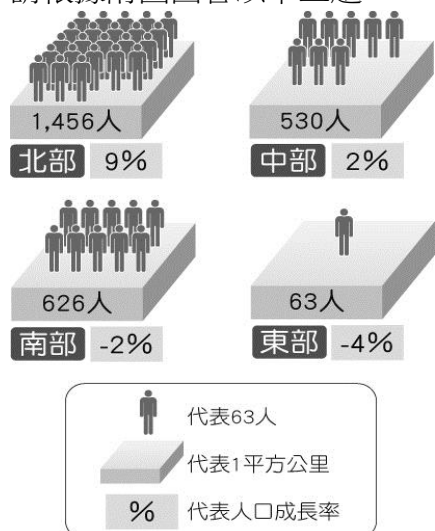
【讀卡科目請依規定畫卡，若有違反畫卡規定而影響讀卡作業之情事，一律扣總分五分。】

一、選擇題

*臺灣各區域間的發展差異顯著，這種差異的形成因素複雜，差異的影響也透過各種層面表現在人文景觀上。請問：

1. 下列哪一度量指標最無法表現「區域間發展差距」？ (A) 人口分布密度 (B) 產業發展高低 (C) 平原地形比例 (D) 基礎建設多寡。P.72p.73
2. 臺灣以北部區域的發展程度最高，其居民所得也最高。居民所得的高低，最無法由下列何項的因素得到判斷？ (A) 人口數量 (B) 資金資源 (C) 產業結構 (D) 教育程度。P.74
3. 政府先後制定的《臺灣地區綜合開發計畫》和《國土綜合開發計畫》，在國家發展定位、重大建設均扮演重要政策指導角色。請問推動計畫的目的為何？ (A) 開發能礦資源 (B) 控制人口成長 (C) 均衡區域發展 (D) 遏止全球暖化。P.72p.73

*附圖為臺灣各區域人口密度與十年間人口增加率示意圖，請根據附圖回答以下三題。



4. 就各區域的人口密度情形，判斷下列敘述何者較為正確？ (A) 北部總人口數為 1,456 萬人 (B) 中部每年社會增加的人口為 530 人 (C) 南部每一平方公里有 626 人分布 (D) 東部每年自然增加的人口為 63 萬人。P.72
5. 若各區域的人口增加率固定不變，明年人口密度會下降的區域有哪些？ (A) 北部、中部 (B) 北部、南部 (C) 東部、中部 (D) 東部、南部。P.72
6. 東部與其他區域的人口密度差異明顯，其原因可能和下列何者無關？ (A) 氣候少雨 (B) 地形多山 (C) 交通不便 (D) 就業機會少。P.67

*東部是臺灣本島唯一未設立科學工業園區的區域，這塊尚未被汙染的土地，被稱為「臺灣的後花園」，這裡沒有太多的高科技，而是以「無煙囪」的觀光產業，將東部的美景呈現給世人知道。請問：

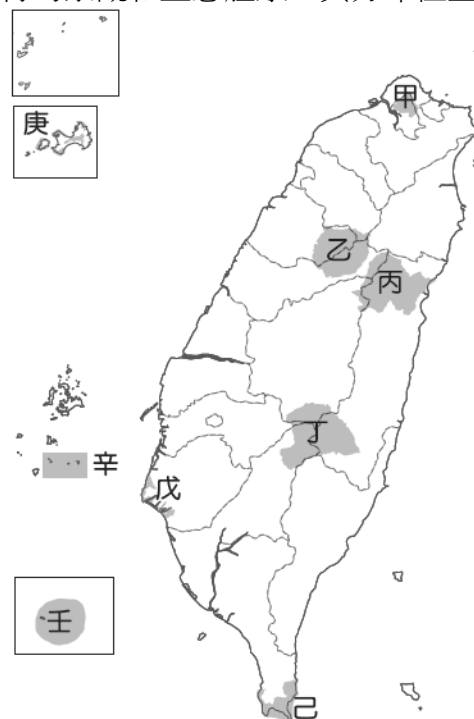
7. 此區以觀光產業為主，唯一較著名的工業為何？ (A) 晶圓代工 (B) 造船業 (C) 紡織業 (D) 大理石工業。P.68
8. 承上題，此工業發展屬何者工業區位因素？ (A) 原料 (B) 交通 (C) 市場 (D) 勞工。P.68

*附圖為臺灣各區域的分布簡圖。請問：



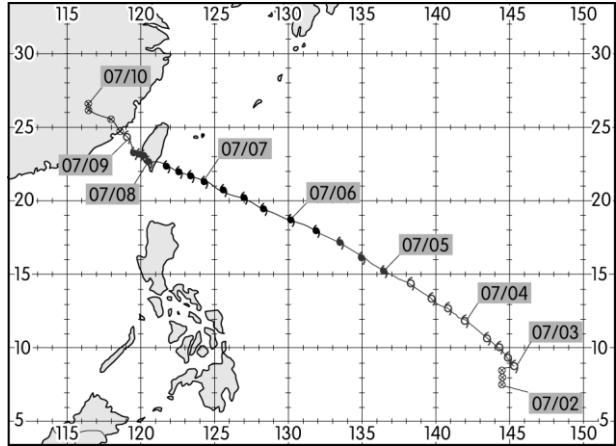
9. 隨著台江國家公園的設立，原本即將被淡忘的晒鹽業又被人提起，許多人攜家帶眷去體驗特殊的晒鹽活動。請問：晒鹽業主要分布於圖中何區？ (A) 甲 (B) 乙 (C) 丙 (D) 丁。P.61
10. 丁區因緯度較低，部分濱海地區有珊瑚礁，甚至還在珊瑚礁海域設立了國家公園。上述景觀主要分布於哪個縣市？ (A) 嘉義縣 (B) 臺南市 (C) 高雄市 (D) 屏東縣。P.63
11. 因交通便捷，成為蔬果花卉專區。分布於圖中何區？ (A) 甲 (B) 乙 (C) 丙 (D) 丁。P.59

*至民國 106 年，臺灣共設置了九座國家公園，各自具有獨特的景觀和生態體系，其分布位置如附圖所示。請問：

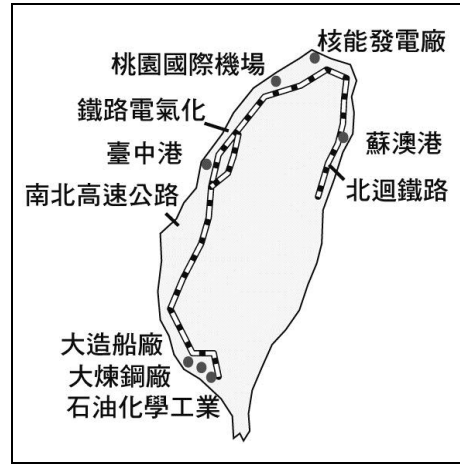


12. 臺灣設置國家公園的最主要目的為何？ (A) 均衡區域發展 (B) 增加遊憩資源 (C) 帶動整體經濟升級 (D) 推動環境保育工作。P.76
13. 東部區域共涵蓋幾個國家公園？ (A) 1 個 (B) 2 個 (C) 3 個 (D) 4 個。P.53
14. 若想目睹古寧頭大捷、八二三砲戰等早期留下來的戰地風光，應該前往圖中哪個國家公園？ (A) 己 (B) 庚 (C) 辛 (D) 壬。P.70

15. 臺灣在夏、秋兩季經常受到颱風侵襲，造成產業受損及交通中斷等災害。附圖為2016年7月的尼伯特颱風預測路徑圖，請問：依圖中颱風的預測路徑加以判斷，其登陸地點最可能下列何者？(A)臺中 (B)宜蘭 (C)花蓮 (D)臺東。P.67



16. 「三月瘋媽祖」為台灣特殊的現象，因為農曆3月23日為媽祖誕辰，台中大甲鎮瀾宮的媽祖會聖駕往南到嘉義新港奉天宮進香。請問此路線會依序經過哪兩個縣？(A)南投、彰化 (B)彰化、雲林 (C)南投、雲林 (D)雲林、彰化。P.59
17. 臺灣礦產資源不豐，然而高雄市在成立臨海工業區後，卻得以成為台灣重工業中心。請問：高雄是重工業的發展與何項關係最大？(A)交通方便 (B)動力充足 (C)市場廣大 (D)技術進步。P.63
18. 美環正在為外公做口述歷史的訪問，外公回憶民國四十年代時說道：「當年要不是政府政策的幫忙，像我們這種苦命的佃農，可能一輩子都翻不了身，只能看地主的臉色過日子了！」請問：他所說的政策是指下列何者？(A)九年國民教育 (B)十大建設 (C)耕者有其田 (D)全民健康保險。(6-1)
19. 民國六十年代，臺灣的知識分子曾經掀起一股回歸鄉土、關懷社會的熱潮，這是受當時何種事件的影響，而出現的反省與回應？(A)蔣經國總統宣布解嚴 (B)政府鼓吹反共復國的愛國意識 (C)中美斷交與退出聯合國 (D)政府提倡促進族群融合。(6-2)
20. 民國60年「海內外全體同胞們：第二十六屆□□大會違反憲章規定，通過阿爾巴尼亞等附匪國家之提案，牽引毛共匪幫竊取中華民國在□□及安全理事會中的席位；我們本『漢賊不兩立』之立場及維護憲章之尊嚴，已在該案交付表決之前，宣布退出所參與締造的□□……。」以上是《中華民國退出□□告全國同胞書》的部分內容。請問：這封書信中的□□應是下列何者？(A)西太平洋防禦聯盟 (B)聯合國 (C)世界貿易組織 (D)亞太經合會。(5-1)
21. 附圖是十大建設圖，從圖中內容可知哪方面的建設所占比例最高？(A)軍事建設 (B)能源建設 (C)文化建設 (D)交通建設。(6-1)




22. 中美斷交對臺灣人民的信心打擊相當大，但臺灣仍屹立不搖。此後，海峽兩岸的關係也產生了何種變化？(A)中共對臺改採和平統戰策略 (B)中共以強大武力炮轟金門 (C)中共對臺提出「三不政策」 (D)中共加入聯合國，臺灣退出。(5-2)
23. 我國政府為突破中共封鎖，採取務實外交政策，下列何者不是務實外交的做法？(A)參與國際事務，提升我國國際地位 (B)承認兩岸是分裂分治的兩個對等政治實體 (C)派遣技術團到他國協助改良農作生產工作 (D)炒作各式政治議題，以觀察中共容忍底限。(5-2)
24. 歷史課時同學在討論二次大戰後我國的外交，他們的對話有如附圖。請問：這應該是指下列哪個條約？(A)《馬關條約》 (B)《動員戡亂時期臨時條款》 (C)《臺灣關係法》 (D)《中美共同防禦條約》。(5-1)

明明：「一九五〇年代，美國與蘇聯共產勢力對抗下，積極找東亞地區的盟友。」

元元：「我國在此國際局勢下與美國簽訂條約，成為美國西太平洋反共防衛體系的一環。」

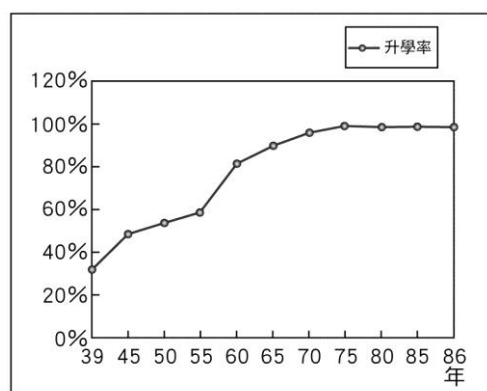
25. 民國82年，我國海基會董事長辜振甫與中國大陸海協會會長汪道涵舉行會談，當時各家媒體大幅報導。請問：此舉有何正面意義？(A)促進兩岸貿易與文化交流 (B)中共願意承認兩岸主權平等 (C)兩岸進行大三通 (D)國共雙方都堅持兩岸永久和平。(5-2)
26. 蔣中正曾經告誡所有的軍官：「不要認為中共會放棄武力犯臺，一旦韓戰結束，中共會立刻將部隊移到東南各省，準備攻擊臺灣。」後來果然不出所料，民國47年即爆發某戰役。請問：文中所提的某戰役是下列何者？(A)韓戰 (B)越戰 (C)八二三炮戰 (D)古寧頭戰役。(5-2)
27. 附圖是民國五十年代時，我國所外銷的家電和日常用品。這個時期的海外貿易之所以興盛的原因，與政府當時採取下列哪個經濟政策有關？(A)進口替代 (B)出口導向 (C)發展重化工業 (D)提倡高科技產業。(6-1)



28. 有一些老歌的內容可以反映當時臺灣社會所呈現的景況，如閩南語歌曲「孤女的願望」，其歌詞大意描寫一個鄉村女孩想到大都市生活的經過：「請借問播田的田庄阿伯啊，人塊講(人在講)繁華都市，臺北對叨去(往哪去)……阮想要去都市做著女工度日子，也通來安慰自己心內的稀微(孤寂)……。」請問：這首老歌的內容，應該是以下列哪一項臺灣歷史上曾經發生的史事為背景？
(A)光復初期失業嚴重 (B)工業發展，農村人口外流
(C)世界性經濟不景氣 (D)中國大陸移民來臺思鄉情切。(6-3)
29. ICRT是目前臺灣頗富知名度的電臺，其播放的熱門音樂，為喜愛美國流行文化的人士所熱愛。請問：美國流行文化在臺灣最早有可能何時即存在？
(A)光復初期 (B)韓戰爆發後 (C)解嚴後 (D)退出聯合國後。(6-2)
30. 以下三段資料都是臺灣社會變遷下的政策，請問這些政策顯示了何種意涵？
(A)臺灣社會朝向多元開放 (B)都市發展情形 (C)臺灣的人口分布概況 (D)實施九年國民義務教育的成果。(6-2)

資料一：行政院組織增設原住民委員會推動原住民族相關事務
資料二：各縣市成立新住民家庭服務中心
資料三：國中小課程安排鄉土教學

31. 日本治臺時期的教育政策著重在職業教育，而國民政府遷臺之後也是如此。請問兩者的共同目的為何？
(A)職業教育升學管道較多 (B)職業教育適合學生人格發展
(C)配合國防發展 (D)配合經濟發展。(6-2)
32. 由於兩岸政治立場不同，使得不少親人被迫分隔兩地，一直到什麼時候兩岸才開放探親？
(A)中美斷交後 (B)解除動員戡亂時期後 (C)解除戒嚴後 (D)第一次總統直選後。(5-2)
33. 附圖是臺灣國中升學率百分比圖。請問：自民國五十年代中期以後，國中生升學率大增的原因為何？
(A)開始實施九年國教 (B)開始推動多元入學 (C)開始實施九年一貫 (D)開始實施十二年國教。(6-2)



34. 「現今不少私立幼稚園的老師在開學前，都要面臨招生可能不足的問題。有時幼教老師為了招生，甚至挨家挨戶的拜訪。」請問：造成上述現象的主要原因為何？
(A)人口外移嚴重 (B)出生率下降 (C)死亡率上升 (D)城鄉差距嚴重。(6-3)
35. 過去在學校中不准學生說方言，近年來由於文化多元觀念的影響，學校已有許多教授母語的課程和做法。下列何者可以說明上述社會變遷的形式？
(A)器物生活帶動社會制度轉變 (B)社會制度影響器物生活轉變 (C)價值觀念影響社會制度轉變 (D)器物生活影響價值觀念轉變。(p175)
36. 由於基因改造食品(GMO)可能增加人民的健康風險，因此民眾走上街頭，要求政府規範食品公司要在產品包裝上標示是否使用基因改造原料。下列相關敘述，何者正確？
(A)法律規範屬於非正式的社會規範 (B)法律規範是屬於文化的器物層次 (C)社會運動是帶動社會變遷的動力 (D)基因改造食品的問世屬於制度的變遷。(p185, 186)
37. 佳佳在網路上看到一段文字：「教育應該是社會階級改變的力量，各大學應擴大招收弱勢學生與中低收入戶學生，讓每個人都有機會透過努力來改變自身的社會地位。」上述內容應是在探討何種主題？
(A)社會運動 (B)社會流動 (C)社會規範 (D)社會團體。(p177)
38. 友志在公民報告中討論「臺灣少子化與高齡化的人口現象」，上述現象最可能衍生出下列何種問題？
(A)扶養負擔減輕 (B)社會勞動力下降 (C)犯罪問題日益嚴重 (D)環境破壞與汙染。(基測題, p178, 186)
39. 許多保護兒童與婦女的團體組成「防制父母搶奪子女推動聯盟」，呼籲公眾人物不要在媒體上發表和孩子有關的家庭紛爭，也要求政府設立監督機制，處分違反新聞倫理的媒體，並對行為不當的父母進行親職教育。上述「防制父母搶奪子女推動聯盟」的行動，是以何種方式來因應社會變遷？
(A)政府的施政 (B)民間團體的投入 (C)個人的努力 (D)科技的發展與創新。(p180)
40. 民雄分局的員警落實家戶訪問工作，若發現轄內有貧困無依及獨居老人生活困頓，即結合社區資源、購買民生用品，前往關懷慰問。上述做法展現出下列何種精神？
(A)終身學習 (B)文化傳承 (C)社會正義 (D)環境倫理。(p189)
41. 我國《憲法》第 152 條規定：「人民有工作能力者，政府應給予適當的工作機會。」這是藉由法律保障並促使人民能充分就業。上述觀念與下列禮運大同篇的哪一種社會福利思想相符合？
(A)老有所終 (B)壯有所用 (C)幼有所長 (D)矜寡孤獨廢疾者皆有所養。(p185)
42. 以社會福利的發展歷程而言，「社會上失業和貧窮等問題日益嚴重，政府便開始制定社會福利政策，落實相關措施以保障弱勢者的權益」，是在下列哪個時期？
(A)古埃及 (B)中世紀時期 (C)工業革命後 (D)二十世紀後。(p185)
43. 政府應制定合宜的社會福利政策，盡力滿足人民的心理、社會和經濟等方面的需要。下列何者不屬於我國現行的社會福利政策？
(A)社會保險 (B)就業安全 (C)社會救助 (D)12 年國民教育-核心素養。(p186, 187, 188)

44. 政府不直接給予低收入戶、中低收入戶或發生急難狀況者金錢，改以日薪計算方式加以雇用，使其提供勞動以換取薪資所得，此種福利措施稱為下列何者？ (A)在職訓練 (B)以工代賑 (C)社會保險 (D)職業保險。(p186)

45. 行政院《社會福利政策綱領》中有一段內文——

國民年金制度之設計應足以保障國民因老年、身心障礙，及死亡等事故發生後之基本經濟安全，以及達到國民互助、社會連帶、世代間公平合理的所得重分配為原則。

- 由此可知，國民年金制度屬於哪項社會福利政策？ (A)社會保險 (B)商業保險 (C)社會救助與津貼 (D)福利服務。(p187)
46. 當人民生活遇到困難時，政府應透過社會福利予以協助及照顧。下列何者所遭遇的情形，並非是政府實施社會福利所照顧的對象？ (A)林爺爺因一場大火失去了老伴和獨子 (B)張廠長好賭不務正業，公司資金周轉不靈 (C)劉小姐的住家遭颱風肆虐，家產盡失 (D)何先生車禍雙腿截肢，家中頓失依靠。(p185)
47. 我國社會福利政策的實施項目相當多元，下列何者的配對正確？ (A)身心障礙者福利津貼——健康與醫療照護 (B)青年安心成家購屋優惠貸款——社區營造 (C)流感疫苗免費注射——急難救助 (D)無障礙空間的推動——福利服務。(p186, 187, 188)

題組

仲宏今年剛升上小學四年級，弟弟則是上小一，奶奶中風臥病在床已有三年的時間，爸爸自從半年前因工作受傷後不良於行，失業在家。媽媽要照顧奶奶和爸爸，只能利用空餘時間做家庭代工，目前全家仰賴政府的低收入戶生活補助金，和媽媽那份微薄的收入勉強度日。請回答下列問題：

48. 政府提供仲宏家低收入戶生活補助金，是屬於哪項福利政策？ (A)社會救助 (B)社會津貼 (C)福利服務 (D)社會保險。(p 186)
49. 政府提供職業訓練，協助仲宏的爸爸，這是落實哪方面的福利政策？ (A)就業安全 (B)健康與醫療照護 (C)社區營造 (D)社會保險。(p188)
50. 仲宏的爸爸因工作受傷，可向相關單位申請勞工保險給付，這是屬於何種社會福利政策？ (A)就業安全 (B)健康與醫療照護 (C)社區營造 (D)社會保險。(p187)