

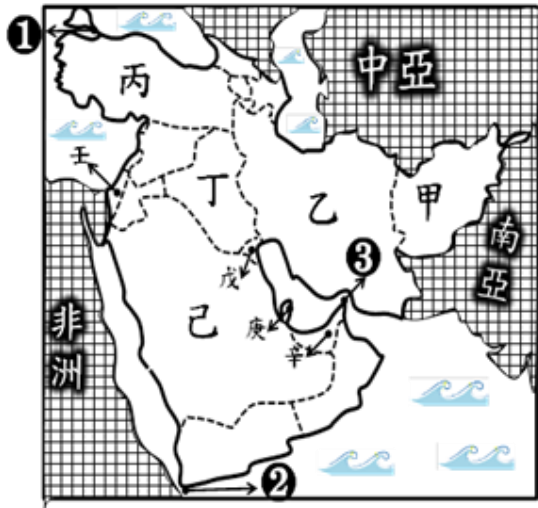
【讀卡科目請依規定畫卡，若有違反畫卡規定而影響讀卡作業之情事，一律扣總分五分。】

【手寫答案卷需確實寫上班級、座號、姓名，違者一律扣總分五分。】

【手寫答案卷需用藍色或黑色墨水筆書寫，違者一律扣總分五分，使用鉛筆書寫扣五分。】

### 一、選擇題

※題組：下圖為西亞區域圖，甲-壬表示各國代號，請回答 1-4 題：



- 西亞中哪個國家最不可能發生大地震？p.7  
(A)甲(B)乙(C)丙(D)己
- 下列是針對西亞的農業活動發展特色的敘述，請問下列哪一個是正確的？p.9  
(A)甲國為肥沃月彎，成為本區主要農業帶  
(B)丁國為了夏雨冬乾的氣候限制，農業使用滴灌技術  
(C)戊國為了防止蒸發，善加利用坎井發展綠洲農業  
(D)己國利用探鑽技術，使用鑿井取水發展農業
- 圖上哪一國並非西亞的產油國，靠油管運輸賺取外匯？  
(A)己 (B)庚 (C)辛 (D)壬。p.10
- 西亞由於水源稀少，再加上日益增加的人口，水資源的爭奪常引起各國間的緊張關係。請問哪一國家因位於安納托利亞高原——也就是兩河流域的上游，其於河川上游興建水庫引起伊拉克等國的抗議？p.11  
(A)甲 (B)乙 (C)丙 (D)壬。
- 右圖為某國際組織的標幟，關於該組織的敘述何者『正確』？p.10  
(A)該組織的會員國皆位於波斯灣沿岸  
(B)APEC是該組織的英文縮寫  
(C)石油的市場價格完全由該組織決定  
(D)成立目的在維護產油國權益和報酬
- 該族群是一個生活於中東的游牧民族，總人口約3000萬，主要分布在土耳其、敘利亞、伊拉克、伊朗境內，多半信奉伊斯蘭教遜尼派，從未建立獨立國家。他們長期生存於戰鬥中，其獨立議題備受關注，2017年9月25日位於伊拉克自治區領袖發起公投，9成選票支持獨立，但各國都激烈表示反對。請問該族群是指？p.11  
(A)猶太人(B)庫德族(C)貝都因人(D)波斯民族
- 西亞與中亞皆為乾燥氣候區，但是形成兩地「乾燥」的成因不盡相同，請問形成西亞與中亞乾燥氣候的主因依序為何？p.8、p.12  
(A)太陽終年直射；位處西風背風坡  
(B)位處西風背風坡；副熱帶高壓帶籠罩

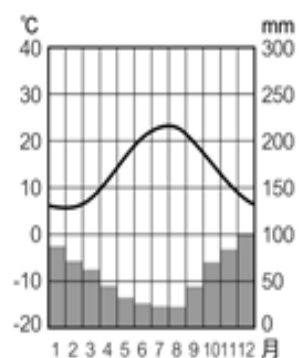
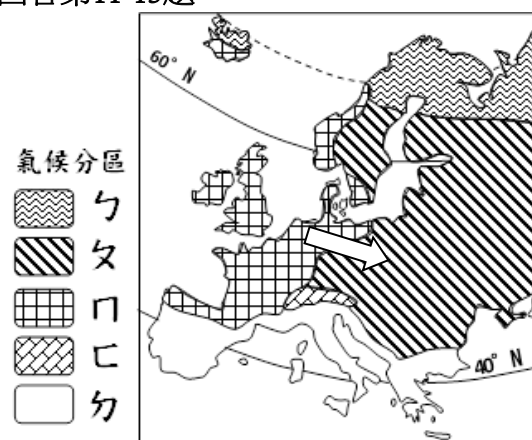


- (C)副熱帶高壓帶籠罩；距海遙遠  
(D)距海遙遠；副熱帶高壓帶籠罩。

- 哈薩克是中亞面積最大國家、政治穩定。它是中國最友好的鄰邦，在一帶一路的西進政策中期望共建『絲綢之路經濟帶』。請問該國目前經濟發展的方向是？p.13  
(A)利用錫爾河水源，積極發展農業  
(B)進行海水淡化等水利工程改變經濟結構  
(C)和中國積極合作開採裏海的石油  
(D)避免依賴石油，朝向觀光、金融業發展
- 自1960年代開始，前蘇聯政府在中亞地區開始展開「白金計畫」，大量引中亞兩條河流的河水灌溉棉田，造成右圖的甲湖泊面積逐漸縮小。美國科學家預計於2020年左右，此內陸湖泊將徹底消失在世界上。請問上文「白金計畫」，可能會造成下列哪些環境問題？(甲)生態系統破壞(乙)荒漠化面積增加 (丙)漁獲量縮減(丁)湖水鹽度下降(戊)裏海面積縮小。p.13(A)甲乙丙 (B)乙丙丁 (C)丙丁戊 (D)甲乙戊。
- 右圖為歐洲四大半島圖，關於歐洲甲、乙、丙、丁四個半島與海岸的特性組合，下列何者正確？p.23  
(A)甲—岬灣 (B)乙—谷灣  
(C)丙—斷層 (D)丁—峽灣



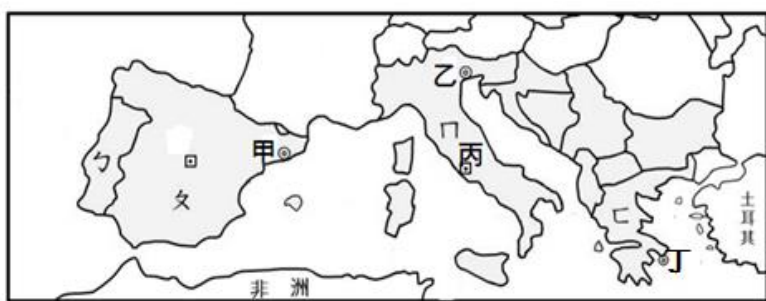
※題組：下左圖為歐洲氣候分布圖。請回答第11-13題：



- 阿中到歐洲某國的氣候圖如上右圖所示。請問：他應前往分布圖中哪一個氣候區？p.25 (A)々(B)ㄣ(C)ㄣ(D)ㄣ
- 分布圖中ㄣ區的降雨量分布情況，主要是受到下列哪一種風向的影響？p.24  
(A)極地東風 (B)盛行西風 (C)東南信風 (D)東北信風。
- 沿圖中箭頭的方向前進，可以明顯感受的氣候變化與下列何者敘述最相符？p.24  
(A)年溫差漸減 (B)年雨量漸多  
(C)年溫差漸增 (D)日溫差漸小。



14. 因應A P E C與N A F T A的成立，歐洲各國努力組成E U(歐洲聯盟)，展開彼此間跨國界的經濟合作與整合，其目的與任務「不」包括下列哪一項？p.27  
(A)歐盟的會員國間彼此免除關稅  
(B)引進招募來自全球各地的廉價與技術型勞工  
(C)會員國多數以歐元為共同貨幣  
(D)結合會員國資源人力加強產品對外的競爭力。
15. 歐盟成立後，來自臺灣鴻海集團的郭台銘先生如何因應才能將產品打入歐盟市場，賺取更多商機？p.26  
(A)在W H O會議上控告歐盟壟斷市場  
(B)建議政府對歐盟產品課徵高額關稅並進行報復  
(C)在捷克投資設廠，聘用當地勞工  
(D)鴻海公司入主夏普集團進行貿易聯盟及結合
- ◎下圖為南歐地區簡圖，請根據圖回答16~17題：



16. 中國廣西一帶屬於石灰岩地形，風光綺麗，擁有絕佳資源。右圖中哪個地區也擁有相似的景觀，因溶蝕作用形成的洞穴中，有石柱、石筍、鐘乳石等奇岩怪石，且為歐洲文明與奧林匹克運動會的發源地？  
(A)ㄅ (B)ㄆ (C)ㄇ (D)ㄋ。p.30
17. 『每年八月最後一個星期三，番茄節（Tomatina）在瓦倫西亞自治區布諾鎮（Buñol）舉辦。來自世界各地約2萬名遊客，沉浸在130公噸的番茄洗禮中』。此國家是西歐地區蔬果重要的供應來源。請問：該國位於下圖中何處，成為西歐重要蔬果供應地的主要原因為何？p.29  
(A)ㄅ，海上強權 (B)ㄆ，緯度較低  
(C)ㄇ，火山作用 (D)ㄋ，海運發達。
18. 明末徐光啟與利瑪竇合譯歐幾里德的《幾何原本》前半部，在序文中道：「此書為益，能令學理者祛其浮氣，練其精心，學事者資其定法，發其巧思，故舉世無人不當學。」並斷言「竊意百年之後，必人人習之」，至此中國對西方幾何學有初步的認識，試問該書是哪一時期的文化成就？(A)西亞文明時期 (B)希臘城邦時期 (C)希臘化文化時期 (D)羅馬帝國時期。(p.113)
19. 基督教發展的時間雖然比部分古老的宗教晚，但卻是現在世界上信徒人數最多的第一大宗教，在各洲的分布範圍非常廣泛，即使臺灣也隨處可見教堂建築。請問下列關於基督教發展的敘述中，何者正確？(A)教義深受猶太教影響 (B)耶穌在巴勒斯坦地區宣揚善惡二元對立的信仰 (C)曾因為多神信仰的教義與羅馬傳統信仰不同而被迫害 (D)在君士坦丁的時代被定為羅馬國教。(p.117)
20. 西元前 3000 年以後，不同的民族先後遷入兩河流域，建立政權。有些民族使用閃族語言，有的則使用印歐語言。這些民族的語言雖然不同，但此地區的文化與貿易能夠持續成長，學者認為這種情況主要是由於下列哪一個共通的重要基礎？(A)使用鐵器 (B)宗教統一 (C)楔形文字 (D)軍事技術。(p.101-102)
21. 星輝參觀「大英博物館 250 年收藏展」，導覽員介紹一尊西元前 811~783 年間，新亞述帝國時期的侍神雕西元前 945 年一位上層社會女性木乃伊所有；上面繪有太陽圓盤與老鷹、伸展翅膀的女神努特、靈魂鳥、尼羅河神。相傳蓋板會為持有者帶來不幸，西元 1912 年鐵達尼號沉沒時它也恰巧被裝載在船上。請問：這蓋板代表埃及人對死亡特有的觀念，以下何者錯誤？(A)太陽圓盤的圖案代表埃及人對太陽的崇拜 (B)由蓋板上繪滿人死後世界，可知埃及人相信靈魂輪迴、因果報應 (C)製作木乃伊是為了保存肉體而使靈魂能與之結合，達成復活的目的 (D)尼羅河神，象徵循環不息的再生力量。(p.105)
22. 關於《漢摩拉比法典》與《十二銅表法》的比較，下列敘述何者正確？(A)前者在小亞細亞，後者在希臘半島 (B)前者依罪犯階級不同而有處罰差別，後者已有保障公民權利的概念 (C)前者為蘇美人所創，後者為希臘人所創 (D)兩者同為日後歐洲各國法律的淵源。(p.102、116)
23. 鎮鴻為準備歷史段考，整理了一張有關希臘古典文化內涵的筆記，請問：他所整理的筆記中何者錯誤？(A)史學：希羅多德是史學之父 (B)文學：荷馬史詩保存希臘早期歷史的重要傳說 (C)哲學：蘇格拉底、柏拉圖、亞里斯多德是希臘三哲人 (D)藝術：講求雄偉、華麗、誇張是帕德嫩神廟建築的特色。(p.112)
24. 如果你是羅馬帝國時代的公民，最不可能有下列何種生活經驗？(A)親眼見到廣場上陳列起保障公民權利的「十二銅表法」(B)到圓形競技場觀看格鬥士格鬥 (C)見證基督教的發展 (D)用拉丁文寫信給家人報平安。(p.114-116)
25. 西元 2006 年起，印度政府推行一項政策，凡屬於較高種姓的印度人(婆羅門、刹帝利和吠舍)與屬於最低階層的印度人(低種姓、部落和「落後階層」)通婚者，可獲得政府 5 萬盧比(相當於 580 英鎊)的獎賞，希望藉此改進傳統根深柢固的種姓制度。實際上三個較低等級的人口總數占全印度 11 億人的 67.6%，而只占人口 2%~5%的婆羅門階級竟囊括政府及司法部門中超過 70%的職位。請問印度社會階級的產生，可追溯自遠古時期哪一民族推動種姓制度，用來維持血統純正以便於統治？(A)阿利安人 (B)腓尼基人 (C)波斯人 (D)希伯來人。(p.106-107)
26. 大雄乘坐多啦 A 夢發明時光穿梭機，第一站來到西元前 6 世紀，看到波斯民族在伊朗高原生活情況；第二站來到西元前 4 世紀起，有一位領導者推行希臘語言、文字，鼓勵部屬與當地女子通婚，有助民族融合；第三站來到此地，當時正值共和時期，由元老院和執政官負責國家事務。請問大雄所到之處，統治者治理時有何共同點？(A)均建立橫跨歐亞非三洲的帝國 (B)均使用拉丁文書寫優美的文學 (C)均信仰婆羅門教相信因果報應 (D)均大力地提倡佛教的宗教活動。(p.103、113-114)
27. 他們從埃及人那裡借來幾幅圖畫文字，也簡化大量楔形文字的圖案，從而發明出一套新的書寫規則。這套新系統比舊的要先進得多，它犧牲掉舊文字美麗的外表，以換取書寫的速度；而且它也將成千上萬種不同的圖形，縮簡為量少、容易上手，而有先後順序的二十二個字



- 母。請問：上文所述與下列哪一民族有關？(A)加爾底亞人(B)西臺人(C)腓尼基人(D)亞述人。(p.102)
28. 關於埃及尼羅河神奧塞利斯的故事：「奧塞利斯是一位受人民愛戴的君主，他的弟弟塞特覬覦王位，將他害死並裝進人形棺丟入尼羅河。當奧塞利斯的妻子伊西斯好不容易找回丈夫屍體時，塞特又將屍體支解為十四塊散落在尼羅河中。伊西斯將丈夫屍塊一一尋回，縫合起來並用繃帶固定，在神的幫助下，奧塞利斯死而復生。奧塞利斯同時也是冥界之主，在祂的主持下，亡靈須將心臟置於天秤上，另一端擺放象徵馬特的羽毛，若心臟比羽毛重，亡靈就會被判有罪而墮入煉獄中；若心臟比羽毛輕，亡靈便可到亞爾平原快樂地生活。」根據這則神話，在埃及人的宗教觀念中，人死後會面臨何種處境？(A)根據人生前的所作所為會決定靈魂輪迴到何處(B)靈魂隨著生命結束而消逝無蹤(C)冥界之主的審判決定人復活與否(D)只要善戰勝惡，便可上天堂。(p.105)
29. 約西元前 3500 年開始，人類歷史陸續發展出高度文明，例如西亞的蘇美、埃及古王國以及中國的殷商文明，下列何者為上述古文明的共同特色？(A)出現象形文字(B)建立橫跨歐亞非三洲的大帝國(C)建立一神信仰(D)出現曆法。(p.101、105)
30. 資料一：「這是西方民主制度的重要源頭，但選舉方式與現今並不相同」。資料二：「當時的男性公民可擁有投票權，官員以抽籤方式選出，人人有機會擔任公職」。請問：這兩則資料應該是描述何地執政官員選出的方式？(A)羅馬(B)雅典(C)斯巴達(D)波斯。(p.111)
31. 西元前 4 世紀，印度北部形成的「犍陀羅藝術」，此種藝術最大的特徵是雕像有明顯的高鼻、深眼、捲髮等西方雕塑特徵，這種藝術風格最有可能是受到下列哪個文化的影響？(A)埃及文化(B)西亞文化(C)羅馬文化(D)希臘化文化。(p.113)
32. 西元 122 年，羅馬皇帝哈德良，曾在英國建築長城以防範北方蠻族的入侵。請問：下列敘述何者正確？(A)哈德良興建長城，是為了抵禦鄂圖曼土耳其人(B)哈德良所處的時代羅馬積極對外擴張，從此時開始地中海成為「羅馬的內海」(C)哈德良執政時正處於「羅馬和平」時期(D)中國秦朝與哈德良執政期間進行商業貿易的往來。(p.115)
33. 亨德里克·房龍所著《人類的故事》提到：「西元前 334 年的春天，他向歐洲說了聲再會；七年之後，他已經站在印度的土地上了。這段期間，他消滅了希臘商人的老對手腓尼基人；也征服埃及，並且被尼羅河流域的人民崇敬為法老後裔，當然也就合法繼承了法老之位；後來戰勝波斯的末代國王，終結了波斯帝國。」下列何者選項符合上文所述？(A)斯巴達男子成長歷程(B)偉大的英雄亞歷山大(C)腓尼基人對後代貢獻(D)揭開金字塔神秘面紗。(p.113)
34. 關於佛教發展的敘述，下列何者不正確？(A)阿育王死後，佛教在印度發展日漸式微(B)佛教傳播的地區主要是在東亞及東南亞一帶(C)阿育王時期曾派遣使者向外弘法(D)佛教完全接受婆羅門教，包含輪迴觀念與種姓制度。(p.107)

35. 下列何者與「資源稀少性」的概念無關？(A)相對於人類的慾望資源是有限的(B)地球上的資源總量不足以滿足人類慾望(C)人類追求慾望最大滿足，因此必須做出最佳的選擇(D)地球上的資源雖然豐富，但相對於人類慾望仍然不足(P169)
36. 俗諺有云：「有得必有失」、「天下沒有白吃的午餐」前述俗諺與下列何者經濟觀念最相關？(P171)  
(A)外部效益(B)外部成本(C)受益原則(D)機會成本
37. 美雅是大美百貨公司的常客，下圖是美雅為做出最佳選擇，而對各品項的喜愛程度及所需點數的分類表格。請問：若美雅使用已累積的100點兌換一個高級皮包，根據下表判斷，她做此選擇的機會成本為何？(P170+171)

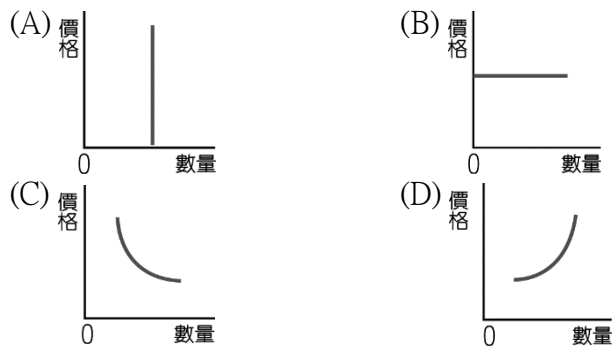
喜愛之排序	商品名稱	所需點數
1	高級皮包	100
2	瓷盤組	100
4	卡通地毯	100
3	室內芳香禮盒	100

- (A)高級皮包(B)瓷盤組(C)卡通地毯(D)室內芳香禮盒
38. 芊芊透過網路購買了一個滑鼠，到貨發現是一個故障的滑鼠，芊芊可以向以下那些機關、團體或公務員申訴，請選出以下選項中：完全正確的代號組別(甲)公平交易委員會(乙)消費者服務中心(丙)消費者保護官(丁)台灣消費者保護協會(P174+175)  
(A)甲乙丙(B)甲丙丁(C)甲乙丁(D)乙丙丁
39. 小新的購物習慣是凡是生活物品皆在網路上購買，請問：小新在網路上購買的以下商品中，何者無法受到《消費者保護法》規範的七日鑑賞期保障？  
(A)牛奶(B)潮牌褲子(C)原子筆(D)筆記本(P174)
40. 花媽平日是一位勤儉持家的家庭主婦，在決定購買任何東西時，總是在三比價後才做決定，因為她總說：「貨比三家不吃虧」。請問：影響花媽做出消費的最後決策因素為何？(P172)  
(A)預期心理(B)所得(C)商品價格(D)個人偏好
41. 大蒜價格飆新高，某政府機構表示將立案調查是否有聯合哄抬大蒜價格的情形，請問：此政府機構應為下列何者？(A)公平交易委員會(B)消費者文教基金會(C)行政院消費者保護處(D)消費者保護官(P175)
42. 下圖中的民亞總是選擇快關店的時候才買壽司，主要是受到下列哪一項因素的影響？(P173)  
(A)所得(B)個人偏好(C)流行(D)預期心理

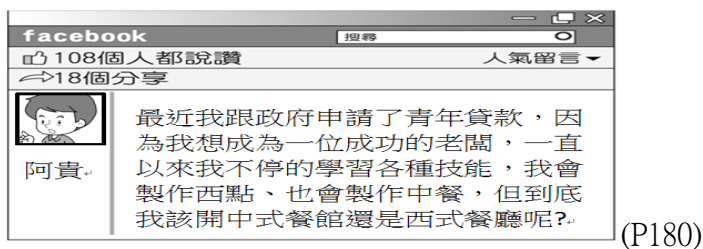


43. 美國可口可樂公司有鑑於現代人吹起減糖概念的飲食後導致銷售量無法再度增長，為刺激買氣近來推出咖啡口味的新產品，請問：可口可樂此舉是運用了以下何者生產要素？(P179)  
(A)自然資源(B)人力資源(C)資本(D)企業才能

44. 消費者在購買東西時，通常會根據商品價格的高低決定其需求量。請問：以下四個圖中，何者最能說明「需求法則」的概念?(P172)



45. 下列何者非屬「生產者」?(P179)  
 (A)自行開業的醫師(B)獨立經營咖啡廳的老闆(C)在大公司上班的工程師(D)大公司的董事長
46. 以下附圖中的阿貴正在思考哪一項生產課題?



- (A)生產什麼(B)為何生產(C)如何生產(D)為誰生產
47. 生產者追求最大的利潤，而增加利潤的方法有二：分別為增加銷貨收入或降低成本支出。請問：以上敘述中的「銷貨收入」要如何計算?(P181)  
 (A)利息x銷售量(B)生產成本x銷售量(C)產品價格X銷售量 (D)機會成本x銷售量
48. 小蘋因為開了一間花店，辭掉了原本一個月25,000元的工作，開店每個月須支付店租15,000元，此外她聘請了兩位店員，薪資皆為一個月25,000元，請問：若小蘋的花店的月銷貨收入為100,000元，在不計其他條件的情形下，她開的這間店的月利潤為多少?(P181+P183)  
 (A)10,000(B)20,000(C)30,000 (D)40,000
49. 在其他條件不變的情形下，當某產品的價格與數量呈現「同向」變動關係時，請問：此種同向變動關係最可能被經濟學稱為什麼?(P182)  
 (A)降低成本(B)機會成本(C)供給法則(D)需求法則
50. 下列何者屬於「為誰生產」的選擇課題？ (A)決定開冰品店或甜點店(B)可能銷售對象為學生或上班族(C)使用手工或電腦製作卡片(D)在土地上耕種或蓋工廠(P180)