

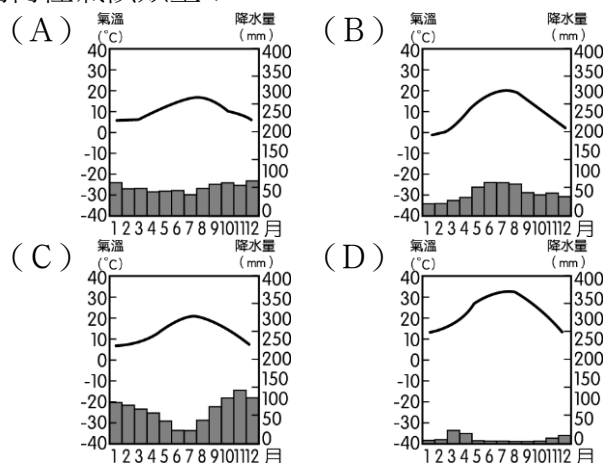
【讀卡科目請依規定畫卡，若有違反畫卡規定而影響讀卡作業之情事，一律扣總分五分。】

【手寫答案卷需確實寫上班級、座號、姓名，違者一律扣總分五分。】

【手寫答案卷需用藍色或黑色墨水筆書寫，違者一律扣總分五分，使用鉛筆書寫扣五分。】

一、選擇題

1. 曉綺計畫暑假到土耳其古老城市伊斯坦堡旅遊，當地地理位置優越，且連接歐亞兩大洲，也是黑海通往地中海航道的必經之地，曾經先後作為兩個大帝國的首都長達一千六百多年之久，城內有著拜占庭帝國所修築的古城牆，該地最可能屬於下列何種氣候類型？ P.51~61



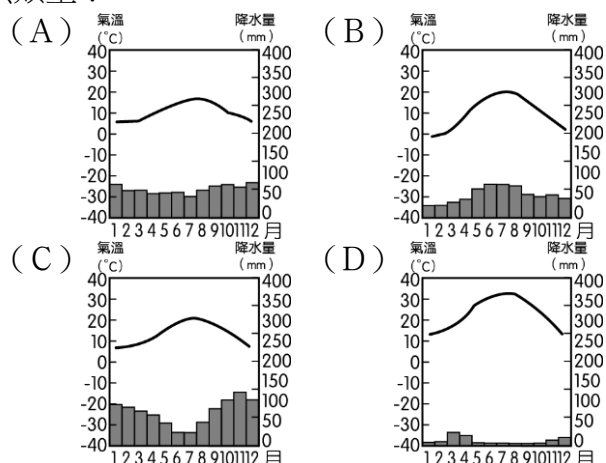
2. 西亞與北非的乾燥氣候面積相當廣大，主要是下列哪一項因素的關係所造成的？ (A) 副熱帶高氣壓籠罩 (B) 熱帶低氣壓籠罩 (C) 鋒面滯留 (D) 地處西風帶。 P.60~61

3. 《一千零一夜》是阿拉伯的文學名著，故事描寫的背景為伊拉克首都巴格達，其乃阿拉伯世界最古老的城市之一。閱讀《一千零一夜》有助於了解下列何處人民的社會生活？(A)甲 (B)乙 (C)丙 (D)丁。

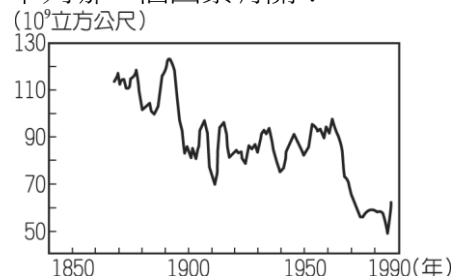


P.64

4. 沙烏地阿拉伯每人每天平均用水量約 280 公升，僅次於美國及加拿大，排名全球第三。該國政府為了提高淡水供應，大力推動海水淡化工程，而成為世界最大的海水淡化生產國。該國最可能屬於下列何種氣候類型？ P.61



5. 尼羅河對於埃及的發展影響相當深遠，附圖為尼羅河的水位測量圖。然而在 1960 年代後，該河川水位明顯出現變化，最可能和下列哪一個因素有關？



(A) 興建亞斯文高壩 (B) 闢建蘇伊士運河 (C) 大量栽種棉花 (D) 大規模開發觀光業。 P.62

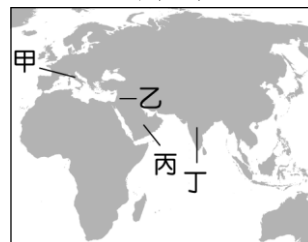
6. 「2015 年麥加聖城進行朝覲，但由於人潮眾多造成推擠，而在儀式進行時發生踩踏意外，造成約 2,300 名信徒死亡，死傷慘重。」上述新聞發生於附圖中②處，該處主要的信仰為下列何者？(A)佛教 (B)印度教 (C)伊斯蘭教 (D)基督宗教。P.64



7. 「這是耶穌傳教、犧牲、復活的聖城；也是穆罕默德登天聆聽真主阿拉祝福和啟示的地方；更是古代猶太王國的首都。這裡多次為了爭奪三大宗教聖地而發生戰爭。」若由圖(一)中資訊判斷，該城市最可能位於圖(二)中何處？



圖(一)



圖(二)

(A)甲 (B)乙 (C)丙 (D)丁。 P.70

8. 1990 年的波斯灣戰爭是伊拉克與科威特的衝突，導致西亞地區的緊張情勢。上述紛爭原因最可能為下列何者？(A)宗教信仰差異 (B)爭奪水資源 (C)爭奪石油資源 (D)占領交通要道。 P.72

9. 西亞的杜拜正積極發展觀光業活動，著名的帆船飯店吸引了全球消費者的目光。該地區發展觀光業最主要的目的是多元經濟發展，創造更高的經濟價值，該都市屬於下列何國？
(A)沙烏地阿拉伯 (B)伊朗 (C)伊拉克 (D)阿拉伯聯合大公國。 P.74~76

10. 2020年9月6日，亞洲一處發生規模5.1地震，深度僅10公里，其震央位置於附圖中★處。由於當地主要信仰伊斯蘭教，因此國際紅新月救難隊隨前往當地救援。根據統計，這場地震造成至少40棟建築受損，34人受到輕重傷，還有人被埋在瓦礫之下亟待救援。由上述內容與圖片可知，該震央的發生地點最可能為下列何者？



(A)德干高原 (B)阿拉伯高原 (C)青藏高原 (D)伊朗高原。 P.58、67

11. 隨著運輸技術的進步，人口的移動更為便捷，促使國際勞工遷徙日益頻繁。埃及可憑藉宗教文化類似和語言相同的優勢，大量輸出勞工至西亞，如果是搭郵輪到沙烏地阿拉伯聖城麥加會通過哪一個海域？(A)裏海 (B)紅海 (C)黑海 (D)波斯灣。 P.58

12. 以色列人（英語：Israelites）是指雅各的後代，根據《舊約聖經·創世記》記載，亞伯拉罕之嫡幼子以撒的次子原名雅各，後被神改名為以色列，雅各的後代子孫於是稱為以色列人，然而西元前2000年猶太人被驅逐出以色列流散在歐洲、北非和西亞地區，二次大戰後和巴勒斯坦不斷發生暴力衝突。下列對當地衝突原因的敘述何者正確？ (A)國際組織扶植兩個不同民族，爭奪政治勢力 (B)巴勒斯坦面臨印度洋，自古以來就是交通要衝 (C)石油資源爭奪衝突 (D)雙方信仰不同，爭奪聖地及土地引發了許多仇恨。 P.71

13. 以色列的生活方式受到自然環境的影響相當大，面積只有歐洲的1/500，且超過一半的土地盡是荒地沙漠，因此該國積極發展農業生產技術，克服大自然的挑戰，被譽為沙漠農業奇兵。該國「滴灌技術」獨步全球，直接把水和肥料送到植物根部，除了省水外，還可節省肥料。上述國家是何時降水量最少，因此需要該技術以彌補農作的水源短缺？
(A)春季 (B)夏季 (C)秋季 (D)冬季。 P.63

14. 圖中西亞與北非地區因為受到宗教信仰的影響，該地區女性穿著的傳統服裝有何特色？ (A)白色罩衫 (B)藍色牛仔褲 (C)貂皮大衣 (D)黑色罩袍。 P.66



15. 附圖是世界石油蘊藏量前十大國。請問：



圖中的產油國於下列哪一地區分布最多？ (A)南亞

(B)東亞 (C)東南亞 (D)西亞。 P.72

16. 到西亞旅遊的人，經常會購買當地的名產—椰棗。紅熟的椰棗可供食用，保鮮不易，大部分是以乾果進行買賣，只有在產地才吃得到新鮮的椰棗。椰棗果肉含糖量高，可作糧食、製糖或釀酒，籽可以榨油，堪稱「沙漠麵包」，更是西亞和北非國家重要的出口特產。椰棗果肉含糖量高主要是受下列何項因素影響？ (A)日照充足 (B)充足的灌溉水源 (C)氣候嚴寒 (D)多高原地形。 P.62

17. 摩洛哥在2020年通過了相關法律，將西撒哈拉的海域納入其海上的領土，讓這個衝突已久的區域再增添變數。若聯合國欲派遣專員前往當地進行了解，則其目的地應該為下列何者？(A)甲 (B)乙 (C)丙 (D)丁。 P.73

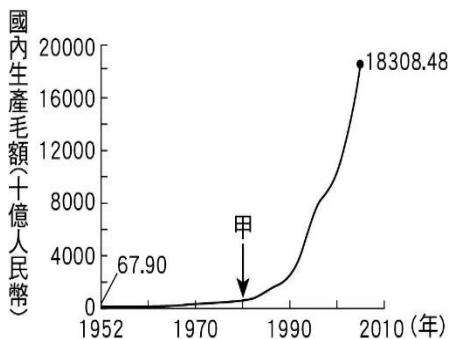


18. 1968年5月，法國數以千計的學生佔領巴黎大學許多校園，巴黎美術學院的學生，甚至搗毀校內供素描教學之用的石膏像，視為行為為破除傳統。請問上述巴黎學生的這些行為是在模仿中國哪個群體？(A)人民公社的農民 (B)大躍進的群眾 (C)文革時期的紅衛兵 (D)六四天安門的學生 (p.118)

19. 關於美國的B-52戰略轟炸機，我想起電影《光陰的故事》中，一幕1960年代臺灣家庭裡的客廳場景。電影中的電視畫面先是出現「披頭四」在日本東京武道演唱的新聞片段，下一則播報消息卻是美軍B-52針對越共進行轟炸的影像。可能連電影導演都沒有意識到的是，這座名為「同溫層堡壘」的轟炸機從沖繩基地起飛，中途停靠了臺中清泉崗基地，緊接著開往越南實施高密度的空襲。當時臺美聯合擴建而成的清泉崗基地，往北連結沖繩基地，往南連結菲律賓基地，使美國在東亞有了完整的空防體系。(節錄自：陳中勳《失落在膚色底下的歷史》)

請問：這段短文出現的日本、沖繩、臺灣、菲律賓等地，在冷戰時期的共同特徵是什麼？(A)不結盟運動的推動國 (B)東南亞國家協會會員國 (C)二元對立中共產體系一環 (D)亞太圍堵體系。(P.124)

20. 附圖呈現中國 1952 年至 2005 年國內生產毛額的數據資料。圖中曲線從甲處後有明顯變動的情況，最可能與下列何者有關？(A)實施改革開放政策，引進外來資金 (B)利用韓戰爆發契機，提高進口關稅 (C)發動文化大革命，進行全面的改造 (D)大躍進提倡生產，民眾盡全力煉鋼。(P.119)
21. 凱凱上網查詢 1960 年前後的中國史料，發現有很多的口號，都是在宣傳農產品大豐收的狀況。例如：「肥豬賽大象，就是鼻子短。全社殺一口，足夠吃半年」、「大煉鋼，大煉鋼，浮誇瞞報假文章」，請問這些口號應該出現在何時？(A)國共內戰 (B)文化大革命 (C)改革開放 (D)大躍進 (P.116)
22. 1950~1960 年代，聯合國與西方世界主要國家尚未承認中華人民共和國的政權。當時中華人民共和國在國際上主要的盟友是哪個國家？(A)越南，因為中越同為共產主義國家 (B)韓國，因為中韓尋求合作對抗日本 (C)蘇聯，因為中蘇聯盟一起對抗美國 (D)日本，因為中日均為亞洲主要國家。(P.117)
23. 文文在網路上搜尋越南歷史相關資料時，看到了一篇新聞報導，其部分內容如下→致命「橙劑」禍害千餘年：「美軍在西元 1962~1971 年戰爭期間，在越南噴灑超過 8000 萬公升的橙劑。橙劑含有致命化學物質，不但超過 300 多萬越南人出現身心疾病，他們的後代也出現身體畸形，四肢變形的現象。」請問：美軍使用橙劑的時代背景，與下列何者相關？(A)越南為了脫離法國殖民，請求美軍協助 (B)冷戰期間，美蘇二元對抗下的區域戰爭 (C)美國刻意制衡蘇聯，因此派軍占領越南 (D)冷戰期間，美軍阻止南越共產勢力擴張美國因國內對抗。(P.125)
24. 資料一：林毓生認為，新文化運動與文化大革命的特點，都是要對傳統觀念和傳統價值採取嫉惡如仇、全盤否定的立場。而且這兩次革命的產生，都是基於一種相同的預設，即：如果要進行意義深遠的政治和社會改革，基本前提是要先使人的價值和人的精神整體地改變。如果實現這樣的革命，就必須進一步徹底摒棄中國過去的傳統主流。
資料二：石仲泉指出，「文化大革命」時期發生的破四舊等運動，儘管與新文化運動中的現象有某種相似之處，但它既沒有那時的民主精神，也沒有那時的科學精神，而且整整十年都是對民主和科學的反動。因此，它沒有什麼思想解放可言，與新文化運動時期批孔引發的思想解放運動根本不能同日而語。
依據上述資料，請問下列何者正確？(A)林毓生認為兩次運動的價值與特性並不相同 (B)新文化運動與文化大

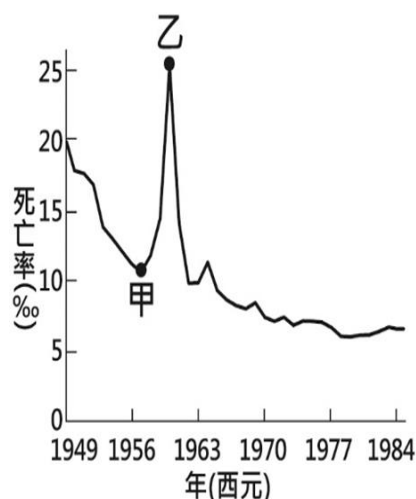


革命都試圖推翻中國傳統文化 (C)石仲泉認為兩次運動都是為了迎向科學與民主 (D)兩位學者都肯定新文化運動與文化大革命的正面意義。(p.118)

25. 勝勝閱讀某時期的國家文宣：「革命不是請客吃飯，不是做文章，不是繪畫繡花，不能那樣雅致，那樣從容不迫，文質彬彬，那樣溫良恭儉讓。革命是暴動，是一個階級推翻另一個階級的暴烈的行動」，勝勝依據歷史課所學習到的歷史背景，這段文宣最適合哪個國家？(A)法國 (B)德國 (C)美國 (D)中國。(P.116)
26. 請問關於右圖的訊息，下列何者有誤？(A)當時中國的領導人為毛澤東 (B)韓戰期間中國派出志願軍支援南韓作戰 (C)圖中的大手是為聯合國組織 (D)美國在韓戰期間派遣第七艦隊協防臺灣。(p.125)
27. (甲)民主萬歲，人民萬歲。(乙)革命無罪，造反有理，一反到底，就是勝利。(丙)三年超英，五年趕美。(丁)我愈戰愈強、敵愈戰愈弱。請依造上述口號，排放正確的時間順序。(A)甲乙丙丁 (B)乙丁甲丙 (C)丙甲丁乙 (D)丁丙乙甲。(P.121)
28. 「從形式來看，1989 年的『天安門事件』很像七十年前的『五四運動』，都是以北京為中心，然後擴向全國各大城市；也都是以北京為中心，然後吸引社會其他各階層參加。……事件的發生，是兩個因素的互動所致。一方面是(甲)的改革政策的內在矛盾；另一方面則是中共內部的繼承人問題，不同的繼承人對(乙)運動有不同的看法；有主張強硬鎮壓的，也有主張溫和互動的…」(節錄自陳永發《中國共產革命七十年》) 請問下列何者選項正確？(A)此事件造成階級鬥爭 (B)文中敘述的(甲)為鄧小平、(乙)為農工 (C)此運動是現代化民主改革的訴求 (D)展現經濟自由化的成果。(P.119)
29. 中國共產黨建黨後幾經波折，在剿共期間瀕臨滅黨、在抗戰期間迅速壯大，最後終於占領中國大陸，建立中華人民共和國。請問：有關中華人民共和國的敘述，何者錯誤？(A)建國後，由毛澤東擔任領導人 (B)建國後，實行共產黨一黨專政 (C)西元 1949 年 10 月 1 日，正式建國 (D)建國後，首都定於南京。(P.116)
30. 國共內戰期間，鄒滄萍在美國拿了兩個碩士學位。1951 年，他響應中共的號召，返國參加建設。可是他在美國辛苦學到的東西，在「新中國」根本派不上用場。他回憶說：「那時候中國在政治上是完全的『一邊倒』，連英文都沒有用都得學習俄文。回來以後我們都學了俄文，學得很快，能隨便看書。」請問：鄒滄萍歸國後的那年，有哪個生活經驗是他不會遇到的呢？(A)到天安門廣場參加開國大典 (B)《毛語錄》人手一本 (C)村莊空地出現了土高爐 (D)民間工商業收歸國有。(P.116)



31. 附圖是參考某段期間中國人口死亡率估算值而繪製的曲線圖，圖中乙的死亡率飆高，最可能與下列何者有關？(A)大躍進運動期間，政策失當所導致的嚴重饑荒 (B)人民響應抗美援朝，參與韓戰而造成傷亡慘重 (C)文化大革命時，紅衛兵鬥爭造成眾多人口死亡 (D)六四天安門事件爆發，政府鎮壓大量抗議群眾。(P.116)



32. 電影《活著》劇情如下：「為了破四舊，福貴不得不燒毀心愛的皮影戲道具，留下一只空箱子。……福貴的女兒鳳霞臨盆時，醫院遭到學生奪權，醫生們在『打倒學術權威』的口號下被清算，鳳霞因突然血崩卻無醫生施予急救而送命……。」這段情節的時空背景最可能是下列何者？(A) 1989 年天安門廣場的北京 (B) 1970 年文化大革命的陝西 (C) 西元 1961 年大躍進時期的河南 (D) 西元 1949 年中華人民建國定都的北京。(P.118)
33. 西元 1950 年代，中國政府為了提高農村勞動力，使得「人人有飯吃，人人有工作」，進而推行農業政策，卻使得農夫無論是勤勞或懶惰，都得到一樣的食物，最後有許多人是不願努力工作，導致全國性的大饑荒。請問當時實施的農業政策是？(A) 人民公社 (B) 土法煉鋼 (C) 土地歸公 (D) 公地放領。(P.116)
34. 多米諾骨牌理論（英語：domino theory）如下圖，是由美國政府於冷戰期間所提出的國際關係理論。美國總統艾森豪威爾提出：「你得考慮的更遠一點（局勢）可能會遵循所謂的『多米諾骨牌』原則。當你設置了一排多米諾骨牌，敲倒第一個多米諾骨牌，可以確定的是後面的骨牌會很快的一個接著一個倒下(赤化)。你得考慮到產生的最深遠的影響。」下列何者選項錯誤？



- (A) 臺灣、南越、南韓被蘇聯納為「試圖阻擋骨牌倒下的地區」 (B) 美國肩負反共使命創建東南亞公約組織 (C) 一開始推倒骨牌的是蘇聯 (D) 冷戰為二次大戰後，美蘇對峙的二元陣營。(P.124、127)
35. 15 歲的陳姓少年是一名國中生，某日到同學青鬆家裡打線上遊戲結束後，偷了青鬆爸爸的車鑰匙並騎車離開，一路闖紅燈並加速逃逸，警方追趕攔下陳姓少年後，將依法移送地方法院少年法庭。請問上述法律應為下列何者？(A)《兒童及少年福利與權益保障法》(B)《兒童及少年性剝削防治條例》(C)《少年事件處理法》(D)《勞動基準法》。(第 6 章)
36. 16 歲的嘉嘉，因為缺錢花用，看到路邊摩托車上掛著錢包，將錢包拿走，正巧遇到警方，當場人贓俱獲。帶回警局訊後移送少年法院審理後，嘉嘉「不可能」受到何

種處分？(A)可能會進入少年矯正學校接受感化教育 (B) 法官要求嘉嘉寫悔過書 (C) 假日時少年保護官要求嘉嘉向他報到 (D) 會處罰金 1,600 元。(第 6 章)

37. 電視新聞報導暑假期間，水水酒店為了招募新血以擴大酒店的客源，竟利誘女兒的同學小美（17 歲）到她店裡打工，從事鋼管豔舞表演。請問：水水酒店的行為觸犯下列哪項法律？(A)《刑法》(B)《少年事件處理法》(C)《兒童及少年福利與權益保障法》(D)《兒童及少年性剝削防治條例》。(第 6 章)
38. 浩浩在超商店門口看見一張《禁止販賣菸酒給未成年者》的告示。此告示的設置符合哪部法律的規定？(A)《兒童及少年福利與權益保障法》(B)《少年事件處理法》(C)《兒童及少年性剝削防治條例》(D)《勞動基準法》。(第 6 章)
39. 下列誰對行政訴訟的意義，敘述「不恰當」？(A)關關：只要人民覺得政府不當或違法，導致其權益受損，皆可行使權利救濟，替自己討回公道 (B) 軍軍：民眾只要不服警方開單，可立即提出行政訴訟 (C) 小勝：即使爭議糾紛對象是政府，也不要輕易讓自己的權利睡著了 (D) 小君：提出行政訴訟之前，必須先提訴願。(第 5 章)
40. 水果日報報導新北市土城區 14 歲王姓少年，涉嫌持藍波刀砍殺準備進校讀書的黃姓女童；黃童背部中刀，傷勢嚴重，王姓少年之行為屬情節重大，可能接受的處罰措施和敘述，下列何者「正確」？(A)屬於少年保護事件，應受保護管束處分 (B)屬於法令定義的曝險少年 (C)此法令的目的是處罰代替教育 (D)屬於少年刑事案件，應移送檢察官偵查、起訴，由少年法庭(院)法官審理判決。(第 6 章)
41. 少年事件處理法的保護處分與執行單位(者)，下列何者「錯誤」？(A)訓誡-少年保護官 (B)假日生活輔導-少年保護官 (C)保護管束-少年保護官 (D)感化教育-少年矯正學校。(第 6 章)
42. 就讀國二的林林看到同學新買的手機心生羨慕，於是利用同學下課不注意時趁機拿走同學的手機。經其他目擊者舉發後，林林被移送法辦。關於林林行為的敘述，下列何者「正確」？(A)此行為觸犯《少年事件處理法》(B)此行為屬於民事責任，只要賠償對方即可 (C)此行為屬於告訴乃論，可能受到保護處分 (D)此行為屬非告訴乃論，可以和對方和解。(第 6 章)
43. 住在新北市土城區的小吳想要在自家土地上蓋房屋，於是向新北市政府建管課申請建築執照，但建管課遲遲不核發建築執照。小吳認為建管課已經損及自己的權益，決定尋求合法的管道救濟。請問：小吳應該使用下列何種救濟管道？(A)向土城區公所先提出訴願 (B)向新北市政府先提出訴願 (C)向新北市政府建管課先提出訴願 (D)向行政法院先提出行政訴訟。(第 5 章)
44. 對於少年刑事案件的處理流程，下列何者是「正確」的？(A)年滿 12~18 歲且犯罪情節輕微→保護官起訴→少年法院(庭)審理→處以刑罰 (B)年滿 14~18 歲且犯罪情節重大→檢察官起訴→少年法院(庭)審理→處以刑罰 (C)年滿 18 歲且犯罪情節重大→保護官起訴→少年法院(庭)審理→處以保護處分 (D)未滿 14 歲且犯罪情節輕微→檢察官起訴→少年法院(庭)審理→處以刑罰。(第 6 章)
45. 關於少年保護事件的保護處分，下列組合何者「正確」

？(甲)犯罪情節輕微(乙)未滿14歲者，可以免除刑罰(丙)假日生活輔導與保護管束由少年保護官執行(丁)感化教育的場所是少年輔育院或少年矯正學校，是最輕的處罰方式(戊)安置輔導由安置機構執行，中小學校也可以為安置機構之一。

(A)甲乙丙(B)甲丙丁(C)乙丙戊(D)乙丁戊。(第6章)

46. 新北一間化學工廠因連續發生事故，遭環保局開出5張一百萬元的罰單，該化學工廠負責人如果認為此處不公平，先採取的權利救濟途徑應為下列何者？(A)民事訴訟(B)請願(C)訴願(D)行政訴訟。(第5章)
47. 新冠肺炎防疫期間，新北市衛生局發現有民眾在網路販售醫療用的口罩，而販賣醫療用品，必須取得藥商許可證，如果沒有取得許可販售，已經違反《藥事法》的規定，將處以三萬元以上，十五萬元以下罰鍰。請問：民眾所須負的法律責任與下列何者「相同」？(A)網路賣家遙遙拒絕退換售出的瑕疵商品。(B)白貓未依契約規定時間送貨到府。(C)歡聲唱KTV因消防檢查不合規定遭停止營業。(D)閃電俠在網路上公開謾罵他人。(第5章)
48. 電視新聞報導：「消費者保護團體主張，有不肖廠商為謀利而製造問題商品，且以不實廣告行銷宣傳，政府應加重對企業經營者的行政處罰。」請問：上述說法，應是指提高下列何種處罰標準？(A)徒刑期限。(B)賠償金額。(C)罰金額度。(D)罰鍰額度。(第5章)
49. 下列政府的措施中，屬於「行政處分」的選項，何者「完全正確」？甲.核發建築執照 乙.發放畢業證書 丙.徵收土地 丁.處以罰金 戊.勒令歇業 (A)甲乙丙丁戊 (B)甲乙丙丁 (C)甲乙丙戊 (D)只有戊。(第5章)
50. 絳王餐飲集團被爆麻辣鍋湯頭造假之後，旗下的「燒肉店」再被踢爆根本沒用法國松露製成的「塩之鑽」，該集團執行長接受該國衛生局訪談後，坦承所謂的製鹽工廠、湯頭工廠全是幌子副市長表示，不排除祭出最嚴重的停業或歇業處分。上述的處分屬於下列何者？(A)刑罰 (B)民事罰 (C)民事賠償 (D)行政罰。(第5章)