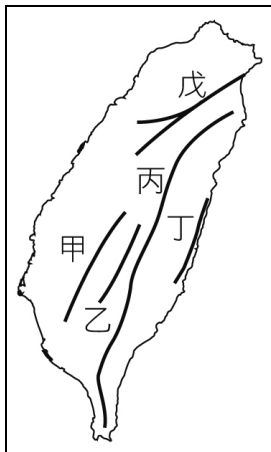


【讀卡科目請依規定畫卡，若有違反畫卡規定而影響讀卡作業之情事，一律扣總分五分。】
【手寫答案卷需確實寫上班級、座號、姓名，違者一律扣總分五分。】
【手寫答案卷需用藍色或黑色墨水筆書寫，違者一律扣總分五分，使用鉛筆書寫扣五分。】

選擇題

*圖（一）為臺灣五大山脈分布圖，請回答第 1~4 題



圖（一）

1. 「為了讓花蓮人有一條安全回家的路，政府積極推動蘇花改改善工程，在部分路段利用隧道貫穿山脈，下圖（二）為此計畫通車的期程」請問：此工程的隧道是貫穿哪一座山脈山脈的阻隔？p38
(A)甲 (B)乙 (C)丙 (D)丁。



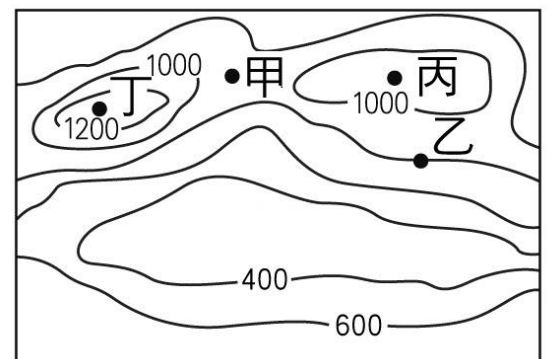
圖（二）

2. 小鈞進行單車環島之行，由新北出發繞行臺灣，騎經花東縱谷平原時，看見左右兩側皆有高山包夾。根據圖（一），當時花花左右兩邊分別是哪座山脈？p38
(A)乙 - 丙 (B)甲 - 乙 (C)丙 - 戊 (D)丙 - 丁。
3. Google於2016年3月17日宣布，即刻起可以透過Google街景服務平台觀賞台灣最高峰的壯麗景色。此服務透過Google街景服務團隊的操作員透過街景背包360度的環景技術所拍攝得來。請問：上文中提及操作員所攀登地點為哪一座？p38
(A)甲 (B)乙 (C)丙 (D)丁。
4. 抹茶山原名五峰旗山，在日本攝影師鏡頭下呈現美麗的山嵐；綠色的草浪如抹茶般綿密，小芳耗時3小時終於抵達！向東可坐擁蘭陽平原寬闊的視野。請問：抹茶山地理位置應位於哪一座山脈？p38
(A)甲 (B)戊 (C)丙 (D)丁。
5. 清朝學者姚瑩曾在台灣任官，在他的文章中記載：「道光三年七月，臺灣大風雨，鹿耳門外海沙驟長，變

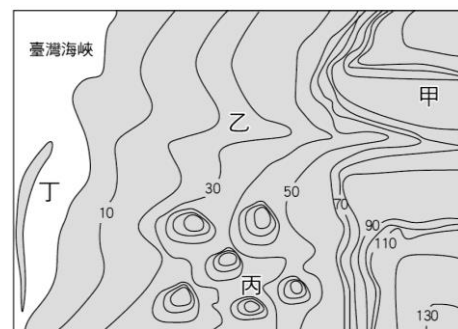
為陸地。」當時台江內海位於鹿耳門和西港仔之間的海域，短時間內被填平了。」造成上述現象的地形作用力，和何者成因最相似？p33

- (A)大屯火山的形成 (B)臺灣頻繁地震的成因 (C)臺灣島的形成 (D)雲林外傘頂洲的形成。
6. 在古代，由於沒有電話和無線電等通訊設備，烽火臺成為傳遞軍情的最好設施之一，傳遞的方法是白天燃煙，夜間舉火。為使軍情能快速傳遞，烽火臺通常設置在視野極佳的位置。圖（三）中甲、乙、丙、丁哪一地點最適合設置烽火臺？p35
(A)甲 (B)乙 (C)丙 (D)丁。

圖（三）



7. 承上題，除了傳遞軍情外，後援部隊亦須從鞍部通過以運所需糧草，若你是一位軍事將領，應從何處通行？p35
(A)甲(B)乙(C)丙(D)丁。※**鞍部：兩山之間的低淺處**
8. 「這片海域介於沙洲跟陸地之間，是早期居民從事海上活動的重要據點，有『台江內海』之稱。」圖（四）為臺灣某地區的等高線地形圖，請問圖中何處可以見到這種地形？(A)甲 (B)乙 (C)丙 (D)丁。P45



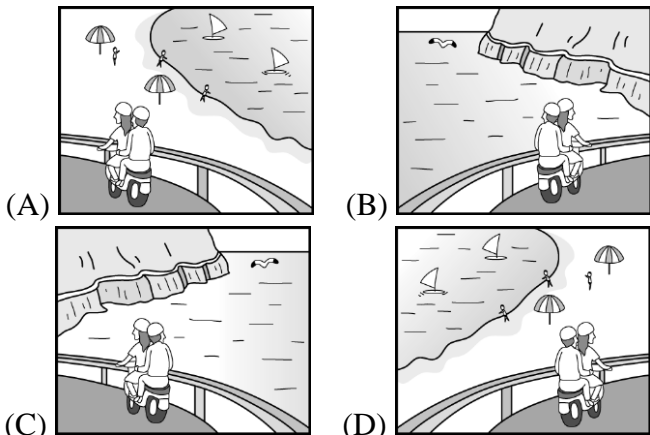
圖（四）

過年期間，小美跟著爸媽到臺南拜訪舅公，舅公熱情的招待，煮了一整桌的好菜，其中餐桌上的虱目魚，令小美念念不忘。吃完美食後，舅公帶大家來到海邊，感受南臺灣冬日陽光的美好。閱讀完上文後回答下列問題：

9. 小美來到海邊後，最有可能看到下列哪種海岸特色？p46
(A)水淺，多潟湖、海灘 (B)淺水礁岩，少汙染 (C)水深，魚群資源多 (D)斷層陷落，岩壁陡峭。
10. 早期居民會在沿海地區掘土作池，成為引水養魚的水產養殖場。請問：在此區的海岸線，當地居民最不可能進行哪種海岸利用？p47
(A)於岸邊沙灘開闢海水浴場 (B)開放遊客浮潛與欣賞珊瑚 (C)利用冬季少雨的日子晒鹽 (D)在沿海淺

灘之中架棚養蚵。


11. 小毅與同學一起騎車環島，打算從七星潭前進蘇澳，欣賞山與海的美景.沿途發現道路旁的海岸陡峭平直。請問：其景觀為下列何者？p47



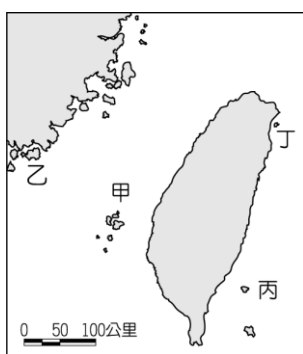
12. 國片《練習曲》是描述一名大學生由高雄出發，以逆時針方向騎單車環島的經驗，片中許多的景色充滿著濃濃的「在地味」，為臺灣電影走出另一個契機。請問：他會依序欣賞到哪些海岸景觀？p47

(甲)沙岸 (乙)珊瑚礁海岸 (丙)岬灣海岸 (丁)斷層海岸
(A)甲→乙→丁→丙 (B)甲→丙→丁→乙 (C)丙→乙→丁→甲 (D)丁→丙→甲→乙。

13. 地名常能反映當地的地形特色，例如:富貴角、三貂角、澳底等。依上述判斷，這些地名應位於臺灣哪一種海岸？p47



下圖（五）為臺灣的離島圖，請回答下列第 14 ~ 16 題



圖（五）

14. 自「小三通」後，觀光業者看好兩岸開放交流後，鄰近地區陸客的消費能力，因此在當地興建五星級飯店，還有大型免稅商店，可望帶動當地的經濟發展。請問：上述的離島最可能位於圖中何處？p48

(A)甲 (B)乙 (C)丙 (D)丁。

15. 下圖（六）為臺灣某離島極負盛名的石柱景觀，這種

岩石形成的原因，與下列哪座離島的成因「不同」？


(A)甲 (B)乙 (C)丙 (D)丁。P48



圖（六）

16. 該島居民於清朝中期從小琉球、東港移民而來，島上奇岩怪，有世界少有的海底溫泉（如圖），每到跨年可以邊泡湯邊觀看臺灣第一道曙光，請問：離島最可能位於圖中何處？p48

(A)甲 (B)乙 (C)丙 (D)丁。



17. 近年來海洋資源的開發備受各界重視，各國對於島嶼主權、經濟海域優先使用權的執行愈趨嚴格。報導指出，台灣對於□□仲裁案中，將太平島降格為太平『礁岩』無法接受，因為這樣的認定大幅地縮減了台灣在□□的經濟海域，明顯影響了台灣的權益。請問:上文□□中應填入何者最適當?p48

(A)東海 (B)南海 (C)黃海 (D)台灣海峽。

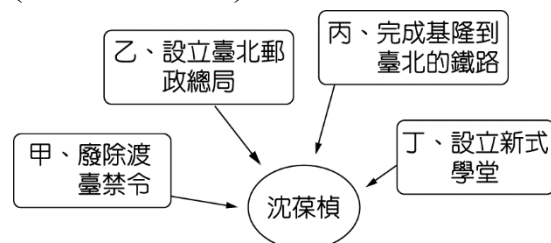
18. 1651 年，臺灣南部的漢人因甘蔗種植減少而謀生困難，加上不滿荷蘭的惡行，其中有位漢人領袖便密謀起事，而在 1652 年爆發抗荷起義。荷蘭人平息此反抗事件後，為加強對赤崁的控制，而興建堡壘作為據點，鞏固對南臺灣的經營。請問：上文中「荷蘭的惡行」為何？ (A)大量屠殺當地原住民 (B)強迫漢人改信天主教 (C)分給新港社民較少的土地 (D)對漢人管制嚴苛。(3-2 P.107)

19. 外來政權入侵時，一定會對原有族群造成衝擊。班上同學對 17 世紀的臺灣原住民做了一番整理。請問：哪一位同學整理的資料需要修改？丁典：當時有些原住民部落和外來政權合作，藉以提升自己的地位。霜華：郭懷一事件時，原住民袖手旁觀，並未介入。狄雲：有些原住民部落一直抗拒被外來政權統治，像是麻豆社。戚芳：當政權轉換時，原本歸順的原住民部落也會趁機反叛。(A)丁典 (B)霜華 (C)狄雲 (D)戚芳。(3-2 P.107-P.108)

20. 清廷收復臺灣後，朝中發生棄留臺灣的爭議。其中主張留下臺灣的官員所持最主要的理由為何？ (A)臺灣的土地肥沃，戰略價值高 (B)臺灣曾為荷蘭、鄭氏父子賺取極大的經濟利益 (C)臺灣自古以來就不斷有漢人移入，為了在臺漢人的生活所以必須設官管理 (D)眾多漢人移民臺灣，土地拓墾範圍大，可增加政府財政收入。(4-1 P.112)

21. 附圖是明豐在複習「沈葆楨」的政績時繪製的關係圖，

但內容卻錯誤百出，其中只有一個正確。請問：圖中何者屬於沈葆楨的政績？(A)甲 (B)乙 (C)丙 (D)丁。(4-2 P.118-P.119)



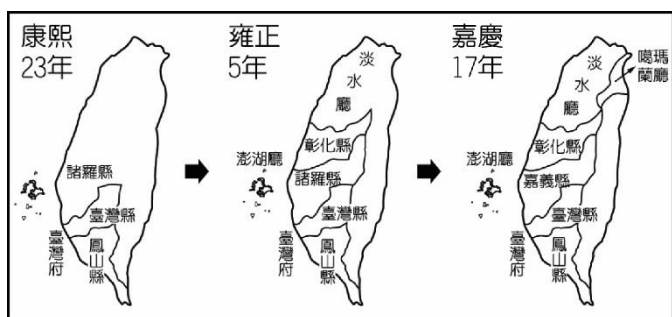
22. 關於馬賽人與外來者的貿易，下列敘述何者正確？

- (A)數千年來都積極與外來者接觸，進行交易
(B)屬於西拉雅族的支系，與荷蘭人關係良好
(C)扮演歐洲與亞洲貿易的中間人
(D)擅長漁獵、操舟，並通曉漢語、外語。(3-1 P.106)

23. 孝維研究 1640~1653 年「荷人在臺財務收支表」後發現，荷蘭聯合東印度公司在臺灣賺取了極大的利潤。請問：他們主要是將臺灣哪些商品外銷以賺取利潤？

- (A)茶葉、樟腦、蔗糖 (B)鹿皮、稻米、蔗糖 (C)黃金、香蕉、蔗糖 (D)豌豆、番茄、釋迦。(3-3 P.109)

24. 臺灣納入清帝國版圖後，行政區建置曾有變更，從康熙 23 年的一府三縣，演變成雍正 5 年的一府四縣二廳，到嘉慶 17 年的一府四縣三廳（如下圖）。請問這三個階段行政區變更的主要因素為何？



- (A)列強入侵，漢番衝突，海盜侵擾
(B)列強入侵，民變頻繁，漢番衝突
(C)漢人拓墾，民變頻繁，海盜侵擾
(D)漢人拓墾，漢番衝突，列強入侵。(4-1 P.114-P.115)

25. 臺灣在 17 世紀時有一個原住民部落聯盟，其勢力範圍主要在今日的臺中市、彰化縣和南投縣的一部分。當荷蘭人統治臺灣時，雙方爆發衝突，最後該組織妥協接受荷蘭人統治，因而失去獨立地位。到鄭氏時期，遭到鄭軍強力鎮壓，該組織逐漸式微，至 18 世紀已消失瓦解。請問：上文中提到的聯盟，其共主應該是下列何者？(A)大溪王 (B)大甲王 (C)大里王 (D)大肚王。(3-2 P.108)

26. 承上一題：如果該聯盟共主若接受荷蘭人統治，會在何種場合公開獲得權杖以象徵權威與榮耀？(A)教會禮拜 (B)地方會議 (C)荷蘭商館 (D)部落祭典。(3-2 P.107-108)

27. 下列表格是臺灣某一時期官方所設學校的教學情形：

……就學兒童的年齡從 10 歲到 13 歲，學校教授他們羅馬字的讀法及寫法，讓他們用羅馬字拼寫自己的語言（新港語等）；並主要傳授學生祈禱文、基督教教義以及教唱聖歌。在當時統轄下的新港社、麻豆社、蕭壠社等地都能看到這樣的學校。

這段話最有助於我們用來說明下列何者？(A)西班牙統治者在北臺灣宣教的内容與方式 (B)明鄭時期儒學教育在臺灣創建的原因始末 (C)荷蘭聯合東印度公司如何教導臺灣原住民 (D)清末臺灣的西學堂如何培養新式人才。(3-3 P.109)

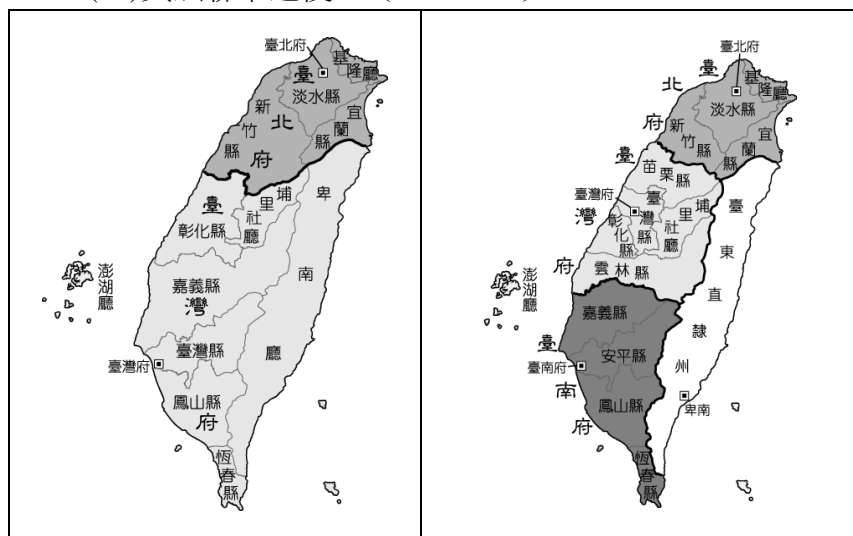
28. 易成在圖書館查詢資料時，發現一幅描繪 17 世紀臺灣原住民使用火槍狩獵的圖（如下附圖）。請問：圖中原住民使用的槍枝主要來源最可能為何？(A)自行發明與製造 (B)劫掠中國沿海所得 (C)美國傳教士贈送 (D)與中國、日本海商貿易取得。(3-1 P.106)



29. 17 世紀西拉雅族規模最大的部落，遭到軍隊強力鎮壓後，與荷蘭人簽署條約如下表。請問：該部落當時主要分布地位於今日臺南市的哪一區？(A)麻豆區 (B)佳里區 (C)新市區 (D)善化區。(3-2 P.107)

1. 該社原住民不再對抗荷蘭人及其盟友。
2. 作戰時要與荷蘭人並肩作戰。
3. 不得干擾收購鹿皮的中國人，並且讓他們自由通行。
4. 部落長老若被召喚，須至熱蘭遮城聆聽長官的政策。

30. 圖(一)與圖(二)是臺灣在清領時期的行政區劃演變圖。請問：由圖(一)演變為圖(二)的過程中，曾發生哪一場戰爭？(A)日軍犯臺 (B)清法戰爭 (C)甲午戰爭 (D)英法聯軍之役。(4-2 P.118)



▲圖(一)

▲圖(二)

31. 梅花鹿對臺灣原住民的生活非常重要，除了能作為食物之外，鹿皮能作為衣物，鹿角可作為信物，日常生活所需，都可自梅花鹿上取得。請問：梅花鹿因荷蘭時代出口需要使數量銳減，這對原住民的經濟、文化可能會造成什麼影響？

(A)原住民為此發起郭懷一事件
(B)原住民改以耕牛進行拓墾
(C)原住民減少狩獵，以耕種為務
(D)原住民遷往西部沿海平原，改以漁業發展。(3-3 P.109)

32. 伊芳是生活在清帝國早期的臺灣女子，當她父母親想將她出嫁的消息一出，來求親的男子高達數十人，因為當時臺灣社會有女少男多的現象。請問：造成此一現象的主要原因為何？(A)清廷畫界封山 (B)受渡臺禁令的影響 (C)清廷頒布海禁政策 (D)臺灣婦女普遍晚婚。(4-1 P.113)

33. 大雄是個生活在嘉慶年間努力賺錢打拼養活妻小的福建人。(甲)他想到臺灣打拼卻無法攜帶妻兒，忍痛將妻兒託給鄰人照顧後，隻身前往臺灣，(乙)遇上無良中間人差點溺死在臺灣海峽。好不容易自行脫困游上岸卻捲入(丙)朱一貴事件，被官府逮捕入獄，還好發現是誤會一場而被釋放，(丁)大雄最後與同鄉一起開墾今天蘭陽平原地區。以上是某一歷史小說內容，其中大雄的哪一遭遇不符合史實？(A)甲 (B)乙 (C)丙 (D)丁。(4-1 P.113-P.114)

34. 從經濟發展的角度看臺灣史，從17世紀以來到1895年以前，臺灣歷經了荷治、鄭氏、清帝國三個時期，期間除了清初海禁，使臺灣與中國大陸的貿易受影響外，中國大陸一直是臺灣主要的貿易對象。但在哪一事件之後，臺灣的貿易對象，由中國大陸擴大到歐美國家？(A)英法聯軍之役 (B)清法戰爭 (C)甲午戰爭 (D)牡丹社事件。(4-2 P.116)

※2019/04/04炭治郎全家參加了一場婚禮，婚禮的主角是爸爸炭十郎的弟弟迎娶了美嬌娘！請回答下列35~41題：

35. 請問，炭治郎要稱呼新郎為什麼？(A)舅舅 (B)伯父 (C)叔叔 (D)表哥。(Ch3)
36. 媽媽葵枝與迎娶進來的新娘是何種親屬關係？(A)妯娌 (B)小姑 (C)連襟 (D)親家。(Ch3)
37. 人們常說：「婚姻不只是兩個人的事，而是兩個家庭的事。」婚禮當天，來了許多親戚。請問，下列何人與炭治郎之間是姻親關係？(A)堂姊 (B)表妹 (C)姑姑 (D)伯母。(Ch3)
38. 妹妹禰豆子受邀成為伴娘，請問炭治郎與禰豆子之間的親屬關係為何？(A)直系血親 (B)姻親 (C)配偶 (D)旁系血親。(Ch3)
39. 未婚的炭治郎家裡的成員有----父親：炭十郎，母親：葵枝，正在就學的弟弟：竹雄、茂、六太，正在就學的妹妹：禰豆子、花子。請問，他們家的家庭型態為下列何者？(A)頂客家庭 (B)小家庭 (C)大家庭 (D)折衷家庭。(Ch3)
40. 婚後有一天，這對夫妻兩人出現了以下對話，其中太太所指的「法律」，應是下列何者？

我媽媽要妳把薪水都交給我，因為家裡的錢應該由先生管理。

我不同意，而且在法律上，這是我的權益。



(A)《民法》 (B)《性別工作平等法》 (C)《性別平等教育法》 (D)《家庭暴力防治法》。(Ch4)

41. 2020/04/04 這對新人結婚滿一週年的同時，也迎接了新生命的到來，為了能陪孩子成長，小嬰兒的媽媽便向公司申請育嬰假，留職停薪。請問：上述發揮了哪些家庭的功能？(A)生育、經濟功能 (B)生育、保護與照顧功能 (C)經濟、保護與照顧功能 (D)經濟、教育功能。(Ch3)
42. 一名父親在酒醉之後，因不耐一歲多的兒子哭鬧不休，而對其母子拳打腳踢，鄰居獲知後立即報警處理。請問：若父母疏於照顧子女，或對子女不當管教，下列哪個機構可以依法宣告停止父母對子女行使親權？(A)警察局 (B)地方政府 (C)社會局 (D)地方法院。(Ch4)
43. 上述案例中，這對母子受害者可以依照什麼法來保護自己？(A)《民法》 (B)《性別工作平等法》 (C)《刑法》(D)《家庭暴力防治法》。(Ch4)
44. 我國離婚率居高不下，夫妻的離婚決定也影響了子女的權益與心理成長。依我國法律的規定，下列有關夫妻離婚的敘述何者「正確」？(A)子女的親權歸屬先由雙方協議決定 (B)子女的親權依夫妻的最佳利益決定 (C)夫妻婚後共同財產歸有工作收入的一方所有 (D)子女的親權歸屬無須考量未成年子女的意願。(Ch4)
45. 如下圖所示，幾位好友利用 Line 通訊軟體分享近況，談話內容中呈現的多種家庭生活模式，關於他們正在聊天的內容，何者敘述「錯誤」？(Ch3.Ch4)



- (A)佳蓉所形容朋友家的家庭型態是兩地家庭
(B)哲茵家的家庭型態是隔代教養家庭
(C)建智從屏東漂到新北市工作後，他們家的家庭型態是單親家庭
(D)他們對話的共同背景是工作環境的轉變。

46. 下圖是某商品的廣告情節，廠商藉由甲、乙二人的對話，凸顯該商品量販包的上市，讓大量採購該商品的民眾更加便利。若甲所提及親屬皆是自己的家人，依圖中訊息判斷，則下列關於甲家中五人的敘述何者「正確」？(Ch3)



- (A)甲的奶奶與媽媽是姻親關係
(B)甲的媽媽與哥哥是旁系血親關係
(C)甲的哥哥與奶奶是旁系血親關係
(D)甲的爸爸與媽媽是姻親關係
47. 台灣掀起一股「超級奶爸」風氣，愈來愈多爸爸，一改過去的大男人作風，跟著照顧小孩，許多教室還找來講師，幫這群新奶爸上課(如右圖)。請問：以往大家對爸爸的印象，多認為有大男人作風，這屬於下列何種觀念？

超級奶爸教室

• 面對育嬰懷孕後的改變你感到措手不及嗎？
• 家務瑣事與照顧，爸爸可以發揮新角色與協助。
• 幫助懷孕期間的爸爸和剛降臨小孩，爸爸能學習照顧和面對剛降臨小孩有不好的影響嗎？

歡迎您與我們一起來探索了解，爸爸和孕妻相處的樂趣和太太與寶貴，讓您成為寶貴的紳士朋友！

活動地點
臺北市立聯合醫院和平婦幼院區二樓8樓
(臺北市中正區廣州街12號)

參加對象
本市(市)爸爸、新手父母，每場30人。

日期	時間	課程/活動名稱	主講者
108年8月17日 (星期六)	9:30-12:00	生產旅程-需要你(爸比)	張馨月 護理長
	13:00-15:00	爸比抱我看書-親子共讀	陳育達 醫師
	15:10-17:10	雙薪家庭新選擇！我要成為全職奶爸	林從毅 奶爸 新心運動發起人
108年8月31日 (星期六)	9:30-10:45	愛寶貝-從「愛」開始	廖秀合 護理師
	10:50-12:00	超級奶爸-溝通與奶爸是愛	高淑曾 護理長

- (A)性別歧視 (B)性別刻板印象 (C)性別平等 (D)性別差異。(Ch4)
48. (承上題)換尿布、親子共讀已不再是媽媽的專職，因為爸爸也突破傳統，開始加入育兒行列，這樣的風潮有助於推動下列何種理念？ (A)社會正義 (B)公民參與 (C)多元文化 (D)性別平權。(Ch4)
49. 俗話說「家有一老，如有一寶」。下列是班上四位同學發表關於老人照顧方面的意見，其中哪一位同學的意見較「不正確」？(Ch4)
- (A) 竈門炭治郎：政府可以鼓勵三代同堂的家庭優先承租國宅
- (B) 我妻善逸：目前我國社會以小家庭為主，能兼顧家庭老人照顧功能
- (C) 嘴平伊之助：各地方政府可設立完善的老人安養中心
- (D)富岡義勇：政府目前已在推動長期照顧十年計畫，減輕家庭經濟負擔。
50. 澎湖縣2019年有多達4所國小，只有一位學生畢業，還有一所甚至畢業生掛零，但師長頭痛的問題，在畢業生看來倒是意外收穫，因為該生一人獨得多達20個獎項。請問，學校裡的學生人數愈來愈少，是起因於現代家庭面臨的哪一項問題？(A)隔代教養問題 (B)人口老化問題 (C)少子化問題 (D)家庭暴力問題。(Ch4)