

【讀卡科目請依規定畫卡，若有違反畫卡規定而影響讀卡作業之情事，一律扣總分五分。】

【手寫答案卷需確實寫上班級、座號、姓名，違者一律扣總分五分。】

【手寫答案卷需用藍色或黑色墨水筆書寫，違者一律扣總分五分，使用鉛筆書寫扣五分。】

一、 選擇題：每題2分

1. 中國古詩詞中常有「滾滾長江東逝水」、「恰似一江春水向東流」等描述，此種河川流向和下列哪一項因素關係最密切？（P9）

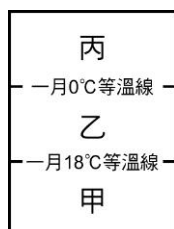
(A) 地勢北高南低(B)地形複雜(C)山多平原少(D)地勢東傾。

2. 地理老師請同學針對中國的位置做說明。請找出下列敘述錯誤的選項？（P9）

(A)「就絕對位置而言，中國大部分位居中緯度。」
(B)「中國位居太平洋東側。」
(C)「中國西北深入歐亞大陸。」
(D)「中國地處面海背陸。」。

3. 下圖是中國東半部季風氣候分區示意圖。請問：圖中甲、乙、丙依序代表哪些氣候類型？

(A)寒帶、溫帶、熱帶
(B)溫帶、副熱帶、熱帶
(C)熱帶、溫帶、寒帶
(D)熱帶、副熱帶、溫帶（P13）



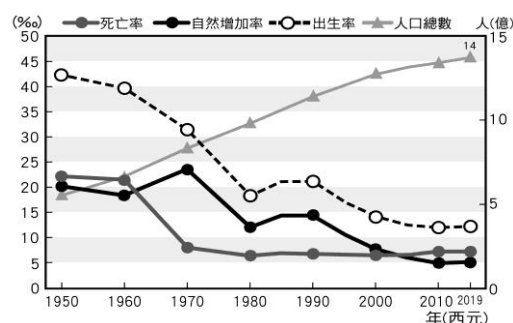
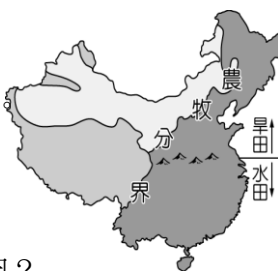
4. 中國行政區，會因其特色或需要而給予不同的名稱。下列敘述何者錯誤？（P8）

(A)共有二十二個省
(B)為保留其特殊文化，有五個自治區
(C)設有四個直轄市：北京、天津、上海、澳門
(D)特殊殖民背景屬特別行政區。

5. 下圖為中國境內農業及牧業活動分布區，請問圖中主要農業區又可分為水田與旱田區，其分界線最主要為下列何者？（P14）

(A)年雨量 750mm(B)七月均溫 0℃
(C)年雨量 500mm(D)一月均溫 10℃

6. 下圖為中國歷年人口統計資料圖。由圖中可知，中國目前的人口成長已呈現趨緩，請問下列何者是造成上述現象的主因？

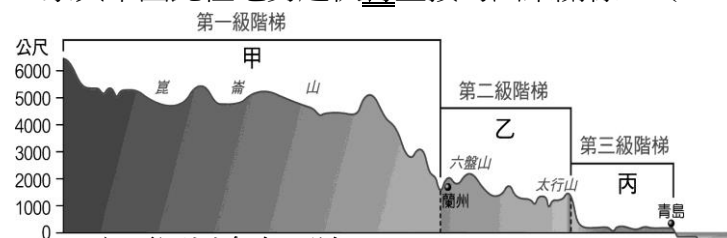


(A)出生率較高 (B)人口總數較多
(C)死亡率提高 (D)出生率下降。（P19）

7. 乾燥氣候依程度不同分為草原氣候及沙漠氣候。請問：這樣的分法係依據何種指標？（A）年降水量（B）最冷月均溫（C）年溫差（D）最暖月均溫。（P13）

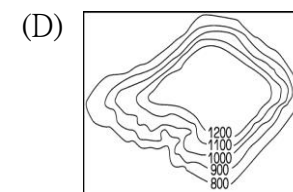
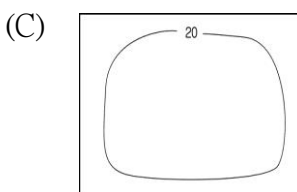
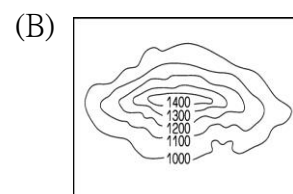
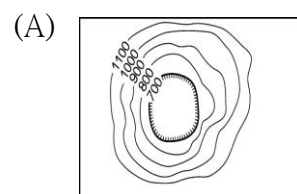
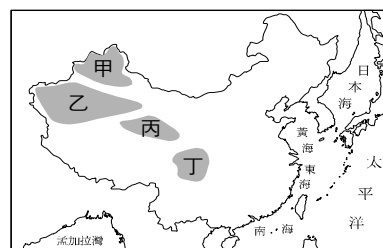
8. 中國人口大多集中於東半部，西半部的人口稀少，下列何者不是造成西半部人口稀少的主要原因？（A）地形崎嶇（B）氣候乾燥（C）環境負載力低（D）土地狹小（P20）

9. 根據中國三級地形階梯示意圖。請問：下列哪種地理現象與中國此種地勢起伏有直接的因果關係？（P10）



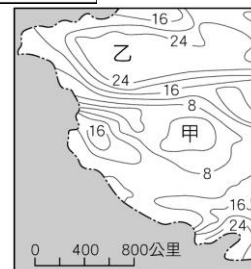
(A)主要河川多向西流
(B)海洋氣流更能向西深入內陸
(C)冬季南北溫差大
(D)冬、夏兩季的風向會相反。

10. 下圖為中國某種主要地形分布圖，依其分布位置，判斷屬於下列哪種等高線地形圖所表示的地形？（P11）



11. 右圖為中國內陸夏季氣溫分布圖。請問造成甲地區氣溫低於乙地區氣溫的主要原因為下列何項？

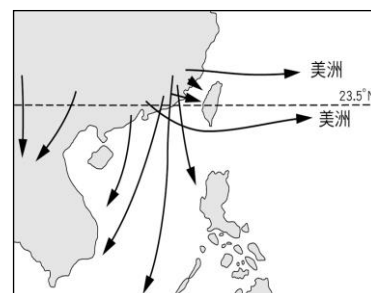
(A)緯度高 (B)地勢高
(C)季風強 (D)距海遠。（P12）



12. 近年來中國農、牧業已從傳統的自給自足轉變為以商業性為主。為使專業化生產的農、牧產品，能更有效率的輸送至各地，並降低成本，下列哪一個配套措施更顯得重要？（A）灌溉設施完善（B）改良農業技術
(C)改善交通系統（D）增加勞力密集。（P22）

13. 下圖為中國東南沿海簡圖，圖中箭頭表示中國某現象的移動。依據下圖所顯示的特徵，其最可能是在表現下列哪一種因子的移動現象？

(A)文化擴散（B）農產品銷售
(C)礦物原料（D）工業產品。（P25）



14. 下表為內蒙古高原東西部的比較。請問：下列哪一項資料有誤？ (A)甲 (B)乙 (C)丙 (D)丁。(P15)

內蒙古高原	西部	東部
(甲)距海遠近	較遠	較近
(乙)降水量	較少	較多
(丙)畜牧方式	逐水草而居	放牧
(丁)飼養牲畜	馬、牛	綿羊、山羊

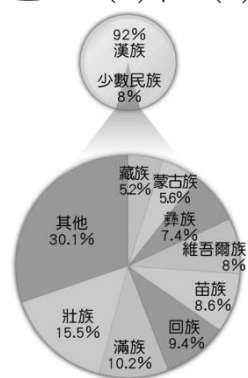
15. 下列四位同學對中國地形的描述，其中哪位同學說錯了？ (P10)

- (A)可羅：「青藏高原平均海拔高度在4,000公尺以上，有世界屋脊之稱」
(B)美美：「黃土高原由風力堆積而成，易受流水侵蝕，地表千溝萬壑」
(C)英一：「四川盆地為中國最大的盆地，其中塔克拉瑪干沙漠是中國第一大沙漠。」
(D)冬冬：「東南丘陵的梯田景觀美不勝收」。

16. 北宋文學家范仲淹曾在《岳陽樓記》中描寫洞庭湖：「銜遠山，吞長江，浩浩湯湯，橫無際涯。」可知當時的洞庭湖湖面廣闊，令人讚嘆；然而今日的洞庭湖面積大幅縮小，已不見往昔面貌。請問：造成洞庭湖面積大減的主要原因，除了泥沙淤積的自然因素之外，還與下列何者關係密切？ (P23)

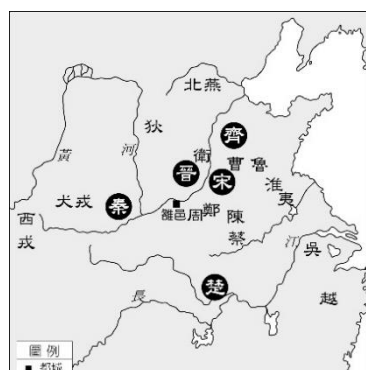
- (A)開發河套平原(B)圍湖造田(C)氣候變遷(D)過度放牧。

17. 左圖為中國少數民族比例圖。從圖中可看出，少數民族中以壯族人口數最多，其主要分布在右圖中哪一個行政區？ (A)甲 (B)戊 (C)丁 (D)丙。(P21)

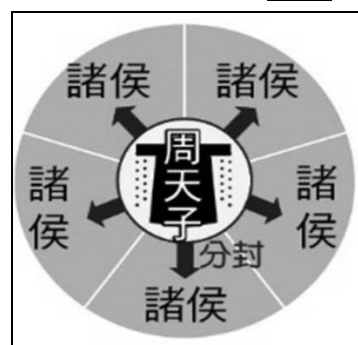


18. 簡大華在上歷史課時要上臺報告周朝的政治與社會變遷。他製作了兩張圖片來講解周朝歷史的演變過程，如下圖所示。請問關於從左圖轉變至右圖的原因，簡大華最有可能如何解釋比較適當？(p76)

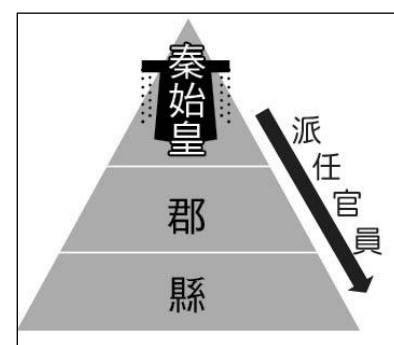
- (A)犬戎入侵，西周滅亡 (B)封建鬆動，改行郡縣 (C)齊國稱霸，王室衰敗 (D)武王滅周，天下大亂。



19. 詹小婷在圖書館時看到一本史書記載：管仲曾對齊桓公說：「戎狄等外族之心，就像豺狼那樣的野獸，不可能得到滿足；諸夏之國，皆親近之人，不可遺棄他們；安逸就像毒藥一樣，不可以留戀。」請問依據你對於上述這段史實的認知，齊桓公在聽完管仲的建議後採取了什麼樣的措施來應對？ (A)號召各地諸侯開始在邊境築起長城，以防止外族入侵 (B)號召各地諸侯籌措龐大經費，向外族納貢換取和平 (C)號召各地諸侯尊周王為共主，共同抵禦外族入侵 (D)號召各地諸侯選出優秀的貴族子女，和外族通婚。(p77)
20. 請觀察圖1到圖2，下列對於中國這兩個政治制度的分析，何者的論述是錯誤的？(p76,77)



▲圖1



▲圖2

- (A)圖1是指周代的封建制度，圖2則是指秦代的郡縣制度 (B)圖1周代封建制度的缺點是缺乏宗室的屏障，比較無法保衛王室 (C)圖1的制度後來由於周天子的勢力衰微，造成東周春秋戰國時代的混亂局面 (D)圖2秦代郡縣長官由中央任命，可以達到中央集權的目的。

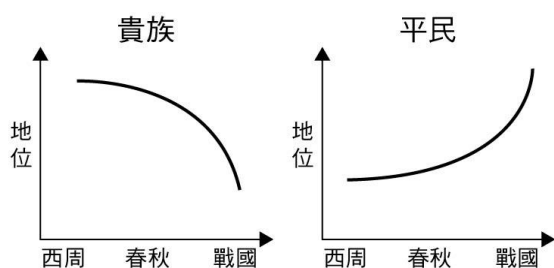
21. 在歷史課時，老師正帶領同學們解讀一份秦代的史料：「某里的無爵平民甲：家屋一棟二室……；妻某在逃，不予查封；成年女兒某，未婚；未成年男子某，身高六尺五寸；奴婢：未成年女子某；雄犬一隻。」請問下列關於上述資料的描述，何者敘述錯誤？(p77)

- (A)秦國實施此一戶籍制度是從商鞅變法改革後開始實施 (B)從上述史料文字的描述，我們可以看出當時秦代政府相當重視戶籍管理 (C)秦代政府調查戶口用以徵稅與徵兵，並加強對人民的控制 (D)秦代政府也針對每戶人口的年齡實施義務教育。

22. 邱小紬有一天在閱讀學生聯絡簿上的文章時，上面寫著：東周春秋時期的孔子，曾經在回答學生的問題時說：「克己復禮為仁。一日克己復禮，天下歸仁焉。」其大意指是：只要能克制自己的私欲，使言行舉止合乎禮節，就是實踐仁道的善政。由這點來看，孔子其實是希望社會上能恢復周朝固有的哪一種制度？(p76) (A)禮樂制度 (B)郡縣制度 (C)推舉孝子廉吏 (D)九品官人之法。

23. 秦始皇嬴政結束了春秋戰國以來諸侯割據混戰的局面，建立了中國歷史上第一個統一的王朝。請問下列關於秦始皇對中國歷史的影響，何者敘述正確？(甲)創立「皇帝」做為君主的稱號(乙)統一天下後，實行封建制度(丙)統一語言、貨幣(丁)統一車軌、度量衡 (A)甲乙丁 (B)甲丁 (C)乙丙丁 (D)甲丙丁。(p77)

24. 許小茵到學校圖書館翻閱歷史類書籍時，看到一個圖表如下圖所示。請問根據下圖，從西周到戰國時期，貴族和平民地位曲線的變化，是下列何種因素所造成的？(p78)



- (A) 郡縣制度的推行 (B) 科舉制度的實施 (C) 春秋戰國時代各國國君強調「用人唯才」 (D) 春秋戰國時代戰爭多而貴族負責作戰，導致許多貴族在戰場上陣亡。
25. 小琳老師在上表藝課時，請班上學生們分組構想一齣橫跨多朝代歷史的時代劇，下列是某一組學生上台表演的部分臺詞：
- ◎蔡小恩：「我對我的父母親非常孝順，因此地方官員推薦我至中央朝廷任官。」
- ◎李阿帆：「評選的官員都是世族，我是寒門出身，始終為下品，無法出頭天呀。」
- ◎李阿柔：「因為國君用人唯才，身為平民的我有機會當官了。」
- ◎潘小蓁：「我多年苦讀，終於通過科舉考試光宗耀祖了。」
- ◎呂大焄：「我是一般的平民，在我這個時代當中，我沒有受教育的機會。」
- 請問根據上面五位學生的表演臺詞來判斷，哪一位學生所處的時代最早？另外哪一位學生所處的時代最晚？
- (A) 最早：蔡小恩，最晚：李阿帆 (B) 最早：呂大焄，最晚：李阿柔 (C) 最早：李阿柔，最晚：潘小蓁 (D) 最早：呂大焄，最晚：潘小蓁。(p78,79)
26. 黃阿郡是漢武帝時期的士人，他曾在中央設立的學校求學，之後順利進入朝廷任官。請問下列何者最不可能是在黃阿郡的生活經歷？(p78)
- (A) 他曾在中央設立的太學求學 (B) 他研讀當時主流的墨家思想 (C) 他因孝子及廉能的名義被推舉到中央當官 (D) 他後來成為博士專講授儒家經典。
27. 鄧小愛在暑假時參加了中正國中考察團，前往中國長江流域進行歷史古蹟勘察，到達一個素有「六朝古都」之稱的城市，還發現孫吳與東晉時期的部分建築物仍然屹立於此。請問鄧小愛他們來到了哪一個城市？(A) 北京 (B) 西安 (C) 南京 (D) 洛陽。(p81)
28. 陳大傑下載了一個以墓穴探險解謎的動作遊戲，遊戲中陳大傑將扮演考古隊中的專業人士，帶領考古隊前往中國各地墓穴挖掘寶藏，並且解讀墓穴中的文物。在新手教學中，陳大傑成功克服墓穴中的種種機關，拿到了一個重要的破關道具：墓穴主人的日記。此破關道具欄中說明，該日記為鮮卑文寫成，但因為歲月久遠的關係已經破舊不堪，目前解讀的內容只有：「……我堂堂獨孤家的子孫，竟要被昏庸的君主強迫改成姓劉…但太子洵

已被處死，目前也只能忍耐，等待時機……為確保安全，還是不去新都洛陽，留在舊都平城再做打算……」請問根據上面日記內容的描述，下列的敘述何者錯誤？

- (A) 根據此墓穴主人日記的內容，這個墓穴主人很有可能是魏晉南北朝中北魏的人 (B) 根據此日記的內容，這個墓穴主人的君主很有可能在推行漢化政策 (C) 根據此日記的內容，這個墓穴主人的君主很有可能會鼓勵他和漢人通婚 (D) 根據此日記的內容，這個墓穴主人的君主很有可能是漢武帝。(p81)
29. 張阿喬很喜歡聽知名歌手梁靜茹所唱的流行歌曲「絲路」，而此歌曲所唱的「絲路」起源於漢代，從中國出發，途經中亞，最終到達大秦(羅馬帝國)，這條道路是古代中西交流相當重要的一條路徑。請問下列有關於「絲路」的敘述，何者正確？(A) 這條道路最開始開通於魏晉南北朝時期 (B) 因為漢武帝派遣張騫出使西域，因而打通了「絲路」 (C) 「絲路」之所以會出現是因為漢朝想聯絡匈奴共同抵抗西域國家 (D) 基督教及西域的音樂、繪畫、雜技等都是透過「絲路」傳入漢朝。(p80)
30. 藍小瑄有一天在家上 GOOGLE 網站時打了「游牧民族」的關鍵字來搜尋，結果查到以下的資料：「自商周以來，中國北方的游牧民族是以逐水草而居的游牧維生，但游牧經濟收穫相當不穩定，為獲得如紡織品、糧食、金屬品、工藝品等生活物資，游牧民族會與農業民族透過貿易方式來進行交換，倘若貿易受阻也會採取對農業民族掠奪的方式來取得生活物資。」而下列四點是根據上面資料的敘述：
- (甲) 自戰國末年開始，黃河流域的農業民族修築城牆，以抵禦北方游牧民族的入侵；
- (乙) 秦始皇滅六國後，修築萬里長城來防禦北方匈奴的入侵；
- (丙) 因為漢代至始至終國力都很弱，所以對匈奴都採取和親與貿易的手段來換取和平；
- (丁) 東漢以後，匈奴等胡人持續遷居黃河流域，生活方式差異造成胡、漢經常發生衝突，西晉末年發生「犬戎之禍」，造成晉朝失去北方大量的領土。
- 請問上面哪些敘述是正確的？(A) 甲乙 (B) 丙丁 (C) 甲乙丁 (D) 甲乙丙 (p80,81)
31. 韓小薰在研究某朝代歷史時，上網找了一些相關的資料，如下表所示：

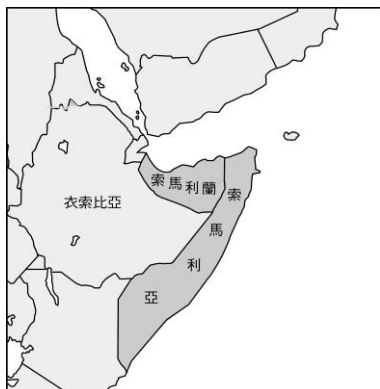
資料一	外邦使節紛紛來訪，對外交流頻繁。
資料二	大多皇室成員具有胡人血統。
資料三	對待外族與外來文化態度開放，兼容並蓄。

請問下列關於該朝代的敘述，何者正確？(A) 這個朝代極有可能指的是唐朝 (B) 這個朝代的君王曾遷首都以促進胡漢融合 (C) 印刷術約在此時外傳，影響西方文化的發展 (D) 這個朝代對抗外患大多以和親政策來換取和平。(p82)

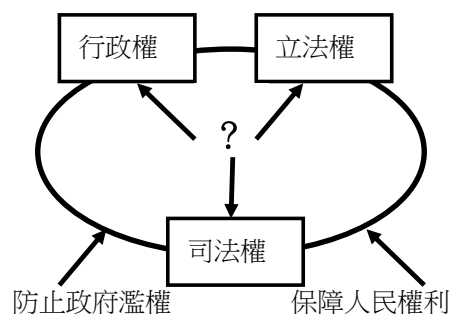
32. 江小簾隨中正旅行團到中國大陸某地旅遊，導遊介紹當地的歷史背景：「此地在中國古代一直是黃河流域有名的城市；魏晉南北朝時期的北魏將首都從平城遷都到此地，而位於此地西郊的龍門石窟建築，更見證了當時胡人君主對宗教的熱忱。」請問下列有關於上面此地歷史背景的敘述，何者**錯誤**？(A)江小簾去旅遊的地方是南京 (B)推動遷都政策的皇帝為北魏孝文帝 (C)當時北魏住在此地的漢人的生活方式受到胡人影響，開始吃羊肉、喝酪乳 (D)導遊所說的龍門石窟屬於佛教藝術的建築。(p81,82)
33. 嚴凱弟全家人打算在新冠肺炎疫情結束後，在暑假時至某個國家遊玩來放鬆心情。他的家人看了旅行社對該國的歷史介紹如下：「在文化上，該國曾極力推廣唐朝文物制度，不但用唐朝曆法、行唐年號、穿唐服，亦不斷派遣留學生來唐朝，先後總計達二千人之多；其國家文字中的片假名及平假名更受到漢字的影響而形成。而在宗教上，受唐朝的影響傳入了佛教後，有著名佛寺東大寺的建築。」請問嚴凱弟全家人打算要前往旅行的地區，在下圖唐文化传播區中的何處？(p83)



- (A)甲 (B)乙 (C)丙 (D)丁。
34. 馬俊俊是唐朝時出生於長安的商人，請問下列哪些事情是他在日常生活當中**最不可能**經歷過的事？(p82)
- (甲) 他看到唐朝大部分的商人都歧視漢人以外的民族，拒絕與他們直接貿易；
- (乙) 他工作結束後，與友人相約去觀賞胡旋舞的表演；
- (丙) 他聽聞唐代政府下令禁止崇拜伊斯蘭教的信仰；
- (丁) 他聽到西北各族的胡人稱呼唐太宗為「天可汗」，是因為唐太宗派兵打敗東突厥；
- (戊) 他平時喜歡喝葡萄酒，並穿著短衣窄袖的衣服。
- (A)甲乙丙 (B)乙丁戊 (C)丙戊 (D)甲丙
35. 2020年7月1日，台灣外交部長吳釗燮，對外宣布台灣與索馬利蘭互設代表處。新聞報導：「索馬利蘭位於非洲之角，於西元1991年索馬利亞內戰後宣布獨立，但目前仍然尚未得到任何國家和國際組織的承認，世界各國普遍還是承認索馬利蘭為索馬利亞的一個州，如下圖所示。」由報導內容判斷，索馬利蘭在爭取國家定位上呈現何種困境？
- (A)政府的管轄區域無法遍及國家整體範圍
- (B)國家組成形式未符合國際流程不予承認
- (C)政府雖然擁有統治權但對外主權不被國際承認
- (D)國家欠缺政府機關有效執行政策。(p.128,129)



36. 民主國家為了避免政府的權力太大，侵犯到人民的權利，政府的組織與職權的設計都以此概念為基礎。下列何項敘述即顯示出上述概念？(A)立法院對總統提名的官員行使同意權 (B)立法委員是由人民選舉產生 (C)司法院設置大法官與各級法院 (D)行政院為我國最高行政機關。(p.138,139)
37. 依據我國的法令規定，下列哪個人可能**不會**是我國的國民？(A)爸爸為我國國民的小志 (B)來自日本的小莉長期居住在臺灣 (C)小強的父母是中華民國國民，但皆已過世 (D)小香嫁到臺灣後，得到國家許可完成歸化。(p128)
38. 國家對外的目的在保持主權獨立與領土完整，使國家免於滅亡。為實現上述目的，國家必須採取下列哪些作為？(甲)設立司法機關 (乙)設立軍隊 (丙)推動外交 (丁)做好社會福利 (A)甲乙 (B)甲丁 (C)乙丙 (D)丙丁。(p.129)
39. 以下是公民課小培報告某項主題時所出示的圖卡一

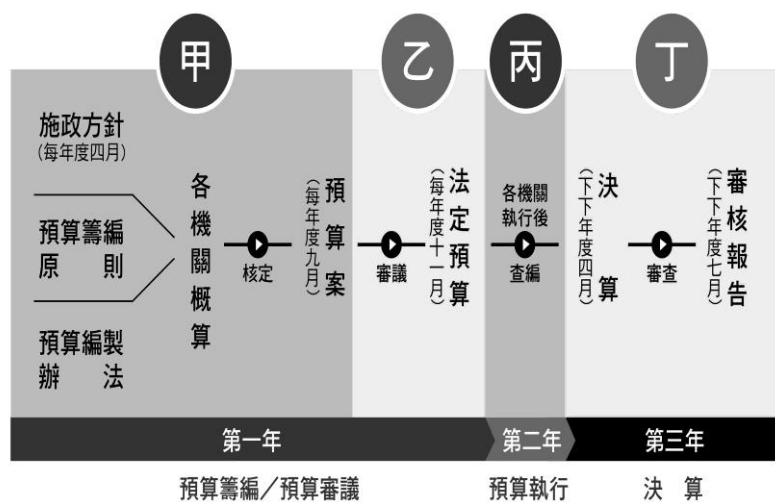


根據內容判斷，圖卡中的「？」是指下列何者？

- (A)中央集權 (B)國家功能 (C)國家主權 (D)分權制衡。(p.139,139)
40. 有正義感的阿翔今年剛從大學畢業，想要參加警察特考，他應該向下列哪一個機關報名？(A)行政院 (B)司法院 (C)考試院 (D)監察院。(p.141)
41. 阿良跟班上同學聊天時，說中央流行疫情指揮中心衛福部陳時中部長擔任指揮官，防疫有功，是他的英雄，所以他長大之後一定要競選行政院衛福部長，同學聽了都取笑他，因為衛福部部长不是經由選舉產生的，想要當衛福部部长，必須透過下列何種程序？(A)行政院院長提請總統任命 (B)由總統直接任命 (C)行政院院長直接任命 (D)總統提名經立法委員同意後，再由總統任命。(p140)
42. 老師在上完「我國中央政府的組織與職權」後，請學生練習整理有關立法院的職權。小芬整理後如下圖，並請老師協助檢查是否有誤。請問：在小芬整理的內容中，何者屬於立法院的職權？
- (A)甲乙 (B)甲丙丁 (C)甲乙丙 (D)甲乙丙丁。(p.140)

甲、對正、副總統提出罷免案
乙、對正、副總統提出彈劾案
丙、提出憲法修正案
丁、糾正行政機關的不當施政

43. 下圖是我國預算案編審的程序圖



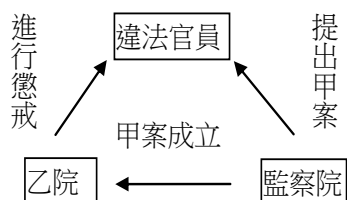
依我國中央政府各機關的職責，下列何項敘述正確？ (A)立法委員質詢某部會預算，認為內容編列過於簡陋——「丙階段」 (B)監察院審核前年國家經費運用，首次達到收支平衡——「丁階段」 (C)疫情來勢洶洶，行政院要求部會落實振興預算實施——「甲階段」 (D)紓困預算編列，行政院會中院長宣示要快點及方便點——「乙階段」。(p.140,144)

44. 行政院依法對立法院負責，執行國家法律和政策。當行政院無法接受立法院決議的法律案、預算案、條約案時，其該如何處置？ (A)呈請監察院彈劾立法委員 (B)行政院院長辭職，並呈請總統解散立法院 (C)呈請總統核可，移請大法官覆議 (D)呈請總統核可，移請立法院覆議。(p.143)

45. 老師將下列新聞報導繪製成如下的關係圖，請問學生應該在甲案、乙院依序填上什麼才是正確的？ (A)糾正，立法 (B)糾正，考試 (C)彈劾，司法 (D)彈劾，立法。(p.141,142)

新聞報導：

「行政院某部會○○局長擅請下屬利用上班時間送親友至機場搭機，並利用職務之便透漏採購訊息給親友，相關事證經監察院調查，查證屬實，近期將對該局長提出……案，該案一旦成立，將會送到……懲戒。」



46. 榮華同學說明「司法院與立法院的制衡」關係，下列哪些說法是正確的？ (甲)司法院大法官由總統提名，須經立法院同意 (乙)立法院制定的法律可能違反《憲法》時，有賴司法院大法官的解釋 (丙)對於違法或失職的立法委員，由司法院懲戒法院議處 (丁)司法院對於立法院決議的法律案，如認為窒礙難行時，可移請立法院覆議 (A)甲乙 (B)丙丁 (C)甲乙丁 (D)甲乙丙丁。(p.140,141,144)

47. 下列民主政治所對應的特色，何者敘述正確？ (甲)震災後民眾踴躍捐款，主管機關對於善款處理未依法行政，經查明相關事證後依法究辦：法治政治。(乙)西元 2020 年，我國辦理總統大選，各政黨無不卯足全力，全力為提名的候選人進行輔選：政黨政治。(丙)在我國，法官應獨立於黨派之外，依法獨立行使職權，對違法者做出審判：責任政治。(丁)某縣市的輕軌列車營運後因產生噪音及其他問題，引發民怨，政府單位透過網路社群收集民眾意見，作為改進的參考：法治政治 (A)甲 (B)甲乙 (C)丙丁 (D)乙丙丁。(p.131,132)

題組

三權分立這個概念來自十八世紀法國學者孟德斯鳩，他認為法律是重要的統治工具，有需要將法律的制定、審判和執行，即是立法、司法和行政，分開由不同人掌握，避免權力獨大。美國制定憲法的時候，就參考了孟德斯鳩的想法，明確訂下三權分立並互相制衡。請回答 48~50 題：

48. 關於我國中央政府的權力互動，以下何者屬於孟德斯鳩的權力制衡內涵？ (A)行政院於立法院通過不信任案後，直接主動解散立法院 (B)行政院應向立法院提出其施政方針及施政報告 (C)總統任命行政院院長，必須經由立法院同意 (D)行政院院長經立法院同意後，任命各部會首長。(p.138,140,143)

49. 三權分立的作法是依據下列何種思想而來？ (A)受節制的政府，才能確保人民權利 (B)政府的統治應該立基於人民的同意 (C)人生而平等，這是不可剝奪的權利 (D)人民可以將不符合民意的政府撤換掉。(p.138,139)

50. 在我國現行體制中，下列何者屬於三權分立的範疇？ (A)考試院掌管國家考試，避免濫用私人 (B)監察院行使彈劾糾正，避免國會專制 (C)行政院負責執行政策，遵守依法行政 (D)各地方政府接受中央政府的指揮監督。(p.138,139)

【本試卷結束】