

【讀卡科目請依規定畫卡，若有違反畫卡規定而影響讀卡作業之情事，一律扣總分五分。】

【手寫答案卷需確實寫上班級、座號、姓名，違者一律扣總分五分。】

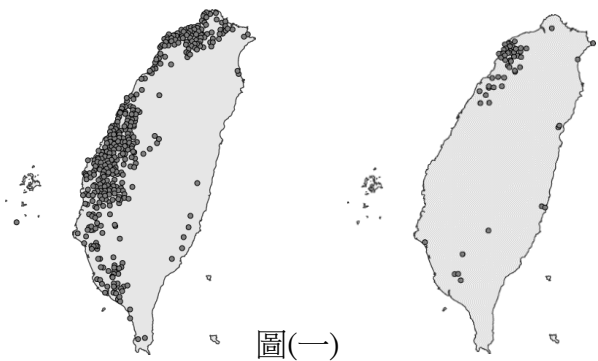
【手寫答案卷需用藍色或黑色墨水筆書寫，違者一律扣總分五分，使用鉛筆書寫扣五分。】

選擇題

01. 小芳利用寒假進行鐵路環島旅行，她將看到的火車站站牌拍照留念如下。站牌上有當地的地名如下一，顯示一地的自然環境或人文特色。她從臺中火車站出發，以逆時針方向進行環島旅行，旅行途中經過這4個火車站，請寫出經過的先後順序：p12.p13.p14.p19

代號	地名由來
甲	客家語稱山谷較低窪者為「窩」、「湖」，由於此地附近有一連串的窪地，又位於山谷開口而得名。
乙	清帝國時期漢人為防範原住民族侵襲，於居住地外圍設置土牆，土牆一丈稱為「板」，五板稱為「堵」。此處位於第七個防禦據點，故以此為名。
丙	日治時期，此區為日籍移民專屬的移民村，稱為「壽」庄，有許多日式傳統房舍。戰後，政府因此地物產「豐」饒，變更為現名。
丁	林爽文事件為清末最大的民變事件，由於牽扯許多族群利益，其他族群也奮起抵抗林爽文部隊。勢平後，清皇帝賜名，以作為褒獎

- (A)甲乙丙丁 (B)乙甲丁丙 (C)丁丙乙甲 (D)丁甲乙丙
02. 承上題，民國 110 年 4 月 2 日發生在花蓮縣秀林鄉清水隧道北口的太魯閣號脫軌事故，耗時 7 天搶修完成。請問：下方哪兩處車站通行路線，以最短路線搭乘時，最可能受到影響？p12.p13.p14.p19 (A)甲－乙 (B)乙－丙 (C)丁－丙 (D)丁－乙
03. 臺灣早期的聚落都是由幾戶人家開始，而後逐漸發展形成大聚落。「屋」或「厝」為常見的聚落名稱，當地居民再根據其區域特色或發展過程來加以命名，有依據姓氏宗族來命名的，如「陳厝」、「羅屋」；又或者以位置或發展先後來命名，如「南方厝」、「半路厝」或「新屋」等。圖(一)和圖(二)皆為相關聚落的分布圖。圖(一)中的聚落最可能為哪一個族群的地名分布？p15 (A)原住民 (B)平埔族 (C)閩南人 (D)客家人

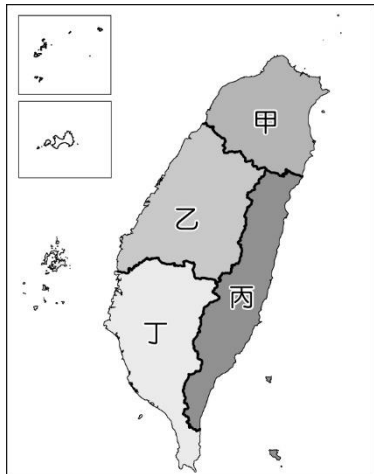


04. 依據圖(二)中聚落的分布地區判斷，最可能出現下列哪一個地名？p15 (A)屋 (B)厝 (C)豐 (D)崙。
05. 荷蘭東印度公司在 1624 年來臺建造熱蘭遮城，臺灣在當時便通過航海貿易而納入世界經濟體系。當時荷蘭人在此地興建大員市鎮，其名稱來自於當地平埔族的社名「Tayovan」，而該市鎮地區位於圖(三)中何地？



- (A)甲 (B)乙 (C)丙 (D)丁 p11
06. 下列是一封十九世紀後期來自打狗的信件內容：「打狗地方，現在情況與平時無異，要不是看到掛著「紅日」東洋白旗的輪船，不時駛往琅嶠，我幾乎忘了島內有日本兵。清、日兩方官員的商議，依然沒有定論。官員據理告誡日人，全台灣的土地一畝都不可能相讓，希望快點撤軍，勿久留，又擔心告誡無用，同時也籌辦軍事防務……」上述內容提及的打狗位於圖(三)中何地？(A)甲 (B)乙 (C)丙 (D)丁 p14
07. 小婷發現北部的深澳、鼻頭角、三貂角、卯澳等地名，其命名與該地的地形景觀有關。請問:形成這些地形的作用力最可能是下列何者？p16(A)風力堆積 (B)火山作用 (C)河流堆積 (D)海水侵蝕
08. 舊稱「琅嶠」的恆春半島，不僅擁有豐富的動植物、生態，更是台灣最多民族遷徙、征戰、交易頻繁且歷史悠久的土地。而此半島上西岸與東岸北段最重要的人類活動史蹟，首推「琅嶠・卑南道」，曾經是荷蘭人採金尋寶，清政府「開山撫番」，更是斯卡羅族、阿美族、馬卡道族人流亡、遷徙、征戰、姻親、交易…之路。無論在歷史、族群、人文、生態、產業等面向，其價值與特

色均是珍貴卓然。這條古道其中一段現今被炒作為「阿朗壹古道」後，成了現代人戶外健行的風景大道。根據圖（四）請問：「阿朗壹古道」是哪兩區往來的古道？



圖（四）

- (A)甲－乙 (B)乙－丙 (C)丁－丙 (D)丁－乙

*根據圖（五），依序回答第 9 ~ 11 題



圖（五）

09. 相傳此島的西南方港口旁，是昔日孝女林默娘投海救父後漂流至此，居民將之厚葬並立廟祭祀，並把此地命名為媽祖沃。從該港看出海的那片海域，形狀似湖，港內波平如鏡，所以以前亦被稱為「平湖」。請問：文中所指地名是位於圖中何處？p19
(A)甲 (B)乙 (C)丙 (D)丁
10. 「該島原為南竿島上的一個灣澳名，當地的金板境天后宮供奉著最年輕的媽祖像，與全臺各地慈眉善目的中年婦女媽祖像不同，是個十七歲少女的模樣。相傳這間百年廟宇是在清代時由自稱「鎮海威武王」的大海盜蔡牽所建。清末由村澳聚落名稱，到民初進而代表島(南竿全島、鄉)的層級，再擴大為列島名稱。」文中所指的島為圖中何處？(A)甲 (B)乙 (C)丙 (D)丁 p19
11. 臺灣許多縣市名的來源與自然環境有關，其中有一離島縣市，因為形勢固若金湯，有鎮守國門之勢，命名便由此來。請問：該縣市位於附圖中何處？(A)甲 (B)乙 (C)丙 (D)丁 p19
12. 小紫喜歡旅行，她搭乘火車造訪臺灣各地，留下不少照片。某日她整理暑假時環島旅行的照片，想起地理老師提過台灣地名的由來，決定按照該地名出現的時間先後順序排列相片。下圖為她當時下車的四個車站，小紫應如何排列正確的先後順序？p15

- (甲)台北市松山車站
(乙)花蓮市光復車站

- (丙)彰化市彰化車站
(丁)台南市新營車站

- (A)甲乙丙丁 (B)乙甲丁丙 (C)丁丙甲乙
(D)丁甲乙丙
13. 新北市的「烏來區」是泰雅族語，意思是溫泉。據傳昔日有一群泰雅族語人來此地附近時，遠望溪水中煙霧濛濛而生，經觀察後，發現這些煙霧是由岸邊湧出的熱水所形成的，於是就高呼「Ulay」，亦即溫泉的意思，此後便稱該地區為「烏來」。依據上述資訊判斷，當初泰雅族發現溫泉的地區為今日哪一山脈境內？P14 (A)中央山脈 (B)雪山山脈 (C)海岸山脈 (D)玉山山脈
14. 小馨利用歷史文獻資料追溯，透過地名資訊服務網進行研究，發現台灣與茶相關的地名，例如「茶仔興坑」「茶園坪」等都有適合的地形、氣候、土壤等條件。請問：以上地名大都分布在以下何處？p13
(A)蘭陽平原 (B)嘉南平原 (C)新竹丘陵 (D)臺中盆地

(甲)阿猴 (乙)打狗 (丙)諸羅山 (丁)貓裏社。以上為臺灣某些縣市的舊地名，根據以上四處古地名回答第15~16題

15. 近年來臺灣積極拓展綠色能源，其中太陽能光電於再生能源發電量已躍居第二，僅次於水力發電，不過太陽能需要夠長的日照才能持續發電，達到實用的目的。若只單純考量年平均日照時數，下列何地比較適合開發？
(A)阿猴 (B)打狗 (C)諸羅山 (D)貓裏社 p19
16. 若將其由北向南依次排列，正確順序應為何？p19 (A)甲乙丙丁 (B)乙甲丙丁 (C)丙丁乙甲 (D)丁丙乙甲
17. 地名研究者曾討論哪些臺灣地名具有「日式風格」，並會尋找日本境內有沒有相同地名，如果臺灣地名和日本地名相同，常會被視為日式地名；但因為日本人也使用漢字，因此可能會有相同的漢字，但來源上卻毫無關連的狀況。請問：下列日本地名，何者可能與臺灣之地名無關連？ (A)愛媛縣「松山」市 (B)東京都「板橋」區 (C)京都市「高雄」山 (D)東京都「台東」區 p16

◎「歷史人物版」猜猜我是誰：

請根據下列歷史人物旁邊的描述，選出最適合的答案。



他是一位著名的美國總統，他領導殖民地軍隊與英軍作戰，並在西元1789年被選為美國聯邦政府的第一任總統，隨後又連任一次。之後他拒絕擔任第三任總統，於西元1797年發表〈告別演說〉後退休，被尊為美國國父。

18. 請問上述的歷史人物為下列何人？(p53)
(A)威爾遜 (B)門羅 (C)羅斯福 (D)華盛頓。



他是拉丁美洲的革命家和軍事家，出生於委內瑞拉，父母具有西班牙貴族血統。他具有熱情與理想，為拉丁美洲而奮戰，積極參與委內瑞拉的獨立，由於他的努力，委內瑞拉、祕魯、哥倫比亞、巴拿馬等國家從西班牙的殖民統治中獨立出來。

19. 請問上述的歷史人物為下列何人？(p60)

(A)拿破崙 (B) 玻利瓦 (C) 馬志尼 (D) 俾斯麥。



他是英國皇家學會的院士，他改良的蒸汽機，可裝在各類機器上，成為工業生產的主要動力。現今功率的單位「W」，即是取他名字的第一個字母，以紀念他的貢獻。

20. 請問上述的歷史人物為下列何人？(p57)

(A)華盛頓 (B) 威爾遜 (C) 瓦特 (D) 牛頓。



他少年時在法國學校學炮兵，之後在法國大革命中嶄露頭角。西元 1796 年，他率領法軍戰勝具有優勢的奧軍。之後他發動政變，建立新政府，自己出任第一執政，西元 1804 年又自行加冕稱帝。

21. 請問下列有關於上述歷史人物的描述，何者敘述錯誤？

(A) 他是拿破崙 (B) 他頒布著名的法典，並將法典精神向外傳布 (C) 拉丁美洲各地趁著他佔領伊比利半島的時機，反抗殖民統治，發起獨立運動 (D) 他在西元1812年領兵親征英國大敗，結果使法國國力大傷，成為他日後失勢的主要原因之一。(p55)

22. 請根據以下提示，選出與提示最為相近的答案。

提示一：法國大革命時，反法聯軍的發起國之一。

提示二：維也納會議的主辦國。

提示三：義大利統一的阻撓者。

(A)奧地利 (B)英國 (C)西班牙 (D)荷蘭。(p54、56、62)

23. 邱小紘在學校圖書館看到一本書的內容如下：「當時從柏林到瑞士要經過十個邦國，辦理十道手續，收取十次關稅，各地的關稅不一，形成極大的貿易障礙。如果想要爭取統一，我們應要組成關稅同盟。」請問根據上述的內容，這本書的書名最可能是下列何者？(A) 美國獨立的始末 (B) 義大利榮耀再現 (C) 鐵血王國普魯士 (D) 拉丁美洲的獨立。(p61)

24. 蔡小文在複習歷史時，看到歷史講義上寫著一段內容：「有一個地區在19世紀上半葉時仍是處於四分五裂的狀況

，因為各邦國長期割據，阻礙了經濟的發展，為擺脫落後的狀況，此地區有一些愛國志士們認為民族要團結統一，國家才能壯大起來。這些愛國志士包含 甲 成立革命團體，喚起民族意識的覺醒；薩丁尼亞王國的首相 乙 運用外交與軍事手段，為建國而努力； 丙 率領紅衫軍征服半島南部，並將其交給薩丁尼亞王國。最後在西元1870年時，從鄰國手中取回重要的城市後，最後完成統一的大業。」請問下列有關於上面內容的敘述，何者正確？

(A) 甲 指的是馬志尼，他成立了青年義大利黨 (B) 乙 指的是俾斯麥 (C) 丙 指的是加富爾 (D) 內容提到的鄰國指的是奧地利。(p62)

25. 承上題，請問上面內容提到的最後完成統一的地區在下圖中的何處，並選出合適的代號？



(A) 甲 (B) 乙 (C) 丙 (D) 丁。(p62)


26. 許小茵之前和家人們一起出國到某個國家旅遊，她回學校後在聯絡簿上寫了一篇旅遊札記如下：「我來到這個國家才知道，這個國家曾殖民過北美十三州，而且原來有這麼多的發明源自於此，如發明飛梭的凱伊、發明珍妮紡紗機的哈格里夫斯等人，這些成果都帶動日後工業革命的發展。」請問下列關於許小茵所旅行的這個國家的敘述，何者錯誤？ (A)該國是十八世紀全世界主要的棉紡織輸出國 (B)該國希望藉機拓展在中南美洲的貿易，因此支持拉丁美洲獨立 (C)該國曾因為徵稅問題引發巴黎民眾群起抗爭，結果後來國王被處死而後變更政體為共和體制 (D)該國曾殖民統治澳洲、印度及非洲部分地區，為帝國主義的國家之一。(p57、60、64)

27. 阿任老師在課堂上給同學觀看某個國家的總統在西元 19 世紀初所發表的宣言，其內容為：「歐洲各國把他們的政治制度擴張到美洲的任何地方，而不危害我們的和平與幸福是不可能的；也沒有人會相信我們南方各兄弟國家的人民，如果不加以援助，便能夠建立他們希望的政治制度、擺脫被殖民與控制的處境。所以讓我們坐視歐洲列強對他們進行任何方式的干涉而不加過問，也同樣是不可能的。」並請同學回答出他們對此宣言的看法，而以下是四位同學起來針對上面內容所提出的回答，請問有哪些同學的回答是正確的？(p60)

(甲) 韓阿薰：「這是美國總統開羅所發表的宣言。」

(乙) 吳小芯：「南方各兄弟國家指的是中南美洲的國家。」

(丙) 林阿竺：「此宣言希望能支持這些國家擺脫西班牙及葡萄牙的殖民統治。」

- (丁) 駱小呈：「之後這些國家成功獨立之後，就不再受到任何其他國家的侵略與控制。」
- (A) 甲乙丙丁 (B) 乙丙丁 (C) 乙丙 (D) 甲乙丙
28. 十九世紀時有一場重要的演說如下：「普魯士在德意志的地位，不取決於它的自由主義，而是取決於它的力量……普魯士必須集中力量，而且維持力量以待適當時機。自從維也納諸條約以來，我們的邊界劃分的太差了，不利於健全政治。當代的重大問題不是通過演說和多數派決議所能解決的，而是要用鐵和血來解決。」請從內容判斷，這應是下列何人的演說？(p61)
- (A) 加富爾 (B) 玻利瓦 (C) 門羅 (D) 俾斯麥
29. 林小安想在歷史課時報告「法國」這個主題，請問下面哪些內容可以放在她的報告之中比較恰當？
- (甲) 十九世紀時發生了大革命，並通過了「人權宣言」
- (乙) 工業革命的發源地；
- (丙) 德意志與義大利地區統一的阻礙；
- (丁) 西元 1884 年與清朝發生戰爭後，殖民越南；
- (戊) 十九世紀時統治印度，大量生產棉、茶等經濟作物。
- (A) 甲乙丙丁戊 (B) 甲丙丁 (C) 甲乙丙丁 (D) 甲丁戊。(p54、57、61、62、64)
30. 工業革命的發生，對人類社會產生重大的衝擊。「百年銳於千載」，十八世紀以後生產技術的進步勝過以往數千年文明的進展，但也為後來的世界帶來許多重大的影響。請問下列哪些是工業革命後帶來的影響？(p57、58)
- (甲) 大型工廠吸引大批人口前往就業，逐漸形成一些新興市鎮興起。
- (乙) 工業革命促成有經濟能力的中產階級興起，帶動文藝復興的發生。
- (丙) 工業革命首先是交通工具的革新，接著帶動紡織業及其他生產技術有大幅度的進步。
- (丁) 工業革命使得社會上各階級的人民皆日益富有，貧富差距逐漸縮小。
- (戊) 一些學者提出「社會主義」的思想，希望能公平的分配財富，解決工業革命所帶來的社會問題。
- (A) 甲戊 (B) 乙丙丁 (C) 甲丙戊 (D) 甲乙丁戊。
31. 謝小臻在網路上看到下面的附圖，這張圖為十九世紀的一幅宣傳海報，內容為賦予白種人「送黑人到學校接受文明教化」的任務。請問這張海報出現的歷史背景與下列何種思想有關？(p63)
- 
- (A) 人文主義 (B) 社會主義 (C) 自由主義 (D) 社會達爾文主義。
32. 「美國獨立運動」與「法國大革命」是影響後世非常深遠的兩個事件，下面關於這兩個事件的比較，哪一個敘述是錯誤的？(p52、53、54)
- (A) 這兩個事件都發生在西元 18 世紀 (B) 這兩個事件都

受到啟蒙運動的影響 (C) 這兩個事件爆發的導火線都和徵稅問題有關 (D) 這兩個事件都受到歐洲眾多國家的支持。

33. 李阿翰有一天在網路上看到西元 1814 年歐洲曾召開各國協商會議，並得到以下的三點共識：

- (1) 主張以「正統」為原則，恢復歐洲各國舊王室的地位，如法國、西班牙；
- (2) 將尼德蘭割讓給荷蘭以補償其損失；
- (3) 保證瑞士為永久中立國及防止法國勢力再度興起。

請問從以上的內容判斷，李阿翰所看到的這個會議以及會議的主導人各是下列何者？(p56)

- (A) 維也納會議，梅特涅 (B) 三級會議，路易十六 (C) 大陸會議，華盛頓 (D) 國民會議，羅伯斯比。

34. 下表是西元 18~19 世紀時所發生的重要歷史事件：

甲	法國召開國民會議，發表「人權宣言」。
乙	義大利王國與德意志帝國完成統一。
丙	北美十三州代表發表「獨立宣言」，成立美國。
丁	美國發表「門羅宣言」，強調由美洲人管理美洲
戊	法國大革命實施共和體制期間，羅伯斯比實施恐怖統治，大肆處決反對者。

請依照歷史發展時間的先後順序排列，請問下列哪一個選項是正確的？(p52、54、60、61、62)

- (A) 甲乙丙丁戊 (B) 丙甲戊丁乙 (C) 丙甲戊乙丁 (D) 丙丁甲戊乙

35. 下列兩人的對話，最能反映下列何種議題？ (A) 追求新品的扭曲價值觀 (B) 科技不當使用的問題 (C) 跨國企業把持多數市場 (D) 貧富差距縮小的問題。(P95,97)

1

你家電腦使用哪一種電腦作業系統？

小志

W 系統，你呢？

小香

2

我家也是

小志

小香

3

我看過報紙統計，現在全球個人電腦用戶，有高達 80% 使用比爾公司的 W 作業系統，而這家公司今年初又開發出 V 作業系統來刺激新的電腦換機潮。

哇！那這家比爾公司不就賺翻了！

小香

小志

項 目		小欣		小琴	
		分鐘	數量	分鐘	數量
分工前	帆船	30	180	30	60
	青蛙	30	60	30	30
分工後	帆船	40	240	10	20
	青蛙	20	40	50	50

根據表中資料判斷，下列相關敘述，何者正確？(甲)分工前，小琴無論摺帆船或青蛙都比小欣強 (乙)分工後，帆船數量增加了 (丙)分工後，青蛙數量不變 (丁)分工後，小欣較專心摺帆船，小琴較專心摺青蛙 (戊)分工合作使兩人比原先的單打獨鬥獲得較多的利益 (A)甲乙丙丁 (B)甲乙丁戊 (C)甲丙丁戊 (D)乙丙丁戊。(P 106,107)



FAIRTRADE

```

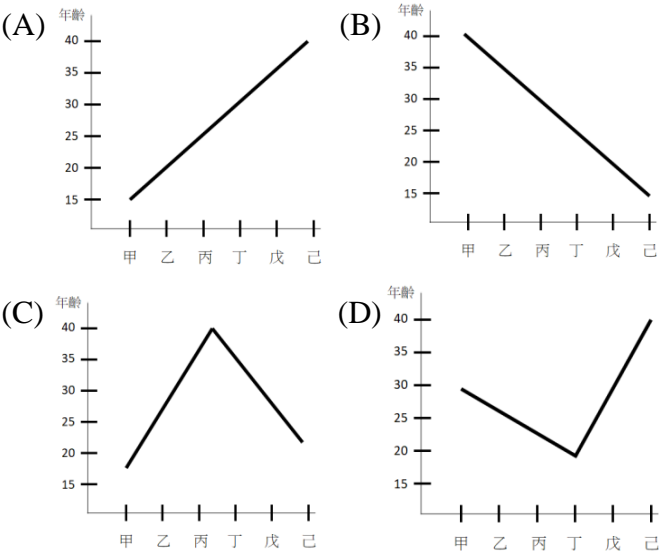
graph LR
    A[總統] -- 甲 --> B[行政院]
    B -- 乙 --> C[立法院]
    C -- 丙 --> B
    C -- 丁 --> A
  
```

第 5 頁，共 6 頁

下列何者最可能是老師進行的主題？ (A)政黨擬定公共政策的過程 (B)公民投票影響政策的形成 (C)立法機關制定法案的流程 (D)利益團體影響政策的制定。(第三冊)

團體	內容	期間
婦女新知基金會	推動兩性工作平等法通過(修正為性別工作平等法)	1990～2001 年
董氏基金會	推動菸害防制法通過	1991～1997 年
兒童福利聯盟	推動兒童及少年福利法通過(修正為兒童及少年福利與權益保障法)	2001～2003 年

- 47 非洲豬瘟肆虐全球，使生產豬肉大國經濟飽受劇烈影響，下列敘述與媒體扮演公共角色的配對，何者最為恰當？ (A)政府為避免非洲豬瘟從境外擴散本土，嚴禁從外國攜帶肉製品入境－【評論議題】 (B)非洲豬瘟幾乎擴散至中國各省分－【形成民意】 (C)某電視臺選擇針對非洲豬瘟的感染起源做報導－【設定議題】 (D)網路新聞臺對政府公告的境外肉製品攜帶禁令舉辦民意調查，讓民眾投票－【提供訊息】。(第三冊)
- 48 (甲)參選南投縣長 (乙)參選羅東鎮長 (丙)參選中正里里長 (丁)公民投票 (戊)參選新竹市市長 (己)參選總統、副總統。我國在公職人員選舉及公民投票上設有年齡限制，若依照甲～己各項最低年齡限制的規定，依序畫出的連接線，最接近下列何者？(第三冊)



題組：

以下是中正、清水兩家電子工廠生產筆記型電腦與液晶螢幕的紀錄表

(單位：分鐘)

工廠 產品	中正	清水
筆記型電腦	8 臺	12 臺
液晶螢幕	6 個	10 個

請根據表中資料，回答下列問題：

- 49 .中正工廠生產一臺筆記型電腦的機會成本是多少？
(A)8/6 臺筆記型電腦 (B)6/8 個液晶螢幕 (C)10/12 臺筆記型電腦 (D)12/10 個液晶螢幕。(P106,107)
50. 根據表中內容判斷，兩家工廠應該如何從事貿易才最有利？ (A)中正專業生產筆記型電腦，清水專業生產液晶螢幕 (B)清水專業生產筆記型電腦，中正專業生產液晶螢幕 (C)中正生產筆記型電腦、液晶螢幕 (D) 清水生產筆記型電腦、液晶螢幕。(P108,109)