

# 新北市立中正國民中學112學年度第一學期七年級社會科第二次段考試題

範圍：公民 B1L3~4、歷史 B1L3~4、地理 B1L3~4 班級：\_\_\_\_\_座號：\_\_\_\_ 姓名：\_\_\_\_\_

【讀卡科目請依規定畫卡，若有違反畫卡規定而影響讀卡作業之情事，一律扣總分 5 分。】

## 一、選擇題

- 1.(圖1)是記者報導物價上漲對我們造成的影響。由記者提供的訊息中，可知每個家庭的總支出將增加，因此以下何項家庭的功能，將受到最直接的衝擊？(P.164)

(A)生育功能  
(B)教育功能  
(C)經濟功能  
(D)照顧功能

近來由於國際的能源及糧食價格大幅上漲。各行各業的店家，也因此不得不調漲商品的價格，以求生存。



(圖 1)

- 2.現代家庭隨社會變遷呈現更多樣化的面貌，以下何種家庭的數量若持續增加，將使得家庭逐漸失去生育的功能？

(A)重組家庭  
(B)頂客家庭  
(C)核心家庭  
(D)擴展家庭(P.168)

- 3.(圖2)是紫涵記憶中，上小學第一天父母親對她說的話，當時由於還小不知道怎麼回應父母，但心中知道父母親是關心她的。請問：從紫涵對於父母此種舉動的感受，顯示家庭的何種功能？(P.164)

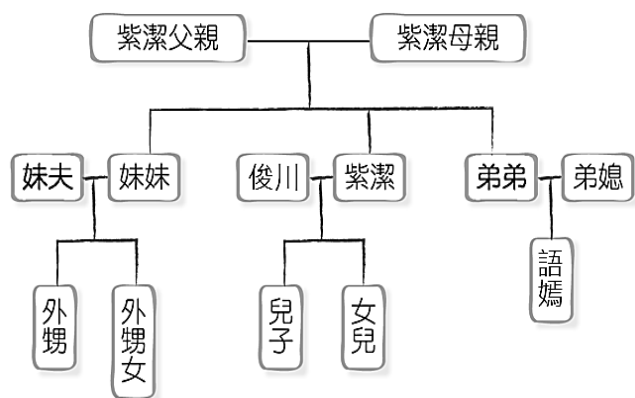
(A)生育功能  
(B)教育功能  
(C)經濟功能  
(D)照顧功能

在學校如果發生令你苦惱的事情，可以跟爸爸媽媽說，只有你需要支持，我們一定都會在你身邊。



(圖 2)

- 4.(圖3)是某一個家庭的親屬關係圖，對俊川而言，在法律上他與語嫣是以下何項的親屬關係？(P.166-167)



(圖 3)

(A)血親  
(B)血親的配偶  
(C)配偶的血親  
(D)配偶的血親的配偶

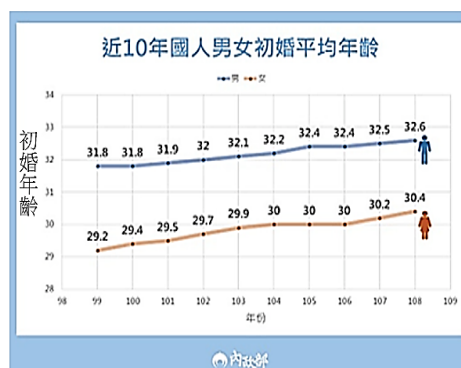
- 5.父母離婚後，志宏跟著爸爸一起生活，無奈爸爸經常酒後情緒失控毆打他。志宏打電話將此事告訴媽媽，媽媽想幫志宏聲請保護令，她應向何處提出聲請？(P.179)

(A)社會局  
(B)警察局  
(C)縣市政府  
(D)地方法院

- 6.傳統儒家文化有「男主外、女主內」的觀念，此觀念影響著社會上不同性別的行為。請問：使不同性別的人，無法依據自己的喜好與特質，展現真實的自我，最可能是受到以下何項因素的影響？(P.165)

(A)性別角色  
(B)性別平等  
(C)社會變遷  
(D)社會化不足

- 7.(圖4)是內政部統計近十年國人初婚的平均年齡，不管是男或女均呈現上升趨勢，與10年前相比，男、女性分別增加0.8歲及1.2歲，請問：以下何項敘述，最可以解釋圖(四)的初婚平均年齡趨勢？(P. 170)



(圖 4)

- (A)婚後健康檢查使初婚年齡有效降低  
(B)重組家庭是最常見的家庭生活模式  
(C)已婚的婦女外出工作比例逐漸上升  
(D)現代人對婚姻的觀念較自由及開放

### 名詞解釋

初婚年齡：某一特定期間內，初次結婚的人的平均年齡。

8. 藉著奶奶的八十大壽把家族中的人聚集在一起用餐，妮妮是家族中最擅於炒熱氣氛的人，所以她被安排坐在對她來說，都是姻親的兩個人中間。請依據(圖5)提供的線索，判斷妮妮被安排坐在圖中的哪一個位置？

(A)甲  
(B)乙  
(C)丙  
(D)丁(P.166)



(圖 5)

# 新北市立中正國民中學112學年度第一學期七年級社會科第二次段考試題

範圍：公民 B1L3~4、歷史 B1L3~4、地理 B1L3~4 班級：\_\_\_\_\_座號：\_\_\_\_ 姓名：\_\_\_\_\_

9.老婆跟先生說家務都是她在做，她是職業婦女，下班後卻要做家務，先生卻回，我有給你錢做家用，你有什麼問題。請問：老婆是希望喚醒先生何項觀念?(P.174)

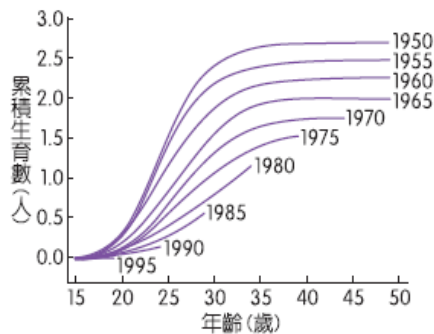
- (A)建立性別平權你我有責
- (B)找到工作與生活的平衡
- (C)如何避免家庭暴力發生
- (D)應給予家務勞動者酬勞

10.茹雨自願上台報告與家庭有關的法律，她指出有法律保障男性及女性皆能享有育嬰假和家庭照顧假。請問：茹雨指出的法律，是下列何者?(P.175)

- (A)《憲法》
- (B)《民法》
- (C)《性別平等工作法》
- (D)《性別平等教育法》

11. (圖6)是某國不同年分出生的婦女，在育齡期間累積的生育數。政府為了改變(圖6)趨勢，最可能實施下列何項作為?(P.177)

- (A)0到7歲國家養
- (B)宣傳節育觀念
- (C)補助安養機構
- (D)鼓勵學術研究



(圖 6)

12. 老師希望班上同學，提出與黑板(圖7)的議題有關的想法，請問：哪一位同學的發言具有親子平權的概念?(P.178)



(圖 7)

- (A)子女是父母的財產，父母有權為孩子決定一切事務
- (B)子女有被父母家暴者，有機會免除或減輕扶養義務
- (C)父母親對於未成年子女有親權，想怎麼管教都可以
- (D)父母對教養子女意見不一致時，由父親做最後決定

13.世界各國特別重視兒童權利，我國也有相同概念的法律規定，像是「父母對於未成年子女，有保護及教養之權利義務」，請問：這是出自於哪一個法律規定?(P.178)

- (A)《民法》
- (B)《憲法》
- (C)《性別平等教育法》
- (D)《家庭暴力防治法》

14.政府為使平權概念普及而制定相關的法律，請問：以下敘述，何者符合平權家庭的概念?(P.178)

- (A)未成年子女的親權，由父親取得
- (B)只有男性的親屬才可以繼承遺產
- (C)婚姻中產生的財產，由男性所有
- (D)子女長大有收入後，應孝敬父母

15.醫學進步，老年人口愈來愈多，以下何項措施，主要是為了改善高齡社會帶來的問題?

- (A)將國民的義務教育延長至十二年
- (B)政府提供補助培訓長期照護人才
- (C)一律由法院決定子女的最佳利益
- (D)建立完善的家暴檢舉及通報系統

16.我是土耳其人，先生到土耳其出差的時候遇見了我，婚後這幾年我跟先生生了三個孩子，現在和先生在台北經營一家具有土耳其特色餐點的餐廳，我的孩子們的祖父母都住在台南，而我的父母仍舊住在土耳其。根據上文，這屬於哪種家庭生活模式或組成方式?(P.169)

- (A)折衷家庭
- (B)單親家庭
- (C)跨國婚姻家庭
- (D)隔代教養家庭

後面尚有試題，請繼續作答

# 新北市立中正國民中學112學年度第一學期七年級社會科第二次段考試題

範圍：公民 B1L3~4、歷史 B1L3~4、地理 B1L3~4 班級：\_\_\_\_\_座號：\_\_\_\_ 姓名：\_\_\_\_\_

17. 西元2019年10月31日慘遭祝融之災焚毀的世界文化遺產首里城，象徵著沖繩的歷史及文化，首里城亦見證了琉球王國的歷史。請問：臺灣某件歷史事件與琉球王國人民遭殺害有關，下列敘述何者正確？(P.119)
- (A)事件發生後，政府決定開港通商積極治臺  
(B)政府廢除渡臺禁令大量漢人來臺，他國人民因此遭殺害  
(C)此歷史事件戰火波及到基隆與淡水  
(D)事件發生後，設立二鯤鯓炮臺，加強海防
18. 十九世紀後期，一位美國學者到臺南考察，當地西拉雅族頭目帶著二十餘份文件讓他瀏覽，這些文件以羅馬字母、漢字拼寫，標注清朝雍正、乾隆及嘉慶的年號和日期，又蓋有印章。他認為這是極有價值的史料，因此便以槍枝換取了這些文件。這些文件的內容最可能包含下列何者？(P.107)
- (A)麻豆社事件始末  
(B)熱蘭遮城的行政資料  
(C)荷蘭長官的林野調查紀錄  
(D)原住民與漢人土地交易契約
19. 1873年，某位歐洲學者說：「我四處物色，想找一個適合探險、收集自然史博物的地方，最後我決定到中國的福爾摩沙島走訪一趟，至少到當地已充分開發的地區看看。沒想到福爾摩沙是一個進行科學收集的嶄新天地，我得以深入內地，探訪眾多的原住民部落。」請問：這位歐洲學者能在此時前往臺灣進行科學收集的時代背景為何？(P.116)
- (A)林爽文事件告終  
(B)英法聯軍告終  
(C)渡臺禁令解除  
(D)牡丹社事件告終
20. 十七世紀新港社居民拿默·依樣回憶他的爺爺參加統治者在 1636 年 2 月舉行的首次「地方會議」：「20 日陸續有 28 村落的首長聚集到新港村。21 日晚間，Hans Putmans 長官，率領一個連隊的士兵登陸新港，這些參加者前來歡迎他。當夜，長官友善的接見這些人，22 日，開始所簽訂和平協約的確認。爺爺與其他各個社的管理者排成一列，荷方向所有的參加者描述此後怎樣以合適的方式相互對待，再向他們解釋將授與他們的禮袍、權杖、親王旗的意義。宣誓效忠，確認協約」請問：拿默·依樣的爺爺應是下列哪一種身分？(P.107)
- (A)巡撫 (B)長老  
(C)傳教士 (D)大肚王
21. 中正國中在校慶時要表演一齣「清帝國臺灣風雲錄」的歷史劇，請各班自行選擇相關主題編排符合歷史事實的劇情，但劇本錯誤頗多。請問：以下情節唯一正確的選項為何？(P.113)
- (A)施琅向康熙皇帝報告平定朱一貴事件的過程  
(B)嘉慶皇帝接納大臣的建議，基於戰略治安的考量而決定設置卑南廳  
(C)由於渡臺禁令的實施，街上出現一批單身且無固定

職業的男性遊民，整天無所事事，成為社會治安的隱憂

(D)沈葆楨來臺期間，增設行政區為二府八縣四廳，開發東部設置台東直隸州

22. 現今屏東外海的小琉球島上，有一個名為「烏鬼洞」的景點，相傳在1630~1640年代某國殖民者因該國船民在島上遇害，遂自臺灣南部調軍到小琉球進剿、鎮壓，島上原住民雖然躲藏到洞穴內，但仍遭到屠殺與被迫遷移。此某國應是哪個國家？(P.106)

(A)荷蘭 (B)日本

(C)中國 (D)西班牙

23. 小璇蒐集「大肚王」的相關資料時，發現荷治時期要求大肚王來開地方會議，鄭成功的軍隊曾為了「屯墾」入侵大肚社的領土，與大肚社人開戰；直到鄭經時期，鄭家將領劉國軒也曾入侵大肚番王轄下沙轆社，並放火燒村社，僅少數社民逃到埔里。請問，下列哪項敘述對這些資料的解讀較不正確？(P.109)

(A)漢人拓墾過程中侵奪原住民土地才激起多次原住民抗官事件

(B)漢人逐漸壓縮到原住民的生活空間

(C)原住民面對外來政權的統治，都只有對抗與戰爭，沒有合作的情況

(D)不論是荷蘭人或者漢人等外來政權入主臺灣，皆改變了原住民原有的生活模式

24. 生長在福建省的阿喬因為生活困苦，在政府鼓勵下，決定準備舉家遷徙到臺灣北部的臺北府開墾。當時臺灣南部的臺南府因土地已開墾完成，不在阿喬的考慮範圍內。請問：阿喬最早應是哪一個時期移往臺灣的漢人？(P.118)

(A)乾隆年間 (B)沈葆楨治臺時期

(C)劉銘傳治臺時期 (D)嘉慶年間

25. 十七世紀時，一封從巴達維亞寄回荷蘭的殖民報告指出：「在大員，新港、蕭壠、麻豆等村社的居民並不缺乏良田。然而他們懶散，不願勞動，甚至無心尋找食物，所以我們不能期待透過他們的勞力取得多豐厚的農穫……。」根據文中所述，分析該報告撰寫者對原住民的負面評價，最有可能是怎麼形成的？(P.108)

(A)不了解原住民的經濟活動特性

(B)基於對異教徒產生的固有偏見

(C)聽信漢人對原住民的歧視言論

(D)參考了西班牙對此地的殖民報告

背面尚有試題，請繼續作答

# 新北市立中正國民中學112學年度第一學期七年級社會科第二次段考試題

範圍：公民 B1L3~4、歷史 B1L3~4、地理 B1L3~4 班級：\_\_\_\_\_座號：\_\_\_\_ 姓名：\_\_\_\_\_

26. 琳琳在書中看到如附圖中的一段文字。請問：這本書應該是在介紹臺灣哪一段歷史的內容？

(P.109)

- (A)荷蘭在臺時期  
(B)鄭氏在臺時期  
(C)清帝國統治時期  
(D)日本帝國統治時期

為徹底去除基督教文化的影響，政府將教堂改建成廟宇，西元1666年第一座孔廟落成，學校變成漢學堂。原來使用羅馬拼音、崇拜基督的原住民，又開始學習漢文化，漢文化逐漸取代西洋文化及原住民文化，成為臺灣文化的主流。

27. 西元1632年，西班牙神父艾斯奇維所記「有關福爾摩沙島近況變化的報告」，內容包含：「臺灣的礦產、原住民互動及貿易情況，以及對於西班牙殖民長官提出治理臺灣的相關建議。」流露傳教士觀看異國文化的視野，成為研究西班牙在臺歷史不可忽視的文獻。請問：文獻內容應包括下列何者？(P.108)

- (A)西班牙聯合新港社攻打麻豆社獲勝  
(B)對雞籠、淡水地區的原住民傳播天主教  
(C)以武力降服大肚王歸順  
(D)編寫新港文教導西拉雅族原住民閱讀《聖經》

28. 小潔正在看一篇文章，但標題字有點模糊不清，只看到《從「麻豆社」到「大肚王」：試論原住民族與荷鄭時期統治者的□□》。請問：□□應填入什麼內容最為合適？(P.106,109)

- (A)合作 (B)對抗  
(C)結盟 (D)經濟。

29. 恩恩同學在瀏覽網頁時，看到了一篇報導：

1871年，琉球王國宮古島民的進貢船，因颱風漂流到臺灣東南海岸八瑤灣，54人被牡丹社和高士佛社的排灣族人殺害，12人逃出。3年後，日本因此出兵臺灣，排灣族人憑藉石門隘口天險奮勇抵抗……。

……將殺害琉球人的排灣族人塑造成野蠻民族，讓當地排灣族人多年來承受歷史上的汙名。

從文中內容判斷，此一事件應是下列何者？(P.117)

- (A)牡丹社事件 (B)清法戰爭  
(C)林爽文事件 (D)英法聯軍

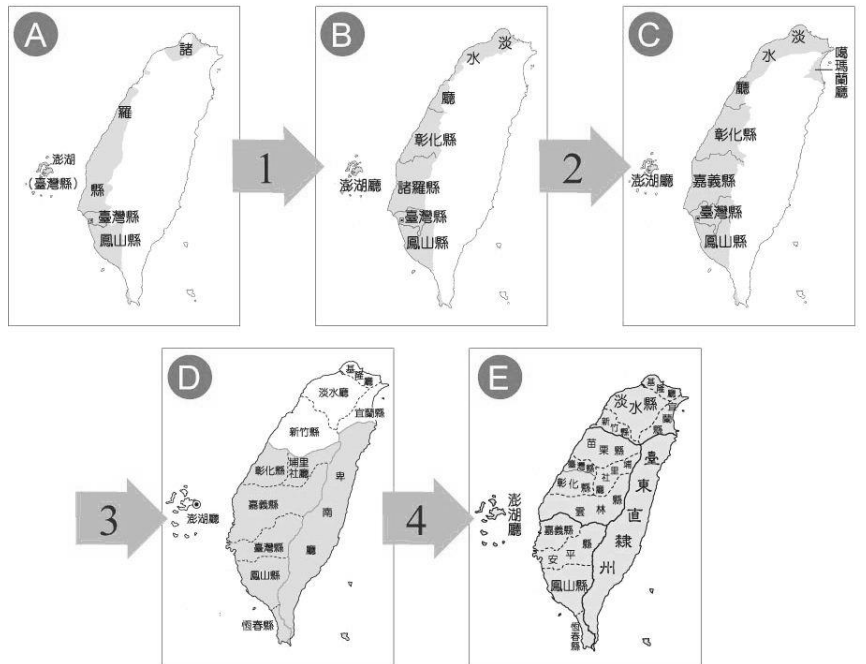
30. 關於今日臺中土牛國小的「土牛番地界碑」（如附圖）所表示意義，下列何者敘述正確？(P.108)

- (A)限制原住民生活範圍，方便管理  
(B)是高山族與平埔族的界線，避免發生衝突



- (C)漢人與原住民的界線，保障漢人開墾的權利  
(D)漢人和原住民的界線，避免漢番衝突

※31至33題為題組，閱讀下列圖文後回答問題：



31. 根據上圖所示，四個箭號分別發生的事件配對，請問下列敘述何者正確？(P.117)

- (A)箭頭1：林爽文事件  
(B)箭頭2：朱一貴事件  
(C)箭頭3：英法聯軍  
(D)箭頭4：清法戰爭

32. 圖B演變到圖C，期間發生諸多事件造成行政區劃的改變，但並不包含下列哪個原因？(P.116)

- (A)清廷計畫開港通商以因應臺灣建省所需  
(B)漢人移民日漸增多  
(C)發生民變後為了加強統治  
(D)西部平原已大致開發，漢人逐漸入墾臺灣東北部。

33. 清廷派遣官員「甲」治理臺灣，臺灣行政區劃演變成圖E，下列何者不是官員「甲」在臺的建設？(P.118,119)

- (A)設立郵局，發行郵票  
(B)架設電報線至福建福州  
(C)調整行政區為二府十一縣三廳一直隸州  
(D)設置西學堂與電報學堂

後面尚有試題，請繼續作答

# 新北市立中正國民中學112學年度第一學期七年級社會科第二次段考試題

範圍：公民 B1L3~4、歷史 B1L3~4、地理 B1L3~4 班級：\_\_\_\_\_座號：\_\_\_\_ 姓名：\_\_\_\_\_

34. 美思老師週末到土城的將軍步道健行，以下是沿路的見聞。請問健行路線位在下列哪一種地形？(P.32)

(A)高原 (B)盆地  
(C)平原 (D)丘陵

- 高度約300公尺，步道長度約1公里，向北達文筆山，向南至五城山，向北可眺望臺北盆地。
- 步道兩側種植油桐樹。
- 沿途有石板與階梯，坡度緩和，適宜親子健行。

35. 林口臺地位在新北市西北方，根據地形學者的研究，臺地是在80萬至200萬年前「甲地形作用」形成的古老平原，經「乙地形作用」隆起為2百公尺左右的平臺，地表有長期風化的紅色土壤，深處則是巨大的礫石。請問上述的甲、乙地形作用分別是什麼？(P.33)

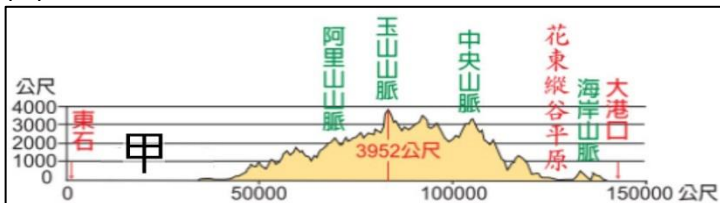
(A)河流侵蝕、河流堆積  
(B)河流堆積、板塊撞擊  
(C)板塊撞擊、風力侵蝕  
(D)風力侵蝕、火山噴發

36. 內營力是指來自地球內部，改變地形的力量，下列哪個區域主要因內營力形成？(P.33)

(A)終年有硫磺、蒸氣噴出的陽明山小油坑  
(B)由砂礫組成的圓弧狀和平溪沖積扇  
(C)風沙終年侵蝕形成的野柳女王頭(蕈狀岩)  
(D)因河川長期冲刷、侵蝕形成的烏來瀑布

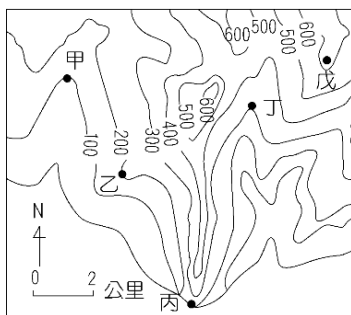
37. 下圖是顯示全臺地形的圖示，以哪一種圖示方法表現地形？(P.34)

(A)等深線地形圖  
(B)等高線地形圖  
(C)地形剖面圖  
(D)等高線圖



38. 右圖是某區域的等高線圖，圖中哪2個地點位在地勢較低陷的河谷地帶？(P.41)

(A)甲、丁  
(B)乙、戊  
(C)丙、戊  
(D)乙、丁



39. 臺灣擁有多座3千公尺以上的高峰，地勢高聳陡峻，16世紀時被日本稱呼為「高山國」(或稱高砂國)，居住在高山國的原住民稱呼為「高砂族」。以上臺灣的地形特徵，與下列哪個環境條件有關？(P.36)

(A)位於熱帶與副熱帶的緯度位置  
(B)河流眾多，河川下游有堆積地形  
(C)面迎東北風，風力侵蝕作用明顯  
(D)島嶼因歐亞、菲律賓板塊的撞擊而不斷隆起

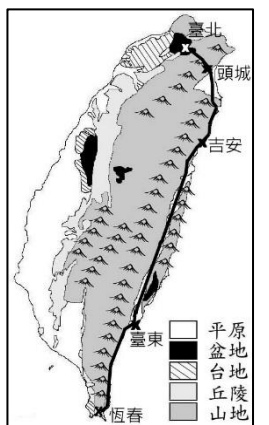
40. 省道台7線全長128公里，路線跨越雪山山脈，修建的歷史可追溯至日治時期的「角板山三星警衛備道」，是聯絡臺灣東、西部的重要道路。台7線是右圖中的哪段道路？(P.39)

(A)甲  
(B)乙  
(C)丙  
(D)丁



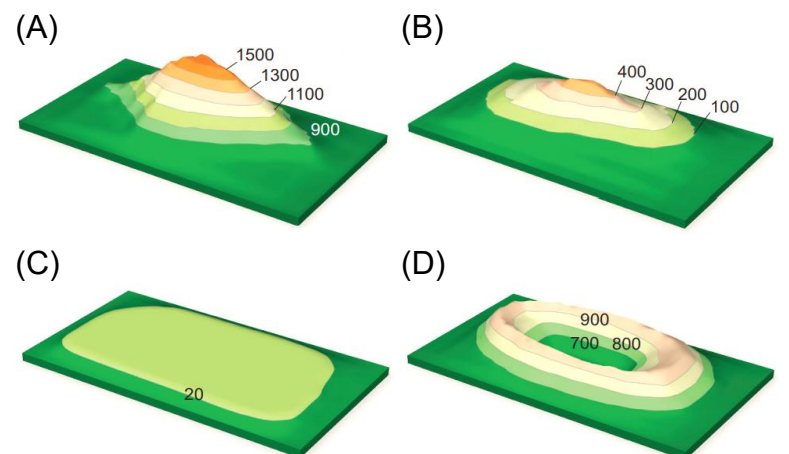
41. 右圖是淑聿老師週末旅遊的路線，圖內的顏色代表不同的地形種類。以下是某路段的景觀，請問描述的是哪個路段？(P.38)

(A)臺北—頭城  
(B)頭城—吉安  
(C)吉安—臺東  
(D)臺東—恆春




路段的前半段通過低平的平原地帶，視野開闊，能見到遠方的龜山島。進入山區の後半段路程十分驚險，一側是高山，另一側是陡峭的懸崖，在車上能見到猛烈的波浪拍擊海岸，彷彿斧頭砍劈樹木...

42. 「這類地形」多分布在山地的外緣，由於海拔高度較低、地勢較緩，可以作為農業用地，經常被開闢成茶園、果園等。上述地形可用下列哪個立體地形圖作為代表(圖內數字代表海拔高度)？(P.38)



43. 美國太空總署利用人造衛星，從太空拍攝全球的夜間衛星影像，清楚顯示人口主要分布在顏色較亮的位置。以地形的角度判斷，臺灣的人口多集中在下列哪3個地形的位址？(P.32)

(A)高原、平原、丘陵  
(B)平原、臺地、盆地  
(C)臺地、盆地、山地  
(D)盆地、山地、平原

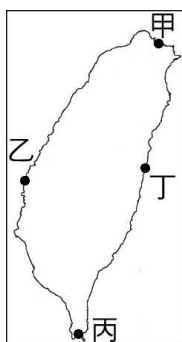


背面尚有試題，請繼續作答

# 新北市立中正國民中學112學年度第一學期七年級社會科第二次段考試題


範圍：公民 B1L3~4、歷史 B1L3~4、地理 B1L3~4 班級：\_\_\_\_\_座號：\_\_\_\_ 姓名：\_\_\_\_\_

44. 「星砂」是指外觀像星形顆粒的海洋堆積物質，通常是由多種生長在熱帶海域的有孔蟲外殼堆積而成，廣泛分布在珊瑚礁附近。臺灣有一段名為星砂灣的海岸，是少數仍保有天然星砂的地點，由於此地屬於國家公園的範圍，除了相片與回憶不能帶走其他的物品。上述的星砂灣最可能位在右圖中何處？(P.47)



(A)甲 (B)乙  
(C)丙 (D)丁

45. 新北市石門區因天然的海蝕洞(如右圖)而得名，在當地可見到什麼樣的海岸景觀？(P.47)



(A)岬角與海灣相間，海岸線曲折  
(B)海岸線陡直，多懸崖峭壁  
(C)海灘寬廣，海岸線平直  
(D)珊瑚礁覆蓋，地表崎嶇凹凸

46. 下表是我國某個離島的介紹，離島位在下圖中何處？(P.48)

(A)甲 (B)乙  
(C)丙 (D)丁

- 中國南宋時代的文獻記載，福建泉州以東有海島曰彭湖(平湖)。
- 平湖的意思是指馬公、白沙、西嶼三大島間的海域，平靜如湖。
- 居民以捕魚維生，近年憑柱狀玄武岩等景觀發展觀光業。



47. 金門列嶼、馬祖列嶼的地質地質構造與亞洲大陸相連，曾是沿海陸地的一部份，由於海平面上升、淹沒地勢較低的谷地，因此形成島嶼。根據敘述，金門、馬祖列嶼屬於哪一類島嶼？(P.49)

(A)大陸島 (B)火山島  
(C)珊瑚礁島 (D)沙洲島

48. 太平島是南沙群島中最大的天然島嶼，是我國控制疆域的最南端。歷史上太平島曾有以下的開發利用，請問下表呈現了太平島的哪一項價值？(P.49)

(A)控制交通要道，可收取過境服務費  
(B)擁有熱帶島嶼風情，具有觀光價值  
(C)地熱資源豐富，可用於發電  
(D)蘊藏天然資源，有開採潛力

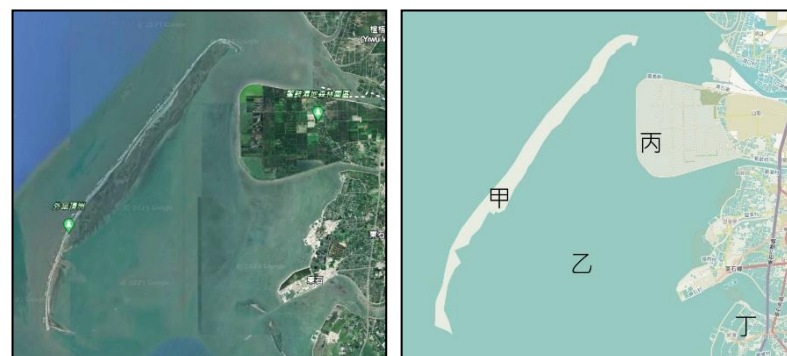
- 1907 年日本漁民以此為據點，捕撈漁獲
- 1929 年日商在此開採磷礦(來自鳥糞層的堆積)
- 1963 年退撫會在南海從事廢鐵打撈與磷礦開採
- 1981 年中油公司派遣測勘團隊，設置太平島一號井
- 2013 年南海探勘團隊進行地質調查與鑽探

※49至50題為題組，閱讀下列圖文後回答問題：

明棠利用週末到嘉義縣的「外傘頂洲」旅遊，這裡是一段非常狹長的沙灘，導遊介紹這裡受到波浪與潮流的影響，是一片「移動的國土」，近年河川的泥沙沖積量減少，外傘頂洲將變成「消失的國土」。

來往港口與外傘頂洲的航程中，廚師以當地的食材——蚵仔、現抓的魚、蝦製作海鮮粥；海面下可見到密佈的蚵棚，剖蚵仔是當地人從小就會的技能，明棠努力嘗試才學會；在外傘頂洲除了玩水、玩沙，還體驗了耙文蛤、追逐沙蟹、觀賞沙丘等活動，度過快樂的週末。

下列是外傘頂洲周圍的衛星圖與街道圖。



49. 明棠旅遊的外傘頂洲，位於上圖的哪個地點？(P.44)

(A)甲 (B)乙  
(C)丙 (D)丁

50. 明棠旅遊的景點，位在哪一類型的海岸？(P.47)

(A)珊瑚礁海岸 (B)斷層海岸  
(C)沙岸 (D)岬灣海岸

試題結束