

新北市立中正國民中學112學年度第一學期八年級社會科第二次段考試題

範圍：公民 B3L3~4、歷史 B3L3~4、地理 B3L3~4

班級：_____ 座號：____ 姓名：_____

【讀卡科目請依規定畫卡，若有違反畫卡規定而影響讀卡作業之情事，一律扣總分 5 分。】

一、選擇題

1. 華華安排寒假旅遊時，發現了下列的補助方案。請根據方案內容推論，地方政府應具有以下何種職權？
(A)辦理地方自治事項 (B)執行上級委辦事項
(C)審議地方法規預算 (D)監督行政機關施政

擴大秋冬國民旅遊—

交通部獎助方案

2019/09~2020/01 最高領2,000！

★自由行住宿優惠

- 1.每房1,000元
- 2.每週6天(週日到週五適用)

★加碼方案·離島多優惠1次

- 1.每房1,000元
- 2.不分平假日皆適用

另外，去年暖冬旅遊補助申請由中央政府統一核銷，審核時間將近 3 至 4 個月，讓配合的旅宿業者苦等良久，今年則改由地方政府負責審查民宿業者參與資格及受理補助申請，期待能更有效率的刺激國內觀光，讓國人玩得開心。

(習作P.50)

2. 我國《憲法》規定軍備採購、外交事務等由中央政府籌謀，而都市計畫擬定、垃圾處理方式等，則由地方政府規畫。當上述事務權限劃分發生爭議時，依我國相關法令判斷，應由下列何者處理此爭議？(A)行政院 (B)司法院 (C)立法院 (D)總統。(習作 P.50)

3. 右圖是兩個朋友間的對話，從對話內容可知，小莉參加的考試最可能是由下列何者所舉辦？

- (A)考選部
 - (B)銓敘部
 - (C)內政部
 - (D)教育部。
- (習作 P.47)

小莉，今天考試考得如何呢？

今年的專業科目試題好難喔，我希望考試錄取後，有機會分發到中央的教育部工作。



4. 下表為幸福國近幾年的中央政府總預算、刪減預算金額及刪減比例之資料。若依表中內容及我國中央政府職權判斷，下列敘述何者「錯誤」？(習作 P.48 改編)
- (A)(甲)資料是由行政院提出，並交由立法院審核
 - (B)(乙)是經由立法院審查後，所做出的調整結果
 - (C)根據(丙)判斷，2020 年行政院可能提出覆議案
 - (D)未來執行以後，應做成決算交由立法院來審查

單位：幸福幣

年度 (西元)	(甲) 提出預算金額	(乙) 刪減預算金額	(丙) 刪減比例
2017	1,200,000,000	17,790,000	1.5%
2018	1,240,000,000	20,000,000	1.6%
2019	1,500,000,000	20,000,000	1.3%
2020	1,600,000,000	80,000,000	5%

5. 美麗的公民老師因應社會上日益嚴重的犯罪問題，決定帶領同學參觀「新北地方法院」。請問，「新北地方法院」所隸屬的中央政府，與下列哪一機關所隸屬的中央政府是「相同的」？(P.148-151)
(A)甲 (B)乙 (C)丙 (D)丁。

機關	具有職權
甲	解釋憲法、統一解釋法律和命令
乙	設置警察機關以維持治安
丙	決定國家安全的大政方針
丁	質詢行政院院長及各部會首長

6.

2021 年 10 月 14 日新聞報導：日本政府上午召開臨時內閣會議，首相岸田文雄與所有閣員簽署解散眾議院的閣議書，決定「解散眾議院」。

若上述新聞報導發生在台灣，較可能出現在何種情況下？(P.152-154)

- (A)行政院對立法院提出覆議案
- (B)監察院對立法委員提出彈劾案
- (C)立法院對行政院長提出不信任案
- (D)立法院對正、副總統提出彈劾案

7. 中正國將於今年十一月舉行地方選舉。請就附表四位候選人所提出的參選政見判斷，哪一位的政見屬於直轄市議員的職權範圍？(P.160-162)

姓名	主要參選政見
妮妮	參加國際組織，大幅開拓臺灣的外交空間
阿呆	審理路平專案的預算案
正男	發展交通建設，推動在地藝文教育
小新	修改傳染病防治法，提供市民免費施打疫苗

(A)妮妮 (B)阿呆 (C)正男 (D)小新。

8. 軒軒的爸媽利用小學畢業後一段時間，帶著他從臺北開車環島旅行，當作是他的畢業禮物。下列是他們所到的景點，請問：他們所到之處，何者的配對是屬於同一層級的地方政府？(P.162)

- (甲)臺中市—后豐鐵馬道
- (乙)嘉義市—檜意森活村
- (丙)高雄市—十鼓橋糖文化園區

背面尚有試題，請翻面繼續作答

新北市立中正國民中學112學年度第一學期八年級社會科第二次段考試題

範圍：公民 B3L3~4、歷史 B3L3~4、地理 B3L3~4

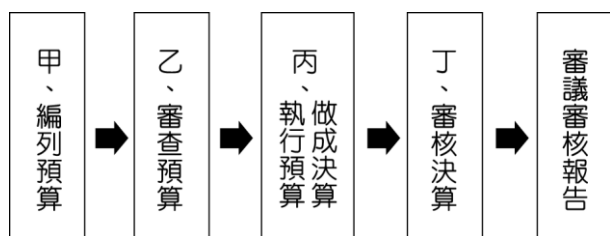
班級：_____座號：____姓名：_____

- (丁)花蓮市—松園別館
(戊)宜蘭市—幾米廣場
(己)基隆市—正濱漁港 彩虹屋
(A) (甲)和(乙) (B) (丁)和(戊)
(C) (戊)和(己) (D) (乙)和(丙)

9. 我國政府的權力分為五種，若將地方政府擁有的權力塗色，則下列何者正確？(P.160-161)

(A)	行政權	立法權	司法權	考試權	監察權
(B)	行政權	立法權	司法權	考試權	監察權
(C)	行政權	立法權	司法權	考試權	監察權
(D)	行政權	立法權	司法權	考試權	監察權

10. 附圖為政府預算及決算經費的流程圖，關於其敘述何者正確？(P.154)



- (A)甲：監察院 (B)乙：司法院
(C)丙：行政院 (D)丁：立法院

11. 根據《中央社》報導，近年少子女化現象，讓中小學面臨減班壓力，不敢釋出太多正式教職，多以代理教師名額補充校園師資問題，但代理教師與正式教師工作內容幾乎無異，薪資待遇卻落差很大，教育部也因此在此 2022 年被○○院糾正，要求應改善此現象。請問，○○院指的是哪一政府機關？(P.148-151)

- (A)行政院 (B)立法院 (C)司法院 (D)監察院。

12. (承上題)少子化已變成國安問題，行政院為因應日益嚴重的少子化問題，統籌規畫政策後，由各地方政府協力推動執行。請問：下列述內容，何者是地方政府可以行使的職權？(P.160-162)

- (A)決議不孕症的治療與診斷納入健保給付
(B)發放育兒津貼，推動平價教保服務等育兒政策
(C)推動與制定「少子女化社會對策基本法」
(D)修訂「性別工作平等法」，延長產檢假及產假的天數。

13. 附表所列為我國重要官員的產生方式，其中哪一項敘述正確？(P.148-151)

甲	行政院院長	公民直接選舉
乙	立法院院長	總統提名任命
丙	司法院院長	大法官互相選舉產生
丁	考試院院長	由總統提名，經立法院同意後由總統任命

- (A)甲 (B)乙 (C)丙 (D)丁。

14. 四位認真向學的同學，正在討論「罷免案」與「彈劾案」，請問，哪一位同學的描述是完全正確的？(P.148-151)

- (A)小芸：行政院可以提出正副總統罷免案
(B)小楷：監察院可以提出公務人員彈劾案
(C)小恩：司法院可以提出正副總統罷免案
(D)小庭：監察院可以提出正副總統彈劾案

15.

新聞報導：金門縣政府養護工程所「開箱」測試未使用過的「瀝青混凝土鋪裝機」，未來可針對路面破損、龜裂，大面積刨鋪等問題，鋪築過程可縮短近一半時間，快速又有效率。



上述新聞報導屬於地方政府的哪一項職權？(P.161)

- (A)經濟發展 (B)安全衛生 (C)教育文化 (D)社會福利。

16. 新北市全力打造「全臺借書最強卡」，繼 2017 年與基隆市、2018 年與臺北市展開閱讀資源共享的區域合作後，2019 年持續將閱讀服務向南延伸到桃園市，透過四縣市的跨域合作，來營造北北基桃的閱讀生活圈。未來只要透過一張借書證，就可以互相借閱四市圖書，給予民眾 2,000 萬本書的多元選擇，將有近千萬的民眾可受惠。有關該措施所反映出的地方政府職權，下列何者最為正確？(P.160-162)



- (A)此政策為教育文化項目，是中央政府的權限
(B)資源共享法律上只限於同一生活圈的北北基
(C)此為跨縣市的區域合作，需由中央政府推動
(D)透過跨區域合作的方式，可以擴大圖書資源

後面尚有試題，請繼續作答

新北市立中正國民中學112學年度第一學期八年級社會科第二次段考試題

範圍：公民 B3L3~4、歷史 B3L3~4、地理 B3L3~4

班級：_____座號：____姓名：_____

17. 小朱與小柯是元朝人，小柯居住在江南一帶，而小朱居住在大都。某年兩人一齊參加進士科考試，小柯考的是左榜，題目較難、錄取率較低，將來僅能擔任副級官職；小朱考的是右榜，題目較易、錄取率較高，將來有機會就任重要官員。請問：小朱最不可能屬於哪一群的人？（3-2，P.93）
 - (A)色目人
 - (B)蒙古人
 - (C)西域人
 - (D)南人。
18. 西元2018年，時任共和黨籍的美國國防部長馬提斯曾提及：「中國以強悍的方式，想要恢復明朝的朝貢體制，讓其他國家都成為藩屬國。」表達美國對於中國在經濟、軍事上的擴張與挑戰之擔憂，請問：所謂朝貢體系的思想指是下列何者？（4-1，P.99）
 - (A)每個主權國家都是平等的關係，沒有哪個國家是至高無上的
 - (B)中國是世界中心，只有得到中國認可才能與中國往來、通商
 - (C)是區域軍事同盟的體系，只要一國遭受攻擊，全部的盟國都會參戰
 - (D)君權神授，只有採取君主集權專制的國家才能參與朝貢體系。
19. 清朝時期，西方天主教傳教士對中國傳統禮儀是否與天主教義相容，在天主教內有兩種不同的看法，耶穌會認為祭祖、祭孔乃世俗的禮儀，與天主教教義相容，在一定範圍內，是被允許的；而道明會和方濟會則認為與天主教一神教義相悖，並因此向教宗請示報告。教宗依諾增爵十世批准，發布通諭，禁止天主教徒參加祭祖祀孔，因此與清朝在學術和政治上發生衝突。請問這個衝突對中國產生什麼影響？（4-3，P.103）
 - (A)引發倭寇之亂
 - (B)引起白銀流入中國
 - (C)西方科學引入中國
 - (D)中西文化交流中斷。
20. 宋朝與鄰國遼國的互動，打破以往中國傳統外交制度。下列關於宋與遼的互動，何者正確？（3-1，P.90-P.91）
 - (A)曾簽訂「澶淵之盟」，確立雙方對等外交
 - (B)宋曾收復燕雲十六州建立長城抵禦遼國
 - (C)「澶淵之盟」後有貿易往來，但宋遼兩國經常相互開戰
 - (D)女真崛起後，遼國率先與女真結盟滅掉北宋。
21. 西元2022年，俄羅斯入侵烏克蘭，若是攻下其首都基輔，將造成將造成上千萬難民流離失所，導致歐洲動盪。其實早在十三世紀時，亞洲某草原民族就已經發動西征，也造成歐洲動盪，也曾經拿下基輔羅斯等地區，並且建立欽察汗國管理當地。請問：關於某草原民族的敘述，下列何者正確？（3-2，P.91、P.93）
 - (A)該民族的成吉思汗發動三次西征
 - (B)該族群為發源北方的党項人
 - (C)該民族曾於中國領土建立元帝國，首都位於大都
 - (D)透過遠征，將中亞、西亞與非洲等地納入統治，形成跨越族群文化疆域的國際新秩序。
22. 元朝末年，已有倭寇出現，朱元璋於西元1368年建立明朝，此時正值日本的南北朝內戰，流離失所的日本平民為逃避戰亂，紛紛流亡海上。西元1392年，日本北朝的足利氏吞併南朝，不少南朝遺臣相繼逃亡出海，與日本浪人組成武裝集團，形成倭寇，侵擾中國沿岸地區。請問：明朝初期採取何種政策以防備倭寇？（4-2，P.100）
 - (A)興建海上長城
 - (B)實施海禁政策
 - (C)派遣鄭和至東南亞尋求軍事協助
 - (D)遷都北京。
23. 明代末年來到中國想要傳教的傳教士利瑪竇，為了要順利傳教，做了許多努力想要與當時中國的知識分子交流。下列何者並非他為了打入當時士大夫文化圈所做的努力？（4-3，P.102）
 - (A)與明朝士大夫徐光啟合譯《幾何原本》
 - (B)請求明朝政府開放長崎以外的其他港口，讓耶穌會傳教士前來傳教
 - (C)將西方科學知識與技術介紹到中國
 - (D)允許中國教徒祭祖祀孔。
24. 陸游是南宋著名的愛國詩人，金兵在他2歲時，攻入汴京，使宋遷都臨安。陸游臨終前，仍心心念念國家大事，寫了一首詩給他的兒孫。希望有朝一日國家北伐收復失地之時，他的兒孫能燒炷香讓他知道，以告慰他的在天之靈。請問：陸游在世時，最有可能聽聞下列哪個事件的發生？（3-1，P.91）
 - (A)北宋與遼國簽定澶淵之盟，約定北伐金國洗雪戰敗恥辱
 - (B)為保護人民，免遭金國鐵騎蹂躪，徽欽二帝號召汴京百姓大舉南遷至南京，建立新權政
 - (C)契丹族越過長城，占據燕雲十六州，不斷南犯無險可守的北宋
 - (D)靖康之禍，徽宗欽宗兩位皇帝與宗室遭金兵擄走，殘存的宋室南遷，建立南宋。
25. 蒙古帝國除了使用銅錢等金屬貨幣之外，也鼓勵使用紙幣，這是因應何種社會經濟背景而產生？（改編自習作3-3，P.94）
 - (A)戰爭失利賠款過多，貨幣大量外流
 - (B)坊市的分離限制了城市的發展，造成銅錢供需失調
 - (C)國內商業繁盛，使用紙幣便於交易
 - (D)發明活字印刷術，印刷紙幣更容易。
26. 「麒麟」自古以來被視為祥瑞神獸，若其出現則代表皇帝有德行，國家強盛、百姓安居。十六世紀時，「長頸鹿」自榜葛刺(孟加拉)被引入北京作為朝貢品，眾人皆以為是「麒麟」降世，也是閩南語中「麒麟鹿」一詞的由來。當時皇帝大悅，命人繪製《瑞應麒麟圖》，流傳至今。上文的敘述最有可能是指哪一件史事？（4-1，P.99）
 - (A)明成祖派遣鄭和率領船隊前往「西洋」
 - (B)唐太宗擊滅東突厥，為西北各族君長尊之為「天可汗」
 - (C)清朝康熙、雍正、乾隆三帝致力於鞏固政權擴大版圖，使清代國勢達於極盛
 - (D)漢武帝北伐匈奴派遣張騫出使「西域」開通絲路。

背面尚有試題，請翻面繼續作答

新北市立中正國民中學112學年度第一學期八年級社會科第二次段考試題

範圍：公民 B3L3~4、歷史 B3L3~4、地理 B3L3~4

班級：_____座號：____姓名：_____

27. 靖康之禍(難)後，宋高宗為了躲避戰禍，南遷偏安，史稱南宋。面對金人一再地威脅，朝廷內出現主戰與主和兩派不同意見，宋高宗最後採行哪一項政策？（3-1，P.91-P.92）
- (A)派遣主戰派岳飛等名將北伐金國收復北宋首都汴京，洗雪靖康之恥
- (B)派遣主和派大臣，與金國談判，要求金國釋放父親徽宗與其兄欽宗，並宣示將皇位主動讓與其父徽宗
- (C)派遣主和派大臣與金國和談，停止北伐，宋金議和
- (D)與塞北的蒙古族建立軍事同盟，擬定「聯蒙滅金」策略，大舉伐金洗雪靖康之恥。

28. 以下是中國歷史人口數量略表：

朝代	人口
南宋、金、西夏、大理	約1億4千萬
元代、明初	約6千萬
明萬曆	約1.5億
清乾隆	突破3億
清朝中葉	突破4億

從上表中發現，明中葉以後中國人口增長快速，判斷最可能是以下哪一因素所致？（4-3，P.102）

- (A)不斷的征伐，致使中國版圖增加
- (B)精準又普及的戶籍調查，使隱匿人口浮現
- (C)原產於美洲的耐旱作物的傳入中國為農民普遍種植
- (D)基督教長老會傳教士帶來新的醫學觀念。
29. 北方草原民族在管理中國政權的時候，並非都是單面向的融於漢人文化，相反的，一方面保留漢人文化來統治漢人，另一方面也維持原本草原民族的文化體制，不只在自己民族上繼續沿用，有時也會強迫漢人學習效法。例如：利用科舉制度來統治漢人，學習漢語，但不會放棄自己的語言。下列哪一個朝代符合文中所說的概念？（3-2，P.92）
- (A)漢朝
- (B)唐朝
- (C)宋朝
- (D)元朝。
30. 十六至十八世紀，新航路發現之後，明清帝國與歐洲商人的貿易轉趨頻繁，中國被納入世界貿易體系之中。這段時期有關國際貿易的敘述，哪一項正確？（4-2，P.101）
- (A)東亞貿易的貨幣以銅錢為主
- (B)漢人海商的貿易對象由原本明初參加朝貢體制的國家，轉為占有東南亞各地的歐洲殖民者
- (C)歐洲商人以日本、歐洲與非洲間流通的黃金購買中國的商品
- (D)中國主要出口商品包含絲綢、瓷器、鴉片。
31. 元朝時，來自江西的張小杉經過數年的寒窗苦讀，赴京趕考。請問：他在準備科舉考試期間，最該研讀的是下列哪一位學者的成名作？（改編自習作3-3，P.95）
- (A)朱熹—《四書集註》
- (B)曹雪芹—《紅樓夢》
- (C)李時珍—《本草綱目》
- (D)羅貫中—《三國演義》。

32. 明清帝國是中國朝代當中的最後兩個時期，此時期不論是本身政權就相當複雜，再加上明清帝國又與周邊政權關係有著更為密切的往來，這都加深了明清帝國局勢的複雜性。下列關於明清帝國的敘述，何者正確？（4-1，P.98-P.99）
- (A)明成祖將首都遷至南京的原因，是為了防範滿洲的入侵
- (B)清朝前期為鞏固統治，一方面禮遇明朝遺臣，一方面強迫漢人薙髮，大興文字獄，以消滅反清意識
- (C)十六世紀末，日本二度向琉球擴張勢力，皆因明朝出兵援助，而使日本勢力無法進入琉球群島
- (D)元朝末年因為流寇李自成竄擾的因素，使元朝滅亡。最終朱元璋擊敗流寇勢力，建立明朝政權。
33. 宋朝以來東西方商貿熱絡，帶動文化多樣化的發展，促使科技與知識技術的進步及中西文化的傳布。下列哪一選項最不符合當時的經濟文化發展？（3-3，P.94-95）
- (A)火藥廣泛應用於戰爭，透過蒙古東征之後，輾轉東傳至東南亞
- (B)宋元時期，伊斯蘭信徒匯聚於清真寺，除傳播伊斯蘭教之外，亦將天文、藥物知識，影響了宋元之後曆法與醫學的發展
- (C)阿拉伯商人運用中國的航海技術與指南針，活躍於東亞海上貿易，促使宋元於廣州、泉州設市舶司徵收貨物稅與關稅
- (D)蒙古西征後，東西貿易暢通，各地設立驛站，加強蒙古統轄範圍內歐亞大陸的聯繫。

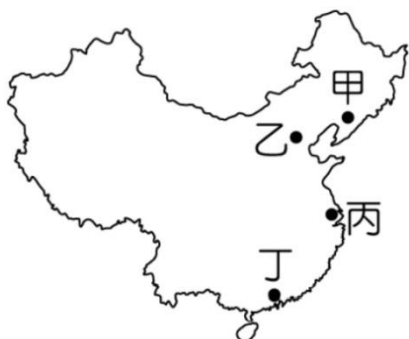
後面尚有試題，請繼續作答

新北市立中正國民中學112學年度第一學期八年級社會科第二次段考試題

範圍：公民 B3L3~4、歷史 B3L3~4、地理 B3L3~4

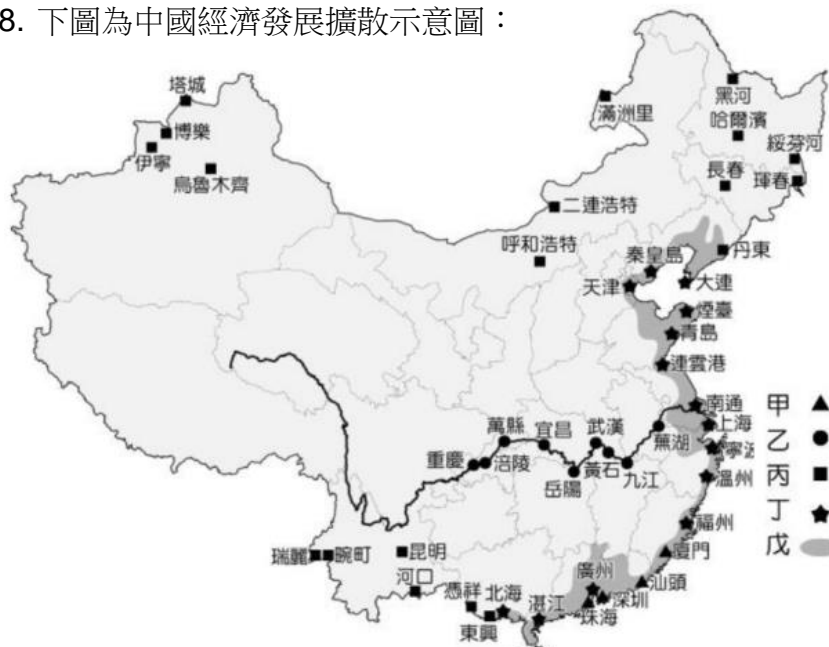
班級：_____座號：____姓名：_____

34. 由於經濟改革開放，使得中國的經濟快速發展，現今已成為世界第二大經濟體。最早對外開放的地區，地理位置多在哪个區域附近？(P.32)
(A)東北平原 (B)長江三角洲
(C)珠江三角洲 (D)華北平原。
35. 經濟特區吸引大量外國企業前往投資，帶動中國產業快速發展。關於早期五個經濟特區所共同具備的設廠優勢，何者錯誤？(P.32)
(A)廣大的市場 (B)優惠的政策
(C)便利的對外交通 (D)低廉勞工。
36. 中國有句俗話說：「十年看深圳、百年看上海、千年看北京、三千年看西安。」可見近年來深圳的發展快速，在中國占有一席之地。有關深圳所具備的優勢為何？(甲)煤、鐵資源豐富 (乙)鄰近香港可經驗交流 (丙)原有都市規模巨大且人口多 (丁)政府提供優惠的政策配合。(P.36)
(A)甲乙 (B)甲丙 (C)乙丁 (D)乙丙。
37. 下圖的丙城市為中國直轄市之一，也是中國經濟最繁榮的城市，有關此城市的敘述何者正確？(P.37)



- (A)近年來開闢浦西地區以紓解浦東地區高度發展帶來的壓力
(B)交通位置優異，位於環渤海經濟圈
(C)為中國的首都，為中國政治及行政中心
(D)是沿海及長江沿岸發展的軸心

38. 下圖為中國經濟發展擴散示意圖：



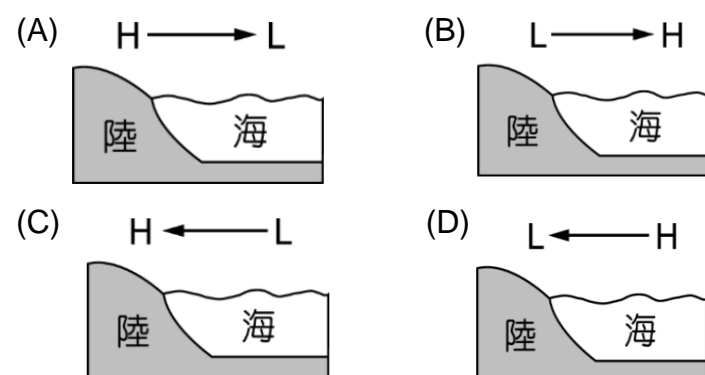
- 圖中甲～戊為不同時期開放的都市或地區。圖中乙時期主要是沿哪條河川開放沿岸都市？(P.33)
(A)珠江 (B)長江 (C)淮河 (D)黃河。

39. 近年來華為、Oppo、Vivo、小米等中國生產的手機積極擴張海外市場，在2021年第二季全球手機市場排名，

小米市占率達17%，首度超越蘋果晉升全球第二，年增率達83%。中國何現象與手機海外銷售節節攀升有關？

- (A)第一級產業比重高 (B)產業轉型升級
(C)網際網路普及提高 (D)勞力密集產業興盛。(P.40)

40. 根據〈韓聯社〉報導，南韓環境部國立環境科學院2019年發布一份由南韓、日本及中國三國專家進行的共同研究報告，科學家發現韓日國內因素導致的空氣汙染均約為5成，中國則高達9成；境外移入部分，從中國移入南韓的空氣汙染物占32%、移入日本的則占25%。有關中國汙染物質對南韓的影響在哪个季節最明顯？(P.44)



41. 中國重工業的發展，(甲)早期因礦產運輸不易，所以(乙)工廠大多集中在原料產地，但因國內需求量漸大，(丙)原料不敷使用後，需依賴進口，因此重工業(丁)轉而移往國外發展，有關中國重工業的發展何者錯誤？(P.31)
(A)甲 (B)乙 (C)丙 (D)丁。

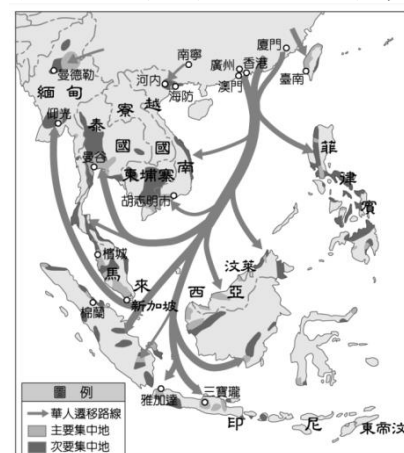
42. 下圖為中國高速鐵路分布圖，敘述何者錯誤？(P.31)



- (A)新疆地勢高聳興建不易因此沒有高速鐵路
(B)鐵路網密集度為東>中>西部
(C)鐵路密集度和一地的經濟發展程度成正比
(D)鐵路密集度和人口數成正比

43. 下圖為近代中國東南沿海居民向外遷移示意圖，促使當地居民向外遷移的主要推力為何？(P.23)

- (A)河川短小
(B)降水稀少
(C)氣候嚴寒
(D)丘陵廣布。



背面尚有試題，請翻面繼續作答

新北市立中正國民中學112學年度第一學期八年級社會科第二次段考試題

範圍：公民 B3L3~4、歷史 B3L3~4、地理 B3L3~4

班級：_____座號：____姓名：_____

44. 中國在1979年實施的計畫生育政策，在2016年和2021年分別作出調整，下圖是2021年的人口政策標語，請問一胎化帶來的影響何者正確？(P.24)

- (A)人口總數下降
- (B)性別比下降
- (C)高齡化提前
- (D)人口外移嚴重



45. 一帶一路為中國這些年來積極推動的計畫，企圖從陸路及海路同時打通前往各國的貿易路線，示意圖如下，有關一帶一路的敘述何者錯誤？(P.43)



- (A)陸路包含伊朗、土耳其、荷蘭
- (B)海陸包含印度、斯里蘭卡及美國
- (C)若經陸路通往歐洲，可帶動中國西部經濟帶的發展
- (D)合作國家的經濟狀況是一大隱憂

46. 有關下圖中國三大經濟帶的敘述何者錯誤？(P.35)

- (A)甲經濟帶勞動力最充足
- (B)甲經濟帶電力、原料吃緊
- (C)乙經濟帶的人口容易被丙經濟帶吸走
- (D)丙經濟帶的地理位置有利於與中亞國家貿易



47. 中國企業近年來由於經濟發展快速，快速累積大量資金，因此紛紛併購國外企業，希望加速國內產業升級。在此目的下，哪一個企業較不是中國併購的目標？(P.33)

- (A)芬蘭遊戲軟體開發公司
- (B)瑞典富豪(volvo)汽車
- (C)印尼成衣工廠
- (D)德國機器人公司。

48. 現在市售的新款投影機都不需要濾網，但在中國北部受到沙塵暴的影響，投影機內部常堆積一層黃土與灰塵，因此加強售後服務很重要，有關中國此現象通常與哪一個因素息息相關？(P.44)

- (A)行動支付普及
- (B)經濟發展過快
- (C)人口東密西疏
- (D)地勢西高東低。

49. 今年第一季開始，中國超越了全球汽車霸主日本撼動國際，全球約每3輛出口的電動車，就有一輛是「中國製造」。跟半導體科技戰態勢很不同，進口的中國電池在歐洲裝機市佔率已從12%上升至33%，在電動車產業，不是中國被圍堵，反而是美國和歐洲被中國掌握的電池供應鏈卡脖子，以下情勢或因應措施何者錯誤？(P.42)

- (A)美國可加強對國內芯片製造商的出口審核
 - (B)美國內應補貼電池製造，打造本土供應鏈
 - (C)歐洲可投入資金補貼電池研發
 - (D)中國電動車因技術佳而搶佔高端產品市場
50. 2023年8月起中國管制半導體材料“鎵”和“銻”的出口，鎵、銻都是重要的稀有金屬，在半導體材料內應用廣泛，中國鎵的產量佔全球90%且大部分出口至日本，輿論認為中國這一措施，是對日美等限制半導體關鍵技術向中國出口的反擊，根據上文何者錯誤？(P.42)
- (A)中國一線大都市物產豐富擁有充足的動力
 - (B)中國半導體產業較需加強尖端技術的發展
 - (C)日本可就WTO等國際規定採取適當的反制行動
 - (D)國際貿易戰已成為維護國家競爭力不可或缺的手段