

【讀卡科目請依規定畫卡，若有違反畫卡規定而影響讀卡作業之情事，一律扣總分 5 分。】

### 一、選擇題

- 貨幣的出現使得市場交易更加便利，但其出現是經過一連串的演進過程。關於貨幣演進的敘述，下列何者最為「正確」？(第五課P180-181)  
(A)法定貨幣有數量不足、攜帶不便等缺點  
(B)硬幣與紙鈔的使用，有耗時費力的缺點  
(C)政府發行商品貨幣，並強制規定其價值  
(D)以物易物的交易方式缺乏價值衡量標準
- 2.傑生：我新買的這雙鞋子要 1500 元。紅軍：我買的這雙鞋子和你的看起來差不多，但才1200元，比你的便宜。請問：從上述兩人的對話中，可以看出貨幣的何種功能？(第五課P182)  
(A)價值儲存  
(B)交易媒介  
(C)價值衡量  
(D)債務清償
- 根據【圖一】的資料，請判斷下列那句話是發生在此變化之後？(第五課P184-185)  
(A)最近去美國旅行或遊學真是不划算  
(B)現在應該多買一些美元存銀行定存  
(C)最近應該會有很多台灣人去美國玩  
(D)最近要向美國廠商多進口一些商品  
過去：1 美元：30 新臺幣  
現在：1 美元：33 新臺幣  
【圖一】
- 元旦假期，太義和凱盛相約到夢時代逛街，兩人刷(甲)悠遊卡搭捷運前往土城站。到日月光後他們去逛美妝店，太義本來想以(乙)現金 1500 元買保養品，凱盛則建議太義以(丙)信用卡方式購買，可累積紅利點數。請問：依據上述內容，下列關於貨幣功能的對應關係，何者「正確」？(第五課P182-183)  
(A)甲、乙、丙皆由政府發行，都可安心使用  
(B)使用甲時，要先辦理儲值，否則無法使用  
(C)乙本身就具有價值，是商品也是交易媒介  
(D)丙的好處是延遲支付，不用擔心使用限制
- 余凱經營的公司，主要業務是代理日本名牌服飾進口台灣，最近日幣持續貶值，這對余凱的公司有何影響？(第五課P184-185)  
(A)所須支付的進口成本減少  
(B)所須支付的進口成本提高  
(C)進口名牌服飾的數量減少  
(D)進口名牌服飾的價格提高
- 函涵看到某銀行新推出的「外幣兌換優惠方案」，關於該方案所使用的外幣，下列說明何者「正確」？(第五課P184-185)  
(A)外幣指國與國貨幣間的兌換比例  
(B)外幣買賣時只能透過中央銀行

- (C)新台幣若貶值就可兌換更多外幣  
(D)可作為不同國家間的交易媒介
- 與凡是一名室內設計師，平時除了和客戶開會、進公司工作以外，偶爾也會在家加班。工作閒暇之餘，與凡會回老家幫忙照顧生病臥床的爸爸，打理家事；有時則會去美術館擔任志工。根據上文內容判斷，下列關於與凡所從事勞動的敘述，何者「正確」？(第六課P192-193)  
(A)在家加班屬於家務勞動  
(B)擔任志工屬於有酬勞動  
(C)照顧爸爸屬於無酬勞動  
(D)打理家事屬於市場勞動
- 請問：下列哪一個人的敘述，對市場勞動參與者的保障最佳？(第六課P192-193)  
(A)宏林:不請育嬰假者，未來才能得到升遷機會  
(B)從成:未達績效者，以減薪的方式提高工作效率  
(C)存鐸:高績效高獎金、隨 CALL 隨到全年無休的團隊  
(D)廷瑜:重視工作環境維護，安排員工在職進修或教育訓練
- 就讀國中的阿軒為貼補家用，晚上會到夜市以童工的身份合法打工，導致白天上課時精神不濟，影響學習，後經學校和相關單位查訪，才發現雇主已經違法；而阿軒也在導師向他分析打工的利弊後，決定不再打工，先認真念書期望考取理想的學校。請問：下列何者最有可能出現在上文敘述的內容中？(第六課P192-193)  
(A)阿軒當時14歲  
(B)政府可依《民法》對雇主開罰  
(C)阿軒打工時，雇主要求他晚上 11 點才下班  
(D)阿軒打工的機會成本僅是犧牲晚上休息的時間
- 中正國的各項民生物資持續大幅上漲，相同金額所能購買的物資數量減少，多數家庭必須增加開銷才能維持原來的消費水準，上述現象說明中正國正面臨下列何種處境？(第五課P181-182)  
(A)物價維持穩定  
(B)發生通貨膨脹  
(C)民眾購賣力提高  
(D)政府主導民生物資價格。
- 承上題，該處境發生時，最有可能發生下列哪一種現象？(第五課P181-182)  
(A)民眾的儲蓄意願上升  
(B)政府發行消費券、刺激消費  
(C)民眾採取搶購、囤積物資  
(D)民眾的生活水準變好。
- 妙奇是職場新鮮人，畢業半年後終於找到人生中第一份正式的工作，媽媽叮嚀她投入職場後，一定要注意自己的「工作倫理」。上述媽媽所說的「工作

新北市立中正國民中學113學年度第一學期九年級社會科第三次段考試題

範圍：公民 B5L5~6、歷史 B5L5~6、地理 B5L5~6 班級：\_\_\_\_\_座號：\_\_\_\_ 姓名：\_\_\_\_\_

倫理」不包括哪一項？(第五課P190-191)

- (A)須有敬業精神與職業道德
- (B)以迎合老闆為第一要務
- (C)要有正確的工作觀
- (D)持續的充實自己。

13. 俊逸預計四個月後到奧地利深度旅遊，先上網預訂房間，發現以歐元計價，當時一間海景房要價 300 歐元 (當時匯率歐元:台幣=1:42)，三個月後付款時，需多付新台幣 3000 元。請問無其他因素影響，此時匯率為多少？(第五課P184-185)

- (A)歐元:台幣=1:52
- (B)歐元:台幣=1:53
- (C)歐元:台幣=1:54
- (D)歐元:台幣=1:55

14. 下表關於四人對貨幣的敘述，何者說法「正確」？

(第五課P182-183)

- (A)凡煜:「塑膠貨幣普及，逐步取代法定貨幣」
- (B)韋恩:「貨幣價值的高低是以其所能購買商品數量為標準決定」
- (C)伯泉:「商品貨幣是政府以法令強制規定其價值」
- (D)嘉怡:「影響貨幣的價值原因為物價漲跌與貨幣發行單位」。

15. 依據下列的敘述，請問何者符合「失業」的標準？

(甲)宗旭明天從刑事警察請調為交通警察(乙)退休在家含飴弄孫的陳奶奶 (丙)斯登碩士畢業履歷始終石沉大海(丁)留職停薪照顧小孩的雲廷(戊)阿翔被老闆裁員明天不用進公司。(第五課P190)

- (A)甲乙丙
- (B)甲丁戊
- (C)乙丁
- (D)丙戊。

16. 「西城和爸爸逛大賣場，父子二人在鞋子部門各買了一雙球鞋(甲)共支付店家4200元，之後二人逛到家電部門，西城想以(乙)現金1500元購買一台電風扇，爸爸建議西城以(丙)刷卡方式購買，如此可將身上剩下的現金(丁)儲蓄在銀行，西城接受爸爸的建議。」根據上述有關貨幣功能的敘述，下列何者「正確」？

(第五課P182)

- (A)甲具有交易媒介性質
- (B)乙屬於價值儲存的方式
- (C)丙展現出清償債務的特性
- (D)丁衡量商品的價值。

# 新北市立中正國民中學113學年度第一學期九年級社會科第三次段考試題

範圍：公民 B5L5~6、歷史 B5L5~6、地理 B5L5~6 班級：\_\_\_\_\_座號：\_\_\_\_姓名：\_\_\_\_\_

17. 自哥倫布於 1492 年航行至中南美洲後，歐洲與美洲的物種、文化與疾病逐漸產生深層連結，這一歷史過程被稱為「哥倫布大交換Columbian Exchange」。其後，隨著各國海上勢力的發展，這一交換進一步擴展為東、西半球的全球性交流，影響了世界經濟與生態體系。以下有關哥倫布大交換的敘述，何者**錯誤**？(P.119)
- (A)梅毒由美洲傳入歐洲，並引發大規模流行病  
(B)甘蔗被引入美洲，成為殖民地重要的經濟作物  
(C)辣椒從美洲傳播至全球，深刻影響各地飲食文  
(D)咖啡由美洲傳入歐洲，並成為現代流行飲品
18. 彼得·蓋 (Peter Gay)曾在書中提到「啟蒙運動，實際上是科學革命的哲學果實。」下列何項描述，對這句話的詮釋最為恰當？(P.126-131)
- (A)希臘、羅馬文化再發現，強調古代經典作品以人為本的價值  
(B)機器逐漸取代人工生產，實施工廠制度促進物質生活的發展  
(C)人類社會如同自然世界，可以依循理性尋找普遍的運作原則  
(D)對東方商品的需求增加，刺激海外探險促使殖民運動的展開
19. 某位學者曾說過「在科學問題上，千人的權威不如一個人謙遜的推理。」這句話強調科學探索中理性與實證的重要性，並反對依賴盲目的權威來決定真理。請問這樣的觀點可能是誰所提出？(P. 126-127)
- (A)盧梭(B)瓦特(C)伽利略(D)馬克思
20. 「我們的祖先是這片廣大土地的主人；但是，你們的祖先越過大西洋，到達我們的家園，他們竟想要得到我們整個的家園。現在，你們成了一個龐大的民族，而我們卻幾乎連容身之地都快沒有了。」關於以下敘述，何者**正確**？(習作改寫) (P.118-119)
- (A)文中所述的「廣大土地」為可可豆與咖啡的原產地  
(B)文中所述的「我們」，大多數人被奴役成為苦力  
(C)「廣大土地」成為流放罪犯的地方，改變人口結構  
(D)文中所述的「你們」為來自巴爾幹半島的歐洲人
21. 瑪格麗特·卡德 (Margaret Carde) 在《大航海時代：地理與文化的交匯》一書中，探討了大航海時代對歐洲世界觀的改變。書中提到，文藝復興時期的地理學和科學的進步，尤其是〇〇〇的日心說和地圖學的發展，為大航海時代的探險家提供了理論基礎，從而加速了歐洲對外探索的進程。請問〇〇〇是誰？(P.126-127)(A)哥倫布(B)哥白尼(C)培根(D)笛卡兒
22. 承上題，14至16世紀，文藝復興與大航海時代在時間上是重疊的，文藝復興的精神和成就促進了對世界的探索，而大航海時代的發展則進一步影響了文藝復興的科學和知識發展，兩者對世界歷史的發展產生了深遠影響，為近代世界的變革奠定了基礎。請問下列敘述何者「**正確**」？(P.116-117)
- (A)14至16世紀期間，歐洲見證了拜占庭帝國的殞落

- (B)甲地是大航海時期的起源地  
(C)乙地突破甲地壟斷的航線，才加入大航海時代  
(D)丙地在東西交通要道，因此成為文藝復興的起源地



23. 某位歷史人物在其著作中提到：「假設在人類社會形成之前，所有人都享有平等。然而，為了解決集體生活中的各種問題，人們透過公開協商形成了所謂的『公意』，並將所有的權力交給由公意所代表的政府。因為這樣的政府不受個人私利的影響，且必然公正。因此，政府依照公意來制定法律和維持秩序。只要民眾遵守法律並服從公意，他們便能夠獲得真正的自由。」根據這段內容，最有可能與哪位人物的理論相關？【會考題】(P.128-129)
- (A)盧梭關於主權在民的主張  
(B)孟德斯鳩闡明三權分立的觀點  
(C)馬克思對於工廠制度的批評  
(D)伏爾泰對政府合法性的理論
24. 查爾斯·巴斯 (Charles Bass) 在1833年的一份調查報告中提到的一位受訪兒童工人描述到「我記得有些時候，我們餓得不行，因為工廠裡給的飯菜非常少。我們就去豬圈裡，偷偷地拿一些豬吃的食物來吃，因為那樣能讓我們好過些。」從查爾斯·巴斯的調查報告中可以看出他關注工人階級的困境，請問他「**不會**」有哪些主張？(P.131)
- (A)主張社會主義，認為政府應該積極介入並實施社會保障、勞工法改革  
(B)調查內容反映工人生活環境惡劣，要求政府改善城市的居住環境問題  
(C)關注兒童權利，基於啟蒙運動的思想，政府應推動教育改革，保護兒童免受過度勞動  
(D)政府應推動農業改革，增加對農業生產的重視，從而減少城市工人過剩與貧困問題
25. 2024年台灣國會修法引發熱議，立委們為保障言論自由，提出擴大「言論免責權」的提案，引發朝野激辯。此舉旨在讓民意代表能更自由地監督政府，不受過度法律限制。下列哪位思想家最能代表「言論免責權」的精神？(P.128)
- (A)孟德斯鳩(B)洛克(C)盧梭(D)伏爾泰
26. 一位科學家發現，每次將物質A和物質B混合，都會產生氣泡。他推測，所有物質A和物質B的混合都會產生氣泡。這種從個別事例推論到一般規律的推理方式，



# 新北市立中正國民中學113學年度第一學期九年級社會科第三次段考試題

範圍：公民 B5L5~6、歷史 B5L5~6、地理 B5L5~6 班級：\_\_\_\_\_座號：\_\_\_\_ 姓名：\_\_\_\_\_

請問這是誰提出的理論? (P.126)

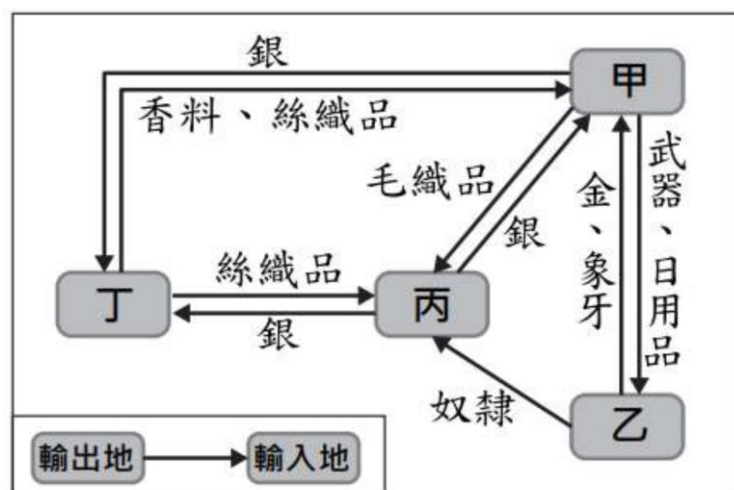
- (A)培根「歸納法」
- (B)笛卡兒「演繹法」
- (C)牛頓「三大運動定律」
- (D)盧梭「民約論」

27. 陳獨秀在《新青年》中曾提出「德先生」和「賽先生」的概念，試問這兩個概念分別與下列哪一歷史文獻或人物**最為相關**? (P.126-131)

- (A)「德先生」：馬丁·路德的《九十五條論綱》、「賽先生」：達爾文的《物種起源》
- (B)「德先生」：洛克的《政府論》、「賽先生」：牛頓的《自然哲學的數學原理》
- (C)「德先生」：馬克思的《共產黨宣言》、「賽先生」：伽利略的《關於兩門新科學》
- (D)「德先生」：但丁的《神曲》、「賽先生」：哥白尼的《天體運行論》

28. 這張圖片為 16~18 世紀的世界貿易關係示意圖，請問「甲地」可能是哪裡? (P.118-119)

- (A)歐洲(B)亞洲(C)非洲(D)美洲



29. 承上題，紐特正在與朋友討論這張圖片，請問誰說的是「**錯誤**」的? (P.118-119)

- (A)紐特·晴羽：根據圖片判斷，白銀在全球貿易中扮演了重要的角色
- (B)凱薩琳·沛慈：由於乙地區銀礦開採的死亡率高，因此需要從丙地區引進奴隸作為勞力
- (C)丹·昌隆：白銀大量輸出到丁地區，有國家將白銀當成貨幣，疏忽貨幣管理，最終與英國爆發戰爭
- (D)柯林·沛瀚：丙地區的農作物，在此時期被傳播到世界各地，拯救大量飢餓人口

30. 17世紀的荷蘭東印度公司與今日的臺灣積體電路公司（臺積電公司），兩者皆為經濟巨擘，但因時代背景不同，其權力範圍亦有所差異。請問：荷蘭東印度公司的權力與臺積電公司的差別在於下列何者? (P.120)

- (A)擁有軍事力量
- (B)建立全球商業網絡
- (C)具備多元化人力結構
- (D)在臺灣設立據點

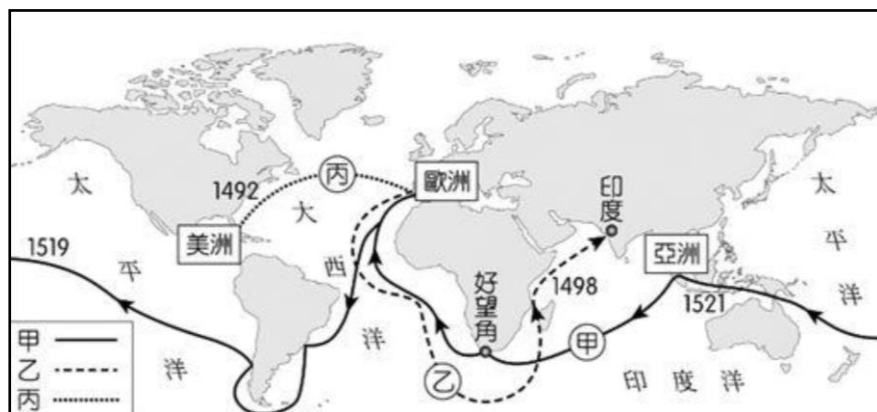
31. 下列有關蒙兀兒帝國的敘述，請問下列何者**正確**？

(P.121)

- (A)哈利·恩駐：蒙兀兒意即蒙古，原為遊牧民族，來到印度地區建立王朝後改信佛教
- (B)冠傑·衛斯理：英國西印度公司17世紀來到蒙兀兒帝國，獲得當地政權准許建立商館
- (C)芸臻·格蘭傑：英國在印度地區生產鴉片，並大量走私到中國，試圖彌平貿易逆差
- (D)西追·巍潔：非法走私的鴉片貿易，最終讓英國在1858年出兵攻打中國，爆發鴉片戰爭

32. 附圖是十五世紀以後，歐洲人的海外探險及拓殖的簡圖。此事件後歐洲諸國紛紛轉向海外發展，並且各自獲得極大的成果，導致歐洲勢力崛起。請問：關於地理大發現與海外拓殖的敘述，下列何者**正確**? (P.116-117)

- (A)歐洲各國為了擺脫義大利人和土耳其人對香料貿易的壟斷，積極尋找通往亞洲的新航路
- (B)甲航線的探險家是達伽瑪，繞過非洲南端抵達印度，並以澳門為據點，發展與中國、日本的貿易
- (C)乙航線的探險家是狄亞士，受西班牙資助繞過好望角，開闢了通往印度洋的新航路
- (D)丙航線是哥倫布的成就，為葡萄牙帶來巨額財富，同時也開啟了殖民美洲的序幕



33. 關於英國工業革命的敘述，請問下列哪一選項**不能**說明工業革命之發展? (P.130)

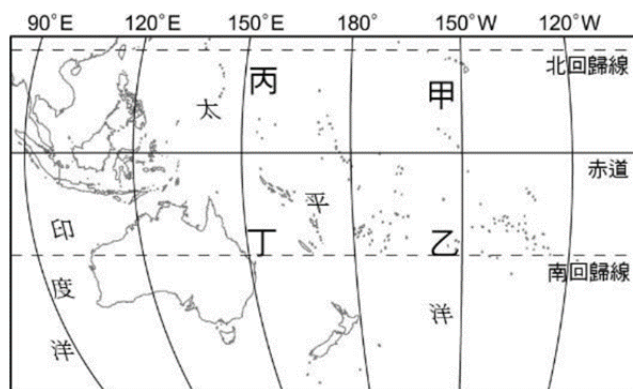
- (A)使用燃煤的蒸汽機問世後，加劇煤炭的使用，導致空氣污染問題日益嚴重
- (B)英國海外殖民經驗為工業革命奠定了基礎，是英國可以放心大量生產的消費市場
- (C)棉紡織品需求的增加，刺激了英國紡織工業的機器改革，大幅提升生產力
- (D)牛頓將蒸汽機應用在汽船和火車上，帶動交通運輸的革新發展

# 新北市立中正國民中學113學年度第一學期九年級社會科第三次段考試題

範圍：公民 B5L5~6、歷史 B5L5~6、地理 B5L5~6 班級：\_\_\_\_\_座號：\_\_\_\_ 姓名：\_\_\_\_\_

34. 阿中是一名熱愛旅行的學生，他計劃利用暑假進行一次大洋洲郵輪之旅。阿中的目標是了解各個國家和地區的時區變化，以及國際換日線的對於時區的影響。請問：阿中在下列哪兩個地點之間移動時，需要將手錶上的日期減少一天？(P.60)

選項：(A) 甲到乙(B) 乙到甲(C) 丙到甲(D) 乙到丁



35. 承上題，請問以下對於各地點的敘述何者錯誤？(P.60)
- (A) 丙與丁季節相反 (B) 甲位於玻里尼西亞範圍  
(C) 乙位於玻里尼西亞範圍 (D) 丙位於美拉尼西亞範圍

36. 阿正是一位地理學家。他決定前往台灣的幾個離島，進行實地調查，了解這些島嶼的居民如何應對自然環境挑戰，並發展出可持續的經濟活動。他調查了一個特定的離島，發現這個島地勢低平，缺乏淡水資源，農業條件不佳，居民主要以漁業為生。根據上述情境，請問下列哪個台灣離島的自然環境最相似？(P.61)
- (A) 馬祖列嶼(B) 金門列嶼(C) 澎湖群島 (D) 龜山島

37. 你是一位投資顧問，正在協助台商評估在大洋洲的投資項目。2022年的俄烏戰爭對全球供應鏈造成影響，使得企業重新考慮投資和供應鏈配置。你的目標是確定最有潛力的產業，同時避免那些不適宜的產業。若要在三大島群投資發展，下列哪一項產業是當地最不適宜開發的產業類型？(P.61)


(A) 南島語族藝品店(B) 紡織成衣代工廠  
(C) 海洋觀光渡假村(D) 漁獲水產加工廠

38. 觀察右圖可發現，紐西蘭南島的面積大於北島，但第一級行政區南島只有7個，北島卻有9個。請問：造成南島面積大，但行政區數量卻較少的主要原因為何？(P.62)
- (A) 北島畜牧業較發達 (B) 北島的地形較複雜(C) 南島人口密度較低？(D) 南島平原分布較廣



39. 如下圖所示。阿土前往某個國家登山，旅途中看到圖中的特殊 U 型谷地形。由圖推測，阿土最不可能前往下列何處旅遊？(P.63)

(A)智利南部 (B)紐西蘭南島  
(C)阿爾卑斯山區 (D)南非南部



40. 櫻桃是單價較高且不易保存的水果，夏季是主要採收的季節，通常在產地採收後，都以空運的方式，快速運送到臺灣。請問：下列四個傳統節日，何者最可能在臺灣買到新鮮的紐西蘭櫻桃？(P.64)
- (A) 清明節 (B) 端午節 (C) 中秋節 (D) 元宵節

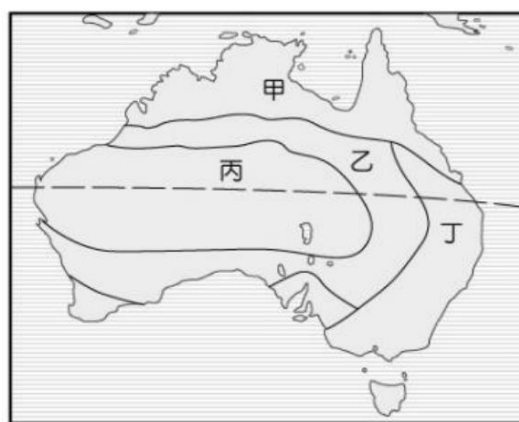
41. 2023年，澳大利亞遭遇了極端的乾旱和森林火災，這些現象影響了農牧業的發展，並對當地居民造成重大影響。而紐西蘭則面臨著不斷增長的觀光業需求，同時也努力應對乾旱與氣候變遷對其畜牧業的衝擊。在這些背景下，了解兩國的地理、氣候及產業結構將有助於理解他們面臨的現實挑戰。根據以下表格，請根據澳大利亞和紐西蘭的地理環境及產業發展，選擇正確的配對選項。(P.63、65)

選項：(A) 甲乙(B) 乙丙(C) 丙丁(D) 乙丁

項目	澳大利亞	紐西蘭
甲、位置	東、南半球	西、南半球
乙、地形主體	高原	山地
丙、氣候	溼潤	乾燥
丁、產業	農牧工礦	畜牧、觀光

42. 台灣農業專家受委託評估將台荔枝推廣到澳洲種植的可行性，其任務是分析澳洲不同地區的氣候條件，選擇最適合種植荔枝的地區。附圖為澳洲氣候分區圖，下列哪一個地區最適合種植荔枝？(註：荔枝適合栽培於副熱帶氣候環境，其營養生長期適溫在24~30℃，而且具有充沛、均勻的降雨)。(P.66)

(A) 甲(B) 乙(C) 丙(D) 丁

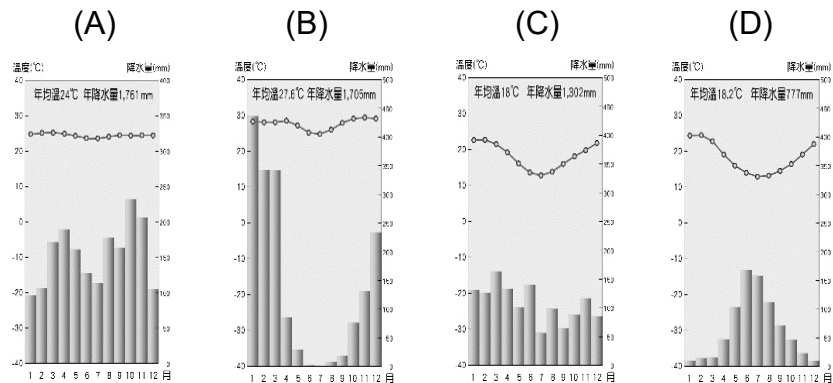




# 新北市立中正國民中學113學年度第一學期九年級社會科第三次段考試題

範圍：公民 B5L5~6、歷史 B5L5~6、地理 B5L5~6 班級：\_\_\_\_\_座號：\_\_\_\_ 姓名：\_\_\_\_\_

43. 「澳洲的人口大多位於此一地帶，澳大利亞獨立建國後，此地帶的兩大都市－雪梨與墨爾本為爭取首都的地位纏鬥不休，反而讓位於雪梨西南方300公里處的第三地坎培拉幸運地獲選為首都。」上文所述地帶主要屬於下列哪一氣候類型？(P.66)




44. 烏魯汝（Uluru），又稱艾爾斯岩，是世界著名的巨型岩石，1987年被列入世界遺產。這裡的原住民阿南古人認為烏魯汝是聖地，攀爬這座岩石被視為褻瀆。澳洲政府於2019年10月26日頒布禁令，禁止遊客攀爬這座岩石。根據圖中顯示，這個知名景點位於澳洲中部。請問造成此種氣候環境的主因為何？(P.66)



- (A) 位大分水嶺東側，背西風  
(B) 南回歸線橫貫，高壓籠罩  
(C) 位盆地內，水氣不易進入  
(D) 沿岸暖流流經，乾燥少雨
45. 受到新冠疫情的影響，造成澳洲對外交通有很大的限制，將對澳洲出口的原物料市場造成衝擊，下列何者狀況在疫情後最不可能出現？(P.67)
- (A) 咖啡價格變貴 (B) 肉類價格上漲  
(C) 鐵礦出口減少 (D) 乳製品價格飆漲

46. 2024年的台灣總統大選中，三組候選人在國際經貿政策上皆認為應迅速加入CPTPP「跨太平洋夥伴全面進步協定」。台灣在2021年9月22日已提交CPTPP申請函。根據上文可知，CPTPP的成員多來自下列哪一個區域組織？(P.68)



47. 阿國是一位氣候學研究生，正在撰寫一篇關於南北極地區氣候差異的論文。由於全球氣候變化導致的極端氣候事件頻發，極地研究成為了科學家的焦點。請問在阿國的研究報告中，造成南極氣溫比北極更加嚴寒，其主要原因最可能為何？(P.72)

- (A) 南極地區形勢完整封閉，不易進入  
(B) 南極地區缺乏強風吹拂，水資源不足  
(C) 南極地區為高原地形，氣候較嚴寒  
(D) 南極地區臭氧層破洞，紫外線太強

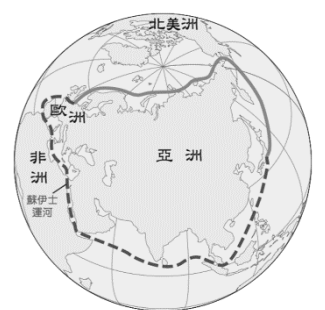
48. 2023年因為全球氣候變化導致的極端氣候事件頻發，使得南極的冰雪融化問題成為全球關注的焦點。根據南極的自然環境與獨特的生態，下列哪一項為南極不適合的科學研究？(P.76)

- (A) 漁業捕撈與海洋資源維護  
(B) 冰雪層融化與海平面的上升速度  
(C) 臭氧層破洞與全球氣候變遷之影響  
(D) 原住民文化的消失、保存與復育

49. 北極地區終年寒冷荒涼，近30年來卻逐漸成為各國爭奪的目標，競相投入資金，交好有關國家；在爭相開發之際，又製造了更多環境與主權問題。因此為了解決北極地區的環境、經濟與原住民問題，周圍8個國家遂於1996年成立北極理事會(The Arctic Council)。請問：為何北極地區逐漸成為各國爭奪的焦點？(P.75)

- (A) 豐富的淡水資源，成為全球缺水國家的爭奪目標。  
(B) 生物多樣性，對全球生物保育及研究有重要價值。  
(C) 蘊藏豐富的石油、天然氣，吸引國家投入開採。  
(D) 大量珍貴的地球演變資料，對科學研究至關重要。

50. 「東北航道」(右圖實線)是指穿越俄羅斯北方的北極海，聯絡大西洋和太平洋的航道，可縮短以往經過蘇伊士運河的路程(右圖虛線)和時間。請問：下列哪兩個地區的運輸往來，最需要東北航道？(P.74)



- (A) 北美東岸—歐洲西岸 (B) 北美東岸—非洲西岸  
(C) 歐洲西岸—亞洲東岸 (D) 非洲東岸—亞洲東岸

【本次試題結束】