

【讀卡科目請依規定畫卡，若有違反畫卡規定而影響讀卡作業之情事，一律扣總分五分。】

【手寫答案卷需確實寫上班級、座號、姓名，違者一律扣總分五分。】

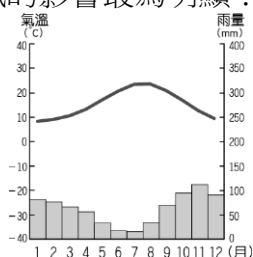
【手寫答案卷需用藍色或黑色墨水筆書寫，違者一律扣總分五分，使用鉛筆書寫扣五分。】

一、選擇題

- 伊比利豬被稱為「豬肉界的勞斯萊斯」，其美味的原因來自於地中海獨特氣候與特殊飼養方式。其在肥育其間會大量食用橡食，使其脂肪成分與當地盛產的橄欖油類似，進口一隻伊比利豬腿要價台幣十萬元。請問伊比利豬是下列哪一個國家的國寶級食材？
(A)芬蘭 (B)丹麥 (C)希臘 (D)西班牙。(P27)
- 歐洲聯盟境內主要通行的貨幣為歐元。請問：若新加入的東歐國家欲發行歐元，則需要評估該國境內何項狀況？
(A)人口素質優劣狀況 (B)民主政治實施狀況 (C)礦產資源蘊藏量狀況 (D)國內財政經濟狀況。(P25)
- 歐洲地形受到冰河作用的影響而呈現多樣化，對當地的傳統產業影響甚為明顯。請問：這和該區哪一項條件的關係最大？
(A)面積廣大 (B)西風吹拂 (C)位居中高緯度 (D)海岸線長。(P21)
- 附圖為南歐簡圖，其中哪一個國家由於水力資源豐富，所以工業較發達，帶動了當地的經濟活動？

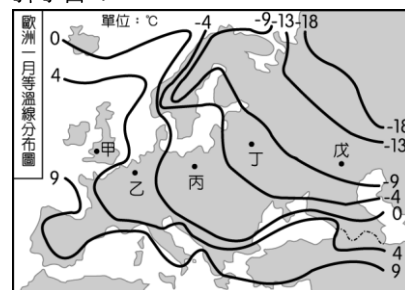


- (A)甲 (B)乙 (C)丙 (D)丁。(P27)
- 西亞的農業多分布於灌溉渠道或水井周圍，主要是受當地何種自然環境的影響？
(A)地形崎嶇 (B)山高坡陡 (C)氣候乾燥 (D)地層下陷。(P8-9)
 - 阿布達比是阿拉伯聯合大公國的首都，電影《玩命關頭7》也曾到此取景拍攝，其收入來源除了石油外，也興建了全球最大的太陽能發電廠。以下是四位同學對這個城市的氣候描述，請問何者正確？
(A)吳小進：一山有四季，十里不同天
(B)王小慶：夏乾冬雨，夏熱冬暖
(C)楊小榆：乾燥少雨，日溫差大
(D)周小宏：全年有雨，日溫差小(P8)
 - 溫帶地區的降水分布多來自海上的西風吹拂。附圖為羅馬的氣候圖，根據圖中資料加以判斷，當地在下列哪一個季節受到西風的影響最為明顯？



- (A)春季 (B)夏季 (C)秋季 (D)冬季。(P27)
- 附圖為歐洲的氣溫分布圖，圖中位於歐洲大陸內的四個

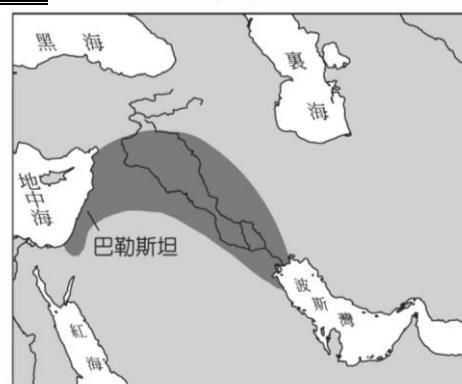
地區，氣溫各不相同。請問：造成該地氣溫差異的主要因素為下列何者？



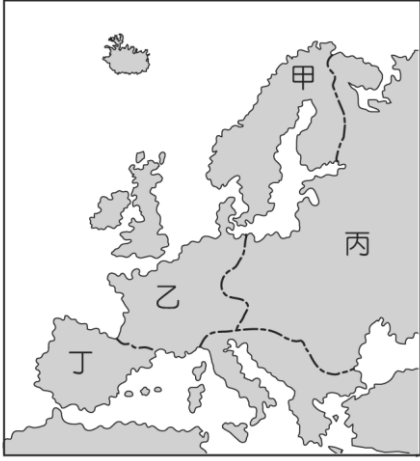
- (A)洋流流經 (B)地勢高低 (C)迎風背風 (D)地表植被。(P22-23)
- 附圖為西亞簡圖，圖中哪一個地區為古老高原，地質較為穩定且多礦產分布？



- (A)甲 (B)乙 (C)丙 (D)丁。(P7)
- 烏茲別克的國民經濟支柱產業為四金：黃金、白金(棉花)、黑金(石油)及藍金(天然氣)。請問烏茲別克盛產棉花的自然與人文的因素分別為何者？
(A)陳晶晶：地勢高、技術優良
(B)楊如如：氣候乾燥、灌溉發達
(C)邱文文：水源豐沛、政策方向
(D)林傑傑：土壤肥沃、技術優良。(P13)
 - 西亞肥沃月彎由於水源豐富，因此成為當地的精華區。若由附圖中的分布位置加以判斷，則當地流經的主要河川中不包括下列何者？(P7)



- (A)底格里斯河 (B)約旦河 (C)恆河 (D)幼發拉底河
- 番茄原產於南美洲的安地斯山脈，由於營養相當豐富，所以向外傳入其他地區，成為不可或缺的蔬果。其生長條件需要溫暖乾燥的環境，因此在附圖中歐洲哪一地區最適合種植？

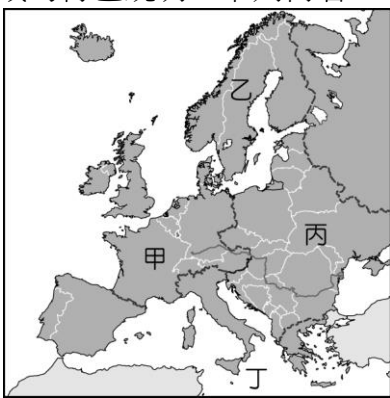


(A)甲 (B)乙 (C)丙 (D)丁。(P22)

13. 地理老師上課時介紹歐洲時提到，歐洲因為緯度較高，在冰河時期幾乎為冰河所覆蓋。請問下列何者是冰河作用力所形成的地形？

(A)吳妮妮：希臘的谷灣式海岸
(B)劉臻臻：阿爾卑斯山的 U 型谷
(C)張鐸鐸：義大利的維蘇威火山
(D)尤凌凌：巴爾幹半島的石灰岩地形。(P21)

14. 歐洲因為發展過程差異，畫分為不同區域。請問：關於圖(一)中乙區域的特色說明，下列何者正確？



▲圖(一)

(A)開發較早，工業技術進步，為歐洲經濟最為發達的地區 (B)社會福利發達，漁業、林業、牧業為重要經濟來源 (C)人民熱情洋溢，觀光活動相當發達，近年因為經濟衰退而出現危機 (D)社會政治制度改變，傳統重工業轉為市場經濟，工資低廉為最大優勢。(P24)

15. 西亞地區的衝突不斷，該區內部的宗教及族群衝突為主要原因之一，其中某宗教聖地的示意圖如附圖所示。請問這裡是那三個宗教的聖地？



(A)林楷楷：天主教、佛教、伊斯蘭教
(B)余承承：基督教、猶太教、伊斯蘭教
(C)詹諺諺：佛教、猶太教、伊斯蘭教
(D)張勛勳：印度教、佛教、猶太教。(P11)

16. 楊小翎到歐洲旅行，在 Instagram 上 PO 出一段文字要同學們猜猜看他去那個國家旅遊，內容如下：「這裡一棟棟藍色建築物加上白色泥牆依山而建，面臨著愛琴海就像一幅美麗的風景畫…」請問他最可能是去那個國家旅行？

(A)西班牙 (B)法國 (C)義大利 (D)希臘。(P28)

17. 臺灣雇主逼迫穆斯林外籍移工吃豬肉，這行為已違反人權價值。請問：這則消息最有可能會在下列哪一個地區引發當地人情緒不滿？(P11)

(A)朝鮮半島 (B)中南半島 (C)巴爾幹半島 (D)阿拉伯半島

18. 他是一位希臘哲學家，主要貢獻在奠定邏輯思維的基礎，使推理徹底達到最大效果。他屬於百科全書式的思想家，對許多學科都有貢獻，為經驗科學的進展打下了基礎。這位哲學家應是下列那一位？ (A)荷馬 (B)希羅多德 (C)亞里斯多德 (D)歐幾里德。(P.112)

19. 地理環境對於古代文明的發展影響甚深，下列有關文明的特色與地理環境的關係，何者錯誤？ (A)兩河流域政治複雜多變，與缺乏天然屏障有關 (B)尼羅河定期氾濫所造成的自然災害，使埃及人認為無法與命運抗爭，較為悲觀 (C)希臘沒有發展出帝國體制，主要原因是受限於破碎的地理環境 (D)中國古文明呈現多元文化發展的現象，與地形氣候類型差異大有關。(P.104)

20. 西元4世紀時期，君士坦丁大帝為了解決羅馬帝國境內西部經濟衰落、內部政治混亂以及對付強大日耳曼蠻族外患等問題，因此選擇採行哪種因應措施？ (A)加強中央集權 (B)建立東都君士坦丁堡 (C)宣布基督教合法化 (D)宣布基督教為國教。(P.115)

21. 上古時代的兩河流域和埃及文明，有許多相似的特色，但不包括下列哪一項？ (A)皆有法律條文之編纂 (B)天文曆法皆有相當成就 (C)皆屬神權統治的政權 (D)皆有文字的發明及使用。(P.102,105)

22. 阿利安人進入印度後，實施嚴格的階級制度，其最主要的原因應是下列何者？ (A)為了配合其宗教信仰，因為吠陀教原本就有階級制度的觀念 (B)為了保持統治者自身的優越性，所以將不同身份的人民做嚴格的區分 (C)與婆羅門教的輪迴觀念有關 (D)這是阿利安人的傳統。(P.106)

23. 埃及歷史上某個時代又稱金字塔時代，法老實施專制的神權統治，地位極為崇高，而且文化發達，大型金字塔、墳墓壁畫、精美浮雕均表現出此時期的文化成就。此時期是指： (A)早期王國時代 (B)古王國時代 (C)中王國時代 (D)新王國時代。(P.104)

24. 東晉時，中國僧侶法顯從長安出發，專程到印度學佛，因當時印度主政王朝曾有君王大力提倡佛教，派遣高僧向外弘揚佛法，而使佛教成為東亞、東南亞等第的重要宗教。該王朝為： (A)孔雀王朝 (B)笈多王朝 (C)薩珊王朝 (D)阿利安王朝。(P.107)

25. 馬其頓國王亞歷山大四處征伐，所造成的最大影響是： (A)建立了一個世代悠久的帝國 (B)將希臘的民主政治推廣到他所征服的地區 (C)打破了東、西之間文化、政治的隔絕，促成希臘化世界的出現 (D)將猶太

人的信仰帶回希臘，因而發展出基督教。(P.113)

26. 三位同學在討論古代族群宗教信仰—
羨羨說：「我們唯一的那個神照顧我們，守護我們，因為我們是它的選民，所以即使我們流浪在世界各地，也不因此而動搖堅定的信仰。」
湛湛說：「濕婆是毀滅之神，當地哲學中「毀滅」有「再生」的含義，故也有創造（轉化）的能力。」
寧寧說：「宇宙間存在善惡對立的兩股力量，並且不斷鬥爭，最後善神將會戰勝，使宇宙脫離黑暗勢力的支配。」
請問：這三人分別是代表哪些族群發言？
(A)羨羨—羅馬人；湛湛—希臘人；寧寧—波斯人 (B)羨羨—希伯來人；湛湛—阿利安人；寧寧—波斯人
(C)羨羨—巴比倫人；湛湛—阿利安人；寧寧—埃及人
(D)羨羨—波斯人；湛湛—希伯來人；寧寧—羅馬人。
(P.102,103,106)
27. 伯里克里斯在他所寫的「葬禮演說辭」裡闡述雅典民主政治的精神，認為「雅典是希臘的學校」。下列哪些改革的施行，有助於雅典民主政治的鞏固？ (A)公布《十二表法》，成文法典的出現奠定法治的基礎 (B)設立監察官，監督元老院的權力 (C)設立護民官，監督公民大會的運作 (D)陶片流放制有效防止專制獨裁的出現。(P.111)
28. 阿任同學對於西洋上古史非常有興趣，他舉出下列三個時代的特殊現象：甲時代—文化界名人的光輝蓋過政治家的光芒，其中以科學家的表現最出色。乙時代—和政治方面的雄才偉業相比，文化成就略遜一籌。丙時代—政治和哲學界人才輩出，燦若群星。請問：甲、乙、丙三個時代分別為何？ (A)希臘化時代、古典希臘時代、羅馬時代 (B)古典希臘時代、希臘化時代、羅馬時代 (C)羅馬時代、希臘化時代、古典希臘時代 (D)希臘化時代、羅馬時代、古典希臘時代。(P.112,113,116)
29. 這個民族最能表現其卓越治績與施政天分的，當屬它無遠弗屆的道路網。依舊殘存的公路網，直到今日仍提供民眾便捷的交通運輸，雖然幾經時光嬗遞，改朝換代，但昔日帝國疆域內，包含今天的英國、歐洲大陸、北非和西亞等地所修築的道路依舊歷歷可辨。」請問：這是哪個民族？ (A)羅馬帝國 (B)波斯帝國 (C)巴比倫帝國 (D)亞歷山大帝國。(P.114)
30. 老師在黑板上寫下幾個講述重點：「一、帝國長期的交通與和平；二、教義簡明有力，為人生痛苦提出解釋，又保證能得永生，容易打動社會下層人心；三、信徒們彼此互助互愛，擴及社會上孤苦無依的人，給人溫暖歸屬感。」請問：老師所講的重點應該是下列何者？ (A)耶穌與約翰的殉道 (B)伊斯蘭教能在百年內成為橫跨歐亞非大帝國的原因 (C)基督教在羅馬迅速發展的原因 (D)孔雀王朝時期佛教興盛且遠傳域外的原因。(P.117)
31. 對某地百姓來說，洗澡是經常性的例行公事，他們在國家興建的澡堂洗澡，日常用水由引水道從山中引來，澡堂也是公開社交場所。百姓也享受政府提供的免

費麵包，可以用便宜的價格購票入場，參觀各種競技比賽。請問：上文應該是在描敘哪個時代地區的情況？ (A)希臘時代的雅典 (B)希臘化時代的亞歷山卓城 (C)古印度時代的摩亨約達羅 (D)羅馬帝國時代的西班牙。(P.116)

32. 小碧看到一本書，書名為《歷史從□人開始》，其內容包括最早的文字系統、陰曆、史詩、格言等。就你的歷史知識判斷，□應是： (A)蘇美 (B)埃及 (C)巴比倫 (D)印度。(P.101)
33. 君士坦丁大帝對於基督教的發展與傳播，具有何種關鍵性的影響？ (A)建立神意為主的法律條文 (B)提倡基督教信仰與理性結合 (C)頒布基督教信仰自由的命令 (D)命令國民一律信仰基督教。(P.117)
34. 西元1799年8月，法國士兵在埃及發現羅塞塔石碑，碑文刻著三種不同字體的文字；第一種是埃及象形文字，第二種是埃及俗體字，第三種是希臘文。一位懂希臘文的法國將軍立刻翻譯了碑上的希臘文。他發現這段希臘文是托勒密五世於西元前196年所頒布的一道赦令，內容是豁免人民的債務與稅務，賜給神廟金錢，釋放囚犯等。請問：關於羅塞塔石碑中希臘文的出現，下列解釋何者正確？ (A)可見埃及文字和希臘文字都是屬於象形文字系統 (B)可見希臘文源自於埃及文字，所以兩者文字之間有關連性 (C)顯示埃及新王國時期，向外擴張後將希臘人作為奴隸 (D)埃及托勒密王朝的君主是來自於馬其頓的希臘化君主。(P.113)
35. 經濟問題起因於「資源有限，欲望無窮」，以下有關「資源稀少」的敘述何者正確？ (A)由於人類欲望無窮，造成資源絕對數量稀少，不夠人類使用 (B)對都市居民來說，「充足的陽光」屬於經濟財 (C)人貧地瘠，必然感到稀少；富甲天下，則不存在稀少問題 (D)要解決資源稀少的問題，最好的方法是避免開發資源，以免資源匱乏 (p.169)
36. 隨著國民所得的提高，國民消費型態將呈現下列何種趨向？(甲)個人、家庭消費隨所得增加而提高(乙)日常用品占支出比例將逐漸減少(丙)家庭用於醫療、旅遊等非生活必需品的支出逐漸上升(丁)家庭用於食物支出占所得比例逐漸上升 (A)甲乙丙 (B)甲乙丁 (C)甲丙丁 (D)乙丙丁 (p.173)
37. 下圖為甲乙丙丁四國在各方面的滿意度調查表。若小晝準備移民，請問：她選擇哪一國的機會成本最低？

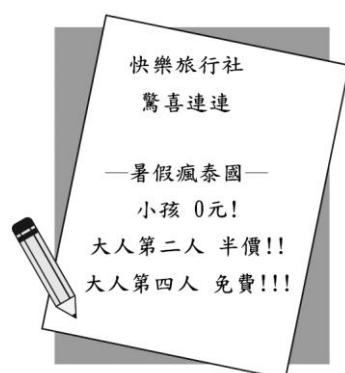
	就業	治安	物價	醫療
甲	77	45	66	53
乙	56	68	65	79
丙	90	86	43	66
丁	94	91	88	96

(A)甲 (B)乙 (C)丙 (D)丁 (p.170)

38. 公民老師指定了一項作業，請同學分組報告有關「消費者權益保障」的主題內容。下列四位同學的說法，何者正確？ (A)美美：「消費者服務專線『1980』要

牢記」(B)芳芳：「依據《消費者保護法》規定，無論在實體店面消費，或選擇網路、電視購物，消費者皆享有七天鑑賞期，可無條件要求退換瑕疵商品」(C)麗麗：「為就近服務民眾，各縣市皆設有消費者文教基金會等政府機構受理消費申訴」(D)琪琪：「政府設立公平交易委員會，負責調查處理廠商不當競爭行為，間接保障消費者權益」(p.174-175)

39. 每到情人節民眾都會購買玫瑰花或巧克力來應景過節。請問：關於情人節民眾購買玫瑰花或巧克力的消費因素與下列何者相同？(A)颱風即將來襲，市場出現搶菜人潮 (B)超商推出消費集點換公仔的活動 (C)10元便當開賣，排隊盛況空前 (D)欣欣領到年終獎金，利用春節出國旅遊 (p.172-173)
40. 附圖為快樂旅行社推出的旅遊促銷方案——



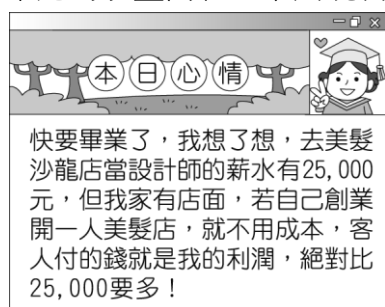
下列相關敘述，何者正確？(A)此一促銷方案可以降低業者的成本 (B)快樂旅行社提供的是有形的財貨 (C)消費者參加此一行程，其旅費將會增加 (D)業者是運用需求法則來提高利潤 (p.172,179,181)

41. 校慶時，925班選擇四樣商品販賣，附表是他們校慶當日商品販售的內容和營業情形。在不考慮其他條件的情形下，哪一項商品的利潤最高？

	奶茶	鮮果汁	炒泡麵	烤香腸
生產成本 (元/個)	9	14	10	15
售價 (元)	20	30	25	40
數量 (個)	90	50	100	80

(A)烤香腸 (B)炒泡麵 (C)鮮果汁 (D)奶茶 (p.181)

42. 欣怡在網誌上和朋友們分享畢業後的計畫，關於附圖中她的規畫內容，下列說明何者正確？

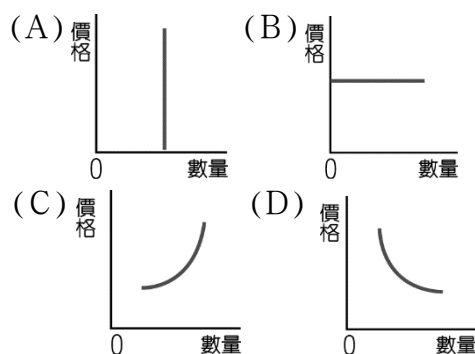


(A)選擇一份代價最高的工作，符合機會成本的概念 (B)由於沒有聘雇員工，故生產成本不須計算薪資 (C)即使土地是自家的，也須將地租計入成本 (D)因為生產成本為零，所以客人的消費就等於利潤 (p.181)

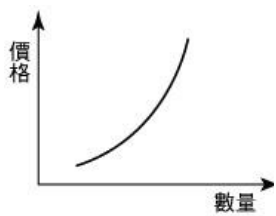
43. 下列哪一項事實可用來說明「需求法則」？(A)口蹄疫爆發時，豬肉價格下滑，民眾購買豬肉的數量減少 (B)

結束營業2折起，湧現購買人潮 (C)百貨公司推出新款限量名牌包，立即銷售一空 (D)談話性節目製作成本低，收視率高，廣告收入增加，電視台紛紛推出同性質的節目 (p.172)

44. 每到兒童節，各大遊樂園都會推出兒童好康優惠活動，以吸引更多遊客。請問：遊樂園業者考量的生產課題，與下列何者相同？(A)唯力食品公司打算將營運不善的飲料生產線改成泡麵生產線 (B)「好好吃麵店」由於生意太好，為了提高生產效率，老闆決定以機器代替人工揉麵團 (C)為了滿足銀髮族的口味，莊媽媽採用天然香料烹煮菜餚 (D)電視製作人正在考慮要開闢綜藝節目，還是益智節目 (p.180)
45. 茜茜原本在新竹園區上班，每月薪水高達新臺幣6萬元，且一年可領15個月的薪水。但為了實現自己的夢想，她申請赴美就讀碩士課程，估計完成學業大約要花三年的時間，而學費一年需要花費新臺幣50萬元。若是從金錢上來估算，茜茜赴美留學三年的機會成本是多少？(A)140萬元 (B)240萬元 (C)320萬元 (D)420萬元 (p.171)
46. 幾個朋友決定合夥開民宿，根據他們的對話內容判斷，哪一位所提供的資源，屬於生產要素中的「企業才能」？(A)阿貴：我家有一塊地可以蓋民宿 (B)阿蘭：我來規劃觀光行程，吸引遊客入住 (C)阿琪：我可以負責提供家具和接送的車輛 (D)阿德：那我當服務人員，負責招待 (p.179)
47. 交通部高公局在國慶4天連假期間，實施每日0時至5時國道全線雙向暫停收費，希望藉此紓解國道壅塞的問題。請問，高公局的做法是運用何項經濟學原理？(p.172)



48. 下列哪一組生產資源符合「自然資源—人力資源—資本」的順序？(A)油田—礦工—怪手 (B)醫院—護士—X光機 (C)牧草—乳牛—牧童 (D)森林—傢俱—木匠 (p.179)
49. 公民老師正在講授經濟學，他在黑板上畫了一個圖形如下。請問：下列何者最可能是他正在用圖說明的例子？(A)中秋節到了，民眾紛紛上網團購知名月餅 (B)油價上漲前夕，駕駛人紛紛趕往加油站加油 (C)有鑑於房價不斷攀升，建商決定擴大建案 (D)電腦資訊展期間，各商家舉辦多種優惠折扣活動，引發搶購熱潮 (p.172,182)



50. 年年積極尋找工作，最近她參加了四個工作的面試，她將這些工作的薪水加以比較，並整理成附表所示的資料。根據表中資訊判斷，雜誌記者的薪水及機會成本各是多少？ (p.170-171)

職 稱	薪水(元)	機會成本
業務助理	22, 000	32, 000
文字編輯	28, 000	32, 000
經理祕書	32, 000	30, 000
雜誌記者	?	?

- (A)薪水30,000元，機會成本28,000元
- (B)薪水30,000元，機會成本32,000元
- (C)薪水32,000元，機會成本30,000元
- (D)薪水32,000元，機會成本32,000元