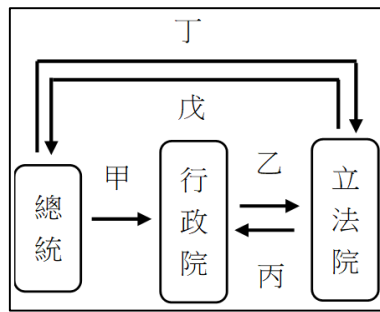


新北市立中正國民中學111學年度第一學期八年級社會科第2次段考試題

範圍：公民 B3U3~4、歷史 B3U3~4、地理 B3 的 2-2~4-2 班級：_____座號：____ 姓名：_____

【讀卡科目請依規定畫卡，若有違反畫卡規定而影響讀卡作業之情事，一律扣總分 5 分。】

1. 小智上完公民課後，發現總統、行政院與立法院間的互動關係密切，因此他將重點整理成複習筆記，如右圖所示。下列針對各項箭頭處行為的描述，何者「並不適當」？(p152)



- (A)乙是該院彙編預算案，丙是針對此案進行的審查權
(B)乙是該院去進行施政報告，丙是制衡此院的質詢權
(C)丙是提出不信任案，丁是針對此案通過後的解散權
(D)甲是任命該院院長，戊是針對甲行使的人事同意權
2. 由人民選出的立法委員為服務選民，多設有服務處，下列是民眾到服務處陳請的內容，其中哪一位民眾陳請的內容，屬於立法委員的職權？(p149)
- (A)教育部正在清查大學教師在外兼課的情形，這有違法嗎？可否做出解釋
(B)近期《勞動基準法》修改的內容，讓民眾可能須連上12天班，為了避免過勞，可否修改《勞動基準法》以保障人民權益
(C)都會地區學生每天上學可以搭公車、坐捷運，我們偏鄉地區只有國小有校車，升上國中後，得要市府規定的學校才有校車，請多編列預算給偏鄉孩子吧
(D)我的原住民朋友不過舉牌喊口號抗議，就被警察逮捕，警察機關濫權，請予以彈劾

3. 緯利在翻閱報紙時看到一則新聞如右。新聞標題中的憲法法庭言詞辯論是由下列何者召開？(p150)



- (A)法官 (B)數位部長
(C)大法官 (D)行政院長
4. 老趙借錢給鄰居小陳，小陳卻拒不還錢，老趙只好提起訴訟。上述訴訟案件應由下列何者負責審理？(p150)
- (A)大法官 (B)懲戒法院 (C)憲法法庭 (D)各級法院
5. 《憲法》具有固定性，不宜修改，但是為符合現實環境需要，則常在不變動《憲法》本文的原則下，以增修條文的方式進行修憲。在我國，下列何者擁有《憲法》修正案的提案權？(p149)
- (A)立法院 (B)司法院大法官 (C)行政院 (D)總統
6. 民主國家為建構節制的政府，除了權力分立外，也會採取「以權制權」的方式，使各個權力間發揮相互監督與牽制的效果。下列哪些制衡模式正確無誤？
- (甲)監察院可以彈劾違法失職的公務人員及民意代表
(乙)考試院掌管公務員選拔，避免行政機關濫用私人
(丙)司法院設懲戒法院，審理被彈劾之公務員
(丁)立法院可透過質詢、審理機關決算等機制約束行政機關 (p152,153,154)
- (A)甲丙 (B)甲丁 (C)乙丙 (D)乙丁

7. 依照我國《憲法》，中央政府與地方政府若發生權限劃分的爭議，須交由下列哪一個機關處理？(p160)
- (A)立法院 (B)總統府
(C)考試院 (D)由司法院大法官統一解釋
8. 十二年國教課綱於民國108學年度上路，在國中小教育階段，(甲)領域學習課程由國家統一規畫，著重基本學力的養成；(乙)彈性學習課程由各縣市的學校自行發展，著重在學校願景的達成與學生適性學習的強化。針對甲、乙兩課程的說明，下列敘述何者正確？(p160)
- (A)甲課程可因應各地區不同的需求
(B)乙課程具有全國一致的性質
(C)兩者皆屬社會服務事項
(D)兩者是依性質的不同而劃分
9. 下列為某地方政府網站上的資料，請根據資料內容判斷，下列何者的說法最為適當？(p161)
- (A)志玲：地方事務分層負責，有助民眾的參與
(B)阿豪：自治事項分類服務，民眾可各取所需
(C)小莉：跨地方政府的合作，解決各項問題
(D)子騫：安全衛生為該地方政府的施政重心

環境保護	社會關懷
欲了解本市各垃圾清運路線，可點閱「環境保護局」網頁	針對公益彩券經銷商資格通過，由「社會局」進行公告
休閒育樂	購屋居住
街頭藝人有興趣申請相關演出許可，可洽詢「文化局」	「都市發展局」網站已設置都更相關法規可供查詢

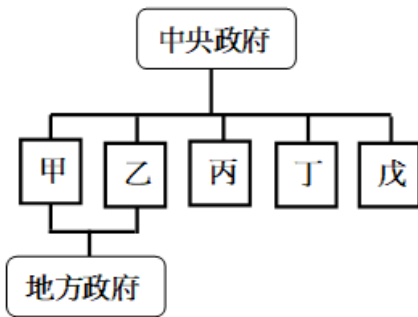
10. 針對「倒閣」與「解散國會」相互監督制衡模式，我國《憲法增修條文》第3條第3款內容摘要如下：「立法院得經全體立法委員1/3以上連署，對行政院院長提出不信任案。不信任案提出72小時後，應於48小時內以記名投票表決之。如經全體立法委員1/2以上贊成，行政院院長應於10日內提出辭職，並得同時呈請總統解散立法院。不信任案如未獲通過，一年內不得對同一行政院院長再提不信任案。」請問：我國目前立委席次為113席，根據上述規定，若立法院要通過對行政院院長的不信任案，至少須有多少贊成票才會通過？(p152)
- (A)50 (B)57 (C)78 (D)100
11. 我國行政院院長行程滿檔，大小會議也是排滿滿，下圖是小吳在網路上看到的院長行程摘要。在這些行程中，哪些時間的活動地點，依《地方制度法》屬於同一層級？(p162)

(A)4/23下午、4/30上午	(B)4/23下午、4/30下午
(C)4/28上午、4/30上午	(D)4/23下午、4/28上午
4/23：下午—與小小市民有約，接受採訪，地點：嘉義市	
4/28：上午—海洋委員會新任首長布達，地點：高雄市	
4/30：上午—參訪屏東縣失身心障礙中心	
下午—勞動節全國模範勞工表揚典禮，地點：臺北市	

新北市立中正國民中學111學年度第一學期八年級社會科第2次段考試題

範圍：公民 B3U3~4、歷史 B3U3~4、地理 B3 的 2-2~4-2 班級：_____座號：____ 姓名：_____

12. 右圖是我國中央政府與地方政府的分權方式。地方政府擁有的甲、乙兩種治權，分別是指下列何者？(p160)



- (A)行政權、司法權
(B)考試權、監察權
(C)行政權、立法權
(D)考試權、立法權

※13至14題為題組，閱讀下列短文後回答問題：

我國現有六直轄市山地原住民區乃經多方爭取後，才於西元 2014 年通過修正條文，於《地方制度法》中增列專章規範「直轄市山地原住民區」，明定其為地方自治團體。其規格相當於鄉鎮市，自治內容也較相近，不僅能選舉區長、區民代表；也具立法權，區民代表可以訂定區的法令，無須全部遵循直轄市法令；經費來源與運用皆獨立運作，並自行編列預算，直轄市只能監督經費運用是否合法；行使行政權與人事權時，也能自主決定，直轄市僅能做合法性的監督。請回答下列問題：

13. 「直轄市山地原住民區」的設置，其目的可能為何？(p162)

- (A)為節約財政，令原住民族自行籌措地方建設經費
(B)賦予原住民族絕對的自主性
(C)透過選舉區代表，加強中央對地方事務的監督
(D)落實原住民族自治的精神。

14. 關於直轄市原住民區及一般區的比較，下列何者正確？(p162)

- (A)甲乙 (B)丙丁 (C)甲丁 (D)乙丁

項目	原住民區	一般區
(甲)區長產生方式	居民投票	官派
(乙)行政權	有	無
(丙)立法權	無	有
(丁)受直轄市監督程度	低	高

※15至16題為題組，閱讀下列短文後回答問題：

南投縣境內山脈險峻綿延，登山健行活動蔚為風潮。近年來卻發生多起登山客未經許可登山，導致失蹤迷路請求搜救事件頻傳，引發國人對登山安全及搜救資源不足等問題的重視。因此，南投縣議會於西元 2016 年三讀通過《南投縣登山活動管理自治條例》，期盼能減少山難發生，並降低搜救資源的浪費。

15. 南投縣議會三讀通過《南投縣登山活動管理自治條例》，此舉說明下列何者為南投縣議會的職權？(p162,163)

- (A)議決地方自治法規與事項
(B)執行上級政府的委辦事項
(C)裁決政府與人民間的糾紛
(D)因應民意發展地方特色



16. 南投縣的地方層級，與右上圖哪個地區相同？(p162)
(A)甲 (B)乙 (C)丙 (D)丁

17. 明朝中葉以後哪些糧食作物自美洲傳入中國，耐旱多產、容易種植，舒緩了因人口增加而產生的糧食問題？

(4-3)

- (甲)小米 (乙)番薯 (丙)小麥 (丁)玉米 (戊)馬鈴薯 (己)花生

- (A)甲乙丙丁 (B)乙丁戊己
(C)乙丙丁戊 (D)丙丁戊己

18. 「燕雲十六州」位於今日北京以北的長城一帶，契丹族取得此處，實力大幅提升，而農業民族在失去此地後，則是積極想奪回此地。請問：燕雲十六州對漢人政權的重要性為何？(3-1)

- (A)燕雲十六州商業高度發展，可以支撐國家經濟運作
(B)燕雲十六州為長江流域最重要的糧食生產處
(C)燕雲十六州為絲路的重要貿易據點
(D)燕雲十六州位於中原政權北方的防禦天險

19. 在今日的世界中，國際商品買賣或以美元或以當地貨幣，貨幣的種類愈來愈繁多，甚至出現區域整合的歐元、虛擬的比特幣。在十六世紀的世界，也因為白銀的關係串連起世界貿易，大量的白銀進入中國成為法定貨幣，當時最可能屬於中國的哪一個朝代？(4-2)

- (A)宋 (B)元
(C)明 (D)唐

20. 請問附圖的航行路線對中國產生了哪一個影響？(4-1)

- (A)歐洲傳教士來到中國，西方科技傳入
(B)使許多國紛紛以朝貢的方式前來中國貿易
(C)在海外建立殖民地，控制東亞政治
(D)阿拉伯人前來貿易，宋元經濟空前繁榮



21. 過去蒙古族曾建立蒙古帝國，版圖十分遼闊。下列有關蒙古族以及蒙古帝國的敘述，何者正確？(3-2)

- (A)成吉思汗之孫忽必烈建立元朝
(B)鐵木真滅亡南宋後建蒙古國
(C)忽必烈和繼位者陸續發動三次西征，建立四大汗國
(D)北宋末期，鐵木真統一各部族，建立蒙古帝國

22. 明朝長期面臨許多外患的侵擾，請問明初東南沿海的外患以及明中期後的北方外患分為下列何者？(4-1,4-2)

- (A)倭寇、穆斯林 (B)契丹人、蒙古人
(C)女真族、幕府 (D)倭寇、女真族

23. 小輝是住在汴京的商人，在街上販賣美味的臭豆腐，沒想到一場鉅變後，原本統治的政府竟變成了元朝。請問，依照小輝的身分，在元代劃分的四民之中應屬於哪一等級？(3-2)

- (A)漢人 (B)色目人 (C)蒙古人 (D)南人

新北市立中正國民中學111學年度第一學期八年級社會科第2次段考試題

範圍：公民 B3U3~4、歷史 B3U3~4、地理 B3 的 2-2~4-2 班級：_____座號：____ 姓名：_____

24. 下圖是兩宋時期的形勢圖，關於圖片中四個政權的敘述，何者正確？(3-1)



- (A) C 政權的建國民族是契丹族
(B) A 政權的建國民族是女真族
(C) 女真族崛起之後消滅 B 政權
(D) D 政權最後被金國所消滅
25. 明清時的統治者為強調君權，均曾採用○○打壓讀書人。像是清代查嗣廷案，他被指出所著的《維止錄》裡有大量貶斥皇帝的言論，並且「維止」二字也暗喻砍雍正皇帝的頭，最後因此下獄被殺。請問：○○指的是何種手段？(4-1)
- (A) 舉行科舉
(B) 薙髮留辮
(C) 禮遇遺臣
(D) 摘取文字羅織罪名
26. 宋代實行文人政治，儒學研究十分發達，關於宋代學術發展的敘述，下列何者正確？(3-3)
- (A) 南宋時期的著名學者沈括集其大成
(B) 此時提出的新儒學，又被稱為理學
(C) 研究內容包括法家學說及佛教思想
(D) 四書集注甚至成為宋代科舉定本
27. 在歷史上西方傳教士在東亞(例如中國、台灣、日本)非常活躍，也深深影響著當時社會的變遷，請問關於歷史上的傳教士下列敘述何者正確？(4-3)
- (A) 元末天主教傳教士利瑪竇至中國傳教，與徐光啟合譯幾何原本上半部
(B) 開港後來台傳教士以長老教會最為重要，例如馬偕在南部傳教並建立第一間西醫醫館
(C) 清初羅馬教廷禁止教徒祭祖，康熙皇帝下令全面禁教
(D) 日本限制西方傳教士的活動，僅允許中國、荷蘭商船至長崎貿易
28. 宋元明清四代是古代中國近代化的開始，紡織、製瓷等手工業的興盛，西方國家對中國製品趨之若鶩，也刺激了中國商業市場的興起。宋代為應付更多海上貿易需求，增加了管理單位的設立，元代掌控了歐亞的陸上交通，商隊絡繹不絕進入中國，明末清初歐洲人東來，增加了更多東西文化交流，同時將中國帶入全球貿易體系的一環，直到雍正後東西方熱烈的互動才停止。請問：宋元時期下列何者往來東西貿易最頻繁？(3-3)
- (A) 阿拉伯人 (B) 威尼斯人
(C) 葡萄牙人 (D) 西班牙人

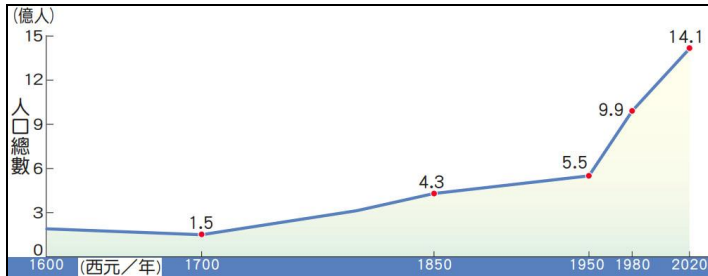
29. 1662 年，在江西建昌府刻印出版了一本拉丁文書籍，書名為「中國的智慧」，內有「孔子」傳記、「大學」譯文以及「論語」前部譯文，這是四書第一次正式譯成拉丁文並刊行，後傳銷到歐洲，讓歐洲學界首度能較完整的了解中國儒學。請問：當時歐洲學界能完整了解中國儒學的原因和下列何者最相關？(4-3)
- (A) 歐洲學者仰慕中國文化，特地到中國進行學術研究
(B) 西方傳教士在華傳教期間，促進了中西文化交流
(C) 歐洲各國政府派遣使節團，有計劃地將中國儒學帶回歐洲
(D) 因為利潤高，所以西方商人大量運回歐洲市場銷售
30. 宋代除了使用銅錢等金屬貨幣之外，也開始出現「交子」、「會子」等紙幣，而元朝也鼓勵使用紙鈔，這是因應何種社會經濟背景而產生？(3-3)
- (A) 國內商業繁盛，使用紙鈔便於交易
(B) 商業貿易衰退，造成銅錢供需失調
(C) 發明活字印刷術，印刷紙幣便利
(D) 戰爭失利賠款過多，貨幣大量外流
31. 老師說：「某一事件後，陸續有外國傳教士造訪日本，此後基督教的信徒人數迅速增加，西元 1596 到 1616 年間，信徒人數達到約七十萬人左右」，請問老師說的某一事件應是指下列何者？(4-2)
- (A) 鄭和下西洋
(B) 中國宣布禁教
(C) 新航路開通
(D) 江戶幕府建立
32. 北宋立國時，北亞的草原民族興起，對宋朝形成巨大的壓力。請根據你所學的歷史知識，後來宋朝採用什麼政策，換來一段時間的和平？(3-1)
- (A) 對契丹稱臣，並以宗室女子和親
(B) 聯絡蒙古人一起對抗契丹
(C) 訂契約與契丹平等往來
(D) 修建長城以防契丹族南下
33. 由近年來流行的韓劇古裝片，經常出現身著儒服的書生，能寫一手流利的漢字，可看出韓國與中國之間密切的文化交流。14 世紀末的朝鮮王朝，按例連年派遣使者前往明帝國朝貢，對於朝鮮使節而言，能夠前往明帝國朝貢是一件極為榮耀的事。但隨著中國的明清政權更迭，朝鮮對於滿人入主中原更是與明遺民們同仇敵愾。請問：明帝國的滅亡，以及清帝國入主中國後穩定其政權，下列敘述何者正確？(4-1)
- (A) 明朝將領引清軍入關，清兵消滅流寇，並南下掃蕩明政權殘餘勢力，穩定了清政權
(B) 明帝國受內憂外患困擾，最後因吳三桂攻入北京而滅亡
(C) 明末年國內發生嚴重饑荒，大批災民與饑兵互相結合，形成倭寇
(D) 清帝國因自身民族與漢人人數的比例極不平均，為了保護自身地位，把全國人民分成四個等級

新北市立中正國民中學111學年度第一學期八年級社會科第2次段考試題

範圍：公民 B3U3~4、歷史 B3U3~4、地理 B3 的 2-2~4-2 班級：_____座號：____ 姓名：_____

34. 下圖是中國自西元1600年以來的人口成長變化圖，可看出1950年代前後的人口成長有明顯差異。請問：根據圖示內容，下列哪一項敘述正確？

- (A)1950年以前的人口成長率較高，1950年後較低
(B)1950年以前人口數加倍的時間較長，1950年後較短
(C)1950年以前的環境負載力較高，1950年後較低
(D)1950年以前的環境衛生與醫療條件較佳，1950年後的糧食供應較少



35. 烏魯木齊火車站可見到漢字與維吾爾族使用文字並列的站名，如右圖，站內可聽到哈薩克族、回族等語言交談，呈現多元民族的樣貌。上述的火車站位於哪個行政區？



- (A)北京 (B)上海 (C)廣西 (D)新疆

36. 西元1740年(清朝乾隆5年)在爪哇的巴達維亞(今日印尼的雅加達)發生荷蘭人殺害華人的事件，原因是當地許多非法入境的華人將被遣返，謠傳將送至更遠的荷蘭殖民地當苦力，華人策畫反叛後反遭殺害。荷蘭人將事件通報華人家鄉—福建的官員，官員回覆：離開中國的華人「自棄王化」(自願放棄清朝的統治)，不會責備荷蘭當局。請問：當年華人來到印尼的原因是什麼？

- (A)印尼缺工，招募華人開挖金礦
(B)中國東南沿海耕地不足，向外移民減輕人口壓力
(C)中國北方戰亂，為求安全向外地遷移
(D)中國將民變、械鬥的犯人流放海外

37. 右圖是描述中國「剩男」現象的漫畫，此現象受到重男輕女的傳統觀念影響，未來開放生二胎、三胎後將會有更多適婚年齡的「剩男」出現，導致更嚴重的社會問題。請問：下列哪一項人口數據，可說明上述的人口問題？

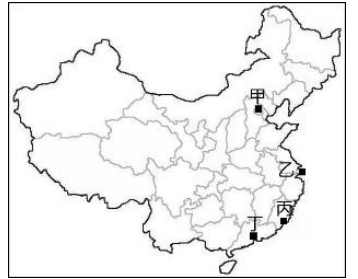


- (A)生育年齡的婦女，平均生產1.7胎
(B)老年人口佔總人口的13.5%
(C)總人口達到14.1億人
(D)新生兒的性別比為113

38. 依據2020年的統計數據，中國的原油(世界第6)、天然氣(世界第4)、煤礦(世界第1)、鐵礦(世界第3)產量在全球名列前茅，對中國近代的發展有何助益？(P.31)

- (A)礦產多數出口，換取現金
(B)提供本國工業所需的原料與動力
(C)僱用大量採礦勞工，作為勞力密集產業
(D)在原料產地發展高科技的資訊產業

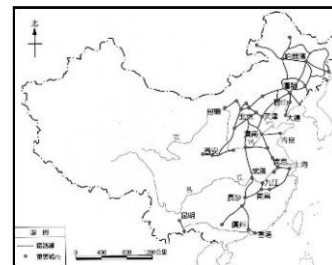
39. 「這座都市」是中國最大的工、商業城市，地處中國海岸線中點和長江的出海口，將東部沿海與長江流域納為腹地，國內與國外的廠商雲集，工業與服務業均十分發達。上述城市位於右圖中何處？(P.37)



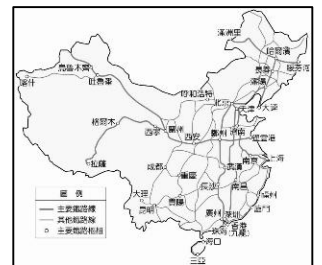
- (A)甲 (B)乙 (C)丙 (D)丁

40. 下列圖示是中國2個年度的鐵路線分布，請問：鐵路線的分布有何變化？(P.31)

- (A)由東部擴展至中國所有的行政區
(B)由西半部擴展至東半部
(C)由北方擴展至南方
(D)由工商業遲緩的地區，擴展至工商業發達的地區



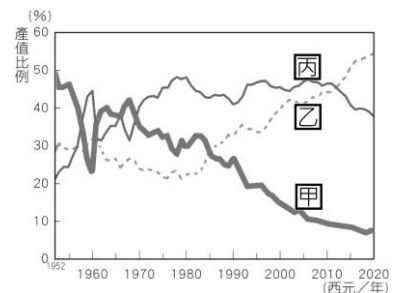
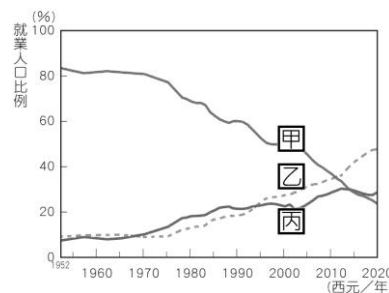
1949年



1999年

41. 下列左圖是中國三級產業的就業人口比例，右圖是三級產業的產值比例，甲乙丙代號代表相同的產業。請問圖中的「丙」包含下列哪2個生產活動？(P.32)

- (A)農業、林業 (B)製鞋業、電子業
(C)金融業、保險業 (D)石化業、牧業



42. 右圖是媒體報導「中國制(製)造」的插圖，說明中國製造的物品多樣且無所不在，不枉「世界工廠」的稱號。下列哪一項經濟數據可支持上述的內容？(P.33、40)



- (A)世界製造業信譽排名：德國第1，中國在10名後
(B)工業技術競爭力排名：美國為領先梯隊，中國為技術追趕梯隊
(C)全球生活成本昂貴城市依序是香港、紐約、日內瓦
(D)聯合國製造業分類的類別中，中國產出量居世界第1的有16個，剩下6類排名第2

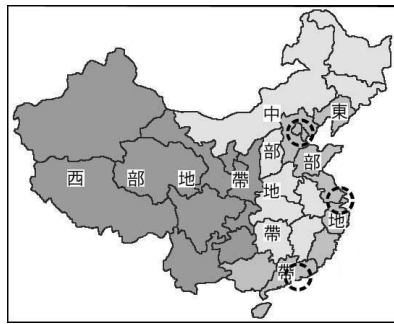
43. 中關村是中國政策性創建的區域，有許多「中國第一」，如：首個國家級高新技術產業開發區、國家級人才特區。範圍包含北京的16個區縣，有北京、清華大學等40多所高等院校，發展模式如同史丹福大學在美國矽谷的角色。請問：中關村位於哪個經濟區域？(P.34)

- (A)珠三角經濟圈 (B)長三角經濟圈
(C)環渤海經濟圈 (D)中部經濟帶

新北市立中正國民中學111學年度第一學期八年級社會科第2次段考試題

範圍：公民 B3U3~4、歷史 B3U3~4、地理 B3 的 2-2~4-2 班級：_____座號：____ 姓名：_____

44. 鴻海公司是世界最大的電子代工製造企業，早期以中國深圳作為生產基地，聘僱員工達數十萬人。近年因薪資上升，配合中國政策將生產重心移至河南鄭州與山西。請問：參考右圖，鴻海公司生產地點的遷移(深圳移至河南)，與下列哪個項目符合？(P.34、35)



- (A)由北方沿海遷移至南方內陸
- (B)由東部經濟帶遷至中部經濟帶
- (C)由煤鐵的產地遷移到擁有河海運的港口
- (D)由珠三角經濟圈移到長三角經濟圈

45. 2021年9月，中國各地政府陸續啟動限電政策，被台裔稱為廠商的「綠色淘汰賽」，以下是此波限電的簡介。請問：2021年中國限電的原因是什麼？(P.44)

- (A)減少碳排放
- (B)沙塵暴不利太陽能發電
- (C)減少水力發電，節約用水
- (D)防止土地沙漠化

- (1)2021年9月初，中國至少十多個省分實施「做4天休3天」，月底則直接停工至10月初。
- (2)政府說明限電的原因是未達到「能耗雙控」，需在年底前達成中央政府規定的節約能源目標。
- (3)廠商推測此次的限電原因是煤炭價格上漲，導致以火力發電為主的能源業者不敷成本，減少發電。

※46至48題為題組，閱讀下列短文後回答問題：

中國近年經濟快速成長，以出口為導向的貿易策略累積大量外匯，是近年最大的貿易出超(順差)國，並成為世界主要的對外投資國之一。

2013年起推動「一帶一路」，性質是跨國的對外投資，由中國提供資金(亞洲投資銀行)、基礎建設(電力、港口、鐵公路等)、交通運輸等，參與的國家則提高與中國的貿易往來，並分期償還資金給中國。

對一帶一路的批評主要來自政治立場與中國相左的「甲國」，認為一帶一路協議的投資風險偏高，多數建設將成為「債務陷阱」，對環境與生態造成不利的影響。以南亞國家斯里蘭卡為例，此地以漢班托塔港作為抵押，借貸資金從事建設，由於該國債務龐大、經濟衰退，最終失去港口的經營權。

甲國自2018年與中國發生貿易爭端，2022年更演變為禁止工業關鍵零組件進入中國，以維護甲國在工業生產的地位，兩國間的貿易戰爭仍方興未艾。

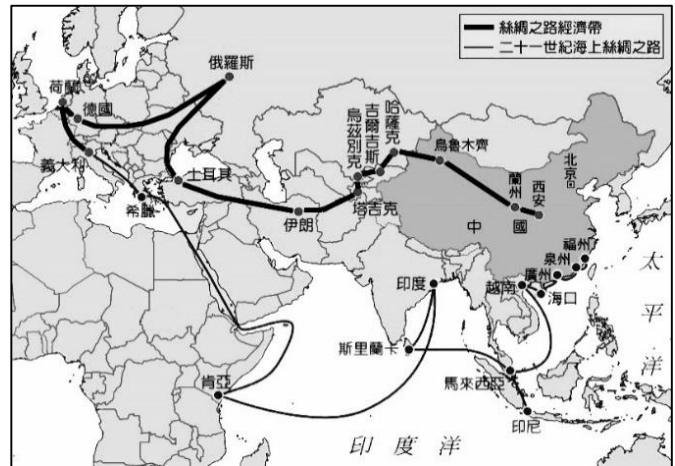
46. 以下是世界前四大貿易國的進出口貿易額，哪個代號代表中國？(貿易金額的單位為十億美元) (P.42)

(A)甲 (B)乙 (C)丙 (D)丁

國家	甲	乙	丙	丁
進口金額	2,408	1,171	2,056	635
出口金額	1,432	1,380	2,591	641

47. 下圖是一帶一路的路線示意圖，一帶、一路的沿線多為參與計畫的國家。請問：依據示意圖，參與「絲綢之路經濟帶」的國家主要位於哪2個大洲？(P.42、43)

- (A)歐洲、亞洲 (B)亞洲、北美洲
- (C)北美洲、大洋洲 (D)大洋洲、非洲



48. 上列短文內的「甲國」是哪個國家(區域)？(P.43)

- (A)日本 (B)德國 (C)美國 (D)臺灣

※49至50題為題組，閱讀下列短文後回答問題：

中國現代化的產業發展始於1970年代，由國家領袖鄧小平推動「對內改革，對外開放」，使各項產業高速發展。以下是改革開放的重要內容：

- (1) 1978年在安徽的農村首度實施「生產責任制」，農民上繳給政府的額度後，多餘的可自行運用。
- (2) 1978年開放外國投資，日本松下電器成為第1家進入中國的外資企業。
- (3) 1979年開放國有企業販售超過預定生產量的商品；允許私人企業經營。
- (4) 1979年廣東寶安市、珠海市、汕頭市、福建廈門市設置「出口特區」，學習台灣的加工出口區經營。
- (5) 1985年擴大開放範圍至沿海城市；1992年開放沿江城市與省會城市。
- (6) 1987年解除企業僱工數量的限制，8人改為無上限。

49. 工業生產以「最佳品質、最快速度、最低成本」作為目標，得到資金與技術的挹注才能快速達成上述目標。在中國工發展的歷程中，哪一項最能得到資金與技術的提升？(P.33)

- (A)農村實施生產責任制
- (B)日本企業到中國投資
- (C)開放國有企業販售超過預定生產量的商品
- (D)解除企業僱工數量的限制

50. 1979年設置的出口特區，是下列哪一種經濟發展的項目？(P.32)

- (A)經濟特區 (B)沿海開放城市
- (C)沿江開放城市 (D)西部大開發