

【讀卡科目請依規定畫卡，若有違反畫卡規定而影響讀卡作業之情事，一律扣總分五分。】

【手寫答案卷需確實寫上班級、座號、姓名，違者一律扣總分五分。】

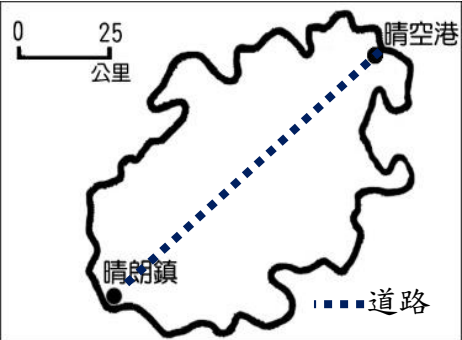
【手寫答案卷需用藍色或黑色墨水筆書寫，違者一律扣總分五分，使用鉛筆書寫扣五分。】

一、選擇題(每題兩分，共 100 分)

1. 麥力預計暑假時到澎湖旅遊。在網路上時她預訂了一家望海樓民宿，並擷取了民宿的資訊（如下表）。請問：下表中哪一個資訊表示該民宿的「相對位置」？(Ch1)
- (A)甲 (B)乙 (C)丙 (D)丁。

甲、機場索取的澎湖旅遊地圖上民宿位於（L，06）
乙、自行開車前來者，可利用導航定位（119°E，23°N）
丙、民宿地址：澎湖縣湖西鄉菓葉村 5 號
丁、民宿位於澎湖本島東側，可欣賞日出之美景

2. 寶拉到右圖中的晴天島去旅遊，她打算開車從晴空港到晴朗鎮，需橫跨整座島嶼，從圖中的晴天島地圖可推論這趟路程約 幾 公 里 ？
- (A)125 (B)100 (C)75 (D)50 公里。(Ch1)



3. 全明星運動會的第一關關卡題是拯救隊長。根據提供的地圖如右圖，被帶到其中某處的隊長一小傑，在 30 秒的通話時間內說出他觀察到的位置如下：「有邊有一座山，前面有一間寺廟」。隊員們應該至圖中的哪一個位置拯救隊長？
- (A)(3，C) (B)(2，B) (C)(4，B) (D)(4，A)。(Ch1)

A		民宿		
B	牧場		日出峰	
C		寺廟		教堂
D	溼地		小吃店	
	1	2	3	4

4. 地理老師上課時請同學分組報告「經緯線的特色與比較」。請問：下列哪一組的說明有誤？(Ch1)
- (A)第一組 (B)第二組

0 度緯線就是赤道，赤道是最長的緯線。

每一條緯線互相平行，南北半球各 180 度。

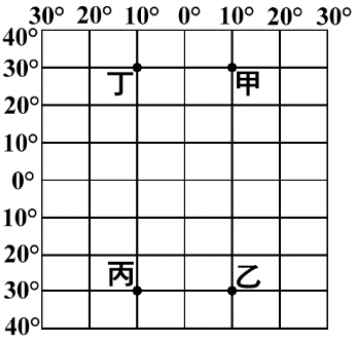
(C)第三組

沿 0 度經線走，越過北極點，會接到國際換日線。

(D)第四組

本初子午經線就是國際標準時間的中央經線。

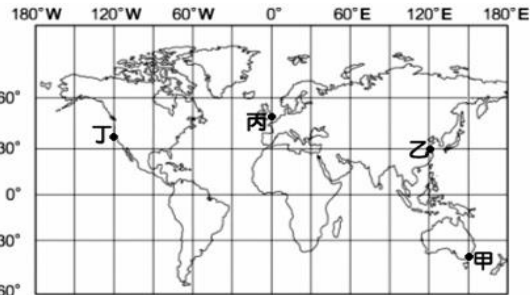
5. 右圖為地球儀上的座標系統圖，某日航班追蹤網（Flightradar24）顯示某架飛往非洲的航班飛機，並未順利抵達目的地，而是在雷達地圖上消失在（10°E，30°S）的位置，請問：飛機消失的地點應標示於圖中何地？(Ch1)
- (A)甲 (B)乙 (C)丙 (D)丁。



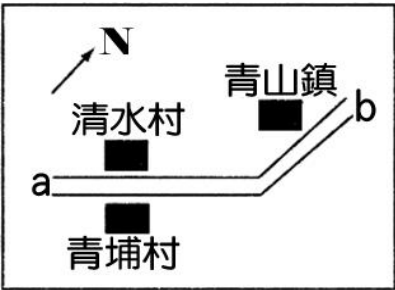
6. 臺灣每年在 1 月 1 日前後都會聚辦「臺灣新年數鳥嘉年華」，這個活動是為臺灣建立大範圍、長期的冬季鳥類族群變遷資訊。活動內容是設置數條固定的路線或區域，然後每年都在相近的時間，記下回到固定路線或區域數的鳥類。經過長時間的累積，能更了解台灣冬季鳥類出現的情形和數量變化的重要依據，也可以適當反映臺灣冬季的整體鳥類狀態和變遷。根據上述內容，臺灣能在每年 1 月 1 日舉辦「臺灣新年數鳥嘉年華」和下列哪一項因素關係最相關？(Ch2)
- (A)地勢高低落差大 (B)海陸接觸帶的位置 (C)熱帶溫帶過渡位置 (D)山脈為南北縱貫。

2022 蘋果電腦的新品發表會於蘋果電腦總部所在的加州矽谷（120°W）總部 9 月 7 日上午 10 時登場，本場新聞發布會除發布蘋果電腦旗下的新款商品外，也公布了新款 iPhone 14 手機系列將於 9 月 16 日於全球各主要都市的當地時間上午開放購買。這場科技界的盛事讓全世界的新聞媒體與 3C 達人們莫不守在電視或網路直播收看，以在第一時間介紹、分析相關產品。果粉們更是迫不及待地前往各地銷售點排隊購買新款手機。請問：

7. 根據上文，在臺灣要收看新聞發布會直播的人，須於臺灣時間何時收看？ (A)9 月 7 日凌晨 1 時 (B)9 月 8 日凌晨 1 時 (C)9 月 6 日晚上 10 時(D)9 月 7 日晚上 10 時。(Ch1)
8. 根據上文，在右圖中何處會最先售出全世界第一支 iPhone 14 手機？(Ch1)
- (A)甲 (B)乙 (C)丙 (D)丁。



9. 右圖為東國鄉村小鎮的地圖，沿線有三處村莊。請問：清水村在青埔村的哪一方位？(Ch1)
- (A)東南方 (B)西北方 (C)東北方 (D)西南方。



10. 同學們下課時討論地理講義中的題目－「臺灣的地理位置」特色。請問：下列哪一位同學的說法最不恰當？(Ch2)

(A)青雲

(B)金城

交通
東北亞與東南亞航線
樞紐，加深與世界的
相互依存關係。

絕對位置
台灣島位置位於東經
120 度至 122 度，南緯
22 度到 25 度之間。

(C)裕民

(D)學府

鄰國
臺灣周邊的鄰國有中
國、南韓、日本、菲
律賓、越南等。

海洋資源
位處寒、暖流交界
處，為台灣帶來豐富
漁獲資源。

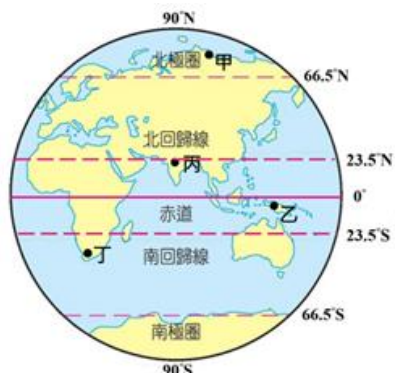
11. 請參考右圖。當臺灣為七月時，以下關於甲、乙、丙、丁四個人的居住地描述，何者是正確的？(Ch1)

(A)甲：「我住的地方很熱，一年四季都是夏天」

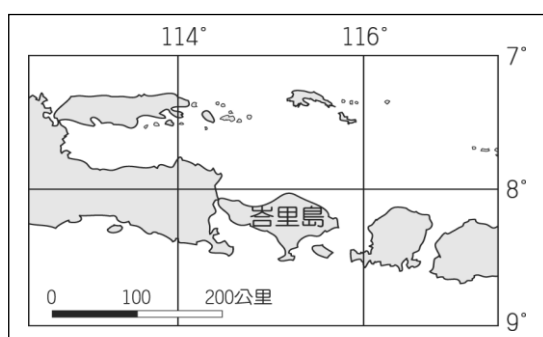
(B)乙：「我這裡剛好是冬季，下雪的美景好不美麗」

(C)丙：「這裡跟臺灣一樣，正值夏季，天氣很熱」

(D)丁：「這裡正值夏季，許多人都很開心去海邊玩水消暑」。



12. 請根據右圖中的資訊判斷，圖中的峇里島，位於哪兩個半球？(Ch1)



(A)東、北半球 (B)東、南半球
(C)西、北半球 (D)西、南半球

13. 圖地-1、圖地-2 是從電子地圖網站中所擷取不同比例尺的地圖，請從兩張地圖判斷下列敘述何者正確？(Ch1)

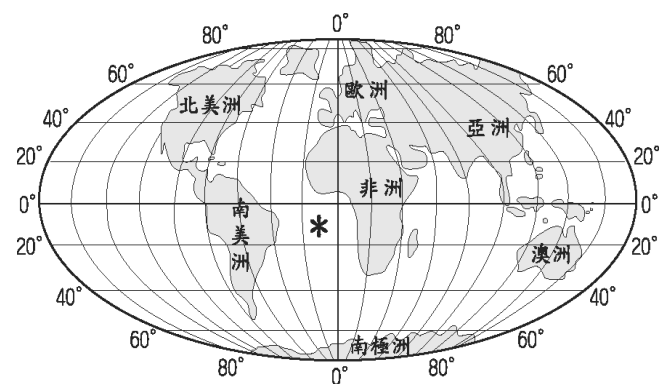
(A) 圖地-1 顯示的範圍比圖地-2 還要大，所以圖地-1 是大比例尺地圖
(B) 圖地-1 顯示的範圍比圖地-2 還要小，所以圖地-1 是小比例尺地圖
(C) 圖地-1 顯示的資訊內容比圖地-2 詳細，所以圖地-1 是大比例尺地圖
(D) 圖地-1 顯示的資訊內容比圖地-2 簡略，所以圖地-1 是小比例尺地圖



圖地-1



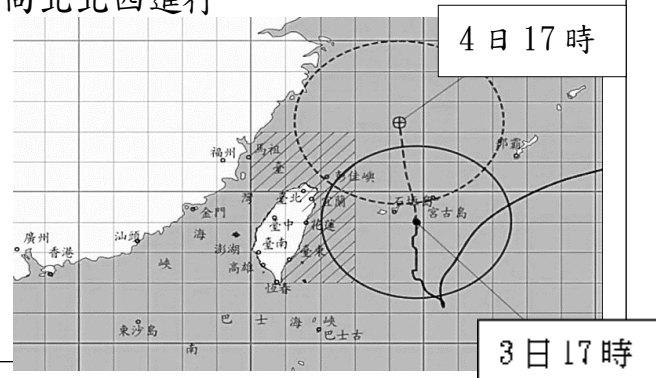
圖地-2



14. 全世界共有三大洋、七大洲，請參考上圖全球海陸分布，回答下列選項中何者正確？(A)全球陸地比例比海洋大 (B)「*」位於太平洋上 (C)七大洲中亞洲面積最大 (D)*位於東半球、南半球。(Ch2)
15. 可可樹所生產的可可豆是巧克力的原料，在台灣近年成為熱門作物，由於可可適合種植在南北緯 20 度之間，濕度為 80%為宜，故多集中於屏東縣，成為台灣的可可之鄉。根據上文所述，台灣的可可之鄉最可能在下列哪一縣市？(A)屏東縣 (B)台中市 (C)花蓮縣 (D)宜蘭縣。(Ch2)
16. 根據颱風報告的地圖判斷，請問：軒嵐諾颱風的預測路徑位處下列何處？

111 年 9 月 02 日 14 時軒嵐諾颱風報告：

- 位置：在北緯 21.9 度，東經 125.0 度。
- 前進方向：每小時 8 轉 15 公里速度，向北北西進行



- (A)大西洋 (B)太平洋 (C)印度洋 (D)北極海。(Ch2)
17. 呈上題，根據颱風報告資訊，下列描述何者正確？(Ch1+Ch2)
- (A)3 日 17 時軒嵐諾颱風中心約在花蓮縣的東側
(B)軒嵐諾颱風路徑是從台灣東側逐漸向西方移動
(C)4 日 17 時軒嵐諾颱風對台灣西南部影響最大
(D)颱風報告地圖中，每一方格的邊長距離為 10 公里。

※題組題：第 18-20 題(Ch1)

- (甲)「捏陶、穿樹皮、啃老芋仔，部落社區打造摩登生活！該部落研發燒製陶器的技術，也擅長磨製石器，打造樹皮布、種植芋頭，這裡的陶壺、陶罐以在口緣施有粗繩紋為其特色。」
(乙)「這裡已發展出煉鐵的技術，並製作鐵的獵具、農具、炊具等各種生活用具，成為全島重要的鐵器生產核供應中心。在煉鐵爐的附近，鍛工正在用石槌打鐵，一旁還擺著各式鐵器。」
(丙)「這個聚落擅長製作精美玉器，居民喜歡戴玉，甚至用玉陪葬。這裡的居民以狩獵及農耕為主，也擁有成熟的工藝技術，且相信人有靈魂，因此重視喪葬，將死者放入石板棺埋葬。」
(丁)「他們還不會農耕與畜牧，但已知道用火，但會使用打製的方式製作器具，並且能夠將獸骨做成縫衣針。可能會隨著食物的來源而不定時地遷徙。」
18. 上述四則皆在描述臺灣史前文化，請將上述四則內容按照出現的順序由早到晚排列。(A)(丁)→(乙)→(甲)→(丙)
(B)(丁)→(甲)→(丙)→(乙) (C)(乙)→(丙)→(甲)→(丁)
(D)(乙)→(甲)→(丙)→(丁)。
19. 「這個村落位於河海交會處，利用水上交通發展海外貿易，成為當時臺灣的一個國際貿易中心。對這個地理位置優越的村落來說，在岸上可以與海外來的人貿易，出海可以前往華南、東南亞及臺灣沿海地區貿易。他們交易回來的物品有金、銀、銅、玻璃、陶器、瓷器等精美飾品與生活用具。」請問：這段內容與上述哪個文化時期最為相近？(A)(甲) (B)(乙) (C)(丙) (D)(丁)。
20. 「臺北湖西邊的一個小島，有一個進步的集居部落，當地盛產美味的蜆，被人稱為蜆島。這個部落有以岩石、木竹、茅草搭建的房子，附近有燒陶的窯，居民以磨製石器作為工具，除了漁獵、飼養家畜、種植稻米外，也有漁撈活動，造就了現代的貝塚特色。」請問此內容與上述哪個文化時期最為相近？(A)(甲) (B)(乙) (C)(丙) (D)(丁)。
21. 14 世紀後期，明朝政府在沿海地區實施海禁政策，下列相關敘述何者正確？(A)主要是為了打擊在臺鄭氏政權的經貿活動 (B)海禁政策只限制外國人，對於百姓則無限制 (C)海禁政策嚴格執行，無走私情況發生 (D)海禁政策在防範海盜侵擾掠奪東南沿海。(CH2)
22. 「提出『南島語族臺灣原鄉論』的考古學者認為，華南形成的一個種族，在六千年前遷徙臺灣，發展成南島語族，然後在五千年前開始向全球擴散，東至南美洲西岸的復活節島，西至非洲東岸的馬達加斯加島，南至大洋洲的紐西蘭，跨越太平洋及印度洋。另有遺傳基因學者則認為，臺灣南島語族源自島嶼東南亞，當年島嶼東南亞族群遷徙的路線是一支往北到臺灣，一支往東到美拉

尼西亞、波里尼西亞。」請問：下列各項關於「南島語族」的敘述何者正確？(A)文中的兩方學者皆認為南島語族從臺灣發源，推論南島語族就是以臺灣為中心向外擴散 (B)據『南島語族臺灣原鄉論』所述，南島語族應是中華民族，皆為漢人的基因後代 (C)南島語族的發源是何時、從何處開始擴散，目前學界尚無定論，仍需持續探討 (D)從南島語族的分布可以得知族群的遷徙範圍是小且有限制的，研究上相當容易。(CH1)

23. 鄭成功起兵抗清初期，順治皇帝發下敕諭：「叛徒鄭成功，在海角偏遠處隱藏行蹤，阻擋天子的教化，是凶殘奸詐的人。」；鄭氏政權被清帝國征服後，康熙皇帝曾賜鄭成功輓聯：「清軍南下時，明朝各鎮總兵多有二心，紛紛投降清朝，唯有鄭成功固守廈門、金門，揮軍北伐，震動東南；南明諸王相繼覆滅，鄭氏仍能以太灣狹小之地懷抱抗清的志向，在海外保有忠貞。」請問：為何兩位清代皇帝對鄭成功的看法會有落差，我們該如何看待這樣不同的資料？(A)資料來自鄭成功的敵人，所以資料不可信 (B)歷史人物的形象應差距不大，故資料不可信 (C)政治立場不同導致對歷史人物的評價不同 (D)兩位皇帝的目的都是希望鄭成功可以投降。(CH2)
24. 史前時代可以分為舊石器時代、新石器時代與金屬器時代，通常考古學者區分史前文化分期的依據，是依下列何者？(A)遺址四周的地理環境 (B)遺址中動植物的化石 (C)使用器物材質與做法 (D)出土的人類遺骸測定。(CH1)
25. 右圖中，為近代歐洲各國在東亞建立的貿易據點，請問：下列歐洲國家與其在東亞貿易據點的配對何者正確？(A)葡萄牙—甲 (B)西班牙—乙 (C)英國—丙 (D)荷蘭—丁。(CH2)



26. 鄭成功英年早逝，他在西元 1662 年去世之前，曾吩咐五弟鄭襲日後輔佐世子鄭經；不料鄭襲卻與鄭經廝殺，鄭經幸賴□□□之助，於次年才順利即位。□□□對於將漢人典章制度移植臺灣頗有貢獻。請問：文中所述的「□□□」最可能是下列何人？(A)陳永華 (B)郭懷一 (C)鄭克塽 (D)顏思齊。(CH2)
27. 臺灣東部一群住在海邊岩壁洞穴的人，捕獲一尾兩公尺長的旗魚，據稱是當地歷來捕獲最大的魚，造成當地轟動。本社記者前往這個人口不多的地方採訪，這裡居民與世界各地同時代晚期的人類一樣，以「XX、XX、XX」維生，尚未長期定居，但已知道如何用火，且已懂得用石頭、獸骨、獸角等來製作工具。他們用海邊的礫石來製作石器，用來刮削、切割、挖掘、錘砸，洞穴中還有火坑，可供燒烤食物及生火取暖。文章述及該文化以「XX、XX、XX」維生，請問：「XX、XX、XX」該填入哪些內容？(A)以「農耕、採集、漁獵」維生 (B)以「採集、漁撈、狩獵」維生 (C)以「農耕、飼養家畜、狩獵」維生 (D)以「採集、狩獵、煉鐵」維生。(CH1)
28. 班上四位同學在討論荷蘭在臺時期與鄭氏在臺時期，臺

灣對外貿易的狀況。請問：下列哪位同學的說法是錯誤的？(A)芝嫻：「荷蘭時期與鄭氏時期，對外貿易對象差別在英國」(B)雅文：「荷蘭時期與鄭氏時期，出口商品都有蔗糖和鹿皮」(C)思璇：「為了政權穩定，荷蘭時期臺灣向日本進口軍需品」(D)秉容：「荷蘭時期，臺灣成為國際貿易轉運站；而鄭氏時期臺灣對各國貿易收入，是對抗滿清的重要財源」。(CH2)

29. 在大航海時代，歐洲各國致力尋找海外商機，這個位在歐洲西北部的國家內，為了避免互相競爭以及政府介入下，當時的該國內的六家公司於 1602 年 3 月合併為有國會授權、有武力後盾的商業公司，積極拓展在亞洲的貿易及殖民。這間公司獲得合法授權，擁有招募傭兵、發行貨幣、與外國訂約、海外殖民等權利，並在亞洲的印尼爪哇島設立亞洲總部，以跟歐洲海權國家競爭亞洲的商業利益。請問下列各項對文章所述公司的敘述中，何者正確？(A)該公司為荷蘭聯合東印度公司，將亞洲總部設置在巴達維亞以進行東亞貿易 (B)該公司曾經欲將澎湖作為貿易中心，但被明朝驅離後轉往臺灣北部地區發展 (C)該公司曾經在臺灣的大員地區發展，但受日本鎖國政策影響貿易發展，而被西班牙人趕走 (D)該公司船上刻有 VOC 的圖徽，並將《熱蘭遮城日記》送到馬尼拉。(CH2)

30. 臺灣原住民沒有自己的文字，但後人可從他們的神話以及口述傳說來了解他們的歷史。有幾位同學下課後正在討論此話題，請問以下何人的說法比較正確？(A)洋翊：我們可以藉此了解原住民的起源以及早期生活 (B)錦瑞：由故事判斷，他們的祖先來源一定和中國少數民族有關 (C)唯慈：原住民稱呼自己逐鹿而定居於日月潭，完全不值得採信 (D)于苙：許多原住民都有大洪水的傳說，代表他們都來自同一處。(CH1)

31. 柏叡在家中找到一本破舊的書籍，封面已經不見，不知書名，但目次還在，如附右圖所示。請問「過去沒有文字記載，只能依靠當時人類遺留下來的物品，來了解當時的文化。」敘述的是附圖哪個章節的內容？

第一章	史前時期.....	001-021
第二章	大航海時期.....	022-054
第三章	鄭氏時期.....	055-072
第四章	清領時期.....	073-110
第五章	日治時期.....	111-128
第六章	中華民國時期.....	129-150

(A)第一章 (B)第二章 (C)第三章 (D)第四章。(CH1)

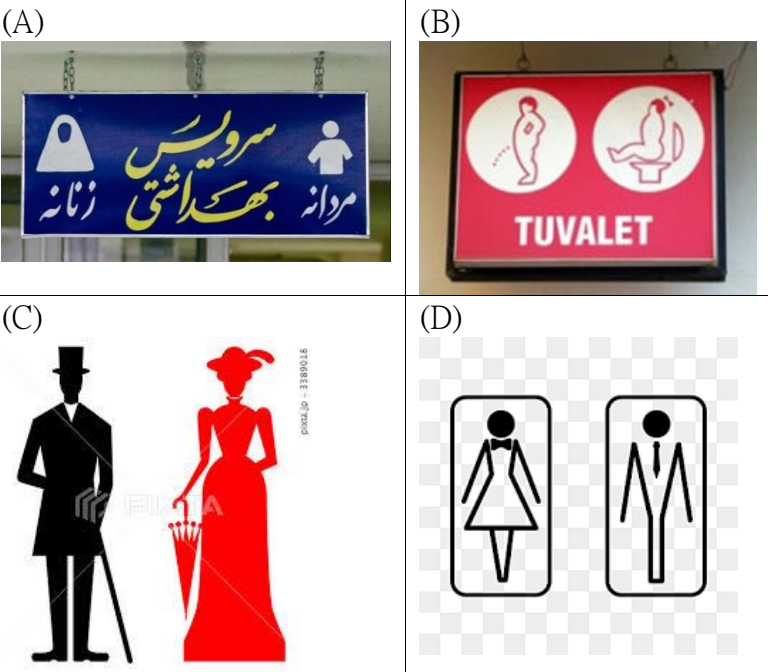
32. 十七世紀的臺灣不同於以往的寧靜，由於外來勢力的進入，臺灣內部開始產生變化。下列哪個改變不屬於這個時期所出現的特色？(A)首度有漢人治理臺灣 (B)臺灣首度有歐洲文化的傳入 (C)因為出現文字，臺灣進入歷史時期 (D)臺灣首度出現農業。(CH2)

33. 人類進入新石器時代以後有許多重大的變革，而有「新石器革命」之稱。請問：此時期對人類有何重要意義？(A)開始使用文字，能記錄當時人類的各種活動 (B)進入農業產食階段，人們始有時間從事文明創造 (C)已知用火取暖、照明與熟食，能夠延長生命 (D)發展嚴密的軍事及國家組織，保障團體的安全。(CH1)

34. 《從征實錄》內紀載：「(臺灣)田園萬頃，沃野千里，

餉稅數十萬，造船制器，吾民鱗集，所優為者，近為紅夷占據，城中夷夥，不上千人，攻之可唾手得者。我欲平克臺灣，以為根本之地，安頓將領家眷，然後東征西討，無內顧之憂，並可生聚教訓也。」請根據上述資料，下列何者選項正確？(A)文中的「紅夷」，指的是葡萄牙人 (B)推測本文最可能是沈有容所說 (C)此書所提及的內容使臺灣成為反清復明的大本營 (D)此文與鄭氏降將施琅攻打臺灣，使鄭克塽投降有關。(CH2)

35. 下列是小新到世界各地旅遊時，發現的男女廁所圖示。請問：哪一組圖示比較未受到「社會性別」的影響？(Ch2)



36. 小新回到台灣，看到以下四則新聞內容。請問，下列哪一則新聞內容具有保障人權的精神？(Ch1)

- (A)新聞一：縣府規畫「春日梅子節」活動，鼓勵民眾品嚐梅子，感受地方特色
- (B)新聞二：絕美天空步道落成，使用原住民傳統建材裝飾，極具文化美感
- (C)新聞三：知名手機大廠發表新技術，採用面部辨識功能，減少失竊危機
- (D)新聞四：高鐵免費接駁公車，採用無障礙空間設計，方便身障人士搭乘。

37. 小丸子考完會考後，和父母討論如何選填志願。小丸子的父母表示不論小丸子選擇什麼科系，都會全力支持她。上述顯示小丸子的父母充分具有何種精神？(A)人性尊嚴 (B)公平正義 (C)理性思考 (D)自由放任。(Ch1)

38. 勞動部依據主計總處「受僱員工薪資調查」數據，計算

兩性薪資差距幅度；根據最新二〇二一年統計，兩性薪資差距達十五・八%，較二〇二〇年的十四・八％持續高出一個百分點，換算女性需再增加工作四

近年我國兩性薪資差距

年度	兩性差距 (%)	女性需增加工作天數(天)	同酬日期
2017	14.6%	54	2018年2月23日
2018	14.6%	54	2019年2月23日
2019	14.9%	55	2020年2月24日
2020	14.8%	54	2021年2月23日
2021	15.8%	58	2022年2月27日

註：2019年起統計資料納入「研究發展服務業」、「學前教育」及「社會工作服務業」

資料來源：行政院主計總處「受僱員工薪資調查」；勞動部統計 製表：記者李觀慧

天、達到五十八天，才能與男性獲得同樣的薪資(如圖所示)。請問：上述兩性薪資差距明顯具有下列何項概念？(A)性別歧視 (B)性騷擾 (C)性別平權 (D)性別刻板印象。(Ch2)

39. (承上題) 若想要改善兩性薪資差距的情況，社會整體應更加落實下列哪一項法律？(A)《性騷擾防治法》(B)《性別工作平等法》(C)《性別平等教育法》(D)《公民投票法》。(Ch2)
40. 1955年12月1日，Rosa Parks(羅莎·帕克斯)在美國阿拉巴馬州的蒙哥馬利市，她拒絕讓座給白人而遭逮捕，因為她的行為違反了該市的種族隔離法。之後引發聯合抵制蒙哥馬利公車運動，美國國會後來稱她為「現代民權運動之母」。根據上述史實，下列敘述何者最為正確？(A)人有高低優劣分別，種族之間存在著階級是有助於社會進步 (B)法律為國家重要根本，即使是不合時宜的法律也應該要保留 (C)為增進社會秩序穩定，可合理犧牲少數人權 (D)任何人都應受到平等對待，人性尊嚴不容侵犯。(Ch1)
41. 我國傳統觀念認為男性未來擔負的責任較重，例如成家立業、傳宗接代，因此應表現較為堅強和勇敢，這種看法稱為下列何者？(A)性別刻板印象 (B)性別平權 (C)性騷擾 (D)性別歧視。(Ch2)
42. 下列四個情境中，何者適用《性別平等教育法》？(Ch2)
(A)在學校上游水課時，妮妮被同學說是「身材姣好」
(B)在捷運上，吉永老師被陌生人襲擊臀部
(C)在工作場所，美芽被迫聽老闆講黃色笑話
(D)在校車上，正男不時用手肘騷擾鄰座女生的身體。
43. 小新前往醫院探望長輩時，看到下方的告示牌。事實上，醫院設置佛堂及祈禱室，不限特定宗教專用，佛教徒、基督教徒、天主教徒、伊斯蘭教徒或其他宗教等，均可自由前往。請問，醫院提供此項服務最能彰顯何種精神？(A)對弱勢群體的醫療照護 (B)對種族無差別的人道關懷 (C)對人權給予普遍性的保障 (D)對身心障礙者的人權保障。(Ch1)



44. 柯南和小蘭夫妻倆終於盼到孩子的降臨，以下是兩人在第一次產檢後的對話：
柯南：「關於孩子的事，我會盡全力輔助你的，有什麼需要請儘管告訴我！」
小蘭：「不對。什麼叫輔助我？」
柯南：「咦？就是幫妳的忙呀！……」
小蘭：「這是幫忙嗎？我們不是都要一起成為父母嗎？我也是第一次懷孕，對於一切都一無所知，非常不安。但我卻得自己學習，然後負責對你下指令嗎？一起學習，一起成為父母，夫婦不就是如此嗎？」

請問，以上對話中，可以推論出小蘭在強調人與人的互動中哪一個概念的重要性？(A)責任承擔 (B)貢獻肯定 (C)利益分配 (D)需求滿足。(Ch2)

45. 下列何者是透過國家制定法律保障人權的例子？(Ch1)
(A)客運公司規畫無障礙公車讓身心障礙者可以搭乘
(B)民間善心人士提供棉被給流落街頭的街友
(C)政府訂定《兒童及少年福利與權益保障法》以避免兒虐事件的發生
(D)慈善機構募捐食物給貧苦家庭食用
46. 妮妮在學校走廊上，覺得屁股被人用力拍了一下。她回頭看到小東做了鬼臉然後哈哈笑的跑了。一週後，妮妮仍覺得很不舒服，常常做惡夢，在學校看到小東就十分焦慮。根據上文判斷，下列敘述何者「正確」？(Ch2)
(A)小東的行為屬於性侵害 (B)妮妮的父母可以依《性騷擾防治法》向學校提出申訴 (C)此類案件的受理單位為教務處 (D)若經查證行為屬實，小東必須接受學校的性別平等教育課程。
47. 根據最新的《公共場所親子廁所盥洗室設置辦法》規定，公共場所「男女廁所」內應設有：兒童安全座椅、尿布臺、兒童小便器及兒童馬桶，改善了過去只有女性廁所才有的窘境。請問，以下哪一個性別不公平檢視原則可以用來說明此一改善之現象？(A)貢獻肯定 (B)責任承擔 (C)需求滿足 (D)利益分配。(Ch2)
48. 雇主刊登廣告找人才，用字遣詞可得小心！(如右圖)職缺欄寫著「洗碗阿姨」，此舉業者已經與下列何種理念「相違背」？(A)性別偏見 (B)性別平權 (C)性別歧視 (D)醫療保障。(Ch2)
49. (承上題) 失業的中年男子智郎前往應徵該工作，老闆忽略他的能力，直接因他的性別而不錄用他。請問，從下列哪兩個檢視角度可以說明智郎應徵工作時所面臨的不公平處境？(Ch2)
(A)責任承擔、貢獻肯定 (B)貢獻肯定、利益分配
(C)責任承擔、需求滿足 (D)利益分配、需求滿足。
50. 下表為 2022 年最新的「育嬰留職停薪」政策。請問，爸爸媽媽可以向公司辦理育嬰留職停薪，同時可請領育嬰留職停薪津貼，是根據下列何項法律的規定？(Ch2)
(A)《勞動基準法》 (B)《性別工作平等法》
(C)《性別平等教育法》 (D)《性騷擾防治法》。



育嬰留職停薪	
媽媽爸爸	受僱者任職滿6個月、小孩3歲前
要件和期間	期間最多2年。同時育有2名以上未滿3歲小孩的期間合併計算，最長以最小的孩子2年為限
申請次數	申請期間少於6個月但不低於30日之申請次數以2次為限；同時育有2名以上未滿3歲小孩的申請次數合併計算，最多以最小的孩子2次為限
書面申請	受僱者應於10日前以書面向雇主提出申請
津貼	育嬰留職停薪津貼連同政府補助為平均月投保薪資的80%，最多請領6個月
同時申請	育兒爸媽可同時申請育嬰留職停薪及津貼