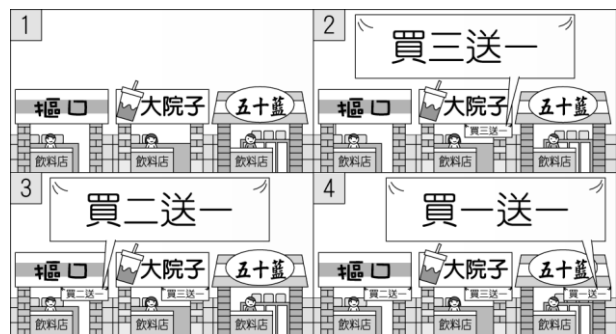


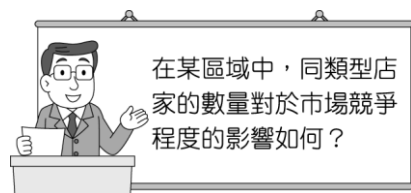
【讀卡科目請依規定畫卡，若有違反畫卡規定而影響讀卡作業之情事，一律扣總分五分。】

### 一、選擇題


1. 哲哲家旁邊的商店街有很多家飲料店，他觀察到的現象如附圖所示。請問：他應該如何說明飲料店之間的競爭行為？(第4章)



- (A) 屬於高度競爭的市場型態  
(B) 價格由某家飲料店控制  
(C) 市場缺乏競爭  
(D) 屬於非價格競爭方式。(第4章)
2. 附圖是中正國中公民老師上課的簡報，根據圖中的問題，哪位同學的回答「正確」？(第4章)



- (A) 佳皓：市場競爭程度與店家的數量無關  
(B) 家又：店家數量愈低，競爭愈高  
(C) 要成：數量愈多，競爭愈低  
(D) 像哲：店家數量愈多，競爭愈高。
3. 公民課時老師就廠商之間的競爭行為做解釋，之後請同學在「非價格競爭」方面做舉例，下列誰的回答「有誤」？  
(A) 與成：研發新產品  
(B) 銘昌：商品買三送一  
(C) 恩責：集點兌換公仔  
(D) 冠婷：與其他廠商策略聯盟。(第4章)
4. 公民課的時候同學正在討論購物的猶豫期，下列哪一位同學的消費行為「符合」法律規定？(第4章)



5. 附圖中有三個好鄰居正在討論一則電視報導，根據對話內容，下列說明何者最「正確」？(第4章)



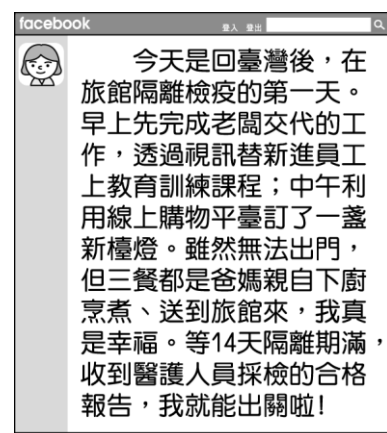
- (A) 商店本就要顧客至上，滿足顧客的任何要求  
(B) 消費者應充分利用 14 天的猶豫期  
(C) 消費者不應濫用權利，破壞友善的消費環境  
(D) 即使商品無瑕疵，實體商店應該要無條件退貨

6. 婷宜到住家附近的愛愛買超市購買食材，剛好聽到附圖中兩人的對話。請依圖中內容判斷，此事和下列哪部法律規範相關？(第4章)



- (A) 《社會秩序維護法》  
(B) 《消費者保護法》  
(C) 《食品安全衛生管理法》  
(D) 《公平交易法》。

7. 新平在臉書分享自己的生活，依照附圖內容判斷，下列何者說明「正確」？(第3章)



- (A) 新平的檢查報告是透過無形勞務取得  
(B) 新平的三餐是自己在市場進行交易買的  
(C) 新平交給老闆的工作成果是屬於有形財貨  
(D) 新平買新檯燈的地點是在有形市場。

8. 亦婷平常就非常關心國際新聞，某天她看到一則報導如下，根據內容所示，她判斷民眾改採取另一種購物方式，是因其具有何種特點？(第3章)

#### 全球疫情報導

新型冠狀病毒疫情蔓延全世界，在許多疫情嚴峻的國家，政府限制人民上街活動，商家生意因此一落千丈，索性關掉實體店鋪，經營網路商店。而擔心外出染疫的民眾也改採網路下單，讓快遞直接把商品放在家門口，24 小時待在家中的民眾，有更多時間上網消費，對刺激經濟也有不錯的效果。

- (A) 商品種類比較齊全  
(B) 不需要和人實際接觸  
(C) 商品價格比較為便宜  
(D) 提供各種有形財貨

9. 淨文昨天晚上參加一場演講時聽到附圖中的這段話，這段話的意思與下列何者「最相近」？(第3-4章)



- (A)商人在經過思考後，認為交易行為創造的利益是最大的  
(B)政府應介入交易過程，確保買賣雙方均能獲利  
(C)交易能夠順利進行，必須依賴商人的善心  
(D)買賣雙方會考量對自己有利的部分，共同決定交易的價格。
10. 對消費者而言，從事消費行為會受到許多因素影響。根據附圖內容判斷，下列哪一項因素影響了好朋友三人對瓶裝水的需求？(第3章)



- (A) 商品價格  
(B) 家庭收入狀況  
(C) 預期心理  
(D) 個人偏好。
11. 中正愛心會在中正公園舉辦園遊會，719班的攤位賣炸魚、烤香腸及紅茶，收入明細如附表。辛苦了一天，719班共獲得利潤3千元，糊塗的兩彤忘了到底賣出幾杯紅茶，你能幫他算出來嗎？(第3章)

產品	價格	成本	銷售量
炸魚	10元／份	5元／份	100份
烤香腸	20元／條	12元／條	200條
紅茶	10元／杯	4元／杯	？杯

- (A) 120杯  
(B) 200杯  
(C) 150杯  
(D) 250杯
12. 若廷在自己店裡賣防疫商品，附表是在固定時間內，商品的銷售狀況。根據表中資訊，她應該加強推銷哪一項商品，所得利潤才會與其他三者「相同」？(第3章)

品項	生產成本(元)	商品價格(元)	銷售量(份)
口罩	2	5	55
擦手巾	6	15	20
噴霧空罐	4	9	36
小瓶酒精	12	30	10

- (A)口罩  
(B)溼紙巾  
(C)噴霧空罐  
(D)小瓶酒精

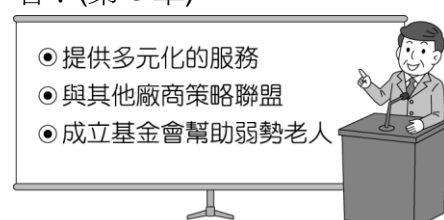
13. 小萱開設食品廠製作越南麵包，並於商店販售，她將這個月的銷售量做成附表。請問：根據表中訊息，下列何項敘述「正確」？(第3章)

販售管道	銷售量(萬元)
管道一：土城商店	45
管道二：網路電商	15
管道三：板橋車站店面	66

- (A)此項商品屬於無形勞務  
(B)小萱在市場中屬於消費者  
(C)在無形市場的銷售量較高  
(D)有形市場的銷售收入比較多。
14. 生產者從事生產行為主要目的是為了獲取利潤，由附圖中的情境可知，該店家為獲取利潤所採取的做法為下列何者？(第3章)



- (A)策略聯盟  
(B)增加銷貨收入  
(C)提高產品品質  
(D)降低生產成本。
15. 小又參加某成功企業老闆舉辦的座談會，附圖為老闆的演講簡報內容之一。請問：此頁簡報的標題應為下列何者？(第3章)



- (A)廠商從事生產行為的目的  
(B)政府保護消費者的做法  
(C)廠商之間的競爭方式  
(D)市場廠商間的競爭程度。
16. 當消費者權益受到損害時，應該要懂得保護並爭取自己的權益，不要讓自己的權益睡著了。下列哪一選項最符合上述意旨？(第4章)

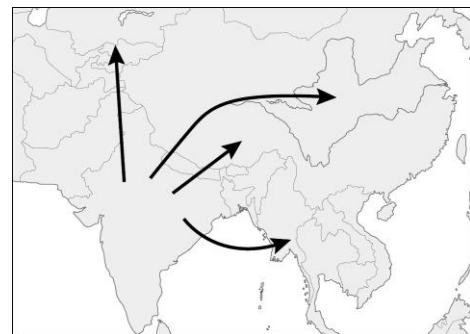


17. 食物反映一地的地理條件與文化，在近代交通發達以前，通常不易改變；但有些地區的飲食方式卻在公元 8 世紀到 16 世紀間，有重大的變化，如開羅、君士坦丁堡都屬此類。這些地方飲食文化的改變主要原因為何？  
(P.117,118)  
(A)宗教信仰改變 (B)氣候條件變遷  
(C)耕作技術改變 (D)海外貿易中斷。
18. 良哥在傳教士的影響下開始上教會參加活動，開始對基督教、耶穌產生興趣，若他想要了解耶穌的生平，他應該閱讀下列哪本書？  
(A)《新約》 (B)《舊約》  
(C)《神曲》 (D)《古蘭經》。(P.114)
19. 義大利能夠在 14 世紀發展出文藝復興運動的原因，主要和下列哪一項因素較無關係？  
(A)位居東西貿易文化交流的要衝  
(B)古典翻譯典籍的傳入  
(C)農村居民支持  
(D)印刷術的發展。(P.124)
20. 1054 年一場公開辯論沒有結果後，羅馬教廷特使在離開君士坦丁堡時，刻意拍打鞋上的塵土以示輕視而後離去。此一事件在歷史上顯示出什麼意義？  
(A)歐洲政教衝突達到頂點  
(B)中世紀教會因此進行改革  
(C)自此基督教正式分裂為希臘正教與羅馬公教  
(D)基督教發生第二次分裂。(P.115)
21. 小容明明要減肥，但卻忍不住跟同事一起訂購喝了會變胖的飲料，她對自己的行為感到罪孽深重。若依照喀爾文的理論，她該如何洗清罪孽爭取上帝的救贖？  
(A)向教會購買贖罪券  
(B)自己讀《聖經》了解神意  
(C)努力工作以榮耀上帝  
(D)什麼都不用做。(P.126)
22. 「□□的唯一好處是得到一個教訓，它使天主教徒及新教徒雙方都不願再以『宗教』為名義打仗了。新舊教徒就要和平相處，但這並不意味著新舊教徒之間已經弭除歧見。」請問上文中的□□意指那一事件？  
(A)塞爾柱土耳其與基督教世界的衝突  
(B)怛羅斯之役  
(C)三十年戰爭  
(D)鄂圖曼土耳其入侵拜占庭帝國。(P.128)
23. 以下是對中世紀時某一文化的描述：「人民的識字率比同時期的西歐社會高得多，他們吸收了古典希臘文明的遺產，許多古希臘典籍我們現在還能讀到，全是因為他

們有譯本的緣故。他們利用潮汐推動石磨、有三角測量術還有三角帆；他們改良了冶金術、機械工程、煉金術與灌溉方法，他們採借了中國造紙術、羅盤，又將它們傳入歐洲。」試判斷這應是指哪一文化？

- (A)土耳其文化 (B)拜占庭文化  
(C)日耳曼文化 (D)阿拉伯文化。(P.118)

24. 下列為關於世界三大宗教的敘述：(甲)的信仰人數雖相對較少，但卻是最早出現的；(乙)為中世紀西歐社會秩序的維護者；(丙)信徒多次建立跨歐亞非帝國，傳播所信仰宗教。根據這些敘述判斷，下列四者何者正確？  
(A)甲、乙於中世紀時發生大規模衝突  
(B)乙、丙均為一神信仰  
(C)甲曾與唐朝在中亞發生衝突  
(D)柬埔寨吳哥窟為丙的著名建築。(P.117)
25. 探討歷史發展的相似的課程中，老師提出下列的說法：「蒙古人之於塞爾柱土耳其帝國，就如同鄂圖曼土耳其帝國之於○○」，請問：○○應是指何者？  
(A)阿拉伯帝國  
(B)拜占庭帝國  
(C)羅馬帝國  
(D)大唐帝國。(P.118)
26. 附圖為某普世宗教的傳播路徑，此宗教是下列何者？(P.119)



- (A)猶太教 (B)佛教  
(C)伊斯蘭教 (D)基督教。

27. 「拜占庭帝國的皇帝在宗教上有『等同使徒』的頭銜，可以任免主教和獎懲教士。他也直接介入教會的教義和崇拜問題，有一些大公會議均由皇帝召開並主持。」根據上文所述，請判斷這應該可以反映出拜占庭帝國在歷史上具有何種現象？  
(A)政教衝突 (B)基督教式微  
(C)教權至上 (D)政教合一。(P.115)
28. 文藝復興是介於中古與近代之間歷史發展的關鍵時代，對後代造成的影響，以下敘述何者合於史實？  
(A)反對宗教信仰，走向無神論  
(B)鼓勵個人獨立精神，促使宗教改革、社會改革的發展  
(C)使宗教藝術與騎士文學成為西方文藝主流

- (D)使西方文化走向復古而缺乏創新。(P.124,125)
29. 如今在世界上有超過 5 億的佛教徒，有關於佛教的發展，下列何者正確？甲、創立於印度；乙、約於漢朝時期傳入中國；丙、東南亞的佛教傳自中國與朝鮮；丁、禪宗是源於中國本土文化的宗派。  
(A)甲乙丙 (B)甲乙丁  
(C)甲丙丁 (D)乙丙丁。(P.119)
30. 阿鳳對於某宗教的發展歷史感興趣，因而上網搜尋相關資料，並看見一篇論述中引用著名羅馬史學家塔西圖斯的評論：「這教派的信徒被大規模逮捕並判刑，在死前，他們成為百姓的娛樂：他們穿上獸衣，被凶狗活活咬死；或者將他們綁在十字架上，天暗後，將他們燃燒，作為火炬。……他們雖然罪有應得，卻引起了人們的同情，因為他們給人的印象是：他們之所以成為犧牲品，並非是為了國家的公益，而是為滿足皇帝的凶殘。」。根據內容判斷，阿鳳在這篇論述中最可能會看見下列哪項說明？  
(A)此教派因與帝國傳統多神信仰不合而遭迫害  
(B)此教派隨羅馬帝國的滅亡而式微  
(C)此教派以伊斯蘭教為基礎而形成  
(D)日耳曼民族首次將此宗教合法化。(P.114)
- 題組：看著電影「羅耀拉-深愛天主的教士」，小胡不自覺地睡著了，夢中的小胡置身於電影中的場景，看到了年輕騎士羅耀拉如何深受感召成為宣示服從的教士；聆聽方言文學家賽凡提斯與其他方言文學家的對談；走在高聳建築引水道上俯瞰羅馬帝國曾經的壯闊；駐足千年歷史清真寺迴廊，震撼於穆斯林俯身禮拜盛況。……突然間夢境一轉，已置身於 13 世紀聖地牙哥大教堂前的朝聖之路，看著信徒一步一步走來……」。醒後，雖發現是夢境，但小胡仍久久無法遺忘，遂將那歷程寫成文章放置於 FB 與朋友分享。
31. 夢中與賽凡提斯對談的方言文學家，應不會出現下列何者？  
(A)但丁 (B)莎士比亞  
(C)拉斐爾 (D)佩脫拉克。(P.125)
32. 夢境中所見千餘年前的清真寺，最可能與下列何政權之進入當地統治有關？  
(A)阿拉伯帝國 (B)東羅馬帝國  
(C)塞爾柱土耳其帝國 (D)鄂圖曼土耳其帝國。  
(P.117)

33. 夢境最後出現的聖地牙哥教堂，直至今日仍為教徒心中的聖地。請問：若就歷史判斷，16 世紀的當地，主要應為何教派的信仰區？

(A)伊斯蘭教 (B)路德教派  
(C)喀爾文教派 (D)天主教。(P.128)

後面尚有試題，請繼續作答



- 題組：第一條歐亞大陸橋是由俄羅斯東部的海參崴為起點，橫穿整個西伯利亞前往莫斯科，然後通向歐洲各國，最後抵達終點-荷蘭鹿特丹港，該陸橋全長 13000 公里左右。然而 2022 年在歐洲開始了烏俄戰爭，兩個國家的戰爭，影響了整個歐洲，也癱瘓了上述的歐亞大陸橋。圖地-1 為歐亞大陸橋的路線圖，請依照圖地-1 回答第 34 題至第 37 題：



圖地-1

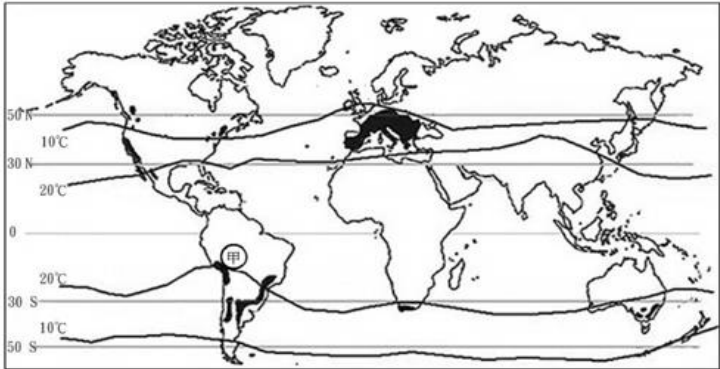
34. 圖地-1 中的第一條歐亞大陸橋橫貫整個歐亞大陸，整個陸橋最主要目的是為了載送大量的物資通往歐洲販售。當火車從海參崴出發前往終點鹿特丹的時候，會經歷什麼樣的地形轉變？  
(A)山地→平原→高原(B)山地→高原→平原  
(C)高原→平原→山地(D)高原→山地→平原。(ch3)
35. 在西伯利亞地區興建鐵路是具有難度的，主要與自然環境中的哪個原因有關？  
(A)氣候嚴寒(B)季風吹拂  
(C)西風吹拂(D)面積遼闊。(ch3)
36. 當火車從第一條歐亞大陸橋的起點海參崴出發前往終點鹿特丹的時候，在進入到首都莫斯科的時候，會在當地看到哪種宗教的建築物？(ch4)

	(A)	(B)
建築型態		
宗教信仰	東正教	基督教
	(C)	(D)
建築型態		
宗教信仰	基督教	東正教

37. 從莫斯科前往鹿特丹的過程中，一路上的氣候變化最有可能是下述何者？

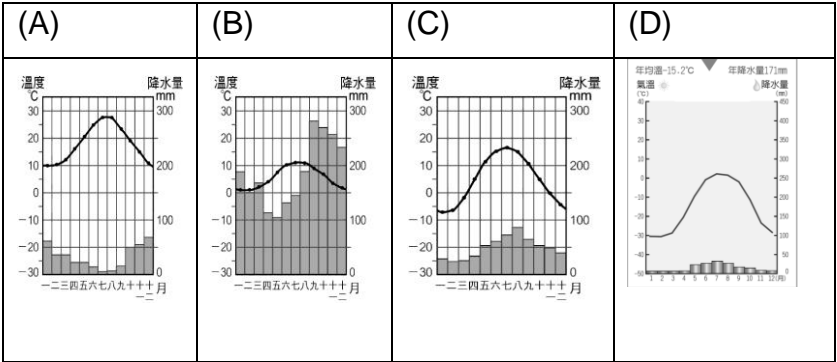
- (A)年溫差會越來越大(B)冬季溫度越來越低  
(C)年降水量越來越少(D)降雨季節越來越長。(ch3)
38. 能源是現代工業文明的核心，人類所有食衣住行的生產、製造與使用過程都脫離不了能源。然而在俄羅斯與烏克蘭發生戰爭後，對於整個歐洲來說受影響最大的是甲能源與乙能源的供給，而甲能源最方便可行的替代來源是西亞，西亞將會是甲能源歐洲最先爭取購買的對象。然而，對於乙能源而言，才是對歐洲真正的挑戰，和甲能源不同，乙能源要找其他海外買家，短時間難見效，尤其是在入冬之後，必須確保乙能源的儲存量。上述所提及的甲能源與乙能源最可能是哪兩種能源？(ch4)

	(A)	(B)	(C)	(D)
甲能源	天然氣	石油	鐵礦	石油
乙能源	煤礦	天然氣	煤礦	鐵礦



圖地-2

39. 圖地－2 為某種農作物的分佈圖，根據其所在位置判斷，主要有哪些因素影響該作物生成？  
(A)赤道低壓、西風帶(B)副熱帶高壓、西風帶  
(C)赤道低壓、季風帶(D)副熱帶高壓、季風帶。(ch3)
40. 承上題，該作物的生長環境特色，主要為下列何者？

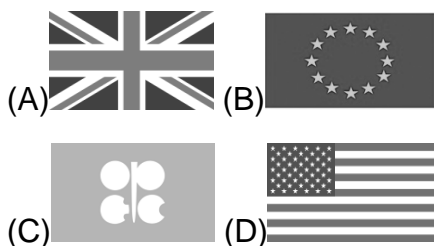


- (ch3)
- 題組：克利米亞大橋爆炸後，俄羅斯為了報復烏克蘭，飛彈如雨般襲擊烏克蘭的首都基輔和其他城市，將迫使許多民眾逃離家園。其中，圖地-3 中依序從甲地到王地，為拿拿口一家的逃亡路線。請根據圖地-3 回答列第 41 題至第 48 題：

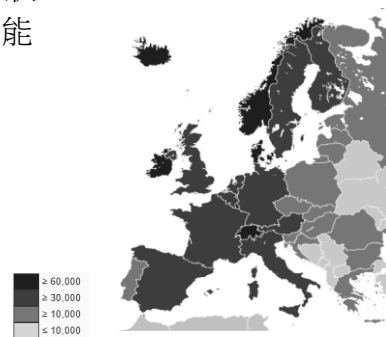


圖地-3

41. 當拿拿口一家準備從丙地前往到戊地時，其中他們經過的山，是哪座山脈？  
(A)庇里牛斯山(B)喀爾巴阡山  
(C)阿爾卑斯山(D)基阿連山。(ch3)
42. 承上題，拿拿口一家可以不受地形阻隔，直接穿越該座山脈最主要是因為該地區受到下列何者作用力影響？  
(ch3)  
(A)河川侵蝕而成峽谷(B)火山爆發遺留通道  
(C)冰河侵蝕 U 型谷地(D)板塊拉扯陷落裂谷。
43. 拿拿口為了和家鄉的朋友報平安，所到之處皆會寄信，他在信中不禁感嘆：歐洲是世界上最早工業化與都市化的地區，而由歐洲商人所建立的商品貿易網絡也遍及全球，不僅農業發達，工業發展亦是歐洲經濟發展的驅動力。請參考圖地-3，請問：下列歐洲國家特徵配對，何者正確？  
(A)戊：瀕臨大西洋，首都巴黎為世界時尚產業的重鎮  
(B)辛：利用北極海發現石油，將資金挹注高科技產業  
(C)丁：位於阿爾卑斯山以北，擁有著名汽車品牌 BMW  
(D)乙：地形平坦農牧業發達，以種植鬱金香舉世聞名。(ch4)
44. 拿拿口抵達庚地時，覺得和家鄉烏克蘭的氣候相差甚遠，所主要是因為受到那些因素影響？  
甲.緯度 乙.地形 丙.洋流 丁.盛行風  
(A)甲乙(B)乙丙(C)丙丁(D)甲丁。(ch3)
45. 承上題，拿拿口同時也發現庚地的國旗，除了在歐洲以外，彷彿在其他地區也能看見相像的旗幟，是因為該國昔日曾建立起輝煌的日不落帝國，雖然二戰後陸續獨立，但有些國家的國旗之上仍能窺見當初殖民遺留下來的痕跡。請問：這些日不落帝國的旗幟上，大多數會都具有下列哪張旗幟的影子？(ch4)



46. 歐洲聯盟，簡稱歐盟，成立於 1993 年，歐盟至今共有 27 個會員國，影響擴及歐洲各部。在烏俄戰爭之際，歐盟在美、俄、烏之間選邊，決定追隨美國，制裁俄羅斯。請問：歐盟的總部設立於圖地-3 哪一國的首都？  
(ch4)  
(A)庚(B)己(C)甲(D)丙。
47. 承上題，東歐在實施經濟改革後，部分國家開始於 2004 年加入歐盟。而有些學者認為，讓東歐的國家加入歐盟是在預防俄羅斯勢力的再次崛起，避免戰爭的出現，而這些學者的思考與下述的東歐國家特色有關？(ch4)  
(A)為歐洲已開發的國家，勞動成本開始上升  
(B)屬歐洲大平原一部分，牧業發展相對發達  
(C)歐洲與俄羅斯交界處，為重要政治緩衝區  
(D)國家實施共產主義，經濟與科技發展遲緩。
48. 拿拿口到達某地後，發現當地語言「lagom」在歐洲蔚為風潮，它追求從平衡中尋找生活的滿足感。某地以知足國家自居，相信「足夠就是最好」。這樣的滿足可以歸功於每周 37.5 小時工作制、每年固定的 33 天年假，或覆涵從出生到死亡的社會福利政策。請問：拿拿口到到達的國家為圖地-3 中的哪一國？(ch4)  
(A)丙(B)丁(C)甲(D)壬。
49. 歐盟致力於發展可再生能源與利用，利用風力發電預估在 2030 年可達到總歐盟用電量的 29.6%，下列何地最可能是風力發電機組分佈的海域？(ch3)  
(A)地中海(B)北極海(C)波羅的海(D)北海。
50. 圖地-4 為歐洲地某種社會經濟狀況的統計地圖，請問該地圖可能是何種數據？(ch4)  
(A)戰爭難民收容數量  
(B)使用英文人口比例  
(C)工業成品出口比例  
(D)各國國家的人均 GDP。



圖地-4