

【讀卡科目請依規定畫卡，若有違反畫卡規定而影響讀卡作業之情事，一律扣總分 5 分。】

一、選擇題

1. 在公共事務面臨決策兩難時，投票與表決是民主過程中的重要機制。根據內政部頒定的《會議規範》，關於開會時討論與表決的機制，以下敘述何者正確？(P.200-201)
- (A) 生活中所有的事務都可以透過投票決定
(B) 提案應以書面提出，且須1人以上附議
(C) 會議進行時應該讓後提議的項目先表決
(D) 臨時動議可以討論非會議程序內的議案
2. 請觀察圖(1)及(2)中甲生與乙生的對話，若從行使權利與承擔責任的角度來思考，下列哪一個敘述最正確？
(改編自習作P53)



圖(1)



圖(2)

- (A) 權利應相互尊重不能讓他人陷於危險中
(B) 乙生應該盡快向甲生學習跟上實驗進度
(C) 權利行使是單向的，乙生不能要求甲生
(D) 到實驗室做實驗是甲生的身體自主權
3. 圖(3)是海綿寶寶在聽演講時看到的標誌，請問：以下哪一個選項，與圖(3)要表達的概念最為相近？(P.197)



圖(3)

- (A) 學生應該多主動參與學校的公共事務
(B) 使學生充分學習如何促進自我的成長
(C) 是一種故意且重大並持續的傷害行為
(D) 鼓勵中學生到圖書館使用網路查資料

4. 七年一班想以自己的力量籌措班遊費用，因此希望能在校慶園遊會時，賺多一點錢。多位同學也紛紛在開班會前，提出提高園遊會利潤的方法。請問：以下何者是在進入討論事項以前，可以預先做出的行動？(P.200-201)
- (A) 對於提高園遊會收入的方法寫成書面
(B) 蒐集台灣各地最適合中學生去的地點
(C) 請主席判斷是權宜問題還是秩序問題
(D) 紀錄選舉或表決的方法及票數、結果
5. 胖虎曾趁四下無人，毆打大雄。胖虎也常以借東西為由，霸占小夫的任天堂及遙控飛機，小夫要求歸還時，胖虎以還沒玩夠為由，遲遲不肯歸還。以下與此事件有關的分析及說法，何者最為正確？(P.196-197)
- (A) 胖虎的行為多半是傷害了他人的名譽
(B) 大雄的身體自主權已受到妥善的保護
(C) 小夫能以隱私權受到傷害要學校調查
(D) 與此事相關的人都受教育基本法保障
6. 圖(4)是節錄七年五班決定班服設計樣式的會議紀錄：有關此份會議紀錄的分析，下列何者正確？(P.200-201)

會議紀錄				
出席人數：30人				
會議中遇到一群虎頭蜂飛進開會的現場，影響會議進行，使會議中的某人必須判斷是何種問題。				
表決票數：				
方案	甲案	乙案	丙案	總計
票數	14票	5票	6票	25票
結果：○○				

圖(4)

- (A) 全校師生皆有資格參加圖(4)所指的會議
(B) 造成此會議中斷的發生可能是秩序問題
(C) 依據多數決原則此會議的結果應採甲案
(D) 有突發緊急事件發生所以表決結果無效
7. 電影「奇蹟男孩」講述男孩奧吉因為罕見基因造成臉部天生不完整，經過幾十次手術後，才能夠和正常人有一樣的身體機能。奧吉媽媽認為奧吉總有一天要面對社會，要學習面對來自他人的異樣眼光，因此主張結束一對一在家自學，讓他進入學校中實際生活與學習。請根據前述畫線的內容判斷，奧吉媽媽堅持讓奧吉到學校學習的主張，最可能是基於下列何項考量？(改編習作P.55)
- (A) 展現自我潛能面對異樣眼光
(B) 在團體生活中學習人際互動
(C) 向同學學習有效的讀書方法
(D) 以學生自治限制他人的權利

新北市立中正國民中學113學年度第一學期七年級社會科第三次段考試題

範圍：公民 B1L5~L6、歷史 B1 L5~L6、地理 B1 L5~L6 班級：_____座號：____ 姓名：_____

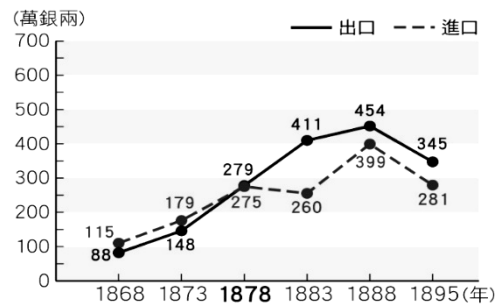
8. 有一部電影的女主角是一名聽覺障礙學生，她除了用手語和筆，沒辦法與其他同學順利交談，因此漸漸受到班上同學欺負與漠視。以下何者是有關霸凌的類型及舉例，請選出類型及舉例配對正確者？(P.197)
- (A) 肢體霸凌：班上多數人故意疏遠女主角
 - (B) 言語霸凌：故意在女主角前說她很沒用
 - (C) 性霸凌：故意使女主角感到孤立沒朋友
 - (D) 關係霸凌：有人到網路上說女主角花癡
9. 每當小君談到她的故鄉彰化鹿港時，她的眼底裡充滿了身為鹿港人的驕傲與思念，她還說如果對歷史或文化感興趣，她很推薦大家到鹿港觀光。可見小君對鹿港具有認同感與歸屬感，因此小君對於社區具有以下何項概念？
- (A) 社區參與
 - (B) 永續社區
 - (C) 社區意識
 - (D) 社區教育 (P.206)
10. 英格蘭BedZED社區是個可以達成生態保育、生活便利、低排碳的社區，為此地畫設計圖的建築師Bill Dunster，為此社區的建築置入完善的太陽能發電系統、自然通風、環保材料、與環境友善的條件。依據建築師的建築理念判斷，他的終極目標最可能是以下何者？
- (A) 促進居民參與
 - (B) 創造永續社區
 - (C) 形成社區意識
 - (D) 進行社區宣導(P.207)
11. 由於社區治安問題頻傳，居民繪製社區安全檢測地圖，積極與附近店家合作，標記社區治安死角，並組織社區巡守隊。從上述內容判斷，下列何者是解決社區問題的關鍵因素？(習作P56)
- (A) 政府補助措施
 - (B) 店家積極協助
 - (C) 居民主動參與
 - (D) 警察加強巡邏
12. 火箭「飛鼠一號」在發射前，經當地部落會議認可後，透過祈福儀式，請祖靈保佑發射順利。上述政府或私人於原住民部落及其周邊一定範圍內之公有土地從事土地開發、資源利用等，應取得部落同意或參與，這是依據下列何項法律的規定？(P210-211)
- (A) 《國家語言發展法》
 - (B) 《中華民國憲法》
 - (C) 《原住民族教育法》
 - (D) 《原住民族基本法》
13. 「社區」及「部落」的組成概念有許多不同，但兩者仍有許多的共同點，其中下列何者屬之？
- (A) 都有共同文化、價值觀，使居民必須遵循
 - (B) 都具有團結居民的功能，使居民有歸屬感
 - (C) 都有成立文史工作室，延續區域傳統文化
 - (D) 都需由政府強勢主導，才能改變區域樣貌
14. 在迪士尼卡通《海洋奇緣1》中，在主角莫阿娜的海洋冒險故事中，她表現出原住民對於部落與自身連結的強烈認同及歸屬需求，下列哪一項最可能是她會所做出的選擇？(P208-209)
- (A) 即便知道部落可能因此被消失也要追求個人夢想
 - (B) 遇到衝擊自己生命的挑戰，仍不忘部落傳統信仰
 - (C) 忽視部落的文化，與外來者建立聯繫尋找新生活
 - (D) 不重視部落會議的決策，獨自決定如何解決問題
15. 根據最新的原住民族部落文化復興計畫，政府將提供資源協助部落舉辦傳統祭典或推動語言復育。這項政策最符合以下哪一項原住民族文化的重要性？(P208-211)
- (A) 促進部落文化的傳承與多元文化的共存共榮
 - (B) 強調部落文化的歷史，不具有實用性的價值
 - (C) 鼓勵部落成員放棄傳統文化，融入主流社會
 - (D) 以經濟發展為優先，減少對傳統文化的關注
16. 政府為回應原住民族的訴求，採取了哪些具體行動？(P.210)
- (A) 成立原住民族委員會並確認自治權
 - (B) 廢除原住民族語言教育的補助計畫
 - (C) 政府主動提供城市土地安置原住民
 - (D) 開放原住民族土地由非原住民購買

後面尚有試題

新北市立中正國民中學113學年度第一學期七年級社會科第三次段考試題

範圍：公民 B1L5~L6、歷史 B1 L5~L6、地理 B1 L5~L6 班級：_____座號：____ 姓名：_____

17. 右圖是臺灣於十九世紀後期的進出口值統計圖。有關這時期臺灣貿易發展的敘述，下列何者選項是正確的？(P.133)



- (甲)隨著貿易量增多，清廷相繼開放鹿港及八里坌等港市。(乙)外國商人紛紛來臺設立洋行，臺灣對外貿易拓展到歐美等地。(丙)茶葉成為加工集散地的出口商品。(丁)臺灣對外貿易大幅成長，逐漸呈現出超現象。
- (A) 甲丙丁
(B) 甲乙丁
(C) 乙丙丁
(D) 甲乙丙丁
18. 桃園市內土地公廟宇眾多，為推廣土地公信仰文化，地方與市政府合作設立桃園市首座公有廟宇——福德宮，金碧輝煌的神龕、瑰麗的梁柱彩繪與遒勁有力的石雕，展現寺廟富麗堂皇的氣度。此外，還有豐富的文獻資源與生動的模擬情境，如歌仔戲臺、布袋戲棚、廟埕攤商，使民眾可在此了解桃園的歷史和廟口文化。請問：早期來臺移民設立土地公廟，主要與下列哪一因素最相關？(P.140)
- (A) 分類械鬥
(B) 開港通商
(C) 漢番融合
(D) 各地開墾
19. 米魯在寒假的時候跟著家長遊玩，並寫下遊記。卻苦惱著要替遊記取什麼標題。以下為他的遊記內容：「……三日，我們抵達了一處港口，港口旁有一條老街，老街上大大小小的商店讓我喜出望外，在購買了許多零嘴後，我們繼續往前，看到許多教堂建築，並且在門匾上還看到『偕醫館』，進去一看才知道原來是馬偕博士行醫的地方。再往前走看到禮拜堂與理學堂大書院，與一旁的小白宮及紅毛城相互輝映，成為這個地區最著名的地標。」下列何者較適合作為米魯的遊記標題？(P.141)
- (A) 緬懷古城四百年-安平
(B) 遊走古今商郊-鹿港
(C) 享受海風穿梭古今-淡水
(D) 體驗後山原民風-花蓮
20. 平埔族人原本沒有姓氏只有名字，乾隆23年(西元1758年)，清廷諭令：「平埔各族薙髮同時賜姓」。當時賜給平埔族群的姓氏包括：潘、陳、劉、戴、李、王等，實際上取用潘姓最多。請問：這項政策的用意為何？(P.143)
- (A) 傳播漢人信仰
(B) 防止改信基督教
(C) 「開山撫番」政策
(D) 加速平埔族群漢化
21. 康熙23年，清廷只開放臺灣的一個港口與廈門對渡通航，並設官管理。此後臺灣各地生產的米穀，會先用牛車、小船載運至港口，然後裝載於大船上運往廈門。請問是下列哪一個港口？(P.131)
- (A) 八里坌 (B) 鹿港
(C) 艋舺 (D) 鹿耳門

22. 右圖是臺灣中部近年來都會舉辦的觀光活動。此活動原是感謝開圳先人辛勞的祭典，由身手矯捷者擔任引水人在水圳內等待，等良辰吉時一到，上游開啟水閘放水，此刻宣洩而出的圳水直流而下，這時引水人則要趁水勢到來前，在水圳內一直往前奔跑，此過程就是「跑水」。後來配合行銷觀光，就變成水上馬拉松活動了。



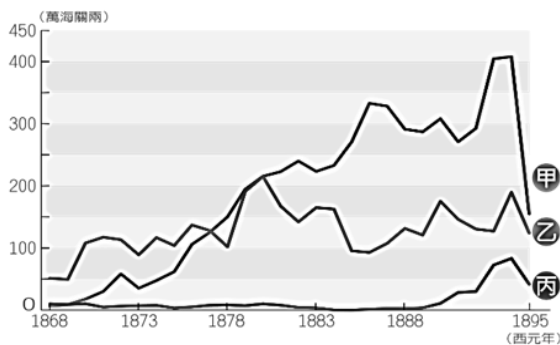
- 請問上述的水圳是指？(P.130)
- (A) 貓霧揀圳
(B) 瑠公圳
(C) 曹公圳
(D) 八堡圳
23. 在臺灣洋行任職的必麒麟(英籍)，曾經描述在臺南地區一名傳教士的行醫概況：「他使用奎寧及在白內障和切除腎結石手術上所完成的神奇治療，不久就從全島各地吸引無數的病人來。」為了方便行醫，他還建立全臺灣第一間西醫醫館。而教會文獻也記錄了他用剖腹產方式協助接生後又縫合孕婦肚皮，並確保母子平安。這類西醫手術治療方式，在以中醫為主的臺灣實為罕見。請問必麒麟筆下的傳教士是誰？(P.141)
- (A) 馬偕
(B) 馬雅各
(C) 巴克禮
(D) 韋廉士
24. 清帝國時期，臺灣與中國大陸因對渡而出現三大貿易港市，若想探訪其舊址，應前往下列哪些地區？(P.131)
- (A) 屏東縣、高雄市、嘉義市
(B) 臺南市、彰化縣、臺北市
(C) 高雄市、雲林縣、新竹市
(D) 臺中市、新北市、基隆市
25. 下列是一首由清代官員所創作的詩歌：
- 漳人不服泉州驢，泉人不服漳州豬。
終日紛紛列械鬥，田園廬舍相侵漁。
臺灣自昔稱樂土，漳人泉人久安處。
邇來強悍風氣殊，更望何人固吾圉。
甯長敬，林國芳，挾富挾貴無王章。
艋川搖動鯨鯢窟，蟲沙猿鶴罹奇殃。
我聞干豆有古寺，土人於此驗災異。
今年鐵樹又開花，械鬥從中有天意。
天意冥冥不可解，紅羊換劫總堪駭。
殺人如草死如眠，骷髏屯積血飄灑。
君不見，漳人泉人鷓蚌持，
粵人竟得漁人利，漳人是豬泉亦豬。
又不見，長敬國芳號令行，
漳泉各受二人制，泉人是驢漳亦驢。
- 由詩歌內容判斷，此官員的創作動機為何？(P.138)
- (A) 漳泉械鬥頻繁，官員有效制止

新北市立中正國民中學113學年度第一學期七年級社會科第三次段考試題

範圍：公民 B1L5~L6、歷史 B1 L5~L6、地理 B1 L5~L6 班級：_____座號：____ 姓名：_____

- (B) 漳泉衝突不斷，終至和解
(C) 漳泉互不相容，粵人從中得利
(D) 漳泉不能和平共處，漢原衝突不斷

26. 臺灣在開港通商後，對外貿易熱絡，其中茶、糖、樟腦深受國際市場歡迎，三者占出口貿易總額達九成以上。



請根據清代臺灣海關統計茶、糖、樟腦出口總值比較圖，判斷下列商品配對何者正確？(P.132)

- (A) 甲：茶、丙：樟腦
(B) 甲：糖、乙：茶
(C) 乙：茶、丙：樟腦
(D) 乙：糖、丙：茶

27. 附表為清帝國時期臺灣人口增長率比較表，有關表格的「年平均增長率」，下列何人的說法最合理？(P.140)

時期	西元年	年平均增長率
甲期間	1684~1811	22%
乙期間	1811~1893	3%

- (A) 小魚兒：甲期間因移民的湧入，促使人口激增
(B) 小蜜蜂：乙期間因海禁政策，使人口成長大幅下滑
(C) 小鹵蛋：甲期間因解除渡臺禁令，使臺灣社會人口大幅增加
(D) 小呆瓜：乙期間臺灣依然維持移墾社會的型態

28. 右圖是美樂針對歷史課程繪製的路線圖，請問這張圖應該搭配哪個歷史主題使用呢？(P.142)



- (A) 清初漢人開墾
(B) 水利設施修築
(C) 傳教士傳教
(D) 平埔族遷徙

29. 右圖是咕魯〈臺灣歷史小論文〉的關鍵字，由此判斷，她的報告主題應與下列何者最為相關？

*彰化鹿港鎮五福街
*臺北萬華剝皮寮老街
*臺南中西區神農街

- (A) 清代臺灣農業發展史
(B) 清代臺灣郊商興衰史
(C) 清代移民社會與文化
(D) 清末開港通商的變遷

30. 「某次民變」首領被抓時的口供：「我年三十二歲，乾隆三十八年，隨父母來到臺灣，趕車度日。時常聽見，漳泉兩府，設有天地會，邀集多人，立誓結盟，患難相救。我同林半等人，平日意氣相投，遂於乾隆五十一年八月內，拜盟起會。後來，斗六門地方，有楊光勳弟兄，因分家請釁，立會招人入夥被人告發，並牽連我們一齊呈告。彰化文武官員，差人各處查辦，衙役從中勒索，無論好人、歹人，紛紛亂拿，以致各村庄具被滋擾。那時，林半等房屋已被官兵燒毀……起意招集各庄民，抗拒官兵，就來邀我。」，請利用這份口供內容分析，下列何項推論正確？(P.139)

- (A) 此民變的首領為戴潮春

- (B) 此民變的首領被迫加入民間祕密組織
(C) 官府發現民間有祕密結盟會社常索賄並放任發展
(D) 首領供稱起事主因為官逼民反

31. 開港通商對臺灣社會造成很大的影響，也對原住民族產生巨大衝擊，除了西方宗教的傳入，對原始山林的破壞等情況之外，清廷的「開山撫番」行動，導致原住民族嚴重的死傷。下列哪一事件即是清帝國時期的原漢衝突事件？(P.143)

- (A) 郭懷一事件 (B) 大港口事件
(C) 林爽文事件 (D) 牡丹社事件

※32至33題為題組，請根據表格內文回答問題：(P.132-134)

喜歡喝奶茶的丞丞、典典跟佳佳，上完七上歷史課程後，想更進一步了解臺灣茶葉的由來。於是在網路上搜尋到《異人茶跡》這個精采漫畫。此漫畫作者張季雅，得到金漫獎漫畫新人獎的殊榮。這漫畫講述臺灣烏龍茶之父約翰·陶德（John Dodd）以及臺灣茶葉之父李春生推動臺灣烏龍茶的過程。作品中可看到清朝時的茶葉產銷樣態和臺灣社會風貌，經商貿易過程的爾虞我詐、商人與茶農間的拉扯等緊湊劇情更是吸睛。



32. 「臺灣茶葉之父」李春生為清帝國時期「買辦」出身，在臺灣開港通商後崛起，成為富甲一方的商人。關於李春生的崛起，下列敘述何者正確？

- (A) 協助洋行仲介臺灣商品買賣
(B) 「買辦」，主導兩岸分工貿易活動的商人
(C) 協助洋人傳教與西學傳入
(D) 打破海禁政策對貿易限制。

33. 開港通商後，臺灣生產的茶葉大量運銷歐美等國，造成何種影響？

- (A) 安平港負責出口茶葉，因而成為臺灣第一大港口
(B) 帶動中北部城鎮的興起
(C) 臺灣中部大量開發，與原住民族發生大規模衝突
(D) 臺灣的經濟重心漸轉移到東部

後面尚有試題

新北市立中正國民中學113學年度第一學期七年級社會科第三次段考試題

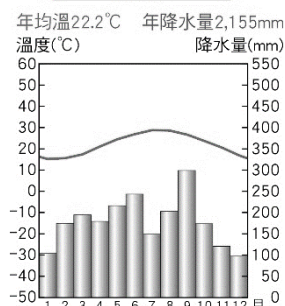
範圍：公民 B1L5~L6、歷史 B1 L5~L6、地理 B1 L5~L6 班級：_____座號：____ 姓名：_____

34. 天氣四因子主要包含氣溫、降水、氣壓以及風，下列關於天氣四因子的描述解釋，何者正確？(P.57-59)

- (A)氣溫：指大氣的溫度，只以°C為單位
- (B)降水：空氣遇冷，水氣凝結成液體或固體，從空中落下的現象，以.c.c為單位
- (C) 氣壓：指單位地表面積所承受的空气重量，以hPa為單位
- (D)風：指空氣的水平流動，從低壓吹往高壓，常以m/sec為單位

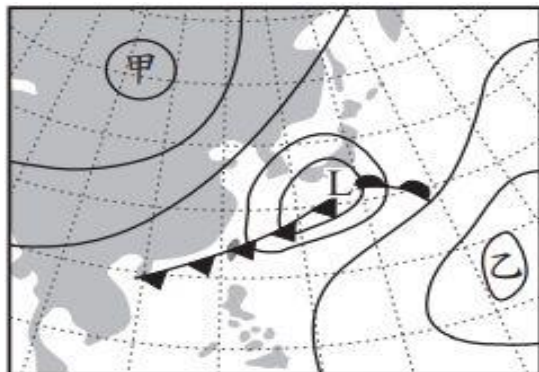
35. 右圖為台灣某地的氣候圖，觀察氣候圖中的資料，判斷下列何者屬於該地區的自然特色？(P.61)

- (A)迎冬季季風多地形雨
- (B)河川不具有航利之便
- (C)此區在北回歸線以南
- (D)年溫差大致為20 °C



36. 右圖為台灣某日的地面天氣圖，關於圖中資訊判斷，下列描述何者正確 (P.60)

- (A)甲地中心為低壓，此時應為夏季
- (B) 甲地中心為高壓，此時應為冬季
- (C) 乙地有颱風出現，此時應為夏季
- (D) 台灣上空為滯留鋒，此時為梅雨季



37. 承上題，該季節台灣最有可能出現的降雨型態為下述何者(P.58)

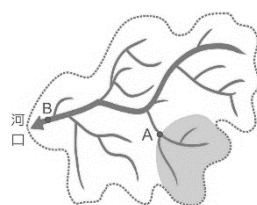
- (A)
- (B)
- (C)
- (D)

38. 小勛暑假到嘉義縣東石鄉海邊體驗採蚵、坐牛車，隔天再到阿里山健行做森林浴。在山上時，他感受到氣溫比平地涼爽許多。請問：造成兩地氣溫差異的主要原因為何？(習作P.14)

- (A)緯度(B)高度(C)氣壓(D)風速

39. 附圖為某河川流域示意圖，下列敘述何者正確？(P.70)

- (A)該地區內總共包含 2 個流域
- (B)A 處的河川流量會比 B 處多
- (C) A 處若崩塌，B 處水質受影響
- (D)色塊的範圍不是 A 點的集水區



40. 水資源得來不易，在積極開發水資源的同時，也必須做好水資源管理。請問：下列何種作法無助於水資源的保育或開發？(習作P.18)

- (A)確實做好河川污染的管制
- (B)減少地表人工鋪面的面積
- (C)在集水區要做好水土保持
- (D)地下水抽取量大於補注量

41. 有關氣候圖的分析或判斷及繪製觀念，下列何者敘述正確？(P.61)

- (A)是了解一地天氣概況的最佳圖表資料
- (B)氣候圖表示一地長期的氣溫和降水量
- (C)用曲線代表降水量，柱狀圖代表氣溫
- (D)無法推算當地年溫差及降水季節分布

※42至46題為題組，閱讀下列文章後回答問題：

根據中央氣象署統計，台灣過去每年平均會受到3.5次颱風侵襲，然而在2020年卻整年無颱風登陸，使得該年10月上旬各個水庫集水區降水量只剩往年的二至六成。2020下半年，由於降水量持續減少，因此農委會於該年宣布，2021年曾文水庫、烏山頭水庫以及白河水庫其稻作農業區將停止灌溉春季的農作，以確保足夠的民生用水。

42. 台灣自傳統農耕時代至今，農民與地方政府利用當地自然環境特色，開發出各種水利設施來滿足水資源需求。下列台灣各地主要水利設施，何者正確？(P.72-73)

- (A)東部超抽地下水藉以增加水源
- (B)河川下游地區蓋水庫儲水發電
- (C)桃園台地開挖埤塘以支援灌溉
- (D)澎湖於河川上游蓋攔河堰儲水

43. 跟據上文「2020下半年台灣南部地區進入枯水期，嘉南地區的降水量持續減少」，請問：下列哪項推論最正確(P.73)

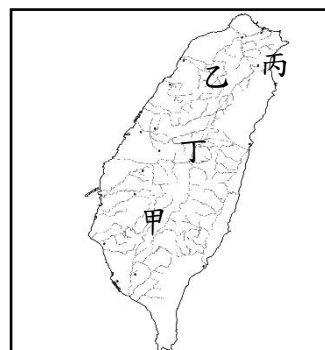
- (A)2020年夏秋降水量不如預期，河川枯水期將減短
- (B)嘉南位處東北季風背風側，因此夏季降水量減少
- (C)2021年的梅雨量將成為是否延長停止灌溉的關鍵
- (D)嘉南因此成為每年全台灣年降水量最少的地區

44. 台灣平均年降水量2500毫米，是世界平均降水量的2.6倍。然而，台灣各地每年仍常出現水資源缺乏的新聞。請問：有關台灣水資源缺乏的原因，下列何者錯誤？(P.69)

- (A)河川短且坡陡流急，降水不易續留保存
- (B)農、工、家庭廢水污染嚴重，無法利用
- (C)土地狹小、人口密集，各產業需水量大
- (D)颱風接連登台，降水過於集中春夏兩季

45. 根據上文，文末最後提及限制灌溉的三個水庫，主要是位於圖中的那一地區？(P.72)

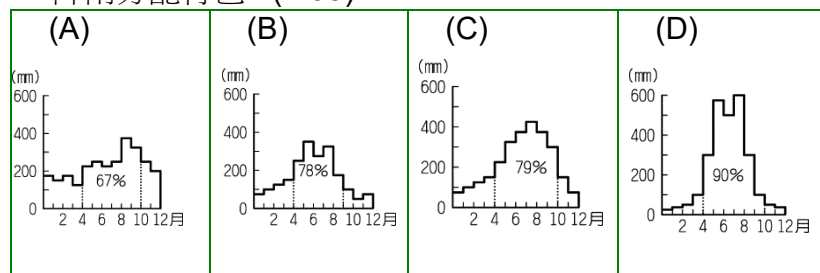
- (A)甲(B)乙(C)丙(D)丁



新北市立中正國民中學113學年度第一學期七年級社會科第三次段考試題

範圍：公民 B1L5~L6、歷史 B1 L5~L6、地理 B1 L5~L6 班級：_____座號：____ 姓名：_____

46. 呈上題，下面四張降雨分布圖，哪張最能表達該地區的降雨分配特色？(P.63)



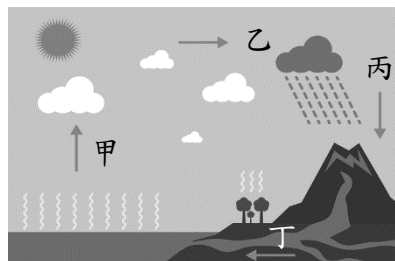
47. 附圖為颱風、梅雨、寒害、乾旱在臺灣西南部主要發生的月分，下列



配對何者正確？(P.64)

(A)甲-梅雨(B)乙-颱風(C)丙-寒害(D)丁-乾旱

48. 水利署公告民國112年底台灣水庫共有95座，其中離島地區有29座，臺灣本島66座，然而興建大量水庫會直接影響圖中水循環的哪一階段？(P.69)



(A)甲(B)乙(C)丙(D)丁

※49至50題為題組，閱讀下列圖文後回答問題：

濁水溪的河川揚塵，在 2017 年曾高達 59 天，這幾年在中央與地方政府通力合作治理濁水溪揚塵下，去年嚴重揚塵事件僅剩 2 天。

近日季風把濁水溪高灘地的沙土颳起，南岸的雲林縣沿岸村落出現沙塵暴，黑天暗地令人呼吸困難，崙背測站空氣品質一度達紅色警戒。

雲林縣環保局啟動跨局處應變措施，巡查濁水溪沿岸西濱大橋、自橋大橋、高鐵橋、溪洲大橋。

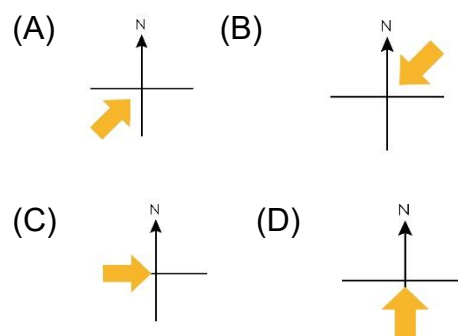
水利署中區水資源局也增加集集攔河堰放流量。

環保局長張喬維表示，目前濁水溪是枯水期，強風將河床上細小的顆粒颳起引發揚塵，該局將持續進行防制應變作為。

49. 濁水溪因「泥沙含量高、河水混濁」而的其名，下列有關濁水溪的描述，何者正確？(P.70)

(A)濁水溪為台灣第一長河，流經高雄市、屏東縣，最後注入台灣海峽
(B)「台灣地質堅硬、地形坡陡流急」是濁水溪含沙量高的主要原因
(C)濁水溪流量變化大，屬「荒溪型河川」，自古「東西向」水運發達
(D)發源中央山脈的濁水溪，因上游地勢高低起伏大，水力資源豐富

50. 根據上文，請問：下列何者最有可能是揚起濁水溪沙塵暴的季風風向？(P.63)



試題結束