

新北市立中正國民中學113學年度第一學期八年級社會科第三次段考試題

範圍：公民 B3L5~6、歷史 B3L5~6、地理 B3L5~6 班級：_____座號：____ 姓名：_____

一、 選擇題

※1-3 題為題組，閱讀下列圖文後回答問題：

我國將於 2026 年舉行「地方九合一選舉」，小婷也與家人共同關心選舉相關議題並參與討論，但因家族親戚散居在各地，所以各自所領到的選票也不盡相同。依據憲法以及公職人員選舉罷免法的規定，對於選舉人及被選舉人各有規定，小婷發揮在公民課堂上所學到的知識，與家人們共同分享看法。



1. 小婷為新北市中正國中的學生，請問她的爸爸媽媽在選舉當日只要攜帶國民身分證、印章與投票通知單，到達戶籍所在地投票所，一人就可以領到幾張選票? P191

(A)	4張	直轄市長、直轄市議員、區長、里長
(B)	5張	直轄市長、直轄市議員、區長、區民代表、里長
(C)	3張	直轄市長、直轄市議員、里長
(D)	3張	直轄市長、直轄市民代表、里長

2. 小婷的爺爺奶奶住在新北烏來，周邊鄰居有很多都是泰雅族。她回家時與爺爺和奶奶討論依據選罷法，每人可以領取幾張票? P191

(A)	3張	直轄市長、直轄市議員、里長
(B)	4張	直轄市長、直轄市議員、山地原住民區長、里長
(C)	5張	直轄市市長、直轄市議員、山地原住民區長與區民代表、里長
(D)	5張	直轄市市長、直轄市議員、鄉長、鄉民代表、村長

3. 無論小婷的家人居住在哪裡，基於國民主權與（甲）原則，具有國籍的公民均應享有選舉權。但是基於人民意志的表達與避免幽靈人口，限制年齡的選舉權（乙），仍被允許。請問下列哪個是符合九合一選舉的正確選項? P206

- (A) 甲: 平等原則/乙: 年滿二十三歲
(B) 甲: 普通原則/乙: 年滿二十歲
(C) 甲: 平等原則/乙: 年滿二十歲
(D) 甲: 普通原則/乙: 年滿十八歲

歐洲國家，國會的席次是在 150 到 600 多席之間，幾百萬人口的小國，也在 150 席以上，我國在國會減半之前，總席次 225，相較於西方民主國家國會之人數，其實並不算多。國會減半後，立委人數 113 人，依現制院會只要 38 人即可開議，20 人即可決議法律及預算案，風險甚高。此將導致少數立委壟斷議事與操縱立法過程的嚴重後果。

【國會人數之迷思】- 國家政策研究基金會

4. 當年國會減半起因於民眾認為立委素質普遍不佳，但實際上的原因其實是出在選制問題，修法後立委選舉改採「單一選區兩票制」，以期改善劍走偏鋒等問題。請問下列敘述何者正確? P203

- (A) 「單一選區」是指一個選區可選出數位立委；
「兩票制」則是一票選人一票選黨，但須是同一政黨
(B) 「單一選區」是指一個選區可選出數位立委；
「兩票制」則是二票可以投二位候選人
(C) 「單一選區」是指一個選區只選出一位立委；
「兩票制」則是二票都投給政黨，不能自行決定
(D) 「單一選區」是指一個選區只選出一位立委；
「兩票制」則是一票投給單一選區的候選人；一票投給任一支持的政黨



5. 上圖為2024年立法委員選舉各政黨的得票比率，由此結果可看出台灣選制不利小黨，只有三黨過門檻可參與不分區立委的席位分配。請問政黨票的門檻有可能是? P203

- (A) 5% (B) 3%
(C) 4% (D) 2%

6. 台北市預計引進千輛 YouBike 電輔自行車，但新北市境內人行道一律禁行電輔車；台北市卻可以行駛在人車共道的人行道，令民眾無所適從。台北市表示上路前相關



管理和規範，會持續跨縣市溝通，交換意見。有關該措施所反映出的政府職權，下列何者最為正確? P195

- (A) 此政策為經濟發展項目，是中央政府的權限
(B) 捷運與 YOUBIKE 不同，可不經跨地域政府協商
(C) 透過跨區域合作的方式，可以發揮資源最大效益
(D) 此為跨縣市的區域合作，需由中央政府推動

後面尚有試題，請繼續作答

※4-5題為題組，閱讀下列圖文後回答問題

※7-8 題為題組，閱讀下列圖文後回答問題

行政院2013年1月3日通過桃園縣升格直轄市案，正式升格為「桃園市」。民政局請民眾配合於升格後，再將「區」字遮蓋於門牌「鄉、鎮、市」上面，以符合升格現況。

桃園市行政區劃



大園區 蘆竹區 觀音區 龜山區 中壢區 桃園區 新屋區 楊梅區 八德區 平鎮區 大溪區 龍潭區 復興區 選舉區長

7. 下列關於桃園市的層級敘述，何者正確？習 54

(A) 落實民意政治，原「鄉（鎮、市）民代表會」保留

(B) 土原鄉（鎮、市）改為「區」後，區長全由市長派任

(C) 升格後，與臺中市屬於同一層級的地方自治團體

(D) 升格後，所有的區都是地方自治團體

8. 下列有關直轄市山地原住民區的敘述，何者正確？習 54

(A) 區長可以自行決定是否放颱風假

(B) 享有地方自治團體的地位

(C) 區長非直轄市市長派任，不用執行市政府委辦事項

(D) 行政機關為區民代表會，立法機關為區公所

9. 右表是我國辦理九合一選舉時四位國民的相關資料。根據資料判斷，下列哪個人最可能在本次選舉中具有投票資格？P205

	姓名	年齡	在選區設籍時間	備註
(A)	車銀銀	17	七個月	實施感化教育中
(B)	李棟棟	42	五個月	長年在海外經商
(C)	黃炫炫	25	三個月	曾有竊盜罪前科
(D)	柳智智	18	九個月	受法院監護宣告

※10-11 題為題組，閱讀下列圖文後回答問題

0403 地震造成新北環狀線中和橋和站區段毀損，但修復經費卻逐日疊加，費用暴增快 10 億元，（甲）在質詢中認為新北市政府應多注意核實工程費用，並要求捷運局長說明施工狀態。另外，0403 地震、颱風亦重創花蓮觀光，交通部觀光署推出振興震後花東觀光旅遊補助方案。花蓮縣政府亦推出永續遊花蓮獎勵方案，希望為旅遊業注入活水。

10.請問文中的（甲）應為下列何者？P194

(A)新北市議員

(B)新北市市長

(C)中和區區長

(D)新北地方法院法官

11. 文中交通部觀光署與花蓮縣政府觀光處皆推出觀光旅遊補助方案，透過中央與地方的合作，共同為地方產業的復甦盡最大的努力。請問若中和與地方的權限發生爭議時，應由哪個機構解決？P190

(A)司法院

(B)行政院

(C)立法院

(D)監察院

12. 為振興旅遊業，花蓮縣政府推出永續遊花蓮獎勵方案，請問是屬於地方政府哪一方面的工作？P193

(A)經濟發展

(B)社會福利

(C)教育文化

(D)安全衛生

13. 0403 地震造成花蓮觀光重創，雲林縣府凡身分證字號為 P 開頭者皆可申請 1 人 300 元花蓮旅遊獎助金。請問下列支持花蓮觀光的縣市中，何者與花蓮縣是屬於同一等級的？P190

(A)台中市

(B)宜蘭市

(C)高雄市

(D)新竹市

※14-16 題為題組，閱讀下列圖文後回答問題

「公投綁大選」議題討論已久，有人認為綁可以增加投票率，但也有人持反對意見，主張分開舉行，才能真正落實審議民主。立法院內政委員會今年排定討論《公投法》修正草案，在野黨立委提案恢復公投綁大選，以及公投案通過後，總統、權責機關應於 3 個月內處置，否則辭職。原本外界以為將再掀起朝野攻防，但委員會中一片和諧，最後達成共識，將召開 2 場公聽會後再進行審查。

14. 閱讀上文後，請問關於公投法的修正下列何者正確？P202

(A) 舉辦公聽會是為了傾聽民意

(B) 此法規須交由專家會議公布實施

(C) 此法律民意變動性高，應由司法院決定

(D) 此修法將由行政院進行審查程序

投票注意



不能用手機



禁止拍照



勿亮票

15. 小中在公投的投票所看到牆上貼有上圖的投票注意事項宣傳海報，請問此海報是在提醒民眾應遵守哪一項選舉原則？P206

(A)普通原則

(B)平等原則

(C)直接原則

(D)無記名原則

16. 以下關於公投法的規定，下列何者正確？P205

(A)需年滿 20 歲

(B)需設籍滿 4 個月

(C)需未被褫奪公權

(D)需未受監護宣告

第 2 頁，共 6 頁

新北市立中正國民中學113學年度第一學期八年級社會科第三次段考試題

範圍：公民 B3L5~6、歷史 B3L5~6、地理 B3L5~6 班級：_____座號：____姓名：_____

※17至20題為題組，閱讀下列圖文後回答問題：

請根據下列歷史人物旁邊的描述，選出最適合的答案。



他是清朝年間的某位欽差大臣，他為了要執行某一項任務來到廣州，並公開發表了一份給外國君主的文書，當中寫道：「聞貴國禁食鴉片甚嚴，是固明知鴉片之為害也。……何忍更以害人之物，恣無厭之求乎？設使別國有人販鴉片至貴國，誘人買食，當亦貴國國王所深惡而痛絕之也……。」之後這位欽差大臣就將該國銷售到廣州之鴉片，予以銷毀……

17. 請問下列有關於這位大臣的描述，何者**正確**？(P.127)
- (A)當時是由清朝光緒皇帝指派這位大臣來執行任務 (B)這位大臣為李鴻章 (C)結果之後兩國因此終止所有貿易活動 (D)結果之後兩國爆發戰爭，中國戰敗，開放五口通商。



有一位清末志士在救國圖存的思維下，曾提出「欲強國必興女學」的說法，把女學的發展與國家、民族的強大聯繫在一起，發起不纏足運動，興辦女學，主張女子有受教育的權利，也推動近代中國女性集體意識的覺醒。而這些女性的覺醒，不僅帶動了女學思想的宣傳，更進一步促進了近代女學的發展。

18. 請問上述這位清末志士也有積極從事下列哪一件事情？(P.131、139)
- (A)幫助清朝皇帝前往廣州查禁鴉片 (B)支持義和團以「扶清滅洋」為口號去殺害外國人 (C)建議皇帝推動以「制度」層面為主的改革 (D)成立北洋艦隊來提升中國海軍的實力。



她是近代民主革命志士，自稱「鑑湖女俠」，筆名鞞鞞。她出生於福建閩縣(今福州)，討厭封建禮法，常以花木蘭為榜樣，習文練武，曾至日本留學，接受新式教育，掙脫傳統婚姻的束縛，痛斥清廷的腐敗統治，積極投身某種改革運動，樹立清末新女性的典範。

19. 請問下列哪一種觀念最可能是這位歷史人物所認同的？(P.139)
- (A)女子須謹記三從四德 (B)破除男尊女卑為首要之務 (C)為家族犧牲是光榮之事 (D)男主外，女主內才是正道
20. 承上題，請問上述的歷史人物最可能支持下列哪一項改革運動？(P.139)
- (A)庚子後新政 (B)立憲運動 (C)自強運動 (D)革命運動

21. 「19世紀末，甲國有人說：『我國不可猶疑，與其坐等鄰邦之進步，而與之共同復興東亞，不如脫離其行伍，而與西洋各文明國家共進退。對待鄰國之辦法，不必因其為鄰邦而稍有顧慮，只能按西洋人對待此類國家之辦法而對待之。』20幾年後，甲國果然擊敗東亞國家乙國，一舉成為亞洲強權。」以下是針對上文中的敘述，請問哪些敘述是**錯誤**的？(P.129、130)
- (甲)甲國應是指中國；
(乙)甲國後來進行「明治維新」的現代化改革；
(丙)乙國同時期也進行戊戌變法；
(丁)甲乙兩國爆發的戰爭為甲午戰爭。
- (A)甲丙 (B)乙丙 (C)乙丁 (D)甲丁
22. 「有一位外國傳教士回憶他來到東方傳教時的遭遇：『當時我們已可合法進入中國內陸傳教，某地久旱不雨，百姓認為是建洋教堂所造成的，許多人包圍教堂，意圖生事，官府派遣官兵保護傳教士，僵持不下。稍後，天降大雨，百姓才紛紛散去。』」請問上述的場景最有可能發生在下列的何時何地？(P.128)
- (A)1820年代的廣州 (B)1840年代的天津 (C)1880年代的濟南 (D)1920年代的臺北
23. 有一個學者針對清末某個變法的内容評論如下：「這個改革變法，是在戰爭後執政者為了收攬人心所推動的，是權宜之計下的產物，有許多内容是前次被推翻的變法所提出，但卻意外地把實施八百多年的八股文與一千三百多年的科舉制度正式廢除。」請問解讀以上的評論，下列敘述何者**錯誤**？(P.133)
- (A)評論中的戰爭指的是甲午戰爭 (B)評論中的執政者指的是慈禧太后 (C)前次被推翻的變法指的是戊戌變法 (D)這個改革變法指的是庚子後新政。

※24至25題為題組，請閱讀下列敘述後回答問題：

在一個「中正國中歷史研究社」的 Line 群組當中，有五個人在討論有關「清朝歷代的皇帝」：

- (甲)李阿任：「這位皇帝在位時對外國商人訂下許多通商限制，例如：貿易港口僅限廣州一地。」
(乙)羅小蓉：「這位皇帝在位時爆發兩次英法聯軍進攻中國，之後導致列強的勢力由沿海深入內地。」
(丙)陳小凰：「這位皇帝在位時滿可憐的，他推動以制度層面為主的改革，卻遭到慈禧太后與守舊派人士發動政變，導致改革僅維持 103 天就中止。」
(丁)蔡阿唯：「這位皇帝派遣林則徐前往廣州查禁鴉片，但後來卻導致鴉片戰爭的發生。」
(戊)朱小寧：「這位皇帝在位期間發生了甲午戰爭、八國聯軍與日俄戰爭，中國真的是多災多難呀。」

24. 請問根據上面五個人的敘述當中，哪兩個人所講的是同一位清朝皇帝？(P.126、127、128、130、131、132、133)
- (A) 羅小蓉、朱小寧 (B) 李阿任、蔡阿唯 (C) 羅小蓉、陳小凰 (D) 陳小凰、朱小寧
25. 請問根據上面五個人的敘述，哪一個人所講的清朝皇帝是相較於其他幾位所描述的皇帝當中，在位時間是

新北市立中正國民中學113學年度第一學期八年級社會科第三次段考試題

範圍：公民 B3L5~6、歷史 B3L5~6、地理 B3L5~6 班級：_____座號：____姓名：_____

最早的？(P.126、127、128、130、131、132、133)

(A) 羅小荳 (B) 李阿任 (C) 陳小凰 (D) 蔡阿唯

26. 右圖呈現清代中期以後，朝廷允許外國傳教士在華活動範圍逐漸改變的情形。造成此轉變的原因，最可能是下列哪兩場戰爭所造成的影響？

傳教士僅能在廣州的指定區域活動



傳教士可以在上海等通商口岸傳教



傳教士可以到中國內地遊歷、傳教

(P.127、128、130、131、132、133)

(A) 甲午戰爭、八國聯軍 (B) 英法聯軍、甲午戰爭
(C) 鴉片戰爭、英法聯軍 (D) 鴉片戰爭、甲午戰爭

27. 以下是清末時的一份聲明：「此事件後，我們聽到政府與某國談判求和，不但讓朝鮮獨立，還開放更多口岸，任由外國在中國內陸設置工廠。我們要求政府立即變法圖強，持續抵抗。」關於這份聲明，下列敘述何者**錯誤**？(P.130)

(A) 聲明者為康有為 (B) 此事件為甲午戰爭 (C) 某國應為日本 (D) 雙方談判求和所簽定的條約為辛丑和約

28. 1790年代及1810年代，英國國王喬治三世曾挑選兩名傑出人才出使中國，以進行交涉，然而雙方最終因禮儀等問題不歡而散，也未能達成協議。根據內容判斷，文中使者交涉的內容應為下列何者？(P.126)

(A) 開放外國在通商口岸設立工廠製造 (B) 放寬中國政府對外國商人的通商限制 (C) 要求中國政府嚴懲義和團拳民 (D) 禁止中國基督教徒祭祖祀孔。

29. 日語以「菓子」泛指使用糖、大米、麵粉等材料製作的點心。早期的菓子受到唐文化傳入、歐洲人的商貿與傳教活動等影響，逐漸發展出不同的種類與製作技術，形成該國獨特的傳統點心。直到19世紀時，蛋糕、巧克力等西洋點心隨著西方文化大量傳入日本，日本人將它們稱為「洋菓子」，而傳統點心則被改稱為「和菓子」，以區分不同形式的點心。請問依照上文判斷，「和菓子」一詞的出現與下列何者最為相關？(P.127)

(A) 日本宣布鎖國，荷蘭人獲得特許前來貿易 (B) 中國實施海禁，日本僅能以朝貢方式貿易 (C) 美國艦隊叩關，強迫日本開港與外國通商 (D) 共產勢力擴張，美國與日本簽訂盟約合作。

30. 有一天大雄及哆啦A夢搭乘時光機來到19世紀中期後成為中國通商口岸的「上海」，請問下列哪一個場景是他們兩位**不太可能**會遭遇到的情況？(P.136、137)

(A) 大部分婦女追求裹小腳的流行風潮 (B) 當地居民直接飲用乾淨的自來水 (C) 看到路上的民眾拿起萬國公報在閱讀 (D) 民眾跑到電影院去觀賞電影

31. 中國近代某文章提到：「這項改革運動是清廷在一再錯失和延誤中國近代化時機的背景下，一個迫於內外壓力的無奈之舉……清政府的改革只是抵制革命和拉攏人心的一種手段，並無誠意；而《欽定憲法大綱》充分暴露了清王朝借憲政之名行專制之實的用心。……有些認為是辛亥革命打斷了晚清的最後一次變革

，和中國走向憲政的大好前程的說法，已完全站不住腳了。」請問這場改革的出現，與下列何者關係最為密切？(P.133)

(A) 日本與俄國爆發戰爭 (B) 義和團燒毀各地的教堂

(C) 耶穌會傳教士來華傳教 (D) 林則徐在廣州查禁鴉片

32. 許小翔看到一份歷史資料記載：「天無雨、地焦旱，全是教堂止住天。……升黃表、敬香煙，請下各洞諸神仙。……拆鐵道、拔線杆，緊急毀壞火輪船。……洋鬼子、盡除完，大清一統靖江山。」而下列是根據上面歷史資料的描述，請問哪些描述是**正確**的？(P.132)

(甲) 此歷史資料所描述的场景應是「義和團事件」

(乙) 引發此事件的團體所提出的口號為「反清復明」

(丙) 此事件的發生，後來引發英法聯軍出兵攻陷北京

(丁) 此事件的發生，也影響了日後清朝被迫與外國簽約，付出巨額賠款、國防洞開。

(A) 甲乙 (B) 甲丁 (C) 丙丁 (D) 甲丙

33. 許小溶想完成一份以「中國自強運動」為主題的歷史報告，請問下列哪些事項可以寫進她的歷史報告之中，才比較符合她的主題？(P.128、129)

(甲) 因受到英法聯軍戰敗的刺激，中國所推動的西化改革運動

(乙) 成立「總理各國事務衙門」統籌對外國的外交事務

(丙) 這是一場偏重「制度」層面的運動

(丁) 自強運動受到中國朝野內外全體的支持，但因缺乏整體性的規劃，最後還是成效不彰，比不上日本的「明治維新」改革

(A) 甲乙 (B) 甲乙丁 (C) 乙丙丁 (D) 甲乙丙丁

請接續下一頁試題繼續作答

新北市立中正國民中學113學年度第一學期八年級社會科第三次段考試題

範圍：公民 B3L5~6、歷史 B3L5~6、地理 B3L5~6 班級：_____座號：____ 姓名：_____

※34至36題為題組，閱讀下列文章後回答問題：

早在1990年代時，日本即開始重視水梯田復育，保育水梯田就是保留綠色水壩。1993年開始推動認養水梯田的活動，讓都市居民除了付出認養金也能幫忙農作。收成的農作物還會寄送給認養的民眾，與土地產生連結。近幾年更以優良品質和友善土地方式提高農業產值。

34. 日本群島大多位處氣候較為寒冷的中緯度地區，但仍可種植喜高溫多雨氣候的水稻，使稻米成為日本傳統的主食。請問：這與日本的哪些地理條件有關？(P.69)
(甲)四面環海 (乙)多山少平原 (丙)緯度跨度大 (丁)受季風調節

(A)甲乙丙 (B)乙丙丁
(C)甲丙丁 (D)甲乙丁

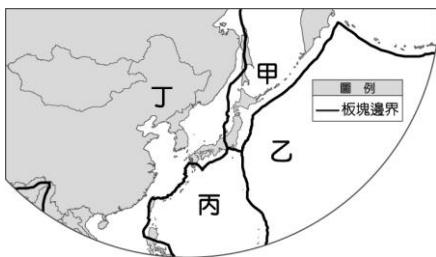
35. 水梯田是在丘陵山坡地，順著「甲」線開墾而成，形成一階一階如同階梯的水稻田，並以田埂阻擋梯田的水源流失，既有減緩暴雨時上坡洪水流速的功能，也可以補充地下水的來源。請問：「甲」線是指下列何者？(P.69)

(A)等壓線 (B)等深線
(C)等溫線 (D)等高線

36. 根據上文，除了復育水梯田，日本為了提高農業產值，推測也積極地往哪些方向發展？(P.69)
(甲)提高耕作面積 (乙)發展無毒農業
(丙)以有機方式耕作 (丁)大量種植同種作物

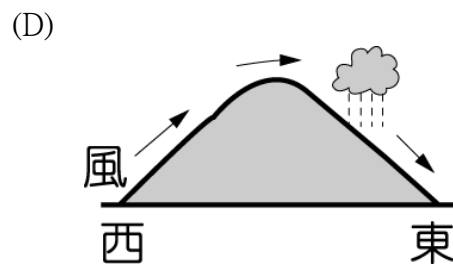
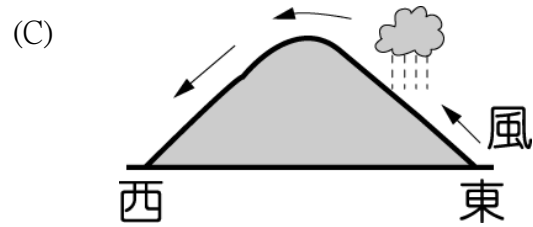
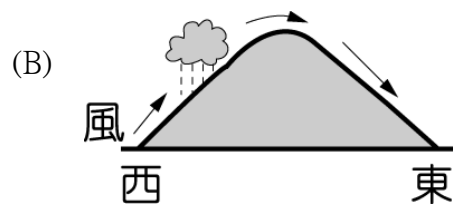
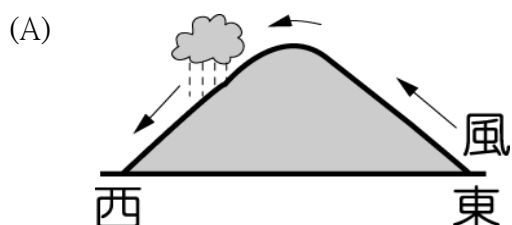
(A)乙丙 (B)甲乙
(C)丙丁 (D)甲丁

37. 日本九州宮崎縣八日下午發生規模七點一強震，多處地區傳出災情，日本氣象廳更首次發布「南海海槽地震臨時情報」(涵蓋四國、近畿、東海等地方)，警告未來一週注意「可能會發生巨大地震，上述地震的發生與上圖哪兩個板塊擠壓有關？(P.62)



(A)甲丙
(B)丙丁
(C)甲乙
(D)乙丁

38. 小芳到日本北海道的札幌雪祭旅行團，和其他團員們討論到北海道降雪水氣的主要來源。下列哪一個圖最能顯示日本北海道的冬季降雪情形？(P.65)

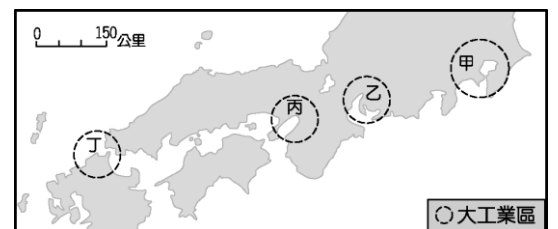


39. 「脫北者」指的是通過非正常渠道離開北韓的人們，在北韓被稱為「叛逃者」。逃離的原因，除了與高壓專制下渴望自由，也和北韓環境有關。請比較以下南北韓環境差異，舉出「錯誤」的選項？(P.63)

	甲	乙	丙	丁
	政治體制	經濟	收穫次數	地勢
北韓	獨裁極權	共產	一次	較低
南韓	民主共和	市場	二次	較高

(A) 甲 (B) 乙
(C) 丙 (D) 丁

40. 商周刊報導「台積電日本九州熊本廠於2024年2月24日開幕，這是台積電新一波海外佈局中首座量產的晶圓廠，據報導，該地點原本就是日本數十家晶片工廠的所在地，具備豐富的水資源、廣大的土地等優勢條件。」請問熊本晶圓廠位置接近上圖哪一個工業區？(P.72)



(A) 甲 (B) 乙
(C) 丙 (D) 丁

41. 承上題，日本工業區多分布於沿海地區，這受到下列哪些因素的影響最大，(甲)缺乏原料(乙)技術進步(丙)出口為主(丁)勞力不足？(P.72)


(A)甲乙 (B)乙丙
(C)丙丁 (D)甲丙

新北市立中正國民中學113學年度第一學期八年級社會科第三次段考試題

範圍：公民 B3L5~6、歷史 B3 L5~6、地理 B3 L5~6 班級：_____座號：____ 姓名：_____

【讀卡科目請依規定畫卡，若有違反畫卡規定而影響讀卡作業之情事，一律扣總分五分。】

42. 為了慶祝孩子的成長，日本有男孩節。男孩節的時間在夏季，此時許多人家會在門前掛起鯉魚旗，如右圖所示，期望自己家的男孩可以鯉躍龍門，一躍成龍。依據日本夏季的盛行風向判斷，此時旗幟多朝哪個方向飄去？(P.65)



- (A)東北
(B)東南
(C)西北
(D)西南
43. 韓國有句俗話說：「泡菜是半個糧食」。不管多奢華的宴會飲食，餐桌上也少不了泡菜，尤其過冬之前是醃泡菜的季節，傳統上每家大約要醃100~150顆白菜。請問：這種習俗主要是配合韓國何項環境特色而形成？(P.64)
- (A)夏秋多颱風侵襲
(B)冬季嚴寒漫長
(C)梅雨季長，食物保存不易
(D)降水量稀少，無法種植蔬菜
44. 根據日本的統計資料顯示，日本勞工的平均月薪約為5,000美金，遠超過臺灣的1,250美金。日本企業目前多採取跨國企業結構以維持市場上的競爭力。請問以下何者「非」日系企業？(P.)
- (A)豐田汽車
(B)三星集團
(C)索尼集團
(D)日立集團

※45至46題為題組，閱讀下列圖文後回答問題：

根據日本政府統計，西元2025年時，日本65歲以上的高齡人口將高達人口的1/3。因此日本正企圖藉由人工智慧(AI)結合照護用機器人的力量，往福利社會邁進。目前日本照護用機器人的種類，依用途約可分成3種：①針對缺乏行動能力病人的行動輔助型；②群體集會帶活動與聊天用的人型對話機器人；③個人看護聊天用機器人。

45. 根據上文，日本發展機器人產業與與下列何種社會經濟狀況有關？(P.73)
- (A)工廠移至東南亞 (B)環保意識抬頭
(C)勞力密集為主 (D)人口結構失衡
46. 承上題，在全球化趨勢下，日本的經濟發展正面臨其他國家競爭。請問：該國目前的工業發展具備那些特徵？(P.72)
- (甲)勞力密集 (乙)技術精良 (丙)高度依賴國際貿易
(丁)附加價值高

- (A)甲乙丙 (B)乙丙丁
(C)甲丙丁 (D)甲乙丁

47. SK集團於1953年正式接管鮮京織物，逐漸成為南韓紡織業的領導企業，開始向國際市場出口纖維產品。1973年該集團推出手機服務業，以分散其在能源、化工領域大規模投資的產業風險。請從上述SK集團的發展歷程描述其工業發展歷程？(P.77)

- (A)重工業→輕工業→高科技工業
(B)高科技工業→重工業→輕工業
(C)輕工業→重工業→高科技工業
(D)重工業→高科技工業→輕工業

48. 如圖所示，圖片中的壽司代表日本飲食文化的一部分，其原料多來自漁業。日本漁業之所以發達，最主要的原因是什麼？



- (甲)日本位於世界著名漁場附近 (乙)日本國土地形狀狹長 (丙)周圍有寒暖流交會 (丁)位於環太平洋火山地震帶。請選出正確的地理條件(P.66)

- (A)甲乙 (B)乙丙
(C)丙丁 (D)甲丙

49. 某周刊報導「南韓度過西元1997年的亞洲金融風暴以後，國內生產毛額(GDP)有顯著的提升，其中文化產業的蓬勃發展功不可沒，尤其在影視、音樂、電玩產業等領域，最高曾占國內生產毛額將近7%的產值，而透過韓劇在亞洲的熱賣，不僅提升大韓民族的形象，更創造顯著的經濟利益，像是到南韓的觀光人數因為韓劇的熱賣而大幅增加，南韓文化產業除了帶動觀光產業的成長以外，連帶食品、文具和服飾等商品也都跟著熱賣起來。」請選出最適合本文的主題？(P.78)

- (A)南韓的經濟發展與衰微
(B)大型企業興衰影響國家經濟
(C)跨國企業在全球經濟中的角色
(D)文化創意產業帶來的經濟成果

50. 承上題，在許多韓劇中可以發現劇中人物會使用韓國品牌的產品，如此可以透過戲劇與產業的結合，帶動韓國產品的熱賣。請問：下列何者「最不可能」出現在韓劇中？(P.78)

- (A)現代汽車 (B)LG家電
(C)讚岐烏龍麵 (D)三星手機