

【讀卡科目請依規定畫卡，若有違反畫卡規定而影響讀卡作業之情事，一律扣總分五分。】

一、 選擇題

1. 利益團體與政黨都是民眾向政府反映公共意見的重要媒介，下列關於兩者的敘述何者「正確」？
(A) 政黨為獲得更多支持，通常關注的議題比較單一
(B) 為了影響政府的政策，推派候選人出來競選是利益團體主要的活動方式
(C) 政黨的成員數通常很多，所以對政策的影響力大
(D) 為避免被民眾認定有政治立場，利益團體會避免參與選舉的活動 (P172-173)
2. 政府在推動重大政策時，即使經過多次的修正，通常還是避免不了會有民眾批評，其最主要的原因是因為公共意見的哪兩種特性所致？ (P170-171)
(A) 議題性、變動性
(B) 議題性、影響性
(C) 複雜性、變動性
(D) 影響性、複雜性。
3. 關於我國公職人員選舉規定，下列敘述何者「正確」？
(A) 選舉順序:登記參選→選舉公告→競選活動→投票→開票→當選公告
(B) 投票當日一定要攜帶身分證，才可以進行投票
(C) 被宣告褫奪公權者就喪失投票資格
(D) 受監護宣告者還是具備被選舉權資格。(P182)
4. 近年來，新式菸品的推陳出新，吸引許多青少年，其中以電子菸和加熱菸最為常見。某家長會聯盟依據問卷調查結果，說明有超過九成五的家長支持雙禁電子菸、加熱菸，並搭配國內外專業研究結果，號召全國家長團體站出來，共同呼籲立委支持雙禁加熱菸、電子菸，防止青少年成為新一代菸民。請問文中問卷調查呈現不同意見，顯出公共意見的哪一項特性？
(A) 議題性
(B) 複雜性
(C) 影響性
(D) 變動性。(P170-171)
5. 選舉委員會在選舉投票前，透過大眾傳播媒體呼籲：「請選民不要攜帶手機或任何具照相、錄影功能的器材進入投票所，不然會被處以罰鍰，如果選民是使用攝影器材試探選舉人圈選選舉票內容，還會被重罰5年以下有期徒刑，併科50萬元以下罰金，被查獲的攝影器材也會被沒收。」上述規定，應與下列何種「選舉原則」最有關係？(P181)
(A) 平等原則
(B) 普通原則
(C) 直接原則
(D) 無記名原則。
6. 下列關於我國公民投票的敘述，何者「正確」？(P180)
(A) 公民投票是決定政府公職人員的選舉
(B) 參與公民投票的選民需要年滿20歲
(C) 選民必須在選舉區設籍滿4個月
(D) 政府制定公民投票法，是在落實憲法中的創制和複決權。
7. 在民主國家中人民有權參與政治並共同決定公共事務。下列何者「不是」政治參與的方法？
(A) 阿花在蘋果黨的「主席信箱」留言，表達對現今政治亂象的不滿
(B) 小志在水果日報發表對社會政策的建言
(C) 阿美從美國搭飛機回臺灣投票
(D) 阿民參加寶可夢社區舉辦的元旦慶祝活動。(P178)
8. 行政院近年來推行「公共政策網路參與平臺」，鼓勵民眾對於時事或政府政策發表意見，例如：有網友在平臺上「提點子」，希望政府在五一勞動日讓學生作息與家長同步，除了勞工放假外，學校也統一放假，民眾可以藉由網路上的平台發表意見。根據上文判斷，下列敘述何者「較不恰當」？(P168)
(A) 上述平台的設置，有助於形成公共意見
(B) 閱聽人包含透過網路參與平台了解時事的民眾
(C) 五一勞動日是否放假，不屬於公眾事務討論範圍
(D) 顯示政府期望能傾聽民意，使政策符合民眾需求。
9. 透過定期投票，人民可以檢視執政者的施政效能，罷免不適任的公職人員，這是發揮選舉的哪一項功能？(P179)
(A) 實現責任政治
(B) 追求社會正義
(C) 影響政府政策
(D) 組成政府合法性。
10. 下列是四位同學正在聊有關選舉的內容。如果僅以年齡條件判斷，則四人的年齡由小到大排列，下列何者「正確」？(P181)
小紅: 明年立委大選我就有投票的資格了。
小林: 我明年就可以登記參選議員
小江: 去年的公投我沒資格去投票。
小楊: 我去年當選了新北市市長。
(A) 小紅、小林、小江、小楊
(B) 小江、小紅、小林、小楊
(C) 小林、小江、小楊、小紅
(D) 小江、小紅、小楊、小林

背頁尚有試題

新北市立中正國民中學112學年度第一學期八年級社會科第三次段考試題

範圍：公民 B3L5~6、歷史 B3L5~6、地理 B3L5~6 班級：_____座號：____ 姓名：_____

11. 請問：住在新北市土城區小峻(28 歲)是個關心公共事務的好公民，舉辦地方選舉時可領幾張選票呢？
(甲)直轄市長 (乙)直轄市議員 (丙)縣市長 (丁)縣市議員 (戊)鄉鎮市長 (己)鄉鎮市民代表 (庚)區長 (辛)區民代表 (壬)村里長。
(A)甲乙庚辛壬
(B) 甲乙壬
(C)丙丁庚辛壬
(D)乙丁戊己壬。(P179、P181)
12. 戶籍地一直設在西螺鎮的小恩，今年剛滿 27 歲，若想要參加今年年底的地方選舉，如僅依照戶籍地與年齡限制，他符合哪些「公職人員」的參選資格？
(甲)直轄市長 (乙)直轄市議員 (丙)縣市長 (丁)縣市議員 (戊)鄉鎮市長 (己)鄉鎮市民代表 (庚)直轄市山地原住民區長 (辛)直轄市山地原住民區民代表 (壬)村里長
(A)甲乙戊己庚辛
(B)丙丁戊己庚辛
(C)丙丁戊己壬
(D)丁戊己壬。(P181)
13. 紅太是灰太的老婆，經常用木棍毆打自己的老公灰太，害灰太精神喪失，最後夫妻離婚，紅太被法院褫奪公權，灰太向法院申請監護宣告獲准。如果按照台灣的選舉制度。請找出哪一個地方出現「錯誤」？
(P181)
(A)紅太沒有選舉權，但灰太有。
(B)灰太喪失被選舉人資格。
(C)投票是現代最常使用且重要的政治參與方式。
(D)紅太只要設戶籍六個月，就能參加公民投票。
14. 32歲的阿宗因詐領保險金，被依法詐欺罪判處 6 年 6 個月有期徒刑、褫奪公權 2 年定讞。對阿宗被判刑後參與政治的權利敘述，下列何者「正確」？ (P181)
(A)喪失成為公務員的資格
(B)不具投票權
(C)不具投票與參選資格
(D)可登記為候選人，出來競選公職人員。
15. 阿佳在 2020 年總統立委選舉時滿 14 歲，當時他說
<甲> 過 2 年 2022 年時，他要加入水果黨
<乙>再過 2 年 2024 年，如有公投，他一定出席
<丙>過 2 年 2026 年，他要選出心目中理想候選人
<丁>再過 2 年 2028 年，他要參選從政。
請問上列四個阿佳的說法何者「不可能」實現？
(P179、181)
(A)甲
(B)乙
(C)丙
(D)丁

- 16.小喬今年已年滿20歲，是身心健全的公民，符合法定資格，她可以參與公職人員選舉，投票選出心目中理想的候選人。請問：以上敘述符合哪項選舉原則？
(P181)
(A) 普通原則
(B) 平等原則
(C) 無記名原則
(D) 直接原則

背面尚有試題

新北市立中正國民中學112學年度第一學期八年級社會科第三次段考試題

範圍：公民 B3L5~6、歷史 B3L5~6、地理 B3L5~6 班級：_____座號：____ 姓名：_____

17. 「十九世紀前期中、英三角貿易」以下哪一項不是英國從印度走私鴉片來華販售的原因？
(A)英國向中國購買大量茶葉、絲綢等，但賣給中國的商品有限
(B)協助印度開拓海外市場，改善印度經濟發展
(C)英國為平衡自身利益，減少對中國的入超
(D)英國不滿嚴重的貿易失衡狀態（5-1，P.108）
18. 西元1842年，因禁煙引爆的鴉片戰爭，中國戰敗，被迫簽訂《南京條約》及其續約。中國自此陷入備受條約宰制的命運。以下哪一項不是中國在此「戕害中國的不平等條約」所遭受的對待？
(A)兩個國家相互享有彼此給予的優惠待遇
(B)外國僑民在中國犯罪時，不受中國法律管束
(C)「國中之國」破壞了中國領土主權的完整
(D)協定關稅影響中國經濟的自主權（5-1，P.108）
19. 有一本討論自強運動歷史的書上寫著：「我們不要忘記，自強運動是19世紀60年代開始的。」鴉片戰爭的年代是1840年，鴉片戰後，魏源寫《海國圖志》，就已經提出「學習外人長處以對抗外人」的口號，但當時清政府一直沒有採取新的政策來應付新的局面。蔣廷黻先生在他寫的《中國近代史大綱》裡說：「民族喪失二十年的光陰」。根據上文，蔣廷黻所說「民族喪失二十年光陰」的主要意義是什麼？
(A)鴉片戰後滿清仍以天朝自居，延誤改革時機
(B)當時知識分子反抗西方侵略，人才大量犧牲
(C)滿清致力發展對外關係，無暇進行內部的變革
(D)太平天國事件發生，中止了魏源籌畫的改革工作（5-1，P.110）
20. 多惠找到一份幼童赴美留學的資料，提到讓中國幼童能學習西方進步技術，進而抵禦西方之威脅。其中知名者與成就列舉如下：
詹天佑：知名鐵路工程師，修建京張鐵路等，有「中國鐵路之父」、「中國近代工程之父」之稱。
唐紹儀：中華民國首任國務總理，促成南北議和。
梁 誠：駐美國公使，向美國交涉返還1,500萬美元庚子賠款。
唐國安：清華大學首任校長，清末民初教育家、外交家。
請問：有關清末官派幼童赴美留學，下列敘述何者正確？
(A)是美國門戶開放政策的附帶條件
(B)是自強運動期間所推的洋務政策
(C)是康有為、梁啟超最早擬出的救國策略
(D)是光緒皇帝頒佈詔書推行改革的項目（5-1，P.111）
21. 「鴉片戰後，列強希望透過修約來達成全面開放通商的目的，但遭受清廷拒絕，於是他們兩國聯合起來，派遣軍隊來華進攻清國。」你認為其中所謂「他們兩國對清國進行了大規模的戰爭」，其中的「他們兩國」是指？
(A)英國、美國
(B)美國、法國
(C)英國、法國
(D)俄國、英國（5-1，P.110）
22. 這場大規模軍事攻擊行動之後，你覺得最後是下列哪一個結果？
(A)洋人的勢力由沿海深入內地
(B)洋人想藉此開闢洋人工廠在北京
(C)洋人對琉球早有覬覦之心
(D)洋人為林則徐查禁鴉片一事展開報復（5-1，P.110）
23. 清代某大臣上奏：「兩年前，我們選送六位廣方言館學生到北京考試，後來總理衙門來函稱讚這六名學生表現卓越，現已授予這些學生『翻譯貢生』的資格。有鑒於新開埠的港口及地方上新建的學堂亟需人才，將由這批學生來擔任相關職務。」這份奏摺所陳述的情況最有可能發生在下列何時？
(A)康雍乾盛世之際
(B)鴉片戰爭時期
(C)戊戌變法時期
(D)自強運動時期（5-1，P.110）
24. 19 世紀中葉，日本民間出現歌謠，歌詞內容如下：「泰平の眠りを覺ます上喜撰、たつた四杯で夜も眠れず。」歌詞中「」是一種日本茶，與「蒸汽船」諧音；整句的意思是說：「上喜撰（蒸汽船）喚醒太平夢，喝上四杯便再眠。」影射幕府以為的太平盛世被蒸汽船來訪打破了。請問：上述事件為何？
(A)黑船事件
(B)鴉片戰爭
(C)天朝體制
(D)禮儀之爭。（5-2，P.111）
25. 日本於19世紀後期進行明治維新，其後便積極對外擴張，下列有哪些是日本的擴張行為？ 甲、併吞琉球 乙、取得越南 丙、侵犯台灣 丁、控制朝鮮
(A)乙丙丁
(B)甲乙丙
(C)甲乙丁
(D)甲丙丁（5-2，P.111）

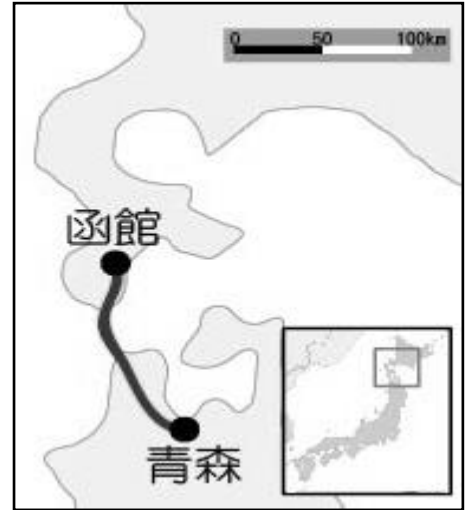
26. 下列有關甲午戰爭的相關敘述，選出正確的？
(A)中日雙方的談判代表分別為李鴻章與後藤新平
(B)甲午戰前主導洋務運動是慈禧太后
(C)戰後外國人可在中國通商口岸設立工廠
(D)戰後，迫使日本歸還清朝澎湖群島
(5-2, P.111)
27. 有關光緒21年(西元1895年)間，中日雙方簽訂的《馬關條約》之敘述，下列何者是不正確的？
(A)之所以會有《馬關條約》是因為中國在甲午戰爭中戰敗，被迫議和
(B)條約內容中，中國除賠款，還必須承認朝鮮自主，不得再過問朝鮮內政
(C)原本應割讓臺灣及澎湖，可與日本協商議價贖回
(D)允許日人得在中國各通商口岸設廠製造商品，影響到中國民生工業的發展 (5-1, P.111)
28. 清朝末年在內憂外患下，自強運動與戊戌變法先後展開，老師請學生發表心得看法，就歷史發展角度來看，哪些人的觀點是正確的？
翔翔：「自強運動偏重器物層面的改革，而戊戌變法則主張必須在制度層面上徹底革新。」
倫倫：「不論自強運動或戊戌變法，在教育方面皆有提出變革。」
弘弘：「自強運動積極進精簡行政府機構，戊戌變法首度興辦煤礦、鐵路、電報、紡織等事業。」
懿懿：「自強運動的措施多由地方官員各自興辦，戊戌變法則由皇帝親自下召維新。」
(A)翔翔、弘弘、懿懿
(B)翔翔、倫倫、弘弘
(C)倫倫、弘弘、懿懿
(D)翔翔、倫倫、懿懿 (5-2, P.112)
29. 在歷史課本中看到一幅光緒31年(西元1905年)，清廷派遣大臣出國考察的合影照片。請問：清廷會有派遣大臣出國考察的動作的原因為何？
(A)甲午戰爭後，康有為、梁啟超等人鑑於自強運動成效有限，主張出國考察
(B)英法聯軍結束後，慈禧太后為收攬人心主動推動
(C)由於日俄戰爭的刺激，清廷在輿論壓力下，不得不派遣大臣出國考察
(D)清廷開始學習及仿效外國武器的製作方法，於是選派大臣出國考察。(5-2, P.113)
30. 清末，中國社會、經濟在西力衝擊之下，何地是引進西方文明的主要窗口？
(A)軍事重鎮
(B)內陸城鎮
(C)首都重地
(D)通商口岸。(6-1, P.115)



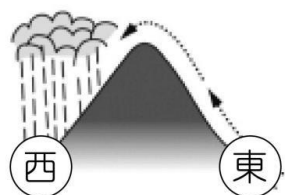
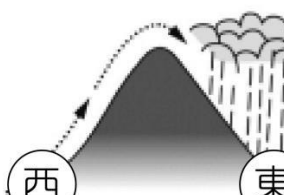
31. 「上海自風行報紙後，以各報出版皆在清晨，故破曉後，賣報者群集於報館之門，爭先恐後，擁擠特甚，甚有門尚未啟，而賣報人已在外守候者，足證各報消暢之廣。」請問：前文所提及的報紙名稱，最有可能的是？
(A)自由中國
(B)台灣民報
(C)萬國公報
(D)紐約時報。(6-1, P.114)
32. 傳統中國對於女權是壓抑以及忽視的，在父權社會下，女性的地位始終不如男性，最早直到何時這種現象才有所改善？
(A)明末清初
(B)盛清時期
(C)清代中期
(D)清末民初。(6-2, P.116)
33. 著名文學大師胡適提出了新三從四德如下：「太太出門要跟從，太太命令要服從，太太說錯了要盲從；太太化妝要等得，太太生日要記得，太太打罵要忍得，太太花錢要捨得。」該論點受到當時婦女們的青睞。請問：當時新潮的婦女們可能還有下列哪種行為？
(A)替女兒纏足，以尋求未來嫁入好人家
(B)進入女子學堂學習新知
(C)一生為家庭奉獻，以丈夫為尊
(D)萬般忍讓丈夫花心的行為，不敢吭聲。
(6-2, P.117)

背頁尚有試題

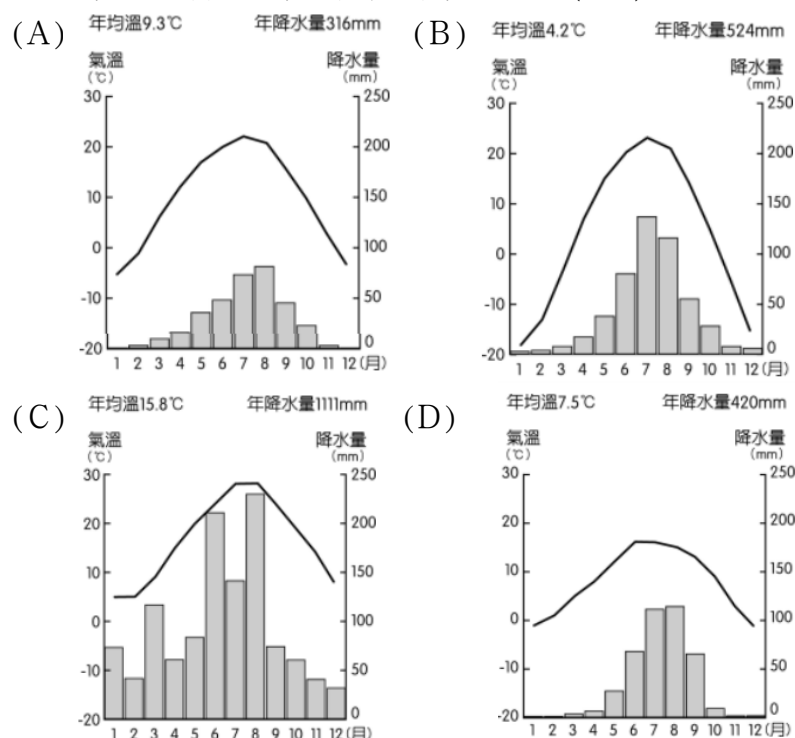
34. 日本主要工業區多分布於沿海地區是受哪因素影響？(P.61)
(A)煤鐵礦產多分布於沿海地區
(B)沿海地帶雨量較多
(C)便利能源及原料進口、工業產品出口
(D)沿海地區可避免火山及地震減少工業區嚴重損失
35. 臺灣與日本的自然環境有許多相同、相似之處：(甲)島窄山多，平原狹小 (乙)河川坡陡流急，富水力資源 (丙)多火山、地震、溫泉 (丁)夏季盛行西南季風，冬季盛行東北季風 (戊)礦產資源豐富 (己)黑潮與親潮經過，形成良好漁場。以上敘述正確的有？(P.53)
(A)甲乙丙
(B)乙丁戊
(C)丙戊己
(D)甲丁己。
36. 日本與同緯度的朝鮮半島、中國北部相比，氣候顯得比較暖濕，這與甚麼因素有密切的關係？(P.55)
(A)地勢高低
(B)盛行風向
(C)四面環海
(D)位處地震帶上
37. 朝鮮半島南部年可二穫，而北部僅年可一穫，最主要的影響因素為何？(P.54)
(A)距海遠近
(B)緯度高低
(C)土壤種類
(D)面積大小。
38. 今日的南北韓經濟發展互異，有關這兩個國家產業特色的描述，何者正確？(P.64)
(A)南韓的礦產資源豐富
(B)南韓近來全力發展輕工業
(C)北韓的重工業及軍事工業較具規模
(D)北韓的自然環境利於農業發展。
39. 2013年南韓越冬泡菜文化成功入選聯合國世界文化遺產，南韓政府更在2021年將泡菜的中文譯名正式改成「辛奇」，用以區分他國的醃製蔬菜。請問朝鮮半島最有可能因為何者氣候因素，使得醃製辛奇文化如此盛行？(P.56)
(A)位處熱帶氣候，天氣乾燥
(B)梅雨雨時長，食物易發霉
(C)西北季風帶來充足降雨量
(D)緯度較高，冬季氣候嚴寒

40. 日本島嶼眾多，維持各大島嶼的交通聯繫十分重要，圖為連接青森市到函館市的新幹線隧道—青函隧道。根據圖中的路線判斷，此隧道是連接哪兩個島嶼的重要交通管道？(P.52)
(A)九州、四國
(B)四國、本州
(C)本州、北海道
(D)北海道、四國



41. 日本四面環海，地形以山地為主體。下列哪一張圖最能夠說明日本冬季時，東、西部氣候的差異？(P.55)
(A) 
(B) 
(C) 
(D) 
42. 華爾街日報報導：「2002 年某個夜晚的朝鮮半島衛星圖片，是最能說明朝鮮問題的圖片之一。圖上可看到南韓大部分區域燈火通明，北韓只在首都平壤附近有少許光亮，看起來像是個黑暗海域中出現的小島。」從這則報導中，可以判斷北韓具有何種地理特色？(P.64)
(A)北韓地勢較高
(B)北韓人口較少
(C)北韓經濟較不發達
(D)北韓冬季氣溫較低
43. 日本疆域境內最南端的「沖之鳥島」漲潮時僅露出兩塊礁石，近年來日本政府在該區已投資約 285 億日圓進行加固工程。最可能的用意為何者？(P.53)
(A)維護經濟海域
(B)增加農業用地
(C)國防安全
(D)生態保育

44. 2013年聯合國教科文組織正式將「和食」登錄為世界非物質文化遺產，認同日本品嘗天然食材的飲食習慣。其中最能代表和食的飲食就是精緻的生食(魚)料理，而日本漁獲量及與漁產消費量更是位居世界前茅。請問日本發展漁業的有利因素最可能為何者？(P.56)
- (A)國土狹長
(B)冬夏季風皆經過海
(C)河流短且急
(D)位於寒暖流交會處
45. 2018年9月的兩韓元首峰會，南韓領導人與北韓領導人攜手跨過兩韓分界線的畫面，讓許多守在螢幕前觀看的南北韓人民熱淚盈眶感動不已，根據第二次世界大戰結束時官方簽訂的協議內容，高峰會當日兩國領導人腳下的分界線應為何者？(P.52)
- (A)38° E
(B)38° W
(C)38° N
(D)38° S
46. 日本企業雖有許多工廠外移至海外，但仍可維持國際競爭力，主因最可能為何？(P.60)
- (A)提高國外商品輸入關稅
(B)重視技術研發
(C)汰舊老舊工廠
(D)引進大量國際移工
47. 近年來，南韓國內生產毛額有顯著增加，這與下列哪些產業的發展關係較密切(甲)文化產業 (乙)重工業 (丙)智慧型農業 (丁)高科技產業？(P.65)
- (A)甲乙
(B)乙丙
(C)丙丁
(D)甲丁。
48. 東北亞國家氣候類型相似，請問下列氣候圖何張最能代表日韓兩國候所屬的氣候類型？(P.54)



恭喜，答題結束